


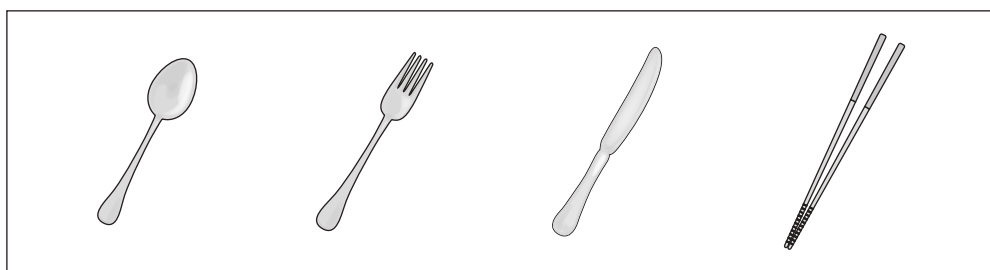



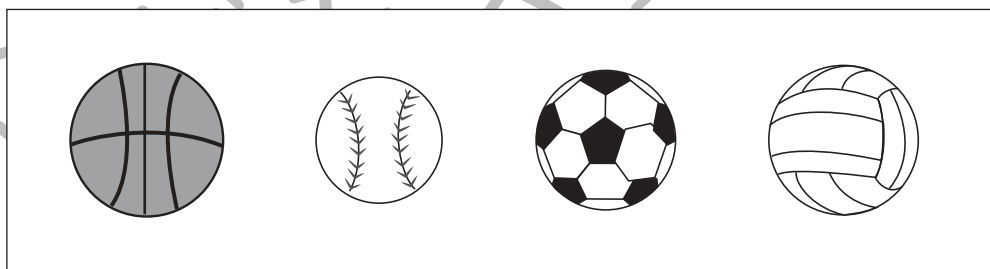
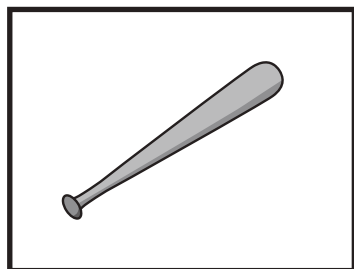
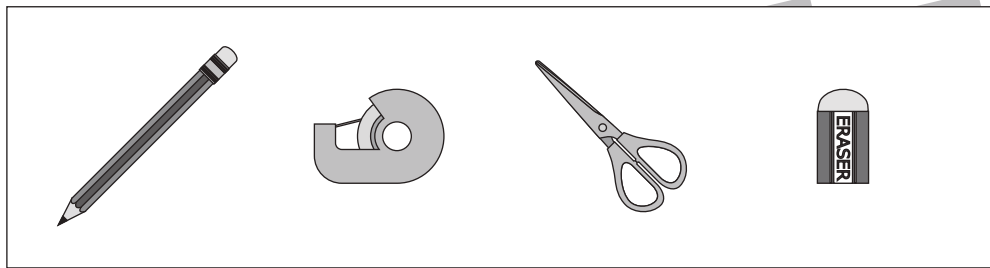


おうちで、やろう。

Study at home. 小学校受験の家庭学習教材

常識：仲間②

左の四角の中の仲間を右の四角の中から1つ見つけて○をつけます。



※1. このプリントは、しながわ・目黒こどもスクールのウェブサイトでダウンロードができます。無断複写・引用はご遠慮ください。

※2. このプリントを活用したオンライン授業のスケジュールは、しながわ・目黒こどもスクールのウェブサイトでご確認ください。





おうちで、やろう。

Study at home. 小学校受験の家庭学習教材

常識：仲間③

左端と右端の四角の中の絵、両方とも仲間になるものを真ん中の四角の中から見つけて○をつけます。

| | | |
|--|--|--|
| | | |
| | | |
| | | |
| | | |
| | | |

※1. このプリントは、しながわ・目黒こどもスクールのウェブサイトでダウンロードができます。無断複写・引用はご遠慮ください。
 ※2. このプリントを活用したオンライン授業のスケジュールは、しながわ・目黒こどもスクールのウェブサイトでご確認ください。

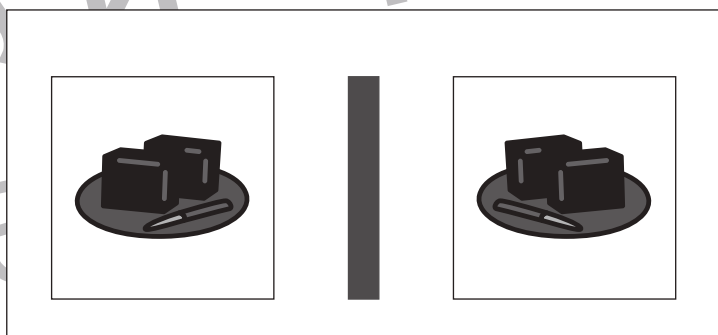
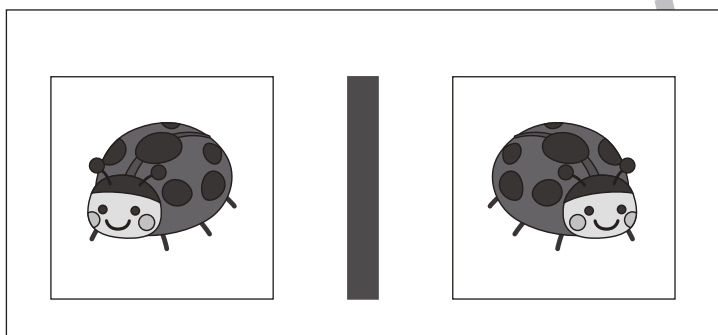
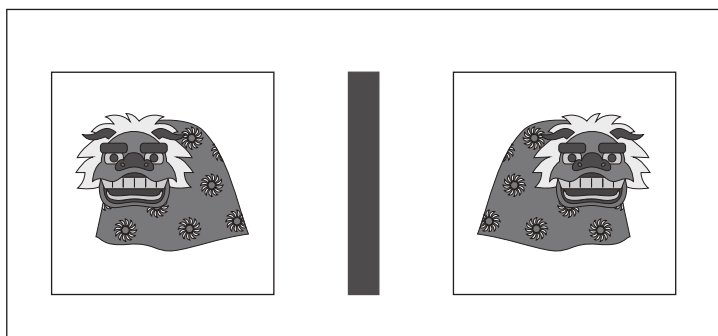

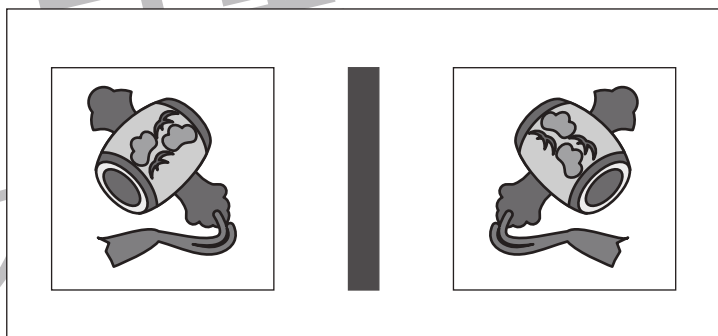
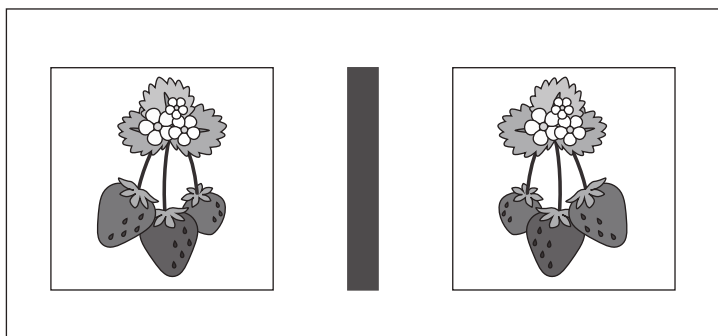
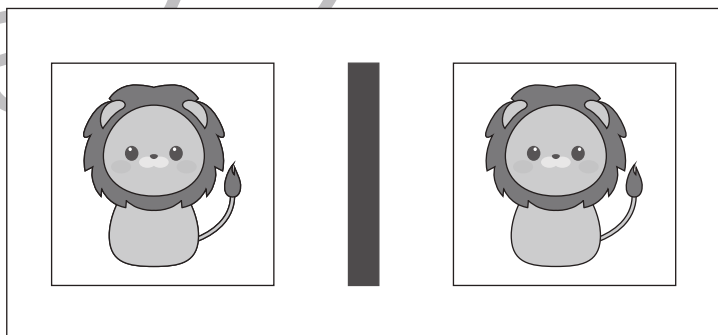
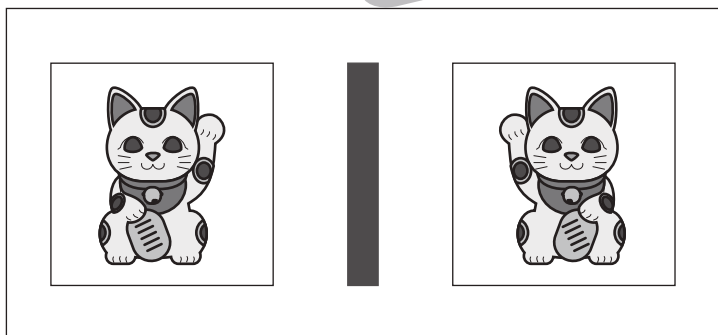

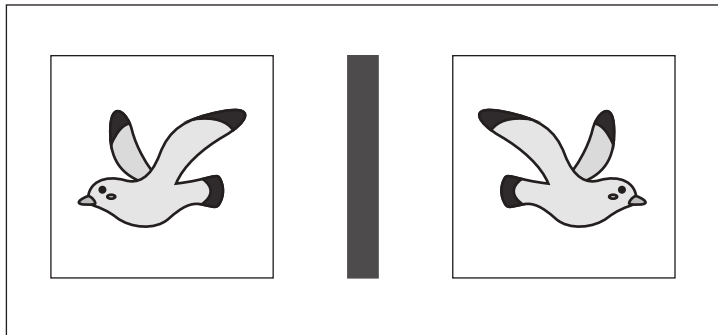


おうちで、やろう。

Study at home. 小学校受験の家庭学習教材

図形：鏡①

左の四角の絵を真ん中にある鏡で映した時の見え方が右の四角です。
鏡で見たときの見え方が正しければ○、間違っていれば×を右の四角につけます。



※1. このプリントは、しながわ・目黒こどもスクールのウェブサイトでダウンロードができます。無断複写・引用はご遠慮ください。
※2. このプリントを活用したオンライン授業のスケジュールは、しながわ・目黒こどもスクールのウェブサイトでご確認ください。



おうちで、やろう。

Study at home. 小学校受験の家庭学習教材

図形：鏡②

左の四角の絵を真ん中にある鏡で映した時の見え方が右の四角です。
鏡で見たときの見え方が正しければ○、間違っていれば×を右の四角につけます。

| | | | | | |
|--|--|--|--|--|--|
| | | | | | |
| | | | | | |
| | | | | | |
| | | | | | |
| | | | | | |

※1. このプリントは、しながわ・目黒こどもスクールのウェブサイトでダウンロードができます。無断複写・引用はご遠慮ください。

※2. このプリントを活用したオンライン授業のスケジュールは、しながわ・目黒こどもスクールのウェブサイトでご確認ください。

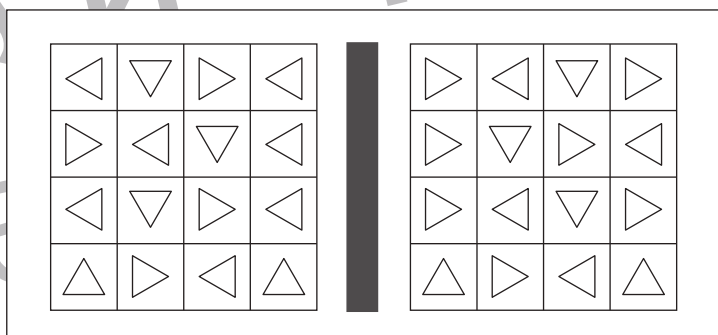
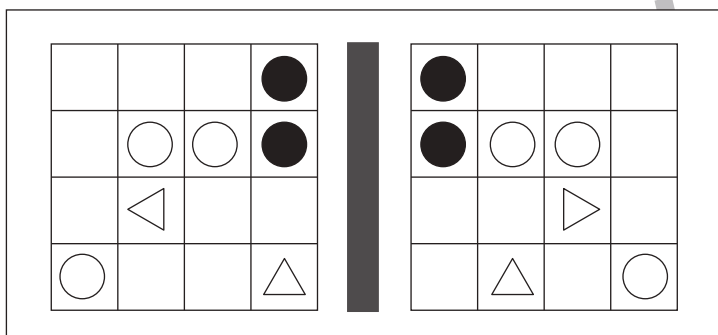
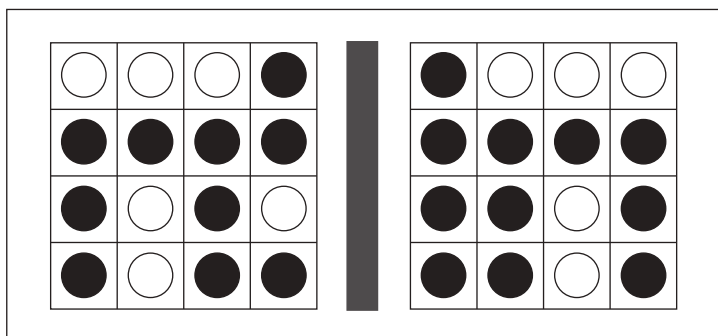
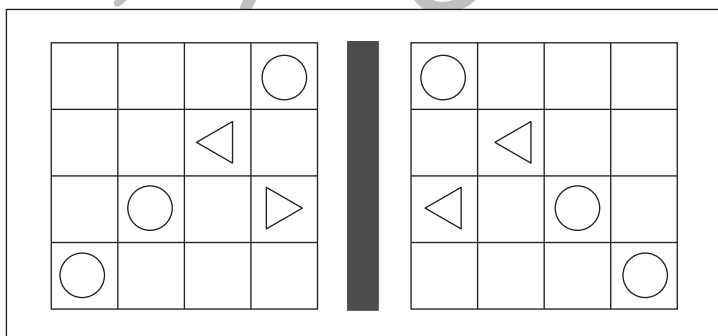
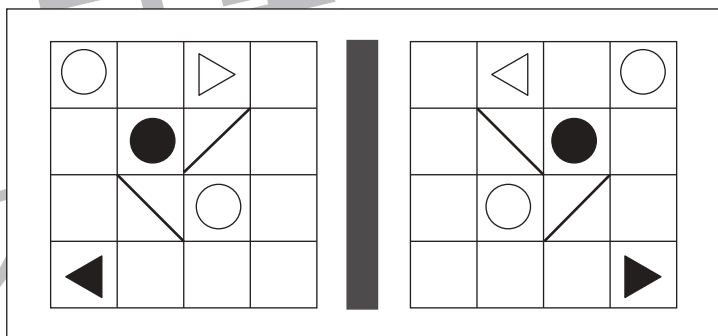
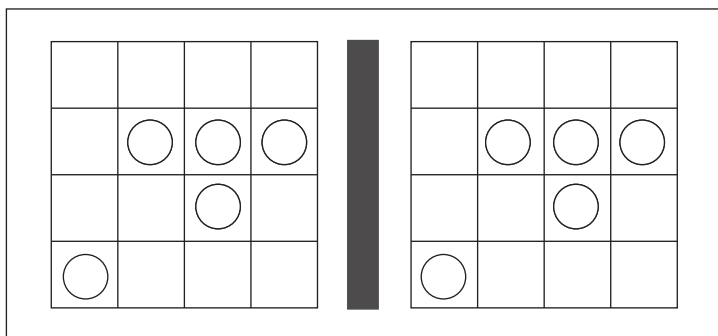
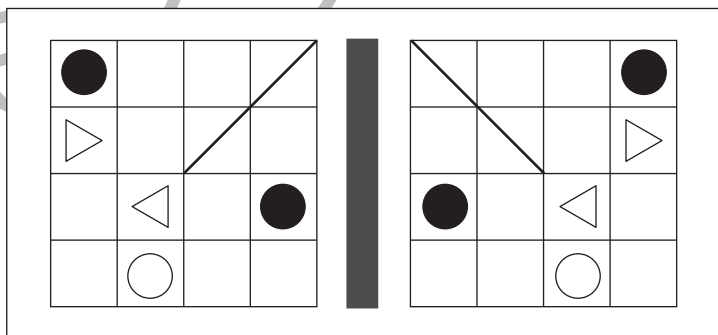
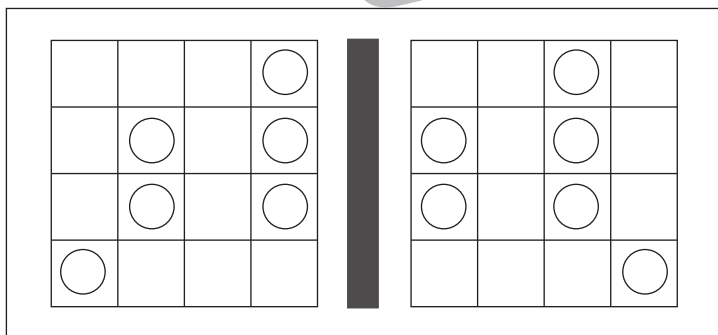
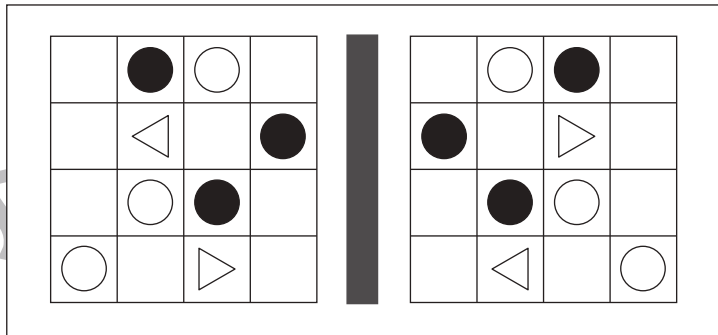
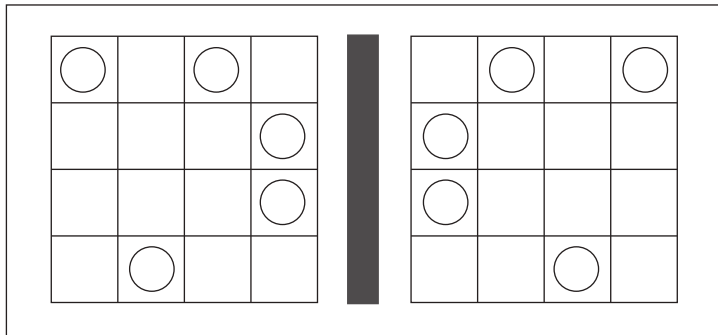


おうちで、やろう。

Study at home. 小学校受験の家庭学習教材

図形：鏡③

左の四角の絵を真ん中にある鏡で映した時の見え方が右の四角です。
鏡で見たときの見え方が正しければ○、間違っていれば×を右の四角につけます。



※1. このプリントは、しながわ・目黒こどもスクールのウェブサイトでダウンロードができます。無断複写・引用はご遠慮ください。
※2. このプリントを活用したオンライン授業のスケジュールは、しながわ・目黒こどもスクールのウェブサイトでご確認ください。

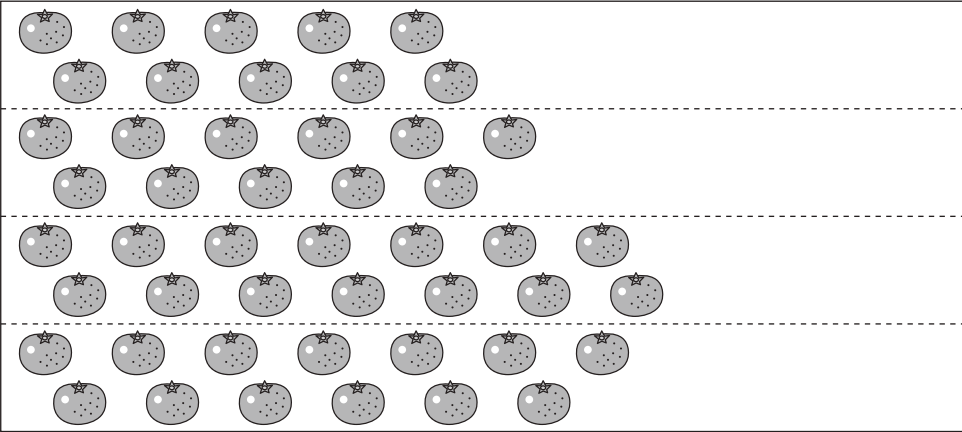
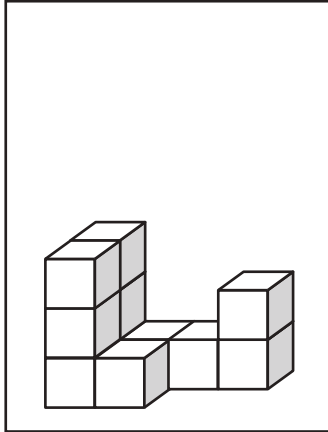


おうちで、やろう。


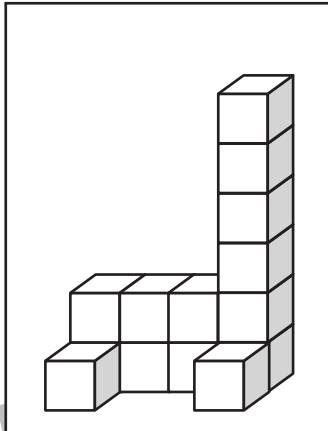
Study at home. 小学校受験の家庭学習教材

数量：同数④


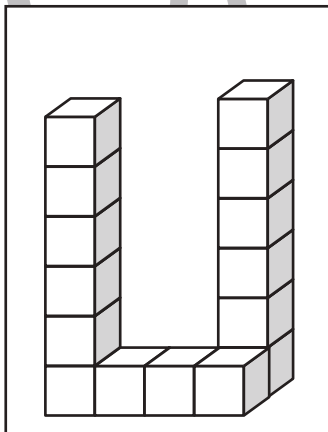
左の四角の中の積み木の数がお手本です。右の4つの四角のうち、お手本の積み木の数と同じ数の果物はどれでしょうか。正しい数の果物が並んでいる四角の右の太枠の中に○をつけます。



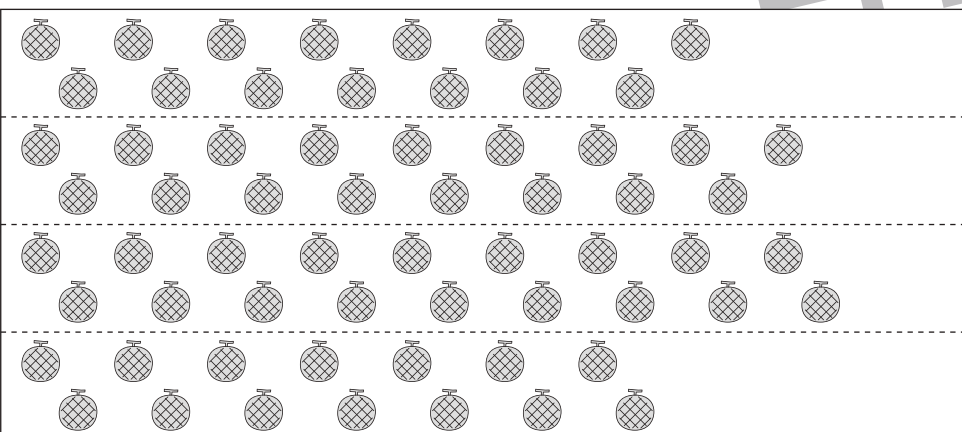
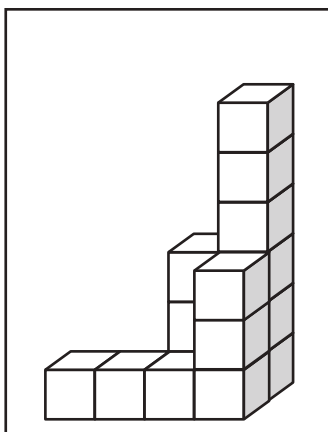
| |
|--|
| |
| |
| |
| |



| |
|--|
| |
| |
| |
| |



| |
|--|
| |
| |
| |
| |



| |
|--|
| |
| |
| |
| |

※1. このプリントは、しながわ・目黒こどもスクールのウェブサイトでダウンロードができます。無断複写・引用はご遠慮ください。
※2. このプリントを活用したオンライン授業のスケジュールは、しながわ・目黒こどもスクールのウェブサイトでご確認ください。


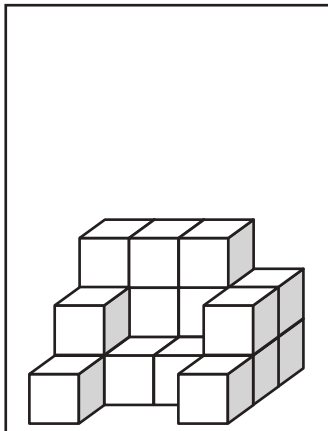


おうちで、やろう。


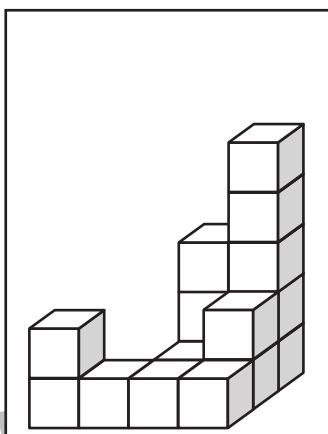
Study at home. 小学校受験の家庭学習教材

数量：同数⑤


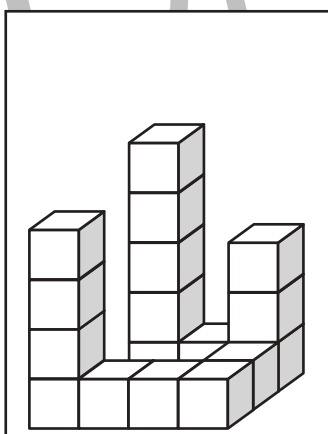
左の四角の中の積み木の数がお手本です。右の4つの四角のうち、お手本の積み木の数と同じ数の果物はどれでしょうか。正しい数の果物が並んでいる四角の右の太枠の中に○をつけます。



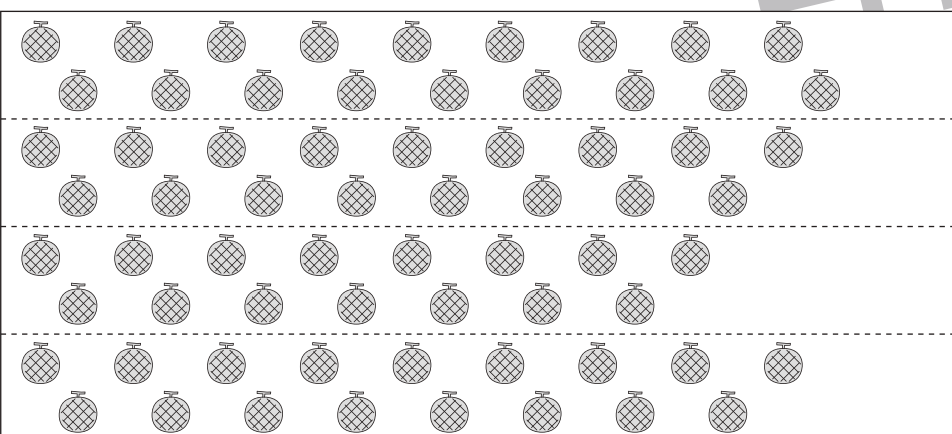
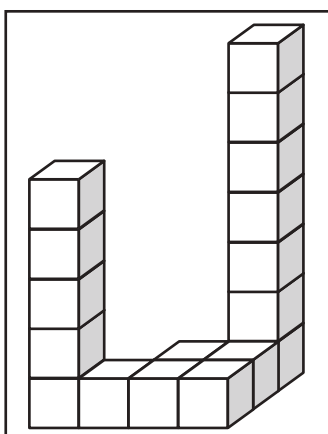
| |
|--|
| |
| |
| |
| |
| |
| |



| |
|--|
| |
| |
| |
| |
| |
| |



| |
|--|
| |
| |
| |
| |
| |
| |



| |
|--|
| |
| |
| |
| |
| |
| |

※1. このプリントは、しながわ・目黒こどもスクールのウェブサイトからダウンロードができます。無断複写・引用はご遠慮ください。

※2. このプリントを活用したオンライン授業のスケジュールは、しながわ・目黒こどもスクールのウェブサイトでご確認ください。



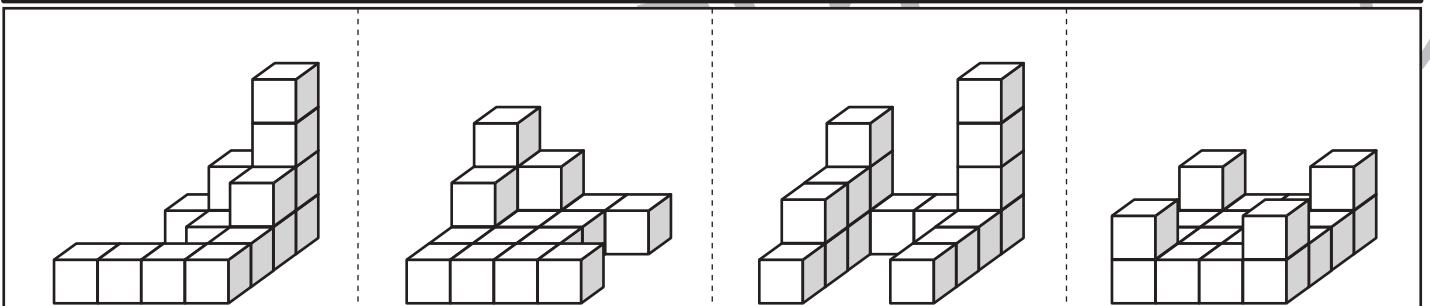
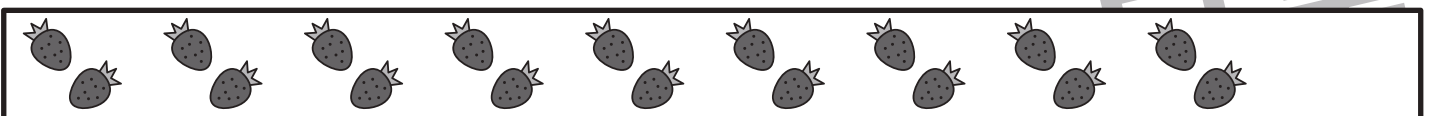
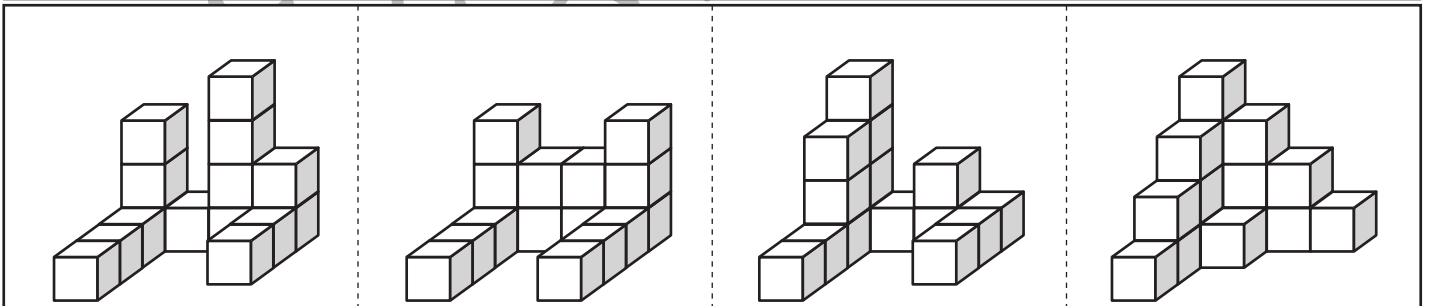
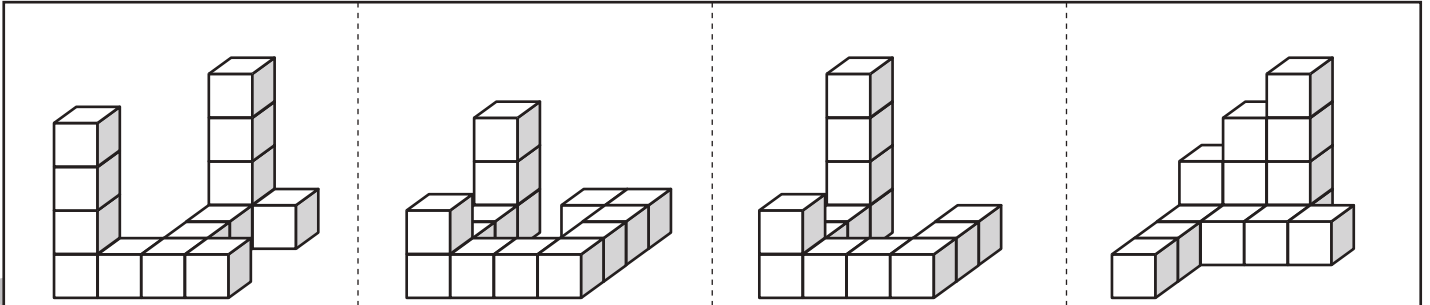
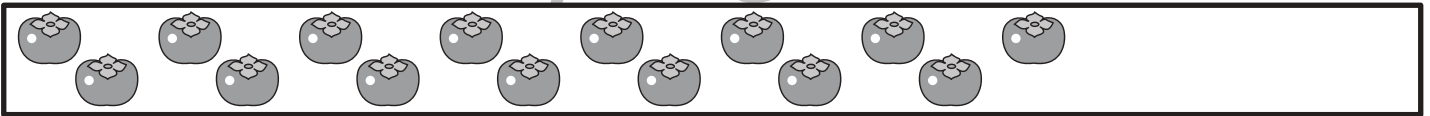
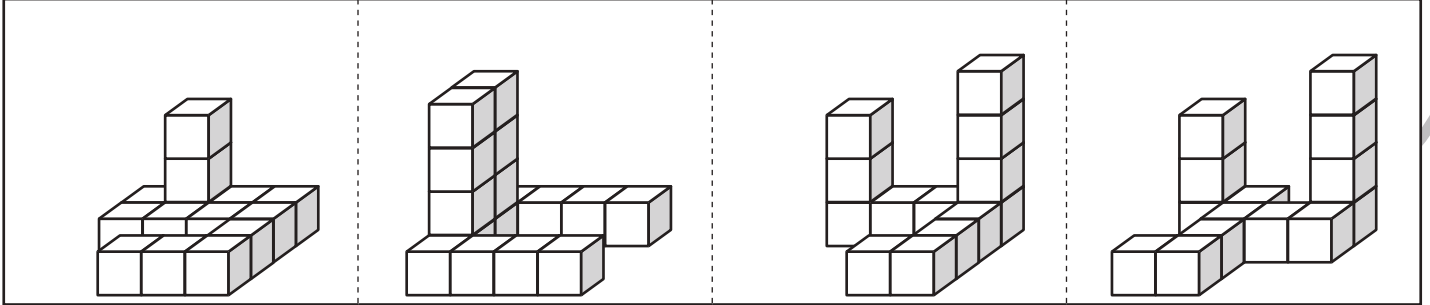
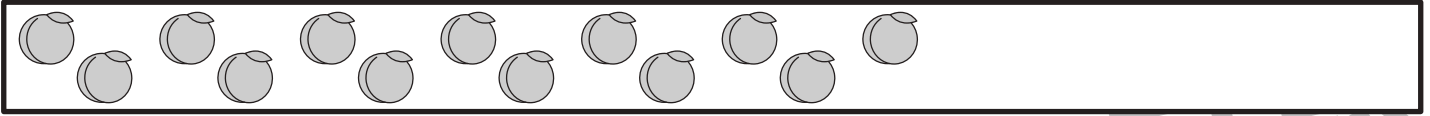


おうちで、やろう。

Study at home. 小学校受験の家庭学習教材

数量：同数⑥

上の四角の中の果物の数がお手本です。下の4つの四角にある積み木のうち、お手本の果物の数と同じ数の積み木はどれでしょうか。正しい数の積み木がある四角に○をつけます。



※1. このプリントは、しながわ・目黒こどもスクールのウェブサイトからダウンロードできます。無断複写・引用はご遠慮ください。
※2. このプリントを活用したオンライン授業のスケジュールは、しながわ・目黒こどもスクールのウェブサイトでご確認ください。





おうちで、やろう。

Study at home. 小学校受験の家庭学習教材

数量：余る数・足りない数③

左の四角の中にお友だちの人数で、点線の右にある食べ物の数になるように、真ん中の大きな四角の中のものを分けます。このとき、足りないのはいくつですか。足りない数だけ、一番右の四角に○をかきます。

| | | | |
|--|--|--|--|
| | | | |
| | | | |
| | | | |
| | | | |
| | | | |

※1. このプリントは、しながわ・目黒こどもスクールのウェブサイトでダウンロードができます。無断複写・引用はご遠慮ください。

※2. このプリントを活用したオンライン授業のスケジュールは、しながわ・目黒こどもスクールのウェブサイトでご確認ください。



おうちで、やろう。

Study at home. 小学校受験の家庭学習教材

数量：余る数・足りない数④

左の四角の中にお友だちの人数で、点線の右にある食べ物の数になるように、真ん中の大きな四角の中のものを分けます。このとき、足りないのはいくつですか。足りない数だけ、一番右の四角に○をかきます。ちょうど分けられるときは印はかきません。

| | | | |
|--|--|--|--|
| | | | |
| | | | |
| | | | |
| | | | |
| | | | |

※1. このプリントは、しながわ・目黒こどもスクールのウェブサイトからダウンロードできます。無断複写・引用はご遠慮ください。

※2. このプリントを活用したオンライン授業のスケジュールは、しながわ・目黒こどもスクールのウェブサイトでご確認ください。