



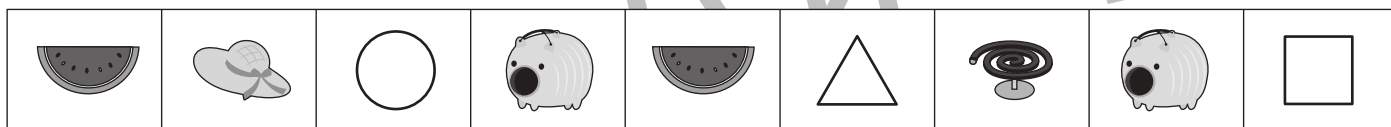

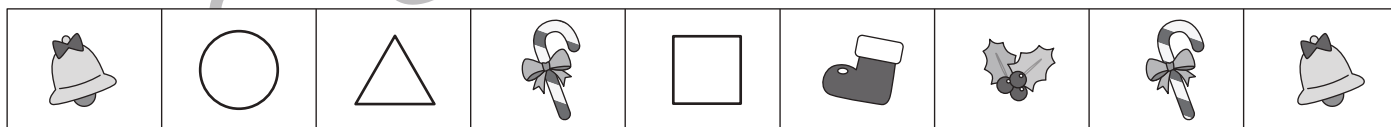



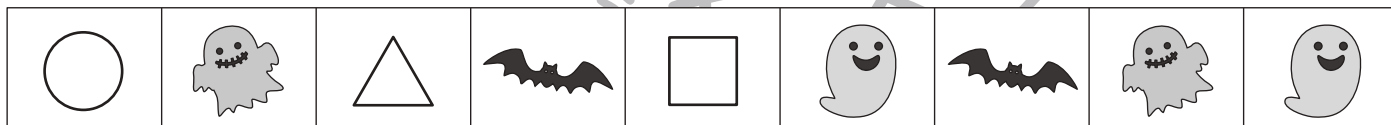
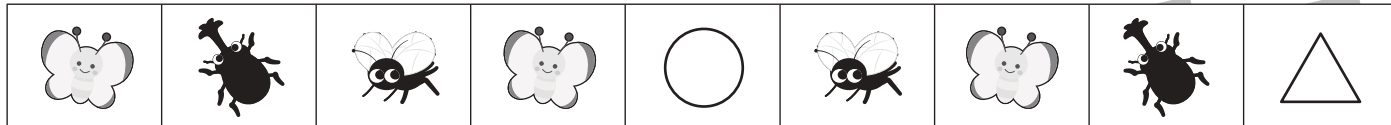
# おうちで、やろう。

Study at home. 小学校受験の家庭学習教材

## 推理：系列完成①

絵がある順番通りに並んでいます。○・△・□に入る絵を考えて下の四角の中から選んでそれぞれの記号をつけます。

※○の場所に入る絵には○、△の場所に入る絵には△をつけます。



※1. このプリントは、しながわ・目黒こどもスクールのウェブサイトでダウンロードができます。無断複写・引用はご遠慮ください。

※2. このプリントを活用したオンライン授業のスケジュールは、しながわ・目黒こどもスクールのウェブサイトでご確認ください。

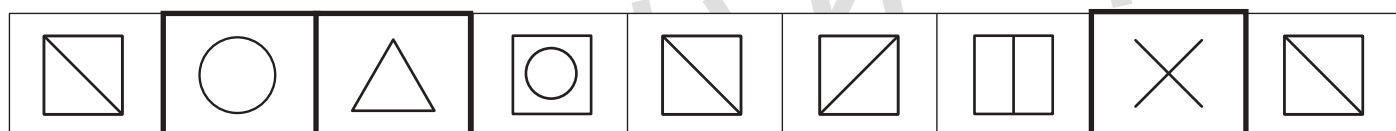
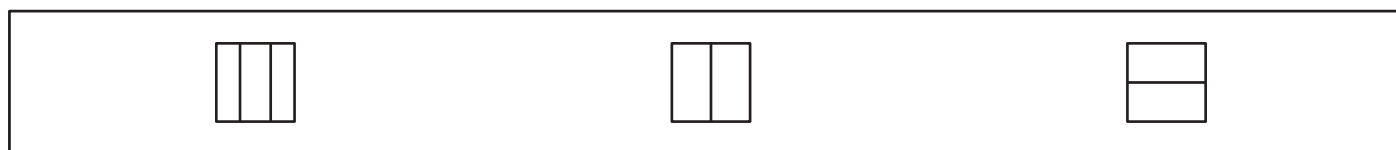
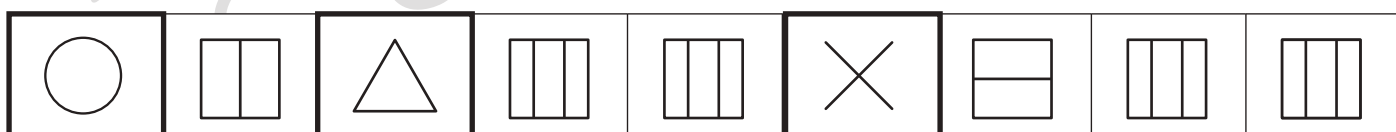
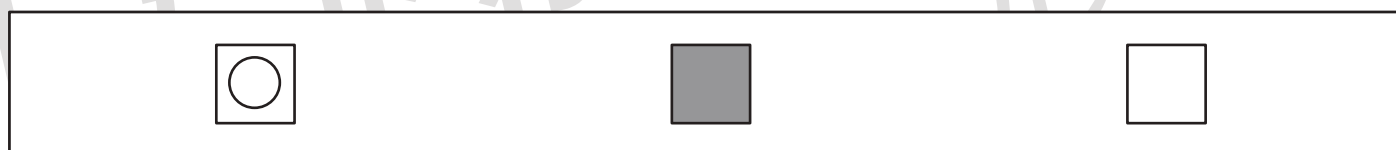
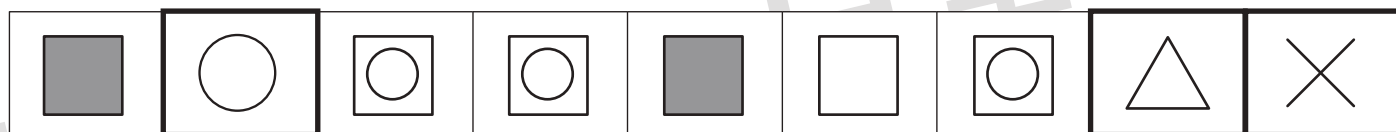
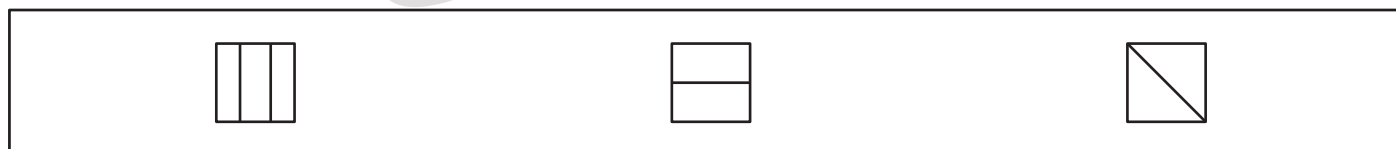
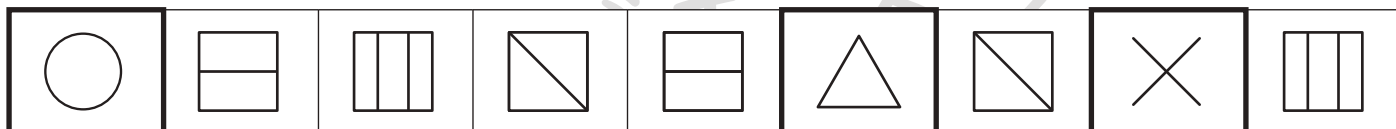




# おうちで、やろう。

Study at home. 小学校受験の家庭学習教材

## 推理：系列完成②

記号がある順番通りに並んでいます。太い四角の○・△・×に入る記号を考えて下の四角の中から選んでそれぞれの記号をつけます。  
※○の場所に入る絵には○、△の場所に入る絵には△をつけます。



※1. このプリントは、しながわ・目黒こどもスクールのウェブサイトでダウンロードができます。無断複写・引用はご遠慮ください。  
 ※2. このプリントを活用したオンライン授業のスケジュールは、しながわ・目黒こどもスクールのウェブサイトでご確認ください。



# おうちで、よろう。

Study at home. 小学校受験の家庭学習教材

## 推理：系列完成③

記号がある順番通りに並んでいます。空いている四角に入る記号を考えてその記号をかきます。

○	□	△	▽		□	△	▽	○	
---	---	---	---	--	---	---	---	---	--

									△
--	--	--	--	--	--	--	--	--	---

○	▽		□		▽		□	○	
---	---	--	---	--	---	--	---	---	--

◁	□	◁		◁	□		○	◁	
---	---	---	--	---	---	--	---	---	--

--	--	--	--	--	--	--	--	--	--

◁	□		○	◁	□	◁			□
---	---	--	---	---	---	---	--	--	---

○	○	△	□	▽		○	△		▽
---	---	---	---	---	--	---	---	--	---

									○
--	--	--	--	--	--	--	--	--	---

	○	○		□					○
--	---	---	--	---	--	--	--	--	---

--	--	--	--	--	--	--	--	--	--

	○		▽		△	○	○		□
--	---	--	---	--	---	---	---	--	---

※1. このプリントは、しながわ・目黒こどもスクールのウェブサイトでダウンロードができます。無断複写・引用はご遠慮ください。  
 ※2. このプリントを活用したオンライン授業のスケジュールは、しながわ・目黒こどもスクールのウェブサイトでご確認ください。




# おうちで、やろう。

Study at home. 小学校受験の家庭学習教材

数量：計数①

上の大きな四角の中のそれぞれのクッキーの数をかぞえます。かぞえた数だけ下の四角の同じ絵の左に○をかきます。




※1. このプリントは、しながわ・目黒こどもスクールのウェブサイトでダウンロードができます。無断複写・引用はご遠慮ください。

※2. このプリントを活用したオンライン授業のスケジュールは、しながわ・目黒こどもスクールのウェブサイトでご確認ください。




# おうちで、やろう。

Study at home. 小学校受験の家庭学習教材

数量：計数②

上の大きな四角の中のそれぞれの形の数をかぞえます。かぞえた数だけ下の四角の同じ形の左に○をかきます。



※1. このプリントは、しながわ・目黒こどもスクールのウェブサイトでダウンロードができます。無断複写・引用はご遠慮ください。

※2. このプリントを活用したオンライン授業のスケジュールは、しながわ・目黒こどもスクールのウェブサイトでご確認ください。

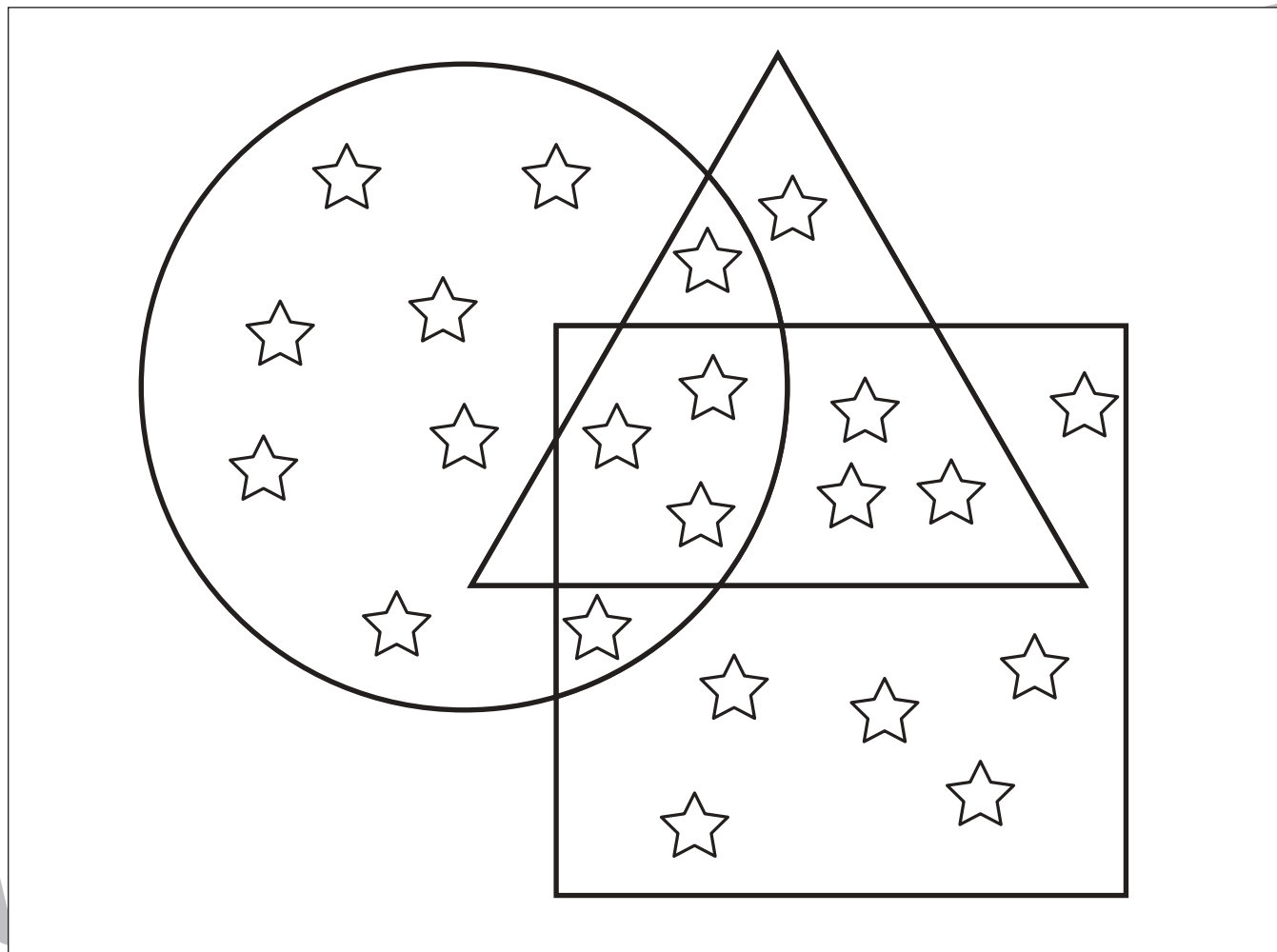


# おうちで、やろう。

Study at home. 小学校受験の家庭学習教材

数量：計数③

- ①四角の中にある星の数だけ○を描きます。
- ②丸と三角の中にある星の数だけ○をかきます。
- ③丸と四角が重なっているところにある星の数だけ○をかきます
- ④丸と三角と四角が重なっているところにある星の数だけ○をかきます。



①

②

③

④

※1. このプリントは、しながわ・目黒こどもスクールのウェブサイトからダウンロードできます。無断複写・引用はご遠慮ください。  
 ※2. このプリントを活用したオンライン授業のスケジュールは、しながわ・目黒こどもスクールのウェブサイトでご確認ください。



# おうちで、やろう。

Study at home. 小学校受験の家庭学習教材

## 図形：重ね①

上の2枚の板は透明です。この2枚の板を重ねたときの見え方を考えて下の四角にかきます。


※1. このプリントは、しながわ・目黒こどもスクールのウェブサイトでダウンロードができます。無断複写・引用はご遠慮ください。

※2. このプリントを活用したオンライン授業のスケジュールは、しながわ・目黒こどもスクールのウェブサイトでご確認ください。



# おうちで、やろう。

Study at home. 小学校受験の家庭学習教材

## 図形：重ね②

上の2枚の板は透明です。この2枚の板を重ねたときの見え方を考えて下の四角にかきます。


※1. このプリントは、しながわ・目黒こどもスクールのウェブサイトからダウンロードできます。無断複写・引用はご遠慮ください。

※2. このプリントを活用したオンライン授業のスケジュールは、しながわ・目黒こどもスクールのウェブサイトでご確認ください。





# おうちで、やろう。

Study at home. 小学校受験の家庭学習教材

## 図形：重ね③

上の2枚の板は透明です。この2枚の板を重ねたときの見え方を考えて下の四角にかきます。


※1. このプリントは、しながわ・目黒こどもスクールのウェブサイトでダウンロードができます。無断複写・引用はご遠慮ください。  
 ※2. このプリントを活用したオンライン授業のスケジュールは、しながわ・目黒こどもスクールのウェブサイトでご確認ください。