


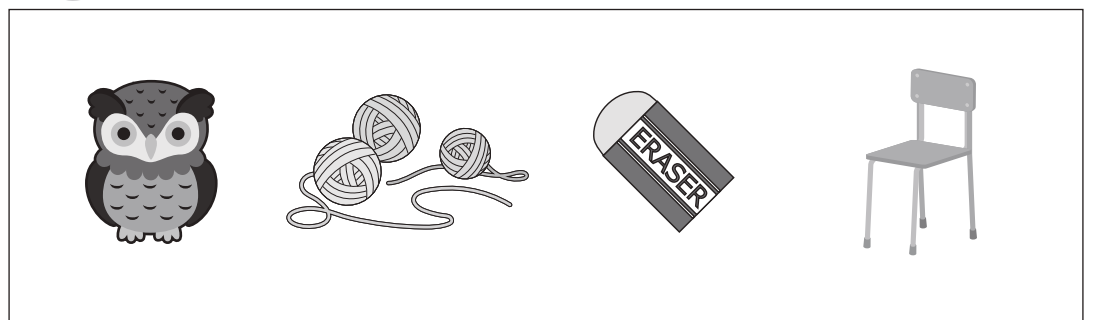
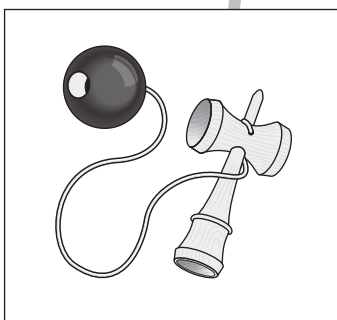



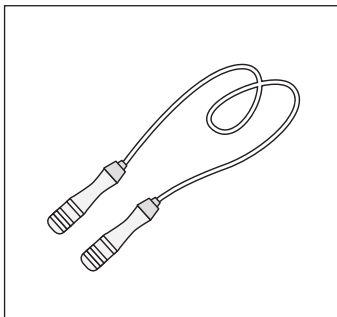

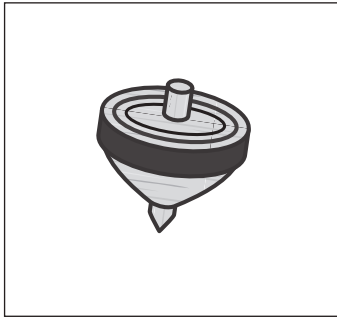


おうちで、やろう。

Study at home. 小学校受験の家庭学習教材

言語：音の理解①

左の四角の中の名前ははじめの音と同じ音ではじまるものを右の四角の中からみつけて○をつけます。



※1. このプリントは、しながわ・目黒こどもスクールのウェブサイトからダウンロードできます。無断複写・引用はご遠慮ください。
※2. このプリントを活用したオンライン授業のスケジュールは、しながわ・目黒こどもスクールのウェブサイトでご確認ください。








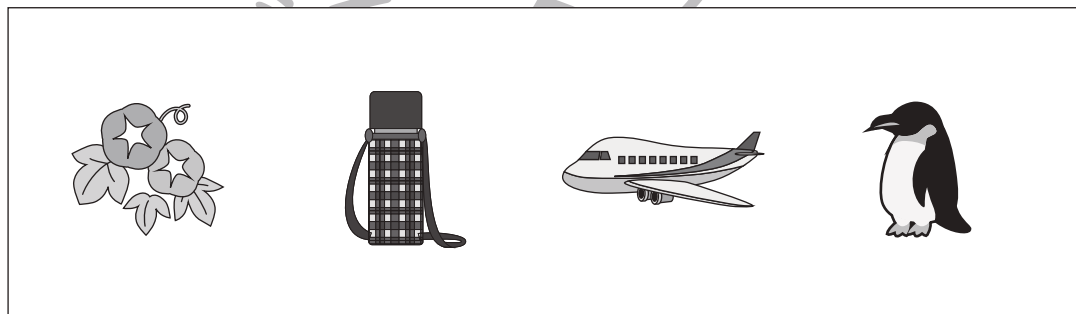

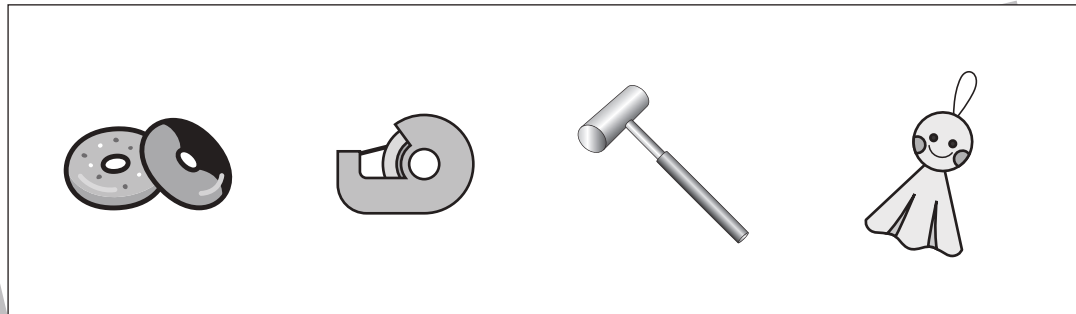



おうちで、やろう。

Study at home. 小学校受験の家庭学習教材

言語：音の理解②

左の四角の中の名前のおわりの音と同じ音でおわるものを右の四角の中からみつけて○をつけます。



※1. このプリントは、しながわ・目黒こどもスクールのウェブサイトからダウンロードできます。無断複写・引用はご遠慮ください。
※2. このプリントを活用したオンライン授業のスケジュールは、しながわ・目黒こどもスクールのウェブサイトでご確認ください。



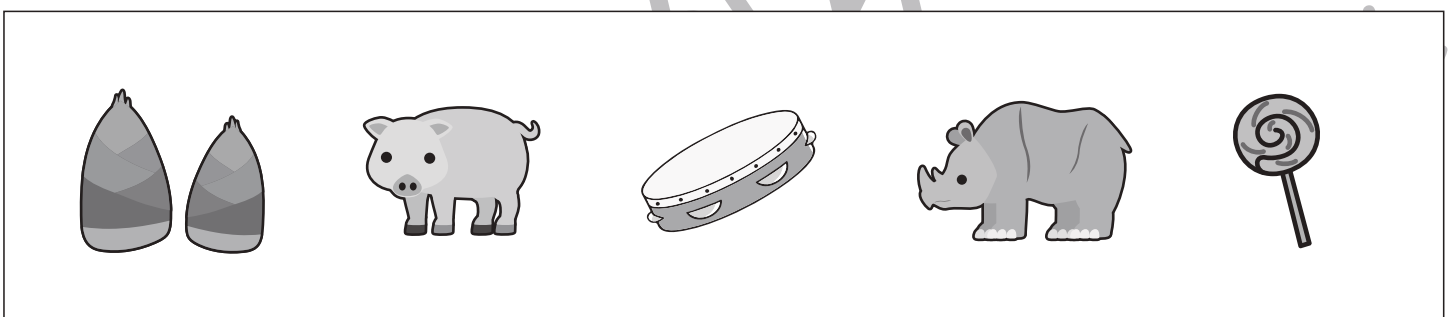
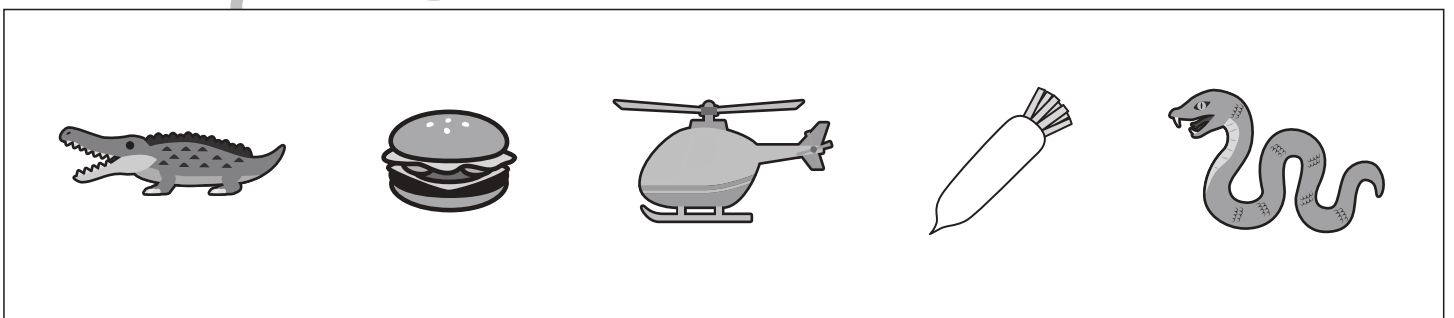



おうちで、やろう。

Study at home. 小学校受験の家庭学習教材

言語：音の理解③

四角の中の絵の中ではじめの音が同じものを2つみつけて○をつけます。



※1. このプリントは、しながわ・目黒こどもスクールのウェブサイトからダウンロードできます。無断複写・引用はご遠慮ください。
※2. このプリントを活用したオンライン授業のスケジュールは、しながわ・目黒こどもスクールのウェブサイトでご確認ください。




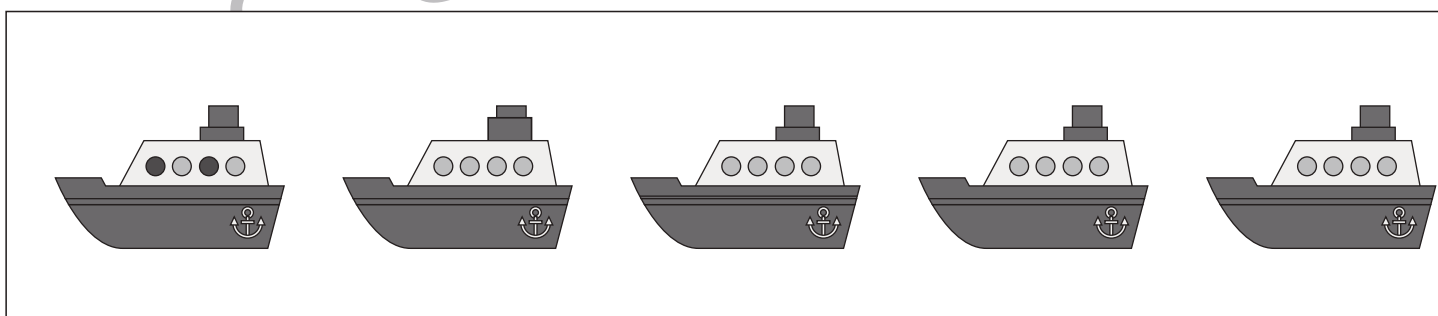

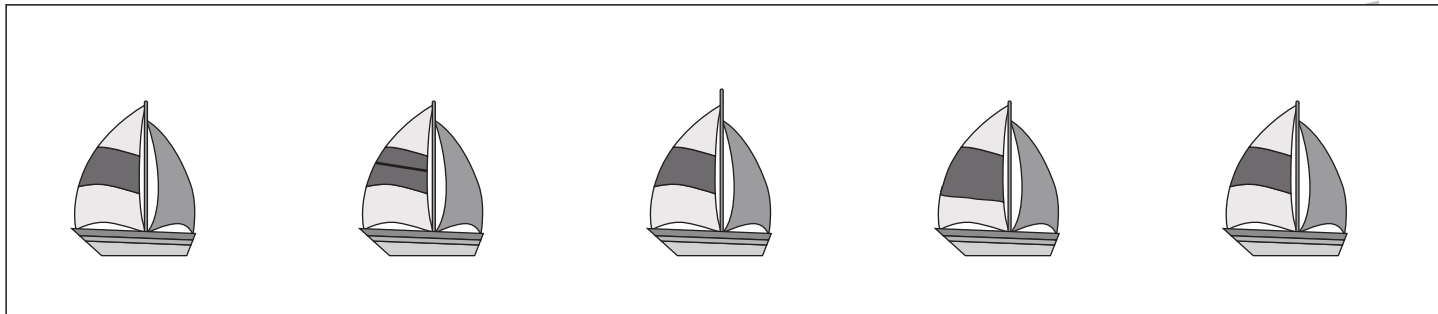


おうちで、やろう。

Study at home. 小学校受験の家庭学習教材

図形：同図形①

四角の中の5つの絵のうち同じ絵を2つ見つけて○をつけます。



※1. このプリントは、しながわ・目黒こどもスクールのウェブサイトでダウンロードができます。無断複写・引用はご遠慮ください。

※2. このプリントを活用したオンライン授業のスケジュールは、しながわ・目黒こどもスクールのウェブサイトでご確認ください。






おうちで、やろう。

Study at home. 小学校受験の家庭学習教材

図形：同図形②

四角の中の5つの絵のうち同じ絵を2つ見つけて○をつけます。



※1. このプリントは、しながわ・目黒こどもスクールのウェブサイトからダウンロードできます。無断複写・引用はご遠慮ください。

※2. このプリントを活用したオンライン授業のスケジュールは、しながわ・目黒こどもスクールのウェブサイトでご確認ください。






おうちで、やろう。

Study at home. 小学校受験の家庭学習教材

図形：同図形③

四角の中の5つの絵のうち同じ絵を2つ見つけて○をつけます。



※1. このプリントは、しながわ・目黒こどもスクールのウェブサイトからダウンロードできます。無断複写・引用はご遠慮ください。
※2. このプリントを活用したオンライン授業のスケジュールは、しながわ・目黒こどもスクールのウェブサイトでご確認ください。






おうちで、やろう。

Study at home. 小学校受験の家庭学習教材







数量：多少①

① 2つの四角のうち、数が多い方に○をつけます。 ② 2つの四角のうち、数が少ない方に×をつけます。

①



②



※1. このプリントは、しながわ・目黒こどもスクールのウェブサイトでダウンロードができます。無断複写・引用はご遠慮ください。
 ※2. このプリントを活用したオンライン授業のスケジュールは、しながわ・目黒こどもスクールのウェブサイトでご確認ください。



おうちで、やろう。

Study at home. 小学校受験の家庭学習教材

数量：多少②

クマとライオンの果物の数を比べます。クマの数がライオンの数より多いときは、いくつ多いか考えてその数だけ○をかきます。クマの数がライオンの数より少ないときは、いくつ少ないのかを考えてその数だけ×をかきます。記号はそれぞれ真ん中の太い四角の中に描きます。

※1. このプリントは、しながわ・目黒こどもスクールのウェブサイトでダウンロードができます。無断複写・引用はご遠慮ください。

※2. このプリントを活用したオンライン授業のスケジュールは、しながわ・目黒こどもスクールのウェブサイトでご確認ください。



おうちで、やろう。

Study at home. 小学校受験の家庭学習教材

数量：多少③

横に並んだ4つの四角の中の記号の数をかぞえます。数が一番多い四角に○、数が一番少ない四角に△をつけます。

※1. このプリントは、しながわ・目黒こどもスクールのウェブサイトでダウンロードができます。無断複写・引用はご遠慮ください。

※2. このプリントを活用したオンライン授業のスケジュールは、しながわ・目黒こどもスクールのウェブサイトでご確認ください。