


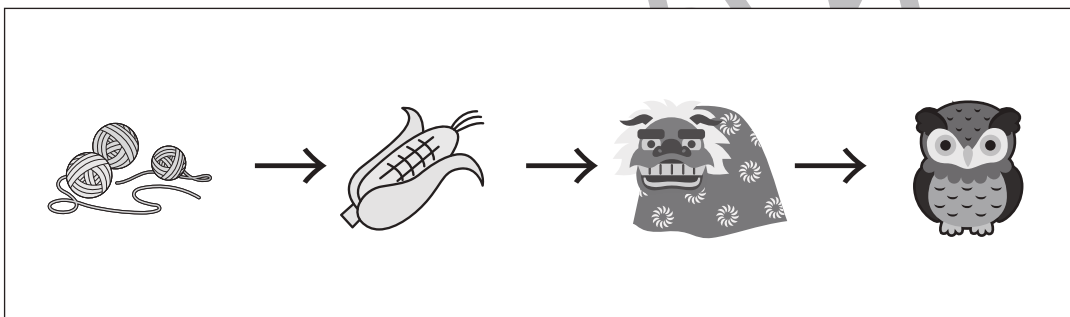





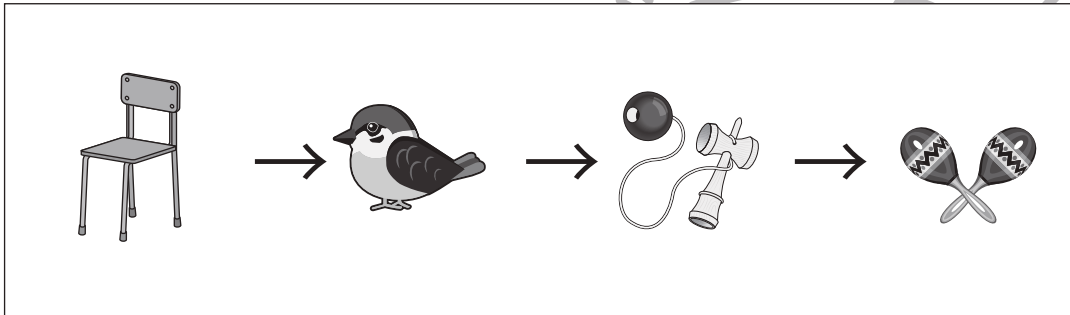
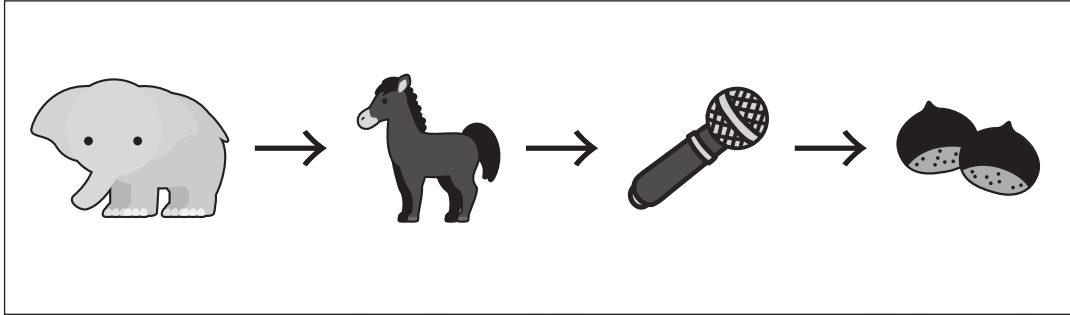


# おうちで、やろう。

Study at home. 小学校受験の家庭学習教材

## 言語：しりとり①

左から順番にしりとりをします。最後までしりとりでつながるときは○、つながらないときは×を一番右の四角の中にかきます。



※1. このプリントは、しながわ・目黒こどもスクールのウェブサイトからダウンロードできます。無断複写・引用はご遠慮ください。  
※2. このプリントを活用したオンライン授業のスケジュールは、しながわ・目黒こどもスクールのウェブサイトでご確認ください。






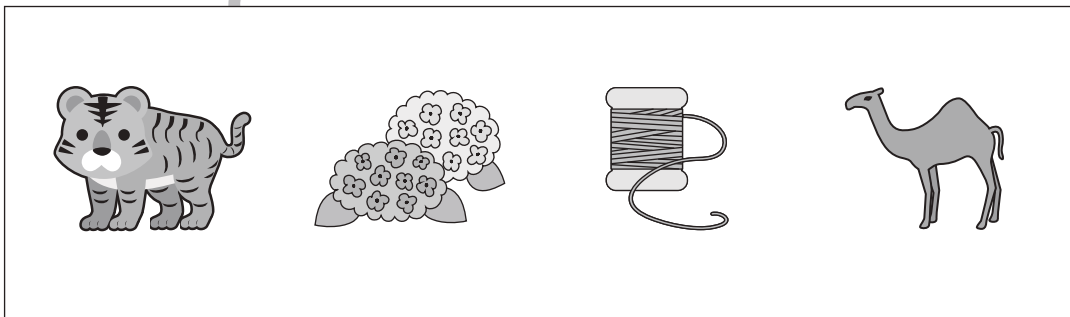

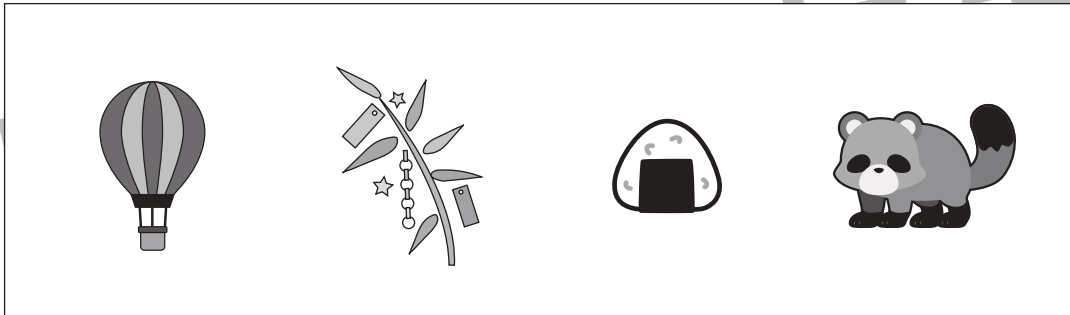
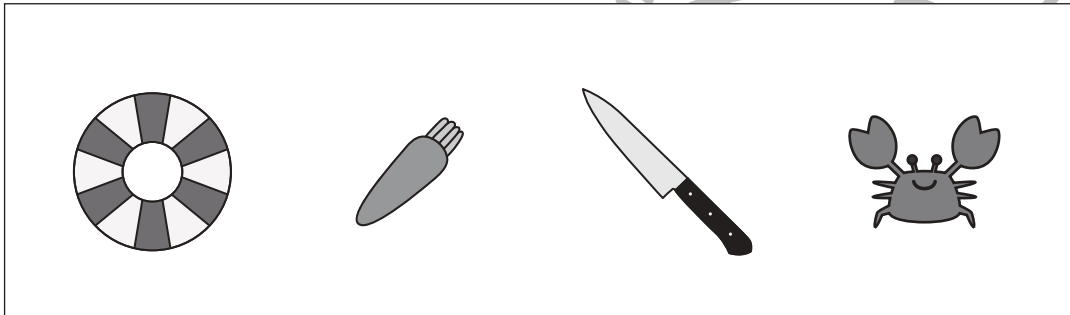



# おうちで、やろう。

Study at home. 小学校受験の家庭学習教材

## 言語：しりとり②

四角の中の4つの絵でしりとりをします。どのようにつながるのかを考えて、4つの絵がすべてしりとりでつながるときは○、つながらないときは×を一番右の四角の中にかきます。



※1. このプリントは、しながわ・目黒こどもスクールのウェブサイトでダウンロードができます。無断複写・引用はご遠慮ください。  
※2. このプリントを活用したオンライン授業のスケジュールは、しながわ・目黒こどもスクールのウェブサイトでご確認ください。














# おうちで、やろう。






Study at home. 小学校受験の家庭学習教材





## 言語：しりとり③






左から順番にしりとりでつなげていくとき、○・△・□に入る絵を下の四角の中から選んでそれぞれの記号をつけます。






 → 
  → 
  → 
  → 
 
















 → 
  → 
  → 
  → 
 
















 → 
  → 
  → 
  → 
 

 → 
  → 
  → 
  → 
 

 → 
  → 
  → 
  → 
 

※1. このプリントは、しながわ・目黒こどもスクールのウェブサイトからダウンロードできます。無断複写・引用はご遠慮ください。

※2. このプリントを活用したオンライン授業のスケジュールは、しながわ・目黒こどもスクールのウェブサイトでご確認ください。

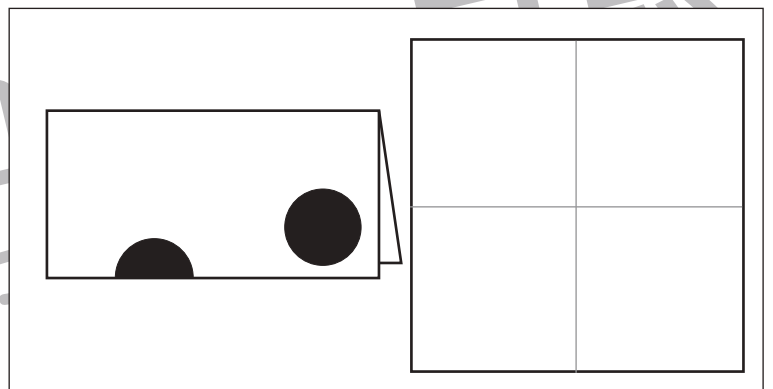
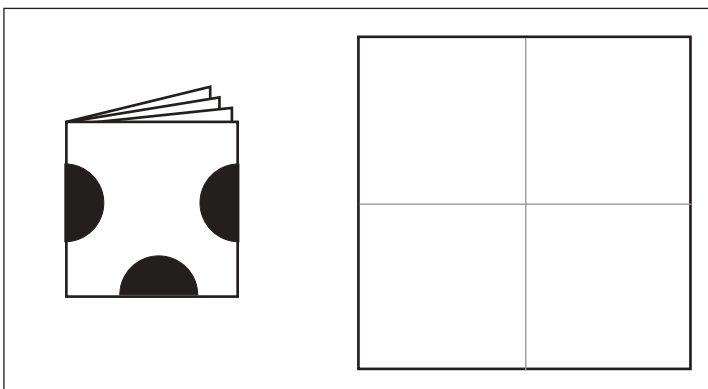
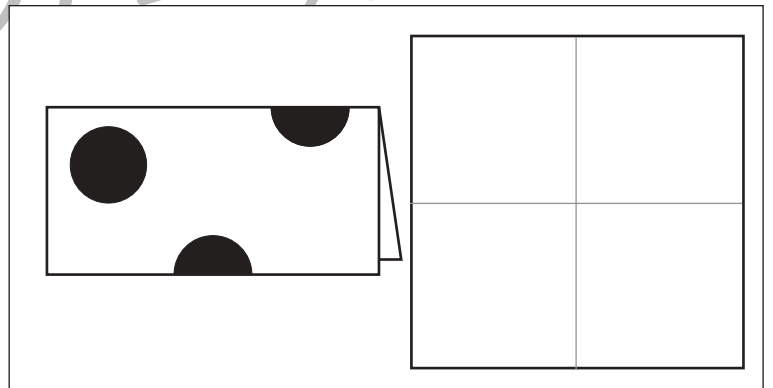
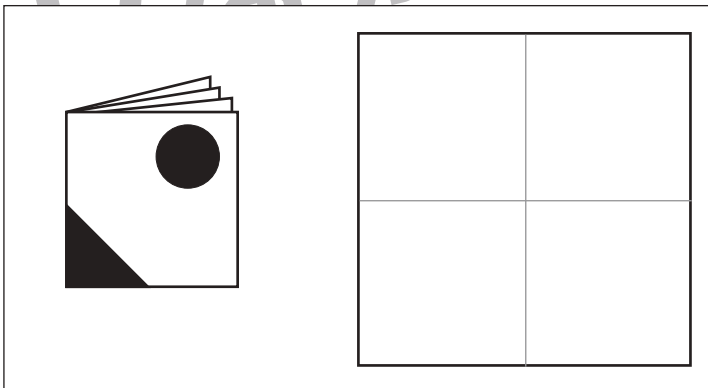
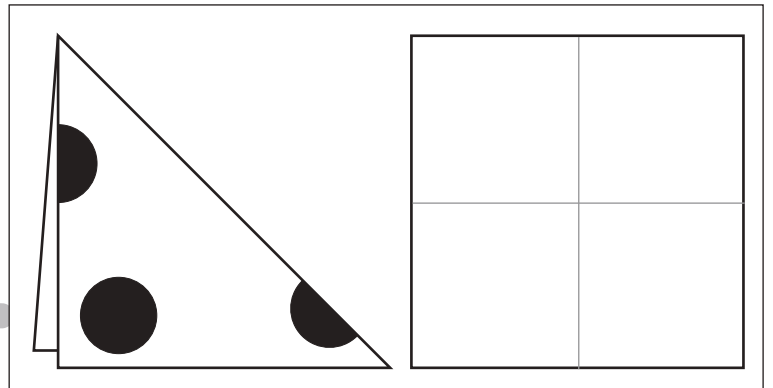
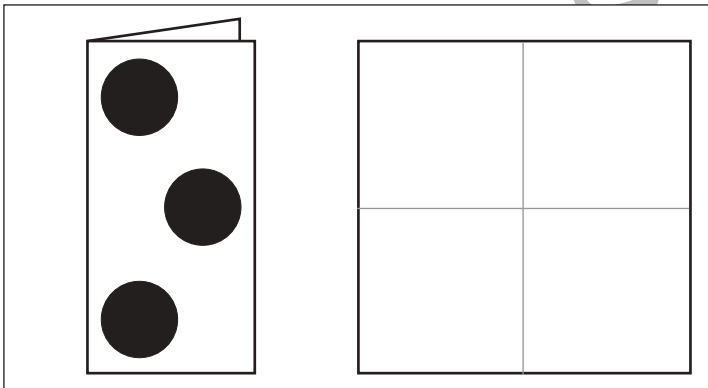
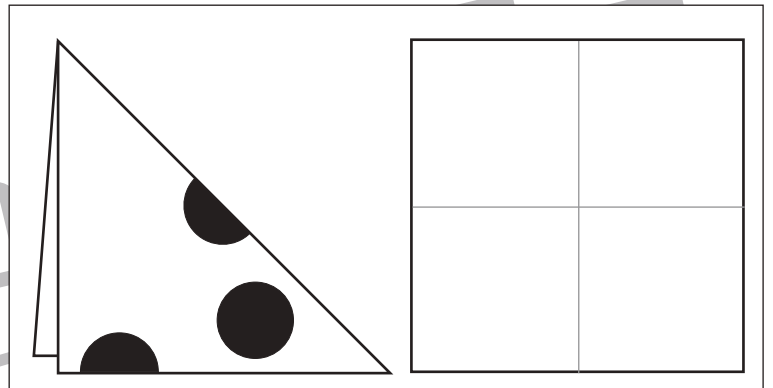
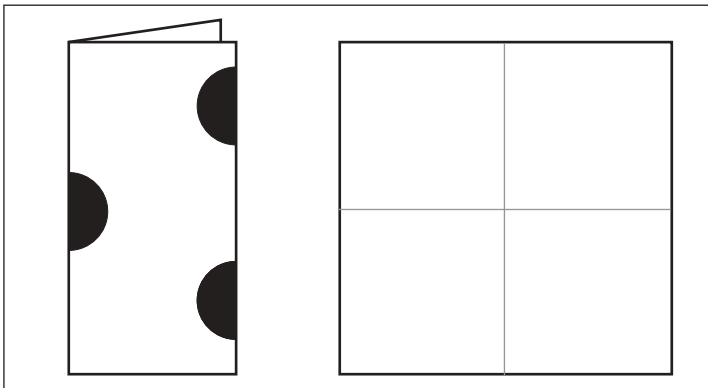


# おうちで、やろう。

Study at home. 小学校受験の家庭学習教材

## 図形：切り抜き①

左のお手本のように折り紙を折り、黒い部分を切り抜いて広げたときの見え方を考えて右の四角にかきます。



※1. このプリントは、しながわ・目黒こどもスクールのウェブサイトでダウンロードができます。無断複写・引用はご遠慮ください。  
※2. このプリントを活用したオンライン授業のスケジュールは、しながわ・目黒こどもスクールのウェブサイトでご確認ください。



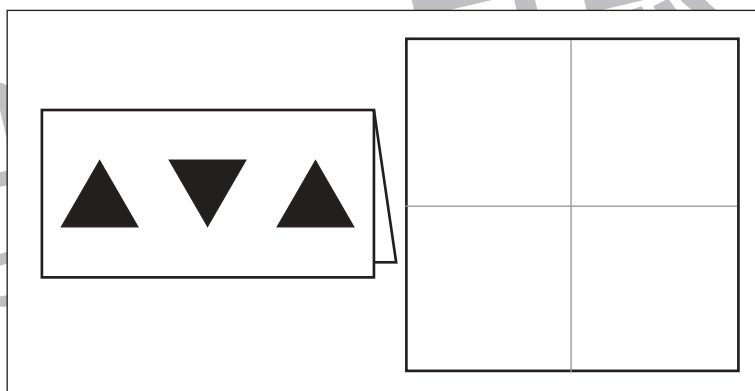
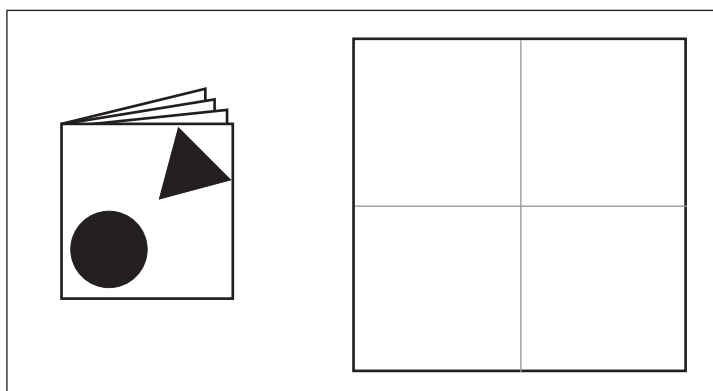
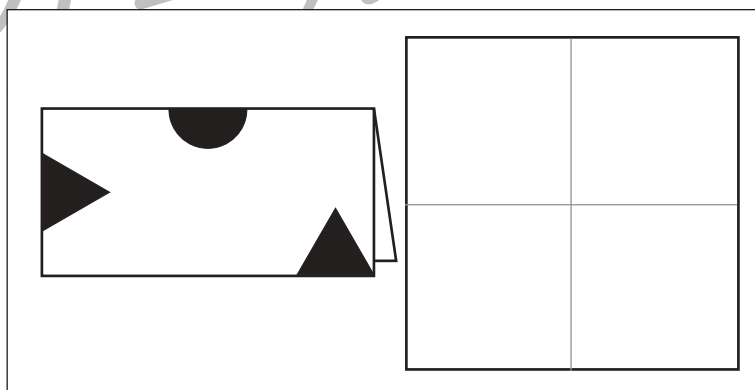

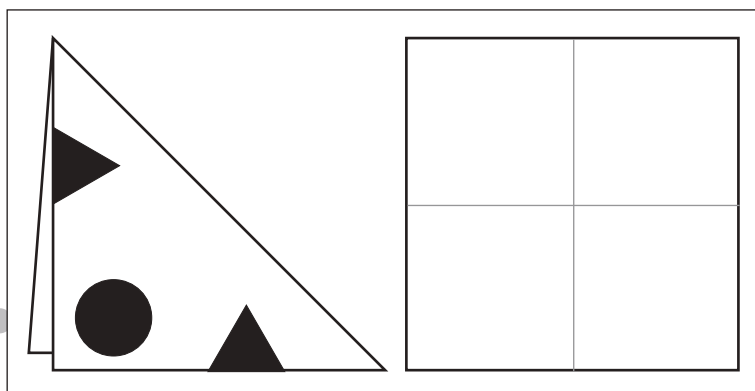
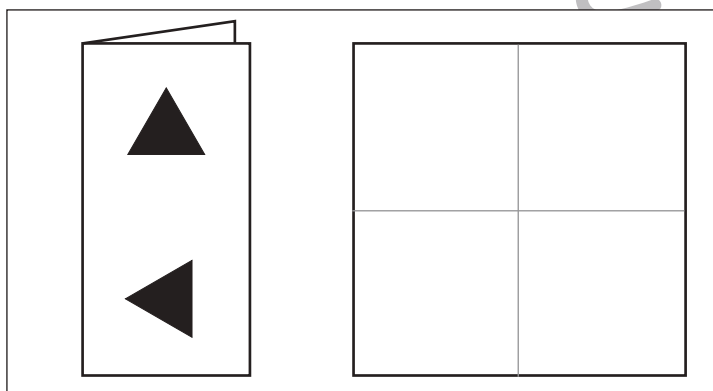
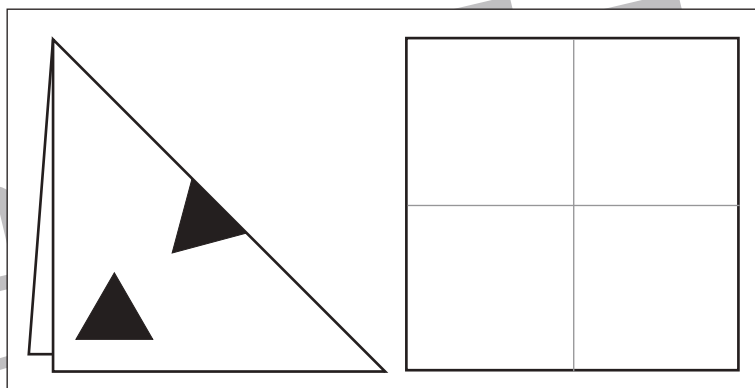
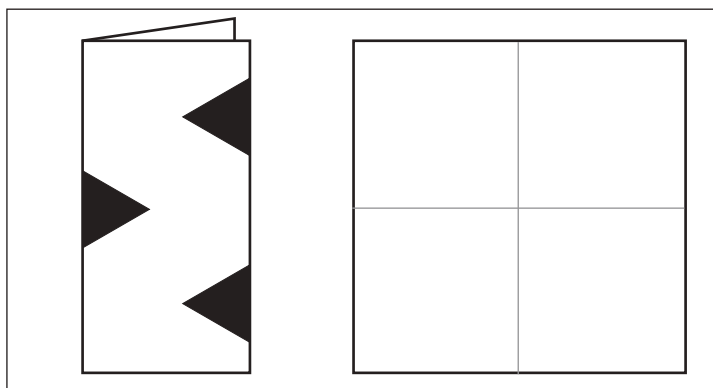


# おうちで、やろう。

Study at home. 小学校受験の家庭学習教材

## 図形：切り抜き②

左のお手本のように折り紙を折り、黒い部分を切り抜いて広げたときの見え方を考えて右の四角にかきます。



※1. このプリントは、しながわ・目黒こどもスクールのウェブサイトでダウンロードができます。無断複写・引用はご遠慮ください。  
※2. このプリントを活用したオンライン授業のスケジュールは、しながわ・目黒こどもスクールのウェブサイトでご確認ください。

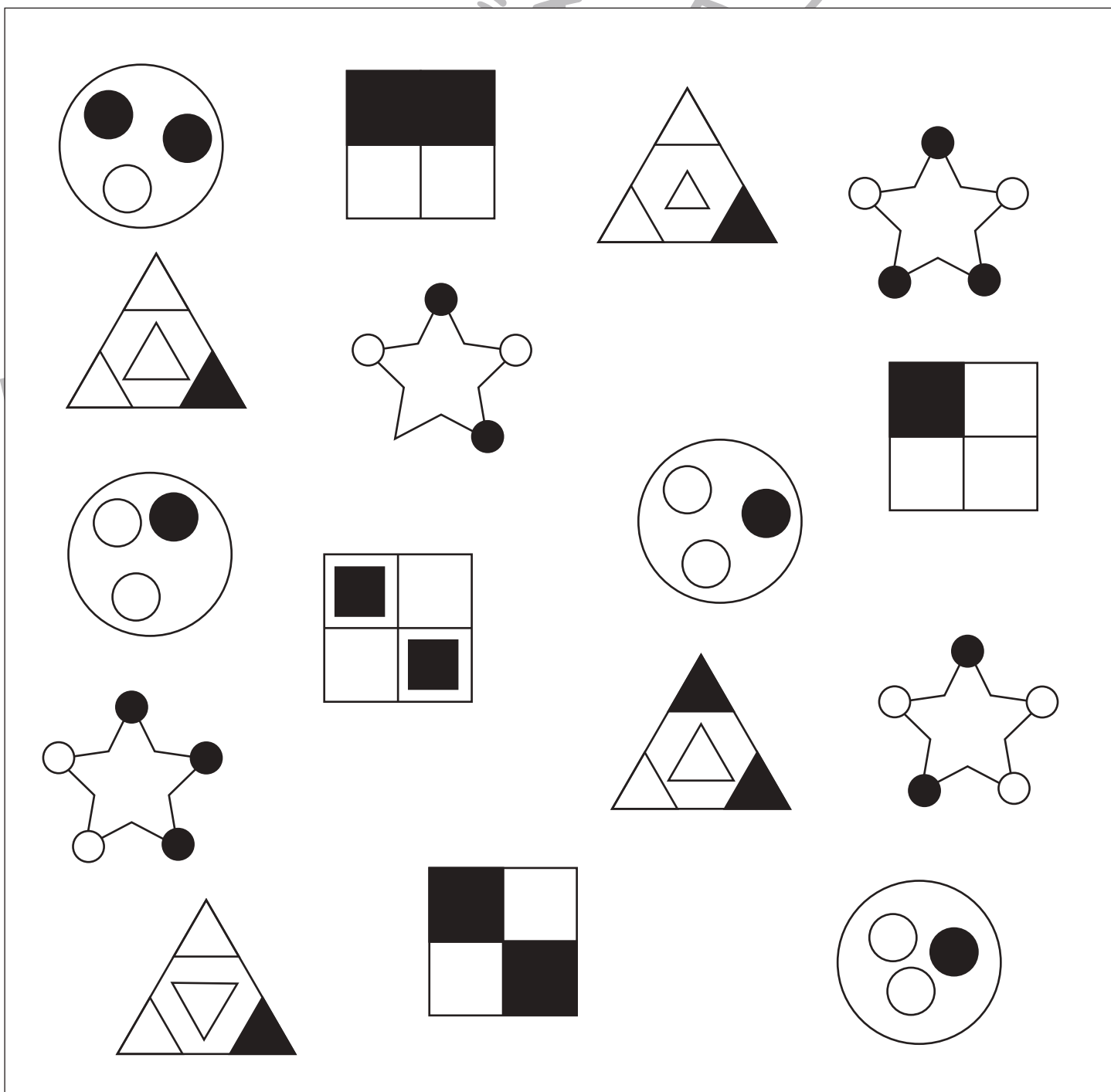
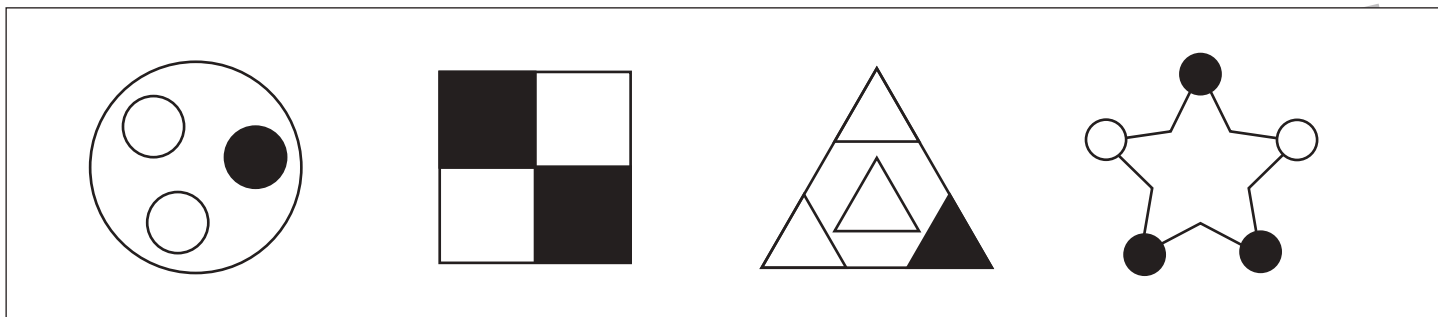


# おうちで、やろう。

Study at home. 小学校受験の家庭学習教材

## 図形：同図形④

上の四角の中と同じ形をみつけて○をつけます。



※1. このプリントは、しながわ・目黒こどもスクールのウェブサイトからダウンロードできます。無断複写・引用はご遠慮ください。  
 ※2. このプリントを活用したオンライン授業のスケジュールは、しながわ・目黒こどもスクールのウェブサイトでご確認ください。


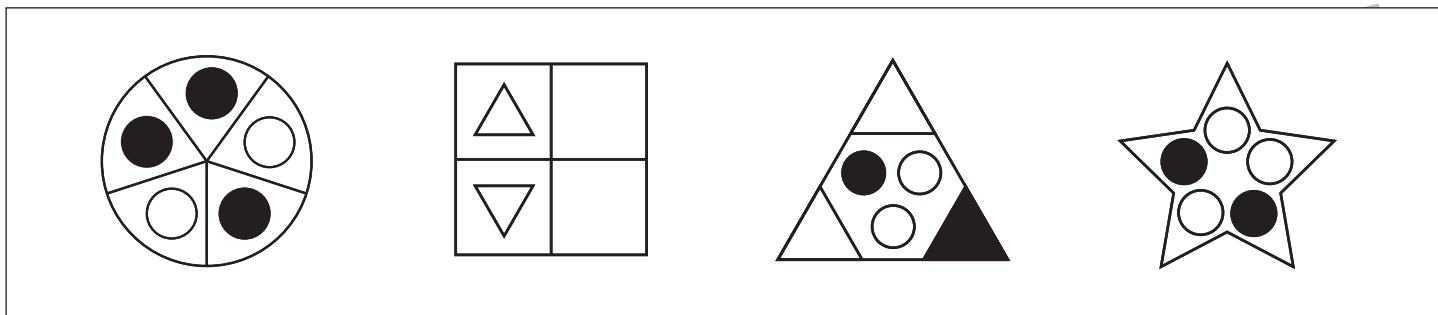


# おうちで、やろう。

Study at home. 小学校受験の家庭学習教材

## 図形：同図形⑤

上の四角の中と同じ形をみつけて○をつけます。



※1. このプリントは、しながわ・目黒こどもスクールのウェブサイトでダウンロードができます。無断複写・引用はご遠慮ください。  
 ※2. このプリントを活用したオンライン授業のスケジュールは、しながわ・目黒こどもスクールのウェブサイトでご確認ください。



# おうちで、やろう。

Study at home. 小学校受験の家庭学習教材

## 数量：数の推理①

左から右へ矢印の順番に同じ数ずつ〇の数が増えたり減ったりしています。いくつ増えたり、減ったりしているのか考えて空いている四角にその数だけ〇をかきます。

	→		→		→	
--	---	--	---	--	---	--

	→		→		→	
--	---	--	---	--	---	--

	→		→		→	
--	---	--	---	--	---	--

	→		→		→	
--	---	--	---	--	---	--

※1. このプリントは、しながわ・目黒こどもスクールのウェブサイトからダウンロードができます。無断複写・引用はご遠慮ください。  
 ※2. このプリントを活用したオンライン授業のスケジュールは、しながわ・目黒こどもスクールのウェブサイトでご確認ください。





# おうちで、やろう。

Study at home. 小学校受験の家庭学習教材

## 数量：数の推理②

男の子、女の子がそれぞれ吹き出しの中にある飴だけ持って家に帰ります。途中、カエルに会うと飴を2つもらえます。ソウに会うと飴を1つあげます。この約束の時、家についたときに持っている飴の数だけ下の四角の飴に○をつけます。

Scenario 1: A boy starts with 2 candies. He meets a frog (gets 2) and a cloud (gives 1). He ends with 3 candies.

Scenario 2: A girl starts with 4 candies. She meets a cloud (gives 1) and a frog (gets 2). She ends with 5 candies.

Scenario 3: A boy starts with 1 candy. He meets a frog (gets 2) and a cloud (gives 1). He ends with 2 candies.

Scenario 4: A girl starts with 5 candies. She meets a cloud (gives 1) and a frog (gets 2). She ends with 6 candies.

※1. このプリントは、しながわ・目黒こどもスクールのウェブサイトでダウンロードができます。無断複写・引用はご遠慮ください。  
 ※2. このプリントを活用したオンライン授業のスケジュールは、しながわ・目黒こどもスクールのウェブサイトでご確認ください。



# おうちで、やろう。

Study at home. 小学校受験の家庭学習教材

## 数量：数の推理③

男の子、女の子がそれぞれ吹き出しの中にある飴だけ持って家に帰ります。途中、カエルに会うと飴を2つもらえます。ゾウに会うと飴を1つあげます。リスに会うと持っている飴の半分をあげます。この約束の時、家についたときに持っている飴の数だけ下の四角の飴に○をつけます。

Scenario 1: A boy starts with 2 candies. He meets a frog and gets 2 more. He meets a squirrel and gives away half (2). He meets another frog and gets 2 more. He reaches home with 4 candies.

Scenario 2: A girl starts with 5 candies. She meets two dogs and gives away 1 each. She meets a frog and gets 2 more. She meets a squirrel and gives away half (3). She reaches home with 1 candy.

Scenario 3: A girl starts with 6 candies. She meets a dog and gives away 1. She meets a frog and gets 2 more. She meets a squirrel and gives away half (4). She meets another frog and gets 2 more. She reaches home with 4 candies.

※1. このプリントは、しながわ・目黒こどもスクールのウェブサイトでダウンロードができます。無断複写・引用はご遠慮ください。  
※2. このプリントを活用したオンライン授業のスケジュールは、しながわ・目黒こどもスクールのウェブサイトでご確認ください。