



おうちで、やろう。

Study at home. 小学校受験の家庭学習教材

記憶：お話の記憶①(本文)

※別紙問題プリントは伏せてお話を読みます。手を膝の上に置いて、静かに聞きましょう。

※4月25日(土)のオンライン授業では、実施中にこのお話の録音音声聞いて問題に取り組みます。

今日はみんなでウサギさんの家に遊びに行く日です。ヒマワリがたくさん咲いているさくら公園で待ち合わせをしています。最初に来たのはクマくんです。クマくんは遅刻すると思って走ってきました。クマくんは「僕が一番だ。間に合ってよかった。」とほっとして、みんなを滑り台の上で待つことにしました。二番目に来たのはパンダさんです。クマくんは「パンダさんおはよう。かわいいりボンをつけているからすぐに見つけれられたよ。」と言うとパンダさんは「クマくんおはよう。このりボンは私のお気に入りなの。私の大好きな青色よ。」と嬉しそうに言いました。最後に来たのはリスさんです。「遅くなってごめんなさい。途中で木に止まっているカブトムシを見ていたら遅くなってしまったの。」と言ってリスさんはクマくとパンダさんに謝りました。クマくんが「大丈夫だよ。みんなでウサギさんの家に行こう。」と言って3匹はバス停に向かって歩き出しました。バス停の前にあるかえで公園でネズミさんとゾウくんがサッカーをして遊んでいました。ゾウくんが「おーい。クマくんたち、どこへ行くんだい。一緒にサッカーをしようよ。」とクマくんたちに話しかけました。クマくんは「今からウサギさんの家に行くんだ。また今度一緒に遊ぼうね。」と言いました。バス停で待っているとすぐに黄色のバスが来たので3匹は急いでバスに乗りました。ウサギさんの家は5つ目のバス停で降ります。バスの中で3匹はウサギさんに持ってきたプレゼントの話をしました。プレゼントのことはウサギさんは知りません。クマくんはひまわりのお花、リスさんは星の形をしたクッキー、パンダさんはリンゴを3つ持ってきました。内緒のプレゼントをいつウサギさんに渡そうかを話し合っているとあっという間にウサギさんの家があるバス停に着きました。そして3匹はバスを降りて少し歩くとウサギさんの家に着きました。家の前でウサギさんが待っていて、「いらっしゃい。みんなに食べてもらおうと思って今日はお母さんとケーキを作ったの。」と言うと、ケーキが大好きなパンダさんは「嬉しいな。楽しみだわ。」と大喜びしました。みんなはウサギさんの家の中に入ってトランプで遊ぶことにしました。しばらくするとウサギさんのお母さんが「さあ。おやつ時間よ。」とブドウとイチゴがたくさんあったフルーツケーキとオレンジジュースを持ってきてくれました。パンダさんは「きれいなケーキだね。」と言ってあまりのきれいさにびっくりしていました。そしておいしいケーキをみんなで食べてからウサギさんに持ってきたプレゼントを渡しました。ウサギさんは「こんなにたくさん素敵なプレゼントをありがとう。すごく嬉しいわ。」と喜びました。ウサギさんの喜ぶ顔を見てみんなも嬉しくなりました。そして窓から見る夕日はいつもよりきれいに見えました。

- ① 一番早く公園についた動物に○を青のクーピーでつけます。
- ② パンダさんがつけたりボンの色で四角の中を塗ります。
- ③ サッカーをしていた動物に緑のクーピーで○をつけます。
- ④ 3匹が降りたバス停はいくつ目ですか。その数だけ黒のクーピーで○をかきます。
- ⑤ リスさんが持ってきたクッキーの形に青のクーピーで○をつけます。
- ⑥ ウサギさんがお母さんと作ったケーキを見た時のパンダさんの表情に緑のクーピーで○をつけます。
- ⑦ ウサギさんがお母さんと一緒に作ったケーキにのっていた果物に黒のクーピーで○をつけます。
- ⑧ このお話と同じ季節の絵に青のクーピーで○をつけます。



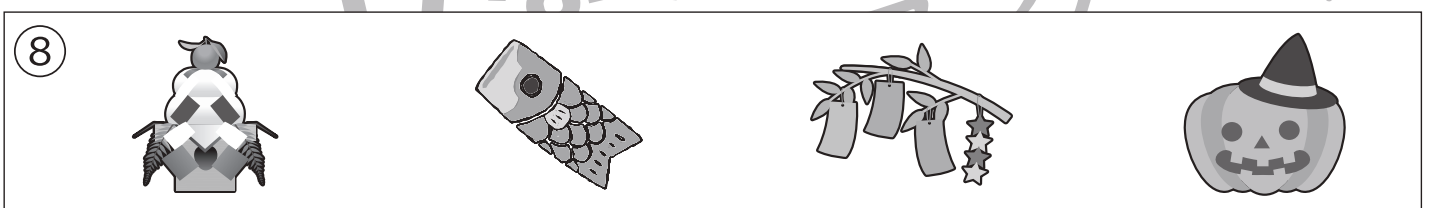

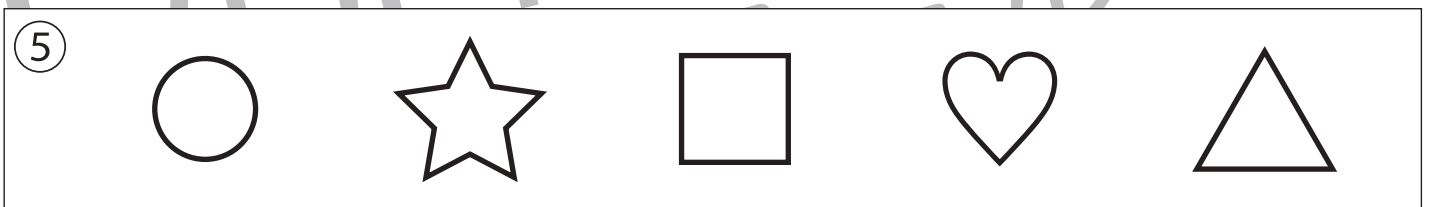



おうちで、やろう。

Study at home. 小学校受験の家庭学習教材

記憶：お話の記憶①

別紙【記憶 - お話の記憶①(本文)】を使用します。

問題用紙を裏返しにして、お家の方にお話の本文を読んでもらってから、①～⑧までの問題に取り組みましょう。



※1. このプリントは、しながわ・目黒こどもスクールのウェブサイトからダウンロードができます。無断複写・引用はご遠慮ください。
 ※2. このプリントを活用したオンライン授業のスケジュールは、しながわ・目黒こどもスクールのウェブサイトでご確認ください。



おうちで、よろう。

Study at home. 小学校受験の家庭学習教材

図形：移動④

左のお手本の○を右へ1マス移動させた場所を考えて右の四角のかきます。

※1. このプリントは、しながわ・目黒こどもスクールのウェブサイトでダウンロードができます。無断複写・引用はご遠慮ください。
 ※2. このプリントを活用したオンライン授業のスケジュールは、しながわ・目黒こどもスクールのウェブサイトでご確認ください。



おうちで、やろう。

Study at home. 小学校受験の家庭学習教材

図形：移動⑤

左のお手本の○を右へ1マス、上へ1マス移動させた場所を考えて右の四角のかきます。

※1. このプリントは、しながわ・目黒こどもスクールのウェブサイトでダウンロードができます。無断複写・引用はご遠慮ください。

※2. このプリントを活用したオンライン授業のスケジュールは、しながわ・目黒こどもスクールのウェブサイトでご確認ください。

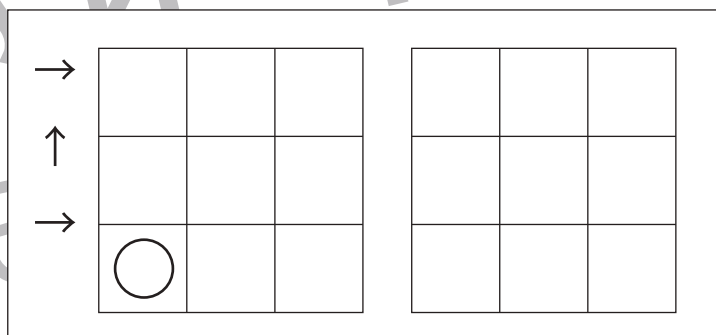
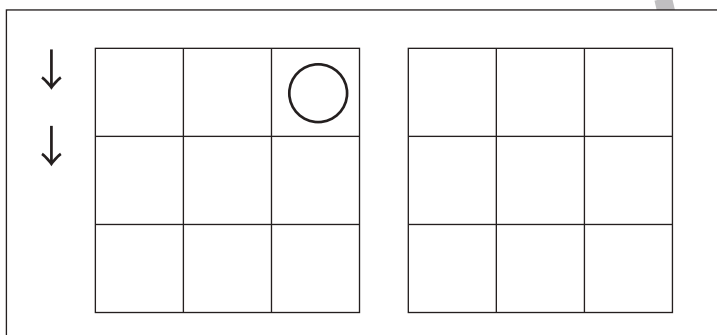
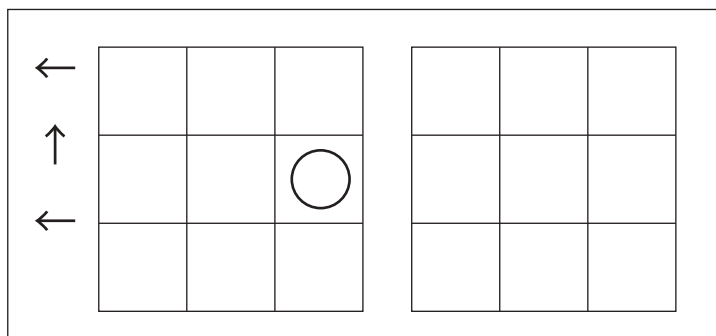
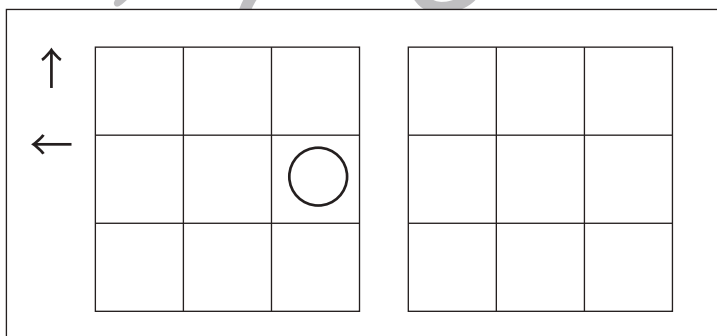
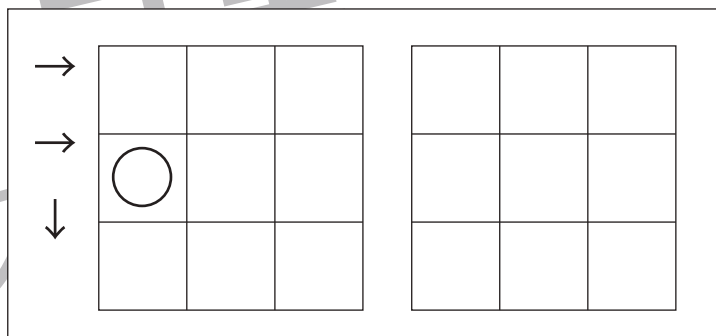
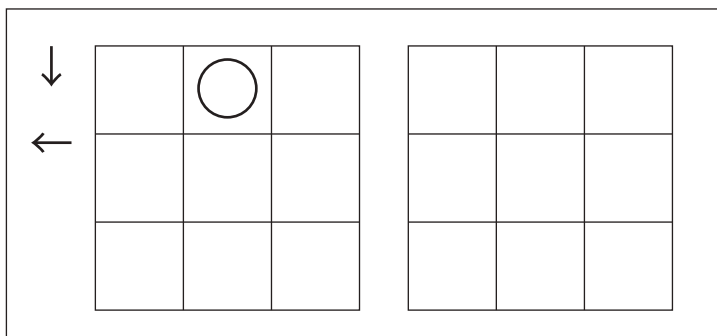
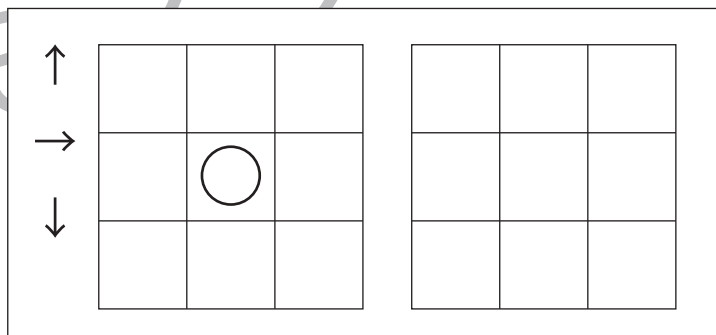

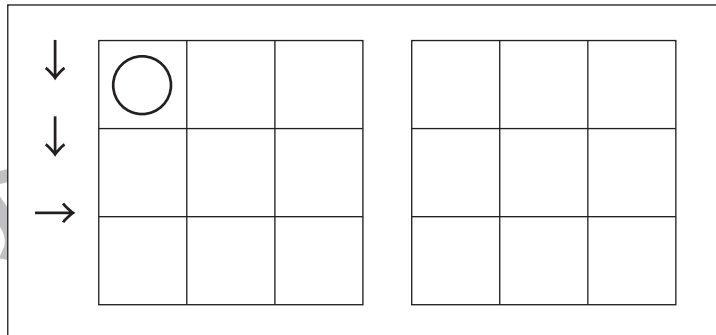
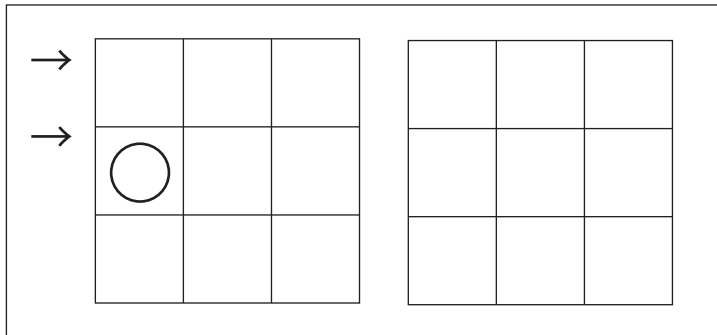


おうちで、やろう。

Study at home. 小学校受験の家庭学習教材

図形：移動⑥

左の四角がお手本です。このお手本の○を矢印の方向へ移動させた場所を考えて右のマスに○をかきます。
矢印は上から順番にみていきます。



※1. このプリントは、しながわ・目黒こどもスクールのウェブサイトでダウンロードができます。無断複写・引用はご遠慮ください。
※2. このプリントを活用したオンライン授業のスケジュールは、しながわ・目黒こどもスクールのウェブサイトでご確認ください。



おうちで、よろう。

Study at home. 小学校受験の家庭学習教材

図形：移動⑦

左の四角がお手本です。このお手本の○を矢印の方向へ移動させた場所を考えて右のマスに○をかきます。
矢印は上から順番にみていきます。

↑						
→	○					
		○				

↓	○					
→		○				
↑						

→	○	○				
↓						

←			○			
←						
→				○		

↓		○				
←		○				

↑						
↓	○			○		
↓						

←			○			
→		○				

↑						
←		○				
↓					○	

←			○			
↓			○			

↑						
↓				○		
↑	○					

※1. このプリントは、しながわ・目黒こどもスクールのウェブサイトでダウンロードができます。無断複写・引用はご遠慮ください。
※2. このプリントを活用したオンライン授業のスケジュールは、しながわ・目黒こどもスクールのウェブサイトでご確認ください。

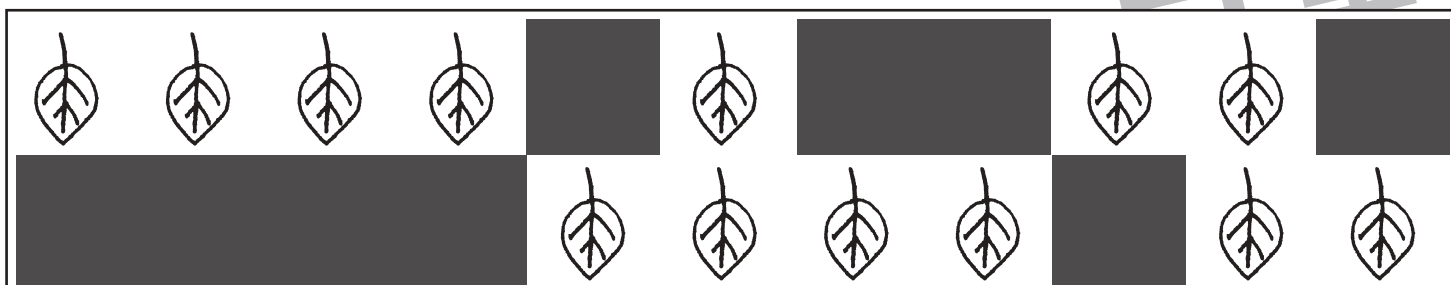





おうちで、やろう。

Study at home. 小学校受験の家庭学習教材

推理：隠れた絵③

左のスケッチブックに描かれている絵は、たてもよこも一列にきれいに並んでいます。ところが、黒い模様でいくつか隠れてしまいました。隠れてしまっている絵がいくつあるかを考えて、点線下の四角にその数だけ〇をつけましょう。



※1. このプリントは、しながわ・目黒こどもスクールのウェブサイトでダウンロードができます。無断複写・引用はご遠慮ください。
※2. このプリントを活用したオンライン授業のスケジュールは、しながわ・目黒こどもスクールのウェブサイトでご確認ください。



おうちで、やろう。

Study at home. 小学校受験の家庭学習教材

推理：隠れた絵④

左のスケッチブックに描かれている花や葉っぱは、たてもよこも一列にきれいに並んでいます。ところが、黒い模様で何枚か隠れてしまいました。隠れてしまっている花や葉っぱが何枚あるかを考えて、点線下の四角にその数だけ〇をつけましょう。

♡	♡	♡	♡	[黒い模様]				♡	♡	♡	♡	♡	♡
♡	♡	♡	♡	♡	♡	[黒い模様]			♡	♡	[黒い模様]		♡
♡	[黒い模様]		♡	♡	♡	♡	♡	♡	♡	♡	♡	♡	♡
♡	[黒い模様]			♡	♡	♡	♡	♡	♡	[黒い模様]		♡	

♡ →

☆	☆	☆	☆	☆	☆	☆	☆	☆	[黒い模様]			☆
☆	[黒い模様]		☆	☆	☆	☆	☆	☆	[黒い模様]		☆	☆
☆	☆	☆	[黒い模様]			☆	[黒い模様]		☆	☆	☆	
☆	☆	☆	☆	☆	[黒い模様]			☆	☆	☆	[黒い模様]	☆

☆ →

🌸	🌸	🌸	🌸	🌸	🌸	[黒い模様]		🌸	🌸	🌸	[黒い模様]	🌸	🌸
🌸	🌸	🌸	🌸	🌸	[黒い模様]				🌸	[黒い模様]	🌸		
🌸	[黒い模様]			[黒い模様]			🌸	🌸	🌸	🌸	🌸	🌸	
🌸	🌸	🌸	🌸	🌸	[黒い模様]				🌸	🌸	🌸		

🌸 →

🌱	🌱	🌱	🌱	[黒い模様]				🌱	🌱	🌱
🌱	[黒い模様]	🌱	🌱	🌱	[黒い模様]			🌱	🌱	[黒い模様]
🌱	🌱	🌱	[黒い模様]		🌱	[黒い模様]		🌱	🌱	🌱
🌱	[黒い模様]			🌱	[黒い模様]		🌱	[黒い模様]	🌱	

🌱 →

※1. このプリントは、しながわ・目黒こどもスクールのウェブサイトでダウンロードができます。無断複写・引用はご遠慮ください。
 ※2. このプリントを活用したオンライン授業のスケジュールは、しながわ・目黒こどもスクールのウェブサイトでご確認ください。



おうちで、やろう。

Study at home. 小学校受験の家庭学習教材

数量：対応①

左の四角の中は一人分です。真ん中の四角の中は何人のお友だちで分けることができますか。分けられるお友だちの数だけ右の四角に○をかきます。

※1. このプリントは、しながわ・目黒こどもスクールのウェブサイトでダウンロードができます。無断複写・引用はご遠慮ください。

※2. このプリントを活用したオンライン授業のスケジュールは、しながわ・目黒こどもスクールのウェブサイトでご確認ください。



おうちで、やろう。

Study at home. 小学校受験の家庭学習教材

数量：対応②

左の四角の中は一人分です。真ん中の四角の中は何人のお友だちで分けることができますか。分けられるお友だちの数だけ右の四角に○をかきます。

※1. このプリントは、しながわ・目黒こどもスクールのウェブサイトでダウンロードができます。無断複写・引用はご遠慮ください。

※2. このプリントを活用したオンライン授業のスケジュールは、しながわ・目黒こどもスクールのウェブサイトでご確認ください。



おうちで、やろう。

Study at home. 小学校受験の家庭学習教材

数量：対応③

左の四角の中は一人分です。真ん中の四角の中は何人のお友だちで分けることができますか。分けられるお友だちの数だけ右の四角に○をかきます。

※1. このプリントは、しながわ・目黒こどもスクールのウェブサイトでダウンロードができます。無断複写・引用はご遠慮ください。

※2. このプリントを活用したオンライン授業のスケジュールは、しながわ・目黒こどもスクールのウェブサイトでご確認ください。