



おうちで、やろう。

Study at home. 小学校受験の家庭学習教材

指示の聞き取り②

※別紙問題プリントを用意し、1問ずつとりくみましょう。

①動物たちがマスを移動していきます。それぞれの動物が動いたマスに印をつけます。

【ゾウ】右へ2マス移動しました。その場所に青のクーピーで○をかきます。

【ウサギ】上へ4マス移動します。その場所に青のクーピーで×をかきます。

【ライオン】左へ3マス、下へ2マス移動します。その場所に青のクーピーで△をかきます。

【クマ】下へ2マス、左へ5マス移動します。その場所に緑のクーピーで○をかきます。

【キリン】右へ1マス、下へ2マス、右へ3マス移動します。その場所に緑のクーピーで×をかきます。

②これからお話するマスを探します。その場所にそれぞれの印をつけます。

(1)一番上の段の右端のマスに黒のクーピーで○をかきます。

(2)一番下の左から3番目のマスに黒のクーピーで×をかきます。

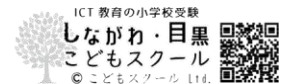
(3)上から3段目の左から4番目のマスに茶色のクーピーで○をかきます。

(4)下から2段目の右から5番目のマスに茶色のクーピーで×をかきます。

(5)上から4段目の左から6番のマスに橙色のクーピーで○をかきます。

※1. このプリントは、しながわ・目黒こどもスクールのウェブサイトダウンロードできます。無断複写・引用はご遠慮ください。

※2. このプリントを活用したオンライン授業のスケジュールは、しながわ・目黒こどもスクールのウェブサイトでご確認ください。





おうちで、やろう。

Study at home. 小学校受験の家庭学習教材

指示の聞き取り②

別紙【指示の聞き取り②(問題文)】を使用します。

①

②

※1. このプリントは、しながわ・目黒こどもスクールのウェブサイトからダウンロードできます。無断複写・引用はご遠慮ください。

※2. このプリントを活用したオンライン授業のスケジュールは、しながわ・目黒こどもスクールのウェブサイトでご確認ください。













おうちで、やろう。

Study at home. 小学校受験の家庭学習教材

言語：言葉①

それぞれの物を使うときの言葉が同じもの同士を見つけて点と点を結びます。

	●	●	
	●	●	
	●	●	
	●	●	
	●	●	

※1. このプリントは、しながわ・目黒こどもスクールのウェブサイトでダウンロードができます。無断複写・引用はご遠慮ください。

※2. このプリントを活用したオンライン授業のスケジュールは、しながわ・目黒こどもスクールのウェブサイトでご確認ください。











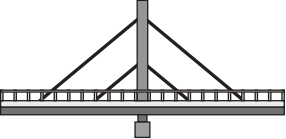



おうちで、やろう。

Study at home. 小学校受験の家庭学習教材

言語：言葉②

左と右の絵で同じ名前のもので点と点を結びます。

	●	●	
	●	●	
	●	●	
	●	●	
	●	●	

※1. このプリントは、しながわ・目黒こどもスクールのウェブサイトからダウンロードできます。無断複写・引用はご遠慮ください。

※2. このプリントを活用したオンライン授業のスケジュールは、しながわ・目黒こどもスクールのウェブサイトでご確認ください。



おうちで、やろう。

Study at home. 小学校受験の家庭学習教材

図形：鏡④

左の太い四角の中の形を鏡に映したときの見え方を考えます。正しいものを右の四角の中から選んで○をつけます。

<table border="1"> <tr><td>○</td><td>●</td></tr> <tr><td>●</td><td>○</td></tr> </table>	○	●	●	○	<table border="1"> <tr><td>●</td><td>●</td></tr> <tr><td>○</td><td>○</td></tr> </table>	●	●	○	○	<table border="1"> <tr><td>○</td><td>●</td></tr> <tr><td>●</td><td>○</td></tr> </table>	○	●	●	○	<table border="1"> <tr><td>○</td><td>○</td></tr> <tr><td>●</td><td>○</td></tr> </table>	○	○	●	○	<table border="1"> <tr><td>●</td><td>○</td></tr> <tr><td>○</td><td>●</td></tr> </table>	●	○	○	●
○	●																							
●	○																							
●	●																							
○	○																							
○	●																							
●	○																							
○	○																							
●	○																							
●	○																							
○	●																							

<table border="1"> <tr><td>○</td><td>□</td></tr> <tr><td>○</td><td>●</td></tr> </table>	○	□	○	●	<table border="1"> <tr><td>○</td><td>○</td></tr> <tr><td>●</td><td>□</td></tr> </table>	○	○	●	□	<table border="1"> <tr><td>□</td><td>○</td></tr> <tr><td>●</td><td>○</td></tr> </table>	□	○	●	○	<table border="1"> <tr><td>○</td><td>□</td></tr> <tr><td>○</td><td>●</td></tr> </table>	○	□	○	●	<table border="1"> <tr><td>□</td><td>○</td></tr> <tr><td>○</td><td>●</td></tr> </table>	□	○	○	●
○	□																							
○	●																							
○	○																							
●	□																							
□	○																							
●	○																							
○	□																							
○	●																							
□	○																							
○	●																							

<table border="1"> <tr><td>□</td><td>●</td></tr> <tr><td>△</td><td>○</td></tr> </table>	□	●	△	○	<table border="1"> <tr><td>●</td><td>□</td></tr> <tr><td>○</td><td>△</td></tr> </table>	●	□	○	△	<table border="1"> <tr><td>△</td><td>□</td></tr> <tr><td>○</td><td>●</td></tr> </table>	△	□	○	●	<table border="1"> <tr><td>●</td><td>□</td></tr> <tr><td>△</td><td>○</td></tr> </table>	●	□	△	○	<table border="1"> <tr><td>○</td><td>□</td></tr> <tr><td>●</td><td>△</td></tr> </table>	○	□	●	△
□	●																							
△	○																							
●	□																							
○	△																							
△	□																							
○	●																							
●	□																							
△	○																							
○	□																							
●	△																							

<table border="1"> <tr><td>△</td><td>○</td></tr> <tr><td>●</td><td>○</td></tr> </table>	△	○	●	○	<table border="1"> <tr><td>●</td><td>△</td></tr> <tr><td>○</td><td>○</td></tr> </table>	●	△	○	○	<table border="1"> <tr><td>○</td><td>●</td></tr> <tr><td>○</td><td>▽</td></tr> </table>	○	●	○	▽	<table border="1"> <tr><td>○</td><td>△</td></tr> <tr><td>●</td><td>○</td></tr> </table>	○	△	●	○	<table border="1"> <tr><td>○</td><td>△</td></tr> <tr><td>○</td><td>●</td></tr> </table>	○	△	○	●
△	○																							
●	○																							
●	△																							
○	○																							
○	●																							
○	▽																							
○	△																							
●	○																							
○	△																							
○	●																							

<table border="1"> <tr><td>○</td><td>△</td></tr> <tr><td>△</td><td>●</td></tr> </table>	○	△	△	●	<table border="1"> <tr><td>△</td><td>○</td></tr> <tr><td>●</td><td>△</td></tr> </table>	△	○	●	△	<table border="1"> <tr><td>△</td><td>○</td></tr> <tr><td>●</td><td>△</td></tr> </table>	△	○	●	△	<table border="1"> <tr><td>▽</td><td>○</td></tr> <tr><td>●</td><td>△</td></tr> </table>	▽	○	●	△	<table border="1"> <tr><td>△</td><td>○</td></tr> <tr><td>●</td><td>△</td></tr> </table>	△	○	●	△
○	△																							
△	●																							
△	○																							
●	△																							
△	○																							
●	△																							
▽	○																							
●	△																							
△	○																							
●	△																							

※1. このプリントは、しながわ・目黒こどもスクールのウェブサイトでダウンロードができます。無断複写・引用はご遠慮ください。
 ※2. このプリントを活用したオンライン授業のスケジュールは、しながわ・目黒こどもスクールのウェブサイトでご確認ください。



おうちで、やろう。

Study at home. 小学校受験の家庭学習教材

図形：鏡⑤

左の太い四角の中の形を鏡に映したときの見え方を考えます。正しいものを右の四角の中から選んで○をつけます。

--	--	--	--	--

--	--	--	--	--

--	--	--	--	--

--	--	--	--	--

--	--	--	--	--

※1. このプリントは、しながわ・目黒こどもスクールのウェブサイトでダウンロードができます。無断複写・引用はご遠慮ください。

※2. このプリントを活用したオンライン授業のスケジュールは、しながわ・目黒こどもスクールのウェブサイトでご確認ください。



おうちで、やろう。

Study at home. 小学校受験の家庭学習教材

図形：鏡⑥

左の太い四角の中の形を鏡に映したときの見え方を考えます。正しいものを右の四角の中から選んで○をつけます。

--	--	--	--	--	--	--

--	--	--	--	--	--	--

--	--	--	--	--	--	--

--	--	--	--	--	--	--

--	--	--	--	--	--	--

※1. このプリントは、しながわ・目黒こどもスクールのウェブサイトでダウンロードができます。無断複写・引用はご遠慮ください。
 ※2. このプリントを活用したオンライン授業のスケジュールは、しながわ・目黒こどもスクールのウェブサイトでご確認ください。












おうちで、やろう。

Study at home. 小学校受験の家庭学習教材

推理：重さの置き換え①

天秤に果物をのせて重さ比べをしました。上の太い四角の中が約束です。この約束のとき、それぞれの四角の中の天秤で下がるのはどちらですか。下がる方に○をつけます。また、天秤が釣り合う時は両方に○をつけます。



※1. このプリントは、しながわ・目黒こどもスクールのウェブサイトでダウンロードができます。無断複写・引用はご遠慮ください。

※2. このプリントを活用したオンライン授業のスケジュールは、しながわ・目黒こどもスクールのウェブサイトでご確認ください。


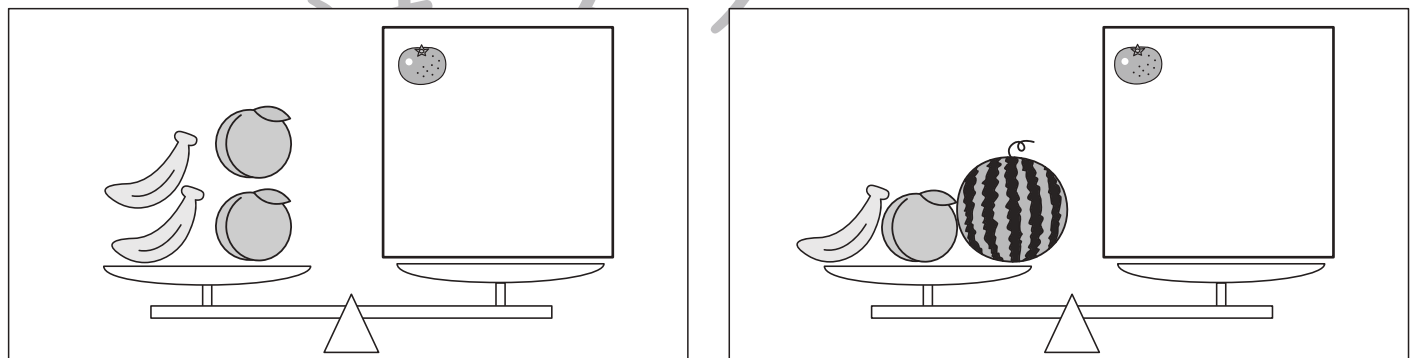




おうちで、やろう。

Study at home. 小学校受験の家庭学習教材

推理：重さの置き換え②

天秤に果物をのせて重さ比べをしました。上の太い四角の中が約束です。この約束のとき、それぞれの四角の中の天秤の右側にみかんをいくつのせれば天秤が釣り合いますか。その数だけ四角の中に○をかきます。



※1. このプリントは、しながわ・目黒こどもスクールのウェブサイトでダウンロードができます。無断複写・引用はご遠慮ください。

※2. このプリントを活用したオンライン授業のスケジュールは、しながわ・目黒こどもスクールのウェブサイトでご確認ください。


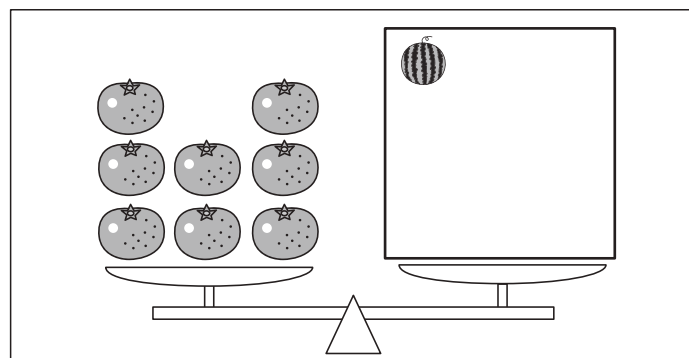
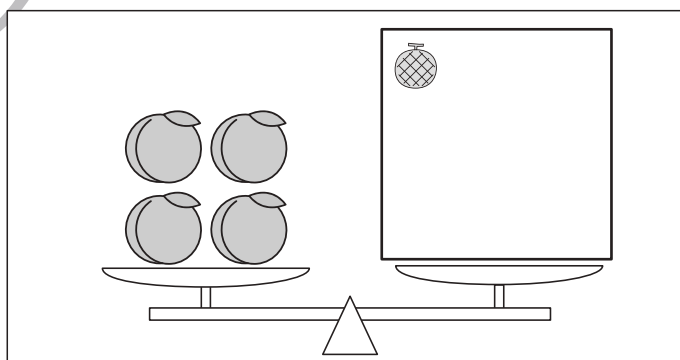
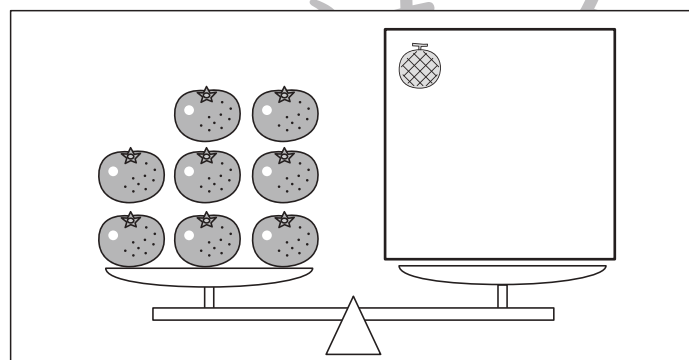
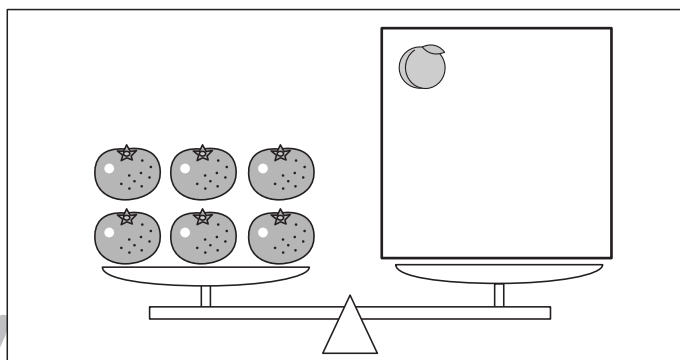
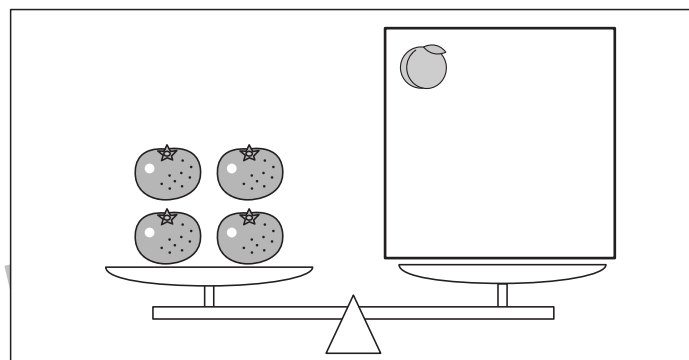



おうちで、やろう。

Study at home. 小学校受験の家庭学習教材

推理：重さの置き換え③

天秤に果物をのせて重さ比べをしました。上の太い四角の中が約束です。この約束のとき、それぞれの四角の中の天秤の右側の四角にある果物をいくつのせれば天秤が釣り合いますか。その数だけ四角の中に○をかきます。



※1. このプリントは、しながわ・目黒こどもスクールのウェブサイトでダウンロードができます。無断複写・引用はご遠慮ください。

※2. このプリントを活用したオンライン授業のスケジュールは、しながわ・目黒こどもスクールのウェブサイトでご確認ください。