



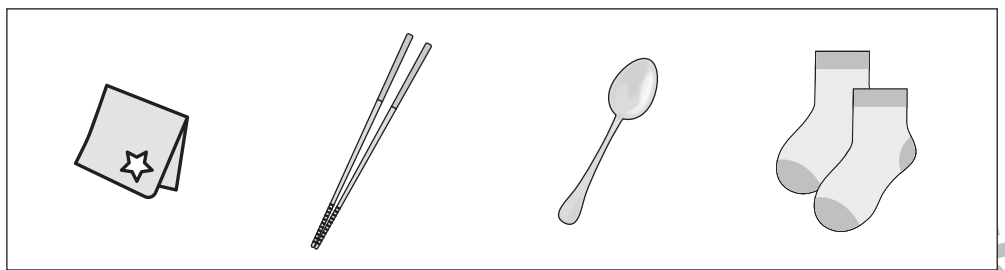
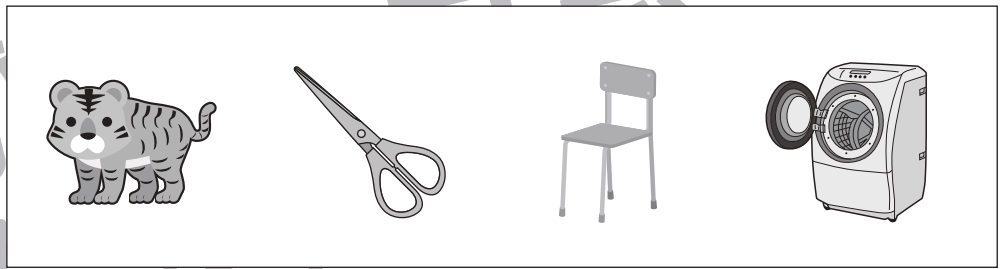



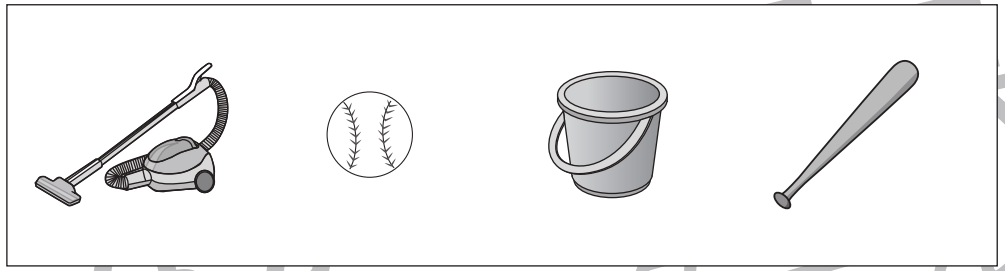



おうちで、やろう。

Study at home. 小学校受験の家庭学習教材

言語：数え方①

左の四角の中と同じ数え方をするものを右の中から見つけて○をつけます。



※1. このプリントは、しながわ・目黒こどもスクールのウェブサイトでダウンロードができます。無断複写・引用はご遠慮ください。
※2. このプリントを活用したオンライン授業のスケジュールは、しながわ・目黒こどもスクールのウェブサイトでご確認ください。



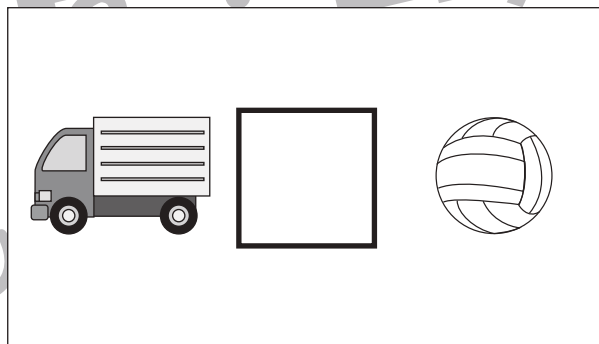
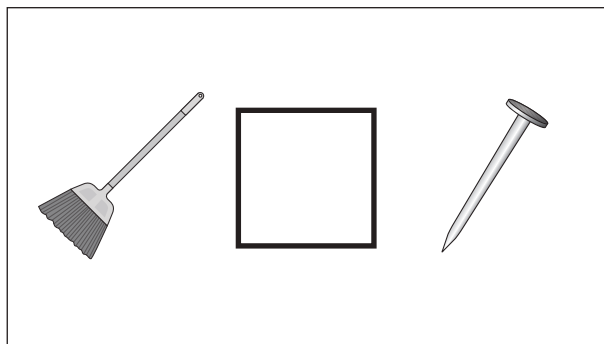







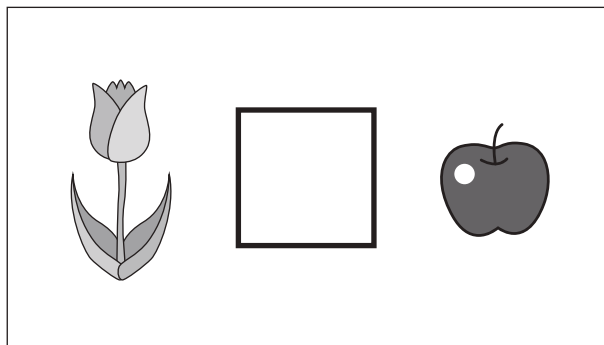


おうちで、やろう。

Study at home. 小学校受験の家庭学習教材

言語：数え方②

四角の中の2つの絵の数え方を考えます。数え方が同じときは○、数え方が違うときは×を真ん中の四角の中にかきます。



※1. このプリントは、しながわ・目黒こどもスクールのウェブサイトからダウンロードできます。無断複写・引用はご遠慮ください。

※2. このプリントを活用したオンライン授業のスケジュールは、しながわ・目黒こどもスクールのウェブサイトでご確認ください。





おうちで、やろう。

Study at home. 小学校受験の家庭学習教材

処理：模写①

左のお手本の丸を右の四角の同じ場所にかきます。ただし、白丸○は黒丸●に、黒丸●は白丸○に色をかえてかきます。

○	●	○
	●	
	○	

○	●	○
○		●
●	○	

○		
	●	○
●	○	

○		●
○	●	○
●		○

○		○
●		●
●	○	

	●	○
●	○	●
	●	○

		○
●	●	
●	○	○

○		○
	●	●
●	○	

	●	○
		●
●	○	○

●	●	○
		●
○	○	

※1. このプリントは、しながわ・目黒こどもスクールのウェブサイトでダウンロードができます。無断複写・引用はご遠慮ください。
※2. このプリントを活用したオンライン授業のスケジュールは、しながわ・目黒こどもスクールのウェブサイトでご確認ください。



おうちで、やろう。

Study at home. 小学校受験の家庭学習教材

処理：模写②

左のお手本の丸を右の四角の同じ場所にかきます。ただし、白丸○は黒丸●に、黒丸●は白丸○に色をかえてかきます。

●			○
		●	●
	○		
●		○	○

	○		
●		○	●
	○	●	○
●		○	

	○		
●		●	○
○			●
●		○	

	○		○
●		○	
○	●		●
●		○	

		○	
●		●	○
○			●
●		○	

●		○	●
	●	○	○
○		●	
	●	○	●

○		○	
●	●		○
○		○	●
●		●	

	●		●
●	○	●	○
○		○	●
●		●	

○		○	
●	○	●	○
○			●
	●	○	

○	●	○	
●	○	●	
●		○	●
	○	●	○

※1. このプリントは、しながわ・目黒こどもスクールのウェブサイトでダウンロードができます。無断複写・引用はご遠慮ください。
 ※2. このプリントを活用したオンライン授業のスケジュールは、しながわ・目黒こどもスクールのウェブサイトでご確認ください。



おうちで、よろう。

Study at home. 小学校受験の家庭学習教材

推理：広さ①

左と右の四角の中で灰色の部分が広いのはどちらですか。広い方に○をつけます。

※1. このプリントは、しながわ・目黒こどもスクールのウェブサイトからダウンロードできます。無断複写・引用はご遠慮ください。
 ※2. このプリントを活用したオンライン授業のスケジュールは、しながわ・目黒こどもスクールのウェブサイトでご確認ください。



おうちで、やろう。

Study at home. 小学校受験の家庭学習教材

推理：広さ②

左と右の四角の中で灰色の部分が広いのはどちらですか。広い方に○をつけます。

※1. このプリントは、しながわ・目黒こどもスクールのウェブサイトでダウンロードができます。無断複写・引用はご遠慮ください。
 ※2. このプリントを活用したオンライン授業のスケジュールは、しながわ・目黒こどもスクールのウェブサイトでご確認ください。




おうちで、やろう。


Study at home. 小学校受験の家庭学習教材

数量：加減①

①ブタさんはキャンディーを下の四角の中の数だけ持っていました。お母さんのお手伝いをしたので、ご褒美に3つキャンディーをもらいました。ブタさんが持っているキャンディーは全部でいくつですか。その数だけ下の太い四角に〇をかきます。




②イヌくんはタイ焼きを下の四角の中の数だけ持っています。おつかいに行ってタイ焼きを5つ買ってきました。イヌくんが持っているタイ焼きは全部でいくつですか。その数だけ下の太い四角に〇をかきます。



③ネコさんはおにぎりを下の四角の中の数だけ作りました。ネコさんの家族はたくさんいるので、あと6つおにぎりをつくりました。ネコさんが作ったおにぎりは全部でいくつですか。その数だけ下の太い四角の中に〇をかきます。



④ウサギさんはクレープを下の四角の中の数だけ買ってきました。ウサギさんのお姉さんもクレープを2つ買ってきました。さらにウサギさんのお兄さんもクレープを1つ買ってきました。みんなが買ってきたクレープを合わせると全部でいくつですか。その数だけ下の太い四角に〇をかきます。



⑤リスさんは飴を下の四角の中の数だけ持っています。散歩をしているとカバのおじさんが飴を3つくれました。さらに散歩をしているとソウのおばさんも飴を3つくれました。リスさんが持っている飴は全部でいくつですか。その数だけ下の太い四角に〇をかきます。



※1. このプリントは、しながわ・目黒こどもスクールのウェブサイトでダウンロードができます。無断複写・引用はご遠慮ください。

※2. このプリントを活用したオンライン授業のスケジュールは、しながわ・目黒こどもスクールのウェブサイトでご確認ください。



おうちで、やろう。

Study at home. 小学校受験の家庭学習教材

数量：加減②

①たかこさんはハンバーガーを下の四角の中の数だけ買ってきました。そのうち2つ食べてしまいました。残ったハンバーガーをいくつですか。その数だけ下の太い四角に○をかきます。

Illustration of a girl and three hamburgers.

②けんいちくんの家の食卓にはピザが下の四角の中の数だけあります。そのうちけんいちくんが3枚食べてしまいました。残ったピザは何枚ですか。その数だけ下の太い四角の中に○をかきます。

Illustration of a boy and five slices of pizza.

③たまみさんはおつかいでドーナツを下の四角の中の数だけ買ってきました。そのうちたまみさんが2つ、お姉さんが3つ食べました。残ったドーナツはいくつですか。その数だけ下の太い四角の中に○をかきます。

Illustration of a girl and seven donuts.

④あきらくんはケーキを下の四角の中の数だけ作りました。そのうちお友だちのたろうくんに4つ、つばさくんに2つプレゼントしました。残ったケーキはいくつですか。その数だけ下の太い四角の中に○をかきます。

Illustration of a boy and eight cupcakes.

⑤ゆきさんはクッキーを下の四角の中の数だけ持っています。そのうちお友だちのみきさんとかずみさんに3枚ずつあげました。残ったクッキーはいくつですか。その数だけ下の太い四角の中に○をかきます。

Illustration of a girl and ten cookies.

※1. このプリントは、しながわ・目黒こどもスクールのウェブサイトダウンロードができます。無断複写・引用はご遠慮ください。

※2. このプリントを活用したオンライン授業のスケジュールは、しながわ・目黒こどもスクールのウェブサイトでご確認ください。



おうちで、やろう。

Study at home. 小学校受験の家庭学習教材

数量：加減③

※それぞれの設問に答えます。答えは下の太い四角の中にかき、点線の四角は考えるときに自由にかいて使いましょう。

①ウサギさんはリンゴを3つ持っていました。おばあちゃんがウサギさんの家にやってきて、お土産にリンゴを4つくれました。ウサギさんが持っているリンゴは全部でいくつですか。その数だけ下の太い四角の中に○をかきます。

②八百屋さんにキュウリが8本売っていました。クマくんがやってきて、2本買いました。さらにカバくんがやってきて3本買いました。八百屋さんに残っているキュウリは何本ですか。その数だけ下の太い四角の中に○をかきます。

③庭の花壇にチューリップが5本咲いています。次の日になると2本枯れていました。でも新しく3本花を咲かせています。庭に咲いているチューリップは全部で何本ですか。その数だけ下の太い四角の中に○をかきます。

④今日はこどもの日なのでけんたくんの家ではみんなで柏餅を食べます。お母さんが10個の柏餅を作ってくれたので、けんたくんは2つ、お兄さんは3つ、お父さんは1つ食べました。お母さんは食べませんでした。みんなが食べた後、残った柏餅の数だけ下の太い四角の中に○をかきます。

⑤バスに子どもたちが8人乗っています。バス停に着いたので3人がバスから降りました。そしてバス停で待っていた2人の子どもがバスに乗りました。今、バスに乗っている子どもは何人ですか。その数だけ下の太い四角の中に○をかきます。

※1. このプリントは、しながわ・目黒こどもスクールのウェブサイトでダウンロードができます。無断複写・引用はご遠慮ください。

※2. このプリントを活用したオンライン授業のスケジュールは、しながわ・目黒こどもスクールのウェブサイトでご確認ください。

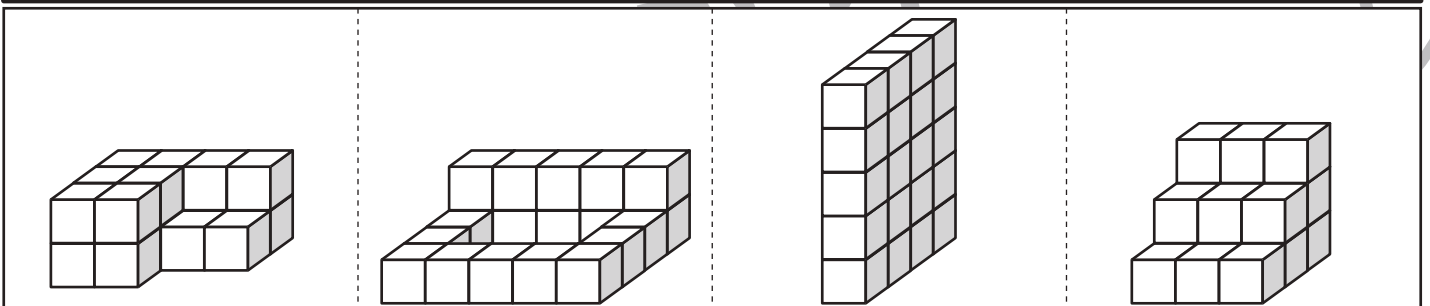
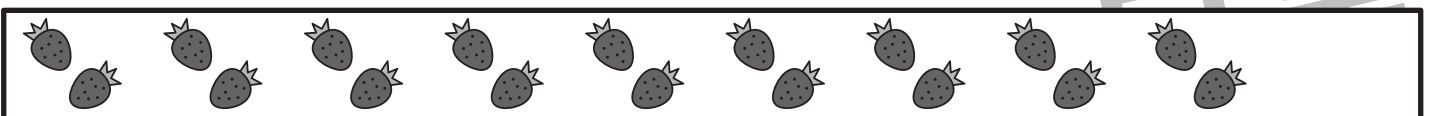
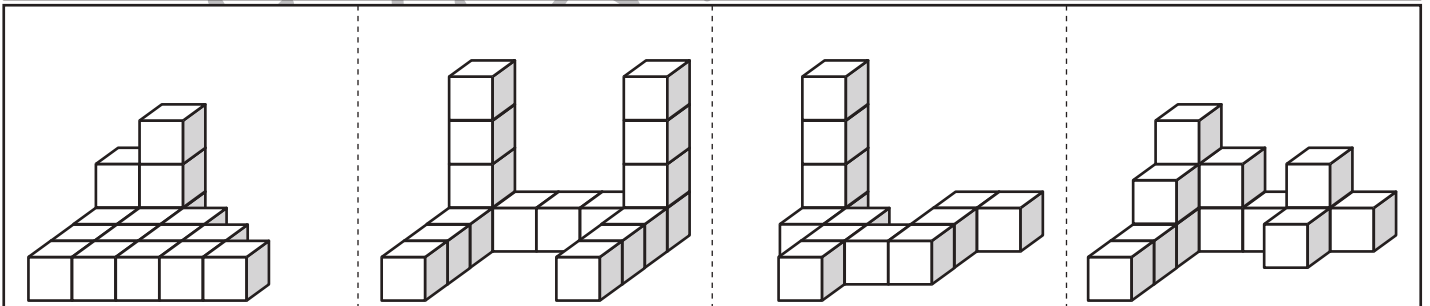
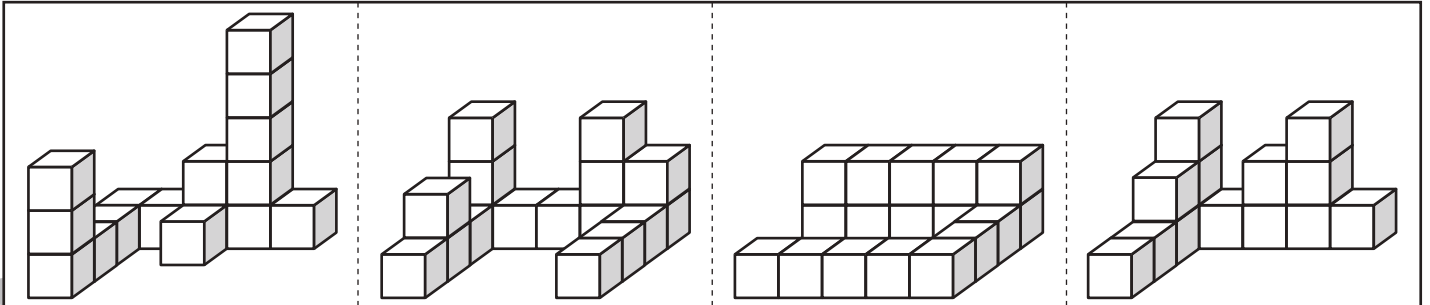
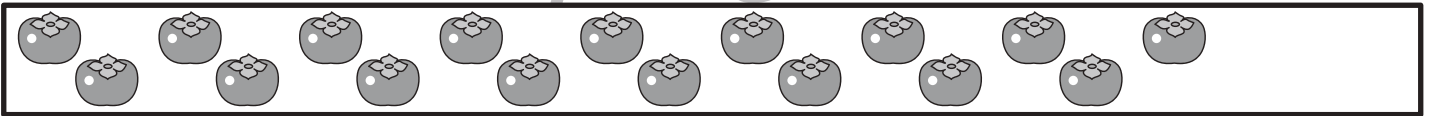
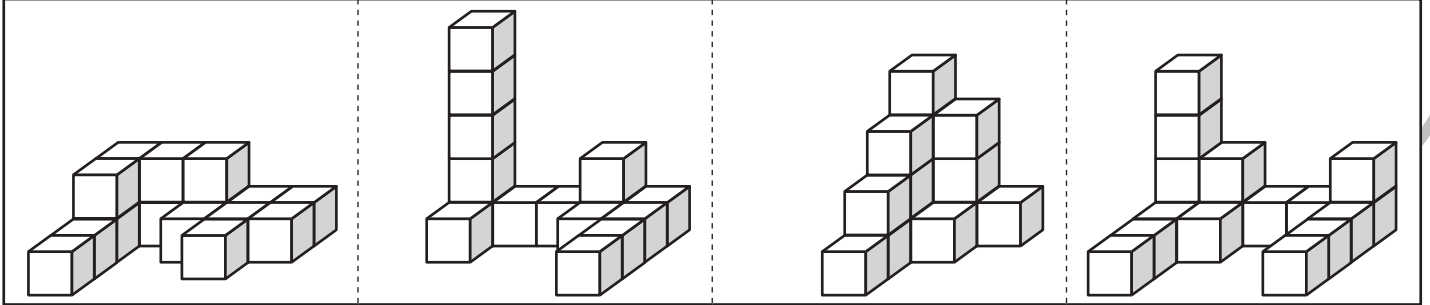
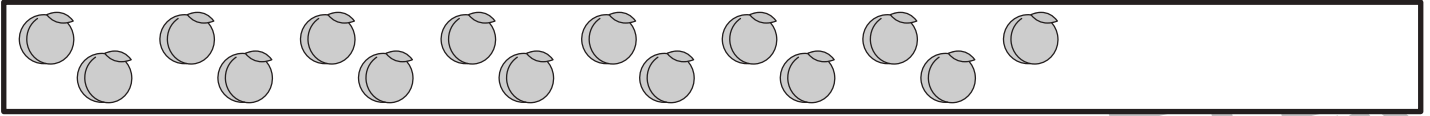


おうちで、やろう。

Study at home. 小学校受験の家庭学習教材

数量：同数⑦

上の四角の中の果物の数がお手本です。下の4つの四角にある積み木のうち、お手本の果物の数と同じ数の積み木はどれでしょうか。正しい数の積み木がある四角に○をつけます。答えは2つあります。注意深く探しましょう。



※1. このプリントは、しながわ・目黒こどもスクールのウェブサイトからダウンロードできます。無断複写・引用はご遠慮ください。

※2. このプリントを活用したオンライン授業のスケジュールは、しながわ・目黒こどもスクールのウェブサイトでご確認ください。

