



おうちで、やろう。

Study at home. 小学校受験の家庭学習教材

記憶：お話の記憶③

※別紙問題プリントは伏せてお話を読みます。手を膝の上に置いて、静かに聞きましょう。

※5月4日(月)のオンライン授業では、実施中にこのお話の録音音声聞いて問題に取り組みます。

明日は学校で絵の発表会をします。今日の授業で絵を描いたので、どうしてその絵を描いたのかを一人ずつ発表します。ウサギさんはみんなの前で発表するのがとても嫌でした。発表の時はいつも緊張してしまってお話ができなくなってしまうのです。今日は学校の帰り道にたくさんのコスモスが咲いている公園を通りました。するとゾウくんがブランコに青いリュックを置いてリュックに向かって発表の練習をしていました。練習の様子を見たウサギさんはビックリして「ゾウくんおはよう。ゾウくんはクラスで一番発表が上手なのにどうして練習していたの。」と聞きました。ゾウくんは「実は僕はみんなの前で発表するのが苦手で緊張してしまうんだ。だからいつもここで練習しているんだよ。」と言いました。それを聞いたウサギさんは「そうだったの。私もここで練習してもいい。」と言うと、ゾウくんは「もちろんだよ。一緒に練習しよう。」と言ってくれました。2匹が練習していると、赤い帽子をかぶったクマくんとピンク色のワンピースを着たリスさんと緑のリュックを持ったパンダさんがやってきました。リスさんが「ウサギさん、ゾウくん、もしかして明日の発表の練習してるの。私たちも一緒に練習してもいい。」と言ったので、ゾウくんが「いいよ。みんなでお砂場で練習しよう。」と言いました。そしてみんなで絵の見せ合いっこをすることにしました。今回の絵のテーマは自分の得意な事をしている絵でした。ウサギさんは歌を歌っている絵。ゾウくんはダンスをしている絵。クマくんはサッカーをしている絵。リスさんはクッキーを焼いている絵。パンダさんは本を読んでいる絵。みんなとても上手に描けています。ゾウくんが「せっかく人数が多くなったから本番みたいに一人ずつ発表する練習をするのはどう。」と提案しました。みんな「いいね。」と言って発表会と同じように練習することにしました。ウサギさんはみんなの前だと緊張してしまってお話ができなくなってしまい泣いてしまいました。するとクマくんが「頑張れ。」そしてリスさんが「大丈夫だよ。」と応援してくれました。すると、泣いていたウサギさんは涙を拭いて大きな声で発表することができました。みんなはウサギさんのところへ行き「上手にできたね。」「明日の発表はばっちりだね。」「こんな大きな声で発表したウサギさんは初めて見るよ。」とウサギさんに言いました。ウサギさんは「みんなのおかげで初めてこんなに大きな声で発表できたよ。ありがとう。」とお礼を言いました。リスさんが「練習していたらお腹すいちゃったね。そうだ、おやつを持ってきたの。みんなで食べよう。」と言って、みんなにメロン味の飴をあげました。飴をなめているみんなの顔はとても嬉しそうです。そしてウサギさんは「苦手なことでも練習をしていけば絶対にできるようになるんだな。今日頑張った本当に良かった。」と思いました。

- ① ゾウくんが発表の練習をしていた遊具に緑のクーピーで○をつけます。
- ② ゾウくんとウサギさんが発表の練習しているとき、後から公園にやってきた動物は何匹ですか。
その数だけ黒のクーピーで○をかきます。
- ③ パンダさんのリュックの色で四角の中を塗ります。
- ④ クッキーを焼いている絵を描いた動物に青のクーピーで○をつけます。
- ⑤ ウサギさんは発表するとき、はじめはどんな顔をしていたと思いますか。その顔に青のクーピーで○をつけます。
- ⑥ 発表の時にウサギさんを応援してくれた動物にオレンジ色のクーピーで○をつけます。
- ⑦ リスさんがくれた飴の味に青のクーピーで○をつけます。
- ⑧ このお話と同じ季節の絵に緑のクーピーで○をつけます。

※1. このプリントは、しながわ・目黒こどもスクールのウェブサイトからダウンロードができます。無断複写・引用はご遠慮ください。

※2. このプリントを活用したオンライン授業のスケジュールは、しながわ・目黒こどもスクールのウェブサイトでご確認ください。



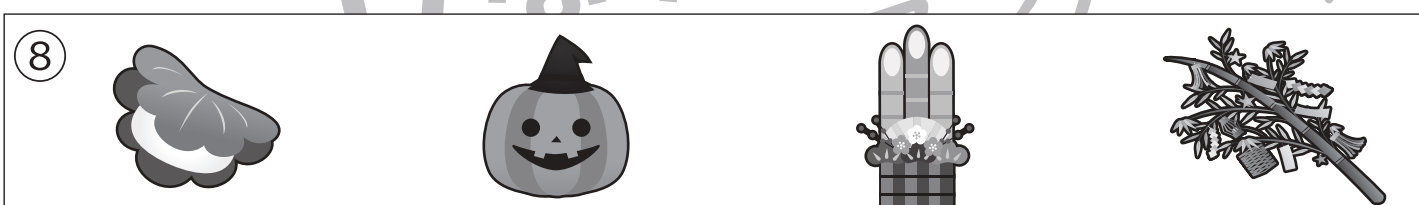





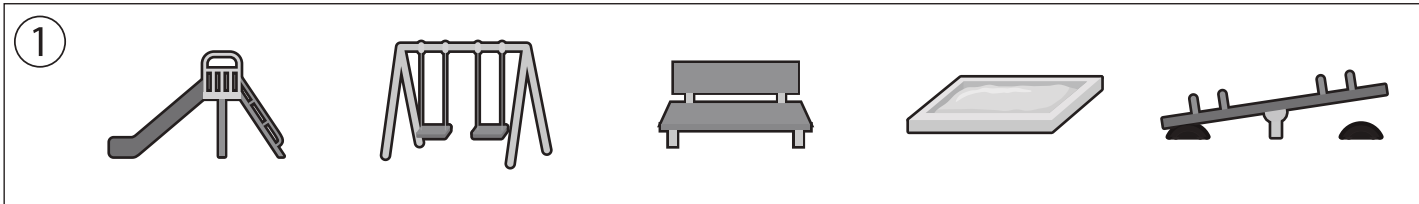
おうちで、やろう。

Study at home. 小学校受験の家庭学習教材

記憶：お話の記憶③

別紙【記憶 - お話の記憶③(本文)】を使用します。

問題用紙を裏返しにして、お家の方にお話の本文を読んでもらってから、①～⑧までの問題に取り組みましょう。



※1. このプリントは、しながわ・目黒こどもスクールのウェブサイトからダウンロードできます。無断複写・引用はご遠慮ください。

※2. このプリントを活用したオンライン授業のスケジュールは、しながわ・目黒こどもスクールのウェブサイトでご確認ください。



おうちで、やろう。

Study at home. 小学校受験の家庭学習教材

図形：構成⑥

左の太枠の中にある3つのパズルピースをつかって出来る形を右から選びます。パズルピースは重ねたりはしませんが、向きが変わっているものもあります。答えは1つしかない問題もあれば、2つある問題もあります。よく考えて出来る形に○をつけましょう。

--	--	--	--	--	--

--	--	--	--	--

--	--	--	--	--

--	--	--	--	--

--	--	--	--	--

--	--	--	--	--

※1. このプリントは、しながわ・目黒こどもスクールのウェブサイトからダウンロードできます。無断複写・引用はご遠慮ください。
 ※2. このプリントを活用したオンライン授業のスケジュールは、しながわ・目黒こどもスクールのウェブサイトでご確認ください。



おうちで、やろう。

Study at home. 小学校受験の家庭学習教材

図形：構成⑦

左の太枠の中にある3つのパズルピースをつかって出来る形を右から選びます。パズルピースは重ねたりはしませんが、向きが変わっているものもあります。答えは1つしかない問題もあれば、2つある問題もあります。よく考えて出来る形に○をつけましょう。

※1. このプリントは、しながわ・目黒こどもスクールのウェブサイトでダウンロードができます。無断複写・引用はご遠慮ください。

※2. このプリントを活用したオンライン授業のスケジュールは、しながわ・目黒こどもスクールのウェブサイトでご確認ください。

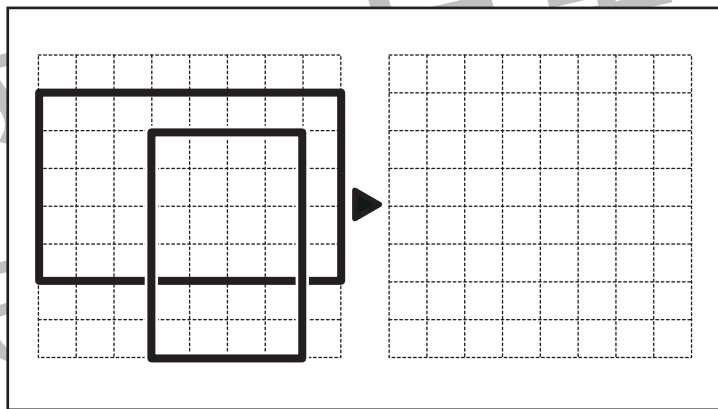
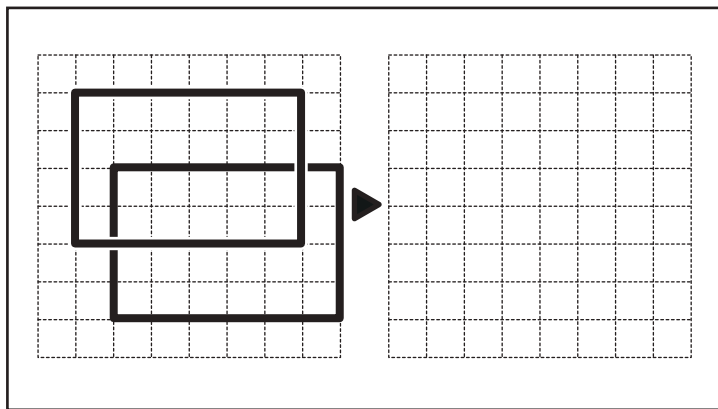
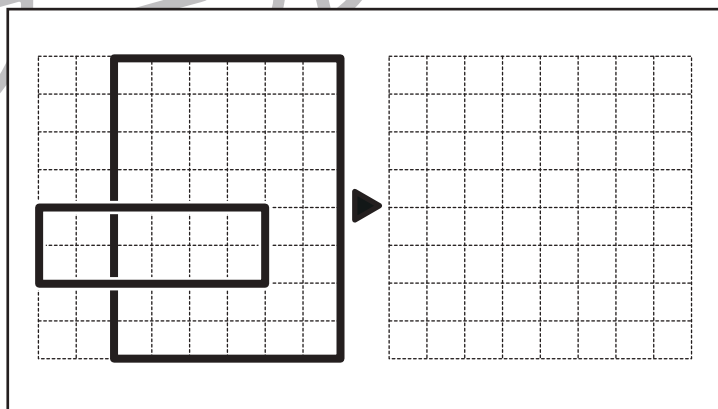
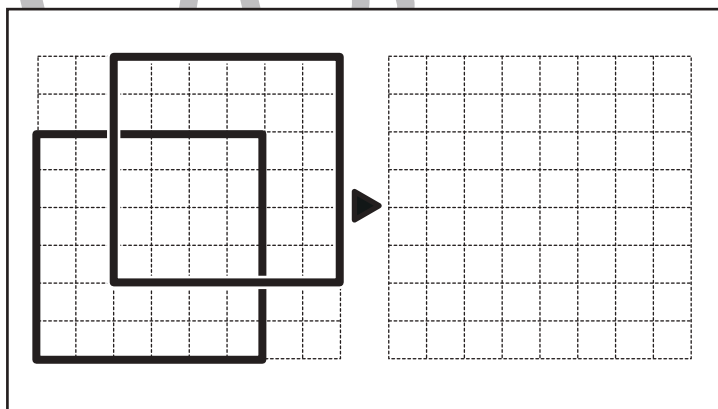
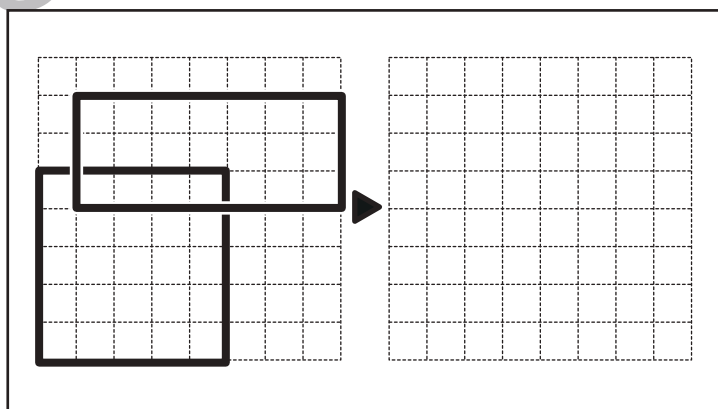
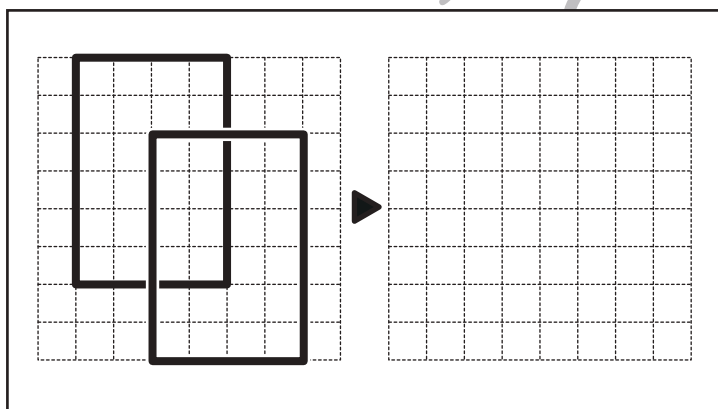
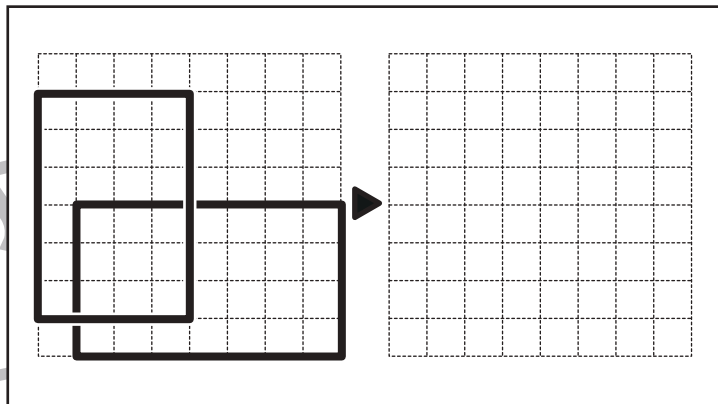
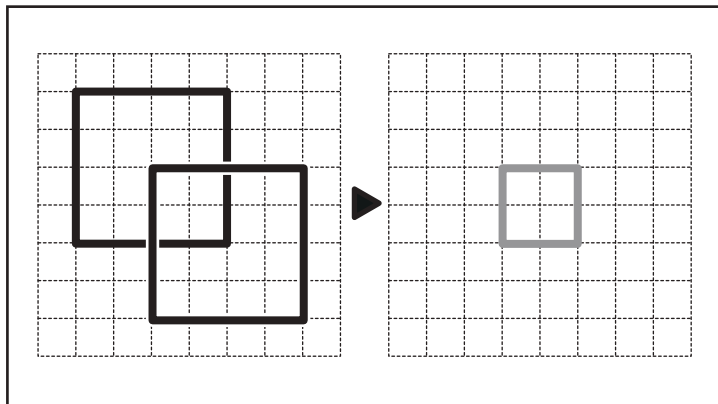


おうちで、やろう。

Study at home. 小学校受験の家庭学習教材

図形：模写①

左のお手本に書かれた記号のうち重なっているところだけを、右マスに描き写しましょう。



※1. このプリントは、しながわ・目黒こどもスクールのウェブサイトでダウンロードができます。無断複写・引用はご遠慮ください。
※2. このプリントを活用したオンライン授業のスケジュールは、しながわ・目黒こどもスクールのウェブサイトでご確認ください。

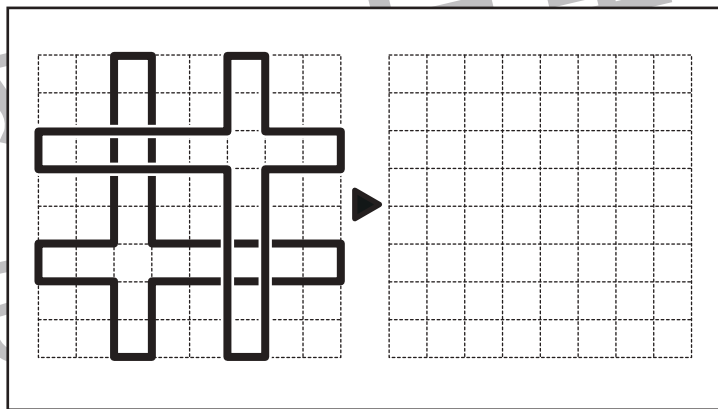
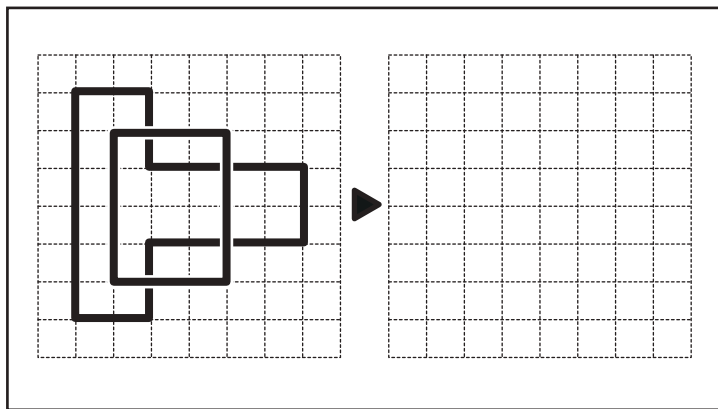
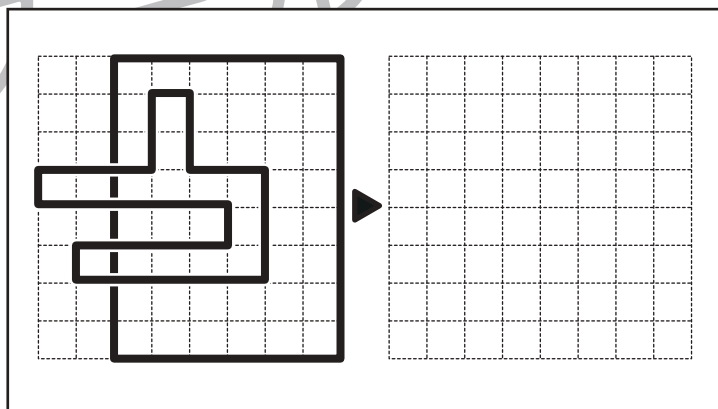
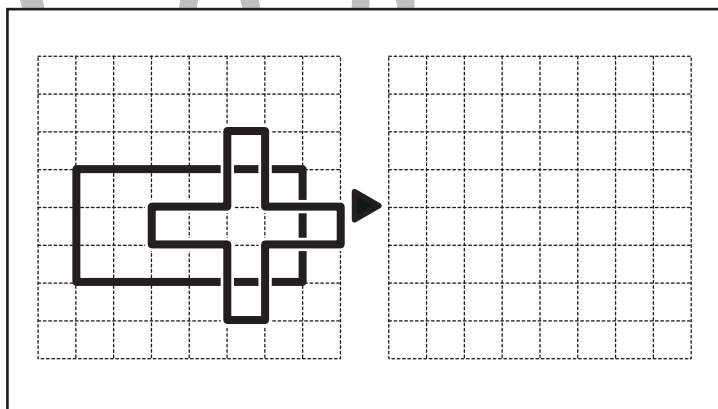
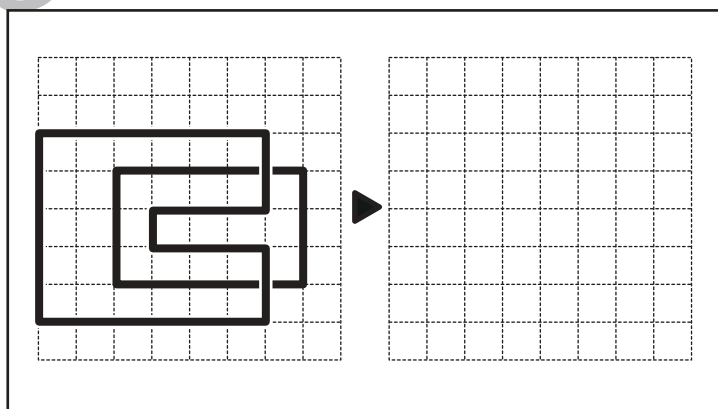
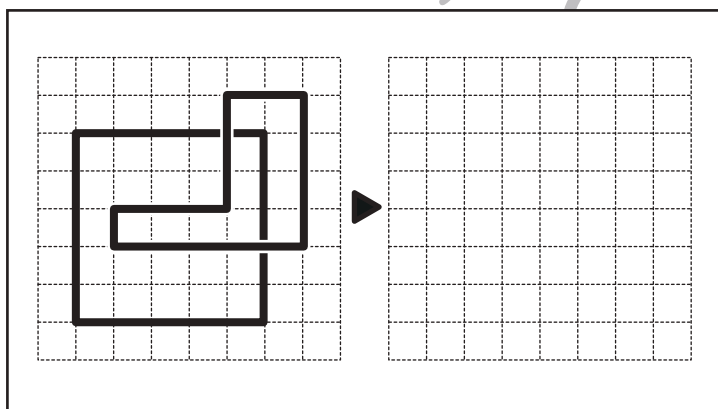
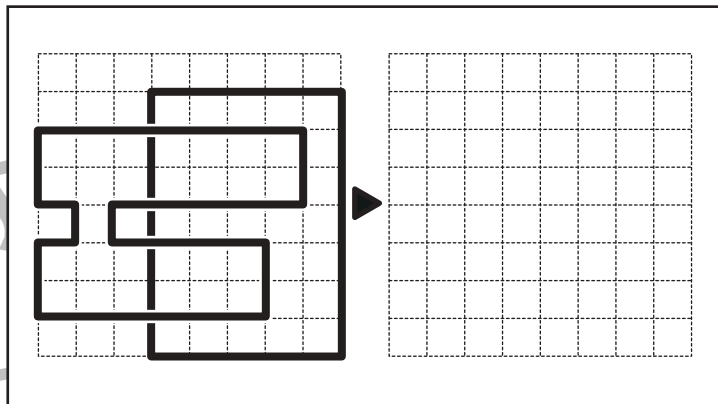
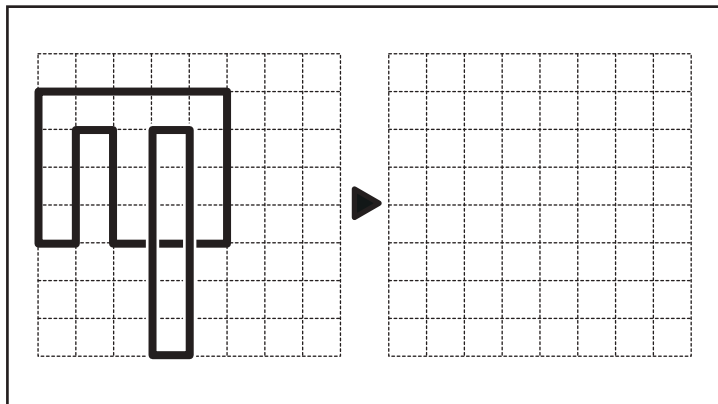


おうちで、やろう。

Study at home. 小学校受験の家庭学習教材

図形：模写②

左のお手本に書かれた記号のうち重なっているところだけを、右マスに描き写しましょう。



※1. このプリントは、しながわ・目黒こどもスクールのウェブサイトからダウンロードできます。無断複写・引用はご遠慮ください。
※2. このプリントを活用したオンライン授業のスケジュールは、しながわ・目黒こどもスクールのウェブサイトでご確認ください。

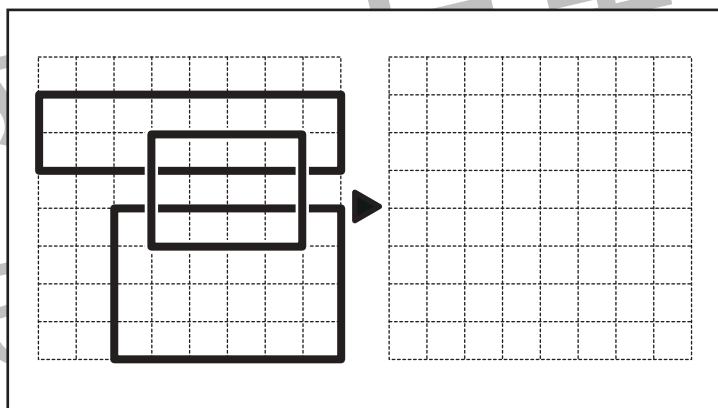
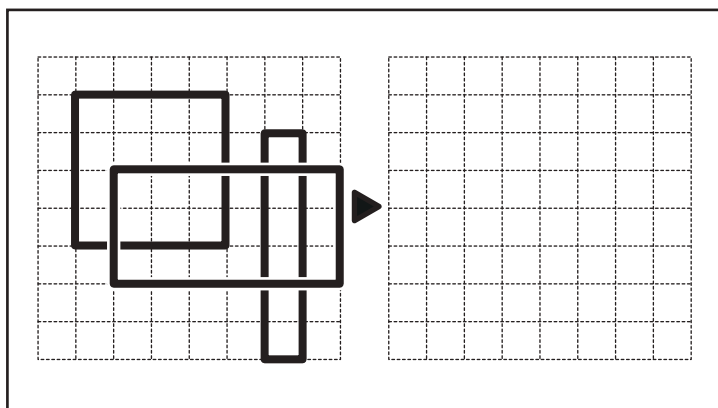
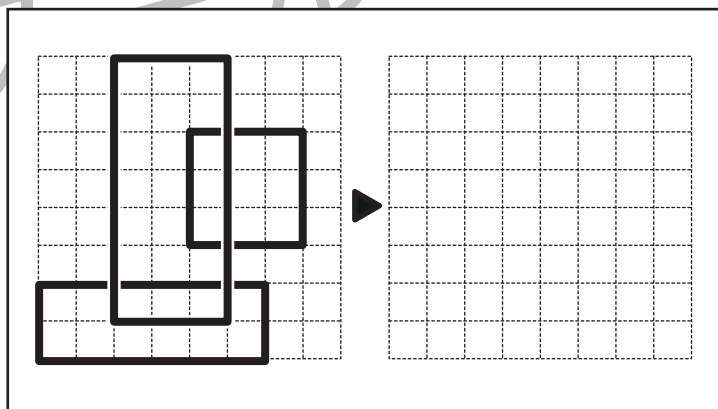
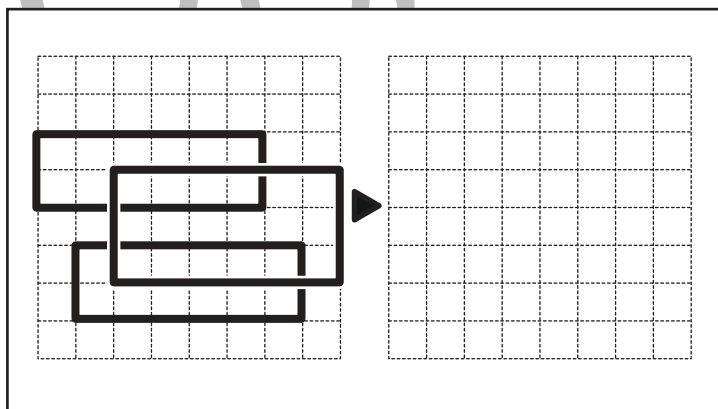
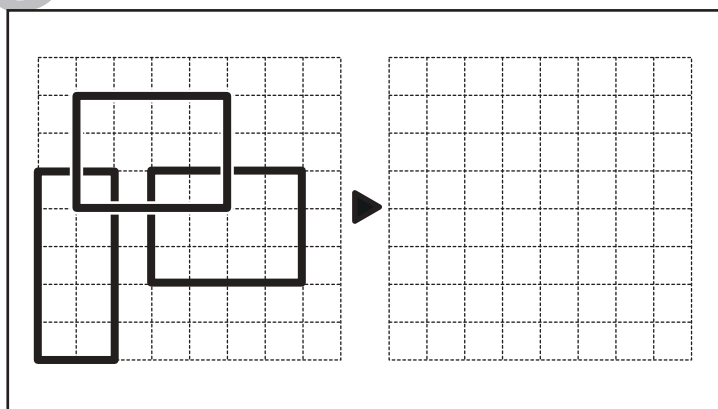
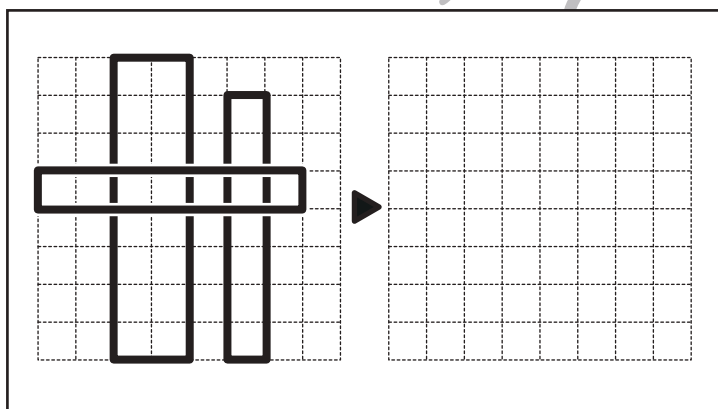
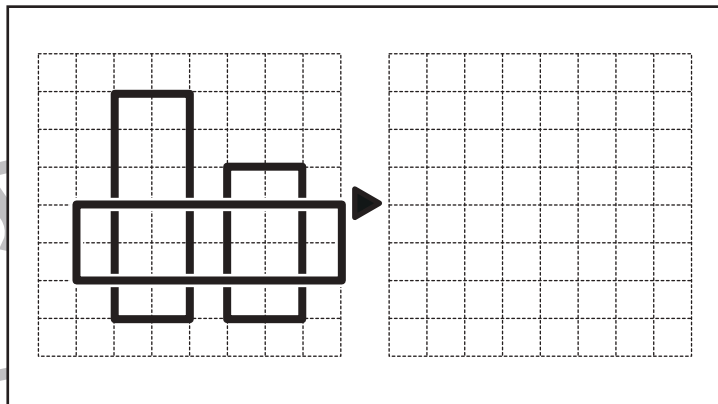
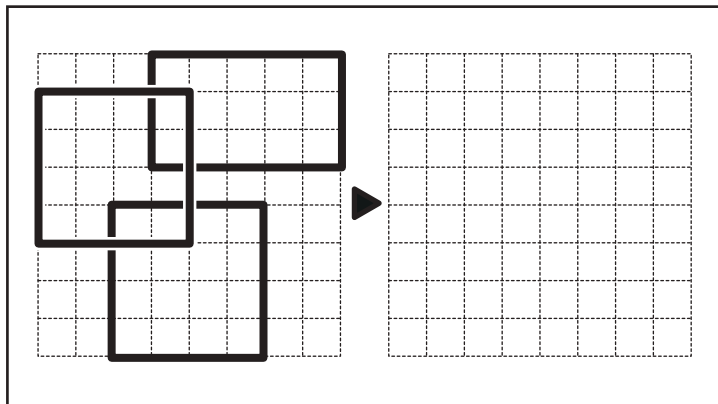


おうちで、やろう。

Study at home. 小学校受験の家庭学習教材

図形：模写③

左のお手本に書かれた記号のうち重なっているところだけを、右マスに描き写しましょう。



※1. このプリントは、しながわ・目黒こどもスクールのウェブサイトからダウンロードできます。無断複写・引用はご遠慮ください。
※2. このプリントを活用したオンライン授業のスケジュールは、しながわ・目黒こどもスクールのウェブサイトでご確認ください。

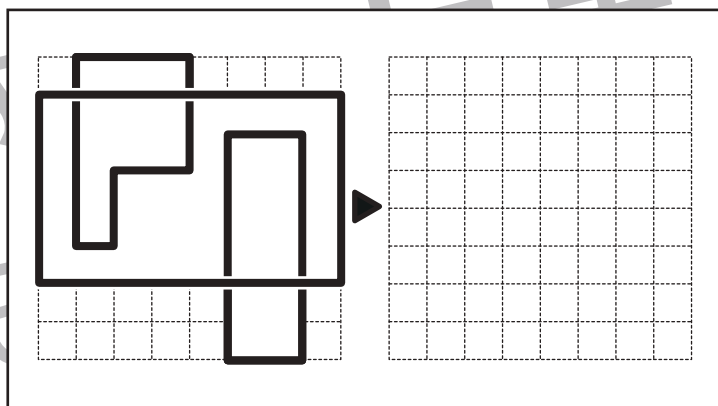
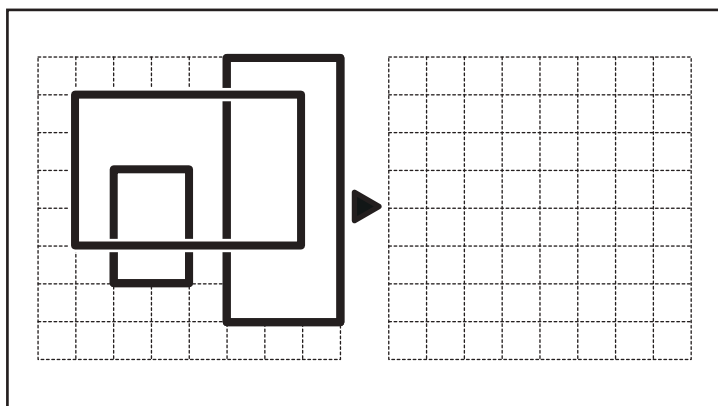
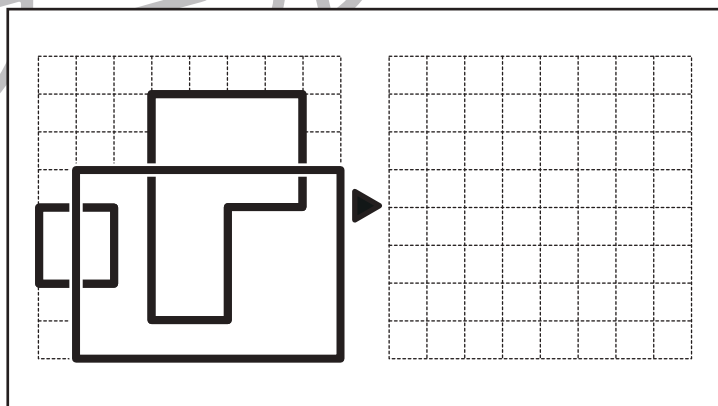
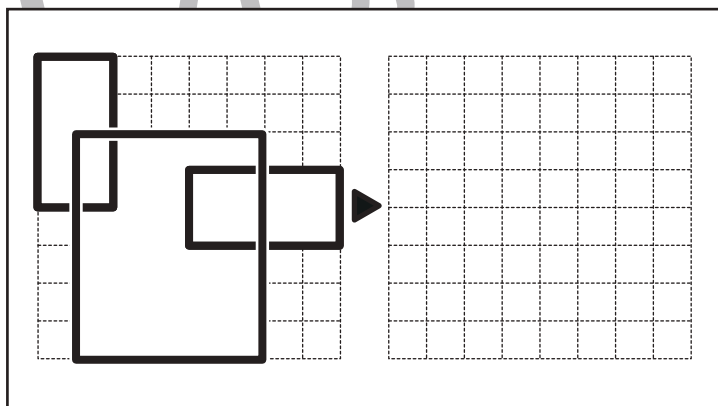
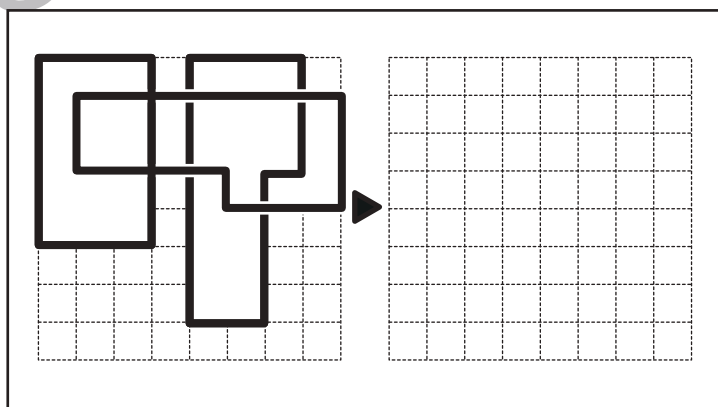
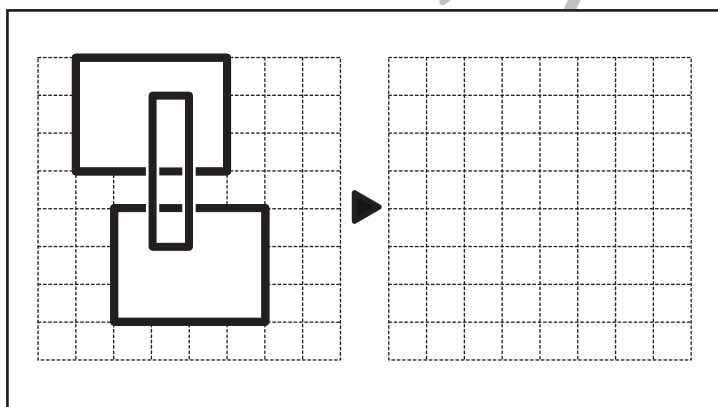
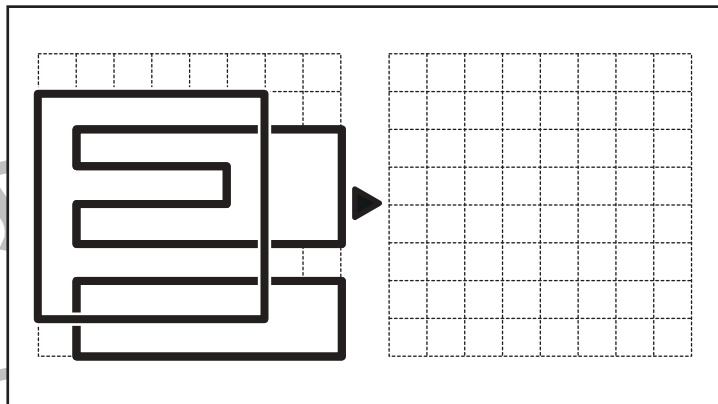
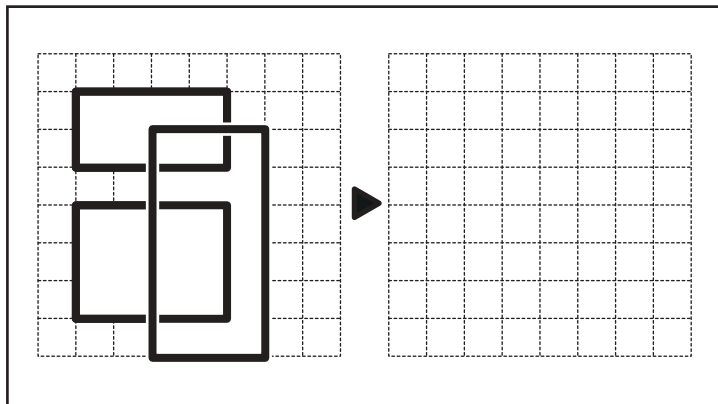


おうちで、やろう。

Study at home. 小学校受験の家庭学習教材

図形：模写④

左のお手本に書かれた記号のうち重なっているところだけを、右マスに描き写しましょう。



※1. このプリントは、しながわ・目黒こどもスクールのウェブサイトからダウンロードできます。無断複写・引用はご遠慮ください。

※2. このプリントを活用したオンライン授業のスケジュールは、しながわ・目黒こどもスクールのウェブサイトでご確認ください。



おうちで、やろう。

Study at home. 小学校受験の家庭学習教材

数量：隠れた数①

矢印の左にあるりんごをいくつか袋の中に隠すと、矢印の右のようになります。袋の中に入っているりんごはいくつですか。その数だけ右の四角に○を描きます。

--	--

--	--

--	--

--	--

--	--

※1. このプリントは、しながわ・目黒こどもスクールのウェブサイトでダウンロードができます。無断複写・引用はご遠慮ください。
 ※2. このプリントを活用したオンライン授業のスケジュールは、しながわ・目黒こどもスクールのウェブサイトでご確認ください。



おうちで、やろう。

Study at home. 小学校受験の家庭学習教材

数量：隠れた数②

矢印の左にある果物のいくつかの袋の中に隠すと、矢印の右のようになります。袋の中に入っている果物はそれぞれいくつですか。その数だけ右の四角に○をかきます。

	<input type="text"/>
	<input type="text"/>

	<input type="text"/>
	<input type="text"/>

	<input type="text"/>
	<input type="text"/>

	<input type="text"/>
	<input type="text"/>

	<input type="text"/>
	<input type="text"/>

※1. このプリントは、しながわ・目黒こどもスクールのウェブサイトからダウンロードできます。無断複写・引用はご遠慮ください。

※2. このプリントを活用したオンライン授業のスケジュールは、しながわ・目黒こどもスクールのウェブサイトでご確認ください。



おうちで、やろう。

Study at home. 小学校受験の家庭学習教材

数量：隠れた数③

矢印の左にある野菜のいくつかを袋の中に隠すと、矢印の右ようになります。袋の中に入っている野菜はそれぞれいくつですか。その数だけ下の四角に○をかきます。

※1. このプリントは、しながわ・目黒こどもスクールのウェブサイトでダウンロードができます。無断複写・引用はご遠慮ください。

※2. このプリントを活用したオンライン授業のスケジュールは、しながわ・目黒こどもスクールのウェブサイトでご確認ください。