



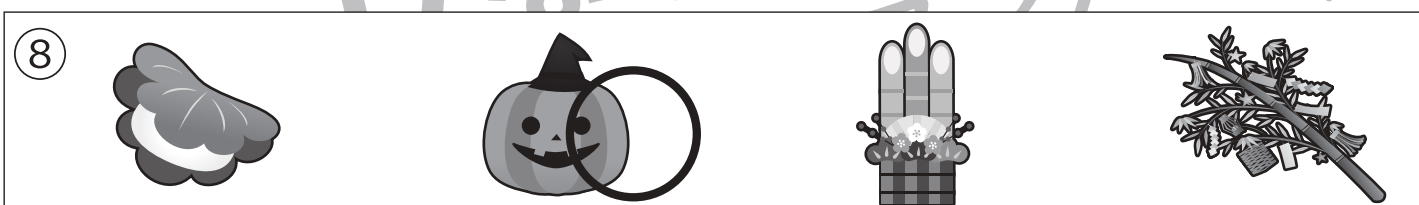



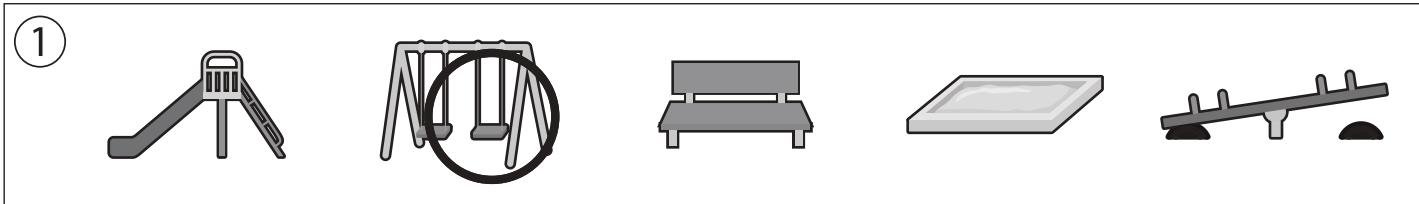
おうちで、やろう。

Study at home. 小学校受験の家庭学習教材

記憶：お話の記憶③

別紙【記憶 - お話の記憶③(本文)】を使用します。

問題用紙を裏返しにして、お家の方にお話の本文を読んでもらってから、①～⑧までの問題に取り組みましょう。



※1. このプリントは、しながわ・目黒こどもスクールのウェブサイトからダウンロードできます。無断複写・引用はご遠慮ください。

※2. このプリントを活用したオンライン授業のスケジュールは、しながわ・目黒こどもスクールのウェブサイトでご確認ください。



おうちで、やろう。

Study at home. 小学校受験の家庭学習教材

図形：構成⑥

左の太枠の中にある3つのパズルピースをつかって出来る形を右から選びます。パズルピースは重ねたりはしませんが、向きが変わっているものもあります。答えは1つしかない問題もあれば、2つある問題もあります。よく考えて出来る形に○をつけましょう。

--	--	--	--	--

--	--	--	--	--

--	--	--	--	--

--	--	--	--	--

--	--	--	--	--

--	--	--	--	--

※1. このプリントは、しながわ・目黒こどもスクールのウェブサイトでダウンロードができます。無断複写・引用はご遠慮ください。
 ※2. このプリントを活用したオンライン授業のスケジュールは、しながわ・目黒こどもスクールのウェブサイトでご確認ください。



おうちで、やろう。

Study at home. 小学校受験の家庭学習教材

図形：構成⑦

左の太枠の中にある3つのパズルピースをつかって出来る形を右から選びます。パズルピースは重ねたりはしませんが、向きが変わっているものもあります。答えは1つしかない問題もあれば、2つある問題もあります。よく考えて出来る形に○をつけましょう。

--	--	--	--	--

--	--	--	--	--

--	--	--	--	--

--	--	--	--	--

--	--	--	--	--

--	--	--	--	--

※1. このプリントは、しながわ・目黒こどもスクールのウェブサイトでダウンロードができます。無断複写・引用はご遠慮ください。
 ※2. このプリントを活用したオンライン授業のスケジュールは、しながわ・目黒こどもスクールのウェブサイトでご確認ください。

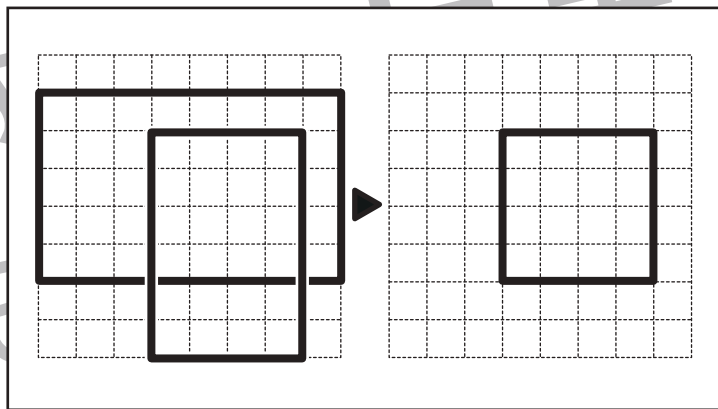
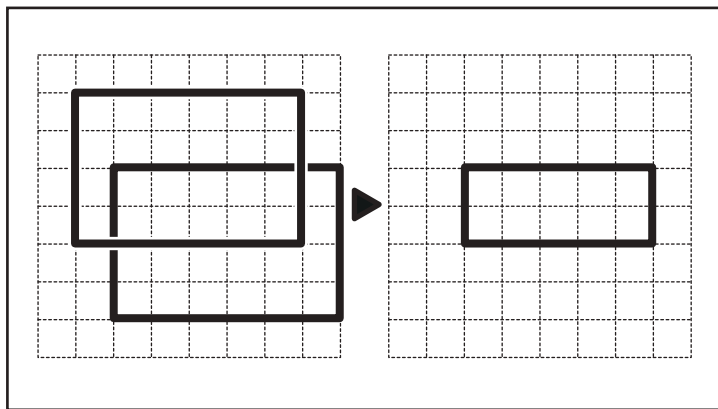
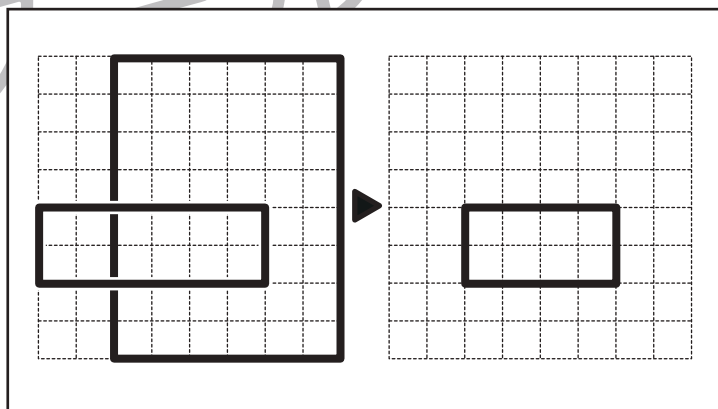
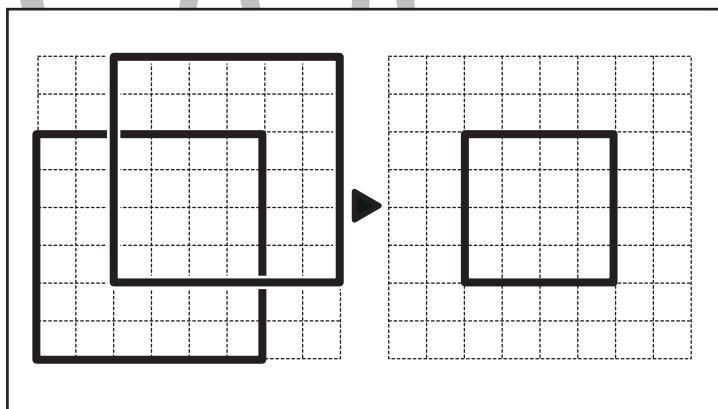
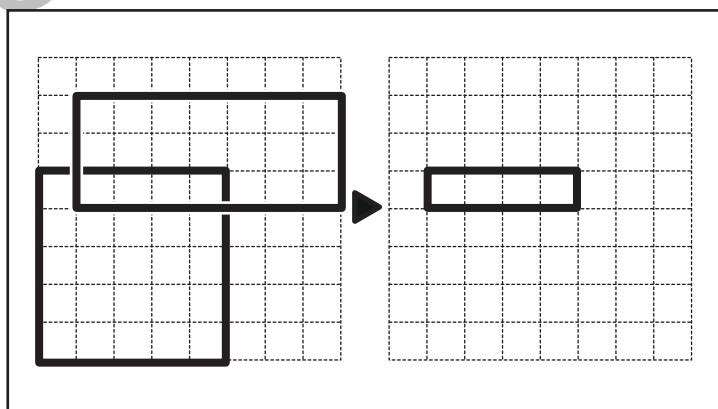
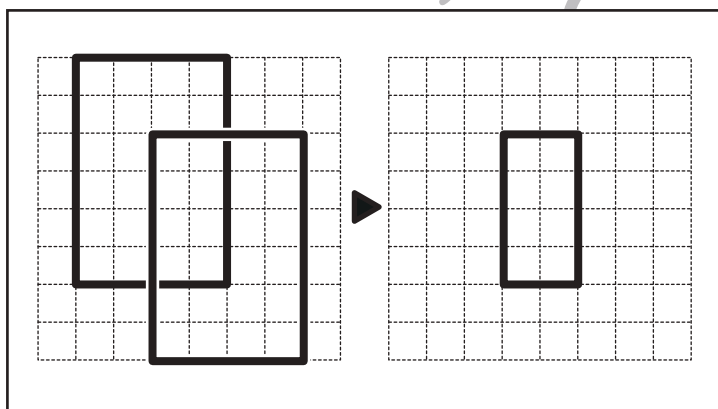
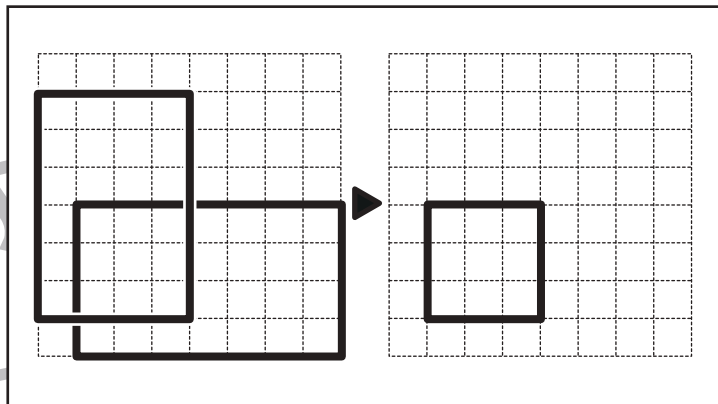
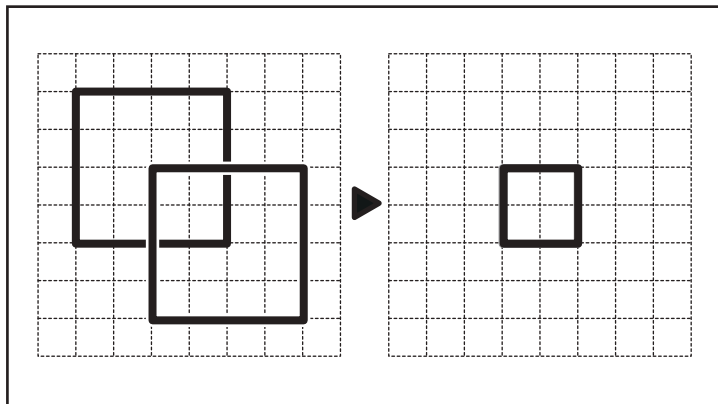


おうちで、やろう。

Study at home. 小学校受験の家庭学習教材

図形：模写①

左のお手本に書かれた記号のうち重なっているところだけを、右マスに描き写しましょう。



※1. このプリントは、しながわ・目黒こどもスクールのウェブサイトからダウンロードできます。無断複写・引用はご遠慮ください。
※2. このプリントを活用したオンライン授業のスケジュールは、しながわ・目黒こどもスクールのウェブサイトでご確認ください。

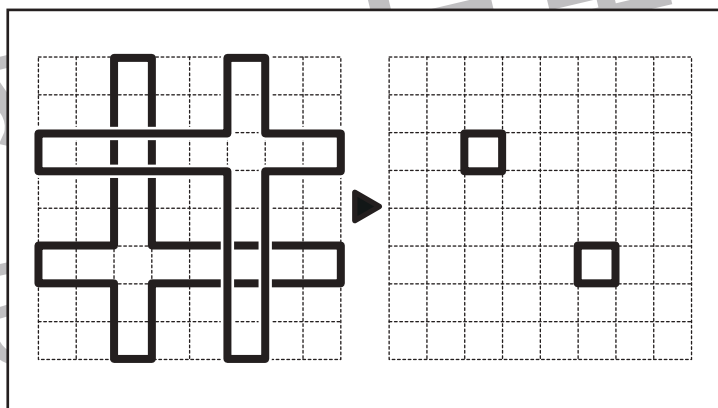
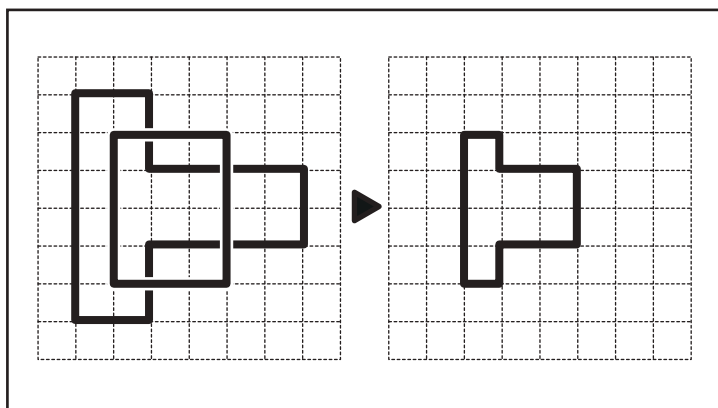
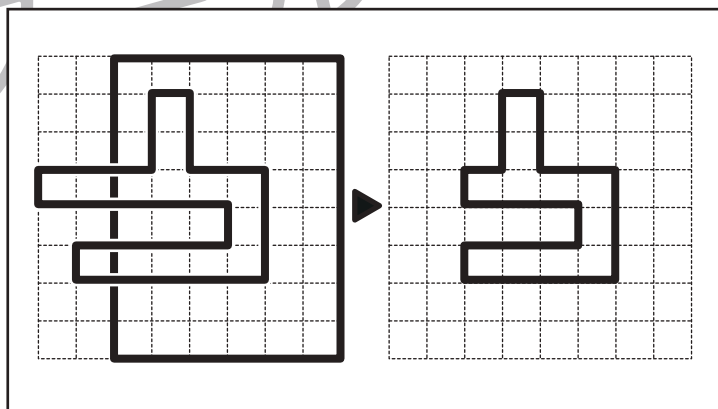
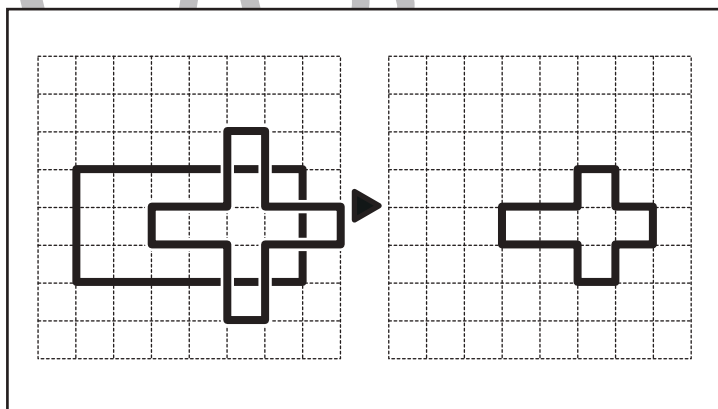
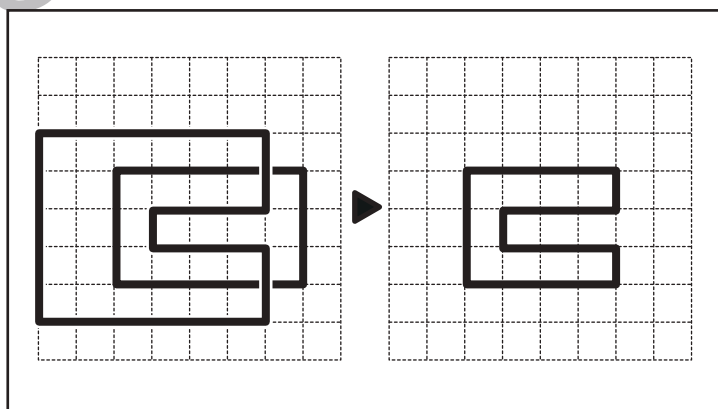
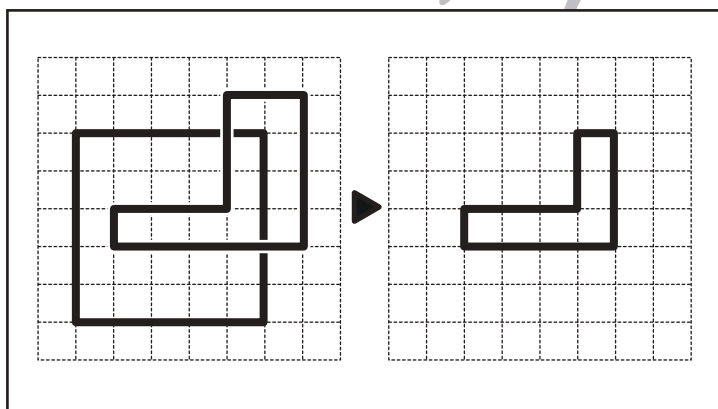
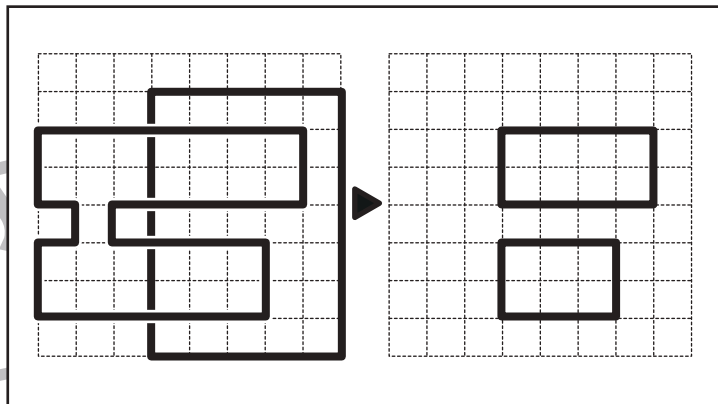
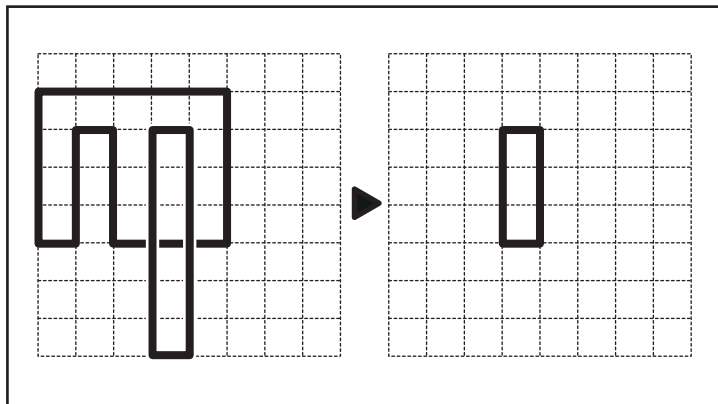


おうちで、やろう。

Study at home. 小学校受験の家庭学習教材

図形：模写②

左のお手本に書かれた記号のうち重なっているところだけを、右マスに書き写しましょう。



※1. このプリントは、しながわ・目黒こどもスクールのウェブサイトからダウンロードできます。無断複写・引用はご遠慮ください。

※2. このプリントを活用したオンライン授業のスケジュールは、しながわ・目黒こどもスクールのウェブサイトでご確認ください。

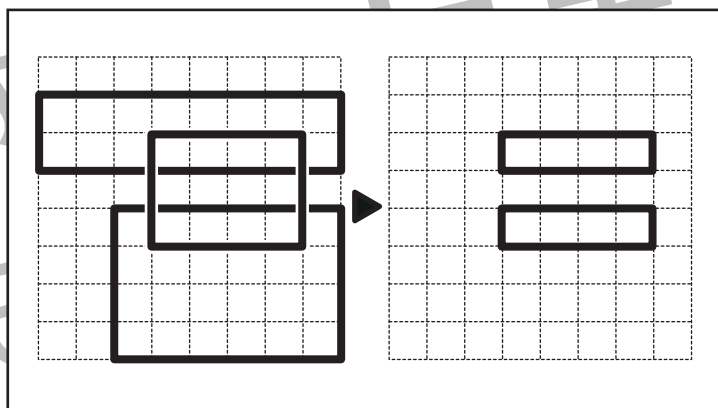
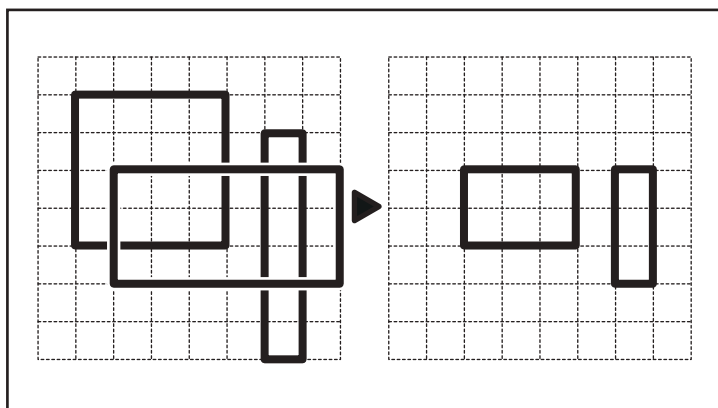
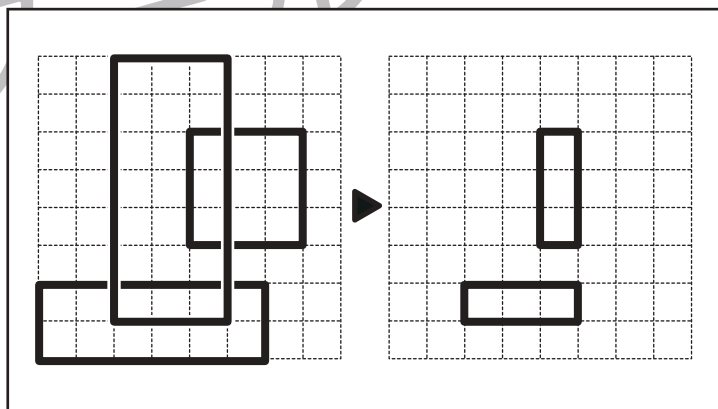
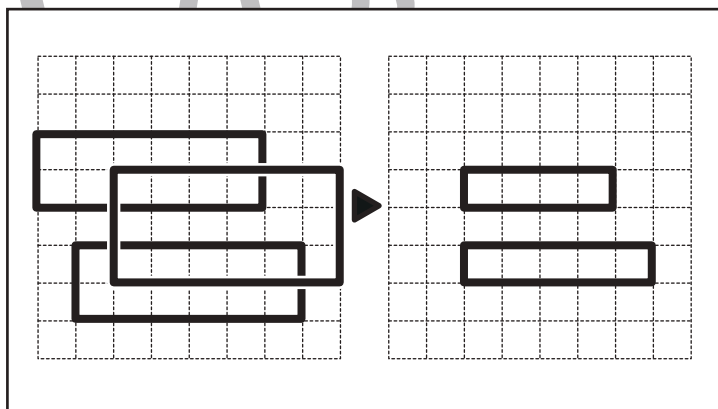
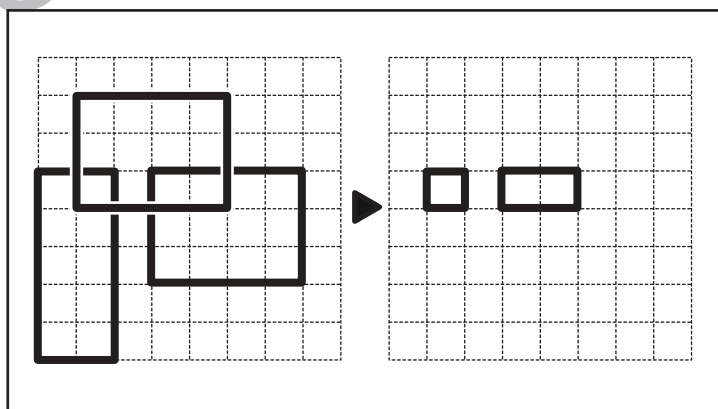
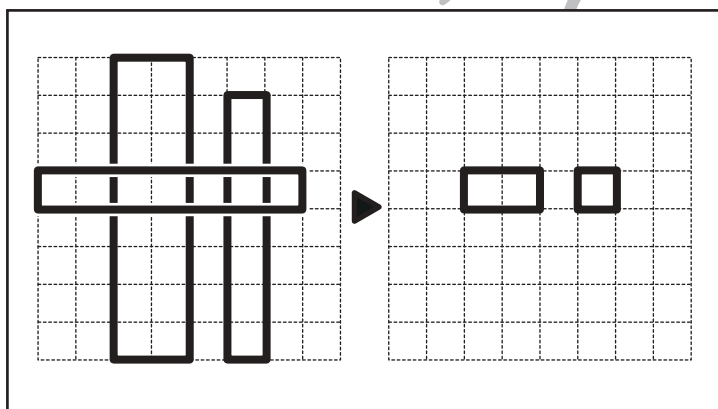
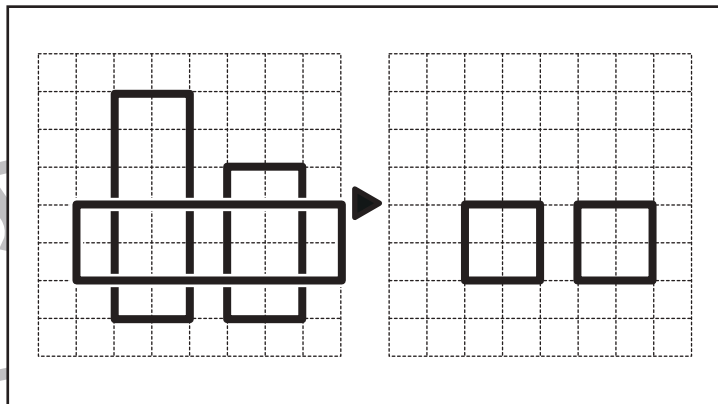
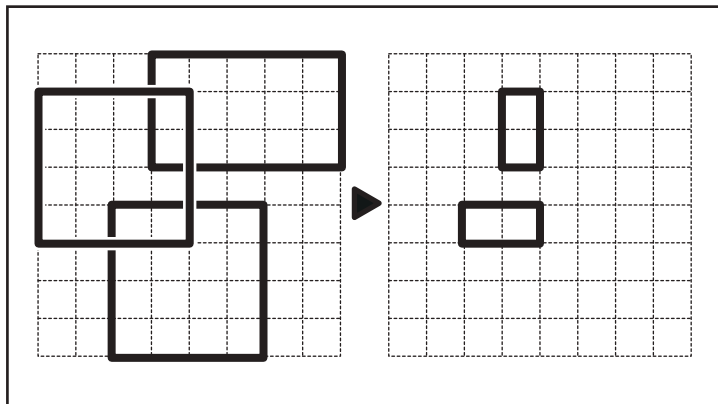


おうちで、やろう。

Study at home. 小学校受験の家庭学習教材

図形：模写③

左のお手本に書かれた記号のうち重なっているところだけを、右マスに描き写しましょう。



※1. このプリントは、しながわ・目黒こどもスクールのウェブサイトからダウンロードできます。無断複写・引用はご遠慮ください。
※2. このプリントを活用したオンライン授業のスケジュールは、しながわ・目黒こどもスクールのウェブサイトでご確認ください。

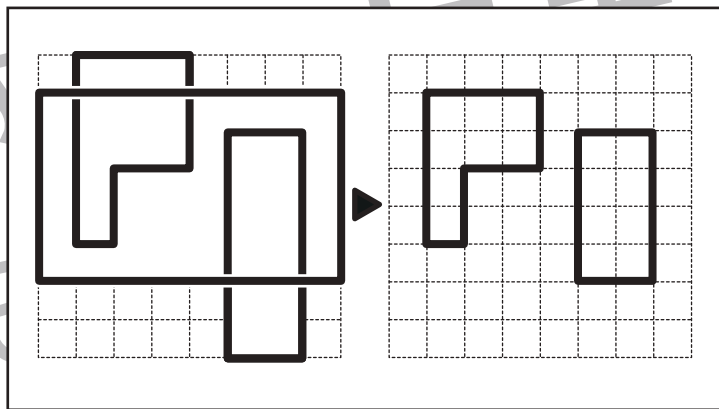
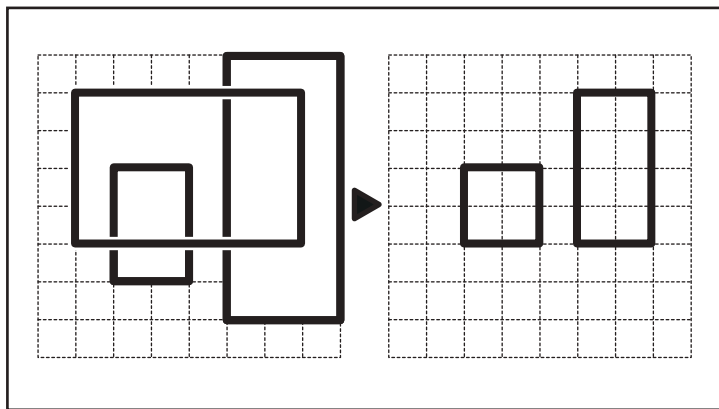
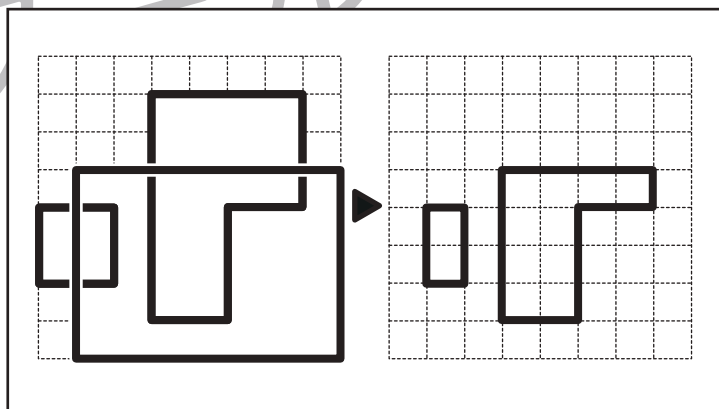
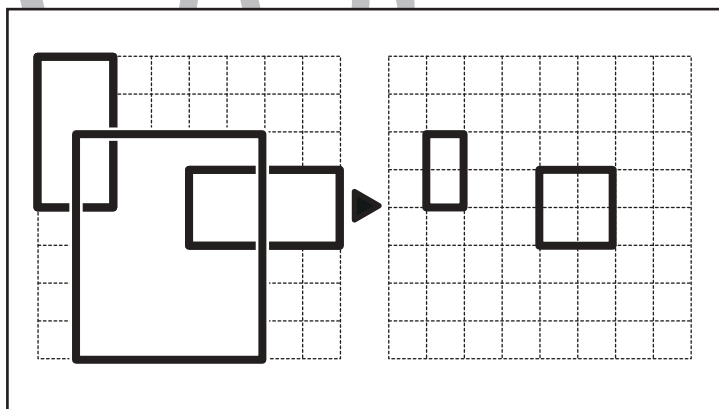
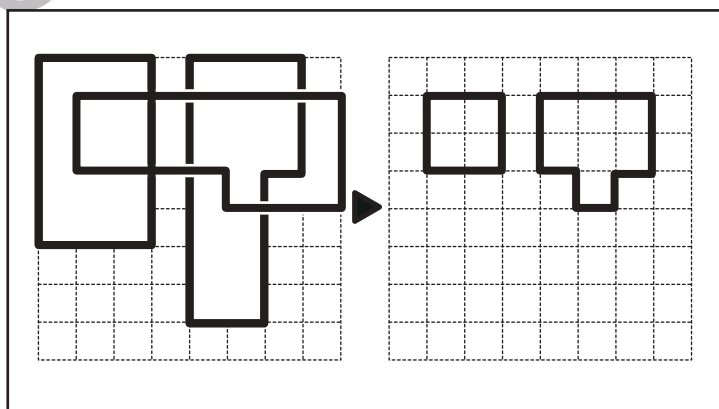
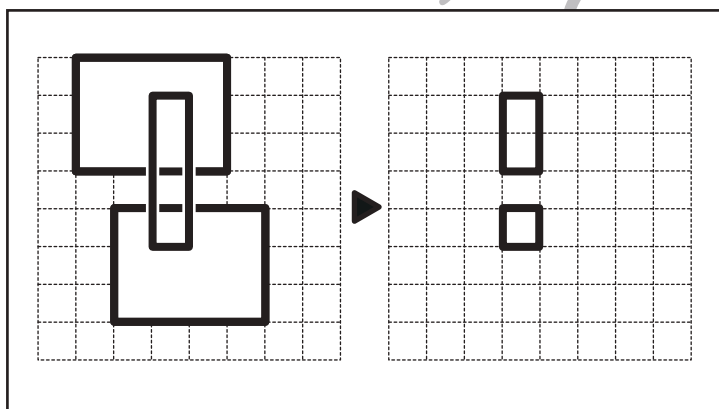
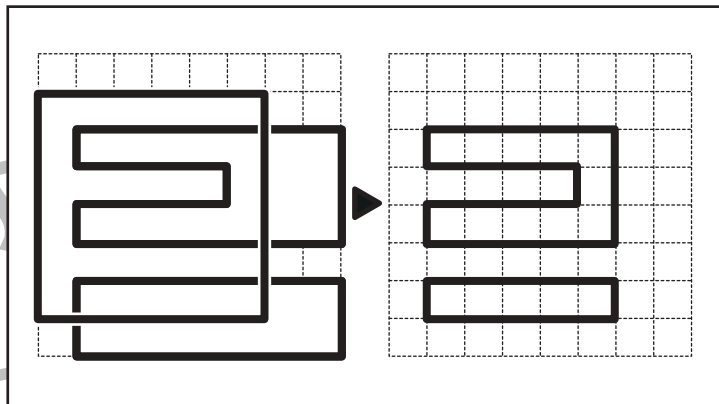
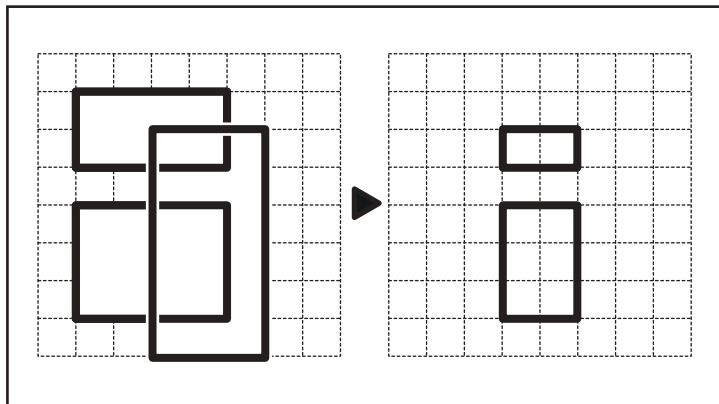


おうちで、やろう。

Study at home. 小学校受験の家庭学習教材

図形：模写④

左のお手本に書かれた記号のうち重なっているところだけを、右マスに描き写しましょう。



※1. このプリントは、しながわ・目黒こどもスクールのウェブサイトからダウンロードできます。無断複写・引用はご遠慮ください。
※2. このプリントを活用したオンライン授業のスケジュールは、しながわ・目黒こどもスクールのウェブサイトでご確認ください。



おうちで、やろう。

Study at home. 小学校受験の家庭学習教材

数量：隠れた数①

矢印の左にあるりんごをいくつか袋の中に隠すと、矢印の右のようになります。袋の中に入っているりんごはいくつですか。その数だけ右の四角に○を描きます。

	$○ \times 3$
--	--------------

	$○ \times 3$
--	--------------

	$○ \times 4$
--	--------------

	$○ \times 4$
--	--------------

	$○ \times 6$
--	--------------

※1. このプリントは、しながわ・目黒こどもスクールのウェブサイトでダウンロードができます。無断複写・引用はご遠慮ください。

※2. このプリントを活用したオンライン授業のスケジュールは、しながわ・目黒こどもスクールのウェブサイトでご確認ください。



おうちで、やろう。

Study at home. 小学校受験の家庭学習教材

数量：隠れた数②

矢印の左にある果物のいくつかの袋の中に隠すと、矢印の右ようになります。袋の中に入っている果物はそれぞれいくつですか。その数だけ右の四角に○をかきます。

	○ × 2
	○ × 2

	○ × 3
	○ × 2

	○ × 1
	○ × 4

	○ × 2
	○ × 2

	○ × 4
	○ × 2

※1. このプリントは、しながわ・目黒こどもスクールのウェブサイトでダウンロードができます。無断複写・引用はご遠慮ください。

※2. このプリントを活用したオンライン授業のスケジュールは、しながわ・目黒こどもスクールのウェブサイトでご確認ください。



おうちで、やろう。

Study at home. 小学校受験の家庭学習教材

数量：隠れた数③

矢印の左にある野菜のいくつかを袋の中に隠すと、矢印の右ようになります。袋の中に入っている野菜はそれぞれいくつですか。その数だけ下の四角に○をかきます。

	○ × 2		○ × 2		○ × 2
	○ × 2		○ × 2		○ × 2
	○ × 1		○ × 2		○ × 3
	○ × 2		○ × 2		○ × 2
	○ × 3		○ × 3		○ × 3

※1. このプリントは、しながわ・目黒こどもスクールのウェブサイトからダウンロードできます。無断複写・引用はご遠慮ください。

※2. このプリントを活用したオンライン授業のスケジュールは、しながわ・目黒こどもスクールのウェブサイトでご確認ください。