



# おうちで、やろう。

Study at home. 小学校受験の家庭学習教材

## 図形：配列①

左の絵と同じように並んでいるところを右から3つ見つけて○で囲みます。縦や横、斜めも探してみましょう。





※1. このプリントは、しながわ・目黒こどもスクールのウェブサイトからダウンロードできます。無断複写・引用はご遠慮ください。

※2. このプリントを活用したオンライン授業のスケジュールは、しながわ・目黒こどもスクールのウェブサイトでご確認ください。



# おうちで、やろう。

Study at home. 小学校受験の家庭学習教材

## 図形：配列②

左の四角の中がお手本です。このお手本と同じように並んでいるところを右から見つけて同じ形で囲みます。  
答えはお手本の上の星の数だけです。

①

★ ★ ★ ★	■ ■ ● ○ ○ △ ▲ ▲ ● △ ▲ ○ □ □ ● □ ▲ ▲
	▲ □ ● ○ ○ ■ ○ △ □ ● △ □ ○ □ ▲ ○ △ △
○ ○	■ □ △ ■ ● △ ● ▲ ○ □ ■ ○ ■ △ ● ○ ▲ ○
○ ○	△ ■ ○ ○ ● ● △ ○ ○ ● ○ ○ ● ● ▲ ▲ ○ ■
	● □ ○ ○ ■ △ △ ○ ▲ ▲ ○ ○ ■ ■ ○ ○ ▲ ▲
	▲ ○ ■ ■ ○ ○ ● △ □ ■ ○ ● □ ▲ ▲ ○ ○ ▲ ●
	△ △ ▲ ● □ ▲ ▲ ● ● ■ ○ ● □ □ ● □ ■ □

②

★ ★ ★	■ ■ ● □ ○ △ ▲ ▲ ● △ ▲ ○ ▲ □ ○ △ ○ ▲
	▲ □ ● ○ ○ ○ △ ■ □ ● △ ● ○ □ ○ ○ ○ ▲ △
○ ○ ○	■ □ △ □ ○ △ ● ▲ ○ □ ■ ○ ■ △ □ ○ ▲ ○
○	△ ● ○ ■ ○ ● ○ ○ ● ○ ○ ● □ ▲ ○ △ ■
○	● ▲ △ ○ ■ △ △ ○ ▲ ▲ ○ ○ ■ ■ ● ○ ▲ △
	▲ ● ■ ■ ○ ○ ▲ ○ □ ■ ○ ● □ ▲ □ ■ △ ●
	△ △ ▲ ● □ ▲ ● ● ● ■ ○ ● □ □ ● □ ■ □

③

★ ★ ★ ★	■ ■ ● □ ○ △ ▲ ▲ ● △ ▲ ● ○ □ ○ △ ○ ▲
	▲ □ ● ○ △ ▲ ▲ △ □ ▲ ▲ ○ ● □ ○ ○ ○ △
● ○	■ □ △ □ ○ ○ ● ▲ ○ □ ■ ○ ■ △ □ ▲ ○
○ ●	△ ● ○ ■ ▲ ● ○ △ ○ ● ○ ○ ● □ ▲ ● ○ ■
	● ○ △ ○ ● ▲ △ ○ ▲ ▲ ○ ○ ■ ■ ▲ ○ ● ▲
	○ ● ■ ■ ○ ○ ● ○ □ ■ ○ ● □ ▲ □ ■ △ ■
	△ △ ▲ ● □ ▲ ○ ● ● ■ ○ ● □ □ ● □ ■ □

④

★ ★ ★	■ ■ ● □ ○ △ ▲ ▲ ● △ ▲ ▲ ○ □ ○ △ ○ ▲
	□ □ △ ○ △ ▲ ▲ △ □ ▲ △ ○ ● □ ● ○ ● ▲
● ○ ●	■ □ △ □ ● ○ ● ▲ ○ □ ■ ○ ■ △ ○ ○ ▲ ○
○	△ ● ○ ■ ○ ▲ ○ △ ○ ● ○ ● ○ □ ● □ ■ ■
●	● ○ △ ○ ● ▲ △ ○ ▲ ○ ▲ ○ ■ ■ ▲ ○ ▲ △
	○ ● ■ ■ ○ ○ ● ○ □ ■ ○ ○ □ ▲ □ ■ △ ■
	■ △ ▲ ● □ ▲ ○ ● ● ■ ○ ● □ □ ● □ ■ □

※1. このプリントは、しながわ・目黒こどもスクールのウェブサイトからダウンロードができます。無断複写・引用はご遠慮ください。  
 ※2. このプリントを活用したオンライン授業のスケジュールは、しながわ・目黒こどもスクールのウェブサイトでご確認ください。



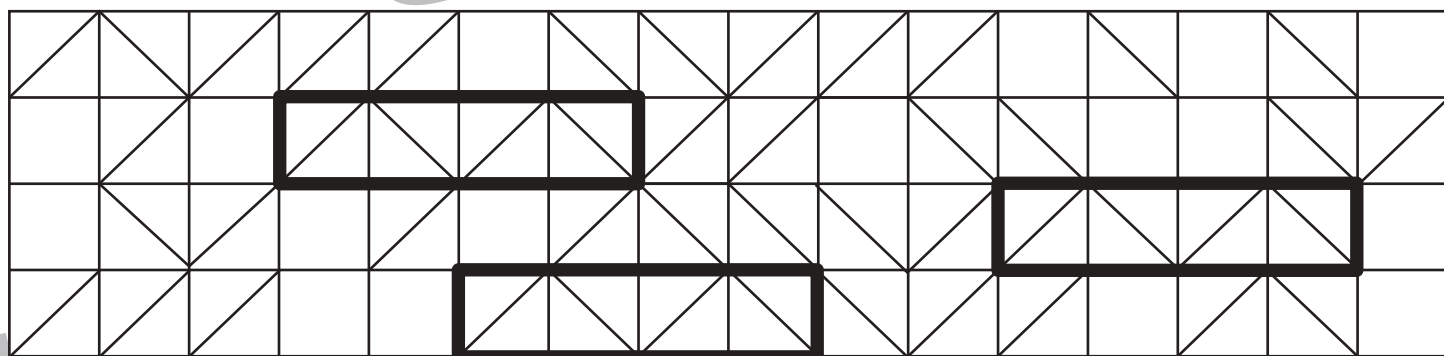



# おうちで、やろう。

Study at home. 小学校受験の家庭学習教材

図形：配列③

上の太い線の四角がお手本です。お手本と同じように並んでいるところを3つ見つけてお手本と同じ形で囲みます。



※1. このプリントは、しながわ・目黒こどもスクールのウェブサイトでダウンロードができます。無断複写・引用はご遠慮ください。

※2. このプリントを活用したオンライン授業のスケジュールは、しながわ・目黒こどもスクールのウェブサイトでご確認ください。



# おうちで、やろう。

Study at home. 小学校受験の家庭学習教材

## 推理：じゃんけん①

矢印の左にいるお友だちが矢印の右にいるお友だちと順番にじゃんけんをしていきます。このとき、勝つのは何回ですか。勝った回数だけ右の四角の○をかきます。お友だちが出す手はそれぞれ上の吹き出しの中の手です。

		$\bigcirc \times 2$
--	--	---------------------

		$\bigcirc \times 2$
--	--	---------------------

		$\bigcirc \times 3$
--	--	---------------------

		$\bigcirc \times 4$
--	--	---------------------

		$\bigcirc \times 4$
--	--	---------------------

※1. このプリントは、しながわ・目黒こどもスクールのウェブサイトからダウンロードできます。無断複写・引用はご遠慮ください。  
 ※2. このプリントを活用したオンライン授業のスケジュールは、しながわ・目黒こどもスクールのウェブサイトでご確認ください。



# おうちで、やろう。

Study at home. 小学校受験の家庭学習教材

## 推理：じゃんけん②

矢印の左にいるお友だちが矢印の右にいるお友だちと順番にじゃんけんをしていきます。このとき、負けるのは何回ですか。負けた回数だけ右の四角の○をかきます。お友だちが出す手はそれぞれ上の吹き出しの中の手です。

		$\bigcirc \times 2$
--	--	---------------------

		$\bigcirc \times 2$
--	--	---------------------

		$\bigcirc \times 2$
--	--	---------------------

		$\bigcirc \times 4$
--	--	---------------------

		$\bigcirc \times 3$
--	--	---------------------

※1. このプリントは、しながわ・目黒こどもスクールのウェブサイトからダウンロードできます。無断複写・引用はご遠慮ください。

※2. このプリントを活用したオンライン授業のスケジュールは、しながわ・目黒こどもスクールのウェブサイトでご確認ください。

























# おうちで、やろう。















Study at home. 小学校受験の家庭学習教材















## 推理：じゃんけん③

















矢印の左にいるお友だちが矢印の右にいるお友だちと順番にじゃんけんをしていきます。このとき、負けはないのは何回ですか。負けはない回数だけ右の四角の○をかきます。お友だちが出す手はそれぞれ上の吹き出しの中の手です。

 	→	 	 	 	 	○×3
--	---	--	--	---	--	-----

 	→	 	 	 	 	 	○×4
---	---	---	---	---	---	---	-----

 	→	 	 	 	 	 	 	○×3
--	---	--	--	--	--	--	--	-----

 	→	 	 	 	 	 	 	○×5
--	---	--	--	--	--	--	--	-----

 	→	 	 	 	 	 	 	 	○×5
--	---	--	--	--	--	--	--	--	-----

※1. このプリントは、しながわ・目黒こどもスクールのウェブサイトからダウンロードできます。無断複写・引用はご遠慮ください。

※2. このプリントを活用したオンライン授業のスケジュールは、しながわ・目黒こどもスクールのウェブサイトでご確認ください。



# おうちで、やろう。

Study at home. 小学校受験の家庭学習教材

## 推理：じゃんけん④

矢印の左にいるお友だちが矢印の右にいるお友だちと順番にじゃんけんをしていきます。このとき、勝てないのは何回ですか。勝てない回数だけ右の四角の○をかきます。お友だちが出す手はそれぞれ上の吹き出しの中の手です。

		$\bigcirc \times 2$
--	--	---------------------

		$\bigcirc \times 3$
--	--	---------------------

		$\bigcirc \times 2$
--	--	---------------------

		$\bigcirc \times 4$
--	--	---------------------

		$\bigcirc \times 4$
--	--	---------------------

※1. このプリントは、しながわ・目黒こどもスクールのウェブサイトからダウンロードできます。無断複写・引用はご遠慮ください。

※2. このプリントを活用したオンライン授業のスケジュールは、しながわ・目黒こどもスクールのウェブサイトでご確認ください。