



おうちで、やろう。

Study at home. 小学校受験の家庭学習教材

記憶：絵の記憶③ 記憶用紙

別紙『記憶 - 絵の記憶③』を行う際に使用します。記憶用紙は点線で折って(切って)、①、②、③の問題の際にそれぞれ20秒間ずつ記憶させてください。記憶する際は問題用紙は裏返しにします。記憶後①、②、③それぞれの問題に答えましょう。

①～③黒丸の場所を塗ります。

※5月6日(水)のオンライン授業では実施中に記憶する絵を画面で表示します。

①

②

③

※1. このプリントは、しながわ・目黒こどもスクールのウェブサイトでダウンロードができます。無断複写・引用はご遠慮ください。

※2. このプリントを活用したオンライン授業のスケジュールは、しながわ・目黒こどもスクールのウェブサイトでご確認ください。



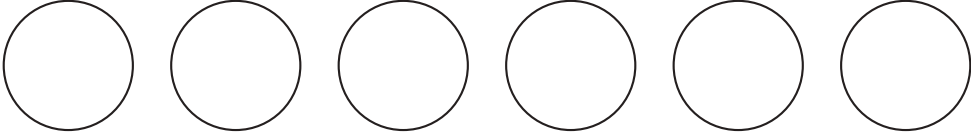
おうちで、やろう。

Study at home. 小学校受験の家庭学習教材

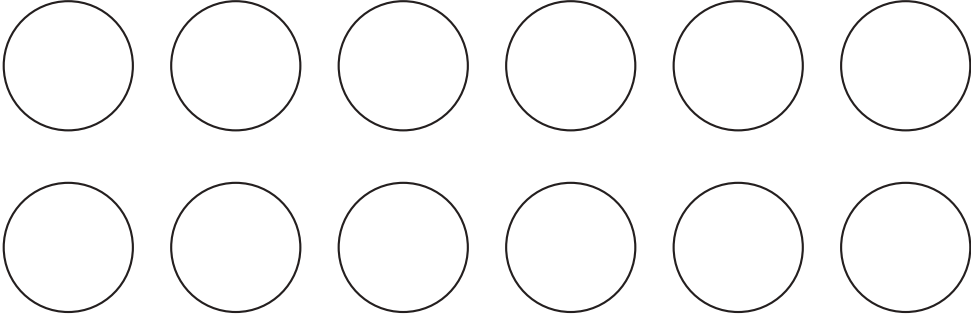
記憶：絵の記憶③

別紙『記憶 - 絵の記憶③記憶用紙』を使用します。記憶用紙の形を見た後に①、②、③の問題に取り組みましょう。

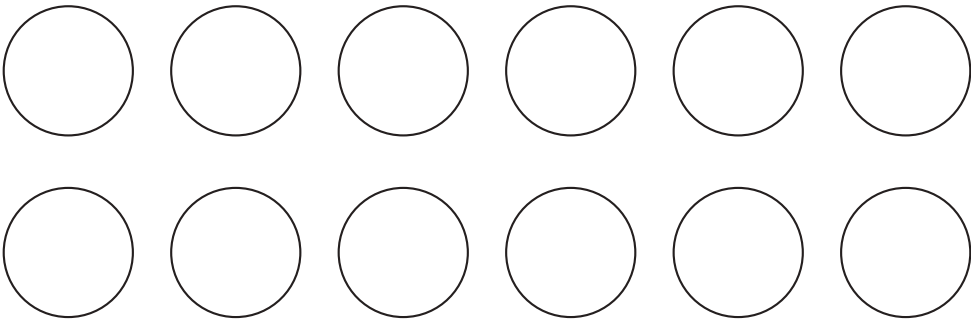
①



②



③



※1. このプリントは、しながわ・目黒こどもスクールのウェブサイトでダウンロードができます。無断複写・引用はご遠慮ください。
※2. このプリントを活用したオンライン授業のスケジュールは、しながわ・目黒こどもスクールのウェブサイトでご確認ください。

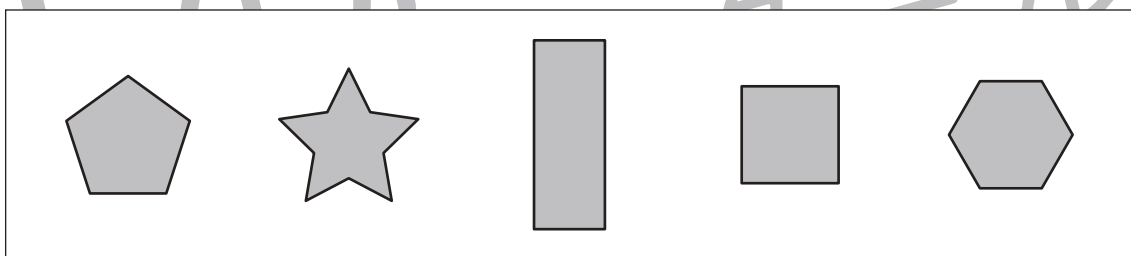
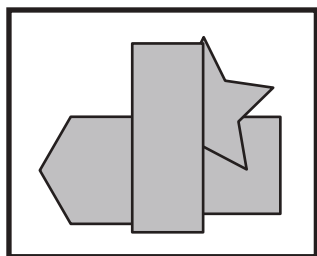
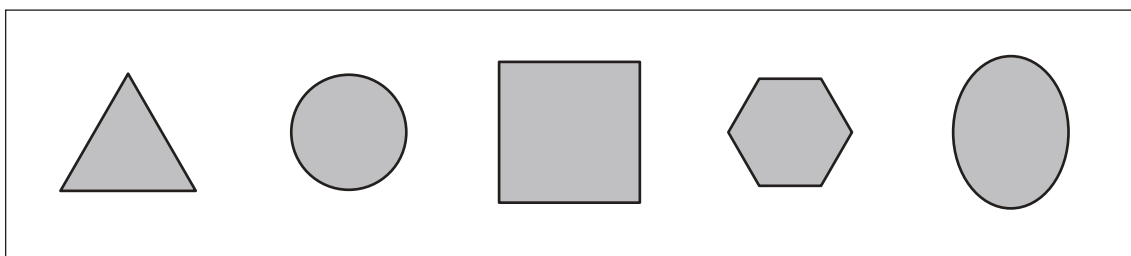
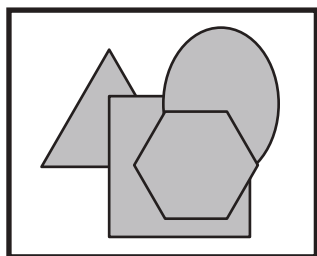
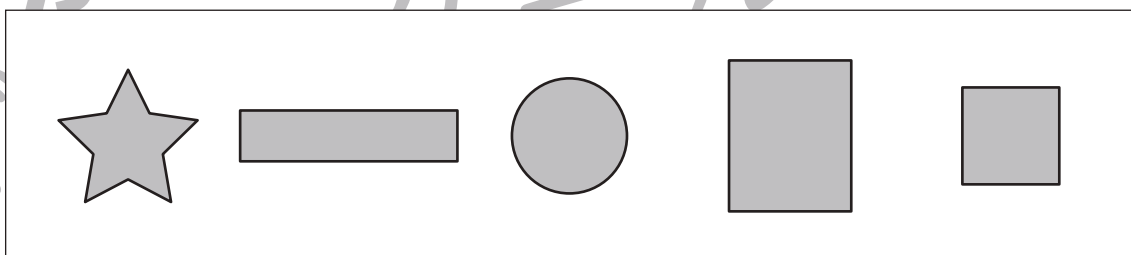

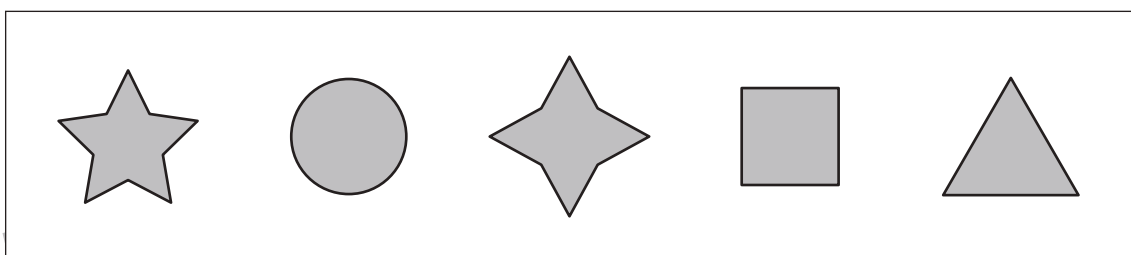
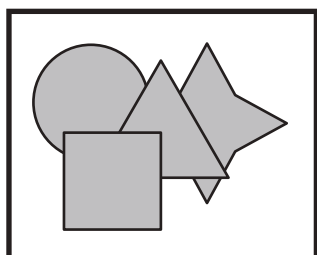
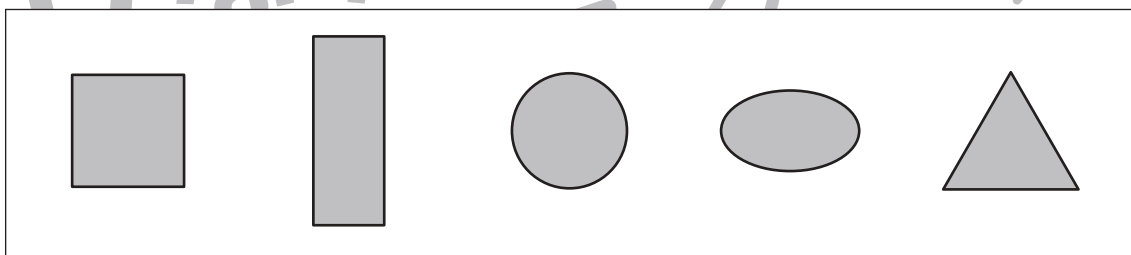
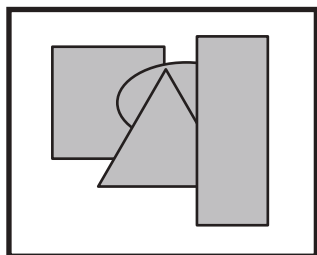
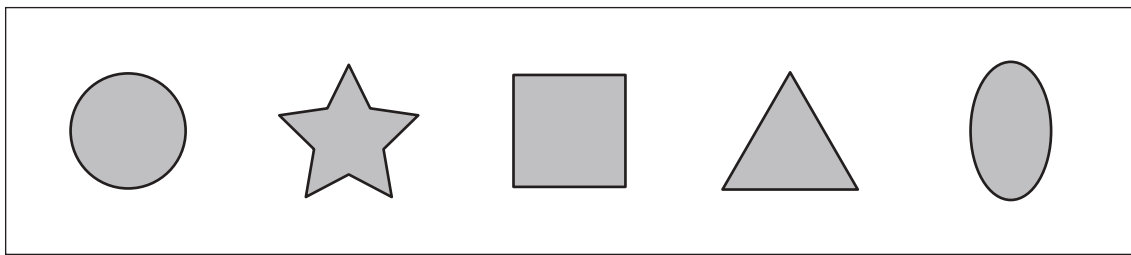
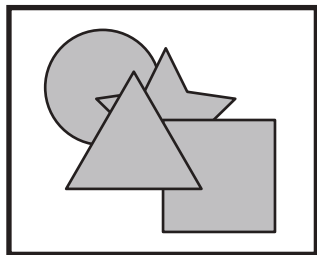


おうちで、やろう。

Study at home. 小学校受験の家庭学習教材

図形：重なり①

左の太い四角の中にはいくつかの形が重なったものです。左の四角の中のない形を右の四角の中から見つけて × をつけます。



※1. このプリントは、しながわ・目黒こどもスクールのウェブサイトでダウンロードができます。無断複写・引用はご遠慮ください。
※2. このプリントを活用したオンライン授業のスケジュールは、しながわ・目黒こどもスクールのウェブサイトでご確認ください。



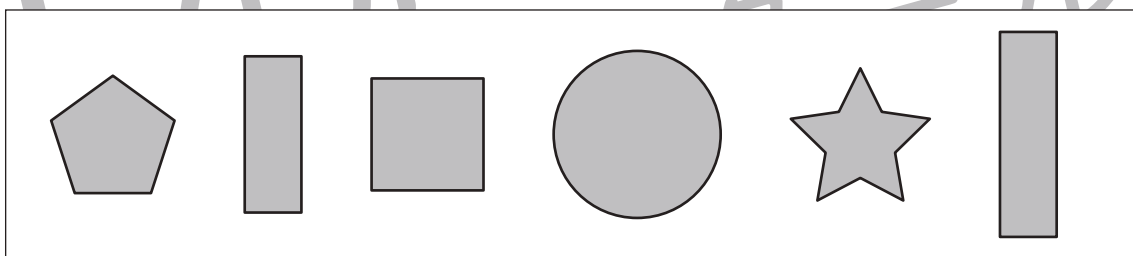
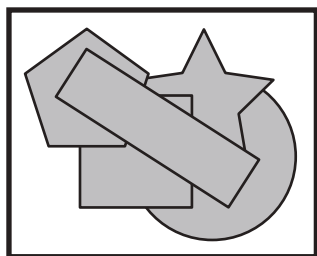
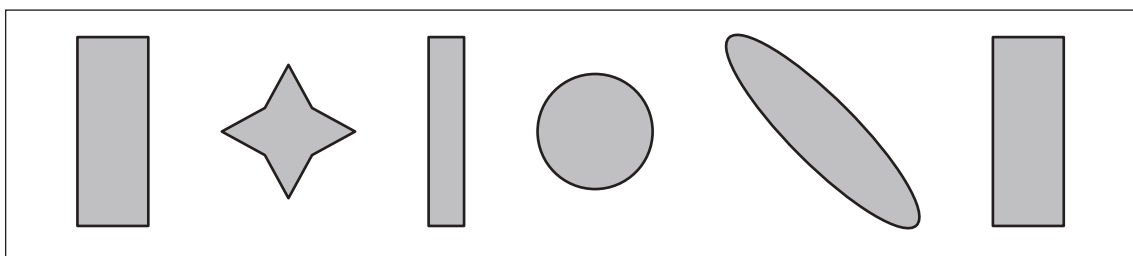
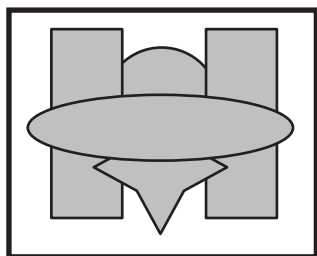

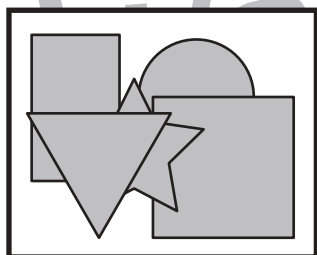
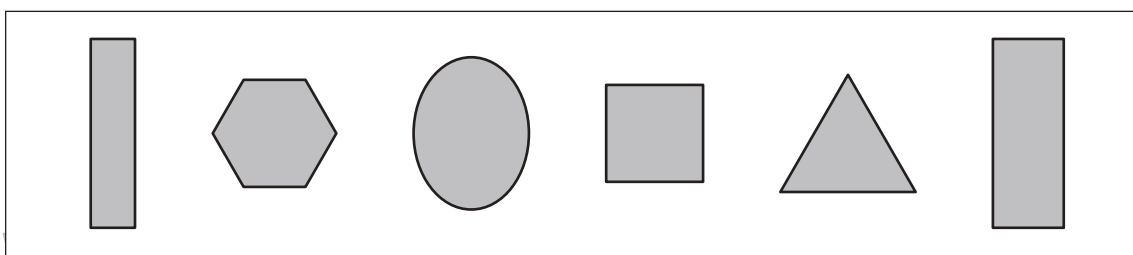
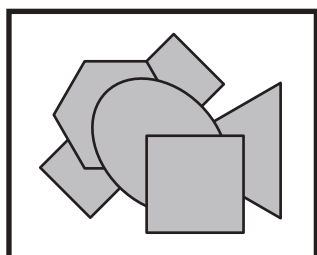
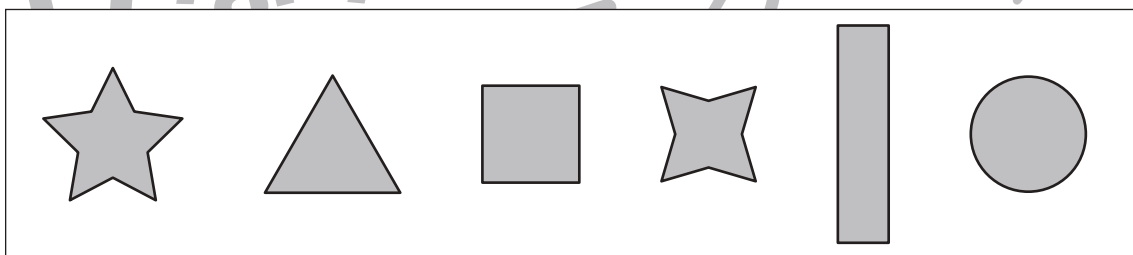
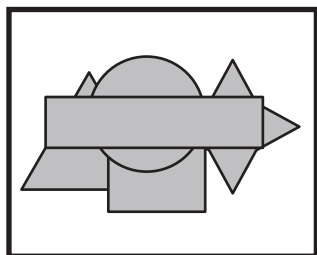
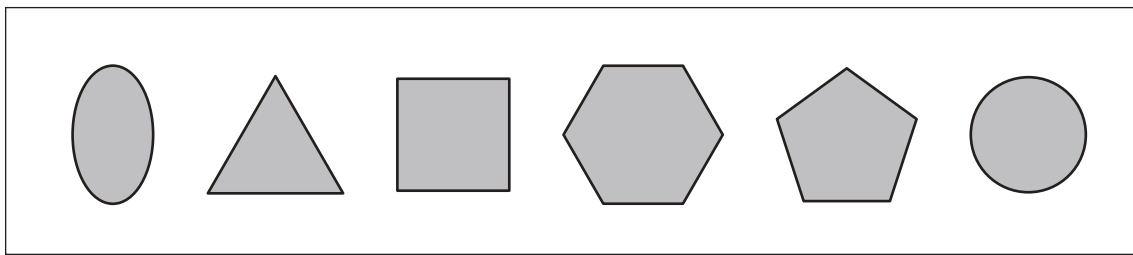
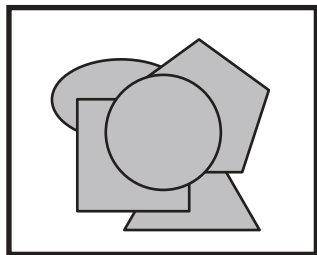


おうちで、やろう。

Study at home. 小学校受験の家庭学習教材

図形：重なり②

左の太い四角の中にはいくつかの形が重なったものです。左の四角の中のない形を右の四角の中から見つけて × をつけます。



※1. このプリントは、しながわ・目黒こどもスクールのウェブサイトからダウンロードできます。無断複写・引用はご遠慮ください。
※2. このプリントを活用したオンライン授業のスケジュールは、しながわ・目黒こどもスクールのウェブサイトでご確認ください。

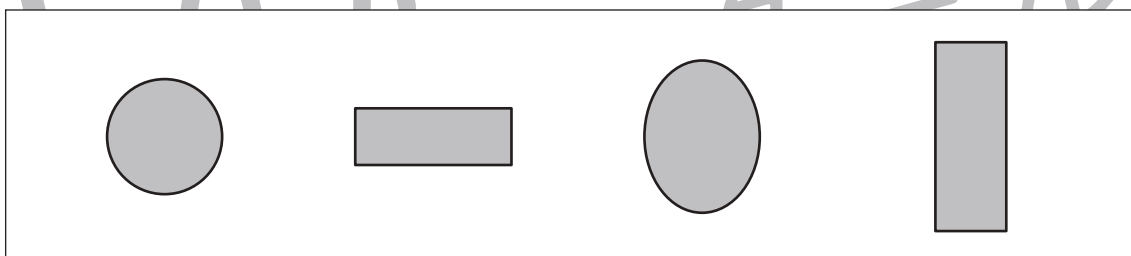
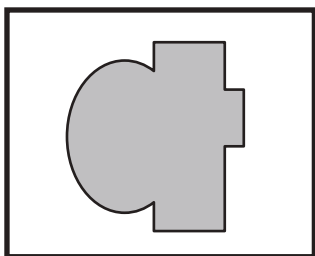
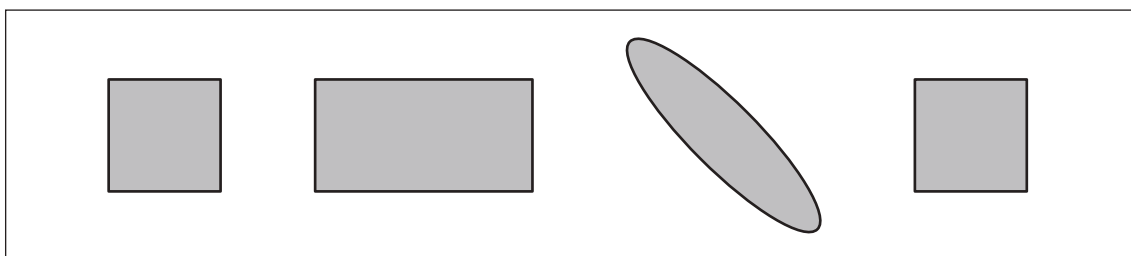
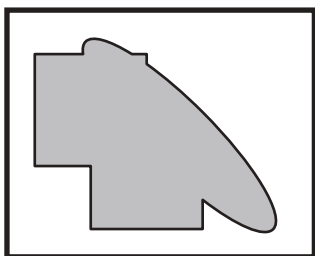
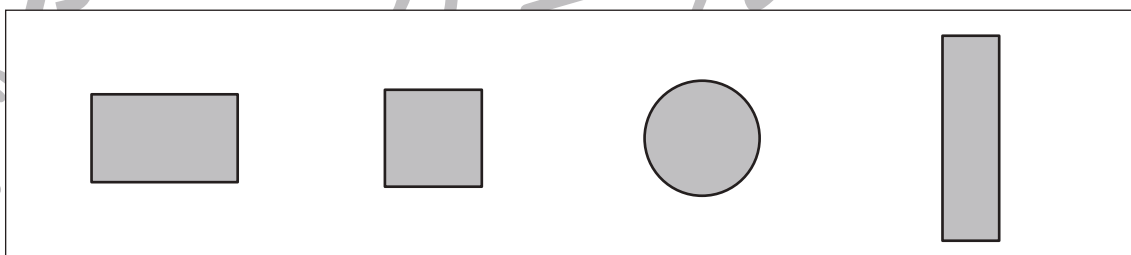
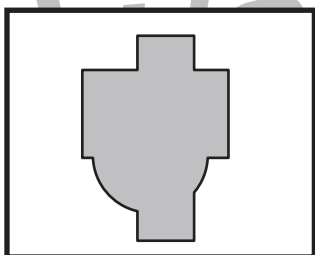
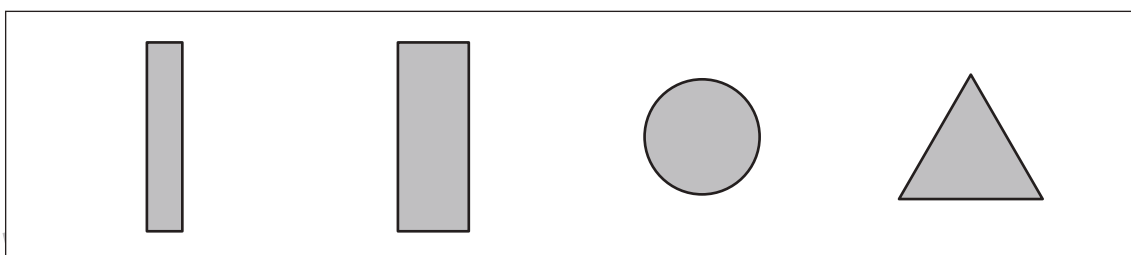
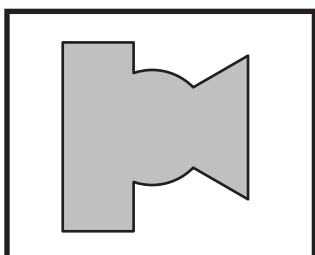
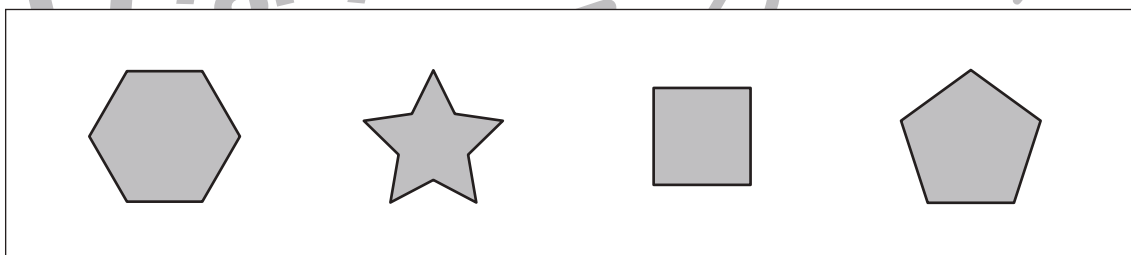

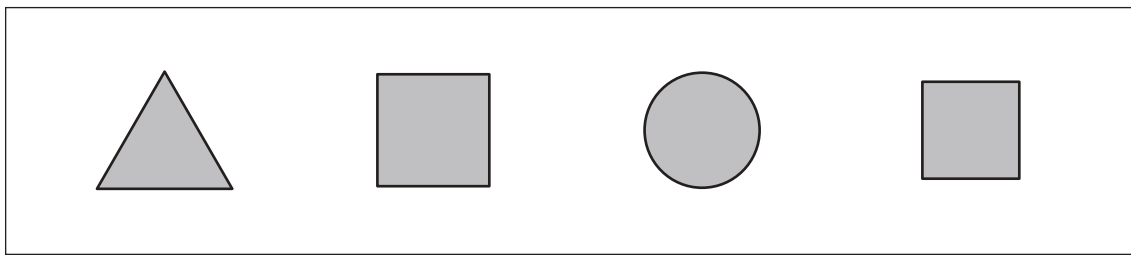



おうちで、やろう。

Study at home. 小学校受験の家庭学習教材

図形：重なり③

左の太い四角の中にはいくつかの形が重なったものです。左の四角の中にない形を右の四角の中から見つけて × をつけます。



※1. このプリントは、しながわ・目黒こどもスクールのウェブサイトでダウンロードができます。無断複写・引用はご遠慮ください。
※2. このプリントを活用したオンライン授業のスケジュールは、しながわ・目黒こどもスクールのウェブサイトでご確認ください。

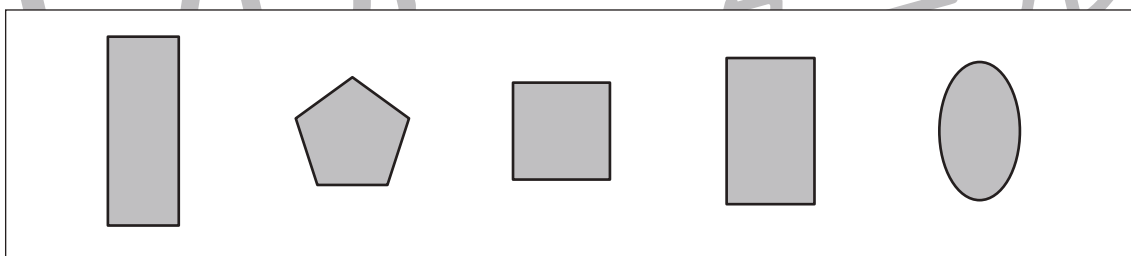
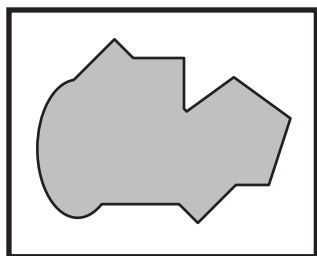
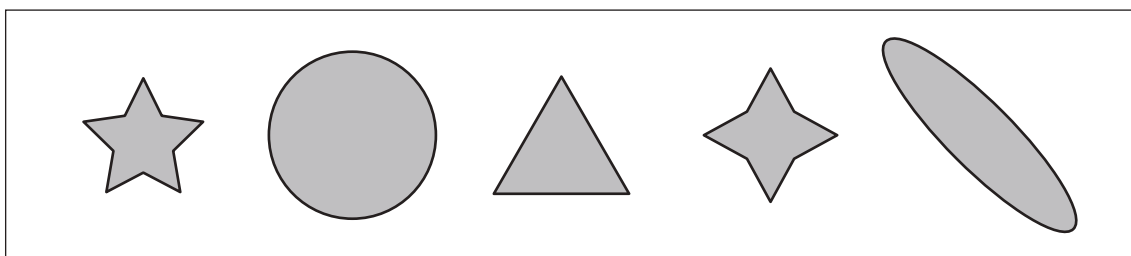

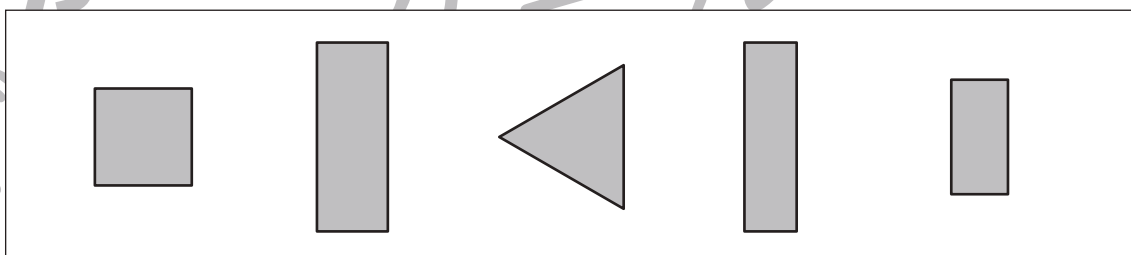
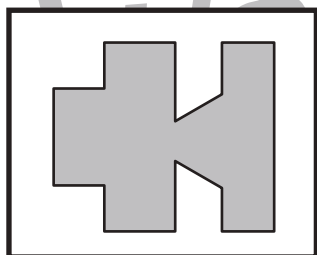
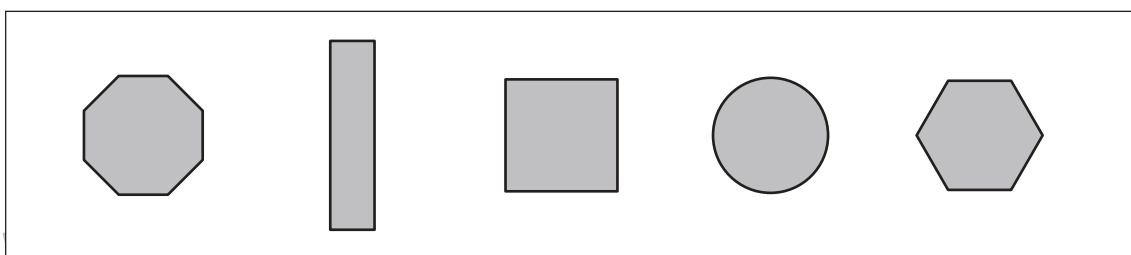
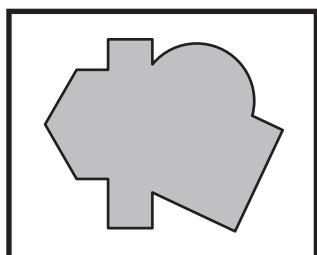
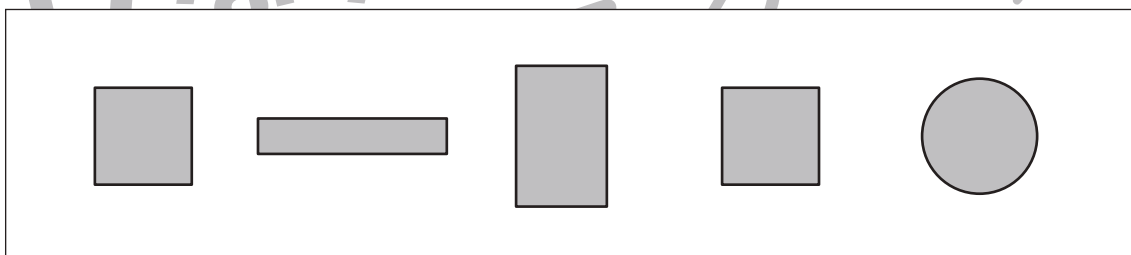
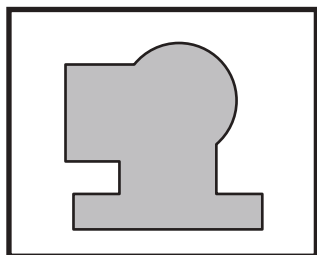
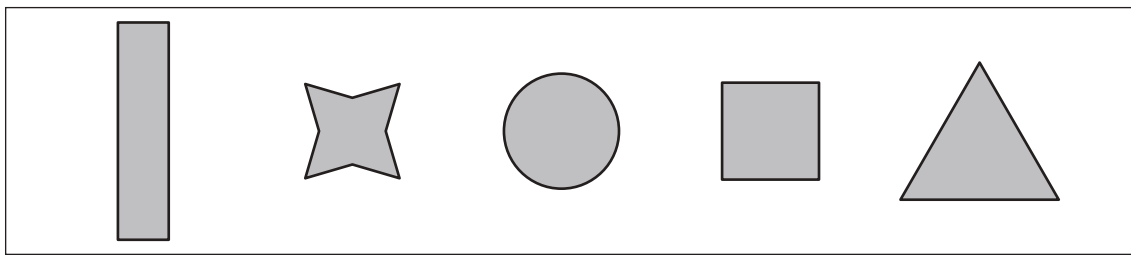
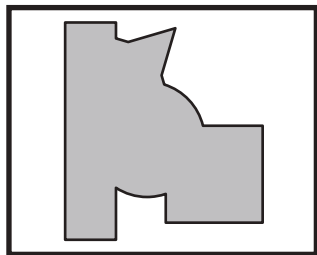


おうちで、やろう。

Study at home. 小学校受験の家庭学習教材

図形：重なり④

左の太い四角の中にはいくつかの形が重なったものです。左の四角の中のない形を右の四角の中から見つけて × をつけます。



※1. このプリントは、しながわ・目黒こどもスクールのウェブサイトでダウンロードができます。無断複写・引用はご遠慮ください。
※2. このプリントを活用したオンライン授業のスケジュールは、しながわ・目黒こどもスクールのウェブサイトでご確認ください。





おうちで、やろう。

Study at home. 小学校受験の家庭学習教材

推理：じゃんけん⑤

お友だちが袋の中のクッキーを持って動物たちと順番にじゃんけんをしていきます。お友だちがじゃんけんで勝つと動物たちからクッキーを2枚もらえます。負けてしまうと、動物たちにクッキーを1枚あげます。あいこのときはなにもありません。この約束のとき、最後の動物とじゃんけんをした後、お友だちが持っているクッキーの数だけ右の四角の中に○をかきます。それぞれが出す手は上の吹き出しの中にあります。

Illustration of a boy with 2 cookies and a hand sign of 2. Opponents: monkey (hand 5), cat (hand 2), lion (hand 1).

Illustration of a girl with 2 cookies and a hand sign of 5. Opponents: tiger (hand 1), sheep (hand 1), bear (hand 5).

Illustration of a boy with 5 cookies and a hand sign of 1. Opponents: squirrel (hand 5), rabbit (hand 1), bear (hand 5), mouse (hand 2).

Illustration of a girl with 5 cookies and a hand sign of 2. Opponents: sheep (hand 1), cat (hand 2), rabbit (hand 1), bear (hand 1).

Illustration of a boy with 5 cookies and a hand sign of 1. Opponents: monkey (hand 2), bear (hand 5), lion (hand 1), mouse (hand 2).

※1. このプリントは、しながわ・目黒こどもスクールのウェブサイトからダウンロードできます。無断複写・引用はご遠慮ください。
※2. このプリントを活用したオンライン授業のスケジュールは、しながわ・目黒こどもスクールのウェブサイトでご確認ください。



おうちで、やろう。

Study at home. 小学校受験の家庭学習教材

推理：じゃんけん⑥

お友だちが袋の中のクッキーを持って動物たちと順番にじゃんけんをしていきます。お友だちがじゃんけんでは勝つと動物たちからクッキーを2枚もらえます。負けてしまうと動物たちにクッキーを3枚あげます。あいこのときは動物たちから1枚もらえます。この約束のとき、最後の動物とじゃんけんをした後、お友だちが持っているクッキーの数だけ右の四角の中に○をかきます。それぞれが出す手は上の吹き出しの中にあります。

Illustration of a boy with a bag of cookies and three animals: a mouse, a bear, and a lion. Hand signs above the boy: 1 hand (lose), 2 fingers (win), 1 hand (draw). Hand signs above the animals: 2 fingers (mouse), 1 hand (bear), 1 hand (lion).

Illustration of a girl with a bag of cookies and three animals: a monkey, a lion, and a bear. Hand signs above the girl: 2 fingers (lose), 1 hand (win), 1 hand (draw). Hand signs above the animals: 2 fingers (monkey), 1 hand (lion), 1 hand (bear).

Illustration of a boy with a bag of cookies and four animals: a cat, a mouse, a sheep, and a bear. Hand signs above the boy: 1 hand (lose), 2 fingers (win), 1 hand (draw). Hand signs above the animals: 1 hand (cat), 2 fingers (mouse), 1 hand (sheep), 1 hand (bear).

Illustration of a girl with a bag of cookies and four animals: a cat, a rabbit, a tiger, and a bear. Hand signs above the girl: 1 hand (lose), 1 hand (win), 2 fingers (draw). Hand signs above the animals: 1 hand (cat), 1 hand (rabbit), 2 fingers (tiger), 1 hand (bear).

Illustration of a boy with a bag of cookies and five animals: a rabbit, a bear, a cat, a mouse, and a monkey. Hand signs above the boy: 2 fingers (lose), 1 hand (win), 1 hand (draw). Hand signs above the animals: 1 hand (rabbit), 1 hand (bear), 1 hand (cat), 2 fingers (mouse), 1 hand (monkey).

※1. このプリントは、しながわ・目黒こどもスクールのウェブサイトでダウンロードができます。無断複写・引用はご遠慮ください。
※2. このプリントを活用したオンライン授業のスケジュールは、しながわ・目黒こどもスクールのウェブサイトでご確認ください。

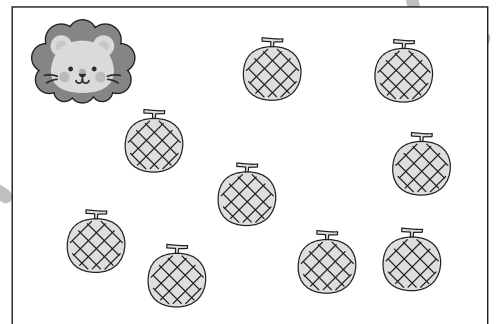

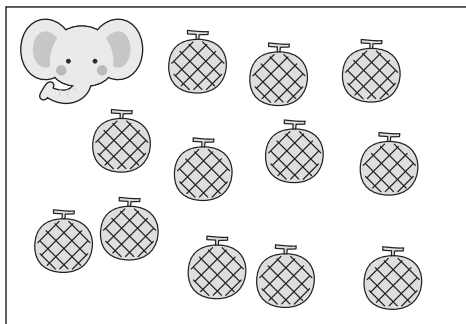





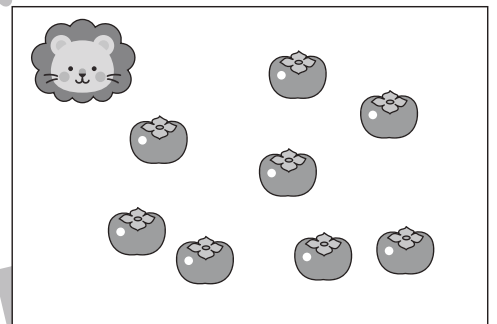

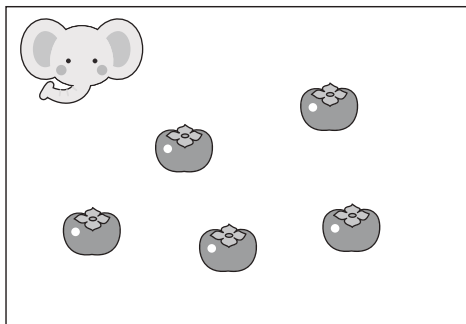


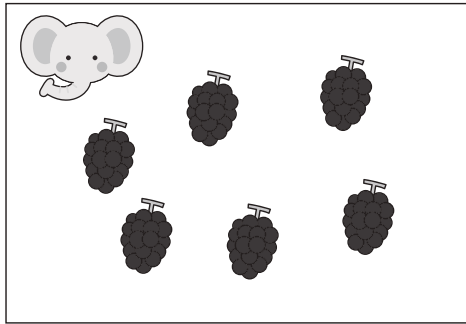


おうちで、やろう。

Study at home. 小学校受験の家庭学習教材

数量：違う数①

ゾウとライオンが同じ果物を持っていますが、持っている数が違います。2匹が持っている果物の数の違いはいくつですか。その数だけ真ん中の四角に○をかきます。



※1. このプリントは、しながわ・目黒こどもスクールのウェブサイトでダウンロードができます。無断複写・引用はご遠慮ください。
※2. このプリントを活用したオンライン授業のスケジュールは、しながわ・目黒こどもスクールのウェブサイトでご確認ください。

















おうちで、やろう。







Study at home. 小学校受験の家庭学習教材







数量：違う数②







ゾウとライオンとクマが同じクッキーを持っていますが、持っている数が違います。3匹の持っているクッキーのうち数が一番多い動物と数が一番少ない動物のクッキーの数の違いはいくつですか。その数だけ下の四角に○をかきます。

※1. このプリントは、しながわ・目黒こどもスクールのウェブサイトでダウンロードができます。無断複写・引用はご遠慮ください。

※2. このプリントを活用したオンライン授業のスケジュールは、しながわ・目黒こどもスクールのウェブサイトでご確認ください。



おうちで、やろう。

Study at home. 小学校受験の家庭学習教材

数量：違う数③

ゾウ、ライオン、クマがそれぞれ2種類の食べ物を持っています。3匹がそれぞれ持っている2種類の食べ物の数の違いはいくつですか。数の違いが一番多い動物に○をつけます。

--	--	--

--	--	--

--	--	--

--	--	--

--	--	--

※1. このプリントは、しながわ・目黒こどもスクールのウェブサイトからダウンロードできます。無断複写・引用はご遠慮ください。

※2. このプリントを活用したオンライン授業のスケジュールは、しながわ・目黒こどもスクールのウェブサイトでご確認ください。