



おうちで、やろう。

Study at home. 小学校受験の家庭学習教材

記憶：絵の記憶② 記憶用紙

別紙『記憶 - 絵の記憶②』を行う際に使用します。記憶用紙は点線で折って(切って)、①、②、③の問題の際にそれぞれ 20 秒間ずつ記憶させてください。記憶する際は問題用紙は裏返しにします。記憶後①、②、③それぞれの問題に答えましょう。

①～③覚えた形と同じものを見つけて○をつけます。

※5月3日(日)のオンライン授業では実施中に記憶する形を画面で表示します。

①

②

③

※1. このプリントは、しながわ・目黒こどもスクールのウェブサイトでダウンロードができます。無断複写・引用はご遠慮ください。

※2. このプリントを活用したオンライン授業のスケジュールは、しながわ・目黒こどもスクールのウェブサイトでご確認ください。






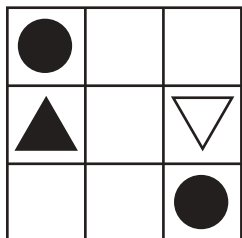
おうちで、やろう。

Study at home. 小学校受験の家庭学習教材





記憶：絵の記憶②

別紙『記憶 - 絵の記憶②記憶用紙』を使用します。記憶用紙の形を見た後に①、②、③の問題に取り組みましょう。

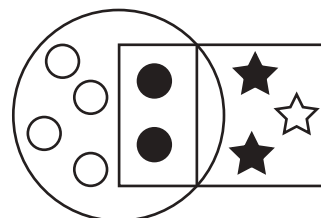

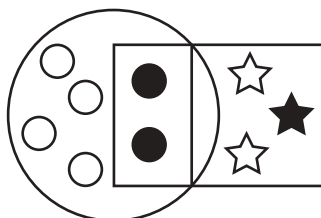
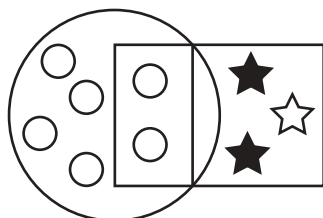
①



②



③



※1. このプリントは、しながわ・目黒こどもスクールのウェブサイトでダウンロードができます。無断複写・引用はご遠慮ください。

※2. このプリントを活用したオンライン授業のスケジュールは、しながわ・目黒こどもスクールのウェブサイトでご確認ください。





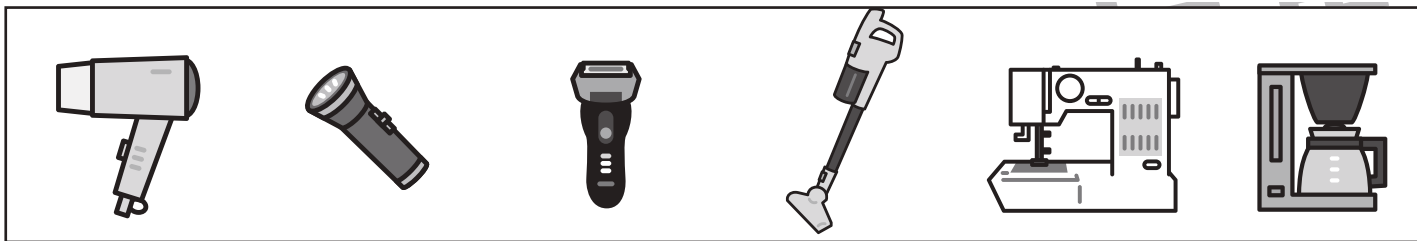
おうちで、よろう。

Study at home. 小学校受験の家庭学習教材

常識：生活①

お話を聞いて、正しいと思うものをすべて選んで○をつけましょう。


身だしなみを整える道具をすべて選んで○をつけましょう。



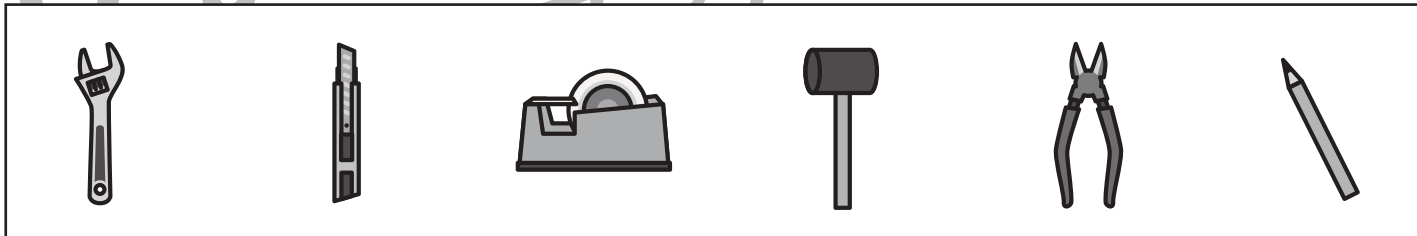
首に巻くものをすべて選んで○をつけましょう。



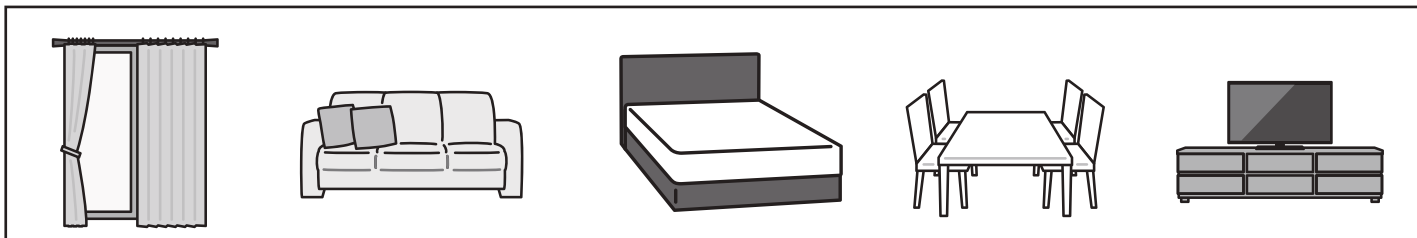
長袖をすべて選んで○をつけましょう。



文房具をすべて選んで○をつけましょう。



電気力で動くものをすべて選んで○をつけましょう。



感染防止のために、あなたがしていること・した方が良くと思うことをすべて選んで○をつけましょう。



※1. このプリントは、しながわ・目黒こどもスクールのウェブサイトからダウンロードできます。無断複写・引用はご遠慮ください。
※2. このプリントを活用したオンライン授業のスケジュールは、しながわ・目黒こどもスクールのウェブサイトでご確認ください。





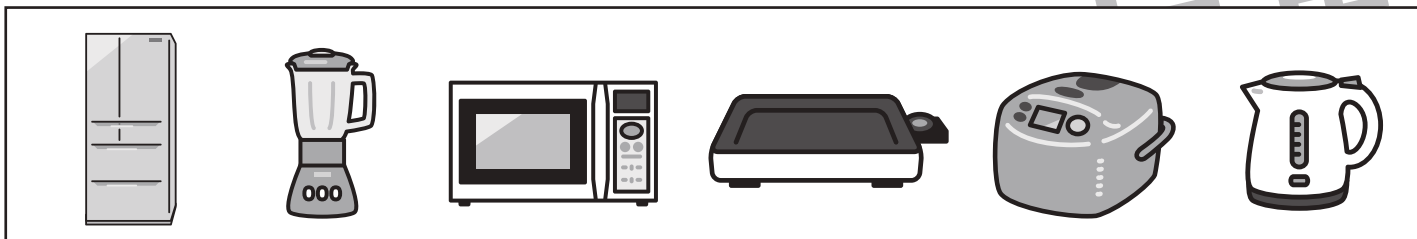
おうちで、やろう。

Study at home. 小学校受験の家庭学習教材


常識：生活②

お話を聞いて、正しいと思うものをすべて選んで○をつけましょう。


食事や食材を温める道具ではないものをすべて選んで○をつけましょう。



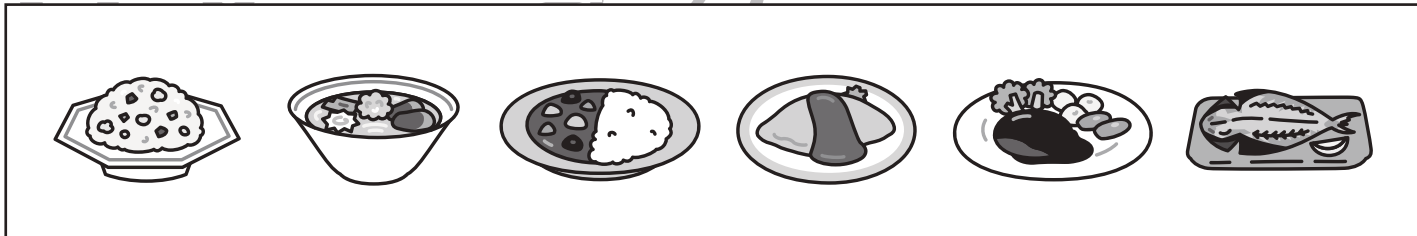
手に持って食べるものをすべて選んで○をつけましょう。




魚料理をすべて選んで○をつけましょう。



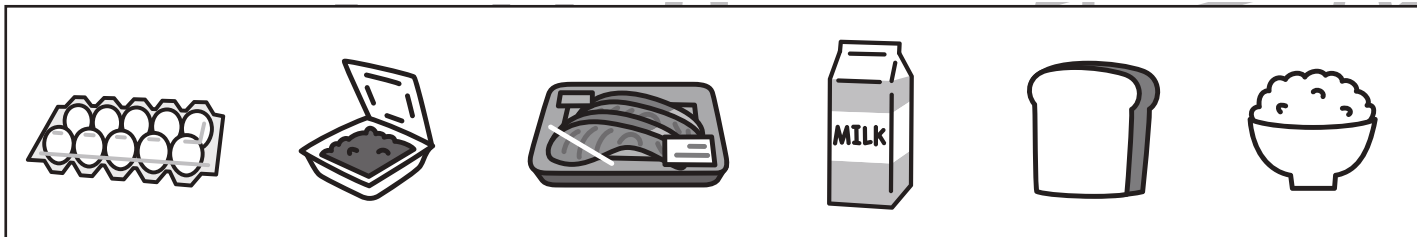
お米の入った料理をすべて選んで○をつけましょう。



水の中を泳ぐ生き物をすべて選んで○をつけましょう。



スーパーマーケットの売り場でよく見かける「食品トレイ（食品包装容器）」に入って売っているものをすべて選んで○をつけましょう。



※1. このプリントは、しながわ・目黒こどもスクールのウェブサイトダウンロードができます。無断複写・引用はご遠慮ください。

※2. このプリントを活用したオンライン授業のスケジュールは、しながわ・目黒こどもスクールのウェブサイトでご確認ください。



おうちで、やろう。

Study at home. 小学校受験の家庭学習教材

図形：構成③

左の太枠の中にある2つのパズルピースをつかって出来る形を右から選びます。パズルピースは重ねたりはしませんが、向きが変わっているものもあります。答えは1つしかない問題もあれば、2つある問題もあります。よく考えて出来る形に○をつけましょう。

--	--	--	--	--

--	--	--	--	--

--	--	--	--	--

--	--	--	--	--

--	--	--	--	--

※1. このプリントは、しながわ・目黒こどもスクールのウェブサイトでダウンロードができます。無断複写・引用はご遠慮ください。

※2. このプリントを活用したオンライン授業のスケジュールは、しながわ・目黒こどもスクールのウェブサイトでご確認ください。



おうちで、やろう。

Study at home. 小学校受験の家庭学習教材

図形：構成④

左の太枠の中にある2つのパズルピースをつかって出来る形を右から選びます。パズルピースは重ねたりはしませんが、向きが変わっているものもあります。答えは1つしかない問題もあれば、2つある問題もあります。よく考えて出来る形に○をつけましょう。

--	--	--	--	--

--	--	--	--	--

--	--	--	--	--

--	--	--	--	--

--	--	--	--	--

※1. このプリントは、しながわ・目黒こどもスクールのウェブサイトでダウンロードができます。無断複写・引用はご遠慮ください。

※2. このプリントを活用したオンライン授業のスケジュールは、しながわ・目黒こどもスクールのウェブサイトでご確認ください。



おうちで、やろう。

Study at home. 小学校受験の家庭学習教材

図形：構成⑤

左の太枠の中にある2つのパズルピースをつかって出来る形を右から選びます。パズルピースは重ねたりはしませんが、向きが変わっているものもあります。答えは1つしかない問題もあれば、2つある問題もあります。よく考えて出来る形に○をつけましょう。

※1. このプリントは、しながわ・目黒こどもスクールのウェブサイトダウンロードができます。無断複写・引用はご遠慮ください。

※2. このプリントを活用したオンライン授業のスケジュールは、しながわ・目黒こどもスクールのウェブサイトでご確認ください。

















おうちで、やろう。







Study at home. 小学校受験の家庭学習教材







図形：置き換え①







上の太い四角が約束です。それぞれの動物は矢印の右にある食べ物に変えます。この約束で一番上の四角の中の動物を食べ物に置き換えたとき、下の四角の中から正しいものを見つけて○をつけます。







 → 	 → 	 → 	 → 
---	---	---	---







	
	
	







	
	
	







	
	
	


	
	
	







	
	
	







	
	
	







	
	
	







	
	
	







	
	
	







	
	
	







	
	
	







	
	
	







	
	
	







	
	
	







	
	
	







	
	
	







	
	
	







	
	
	







	
	
	







	
	
	

※1. このプリントは、しながわ・目黒こどもスクールのウェブサイトでダウンロードができます。無断複写・引用はご遠慮ください。

※2. このプリントを活用したオンライン授業のスケジュールは、しながわ・目黒こどもスクールのウェブサイトでご確認ください。



おうちで、やろう。

Study at home. 小学校受験の家庭学習教材

図形：置き換え②

上の太い四角が約束です。それぞれの形は矢印の右にある三角に変えます。この約束で一番上の四角の中の形を三角に置き換えたとき、下の四角の中から正しいものを見つけて○をつけます。

→	→	→	→
---	---	---	---

--	--	--	--	--

※1. このプリントは、しながわ・目黒こどもスクールのウェブサイトでダウンロードができます。無断複写・引用はご遠慮ください。

※2. このプリントを活用したオンライン授業のスケジュールは、しながわ・目黒こどもスクールのウェブサイトでご確認ください。

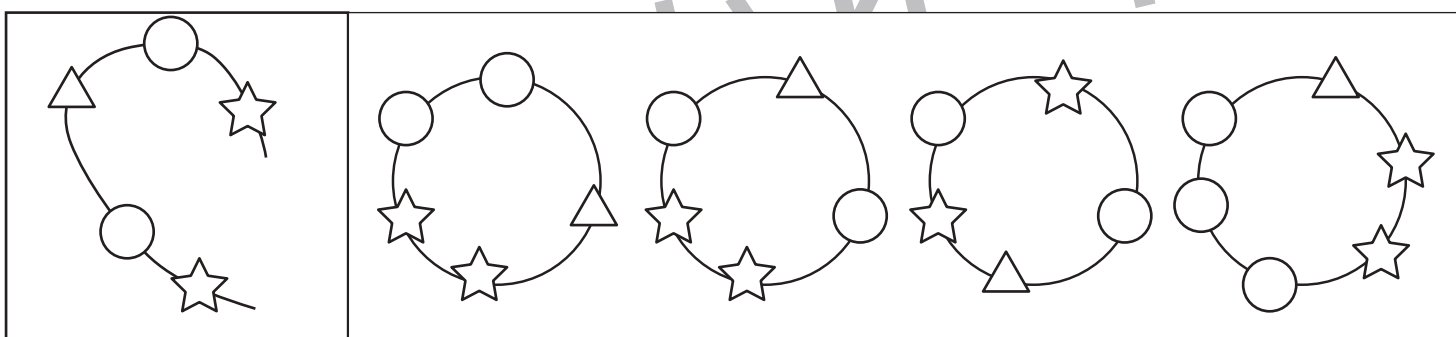
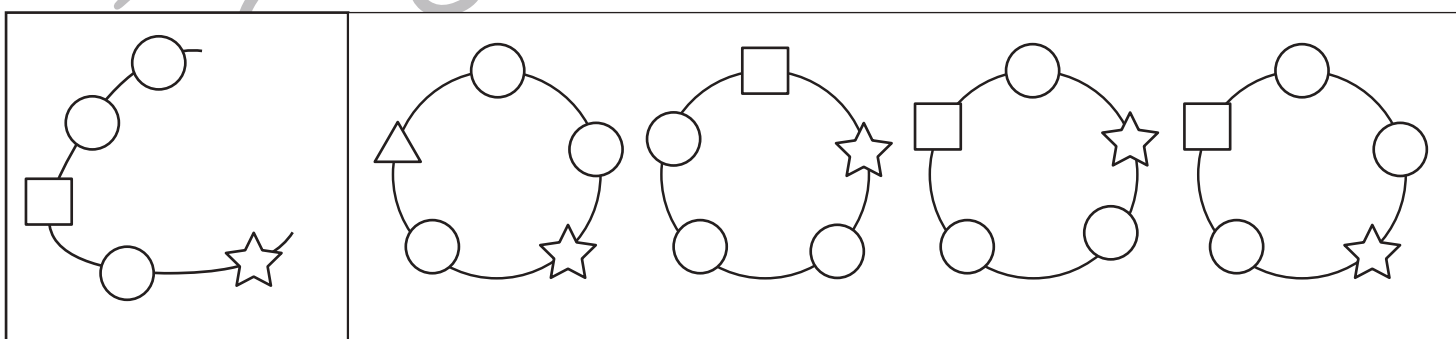
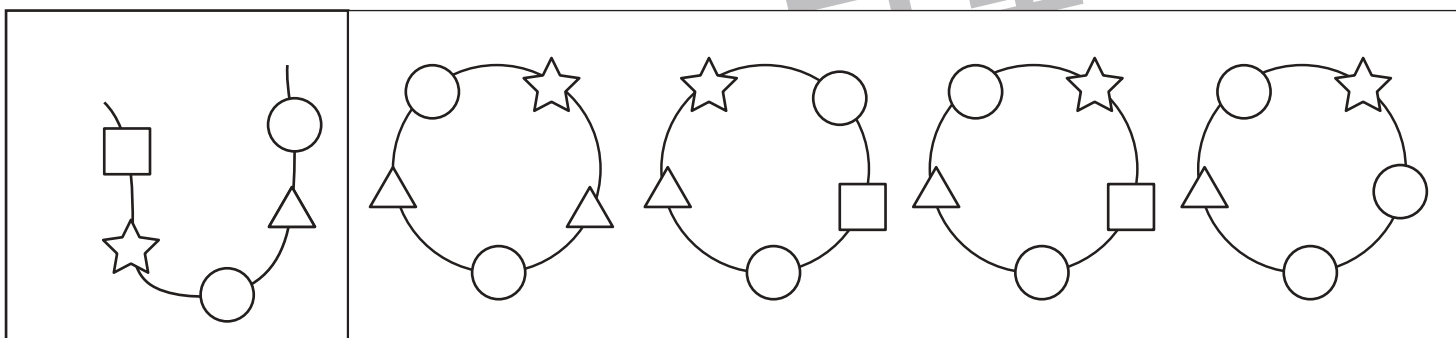
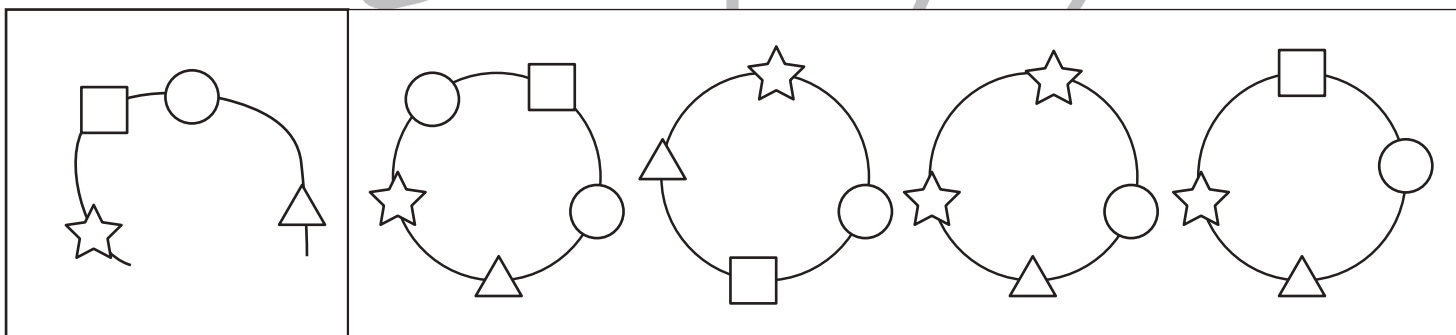
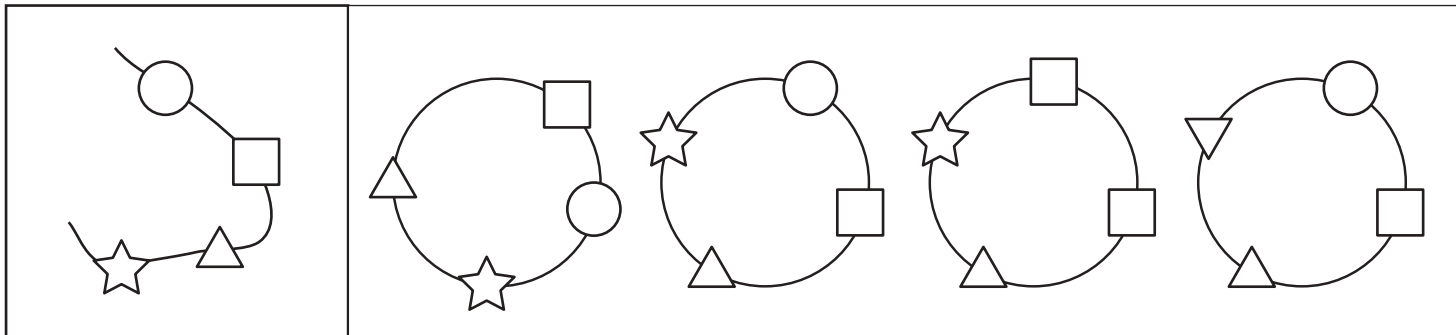


おうちで、やろう。

Study at home. 小学校受験の家庭学習教材

推理：輪つなぎ①

左の四角の中はひもにいろいろなビーズを通したものです。このひもの端と端を結びプレスレットを作ると、右の四角の中のどれになりますか。正しいものに○をつけます。プレスレットは裏返しにしてはいけません。



※1. このプリントは、しながわ・目黒こどもスクールのウェブサイトからダウンロードできます。無断複写・引用はご遠慮ください。

※2. このプリントを活用したオンライン授業のスケジュールは、しながわ・目黒こどもスクールのウェブサイトでご確認ください。

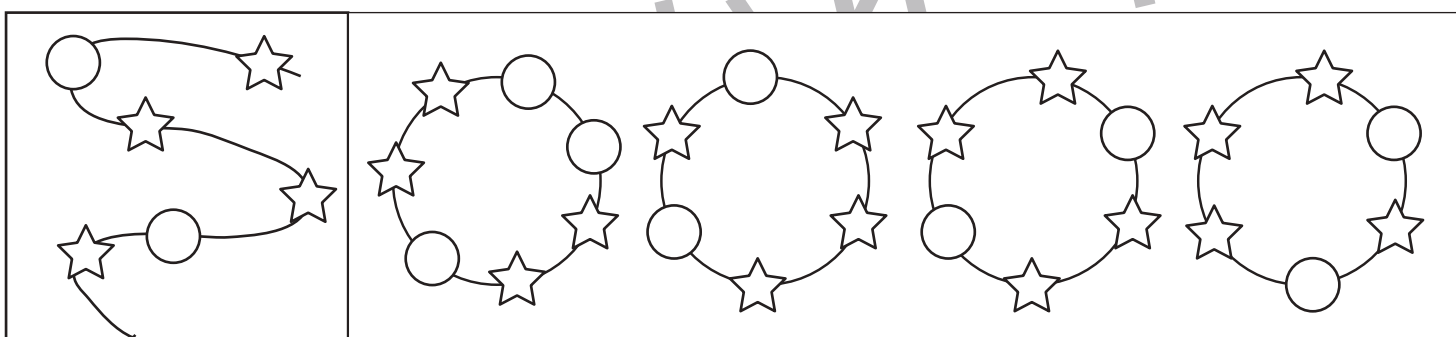
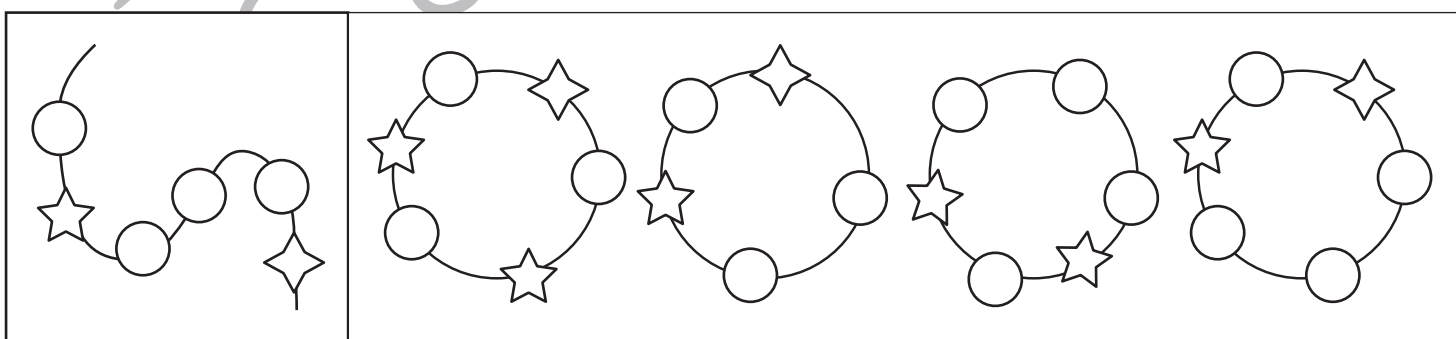
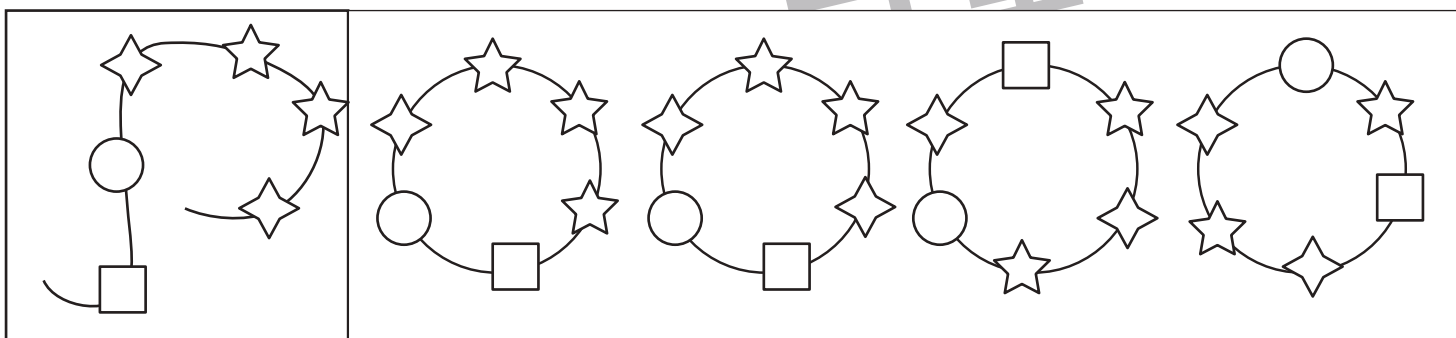
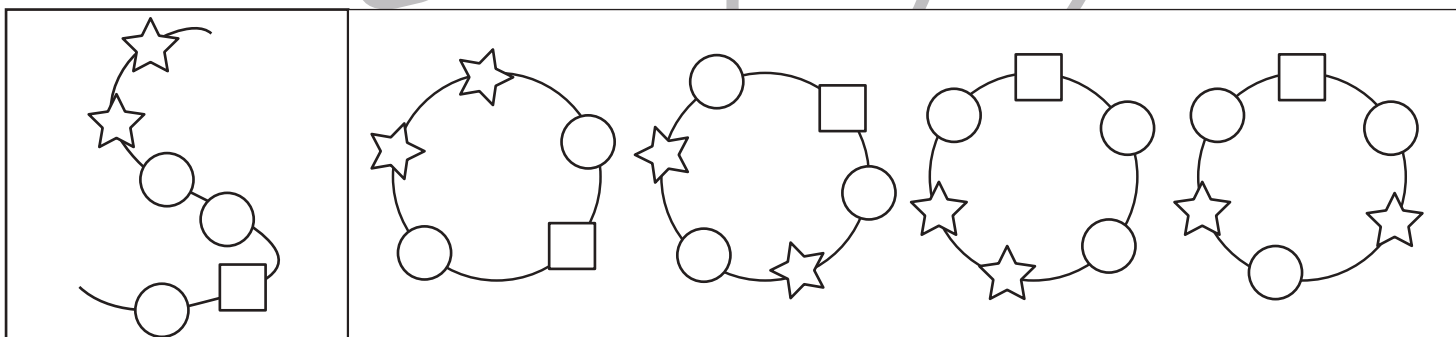
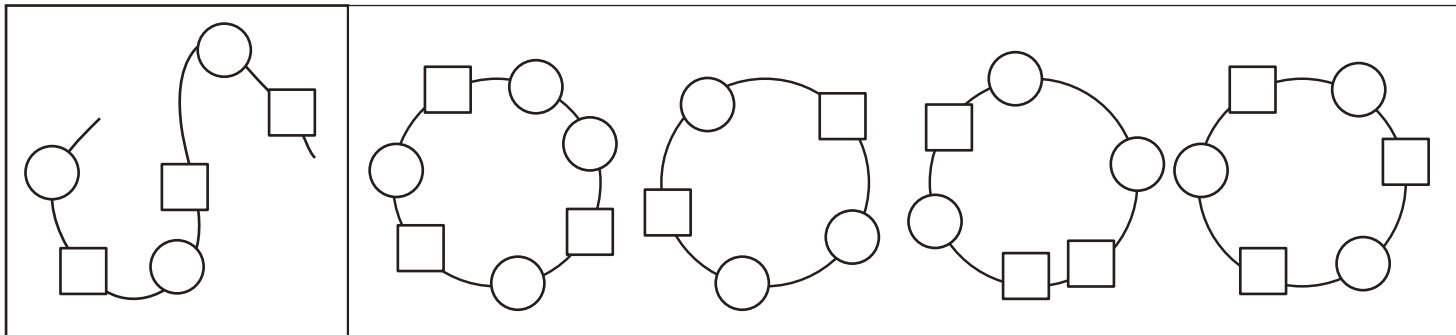


おうちで、やろう。

Study at home. 小学校受験の家庭学習教材

推理：輪つなぎ②

左の四角の中はひもにいろいろなビーズを通したものです。このひもの端と端を結びプレスレットを作ると、右の四角の中のどれになりますか。正しいものに○をつけます。プレスレットは裏返しにしてはいけません。



※1. このプリントは、しながわ・目黒こどもスクールのウェブサイトでダウンロードができます。無断複写・引用はご遠慮ください。

※2. このプリントを活用したオンライン授業のスケジュールは、しながわ・目黒こどもスクールのウェブサイトでご確認ください。