



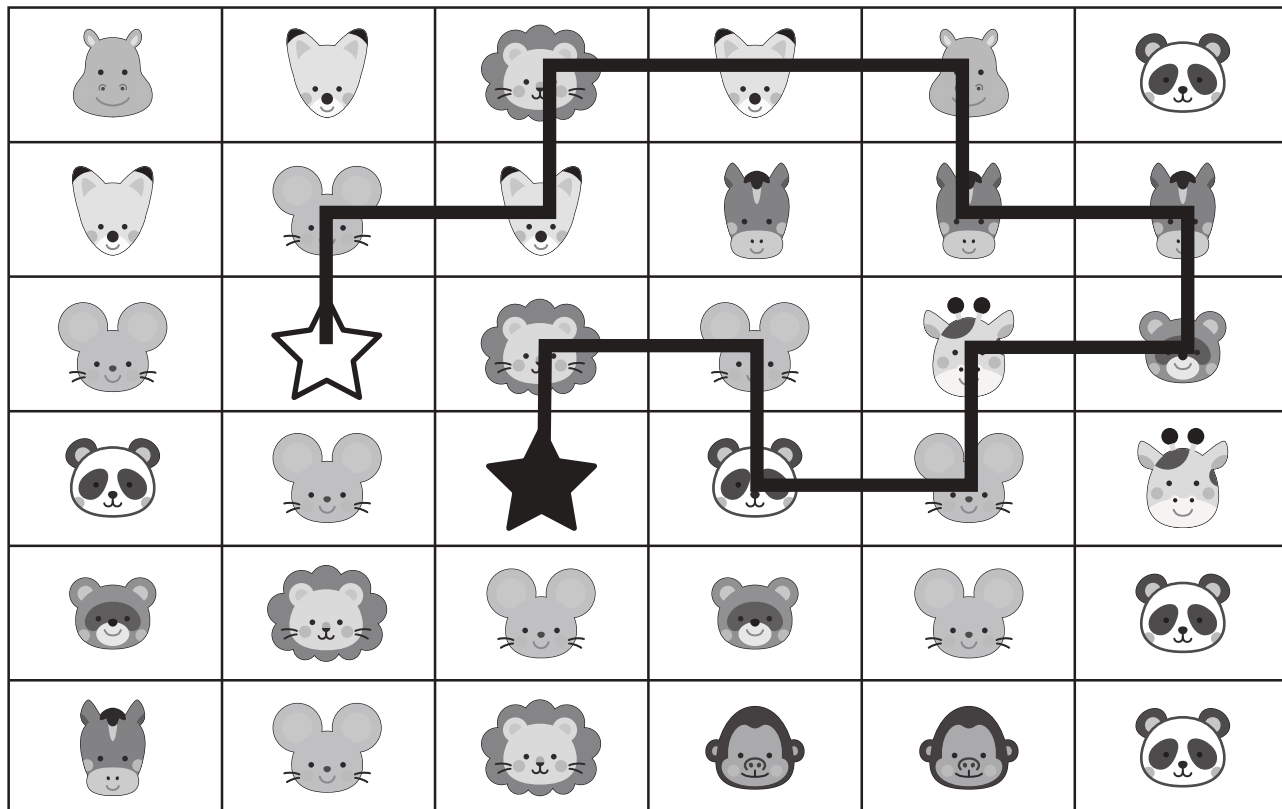
おうちで、やろう。

Study at home. 小学校受験の家庭学習教材

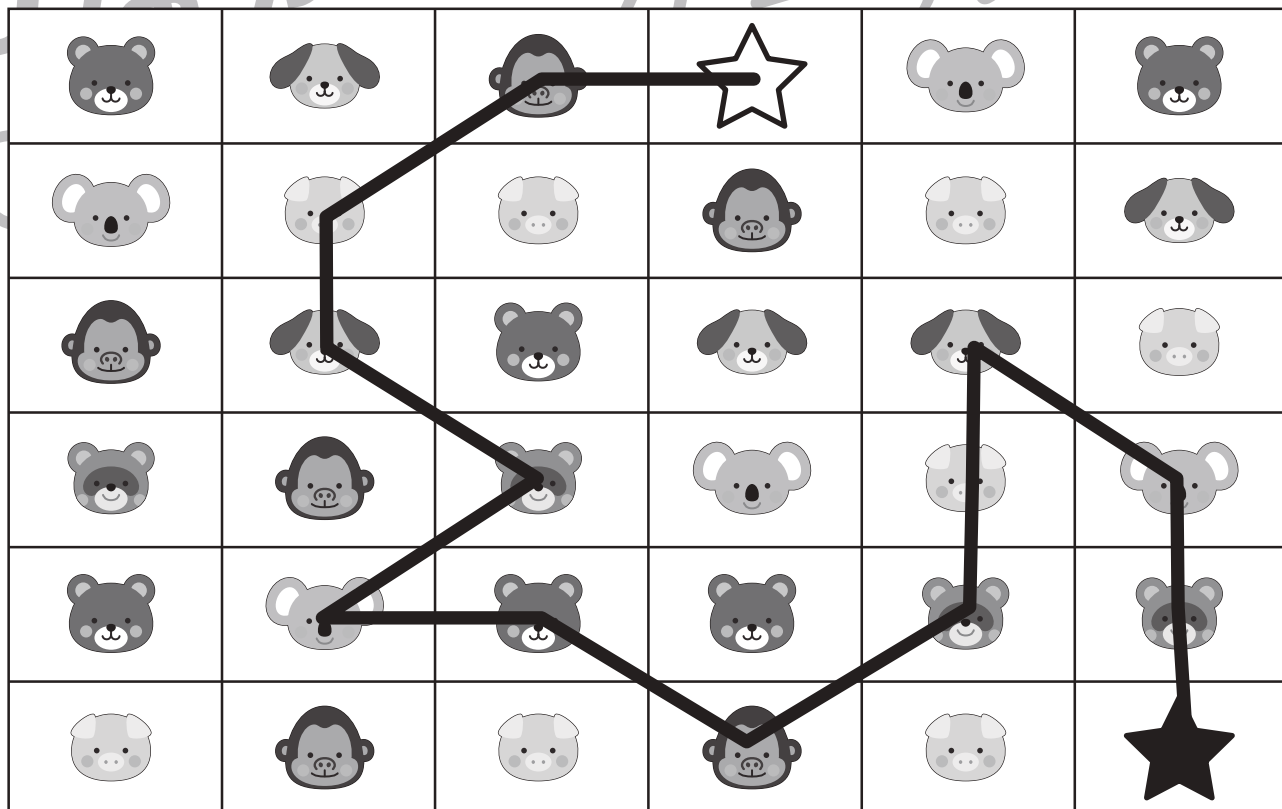
指示の聞き取り③

別紙【指示の聞き取り②(問題文)】を使用します。

①



②



※1. このプリントは、しながわ・目黒こどもスクールのウェブサイトでダウンロードができます。無断複写・引用はご遠慮ください。

※2. このプリントを活用したオンライン授業のスケジュールは、しながわ・目黒こどもスクールのウェブサイトでご確認ください。

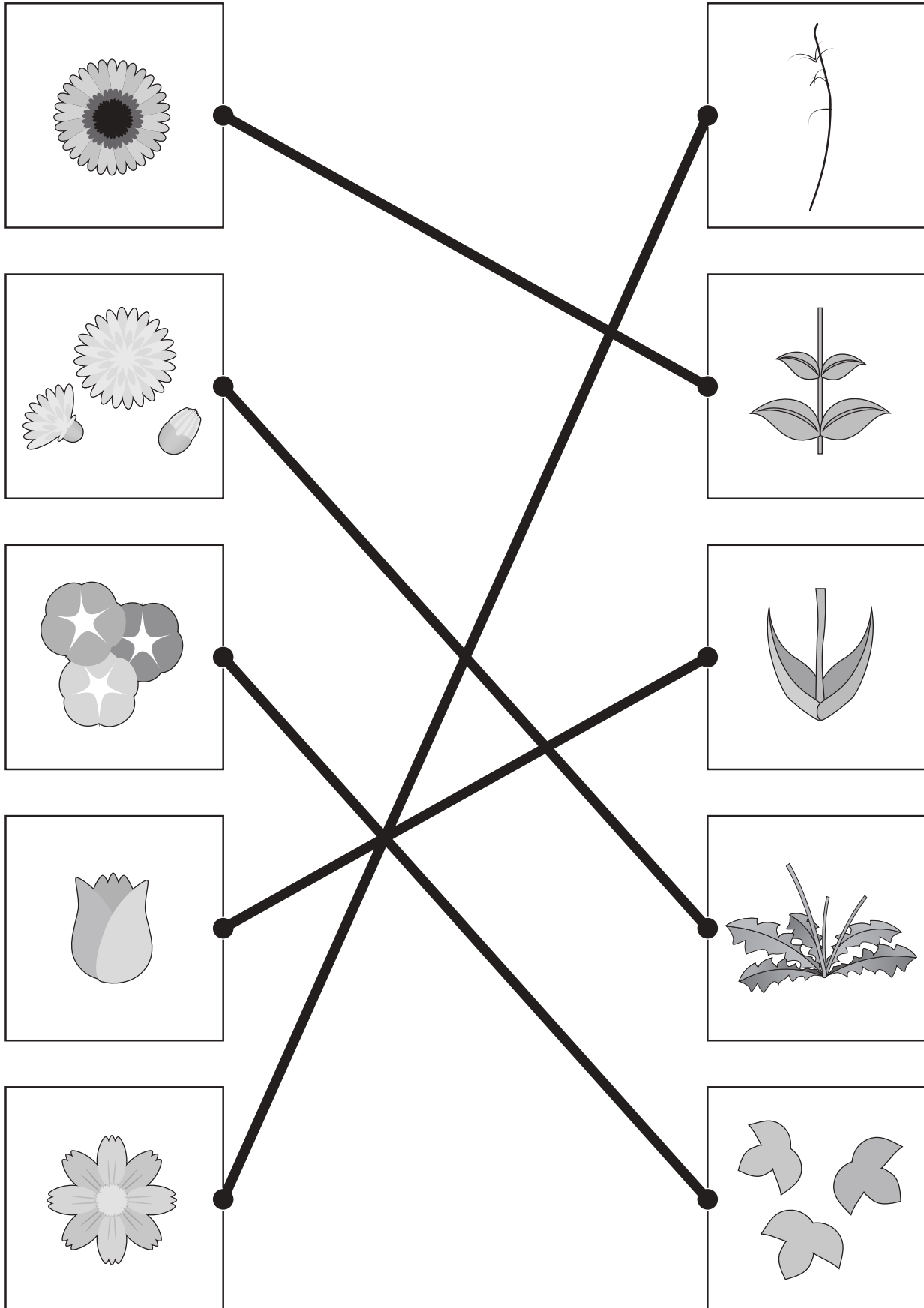


おうちで、やろう。

Study at home. 小学校受験の家庭学習教材

常識：植物①

左の花の葉っぱを右から選んで点と点をむすびます。



※1. このプリントは、しながわ・目黒こどもスクールのウェブサイトでダウンロードができます。無断複写・引用はご遠慮ください。
※2. このプリントを活用したオンライン授業のスケジュールは、しながわ・目黒こどもスクールのウェブサイトでご確認ください。

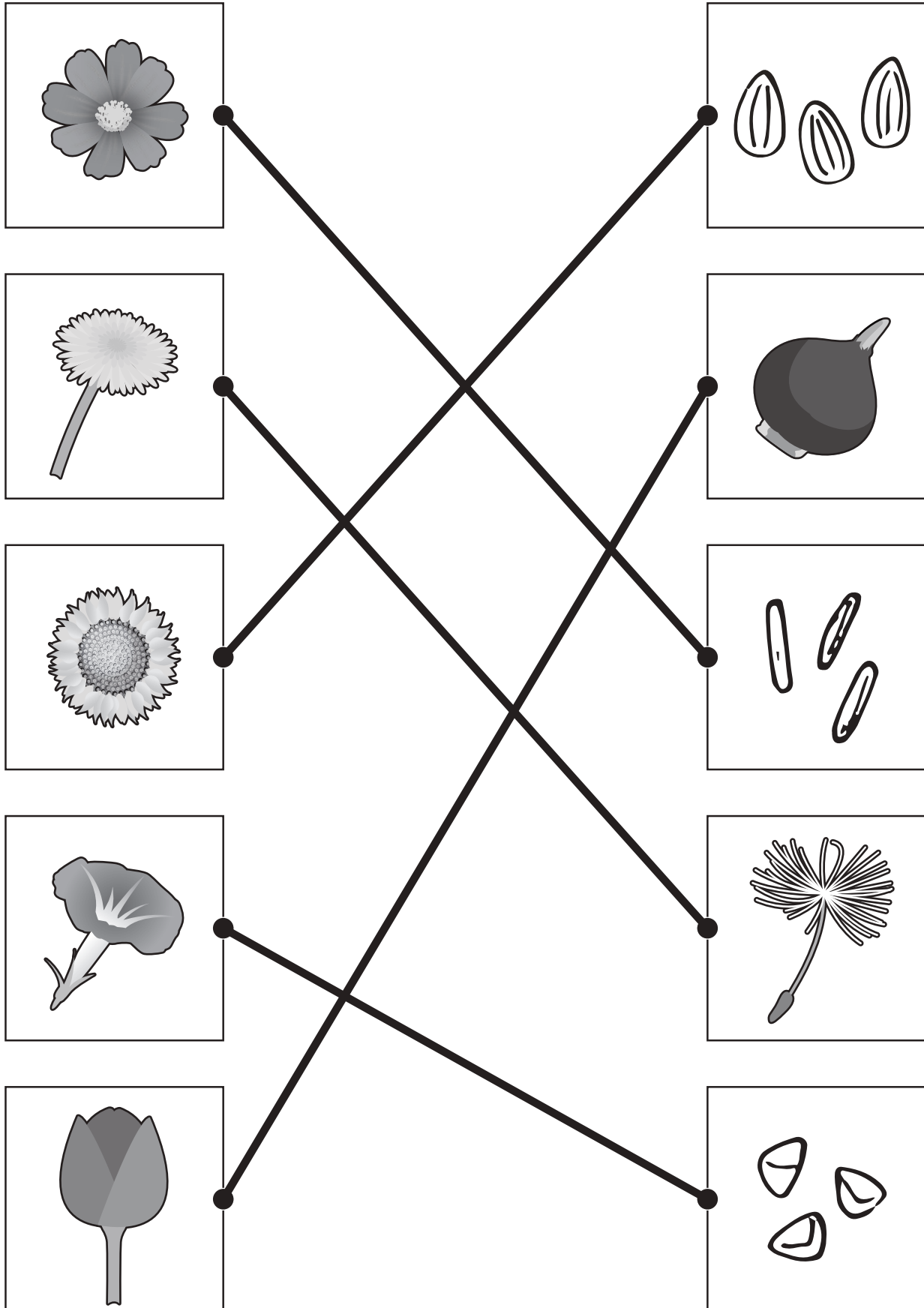


おうちで、やろう。

Study at home. 小学校受験の家庭学習教材

常識：植物②

左の花の種や球根を右から選んで点と点をむすびます。



※1. このプリントは、しながわ・目黒こどもスクールのウェブサイトからダウンロードできます。無断複写・引用はご遠慮ください。

※2. このプリントを活用したオンライン授業のスケジュールは、しながわ・目黒こどもスクールのウェブサイトでご確認ください。

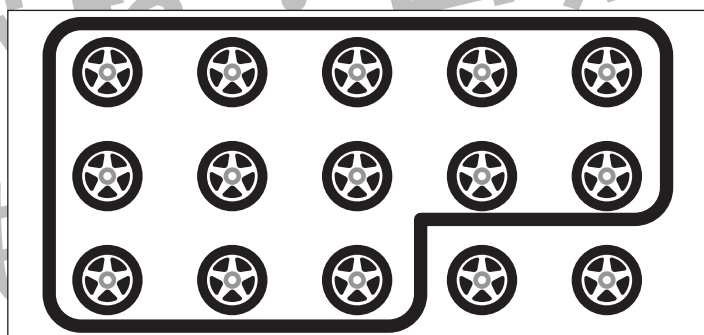







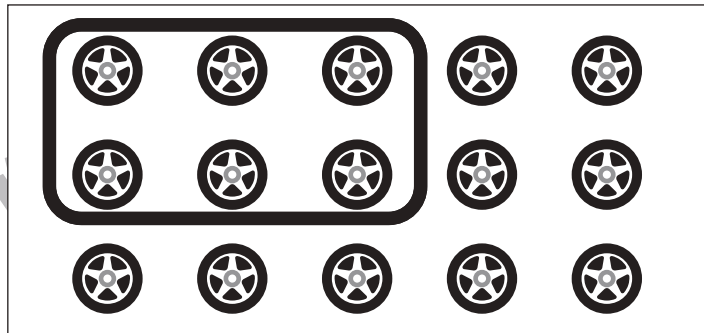


おうちで、やろう。

Study at home. 小学校受験の家庭学習教材

数量：タイヤの数①

左の四角の中の乗り物のタイヤの数をかぞえます。その数だけ右の四角の中のタイヤの数だけ囲みます。



※1. このプリントは、しながわ・目黒こどもスクールのウェブサイトからダウンロードできます。無断複写・引用はご遠慮ください。
※2. このプリントを活用したオンライン授業のスケジュールは、しながわ・目黒こどもスクールのウェブサイトでご確認ください。













おうちで、やろう。

Study at home. 小学校受験の家庭学習教材

数量：タイヤの数②

左の四角の中の乗り物があります。同じ枠にいる人が吹き出しの中の乗り物に乗って出かけていくようです。左の四角の中の乗り物を借りて出掛けると、残った乗り物のタイヤの数は合わせていくつですか。その数だけ右の四角のタイヤを囲みます。



※1. このプリントは、しながわ・目黒こどもスクールのウェブサイトでダウンロードができます。無断複写・引用はご遠慮ください。

※2. このプリントを活用したオンライン授業のスケジュールは、しながわ・目黒こどもスクールのウェブサイトでご確認ください。




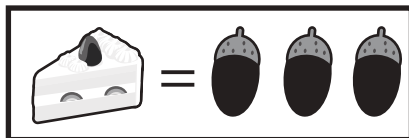
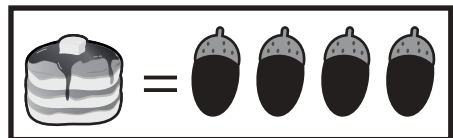


おうちで、やろう。

Study at home. 小学校受験の家庭学習教材

数量：置き換え③

上の太い四角の中がお約束です。それぞれのおやつは右のドングリの数で買うことができます。左の四角のおやつを買うためにはドングリはいくつあればいいですか。その数だけ四角のドングリを○で囲みます。



--	--

--	--

--	--

--	--

--	--

※1. このプリントは、しながわ・目黒こどもスクールのウェブサイトからダウンロードできます。無断複写・引用はご遠慮ください。
 ※2. このプリントを活用したオンライン授業のスケジュールは、しながわ・目黒こどもスクールのウェブサイトでご確認ください。






















おうちで、よろう。





Study at home. 小学校受験の家庭学習教材





数量：置き換え④





上の太い四角の中がお約束です。それぞれのおやつは右のドングリの数で買うことができます。また、ドングリは葉っぱ3枚でドングリ1つに交換できます。この約束のとき、左の四角のおやつは何枚の葉っぱで買うことができますか。その数だけ一番右の四角の葉っぱを○で囲みます。 ※難しい場合は真ん中の空いている四角にドングリで買う場合の数をかいてから取り組みましょう。





 =    	 =   	 =  	 =   
--	---	---	---

	 ○×3	
---	--	--

 	 ○×4	
--	--	---

 	 ○×5	
---	--	--

 	 ○×6	
---	--	--

 	 ○×7	
---	--	--

※1. このプリントは、しながわ・目黒こどもスクールのウェブサイトでダウンロードができます。無断複写・引用はご遠慮ください。

※2. このプリントを活用したオンライン授業のスケジュールは、しながわ・目黒こどもスクールのウェブサイトでご確認ください。





















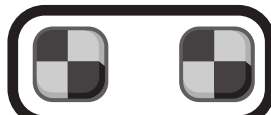


おうちで、やろう。






Study at home. 小学校受験の家庭学習教材






数量：置き換え⑤


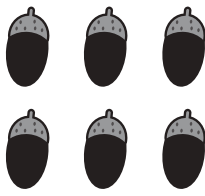




上の太い四角の中がお約束です。それぞれのおやつは右のドングリの数で買うことができます。また、ドングリは葉っぱ3枚でドングリ1つに交換できます。この約束のとき、左の四角の枚数だけ葉っぱとドングリを持っているとき、右の四角の中のおやつはいくつ買うことができますか。その数だけおやつを○で囲みます。 ※難しい場合は真ん中の空いている四角にドングリで買う場合の数をかいてから取り組みましょう。







 =    	 =   	 =  	 =   
--	---	---	---

	 ○×4	  
--	--	---

	 ○×6	  
---	--	---

	 ○×8	  
--	--	---

 	 ○×9	  
--	--	---

 	 ○×8	  
--	--	---

※1. このプリントは、しながわ・目黒こどもスクールのウェブサイトでダウンロードができます。無断複写・引用はご遠慮ください。
※2. このプリントを活用したオンライン授業のスケジュールは、しながわ・目黒こどもスクールのウェブサイトでご確認ください。



おうちで、やろう。

Study at home. 小学校受験の家庭学習教材

数量：置き換え⑥

上の太い四角の中がお約束です。それぞれの食べ物は右の飴の数で交換できます。また、飴は貝殻2つに交換することもできます。

①～③：左の四角の中の食べ物は何枚の貝殻と交換できますか。その数だけ右の四角の中の貝殻を○で囲みます。

④～⑤：左の四角の貝殻でいくつの食べ物と交換できますか。その数だけ右の四角の中にある食べ物を○で囲みます。



①

②

③

④

⑤

※1. このプリントは、しながわ・目黒こどもスクールのウェブサイトからダウンロードできます。無断複写・引用はご遠慮ください。

※2. このプリントを活用したオンライン授業のスケジュールは、しながわ・目黒こどもスクールのウェブサイトでご確認ください。