





おうちで、やろう。

Study at home. 小学校受験の家庭学習教材

常識：季節④

それぞれの四角の中で違う季節のものを見つけて × をつけます。



※1. このプリントは、しながわ・目黒こどもスクールのウェブサイトでダウンロードができます。無断複写・引用はご遠慮ください。
 ※2. このプリントを活用したオンライン授業のスケジュールは、しながわ・目黒こどもスクールのウェブサイトでご確認ください。



おうちで、やろう。

Study at home. 小学校受験の家庭学習教材

図形：重ね⑦

それぞれの板は透明の板でできています。

左の四角の中の二枚をぴったり重ねるとどのように見えるかを右の四角の中から選び○をつけます。

--	--	--	--	--	--

--	--	--	--	--	--

--	--	--	--	--	--

--	--	--	--	--	--

--	--	--	--	--	--

※1. このプリントは、しながわ・目黒こどもスクールのウェブサイトでダウンロードができます。無断複写・引用はご遠慮ください。

※2. このプリントを活用したオンライン授業のスケジュールは、しながわ・目黒こどもスクールのウェブサイトでご確認ください。




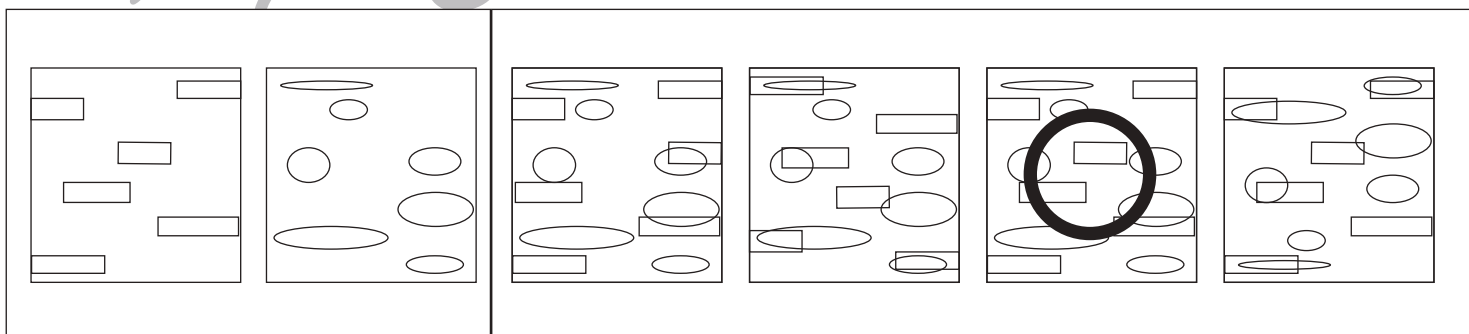
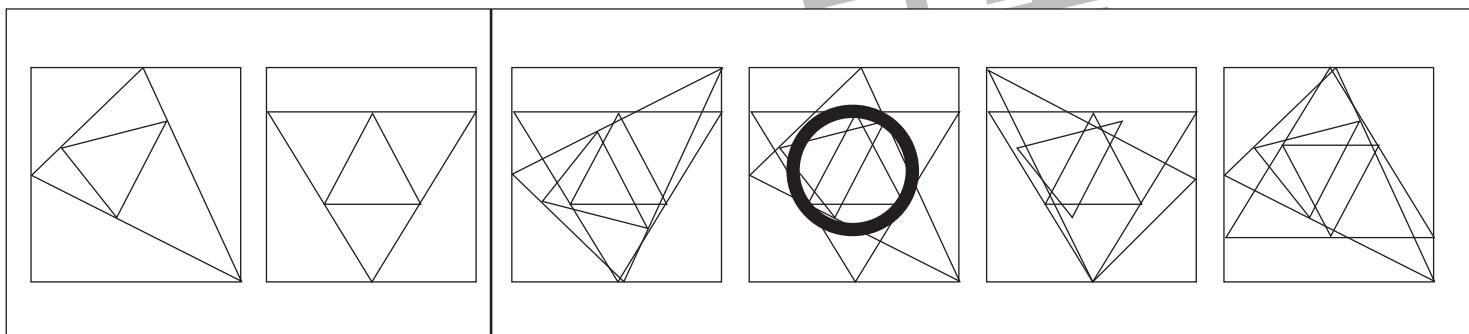
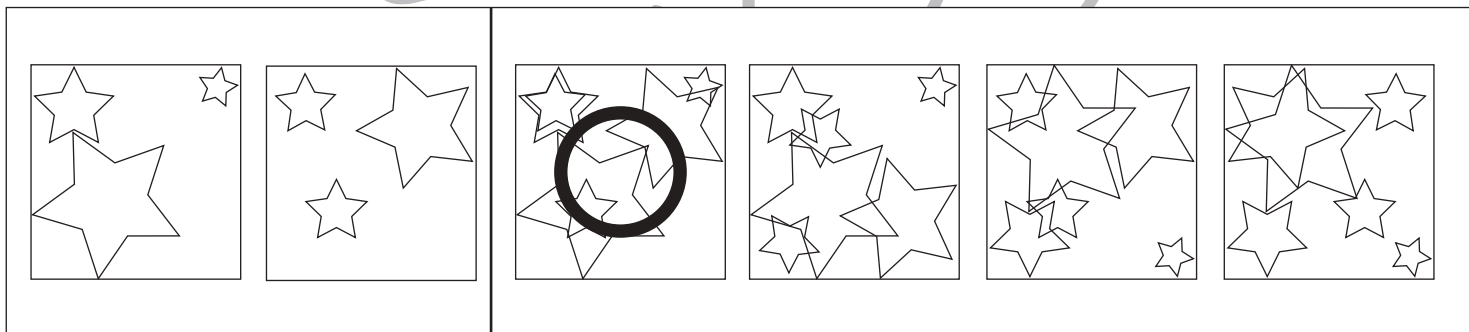
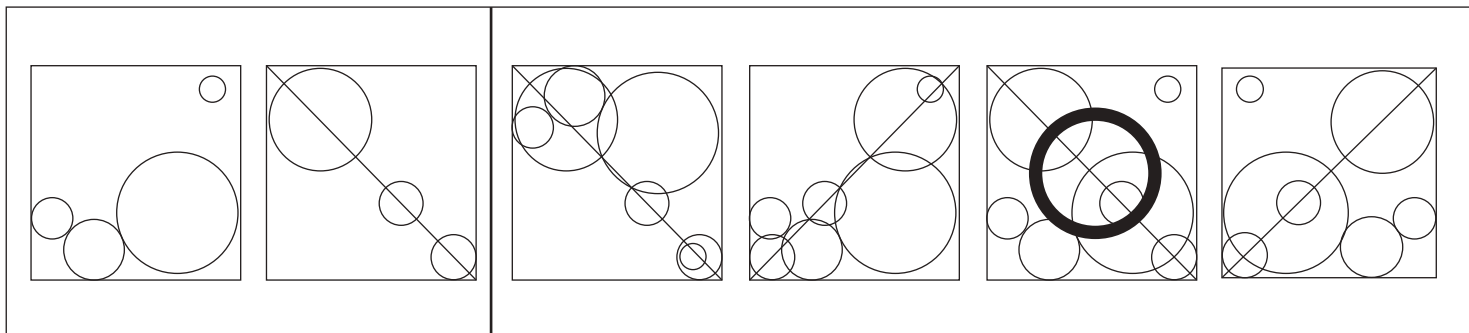
おうちで、やろう。

Study at home. 小学校受験の家庭学習教材

図形：重ね⑧

それぞれの板は透明の板でできています。

左の四角の中の二枚をぴったり重ねるとどのように見えるかを右の四角の中から選び○をつけます。



※1. このプリントは、しながわ・目黒こどもスクールのウェブサイトでダウンロードができます。無断複写・引用はご遠慮ください。

※2. このプリントを活用したオンライン授業のスケジュールは、しながわ・目黒こどもスクールのウェブサイトでご確認ください。



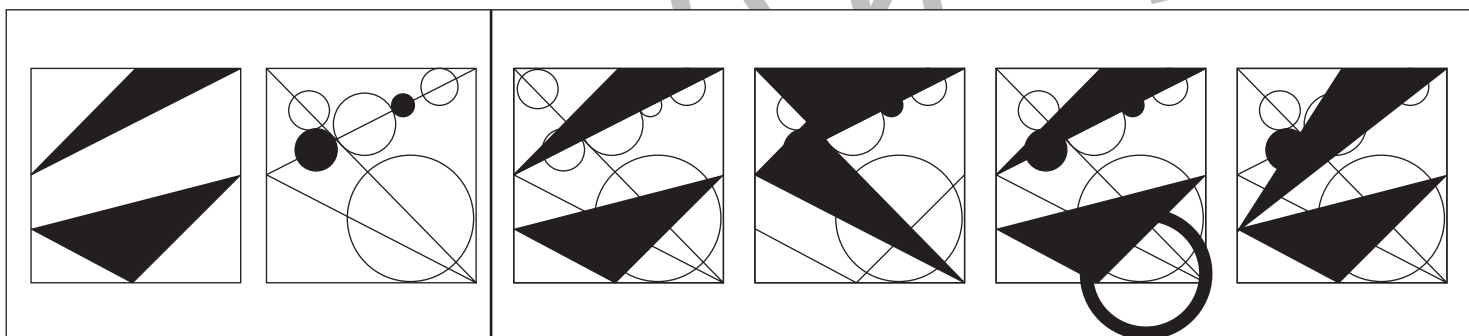

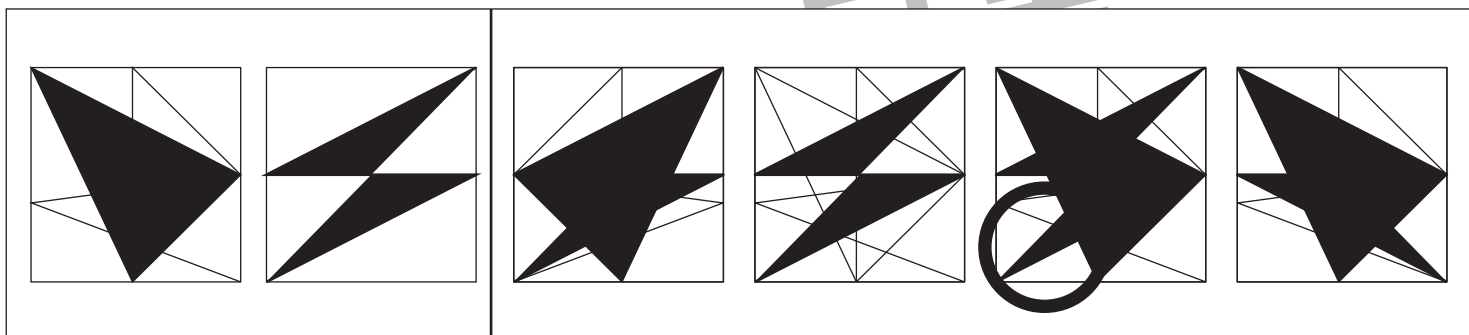
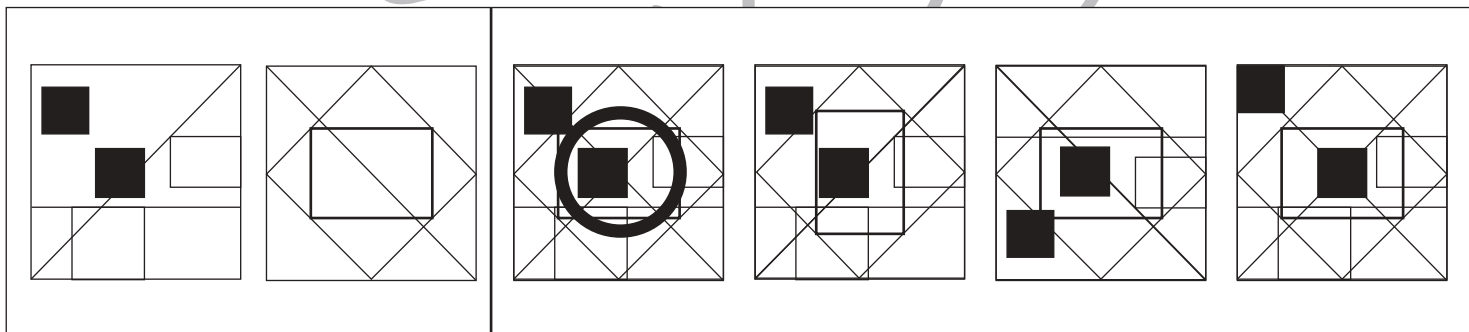
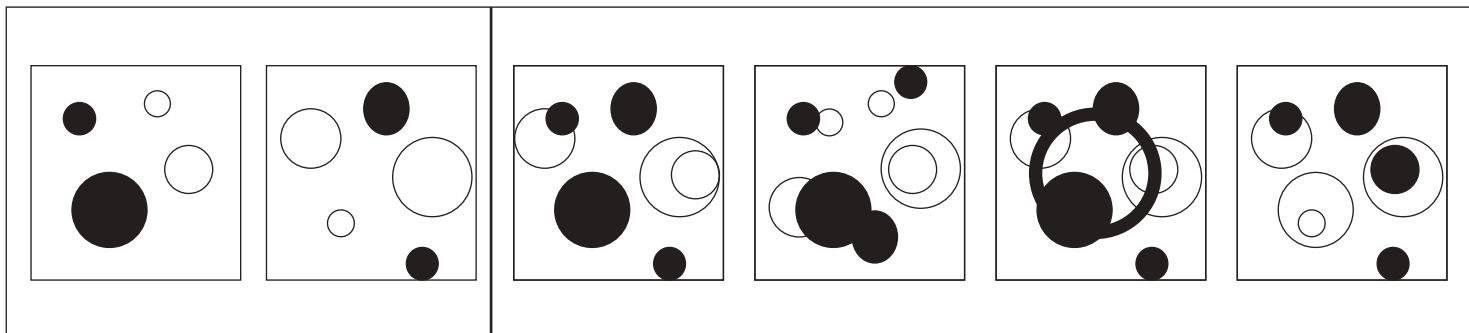
おうちで、やろう。

Study at home. 小学校受験の家庭学習教材

図形：重ね⑨

それぞれの板は透明の板でできています。

左の四角の中の二枚をぴったり重ねるとどのように見えるかを右の四角の中から選び○をつけます。



※1. このプリントは、しながわ・目黒こどもスクールのウェブサイトでダウンロードができます。無断複写・引用はご遠慮ください。

※2. このプリントを活用したオンライン授業のスケジュールは、しながわ・目黒こどもスクールのウェブサイトでご確認ください。



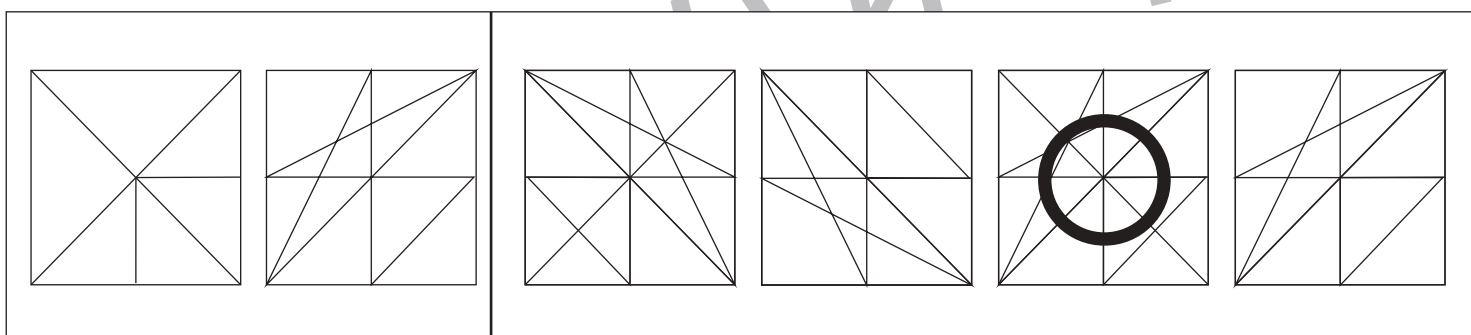
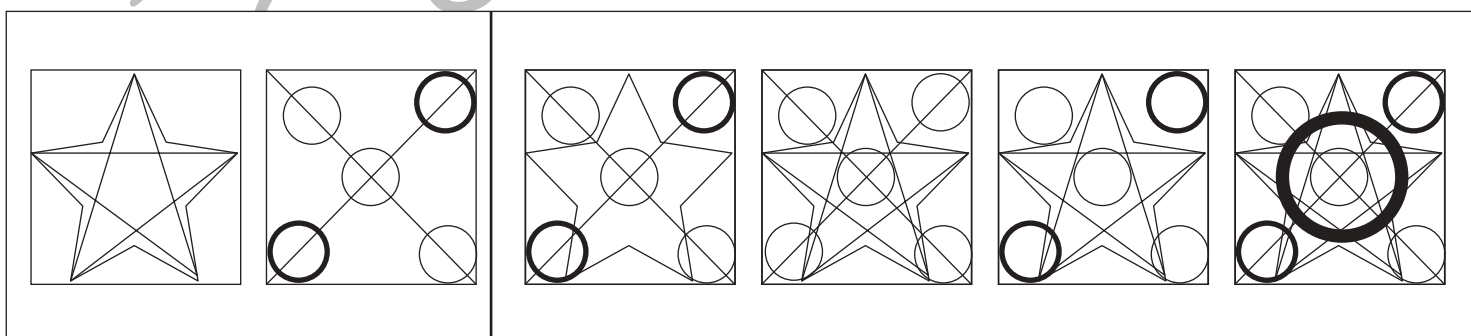
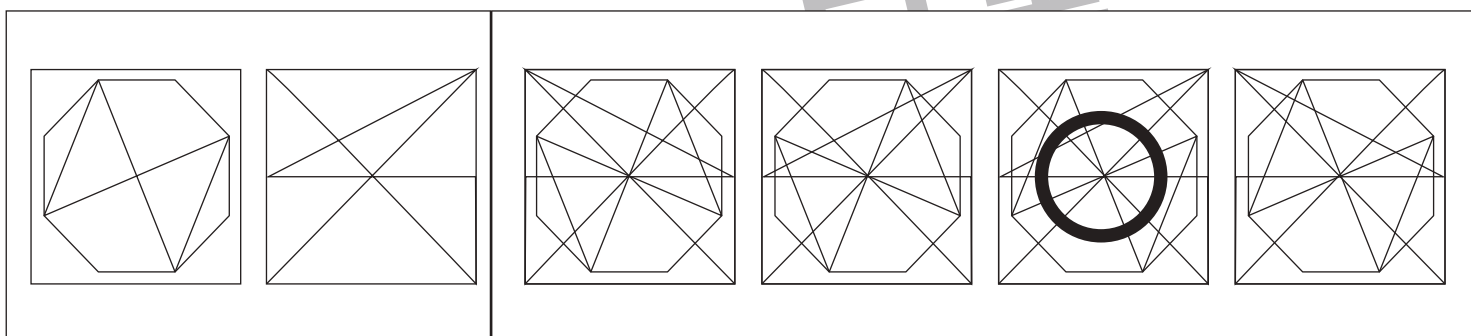
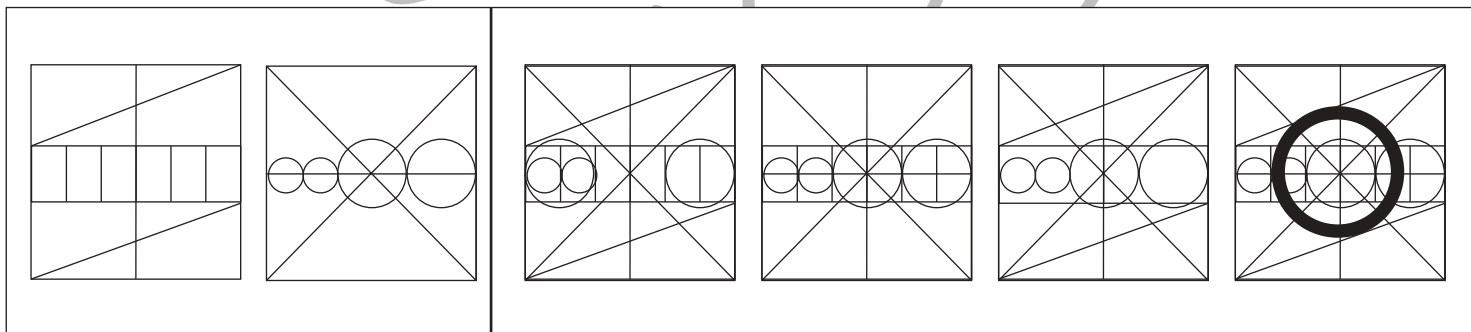
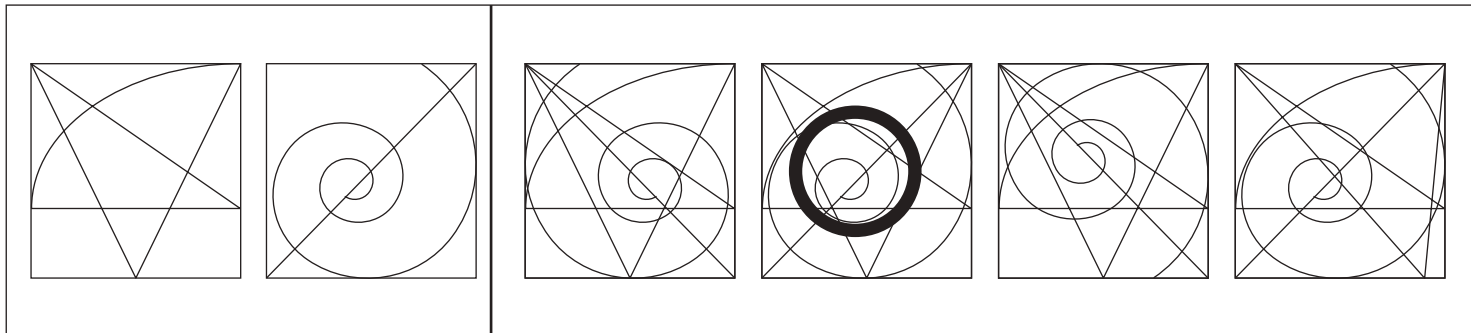
おうちで、やろう。

Study at home. 小学校受験の家庭学習教材

図形：重ね⑩

それぞれの板は透明の板でできています。

左の四角の中の二枚をぴったり重ねるとどのように見えるかを右の四角の中から選び○をつけます。



※1. このプリントは、しながわ・目黒こどもスクールのウェブサイトでダウンロードができます。無断複写・引用はご遠慮ください。

※2. このプリントを活用したオンライン授業のスケジュールは、しながわ・目黒こどもスクールのウェブサイトでご確認ください。

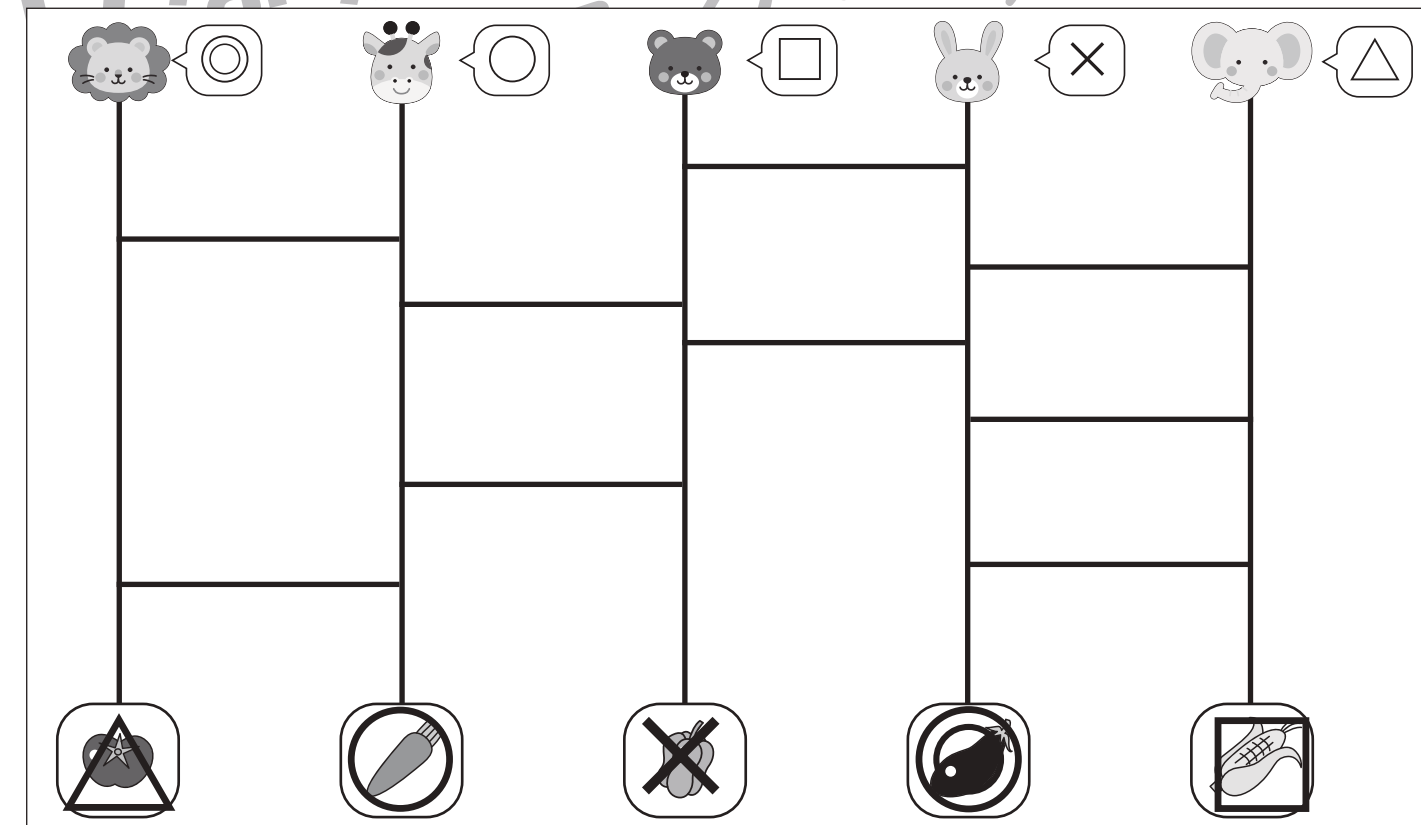
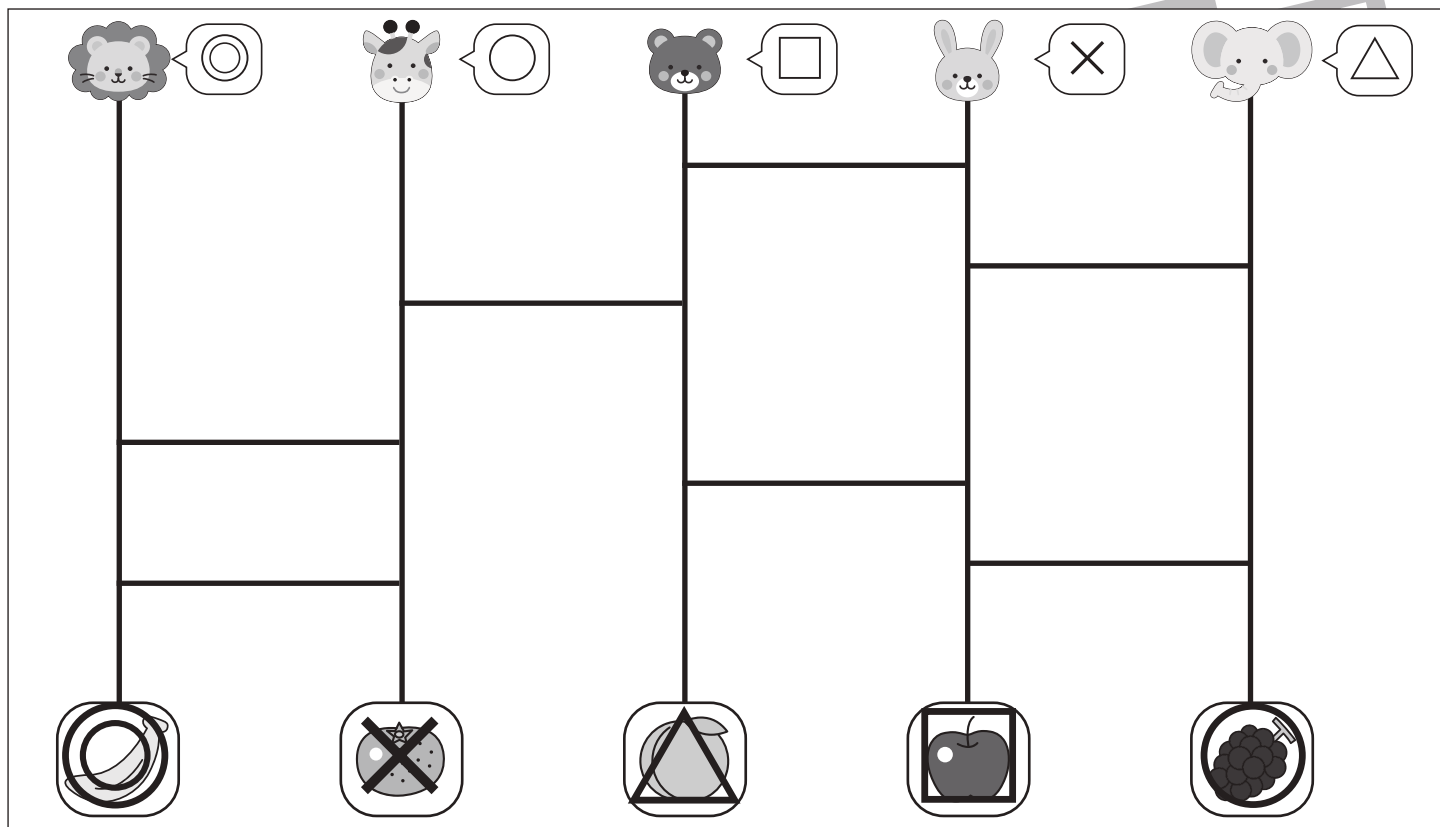


おうちで、やろう。

Study at home. 小学校受験の家庭学習教材

推理：あみだくじ①

上の動物たちがあみだくじを進んでいくと下のどの食べ物に着きますか。それぞれの動物の吹き出しの中にある記号をつけます。
※あみだくじのルール：①上から下へ進みます。道は戻ってはいけません。②途中で曲がり角があったら必ず曲がります。



※1. このプリントは、しながわ・目黒こどもスクールのウェブサイトでダウンロードができます。無断複写・引用はご遠慮ください。
※2. このプリントを活用したオンライン授業のスケジュールは、しながわ・目黒こどもスクールのウェブサイトでご確認ください。

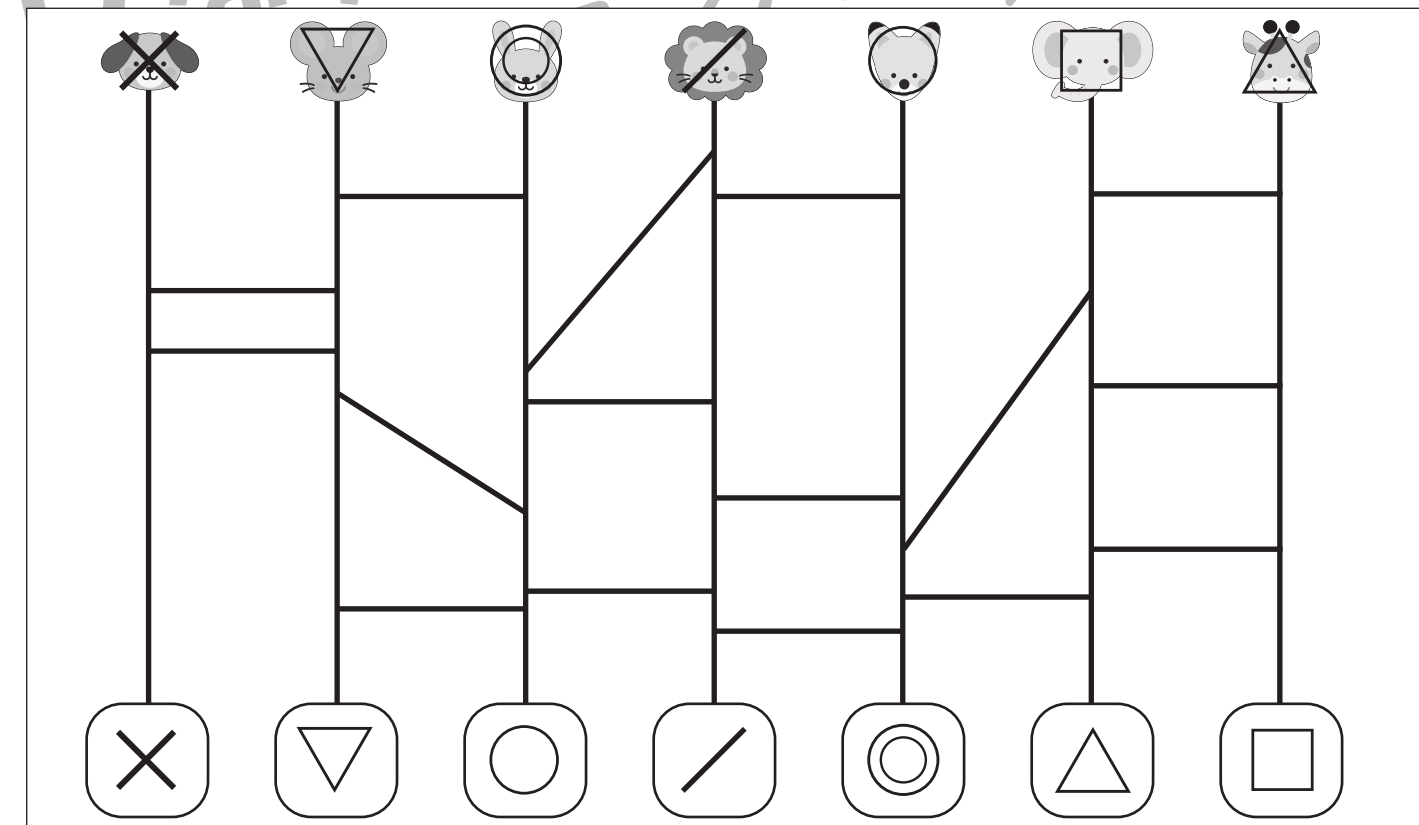
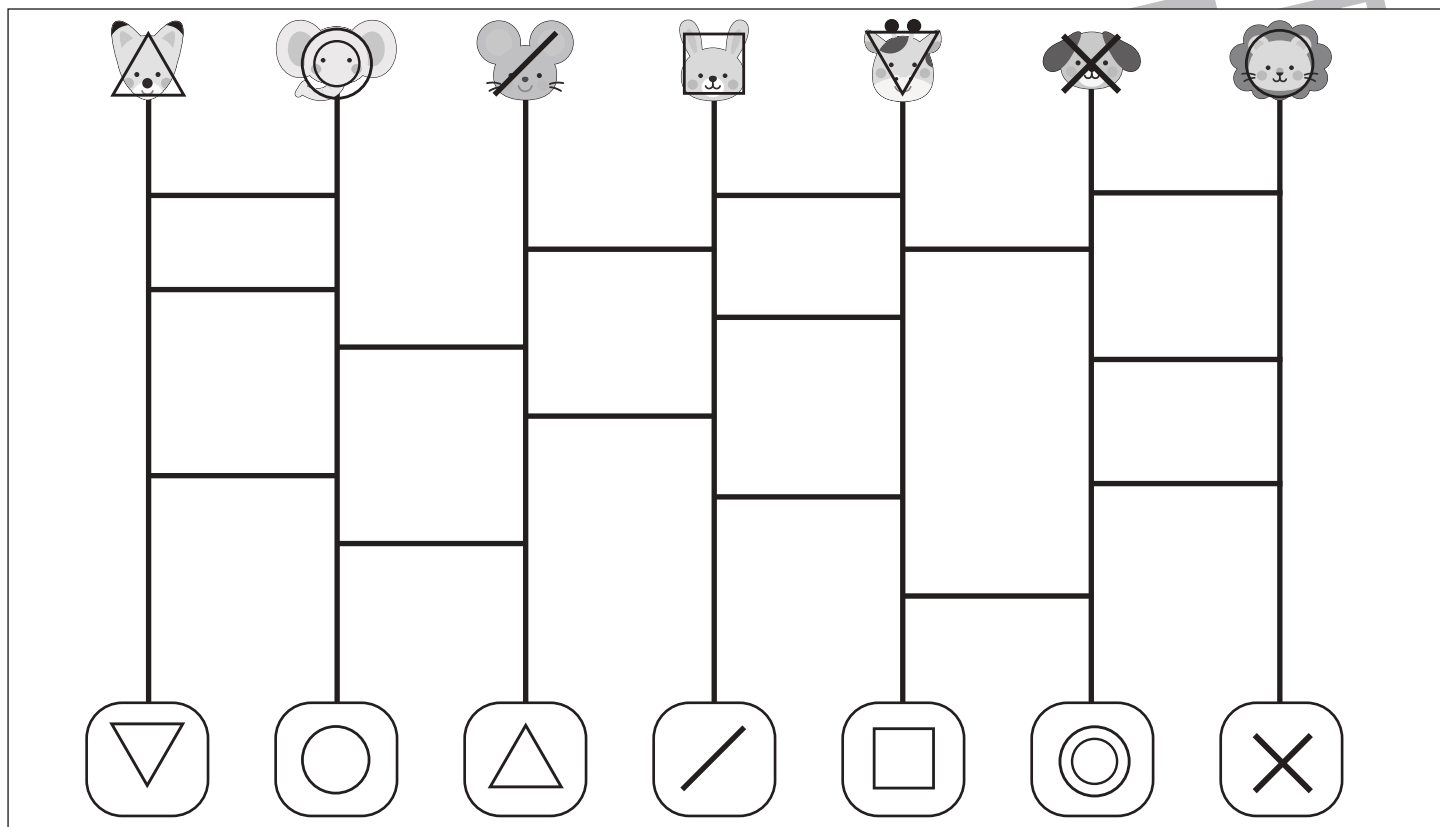


おうちで、やろう。

Study at home. 小学校受験の家庭学習教材

推理：あみだくじ②

上の動物たちがあみだくじを進んでいくと下のどの記号に着きますか。ついた場所の記号をそれぞれの動物にかきます。
※あみだくじのルール：①上から下へ進みます。道は戻ってはいけません。②途中で曲がり角があったら必ず曲がります。



※1. このプリントは、しながわ・目黒こどもスクールのウェブサイトでダウンロードができます。無断複写・引用はご遠慮ください。
 ※2. このプリントを活用したオンライン授業のスケジュールは、しながわ・目黒こどもスクールのウェブサイトでご確認ください。



おうちで、やろう。

Study at home. 小学校受験の家庭学習教材

推理：広さ⑤

左の四角の中の灰色の部分の広さを考えます。

右の四角の中で灰色の部分の広さが左の四角の中と同じ広さのものを見つけて○をつけます。

※1. このプリントは、しながわ・目黒こどもスクールのウェブサイトでダウンロードができます。無断複写・引用はご遠慮ください。

※2. このプリントを活用したオンライン授業のスケジュールは、しながわ・目黒こどもスクールのウェブサイトでご確認ください。



おうちで、やろう。

Study at home. 小学校受験の家庭学習教材

推理：広さ⑥

左の四角の中の灰色の部分の広さを考えます。

右の四角の中で灰色の部分の広さが左の四角の中と同じ広さのものを見つけて○をつけます。

※1. このプリントは、しながわ・目黒こどもスクールのウェブサイトでダウンロードができます。無断複写・引用はご遠慮ください。
 ※2. このプリントを活用したオンライン授業のスケジュールは、しながわ・目黒こどもスクールのウェブサイトでご確認ください。