



おうちで、やろう。

Study at home. 小学校受験の家庭学習教材




記憶：絵の記憶④ 記憶用紙

別紙『記憶 - 絵の記憶④』を行う際に使用します。記憶用紙は点線で折って(切って)、①、②、③の問題の際にそれぞれ 20 秒間ずつ記憶させてください。記憶する際は問題用紙は裏返しにします。記憶後①、②、③それぞれの問題に答えましょう。







①～③: 記憶したものと同一場所に記号をかきます。

※5月11日(月)のオンライン授業では実施中に記憶する絵を画面で表示します。







①

						
---	--	--	---	--	--	---

②

③

※1. このプリントは、しながわ・目黒こどもスクールのウェブサイトでダウンロードができます。無断複写・引用はご遠慮ください。

※2. このプリントを活用したオンライン授業のスケジュールは、しながわ・目黒こどもスクールのウェブサイトでご確認ください。



おうちで、やろう。

Study at home. 小学校受験の家庭学習教材

記憶：絵の記憶④

別紙『記憶 - 絵の記憶④記憶用紙』を使用します。記憶用紙の形を見た後に①、②、③の問題に取り組みましょう。

①

--	--	--	--	--	--	--

②

③

※1. このプリントは、しながわ・目黒こどもスクールのウェブサイトからダウンロードできます。無断複写・引用はご遠慮ください。

※2. このプリントを活用したオンライン授業のスケジュールは、しながわ・目黒こどもスクールのウェブサイトでご確認ください。



おうちで、やろう。

Study at home. 小学校受験の家庭学習教材

図形：回転⑨

左のお手本を矢印の方向へ 1 回倒した時の見え方を考えて右の四角にかきます。

※1. このプリントは、しながわ・目黒こどもスクールのウェブサイトでダウンロードができます。無断複写・引用はご遠慮ください。
 ※2. このプリントを活用したオンライン授業のスケジュールは、しながわ・目黒こどもスクールのウェブサイトでご確認ください。



おうちで、やろう。

Study at home. 小学校受験の家庭学習教材

図形：回転⑩

左のお手本を矢印の方向へ1回倒した時の見え方を考えて右の四角にかきます。

※1. このプリントは、しながわ・目黒こどもスクールのウェブサイトでダウンロードができます。無断複写・引用はご遠慮ください。
 ※2. このプリントを活用したオンライン授業のスケジュールは、しながわ・目黒こどもスクールのウェブサイトでご確認ください。

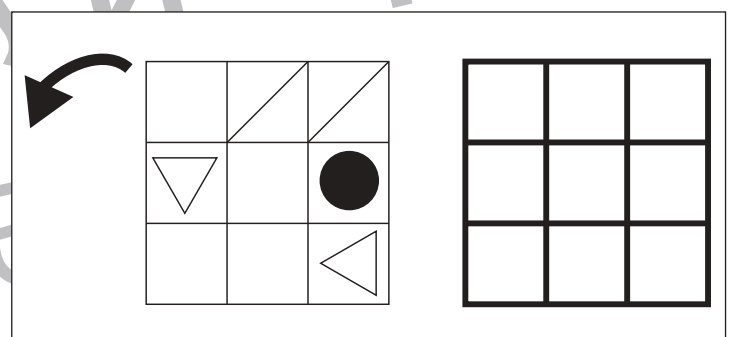
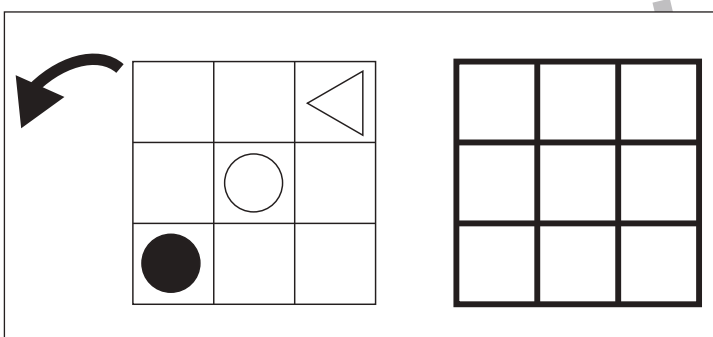
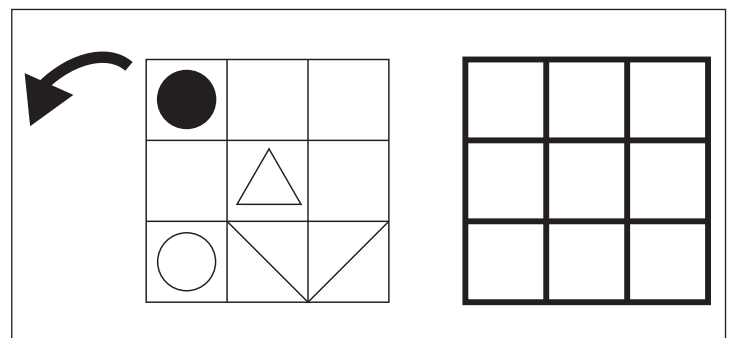
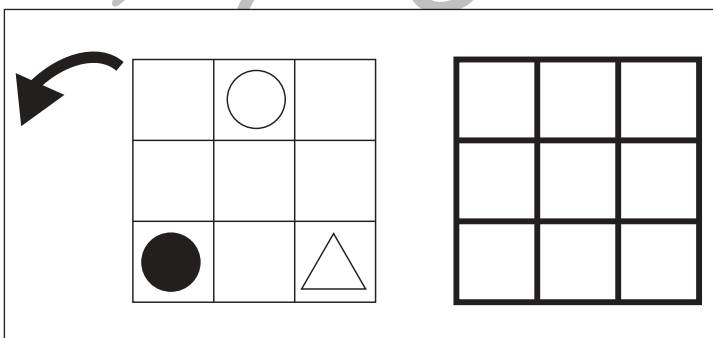
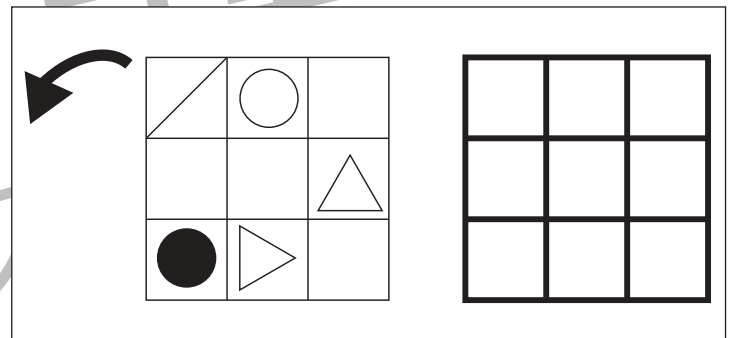
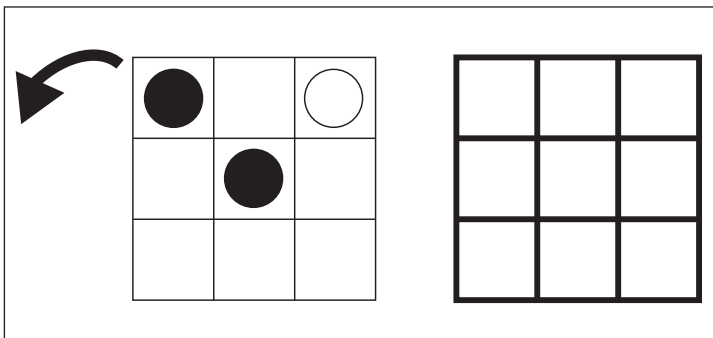
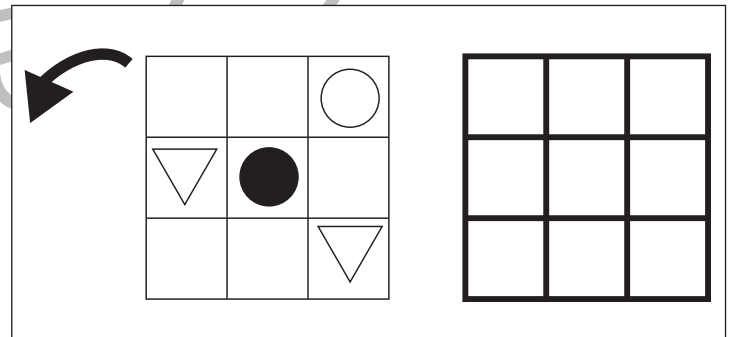
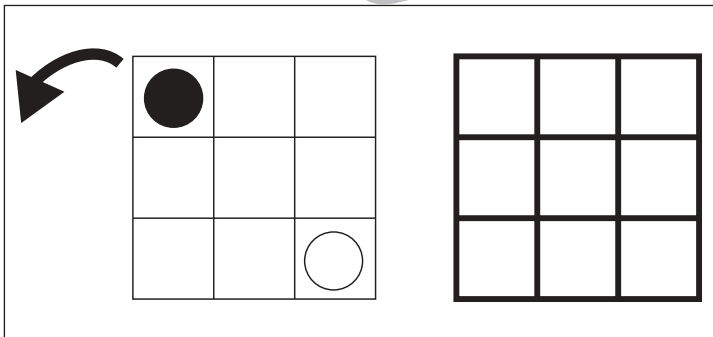
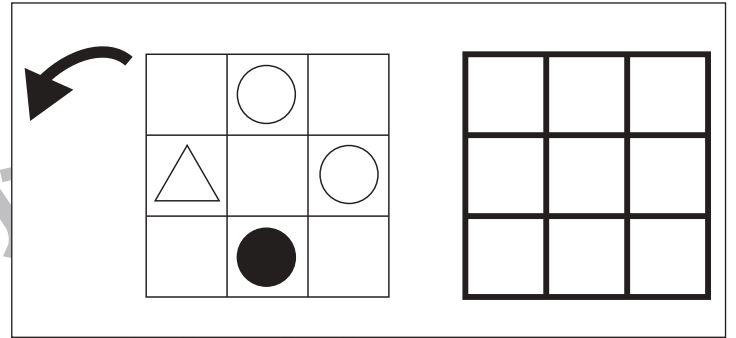
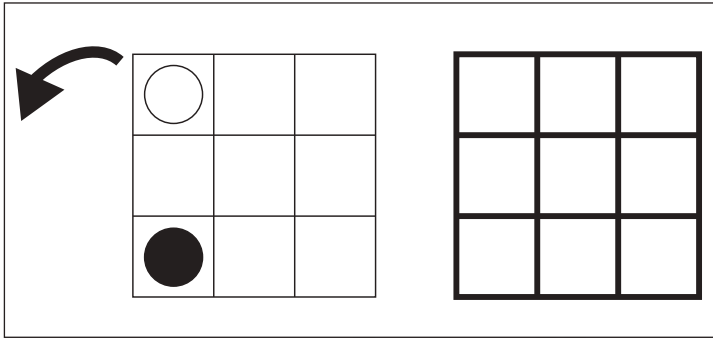


おうちで、やろう。

Study at home. 小学校受験の家庭学習教材

図形：回転⑪

左のお手本を矢印の方向へ 1 回倒した時の見え方を考えて右の四角にかきます。



※1. このプリントは、しながわ・目黒こどもスクールのウェブサイトでダウンロードができます。無断複写・引用はご遠慮ください。
 ※2. このプリントを活用したオンライン授業のスケジュールは、しながわ・目黒こどもスクールのウェブサイトでご確認ください。



おうちで、やろう。

Study at home. 小学校受験の家庭学習教材

推理：あみだくじ③

上の動物たちがあみだくじを進んでいくとそれぞれの上の吹き出しの中の果物につきます。ただし、今のままでは同じ果物につくことができない動物がいます。どこかに線を1本かくと、みんな同じ果物につくことができます。どこに線をかけばよいのか考えて、線を1本かきたしましょう。

※あみだくじのルール：①上から下へ進みます。道は戻ってはいけません。②途中で曲がり角があったら必ず曲がります。

The puzzles are as follows:

- Top-Left:** Top: Bear (Apple), Lion (Banana), Cow (Strawberry). Bottom: Strawberry, Apple, Banana.
- Top-Right:** Top: Lion (Strawberry), Cow (Apple), Bear (Raspberry). Bottom: Apple, Raspberry, Strawberry.
- Bottom-Left:** Top: Bear (Banana), Cow (Strawberry), Rabbit (Apple). Bottom: Strawberry, Banana, Apple.
- Bottom-Right:** Top: Lion (Raspberry), Cow (Apple), Rabbit (Strawberry). Bottom: Apple, Raspberry, Strawberry.

※1. このプリントは、しながわ・目黒こどもスクールのウェブサイトからダウンロードできます。無断複写・引用はご遠慮ください。

※2. このプリントを活用したオンライン授業のスケジュールは、しながわ・目黒こどもスクールのウェブサイトでご確認ください。



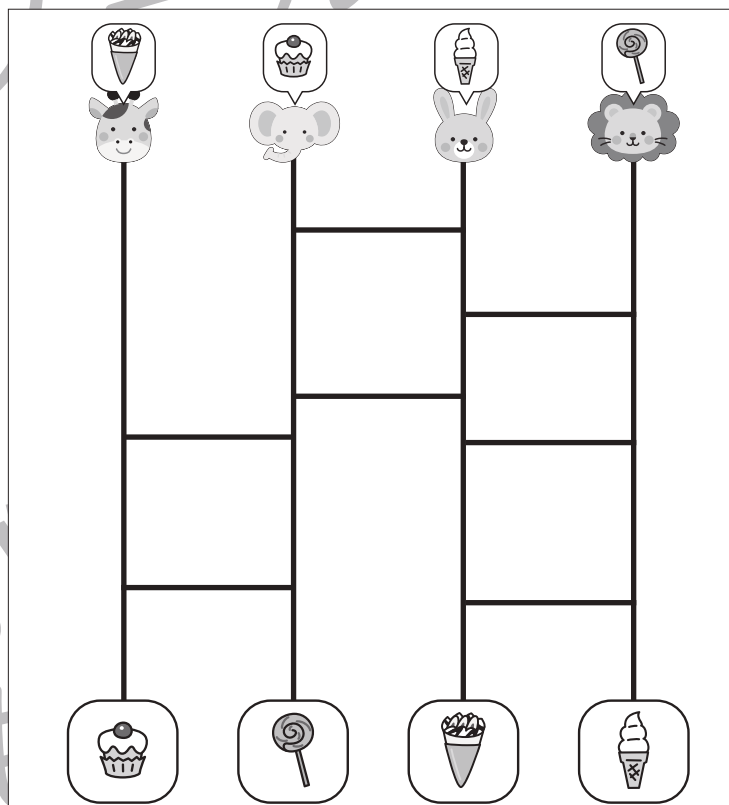
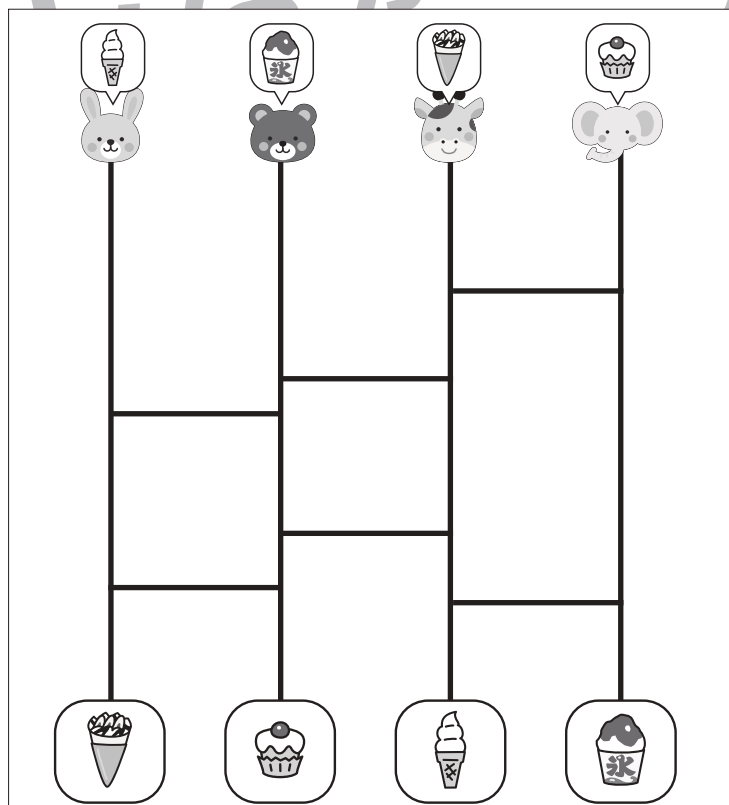
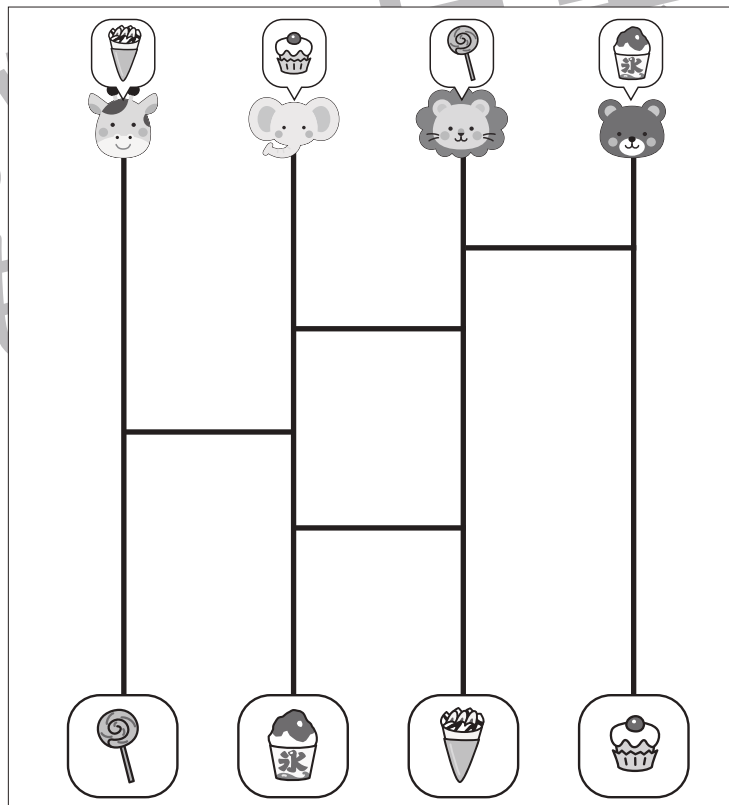
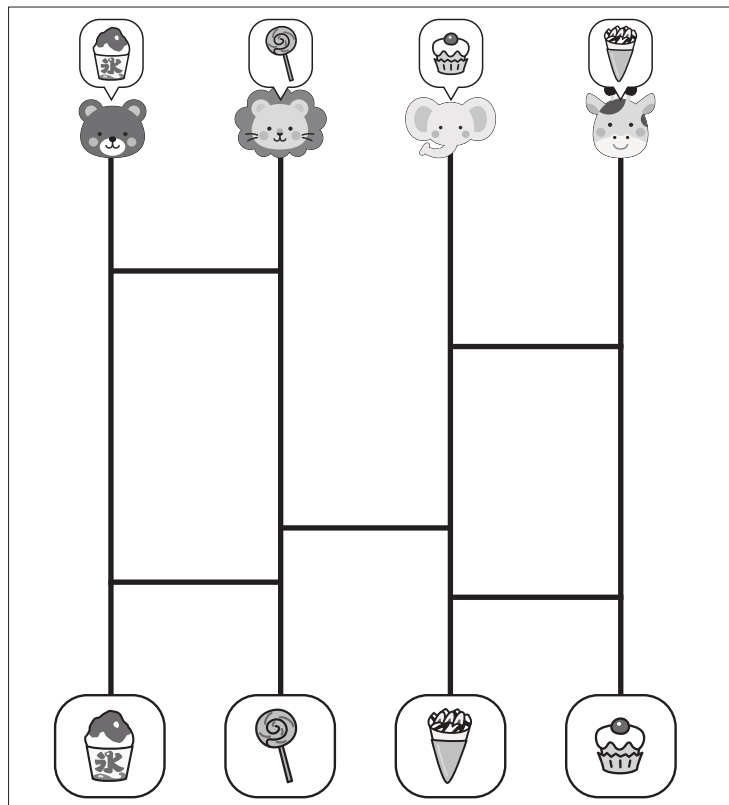
おうちで、やろう。

Study at home. 小学校受験の家庭学習教材

推理：あみだくじ④

上の動物たちがあみだくじを進んでいくとそれぞれの上の吹き出しの中の食べ物につきます。ただし、今のままでは同じ食べ物につくことができない動物がいます。どこかに線を2本かくと、みんなが同じ食べ物につくことができます。どこに線をかけばよいのか考えて、線を2本かきだしましょう。

※あみだくじのルール：①上から下へ進みます。道は戻ってはいけません。②途中で曲がり角があったら必ず曲がります。



※1. このプリントは、しながわ・目黒こどもスクールのウェブサイトでダウンロードができます。無断複写・引用はご遠慮ください。

※2. このプリントを活用したオンライン授業のスケジュールは、しながわ・目黒こどもスクールのウェブサイトでご確認ください。



おうちで、やろう。

Study at home. 小学校受験の家庭学習教材

数量：数の操作①

男の子と女の子がそれぞれ同じクッキーを持っていますが、持っているクッキーの数が違います。男の子が女の子に何枚かクッキーをあげると2人のクッキーの数が同じになります。2人のクッキーの枚数が同じになるためには男の子が女の子にあげるクッキーは何枚ですか。その数だけ真ん中の四角に○をかきます。

--	--	--

--	--	--

--	--	--

--	--	--

--	--	--

※1. このプリントは、しながわ・目黒こどもスクールのウェブサイトでダウンロードができます。無断複写・引用はご遠慮ください。

※2. このプリントを活用したオンライン授業のスケジュールは、しながわ・目黒こどもスクールのウェブサイトでご確認ください。


















おうちで、やろう。

Study at home. 小学校受験の家庭学習教材

数量：数の操作②

男の子と女の子がそれぞれ同じクッキーを持っていますが、持っているクッキーの数が違います。どちらかが何枚かクッキーをあげると2人のクッキーの数が同じになります。2人のクッキーの枚数が同じになるためにどちらかがあげるクッキーは何枚ですか。その数だけ真ん中の四角に○をかきます。

※1. このプリントは、しながわ・目黒こどもスクールのウェブサイトでダウンロードができます。無断複写・引用はご遠慮ください。

※2. このプリントを活用したオンライン授業のスケジュールは、しながわ・目黒こどもスクールのウェブサイトでご確認ください。













おうちで、やろう。







Study at home. 小学校受験の家庭学習教材







数量：数の操作③







パンダ、サル、クマの3匹は同じクッキーを持っていますが、持っている数が違います。誰かが誰かにクッキーをあげると3匹ともクッキーの枚数が同じになります。同じ枚数になったとき、1匹の枚数は何枚になりますか。その数だけ下の四角に○をかきます。誰かが誰かにあげるのは1匹とは限りません。

※1. このプリントは、しながわ・目黒こどもスクールのウェブサイトからダウンロードできます。無断複写・引用はご遠慮ください。
※2. このプリントを活用したオンライン授業のスケジュールは、しながわ・目黒こどもスクールのウェブサイトでご確認ください。

