



おうちで、やろう。

Study at home. 小学校受験の家庭学習教材



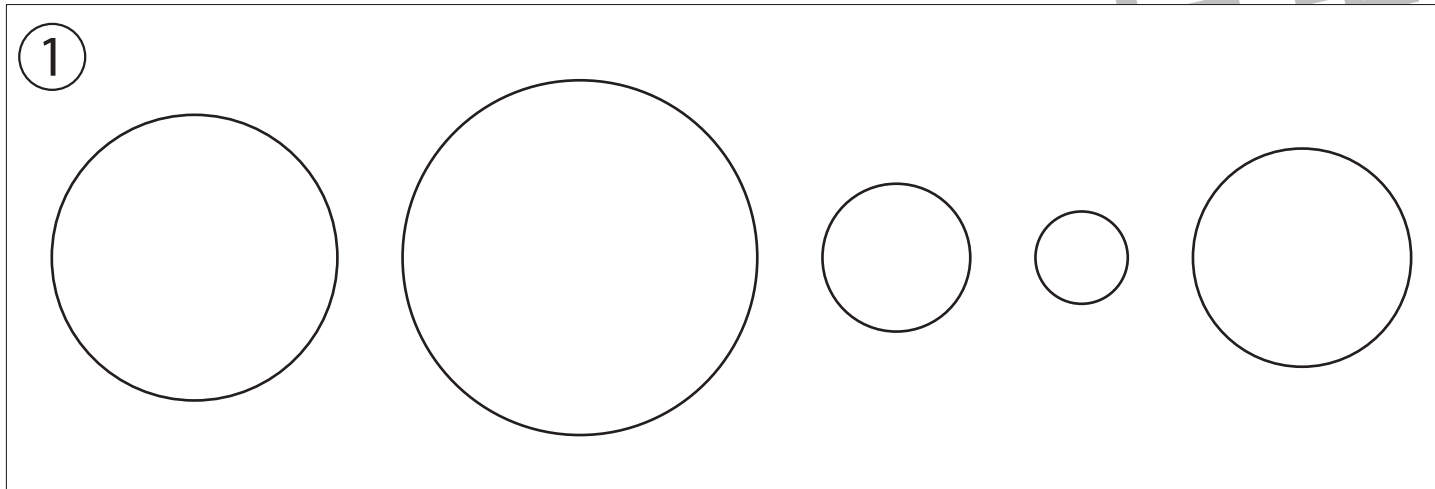
指示の聞き取り④

それぞれのお話通りになるように色を塗ったり、記号をかきます。問題は1度しか読みませんのでしっかり聞きましょう。

① 2番目に大きい○を黄色クーピーで塗り、2番目に小さい○を緑色のクーピーで塗ります。

② 四角の中に×を、四角の左に○を、四角の右に◎を鉛筆でかきます。

③ 同じ大きさの○を横に並べて5つ黒のクーピーでかきます。そしてその○が左から白丸、黒丸と順番になるように黒のクーピーで黒丸の場所を塗ります。



※1. このプリントは、しながわ・目黒こどもスクールのウェブサイトからダウンロードできます。無断複写・引用はご遠慮ください。

※2. このプリントを活用したオンライン授業のスケジュールは、しながわ・目黒こどもスクールのウェブサイトでご確認ください。

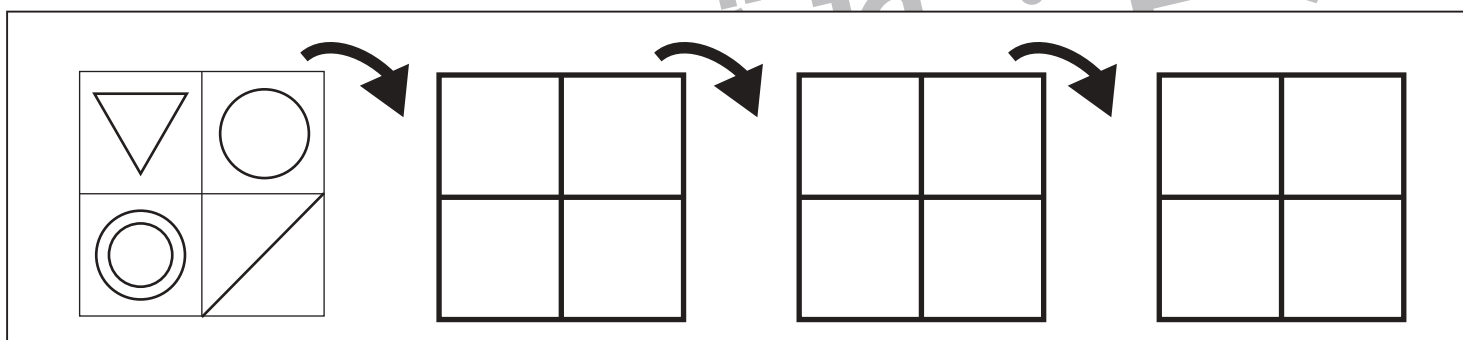
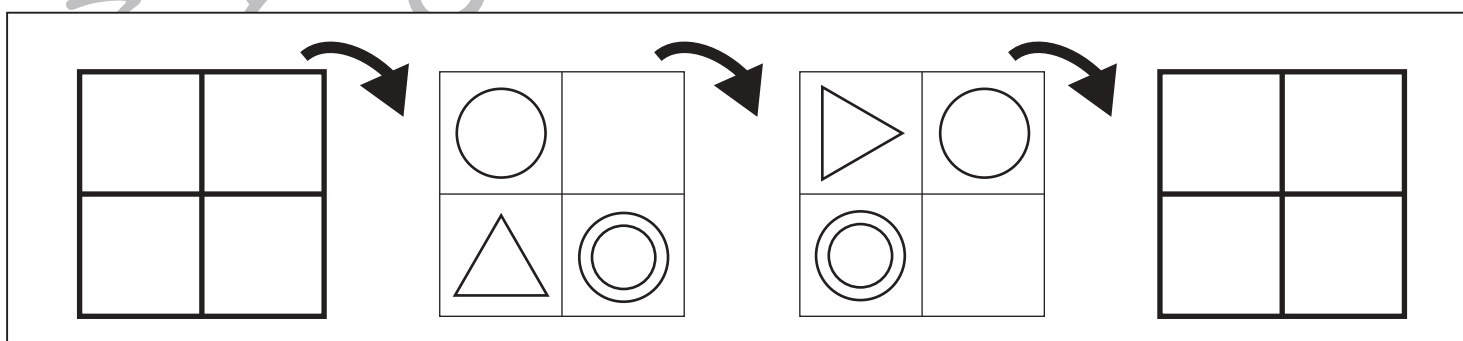
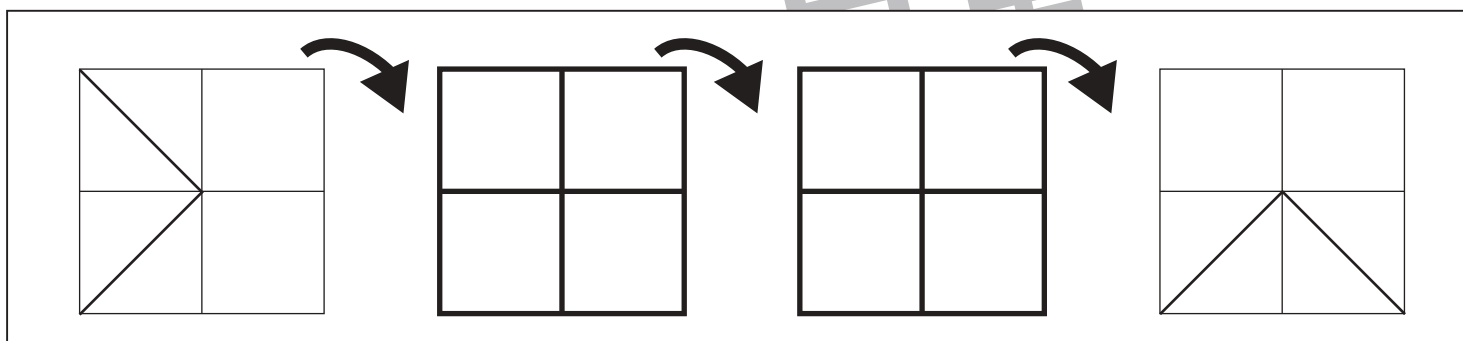
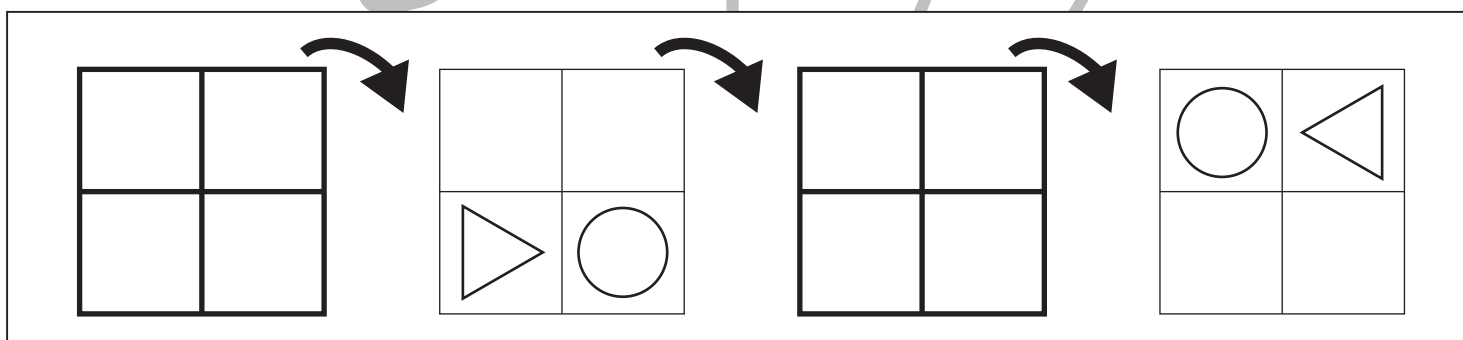
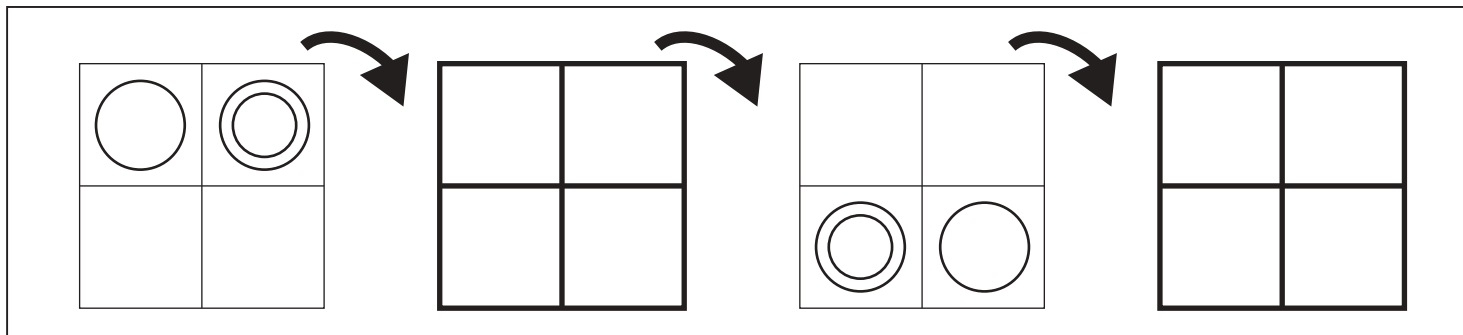


おうちで、やろう。

Study at home. 小学校受験の家庭学習教材

図形：回転⑫

四角を矢印の方向へ倒したときの様子が順番に並んでいます。空いている四角の見え方を考えてかきます。



※1. このプリントは、しながわ・目黒こどもスクールのウェブサイトからダウンロードできます。無断複写・引用はご遠慮ください。

※2. このプリントを活用したオンライン授業のスケジュールは、しながわ・目黒こどもスクールのウェブサイトでご確認ください。

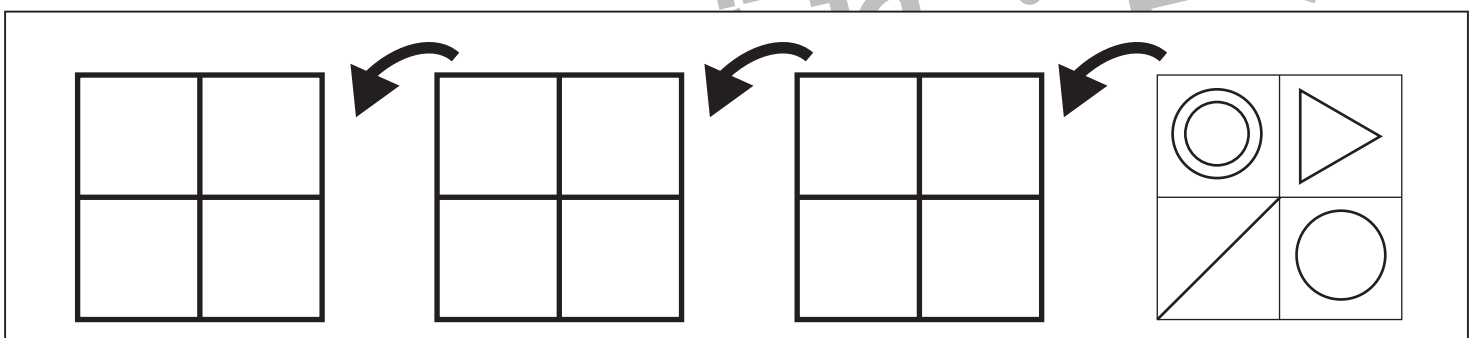
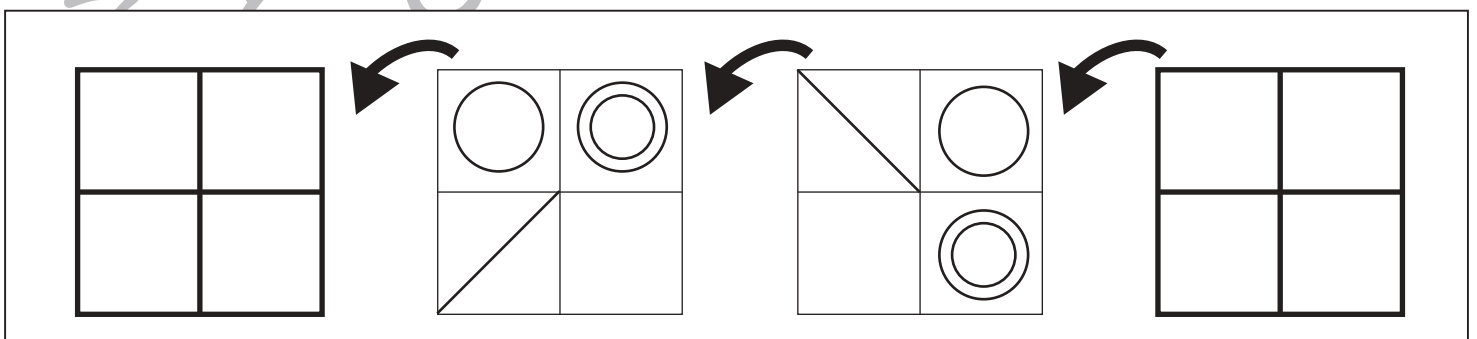
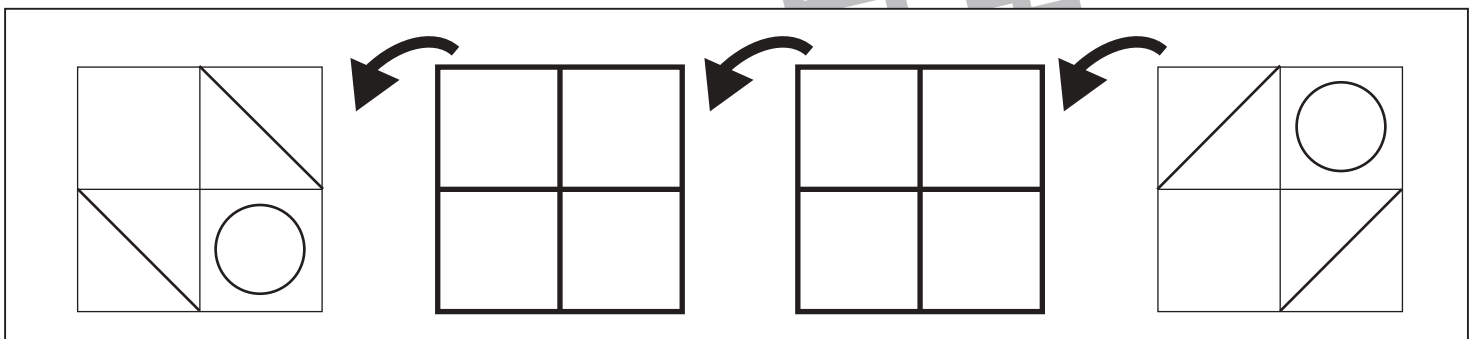
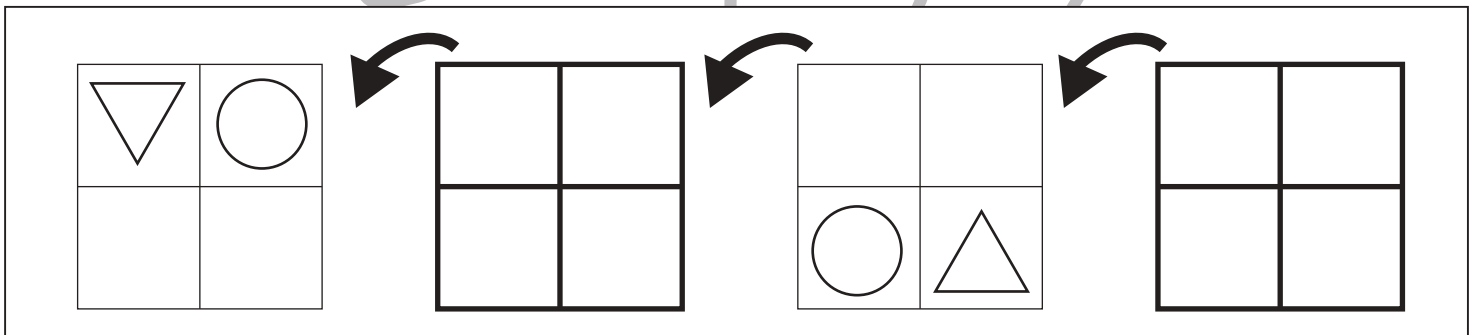
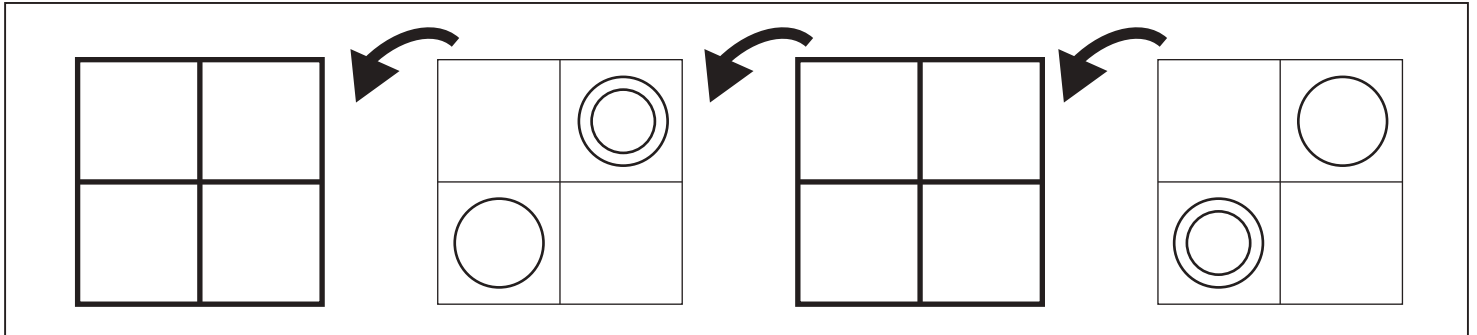


おうちで、よろう。

Study at home. 小学校受験の家庭学習教材

図形：回転⑬

四角を矢印の方向へ倒したときの様子が順番に並んでいます。空いている四角の見え方を考えてかきます。



※1. このプリントは、しながわ・目黒こどもスクールのウェブサイトからダウンロードできます。無断複写・引用はご遠慮ください。
 ※2. このプリントを活用したオンライン授業のスケジュールは、しながわ・目黒こどもスクールのウェブサイトでご確認ください。

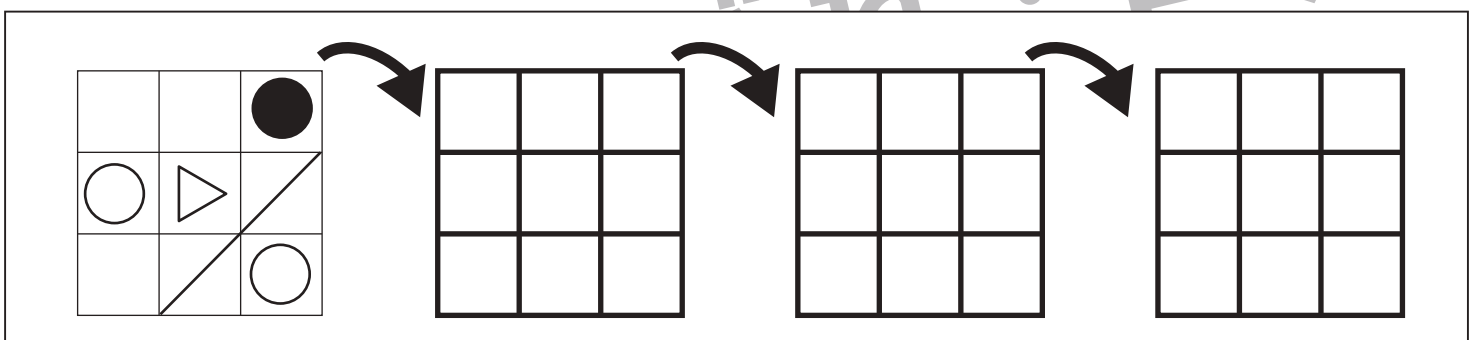
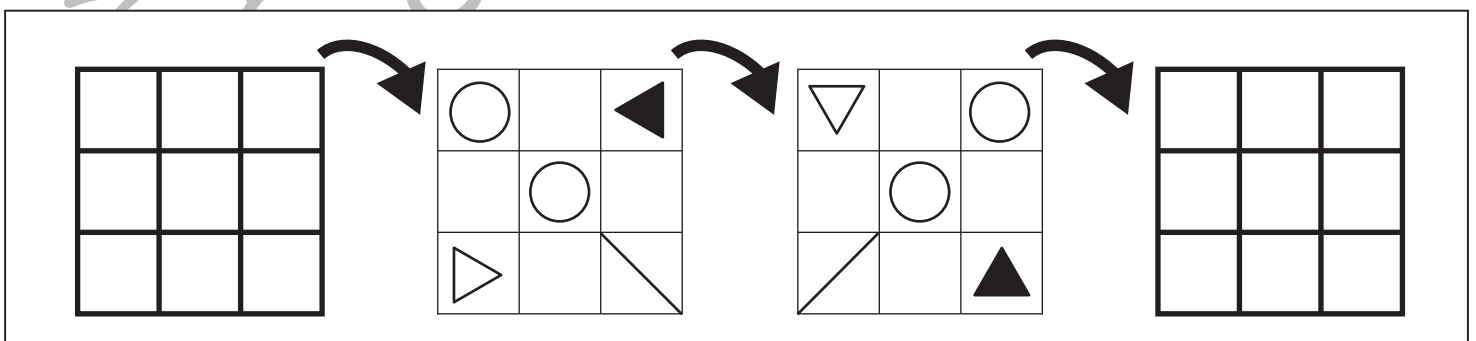
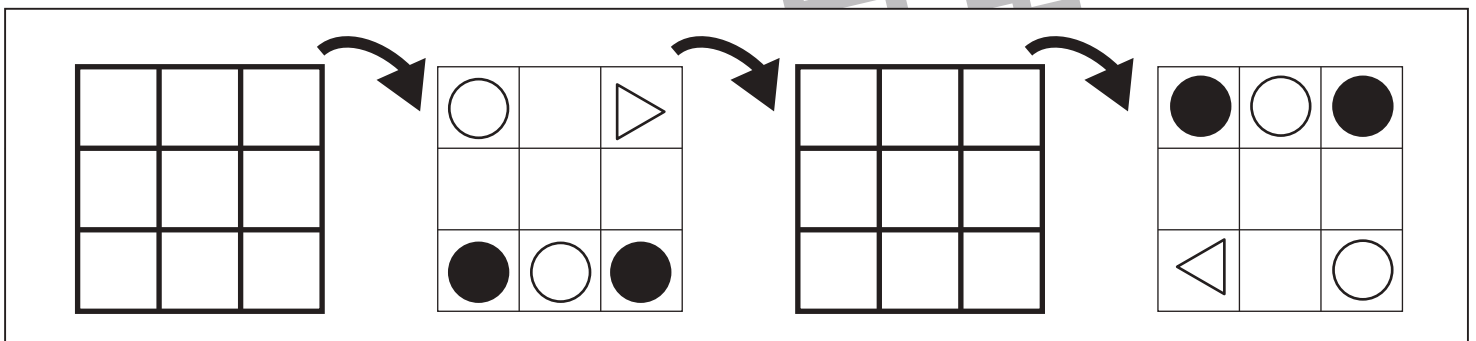
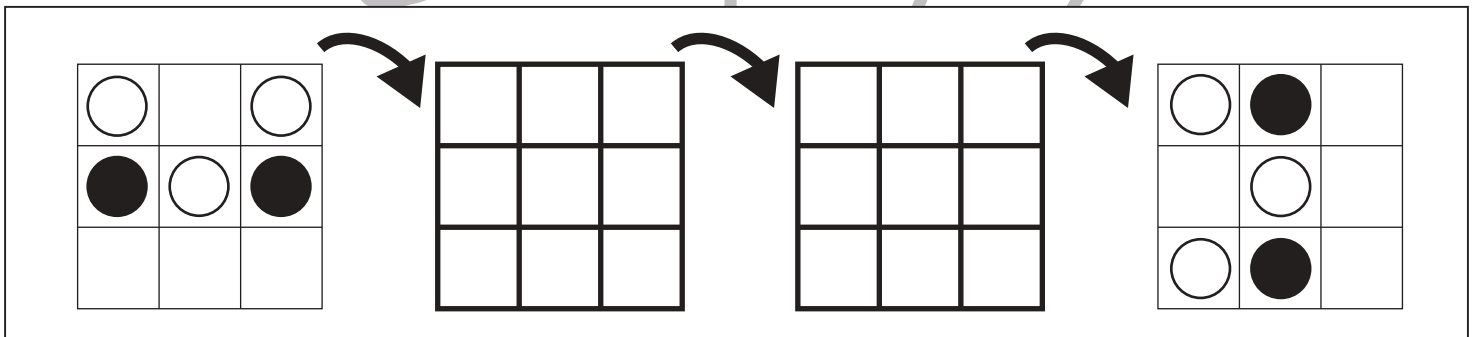
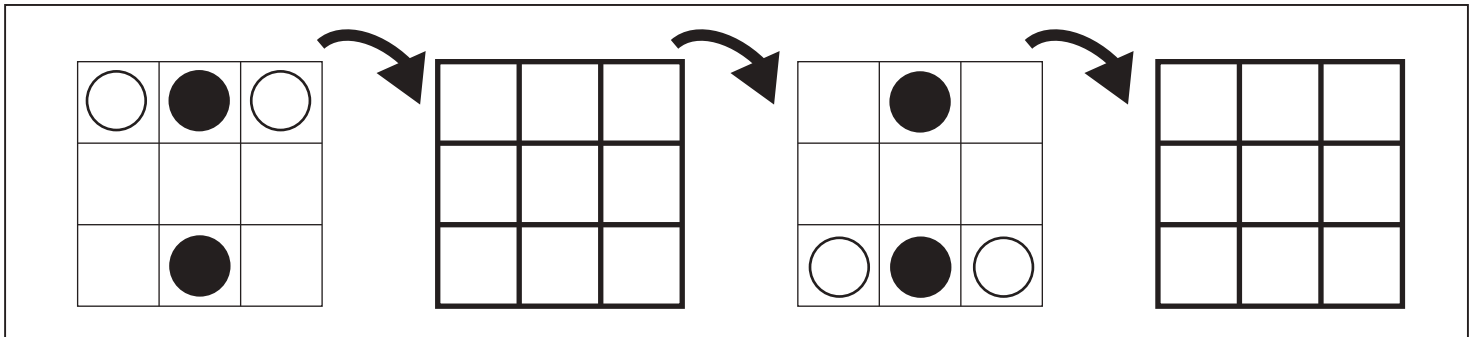


おうちで、よろう。

Study at home. 小学校受験の家庭学習教材

図形：回転⑭

四角を矢印の方向へ倒したときの様子が順番に並んでいます。空いている四角の見え方を考えてかきます。



※1. このプリントは、しながわ・目黒こどもスクールのウェブサイトでダウンロードができます。無断複写・引用はご遠慮ください。

※2. このプリントを活用したオンライン授業のスケジュールは、しながわ・目黒こどもスクールのウェブサイトでご確認ください。

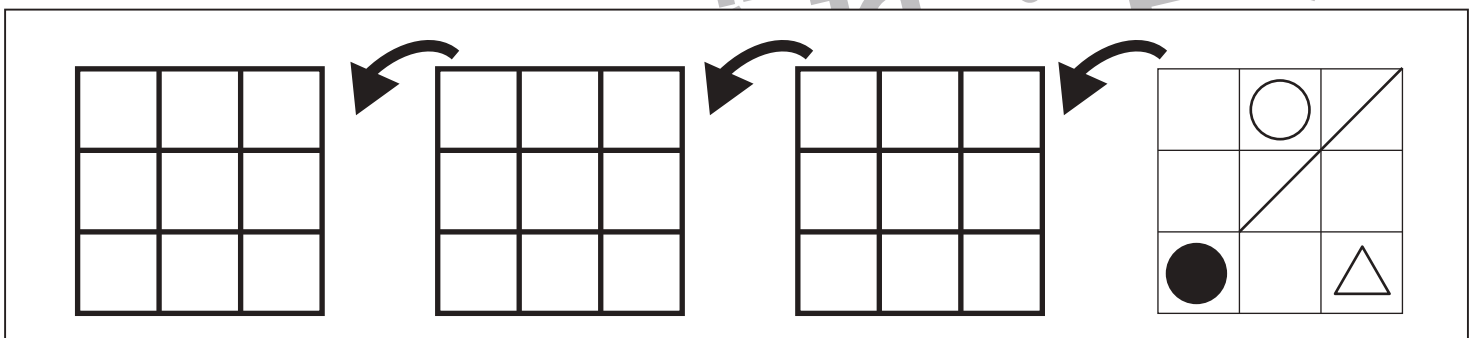
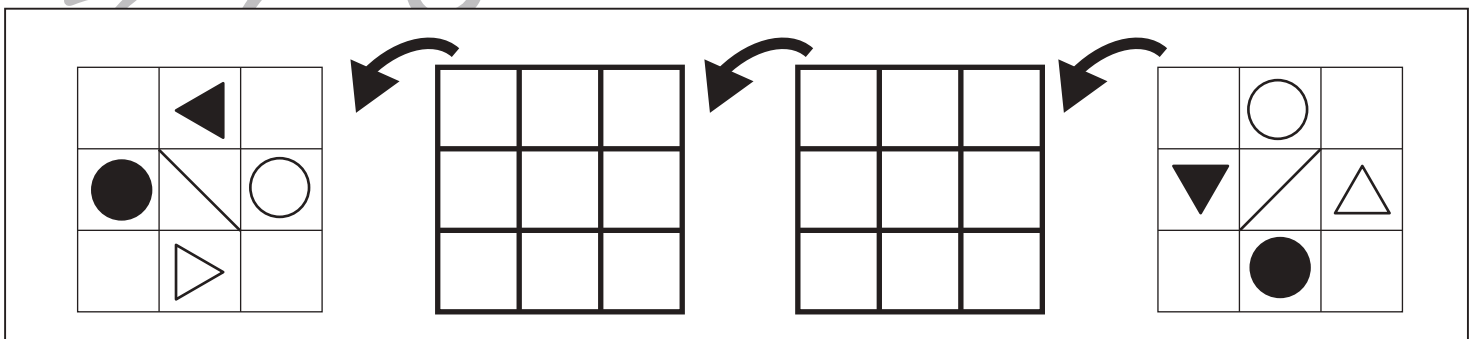
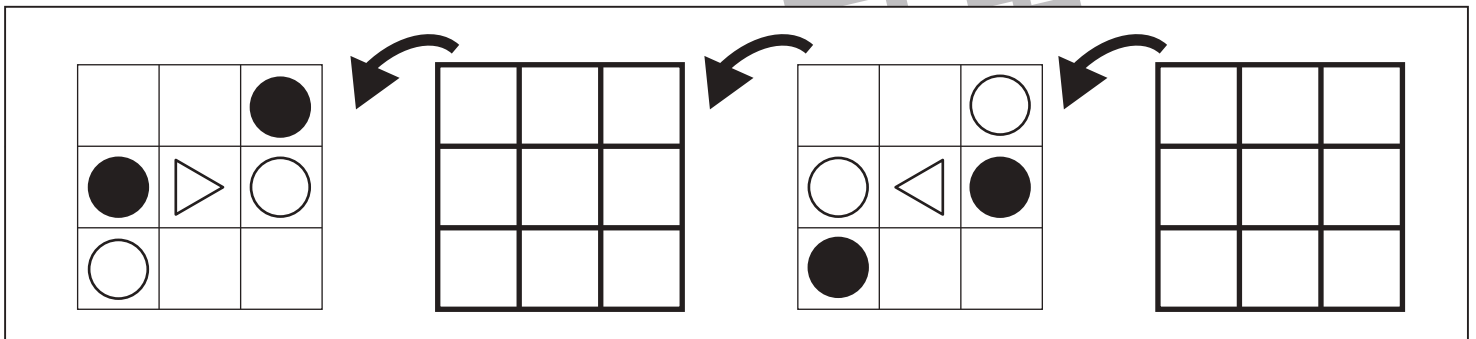
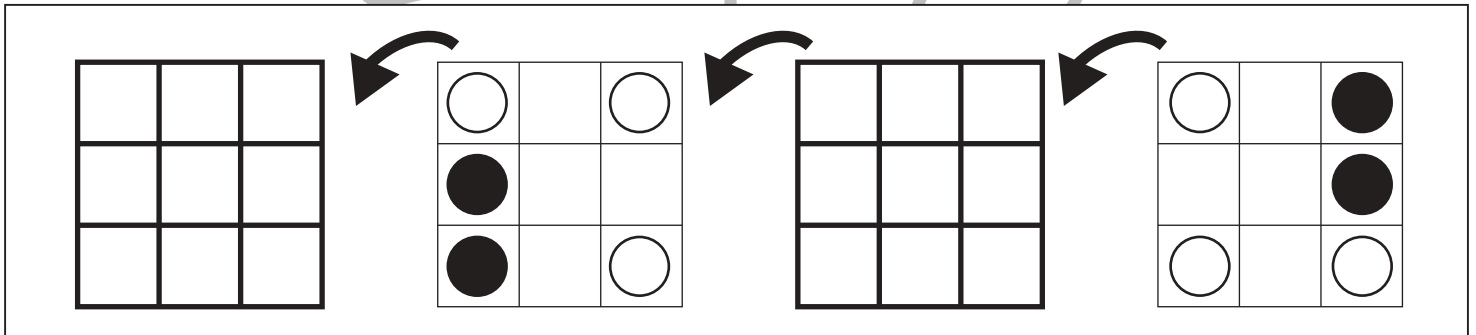
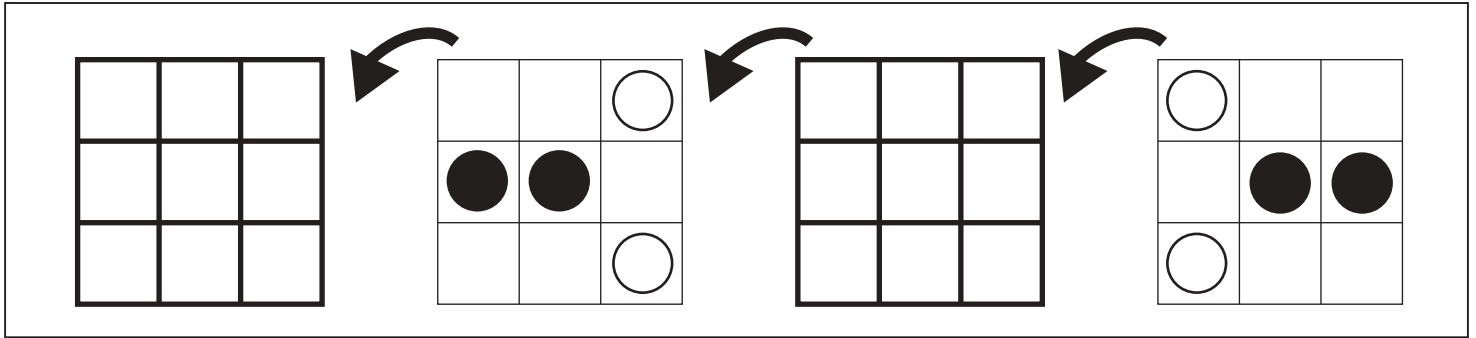


おうちで、よろう。

Study at home. 小学校受験の家庭学習教材

図形：回転⑮

四角を矢印の方向へ倒したときの様子が順番に並んでいます。空いている四角の見え方を考えてかきます。



※1. このプリントは、しながわ・目黒こどもスクールのウェブサイトからダウンロードできます。無断複写・引用はご遠慮ください。
 ※2. このプリントを活用したオンライン授業のスケジュールは、しながわ・目黒こどもスクールのウェブサイトでご確認ください。




おうちで、やろう。

Study at home. 小学校受験の家庭学習教材

数量：条件推理①

上の太い四角の中が約束です。ウサギはマスを進むとき、1マスとばしてジャンプして進みます。この約束のとき☆の数だけジャンプして進んだとき、着いたマスに○をかきます。



☆ ☆ ☆ ☆

A grid with 10 squares in a row. The first square contains a rabbit. Above the next four squares (2nd, 3rd, 4th, 5th) are four stars. Below the grid is a second row of 10 squares, and below that is a third row of 10 squares.

☆ ☆ ☆ ☆ ☆ ☆

A grid with 10 squares in a row. The first square contains a rabbit. Above the next five squares (2nd, 3rd, 4th, 5th, 6th) are five stars. Below the grid is a second row of 10 squares, and below that is a third row of 10 squares.

☆ ☆ ☆ ☆ ☆ ☆ ☆ ☆

A grid with 10 squares in a row. The first square contains a rabbit. Above the next six squares (2nd, 3rd, 4th, 5th, 6th, 7th) are six stars. Below the grid is a second row of 10 squares, and below that is a third row of 10 squares.

☆ ☆ ☆ ☆ ☆ ☆ ☆ ☆ ☆ ☆

A grid with 10 squares in a row. The first square contains a rabbit. Above the next seven squares (2nd, 3rd, 4th, 5th, 6th, 7th, 8th) are seven stars. Below the grid is a second row of 10 squares, and below that is a third row of 10 squares.

※1. このプリントは、しながわ・目黒こどもスクールのウェブサイトでダウンロードができます。無断複写・引用はご遠慮ください。

※2. このプリントを活用したオンライン授業のスケジュールは、しながわ・目黒こどもスクールのウェブサイトでご確認ください。

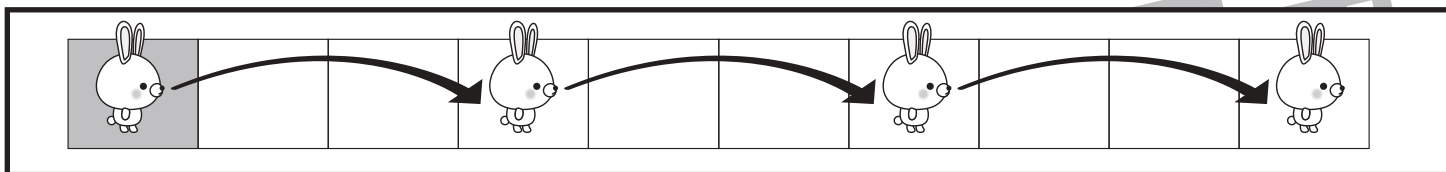


おうちで、やろう。

Study at home. 小学校受験の家庭学習教材

数量：条件推理②

上の太い四角の中が約束です。ウサギはマスを進むとき、2マスとばしてジャンプして進みます。この約束のとき☆の数だけジャンプして進んだとき、着いたマスに○をかきます。



☆ ☆ ☆ ☆

☆ ☆ ☆ ☆ ☆

☆ ☆ ☆ ☆ ☆ ☆ ☆

☆ ☆ ☆ ☆ ☆ ☆ ☆ ☆ ☆

※1. このプリントは、しながわ・目黒こどもスクールのウェブサイトでダウンロードができます。無断複写・引用はご遠慮ください。

※2. このプリントを活用したオンライン授業のスケジュールは、しながわ・目黒こどもスクールのウェブサイトでご確認ください。

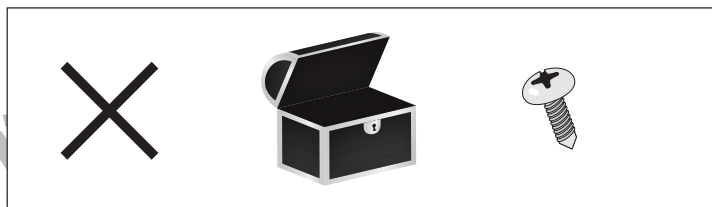


おうちで、やろう。

Study at home. 小学校受験の家庭学習教材

推理：たからさがし①

あなたは宝島にやってきました。宝箱と宝箱の鍵をたくさん見つけにいきます。下の地図の中からお手本にある「宝箱」「鍵」を見つけて○をつけましょう。もう空いている宝箱とネジは外れですから、何も印はつけません。宝探しの時間はたったの1分です。それまでに、できるだけ多くの「宝箱」「鍵」を見つけてみましょう。



※1. このプリントは、しながわ・目黒こどもスクールのウェブサイトからダウンロードできます。無断複写・引用はご遠慮ください。
※2. このプリントを活用したオンライン授業のスケジュールは、しながわ・目黒こどもスクールのウェブサイトでご確認ください。