







おうちで、やろう。

Study at home. 小学校受験の家庭学習教材

言語：言葉③

それぞれの問題の言葉に合う絵を選んで○をつけます。

①「こえる」という言葉に合う絵に○をつけます。 ②「きる」という言葉に合う絵に○をつけます。 ③「おちる」という言葉に合う絵に○をつけます。 ④「とどく」という言葉に合う絵に○をつけます。 ⑤「かける」という言葉に合う絵に○をつけます。



※1. このプリントは、しながわ・目黒こどもスクールのウェブサイトダウンロードができます。無断複写・引用はご遠慮ください。

※2. このプリントを活用したオンライン授業のスケジュールは、しながわ・目黒こどもスクールのウェブサイトでご確認ください。






おうちで、やろう。

Study at home. 小学校受験の家庭学習教材

言語：言葉④

それぞれの問題の言葉に合う絵を選んで○をつけます。

①「まく」とう言葉に合う絵に○をつけます。 ②「とる」とう言葉に合う絵に○をつけます。 ③「ふる」とう言葉に合う絵に○をつけます。 ④「ふく」とう言葉に合う絵に○をつけます。 ⑤「あげる」とう言葉に合う絵に○をつけます。



※1. このプリントは、しながわ・目黒こどもスクールのウェブサイトダウンロードができます。無断複写・引用はご遠慮ください。

※2. このプリントを活用したオンライン授業のスケジュールは、しながわ・目黒こどもスクールのウェブサイトでご確認ください。




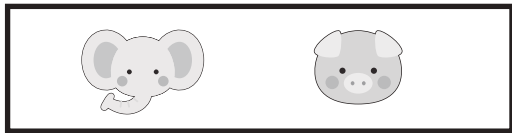


おうちで、やろう。

Study at home. 小学校受験の家庭学習教材

処理能力：抹消①

上の太い四角の中の絵がお手本です。下のマスの中からお手本の絵をみつけて斜め線（/）をつけていきます。お手本を見つけるときは、一番上の段の左からはじめて、右端まで見ます。1段目ができたら2段目の左から右。次に3段目の左から右と順番に印をつけていきます。この問題はできるだけ早く印をつけます。それぞれ40秒以内を目指し取り組みましょう。



※1. このプリントは、しながわ・目黒こどもスクールのウェブサイトでダウンロードができます。無断複写・引用はご遠慮ください。
※2. このプリントを活用したオンライン授業のスケジュールは、しながわ・目黒こどもスクールのウェブサイトでご確認ください。



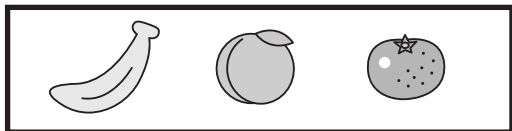


おうちで、やろう。

Study at home. 小学校受験の家庭学習教材

処理能力：抹消②

上の太い四角の中の絵がお手本です。下のマスの中からお手本の絵をみつけて斜め線（/）をつけていきます。お手本を見つけるときは、一番上の段の左からはじめて、右端まで見ます。1段目ができたら2段目の左から右。次に3段目の左から右と順番に印をつけていきます。この問題はできるだけ早く印をつけます。それぞれ1分以内を目指し取り組みましょう。





※1. このプリントは、しながわ・目黒こどもスクールのウェブサイトでダウンロードができます。無断複写・引用はご遠慮ください。

※2. このプリントを活用したオンライン授業のスケジュールは、しながわ・目黒こどもスクールのウェブサイトでご確認ください。

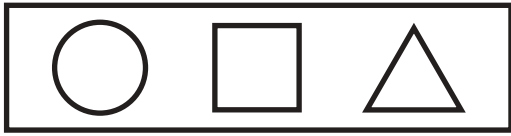


おうちで、よろう。

Study at home. 小学校受験の家庭学習教材

処理能力：抹消③

上の太い四角の中の記号や形がお手本です。下のマスの中からお手本をみつけて斜め線（/）をつけていきます。お手本を見つけるときは、一番上の段の左からはじめて、右端まで見ます。1段目ができたら2段目の左から右。次に3段目の左から右と順番に印をつけていきます。この問題はできるだけ早く印をつけます。それぞれ1分以内を目指し取り組みましょう。



○	×	□	○	△	□	□	○	△	○
×	□	×	□	○	△	○	○	×	○
○	□	○	○	□	×	○	△	△	□
○	□	△	○	×	○	□	□	×	△
□	△	×	□	□	×	□	○	□	○



→	↑	←	↓	↙	→	↗	↙	←	↑
↗	↓	↑	↙	↗	↙	←	←	↓	→
↙	↗	↓	←	→	↗	→	↓	↑	↑
↗	↓	↑	↑	←	↙	↗	→	←	↓
←	→	↑	↓	↗	↙	→	↗	↓	↙

※1. このプリントは、しながわ・目黒こどもスクールのウェブサイトでダウンロードができます。無断複写・引用はご遠慮ください。
※2. このプリントを活用したオンライン授業のスケジュールは、しながわ・目黒こどもスクールのウェブサイトでご確認ください。



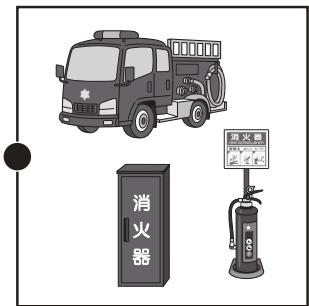

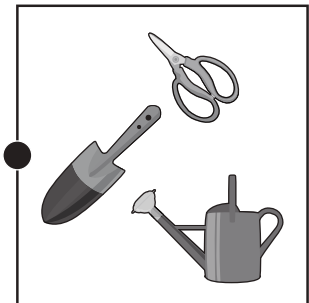

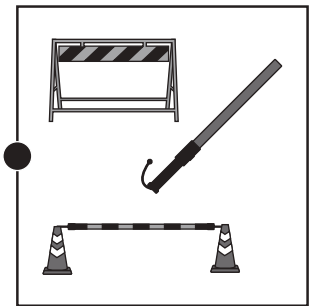

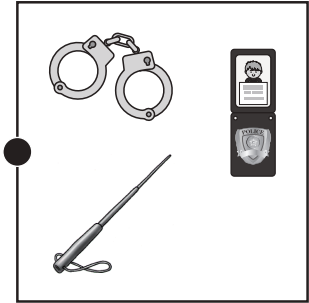



おうちで、やろう。

Study at home. 小学校受験の家庭学習教材

常識：生活③

左の人が働くときに使うものを右から見つけて点と点を線で結びます。



※1. このプリントは、しながわ・目黒こどもスクールのウェブサイトダウンロードができます。無断複写・引用はご遠慮ください。

※2. このプリントを活用したオンライン授業のスケジュールは、しながわ・目黒こどもスクールのウェブサイトでご確認ください。





おうちで、やろう。

Study at home. 小学校受験の家庭学習教材

数量：条件推理⑤

四角が横に5つ並び、四角の中には○があります。○の数は一番左の四角が一番少なく、一番右の四角が一番多くなるように並んでいます。また、それぞれ右の四角の中の○の数は1つ多くなります。この約束のとき、空いている四角に入る○の数だけ、それぞれの四角に○をかきます。

※1. このプリントは、しながわ・目黒こどもスクールのウェブサイトでダウンロードができます。無断複写・引用はご遠慮ください。

※2. このプリントを活用したオンライン授業のスケジュールは、しながわ・目黒こどもスクールのウェブサイトでご確認ください。



おうちで、やろう。

Study at home. 小学校受験の家庭学習教材

数量：条件推理⑥

四角が横に5つ並び、四角の中には○があります。○の数は一番右の四角が一番少なく、一番左の四角が一番多くなるように並んでいます。また、それぞれ右の四角の中の○の数は2つ少なくなります。この約束のとき、空いている四角に入る○の数だけ、それぞれの四角に○をかきます。

--	--	--	--	--

--	--	--	--	--

--	--	--	--	--

--	--	--	--	--

※1. このプリントは、しながわ・目黒こどもスクールのウェブサイトからダウンロードできます。無断複写・引用はご遠慮ください。

※2. このプリントを活用したオンライン授業のスケジュールは、しながわ・目黒こどもスクールのウェブサイトでご確認ください。



おうちで、よろう。

Study at home. 小学校受験の家庭学習教材

数量：条件推理⑦

四角が横に5つ並び、四角の中には○があります。○の数は真ん中の太い四角の数が一番多く、真ん中から右へは2つずつ少なくなり、真ん中から左へは3つずつ少なくなるように並んでいます。この約束のとき、空いている四角に入る○の数だけ、それぞれの四角に○をかきます。

※1. このプリントは、しながわ・目黒こどもスクールのウェブサイトでダウンロードができます。無断複写・引用はご遠慮ください。

※2. このプリントを活用したオンライン授業のスケジュールは、しながわ・目黒こどもスクールのウェブサイトでご確認ください。





おうちで、やろう。

Study at home. 小学校受験の家庭学習教材

推理：たからさがし②

あなたは宝島にやってきました。宝箱と宝箱の鍵をたくさん見つけにいきます。下の地図の中からお手本にある「宝箱」「宝箱の鍵」を見つけて○をつけましょう。もう空いている宝箱とお家の鍵は外れですから、何も印はつけません。宝探しの時間はたったの1分です。それまでに、できるだけ多くの「宝箱」「宝箱の鍵」を見つけてみましょう。



※ 1. このプリントは、しながわ・目黒こどもスクールのウェブサイトでダウンロードができます。無断複写・引用はご遠慮ください。
 ※ 2. このプリントを活用したオンライン授業のスケジュールは、しながわ・目黒こどもスクールのウェブサイトでご確認ください。