




おうちで、やろう。

Study at home. 小学校受験の家庭学習教材

常識：動物①

左の動物のしっぽを右の中から選んで点と点をむすびます。



※1. このプリントは、しながわ・目黒こどもスクールのウェブサイトからダウンロードできます。無断複写・引用はご遠慮ください。

※2. このプリントを活用したオンライン授業のスケジュールは、しながわ・目黒こどもスクールのウェブサイトでご確認ください。






おうちで、やろう。

Study at home. 小学校受験の家庭学習教材

常識：動物②

左の動物が好きな食べ物を右の中から選んで点と点をむすびます。



※1. このプリントは、しながわ・目黒こどもスクールのウェブサイトからダウンロードできます。無断複写・引用はご遠慮ください。

※2. このプリントを活用したオンライン授業のスケジュールは、しながわ・目黒こどもスクールのウェブサイトでご確認ください。



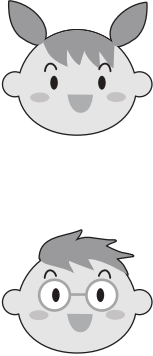
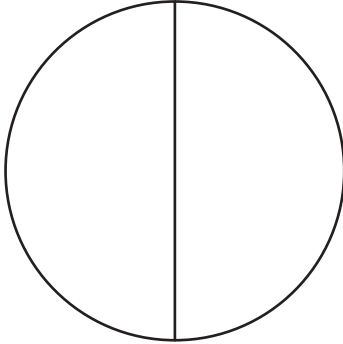

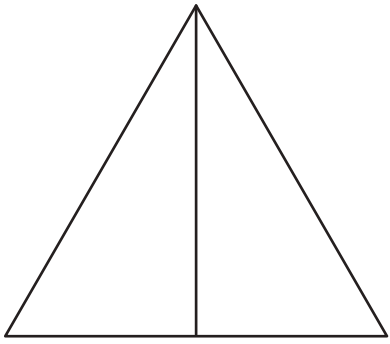
おうちで、やろう。


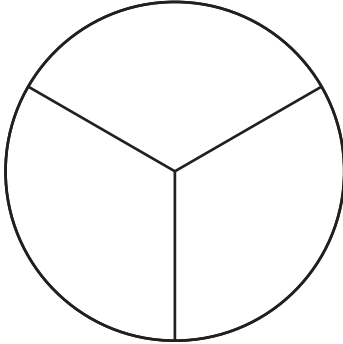

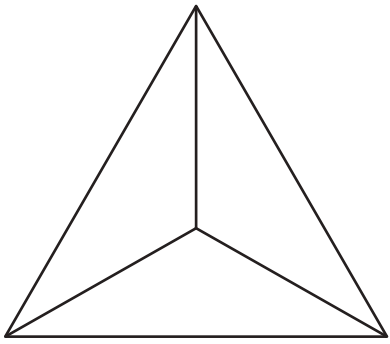
Study at home. 小学校受験の家庭学習教材


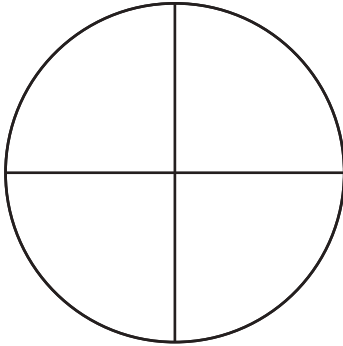
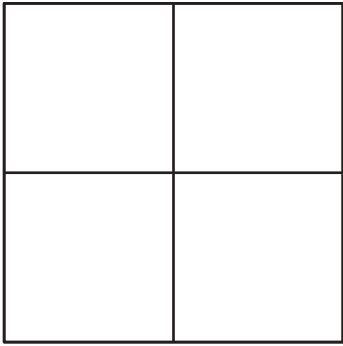
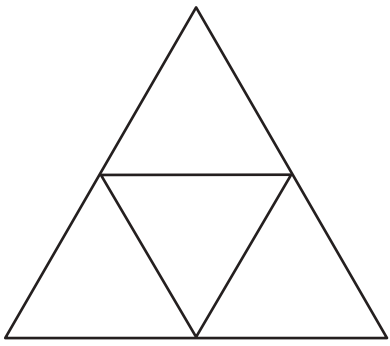
図形：等分①

右の四角の中の形を左の四角の中のおともだちで仲良く同じ形で同じ大きさで分けます。どのように分けたらよいのか考えて、線を書きます。この問題は鉛筆で取り組み、間違えてしまったら消しゴムを使い、かきなおしましょう。

※答えは一例です。他の分け方もありますので、合っていたら丸をつけてあげてください。

			
---	---	--	---

			
---	---	--	---

			
--	---	--	---

※1. このプリントは、しながわ・目黒こどもスクールのウェブサイトダウンロードができます。無断複写・引用はご遠慮ください。

※2. このプリントを活用したオンライン授業のスケジュールは、しながわ・目黒こどもスクールのウェブサイトでご確認ください。





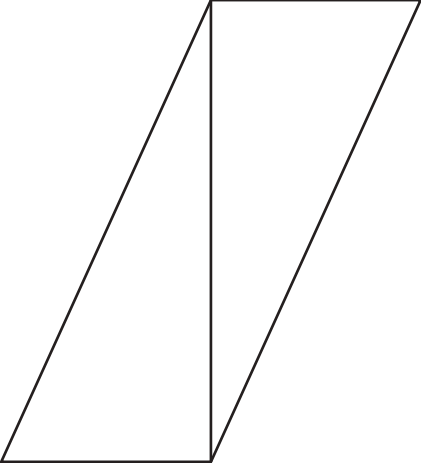
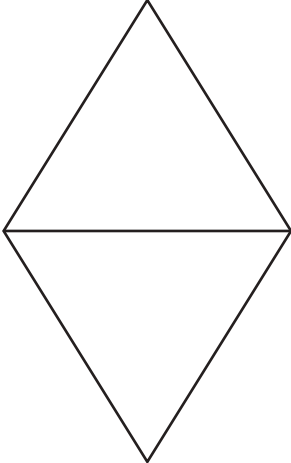
おうちで、やろう。



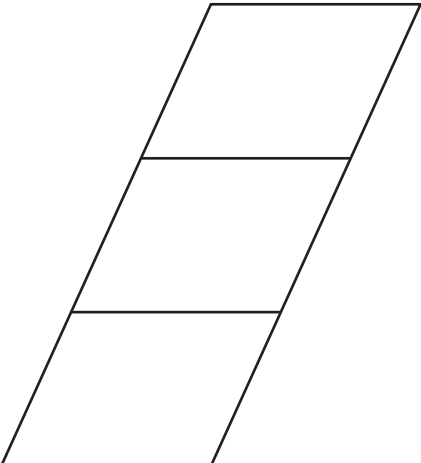
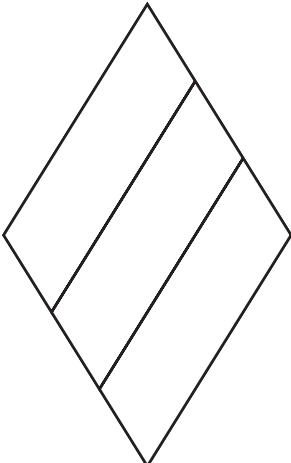
Study at home. 小学校受験の家庭学習教材



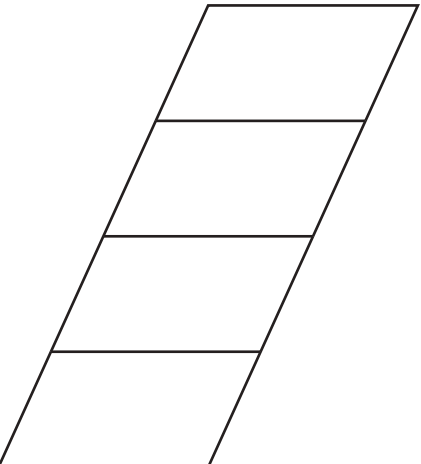
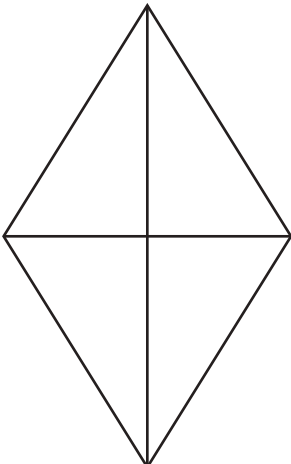
図形：等分②

右の四角の中の形を左の四角の中のおともだちで仲良く同じ形で同じ大きさに分けます。どのように分けたらよいのか考えて、線を書きます。この問題は鉛筆で取り組み、間違えてしまったら消しゴムを使い、かきなおしましょう。

※答えは一例です。他の分け方もありますので、合っていたら丸をつけてあげてください。

			
---	---	--	---

			
---	---	--	---

			
--	---	--	---

※1. このプリントは、しながわ・目黒こどもスクールのウェブサイトダウンロードができます。無断複写・引用はご遠慮ください。

※2. このプリントを活用したオンライン授業のスケジュールは、しながわ・目黒こどもスクールのウェブサイトでご確認ください。




おうちで、やろう。





Study at home. 小学校受験の家庭学習教材

図形：等分③

下の四角をおともだち 4 人で同じ形で同じ大きさに分けます。4 つ四角がありますので、すべて違う分け方で線をかきましょう。この問題は鉛筆で取り組み、間違えてしまったら消しゴムを使い、かきなおしましょう。



しながわ・目黒
こどもスクール



※1. このプリントは、しながわ・目黒こどもスクールのウェブサイトでダウンロードができます。無断複写・引用はご遠慮ください。
※2. このプリントを活用したオンライン授業のスケジュールは、しながわ・目黒こどもスクールのウェブサイトでご確認ください。





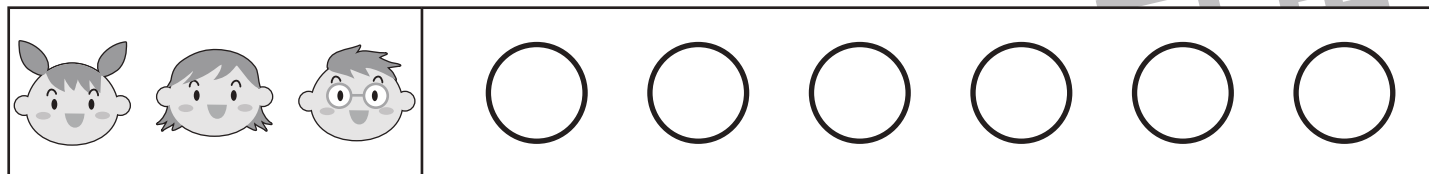


おうちで、やろう。

Study at home. 小学校受験の家庭学習教材

図形：等分④

下のかたちにくじ引きが置いてあります。四角の中のお友だちで仲良く同じ枚数だけくじをひきます。ひとり何枚くじを引くことができますか。その数だけ右の四角に○をかきます。



※1. このプリントは、しながわ・目黒こどもスクールのウェブサイトからダウンロードできます。無断複写・引用はご遠慮ください。
 ※2. このプリントを活用したオンライン授業のスケジュールは、しながわ・目黒こどもスクールのウェブサイトでご確認ください。

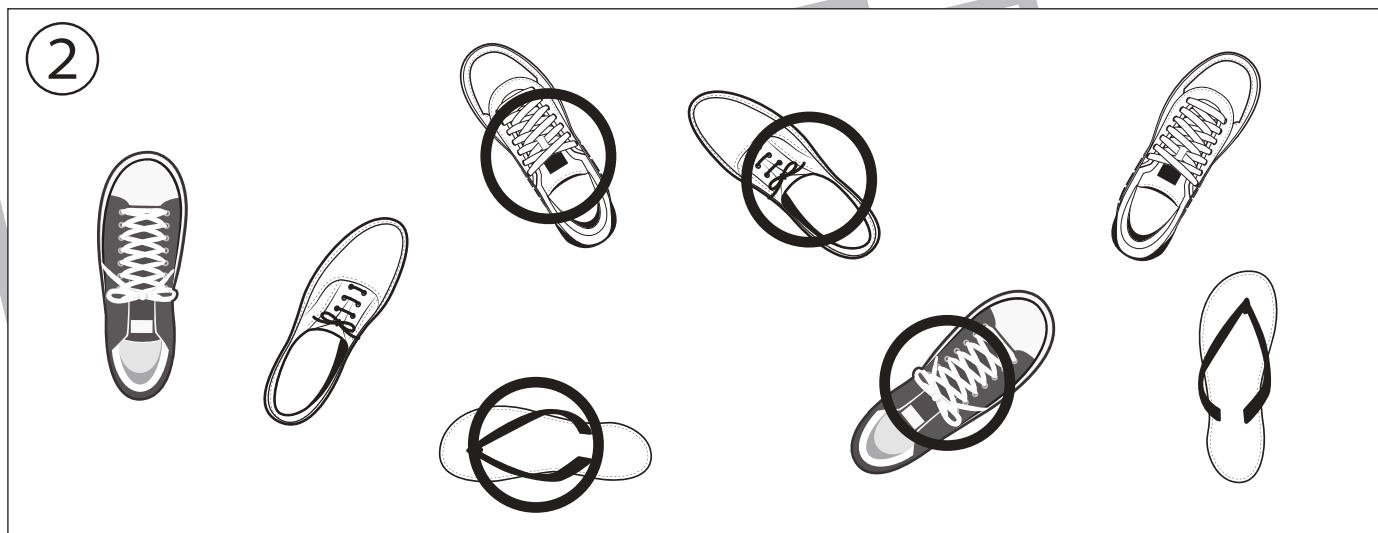
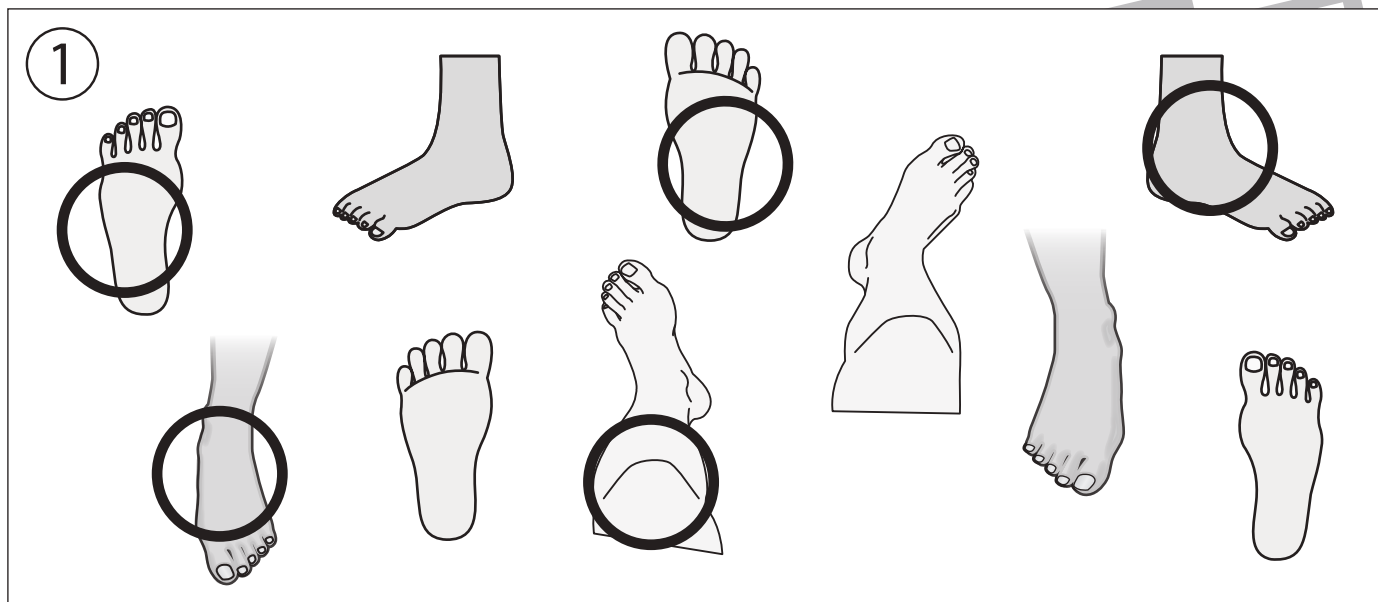


おうちで、やろう。

Study at home. 小学校受験の家庭学習教材

推理：左右③

①左足に○をつけます。 ②右足の靴に○をつけます。 ③左足の足跡に○をつけます。



※1. このプリントは、しながわ・目黒こどもスクールのウェブサイトからダウンロードできます。無断複写・引用はご遠慮ください。

※2. このプリントを活用したオンライン授業のスケジュールは、しながわ・目黒こどもスクールのウェブサイトでご確認ください。









おうちで、やろう。

Study at home. 小学校受験の家庭学習教材

数量：条件推理⑪

それぞれ縦と横に3つずつ四角が並んでいます。縦の3つ、横の3つの四角の中の丸を合わせると丸の数が7個になります。この約束のとき、空いている太い四角の中に丸が何個あればよいですか。その数だけ○をかきます。※斜めは考えません。



※1. このプリントは、しながわ・目黒こどもスクールのウェブサイトでダウンロードができます。無断複写・引用はご遠慮ください。

※2. このプリントを活用したオンライン授業のスケジュールは、しながわ・目黒こどもスクールのウェブサイトでご確認ください。



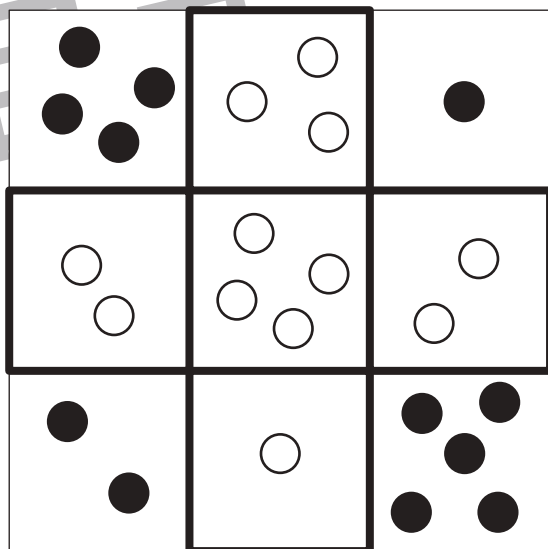





おうちで、よろう。

Study at home. 小学校受験の家庭学習教材

数量：条件推理⑫

それぞれ縦と横に3つずつ四角が並んでいます。縦の3つ、横の3つの四角の中の丸を合わせると丸の数が8個になります。この約束のとき、空いている太い四角の中に丸が何個あればよいですか。その数だけ○をかきます。※斜めは考えません。



※1. このプリントは、しながわ・目黒こどもスクールのウェブサイトでダウンロードができます。無断複写・引用はご遠慮ください。

※2. このプリントを活用したオンライン授業のスケジュールは、しながわ・目黒こどもスクールのウェブサイトでご確認ください。









おうちで、やろう。

Study at home. 小学校受験の家庭学習教材

数量：条件推理⑬

それぞれ縦と横に3つずつ四角が並んでいます。縦の3つ、横の3つの四角の中の丸を合わせると丸の数が10個になります。この約束のとき、空いている太い四角の中に丸が何個あればよいですか。その数だけ○をかきます。※斜めは考えません。



※1. このプリントは、しながわ・目黒こどもスクールのウェブサイトでダウンロードができます。無断複写・引用はご遠慮ください。

※2. このプリントを活用したオンライン授業のスケジュールは、しながわ・目黒こどもスクールのウェブサイトでご確認ください。