



おうちで、やろう。

Study at home. 小学校受験の家庭学習教材

推理：ブラックボックス④

上の太い四角の中が約束です。ライオンとパンダの箱は魔法の箱です。この箱の左にあるものが入ると箱の右のようになって出てきます。まず、この箱がどんな箱なのか約束を考えます。そして箱の左のものが箱から出てきたときを考えて右の空いている場所にかきます。

※1. このプリントは、しながわ・目黒こどもスクールのウェブサイトでダウンロードができます。無断複写・引用はご遠慮ください。
 ※2. このプリントを活用したオンライン授業のスケジュールは、しながわ・目黒こどもスクールのウェブサイトでご確認ください。



おうちで、やろう。

Study at home. 小学校受験の家庭学習教材

推理：ブラックボックス⑤

上の太い四角の中が約束です。クマとキツネの箱は魔法の箱です。この箱の左にあるものが入ると箱の右のようになって出てきます。まず、この箱がどんな箱なのか約束を考えます。そして箱の左のものが箱から出てきたときを考えて右の空いている場所にかきます。

※1. このプリントは、しながわ・目黒こどもスクールのウェブサイトでダウンロードができます。無断複写・引用はご遠慮ください。
 ※2. このプリントを活用したオンライン授業のスケジュールは、しながわ・目黒こどもスクールのウェブサイトでご確認ください。



おうちで、やろう。

Study at home. 小学校受験の家庭学習教材

推理：ブラックボックス⑥

上の太い四角の中が約束です。クマとパンダの箱は魔法の箱です。この箱の左にあるものが入ると箱の右のようになって出てきます。まず、この箱がどんな箱なのか約束を考えます。そして箱の左のものが箱から出てきたときを考えて右の空いている場所にかきます。

※1. このプリントは、しながわ・目黒こどもスクールのウェブサイトでダウンロードができます。無断複写・引用はご遠慮ください。
 ※2. このプリントを活用したオンライン授業のスケジュールは、しながわ・目黒こどもスクールのウェブサイトでご確認ください。




おうちで、やろう。

Study at home. 小学校受験の家庭学習教材

数量：条件推理⑭

上の太い四角の中が約束です。ウサギはマスを進むとき、1マスとばしてジャンプして進みます。この約束で進み、止まったマスのニンジンを集めてゴールの旗まで行きます。ゴールに着いたときニンジンはいくつ集めましたか。集めた数だけ下の四角のニンジンを選びます。



※1. このプリントは、しながわ・目黒こどもスクールのウェブサイトでダウンロードができます。無断複写・引用はご遠慮ください。
※2. このプリントを活用したオンライン授業のスケジュールは、しながわ・目黒こどもスクールのウェブサイトでご確認ください。

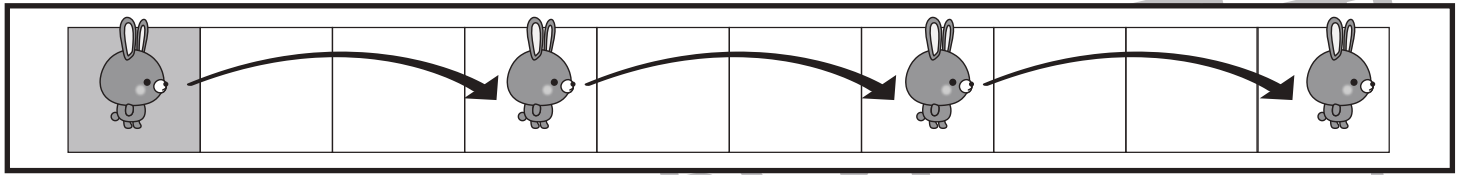


おうちで、やろう。

Study at home. 小学校受験の家庭学習教材

数量：条件推理⑮

上の太い四角の中が約束です。ウサギはマスを進むとき、2マスとはしでジャンプして進みます。この約束で進み、止まったマスのニンジンを集めてゴールの旗まで行きます。ゴールに着いたときニンジンはいくつ集めましたか。集めた数だけ下の四角のニンジンを見ます。



※1. このプリントは、しながわ・目黒こどもスクールのウェブサイトでダウンロードができます。無断複写・引用はご遠慮ください。
※2. このプリントを活用したオンライン授業のスケジュールは、しながわ・目黒こどもスクールのウェブサイトでご確認ください。

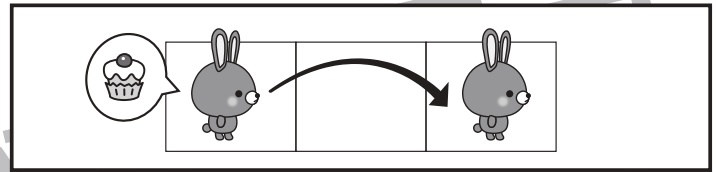
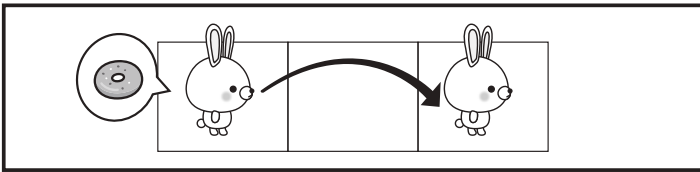


おうちで、やろう。

Study at home. 小学校受験の家庭学習教材

数量：条件推理⑬

上の太い四角の中が約束です。白ウサギと黒ウサギはマスを進むとき、1マスとばしてジャンプして進みます。この約束で止まったマスのおやつを集めてゴールの旗まで進みます。集めるおやつは白ウサギがドーナツ、黒ウサギがケーキです。それぞれ集めたおやつはいくつですか。その数だけ下の四角のそれぞれのおやつを囲みます。



※1. このプリントは、しながわ・目黒こどもスクールのウェブサイトでダウンロードができます。無断複写・引用はご遠慮ください。
※2. このプリントを活用したオンライン授業のスケジュールは、しながわ・目黒こどもスクールのウェブサイトでご確認ください。



おうちで、やろう。

Study at home. 小学校受験の家庭学習教材

図形：模写⑩

左の四角がお手本です。お手本の白丸だけを右の四角の同じ場所にかきます。黒丸はかきません。
この問題はスピードを意識して取り組む練習をしてみましょう。(1分30秒～2分) ※この問題の答えはありません。

●	○	●	○
○	●	●	○
○	●	●	●
●	○	○	●

○	○	●	●
○	●	●	●
●	○	●	○
●	○	○	●

○	○	●	○
●	●	●	○
○	●	○	●
○	●	●	○

●	○	○	○
○	●	●	○
○	●	○	●
●	○	●	○

●	●	○	○
○	●	○	●
○	●	●	●
○	●	●	○

○	●	○	●
○	○	●	○
○	●	●	○
●	○	●	○

○	○	○	●
●	○	●	●
○	●	●	●
●	○	○	○

●	○	○	●
○	●	●	○
○	●	●	○
○	●	●	○

○	○	●	○
●	●	●	○
○	●	●	○
○	●	○	●

○	○	●	●
●	●	●	○
○	○	●	●
○	○	●	○

※1. このプリントは、しながわ・目黒こどもスクールのウェブサイトでダウンロードができます。無断複写・引用はご遠慮ください。
※2. このプリントを活用したオンライン授業のスケジュールは、しながわ・目黒こどもスクールのウェブサイトでご確認ください。



おうちで、やろう。

Study at home. 小学校受験の家庭学習教材

図形：模写⑪

左の四角がお手本です。お手本の黒丸だけを白丸にかえて右の四角の同じ場所にかきます。白丸はかきません。
この問題はスピードを意識して取り組む練習をしてみましょう。(1分30秒～2分) ※この問題の答えはありません。

○	●	●	●
○	●	●	●
○	○	○	○
●	●	○	○

○	○	●	○
○	●	●	●
●	●	○	●
○	●	○	○

●	●	○	○
○	●	○	●
○	●	●	●
●	○	●	○

○	●	○	○
●	●	○	●
○	○	●	●
●	○	●	○

○	○	●	○
○	○	●	○
●	●	●	○
○	○	○	●

○	○	●	●
○	●	○	○
○	●	○	●
●	○	●	●

●	○	●	○
○	○	●	●
●	●	○	○
○	○	●	○

○	●	○	●
○	○	●	○
○	●	●	●
●	○	○	○

○	○	○	●
●	●	○	●
○	○	●	○
●	○	●	○

●	○	○	●
○	●	●	○
○	●	●	○
●	○	○	●

※1. このプリントは、しながわ・目黒こどもスクールのウェブサイトでダウンロードができます。無断複写・引用はご遠慮ください。
※2. このプリントを活用したオンライン授業のスケジュールは、しながわ・目黒こどもスクールのウェブサイトでご確認ください。





おうちで、やろう。

Study at home. 小学校受験の家庭学習教材

推理：たからさがし③

あなたは宝島にやってきました。宝箱と宝箱の鍵をたくさん見つけにいきます。下の地図の中からお手本にある「宝箱」「宝箱の鍵」を見つけて○をつけましょう。もう空いている宝箱とその隣にある鍵は外れですから、何も印はつけません。宝探しの時間はたったの1分です。それまでに、できるだけ多くの「宝箱」「宝箱の鍵」を見つけてみましょう。

※このプリントの答えはありません。お子さまと一緒に探してください。



※1. このプリントは、しながわ・目黒こどもスクールのウェブサイトからダウンロードできます。無断複写・引用はご遠慮ください。

※2. このプリントを活用したオンライン授業のスケジュールは、しながわ・目黒こどもスクールのウェブサイトでご確認ください。