








おうちで、やろう。

Study at home. 小学校受験の家庭学習教材

推理：回転⑤

動物たちは回転するテーブルの前にいます。テーブルを回してパンダの前にイチゴがきました。他の動物の前にくる果物は何ですか。それぞれ右の四角から選んで○をつけます。



※1. このプリントは、しながわ・目黒こどもスクールのウェブサイトでダウンロードができます。無断複写・引用はご遠慮ください。

※2. このプリントを活用したオンライン授業のスケジュールは、しながわ・目黒こどもスクールのウェブサイトでご確認ください。





おうちで、やろう。







Study at home. 小学校受験の家庭学習教材

推理：回転⑥

動物たちは回転するテーブルの前にいます。

①テーブルを回してウシの前にメロンパンがきました。その時、パンダとタヌキの前にくる食べ物を右の四角からみつけて○をつけます。

②テーブルを回してウサギの前にアイスがきました。その時、ブタとリスの前にくる食べ物を右の四角からみつけて○をつけます。



※1. このプリントは、しながわ・目黒こどもスクールのウェブサイトでダウンロードができます。無断複写・引用はご遠慮ください。

※2. このプリントを活用したオンライン授業のスケジュールは、しながわ・目黒こどもスクールのウェブサイトでご確認ください。



おうちで、やろう。



Study at home. 小学校受験の家庭学習教材

推理：回転⑦

動物たちは回転するテーブルの前にはいます。テーブルを回してリスの前にイチゴがきました。①、②の問題に答えます。

①ブタ、ライオン、パンダの前にくる果物を右の四角の中からみつけて○をつけます。

②メロン、リンゴの前にはいる動物を右の四角の中からみつけて○をつけます。



①

| | | | | | | | |
|--|--|--|--|--|--|--|--|
| | | | | | | | |
|--|--|--|--|--|--|--|--|

| | | | | | | | |
|--|--|--|--|--|--|--|--|
| | | | | | | | |
|--|--|--|--|--|--|--|--|

| | | | | | | | |
|--|--|--|--|--|--|--|--|
| | | | | | | | |
|--|--|--|--|--|--|--|--|

②

| | | | | | | | |
|--|--|--|--|--|--|--|--|
| | | | | | | | |
|--|--|--|--|--|--|--|--|

| | | | | | | | |
|--|--|--|--|--|--|--|--|
| | | | | | | | |
|--|--|--|--|--|--|--|--|

※1. このプリントは、しながわ・目黒こどもスクールのウェブサイトでダウンロードができます。無断複写・引用はご遠慮ください。

※2. このプリントを活用したオンライン授業のスケジュールは、しながわ・目黒こどもスクールのウェブサイトでご確認ください。



おうちで、やろう。


Study at home. 小学校受験の家庭学習教材

推理：回転⑧

動物たちは回転するテーブルの前にいます。上の段の果物がのった小さいテーブルと下の段のおやつがのった大きいテーブルは別々に回転します。上と下のテーブルをそれぞれ回してクマの前にバナナとドーナツがきました。

①パンダの前にくる果物とおやつを右の四角の中から選んで○をつけます。

②ウシの前にくる果物とおやつを右の四角の中から選んで○をつけます。



①

| | | | | | | |
|--|--|--|--|--|--|--|
| | | | | | | |
|--|--|--|--|--|--|--|

| | | | | | | |
|--|--|--|--|--|--|--|
| | | | | | | |
|--|--|--|--|--|--|--|

②

| | | | | | | |
|--|--|--|--|--|--|--|
| | | | | | | |
|--|--|--|--|--|--|--|

| | | | | | | |
|--|--|--|--|--|--|--|
| | | | | | | |
|--|--|--|--|--|--|--|

※1. このプリントは、しながわ・目黒こどもスクールのウェブサイトからダウンロードできます。無断複写・引用はご遠慮ください。

※2. このプリントを活用したオンライン授業のスケジュールは、しながわ・目黒こどもスクールのウェブサイトでご確認ください。



おうちで、やろう。

Study at home. 小学校受験の家庭学習教材

推理：じゃんけん⑦

女の子と男の子が同じ数だけクッキーを持ってじゃんけんをしました。じゃんけんで勝つと相手からクッキーを1枚もらえます。あいこのときはなにもありません。この約束のとき、上が女の子が出す手、下が男の子が出す手で5回じゃんけんをしました。最後に持っていたクッキーの数だけ右の太い枠の中に○をかきます。答えは上が女の子が持っている数、下が男の子が持っている数をかきます。

| | | | | | | |
|--|---|---|---|---|---|----------------------|
| | ① | ② | ③ | ④ | ⑤ | <input type="text"/> |
| | | | | | | |
| | ① | ② | ③ | ④ | ⑤ | <input type="text"/> |
| | | | | | | |

| | | | | | | |
|--|---|---|---|---|---|----------------------|
| | ① | ② | ③ | ④ | ⑤ | <input type="text"/> |
| | | | | | | |
| | ① | ② | ③ | ④ | ⑤ | <input type="text"/> |
| | | | | | | |

| | | | | | | |
|--|---|---|---|---|---|----------------------|
| | ① | ② | ③ | ④ | ⑤ | <input type="text"/> |
| | | | | | | |
| | ① | ② | ③ | ④ | ⑤ | <input type="text"/> |
| | | | | | | |

| | | | | | | |
|--|---|---|---|---|---|----------------------|
| | ① | ② | ③ | ④ | ⑤ | <input type="text"/> |
| | | | | | | |
| | ① | ② | ③ | ④ | ⑤ | <input type="text"/> |
| | | | | | | |

※1. このプリントは、しながわ・目黒こどもスクールのウェブサイトでダウンロードができます。無断複写・引用はご遠慮ください。

※2. このプリントを活用したオンライン授業のスケジュールは、しながわ・目黒こどもスクールのウェブサイトでご確認ください。


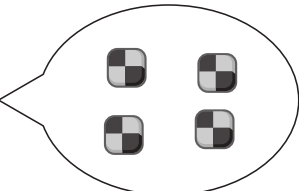







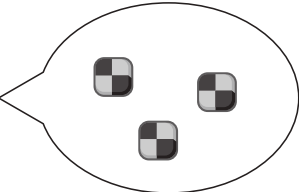









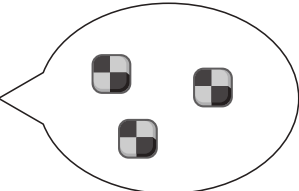







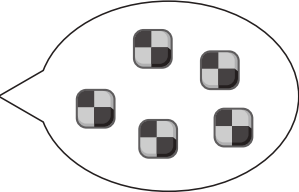






おうちで、やろう。


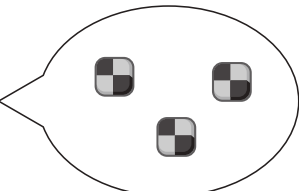







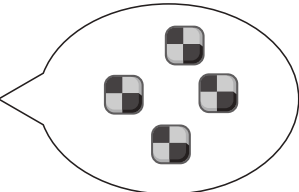






Study at home. 小学校受験の家庭学習教材


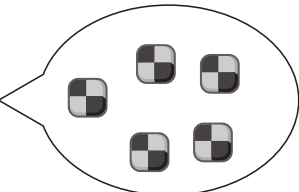







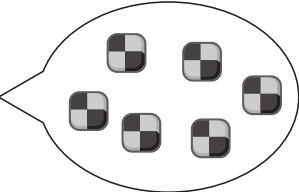






推理：じゃんけん⑧

女の子と男の子が吹き出しの中の数だけクッキーを持ってじゃんけんをしました。じゃんけんで勝つと相手からクッキーを1枚もらえます。あいこのときはなにもありません。この約束のとき、上が女の子が出す手、下が男の子が出す手で5回じゃんけんをしました。最後に持っていたクッキーの数が多いのどちらですか。女の子が多いときは☆に、男の子が多いときは★に○をつけます。

| | | | | | | | |
|---|---|---|---|---|---|---|---|
|  |  | ① | ② | ③ | ④ | ⑤ |  |
| | |  |  |  |  |  | |
|  |  | ① | ② | ③ | ④ | ⑤ |  |
| | |  |  |  |  |  | |

| | | | | | | | |
|---|---|---|---|---|---|---|---|
|  |  | ① | ② | ③ | ④ | ⑤ |  |
| | |  |  |  |  |  | |
|  |  | ① | ② | ③ | ④ | ⑤ |  |
| | |  |  |  |  |  | |

| | | | | | | | |
|---|---|---|---|---|---|---|---|
|  |  | ① | ② | ③ | ④ | ⑤ |  |
| | |  |  |  |  |  | |
|  |  | ① | ② | ③ | ④ | ⑤ |  |
| | |  |  |  |  |  | |

| | | | | | | | |
|---|---|---|---|---|---|---|---|
|  |  | ① | ② | ③ | ④ | ⑤ |  |
| | |  |  |  |  |  | |
|  |  | ① | ② | ③ | ④ | ⑤ |  |
| | |  |  |  |  |  | |

※1. このプリントは、しながわ・目黒こどもスクールのウェブサイトでダウンロードができます。無断複写・引用はご遠慮ください。

※2. このプリントを活用したオンライン授業のスケジュールは、しながわ・目黒こどもスクールのウェブサイトでご確認ください。


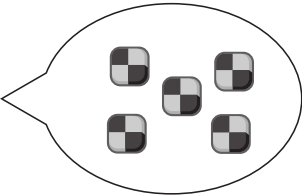







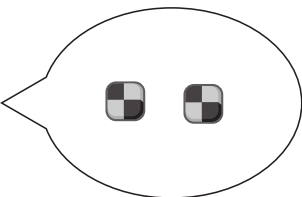









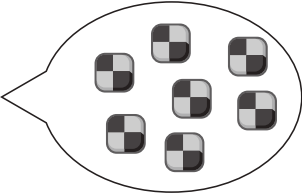







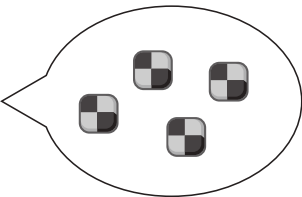






おうちで、やろう。


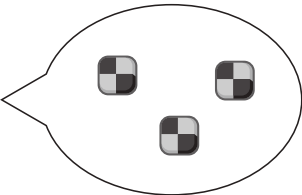







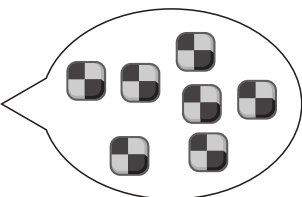






Study at home. 小学校受験の家庭学習教材


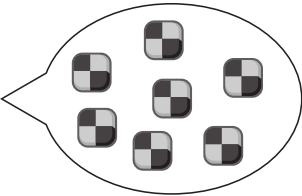







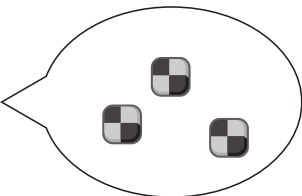






推理：じゃんけん⑨

女の子と男の子が吹き出しの中の数だけクッキーを持ってじゃんけんをしました。じゃんけんで勝つと相手からクッキーを2枚もらえます。あいこのときはなにもありません。この約束のとき、上が女の子の出す手、下が男の子が出す手で5回じゃんけんをしました。最後に持っていたクッキーの数が多いのどちらですか。女の子が多いときは☆に、男の子が多いときは★に○をつけます。

| | | | | | | | |
|---|---|---|---|---|--|---|---|
|  |  | ① | ② | ③ | ④ | ⑤ |  |
| | |  |  |  |  |  | |
|  |  | ① | ② | ③ | ④ | ⑤ |  |
| | |  |  |  |  |  | |

| | | | | | | | |
|---|---|---|---|---|--|---|---|
|  |  | ① | ② | ③ | ④ | ⑤ |  |
| | |  |  |  |  |  | |
|  |  | ① | ② | ③ | ④ | ⑤ |  |
| | |  |  |  |  |  | |

| | | | | | | | |
|---|---|---|---|---|--|---|---|
|  |  | ① | ② | ③ | ④ | ⑤ |  |
| | |  |  |  |  |  | |
|  |  | ① | ② | ③ | ④ | ⑤ |  |
| | |  |  |  |  |  | |

| | | | | | | | |
|---|---|---|---|---|--|---|---|
|  |  | ① | ② | ③ | ④ | ⑤ |  |
| | |  |  |  |  |  | |
|  |  | ① | ② | ③ | ④ | ⑤ |  |
| | |  |  |  |  |  | |

※1. このプリントは、しながわ・目黒こどもスクールのウェブサイトでダウンロードができます。無断複写・引用はご遠慮ください。

※2. このプリントを活用したオンライン授業のスケジュールは、しながわ・目黒こどもスクールのウェブサイトでご確認ください。



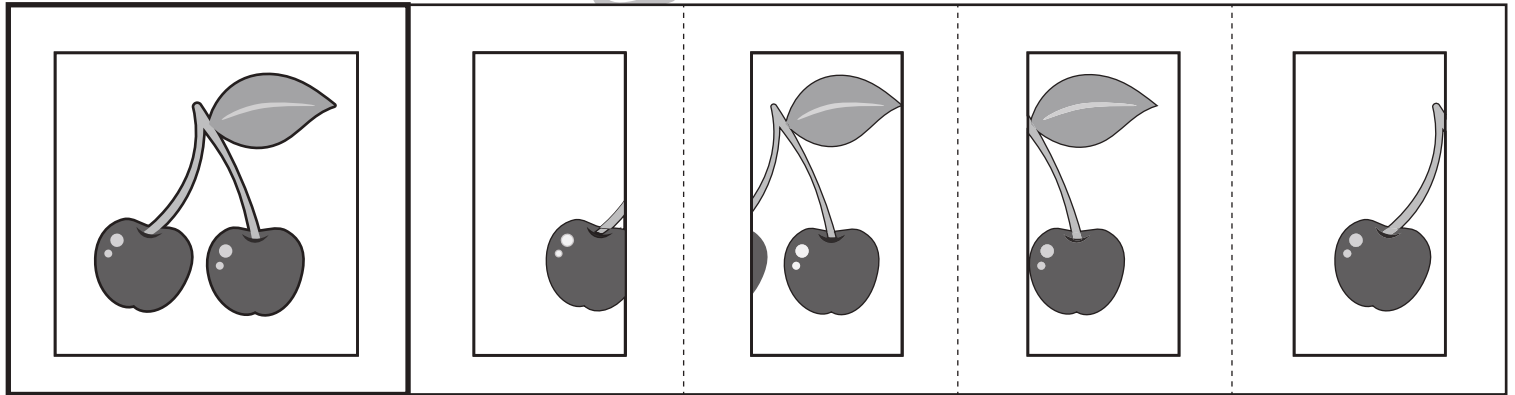
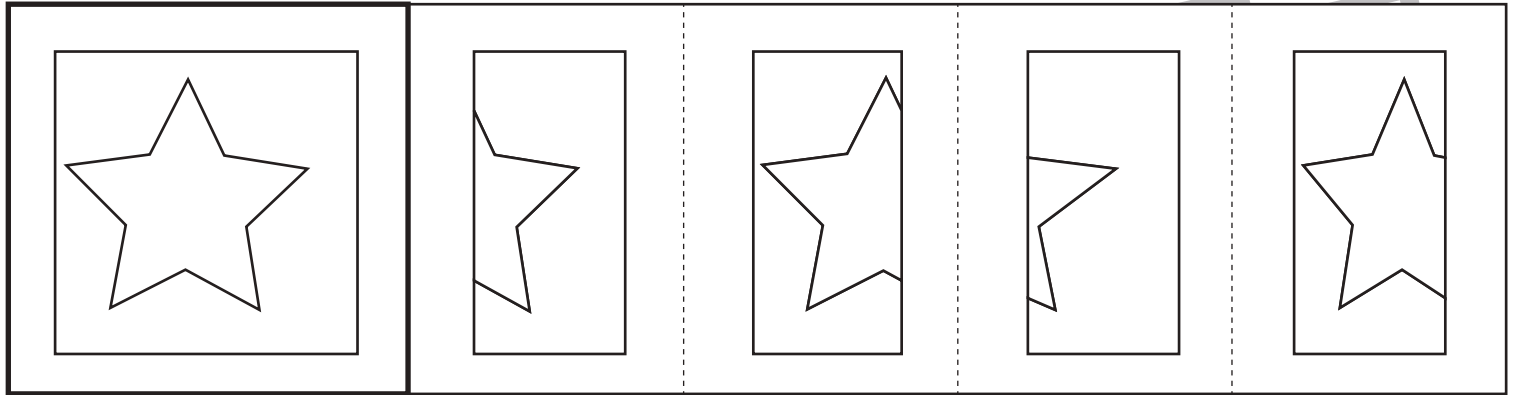


おうちで、やろう。

Study at home. 小学校受験の家庭学習教材

図形：構成⑧

左の四角の中がお手本です。このお手本は右の2つを組み合わせてできます。その二つの絵に○をつけます。



※1. このプリントは、しながわ・目黒こどもスクールのウェブサイトでダウンロードができます。無断複写・引用はご遠慮ください。
 ※2. このプリントを活用したオンライン授業のスケジュールは、しながわ・目黒こどもスクールのウェブサイトでご確認ください。



おうちで、やろう。

Study at home. 小学校受験の家庭学習教材

処理：模写③

左の四角がお手本です。●が描かれていないマスを探して、右側のマスに○をかきます。

この問題はスピードを意識して取り組む練習をしてみましょう。(1分30秒～2分)

| | | | |
|---|--|---|---|
| ● | | ● | ● |
| ● | | ● | ● |
| ● | | ● | |
| ● | | | ● |

| | | | |
|--|--|--|--|
| | | | |
| | | | |
| | | | |
| | | | |

| | | | |
|---|---|---|---|
| | ● | ● | ● |
| | | | ● |
| ● | | | |
| ● | ● | ● | |

| | | | |
|--|--|--|--|
| | | | |
| | | | |
| | | | |
| | | | |

| | | | |
|---|---|---|---|
| ● | ● | | ● |
| | | ● | |
| ● | | | ● |
| | ● | ● | |

| | | | |
|--|--|--|--|
| | | | |
| | | | |
| | | | |
| | | | |

| | | | |
|---|---|---|---|
| ● | | ● | |
| ● | | ● | |
| | ● | | ● |
| | ● | | ● |

| | | | |
|--|--|--|--|
| | | | |
| | | | |
| | | | |
| | | | |

| | | | |
|---|---|---|---|
| ● | | ● | |
| | ● | ● | |
| | | | ● |
| ● | | ● | ● |

| | | | |
|--|--|--|--|
| | | | |
| | | | |
| | | | |
| | | | |

| | | | |
|---|---|---|---|
| ● | ● | | |
| | | ● | ● |
| ● | | ● | |
| ● | | | |

| | | | |
|--|--|--|--|
| | | | |
| | | | |
| | | | |
| | | | |

| | | | |
|---|---|---|---|
| ● | ● | ● | ● |
| ● | | ● | |
| | | | |
| ● | | | ● |

| | | | |
|--|--|--|--|
| | | | |
| | | | |
| | | | |
| | | | |

| | | | |
|---|---|---|---|
| ● | | ● | ● |
| | ● | | ● |
| | | | |
| ● | | ● | ● |

| | | | |
|--|--|--|--|
| | | | |
| | | | |
| | | | |
| | | | |

| | | | |
|---|---|--|---|
| ● | ● | | ● |
| ● | | | ● |
| | ● | | |
| ● | | | ● |

| | | | |
|--|--|--|--|
| | | | |
| | | | |
| | | | |
| | | | |

| | | | |
|---|---|---|--|
| ● | | | |
| | ● | ● | |
| ● | | ● | |
| | ● | ● | |

| | | | |
|--|--|--|--|
| | | | |
| | | | |
| | | | |
| | | | |

※1. このプリントは、しながわ・目黒こどもスクールのウェブサイトでダウンロードができます。無断複写・引用はご遠慮ください。

※2. このプリントを活用したオンライン授業のスケジュールは、しながわ・目黒こどもスクールのウェブサイトでご確認ください。


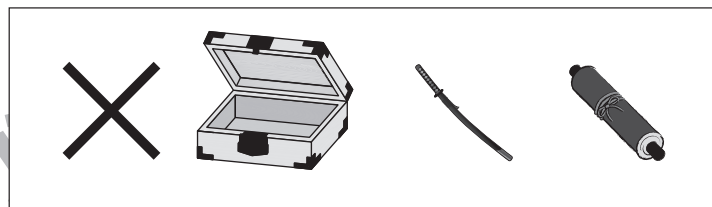
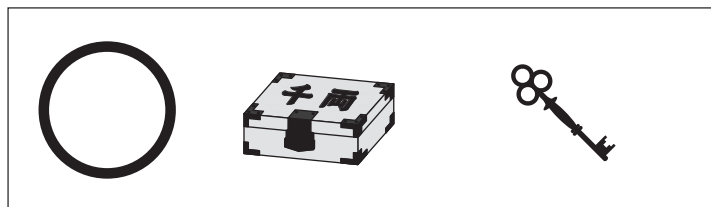


おうちで、やろう。

Study at home. 小学校受験の家庭学習教材

推理：たからさがし④

あなたは宝島にやってきました。宝箱と宝箱の鍵をたくさん見つけにいきます。下の地図の中からお手本にある「宝箱」「宝箱の鍵」を見つけて○をつけましょう。「もう空いている宝箱」と「刀」「巻物」はハズレですから、何も印はつけません。宝探しの時間はたったの1分です。それまでに、できるだけ多くの「宝箱」「宝箱の鍵」を見つけてみましょう。



※1. このプリントは、しながわ・目黒こどもスクールのウェブサイトからダウンロードができます。無断複写・引用はご遠慮ください。
※2. このプリントを活用したオンライン授業のスケジュールは、しながわ・目黒こどもスクールのウェブサイトでご確認ください。