






# おうちで、やろう。

Study at home. 小学校受験の家庭学習教材

推理：回転⑤

動物たちは回転するテーブルの前にはいます。テーブルを回してパンダの前にイチゴがきました。他の動物の前にくる果物は何ですか。それぞれ右の四角から選んで○をつけます。



※1. このプリントは、しながわ・目黒こどもスクールのウェブサイトでダウンロードができます。無断複写・引用はご遠慮ください。

※2. このプリントを活用したオンライン授業のスケジュールは、しながわ・目黒こどもスクールのウェブサイトでご確認ください。





# おうちで、やろう。


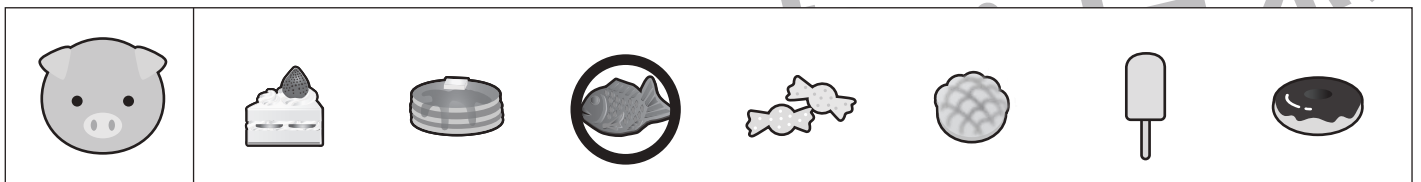




Study at home. 小学校受験の家庭学習教材

推理：回転⑥

動物たちは回転するテーブルの前にいます。

①テーブルを回してウシの前にメロンパンがきました。その時、パンダとタヌキの前にくる食べ物を右の四角からみつけて○をつけます。

②テーブルを回してウサギの前にアイスがきました。その時、ブタとリスの前にくる食べ物を右の四角からみつけて○をつけます。



※1. このプリントは、しながわ・目黒こどもスクールのウェブサイトでダウンロードができます。無断複写・引用はご遠慮ください。

※2. このプリントを活用したオンライン授業のスケジュールは、しながわ・目黒こどもスクールのウェブサイトでご確認ください。



# おうちで、やろう。



Study at home. 小学校受験の家庭学習教材

推理：回転⑦

動物たちは回転するテーブルの前にいます。テーブルを回してリスの前にイチゴがきました。①、②の問題に答えます。

①ブタ、ライオン、パンダの前にくる果物を右の四角の中からみつけて○をつけます。

②メロン、リンゴの前にいる動物を右の四角の中からみつけて○をつけます。



①

--	--	--	--	--	--	--	--

--	--	--	--	--	--	--	--

--	--	--	--	--	--	--	--

②

--	--	--	--	--	--	--	--

--	--	--	--	--	--	--	--

※1. このプリントは、しながわ・目黒こどもスクールのウェブサイトでダウンロードができます。無断複写・引用はご遠慮ください。

※2. このプリントを活用したオンライン授業のスケジュールは、しながわ・目黒こどもスクールのウェブサイトでご確認ください。



# おうちで、やろう。


Study at home. 小学校受験の家庭学習教材

推理：回転⑧

動物たちは回転するテーブルの前にいます。上の段の果物がのった小さいテーブルと下の段のおやつがのった大きいテーブルは別々に回転します。上と下のテーブルをそれぞれ回してクマの前にバナナとドーナツがきました。

①パンダの前にくる果物とおやつを右の四角の中から選んで○をつけます。

②ウシの前にくる果物とおやつを右の四角の中から選んで○をつけます。



①

--	--	--	--	--	--	--

--	--	--	--	--	--	--

②

--	--	--	--	--	--	--

--	--	--	--	--	--	--

※1. このプリントは、しながわ・目黒こどもスクールのウェブサイトからダウンロードできます。無断複写・引用はご遠慮ください。

※2. このプリントを活用したオンライン授業のスケジュールは、しながわ・目黒こどもスクールのウェブサイトでご確認ください。



# おうちで、やろう。

Study at home. 小学校受験の家庭学習教材

## 推理：じゃんけん⑦

女の子と男の子が同じ数だけクッキーを持ってじゃんけんをしました。じゃんけんで勝つと相手からクッキーを1枚もらえます。あいこのときはなにもありません。この約束のとき、上が女の子が出す手、下が男の子が出す手で5回じゃんけんをしました。最後に持っていたクッキーの数だけ右の太い枠の中に○をかきます。答えは上が女の子が持っている数、下が男の子が持っている数をかきます。

	①	②	③	④	⑤	<input type="text" value="○×4"/>
	①	②	③	④	⑤	<input type="text" value="○×2"/>

	①	②	③	④	⑤	<input type="text" value="○×3"/>
	①	②	③	④	⑤	<input type="text" value="○×5"/>

	①	②	③	④	⑤	<input type="text" value="○×1"/>
	①	②	③	④	⑤	<input type="text" value="○×3"/>

	①	②	③	④	⑤	<input type="text" value="○×4"/>
	①	②	③	④	⑤	<input type="text" value="○×4"/>

※1. このプリントは、しながわ・目黒こどもスクールのウェブサイトでダウンロードができます。無断複写・引用はご遠慮ください。  
※2. このプリントを活用したオンライン授業のスケジュールは、しながわ・目黒こどもスクールのウェブサイトでご確認ください。



































# おうちで、やろう。

















Study at home. 小学校受験の家庭学習教材

















推理：じゃんけん⑧

女の子と男の子が吹き出しの中の数だけクッキーを持ってじゃんけんをしました。じゃんけんで勝つと相手からクッキーを1枚もらえます。あいこのときはなにもありません。この約束のとき、上が女の子が出す手、下が男の子が出す手で5回じゃんけんをしました。最後に持っていたクッキーの数が多いのどちらですか。女の子が多いときは☆に、男の子が多いときは★に○をつけます。

		①	②	③	④	⑤	
							
		①	②	③	④	⑤	
							

		①	②	③	④	⑤	
							
		①	②	③	④	⑤	
							

		①	②	③	④	⑤	
							
		①	②	③	④	⑤	
							

		①	②	③	④	⑤	
							
		①	②	③	④	⑤	
							

※1. このプリントは、しながわ・目黒こどもスクールのウェブサイトでダウンロードができます。無断複写・引用はご遠慮ください。

※2. このプリントを活用したオンライン授業のスケジュールは、しながわ・目黒こどもスクールのウェブサイトでご確認ください。





# おうちで、やろう。

Study at home. 小学校受験の家庭学習教材

## 推理：じゃんけん⑨

女の子と男の子が吹き出しの中の数だけクッキーを持ってじゃんけんをしました。じゃんけんで勝つと相手からクッキーを2枚もらえます。あいこのときはなにもありません。この約束のとき、上が女の子の出す手、下が男の子が出す手で5回じゃんけんをしました。最後に持っていたクッキーの数が多いのどちらですか。女の子が多いときは☆に、男の子が多いときは★に○をつけます。

	①	②	③	④	⑤	
	①	②	③	④	⑤	

	①	②	③	④	⑤	
	①	②	③	④	⑤	

	①	②	③	④	⑤	
	①	②	③	④	⑤	

	①	②	③	④	⑤	
	①	②	③	④	⑤	

※1. このプリントは、しながわ・目黒こどもスクールのウェブサイトでダウンロードができます。無断複写・引用はご遠慮ください。

※2. このプリントを活用したオンライン授業のスケジュールは、しながわ・目黒こどもスクールのウェブサイトでご確認ください。

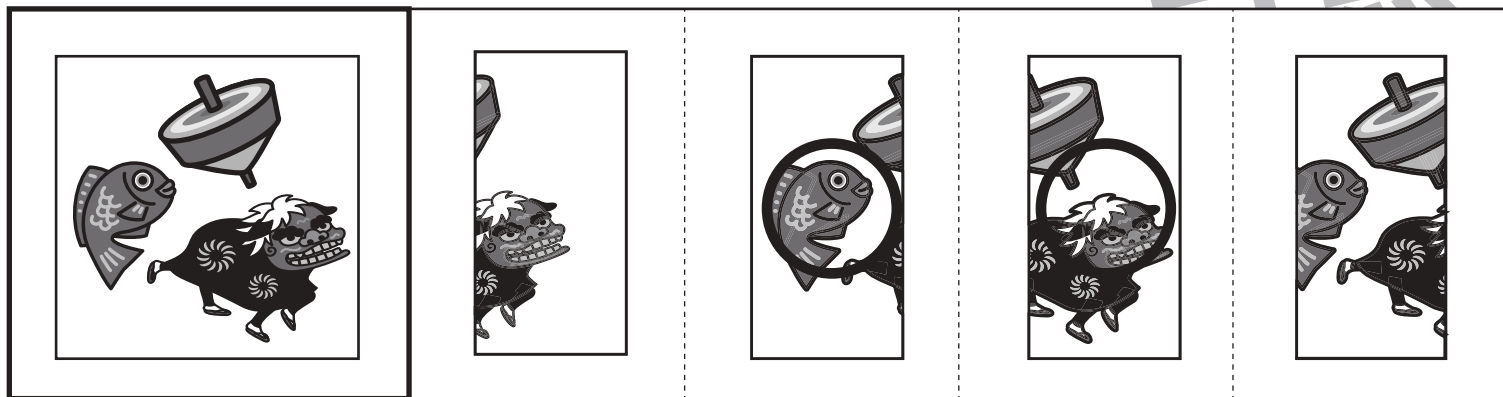

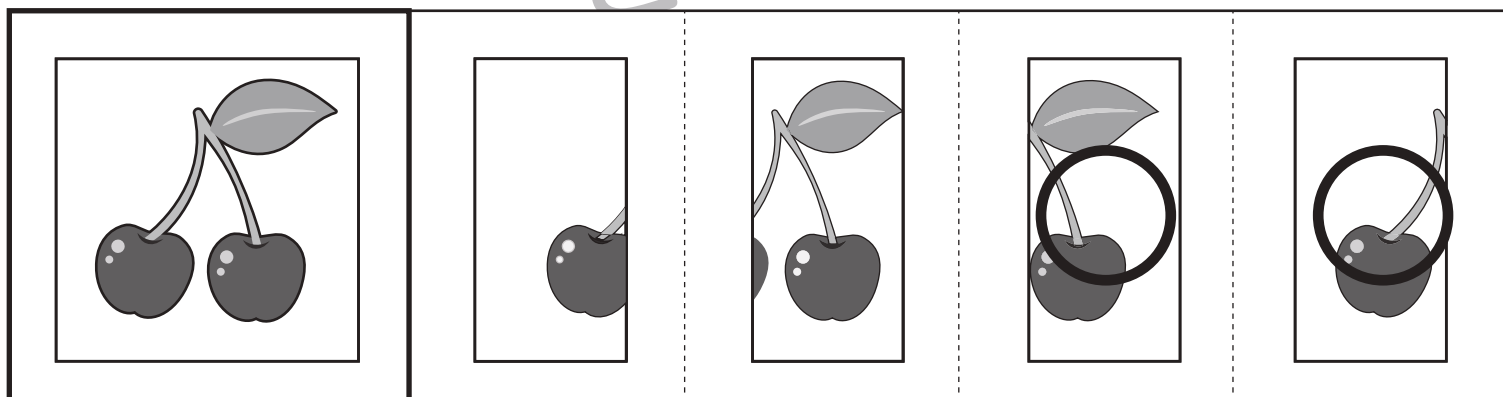
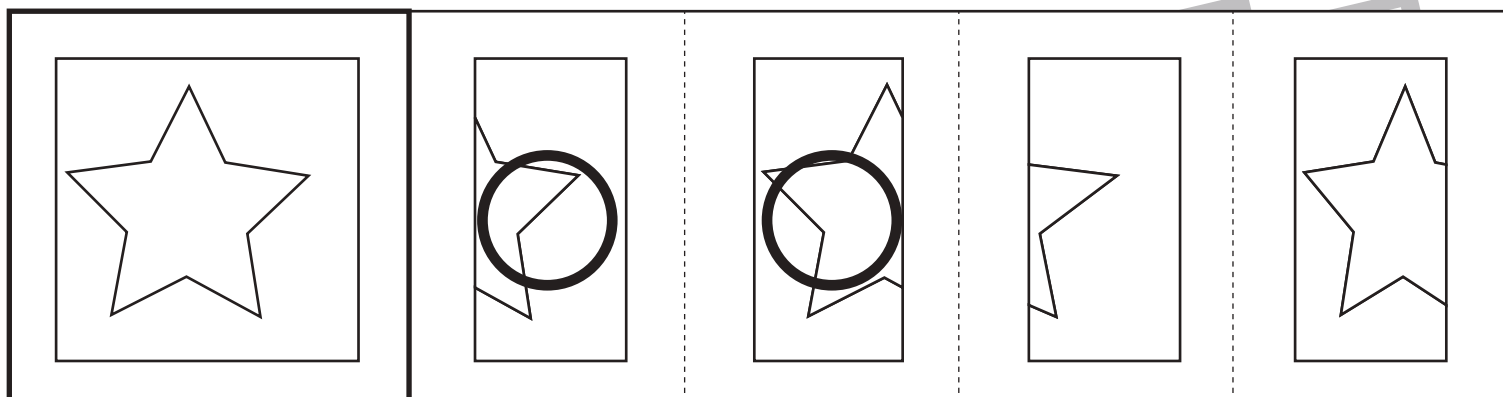


# おうちで、やろう。

Study at home. 小学校受験の家庭学習教材

図形：構成⑧

左の四角の中がお手本です。このお手本は右の2つを組み合わせてできます。その二つの絵に○をつけます。



※1. このプリントは、しながわ・目黒こどもスクールのウェブサイトからダウンロードできます。無断複写・引用はご遠慮ください。

※2. このプリントを活用したオンライン授業のスケジュールは、しながわ・目黒こどもスクールのウェブサイトでご確認ください。





# おうちで、やろう。

Study at home. 小学校受験の家庭学習教材

処理：模写③

左の四角がお手本です。●が描かれていないマスを探して、右側のマスに○をかきます。

この問題はスピードを意識して取り組む練習をしてみましょう。(1分30秒～2分)

●		●	●
●		●	●
●		●	
●			●

	○		
	○		
	○		○
	○	○	

	●	●	●
			●
●			
●	●	●	

○			
○	○	○	
	○	○	○
			○

●	●		●
		●	
●			●
	●	●	

		○	
○	○		○
	○	○	
○			○

●		●	
●		●	
	●		●
	●		●

	○		○
	○		○
○		○	
○		○	

●		●	
	●	●	
			●
●		●	●

	○		○
○			○
○	○	○	
	○		

●	●		
		●	●
●		●	
●			

		○	○
○	○		
	○		○
	○	○	○

●	●	●	●
●		●	
●			●

	○		○
○	○	○	○
	○	○	

●		●	●
	●		●
●		●	●

	○		
○		○	
○	○	○	○
	○		

●	●		●
●			●
	●		
●			●

		○	
	○	○	
○		○	○
	○	○	

●			
	●	●	
●		●	
	●	●	

	○	○	○
○			○
	○		○
○			○

※1. このプリントは、しながわ・目黒こどもスクールのウェブサイトでダウンロードができます。無断複写・引用はご遠慮ください。

※2. このプリントを活用したオンライン授業のスケジュールは、しながわ・目黒こどもスクールのウェブサイトでご確認ください。