



おうちで、やろう。

Study at home. 小学校受験の家庭学習教材

図形：重ね⑪

左の四角の中の二枚の紙をぴったり重ねます。このとき、白と白が重なると白くなり、黒と黒が重なると黒くなります。ただし、白と黒が重なったときは灰色になります。この約束のとき、左の四角の中の二枚をぴったり重ねるとどのように見えるかを考えて右の四角の中から選び○をつけます。

※1. このプリントは、しながわ・目黒こどもスクールのウェブサイトでダウンロードができます。無断複写・引用はご遠慮ください。
※2. このプリントを活用したオンライン授業のスケジュールは、しながわ・目黒こどもスクールのウェブサイトでご確認ください。


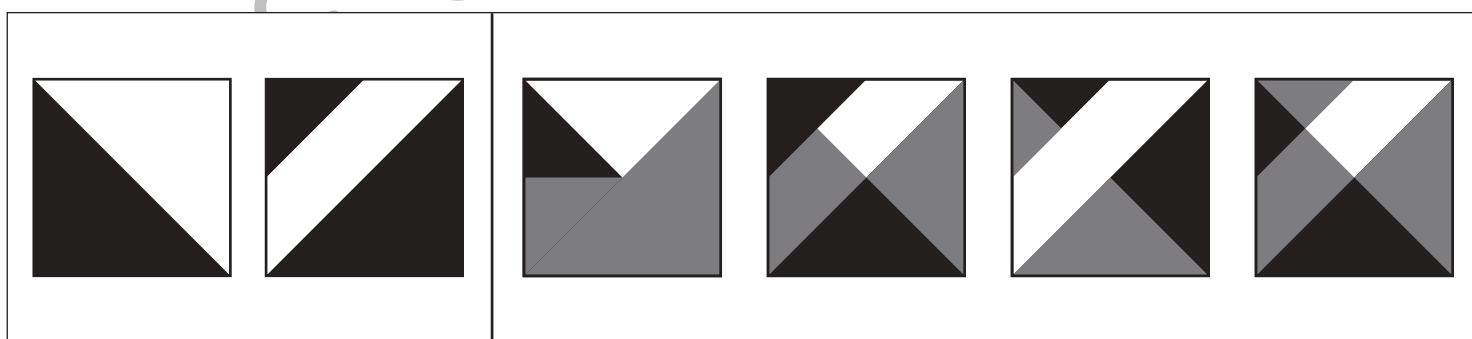
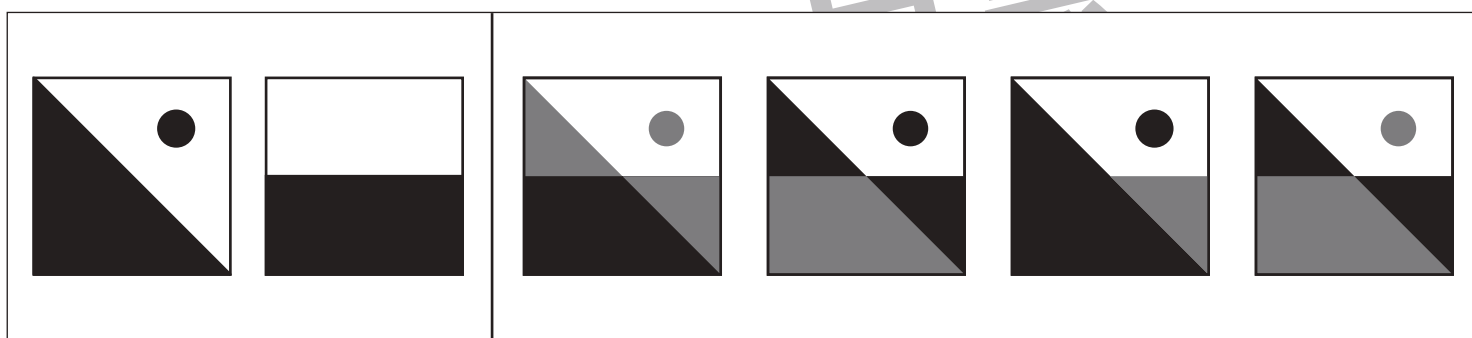


おうちで、やろう。

Study at home. 小学校受験の家庭学習教材

図形：重ね⑫

左の四角の中の二枚の紙をぴったり重ねます。このとき、白と白が重なると白くなり、黒と黒が重なると黒くなります。ただし、白と黒が重なったときは灰色になります。この約束のとき、左の四角の中の二枚をぴったり重ねるとどのように見えるかを考えて右の四角の中から選び○をつけます。



※1. このプリントは、しながわ・目黒こどもスクールのウェブサイトでダウンロードができます。無断複写・引用はご遠慮ください。

※2. このプリントを活用したオンライン授業のスケジュールは、しながわ・目黒こどもスクールのウェブサイトでご確認ください。



おうちで、やろう。

Study at home. 小学校受験の家庭学習教材

図形：重ね⑬

左の四角の中の二枚の紙をぴったり重ねます。このとき、白と白が重なると白くなり、黒と黒が重なると黒くなります。ただし、白と黒が重なったときは灰色になります。この約束のとき、左の四角の中の二枚をぴったり重ねるとどのように見えるかを考えて右の四角の中から選び○をつけます。

--	--

--	--

--	--

--	--

--	--

※1. このプリントは、しながわ・目黒こどもスクールのウェブサイトでダウンロードができます。無断複写・引用はご遠慮ください。

※2. このプリントを活用したオンライン授業のスケジュールは、しながわ・目黒こどもスクールのウェブサイトでご確認ください。

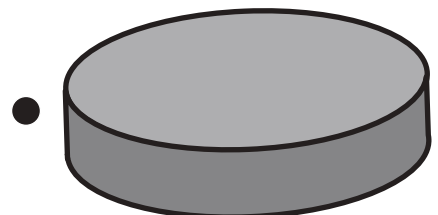
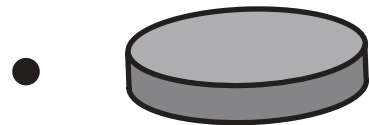
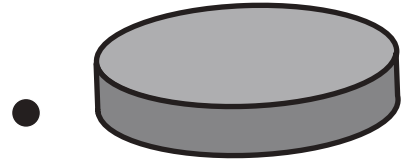


おうちで、やろう。

Study at home. 小学校受験の家庭学習教材

推理：順位付け①

左のお弁当箱の大きさにぴったり合う蓋を右から選び線で結びましょう。



※1. このプリントは、しながわ・目黒こどもスクールのウェブサイトでダウンロードができます。無断複写・引用はご遠慮ください。
※2. このプリントを活用したオンライン授業のスケジュールは、しながわ・目黒こどもスクールのウェブサイトでご確認ください。


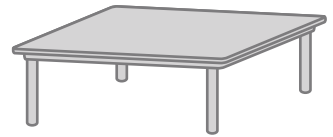
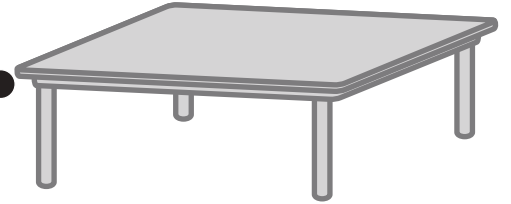
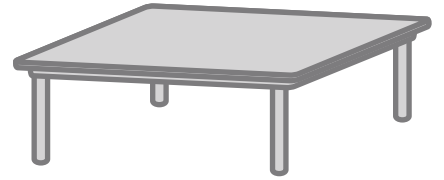



おうちで、やろう。

Study at home. 小学校受験の家庭学習教材

推理：順位付け②

家族そろって食事をします。どの家族がどのテーブルに座ればいいかを考えて線で結びましょう。



※1. このプリントは、しながわ・目黒こどもスクールのウェブサイトでダウンロードができます。無断複写・引用はご遠慮ください。
※2. このプリントを活用したオンライン授業のスケジュールは、しながわ・目黒こどもスクールのウェブサイトでご確認ください。



おうちで、やろう。

Study at home. 小学校受験の家庭学習教材

推理：条件推理④

左の太い四角の中がお手本です。このお手本はコップの中に水が入っていて、上から丸いボールを入れて落ちていく途中の様子です。このままボールがまっすぐ落ちたときどうなりますか。正しいものを右の4つの中から選んで○をつけます。

※1. このプリントは、しながわ・目黒こどもスクールのウェブサイトからダウンロードできます。無断複写・引用はご遠慮ください。

※2. このプリントを活用したオンライン授業のスケジュールは、しながわ・目黒こどもスクールのウェブサイトでご確認ください。



おうちで、やろう。

Study at home. 小学校受験の家庭学習教材

推理：条件推理⑤

左の太い四角の中がお手本です。このお手本はコップの中に水が入っていて、上から丸いボールを入れて落ちていく途中の様子です。このままボールがまっすぐ落ちたときどうなりますか。正しいものを右の4つの中から選んで○をつけます。

※1. このプリントは、しながわ・目黒こどもスクールのウェブサイトからダウンロードできます。無断複写・引用はご遠慮ください。

※2. このプリントを活用したオンライン授業のスケジュールは、しながわ・目黒こどもスクールのウェブサイトでご確認ください。

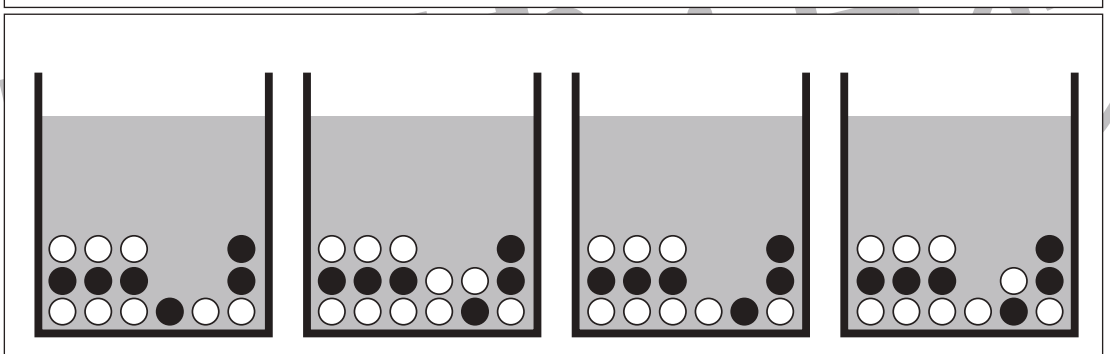
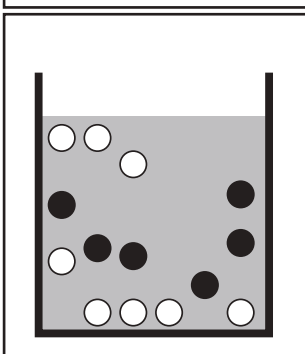
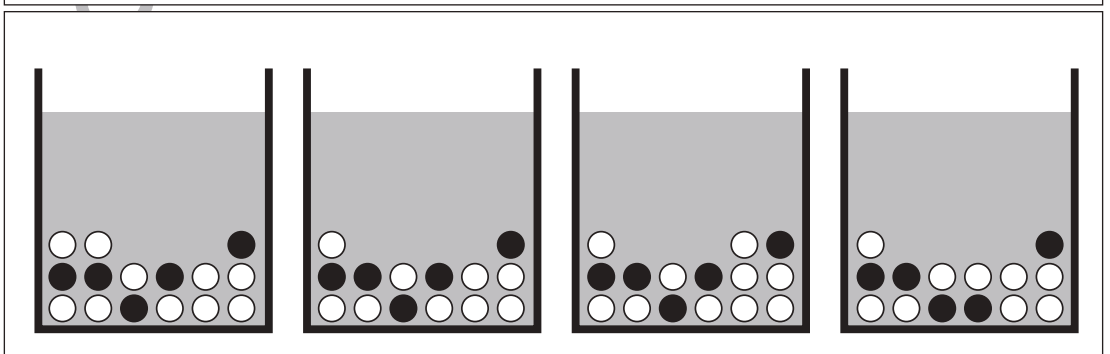
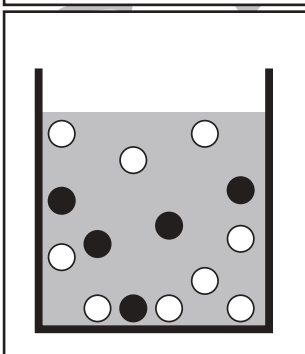
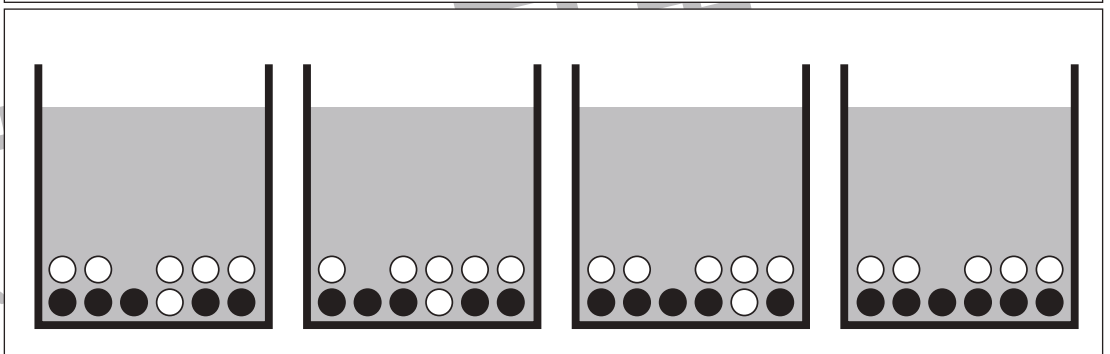
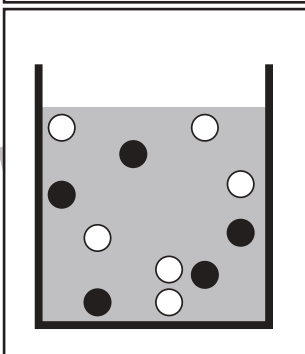
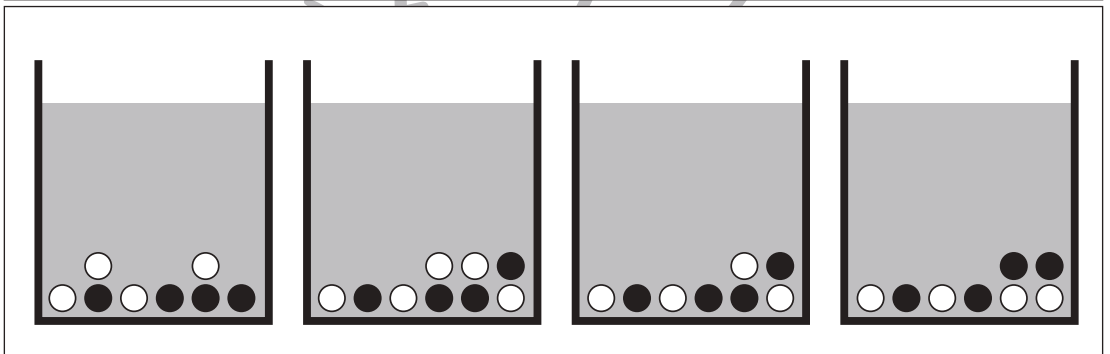
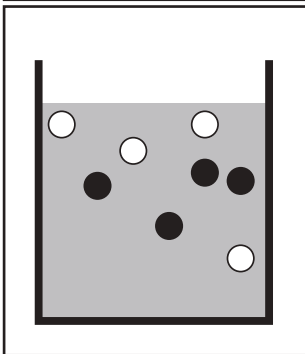
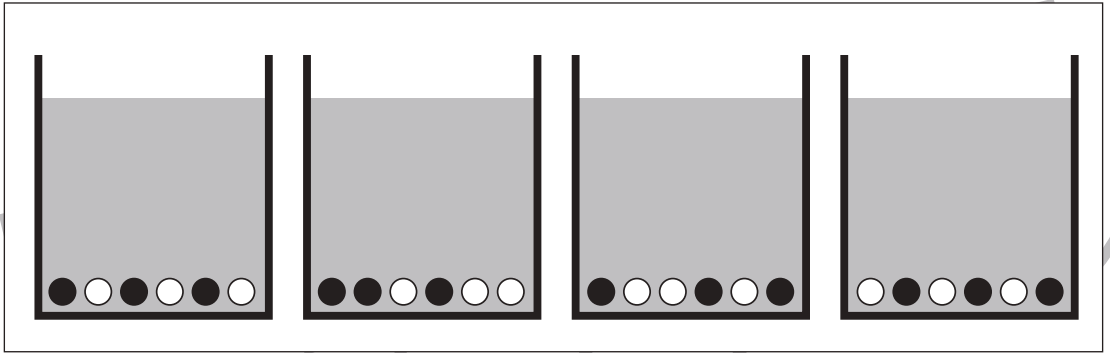
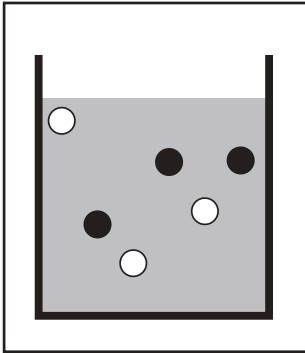


おうちで、やろう。

Study at home. 小学校受験の家庭学習教材

推理：条件推理⑥

左の太い四角の中がお手本です。このお手本はコップの中に水が入っていて、上から丸いボールを入れて落ちていく途中の様子です。このままボールがまっすぐ落ちたときどうなりますか。正しいものを右の4つの中から選んで○をつけます。



※1. このプリントは、しながわ・目黒こどもスクールのウェブサイトからダウンロードできます。無断複写・引用はご遠慮ください。
※2. このプリントを活用したオンライン授業のスケジュールは、しながわ・目黒こどもスクールのウェブサイトでご確認ください。



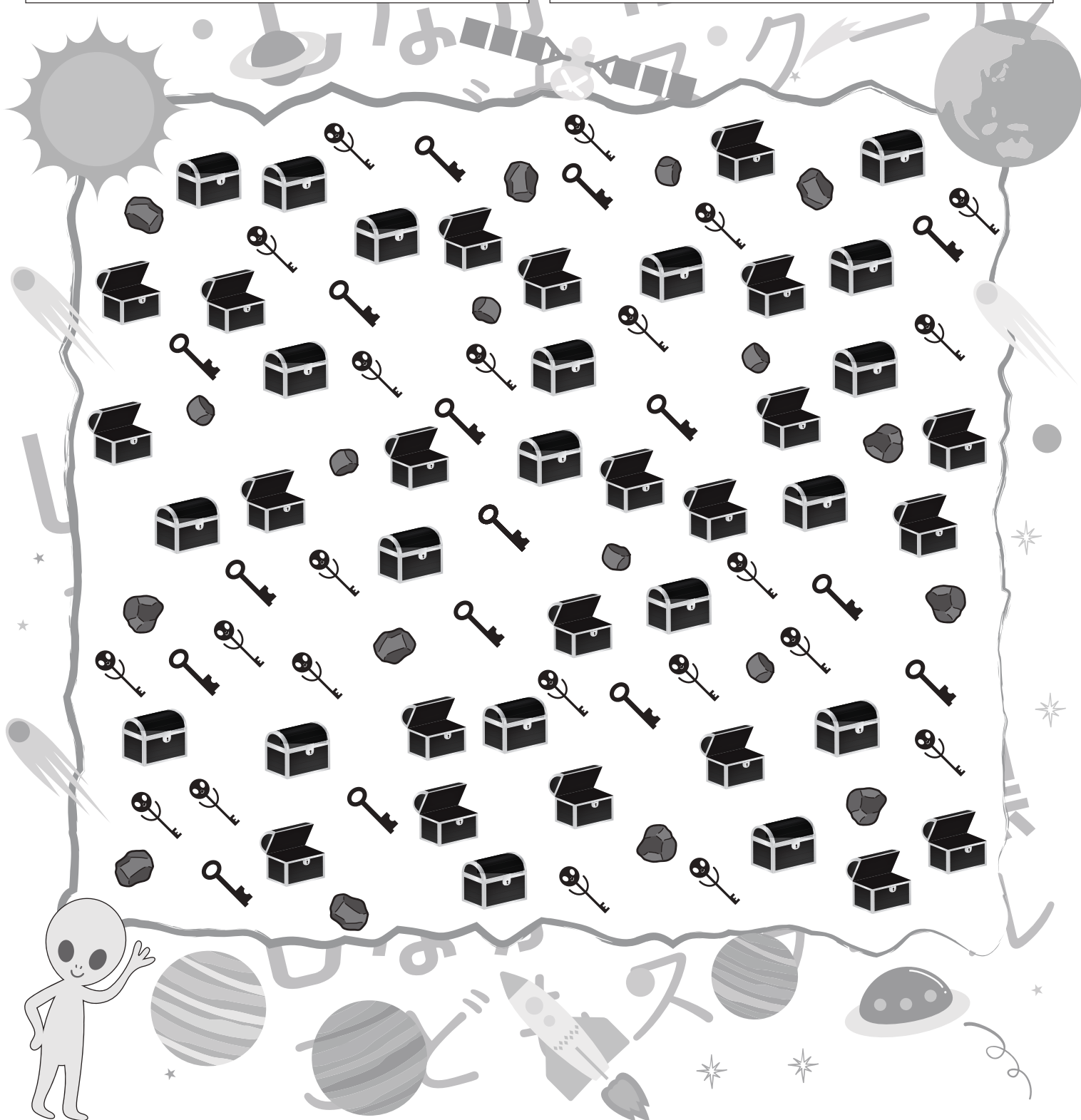
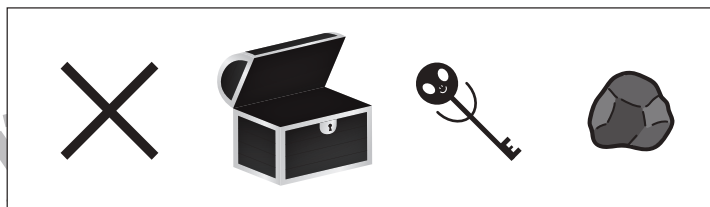


おうちで、やろう。

Study at home. 小学校受験の家庭学習教材

推理：たからさがし⑤

あなたは宝島にやってきました。宝箱と宝箱の鍵をたくさん見つけにいきます。下の地図の中からお手本にある「宝箱」「宝箱の鍵」を見つけて○をつけましょう。「もう空いている宝箱」と「鍵に似た宇宙人」「隕石」はハズレですから、何も印はつけません。宝探しの時間はたったの1分です。それまでに、できるだけ多くの「宝箱」「宝箱の鍵」を見つけてみましょう。



※1. このプリントは、しながわ・目黒こどもスクールのウェブサイトからダウンロードできます。無断複写・引用はご遠慮ください。

※2. このプリントを活用したオンライン授業のスケジュールは、しながわ・目黒こどもスクールのウェブサイトでご確認ください。

