





# おうちで、やろう。

Study at home. 小学校受験の家庭学習教材

## 常識：季節⑥

上の絵は春の様子、下の絵は冬の様子絵です。それぞれおかしなところがあります。季節が違うものを見つけて × をつけます。



※1. このプリントは、しながわ・目黒こどもスクールのウェブサイトでダウンロードができます。無断複写・引用はご遠慮ください。

※2. このプリントを活用したオンライン授業のスケジュールは、しながわ・目黒こどもスクールのウェブサイトでご確認ください。

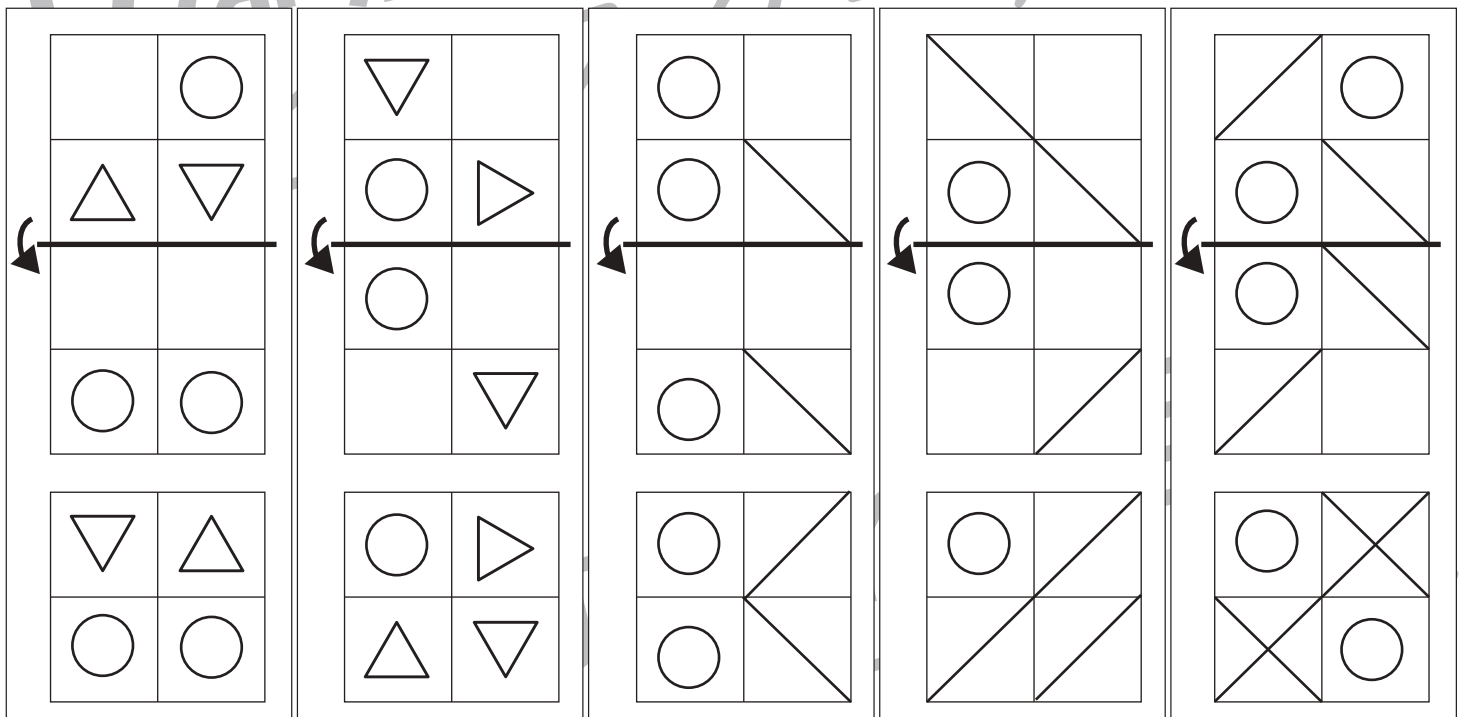
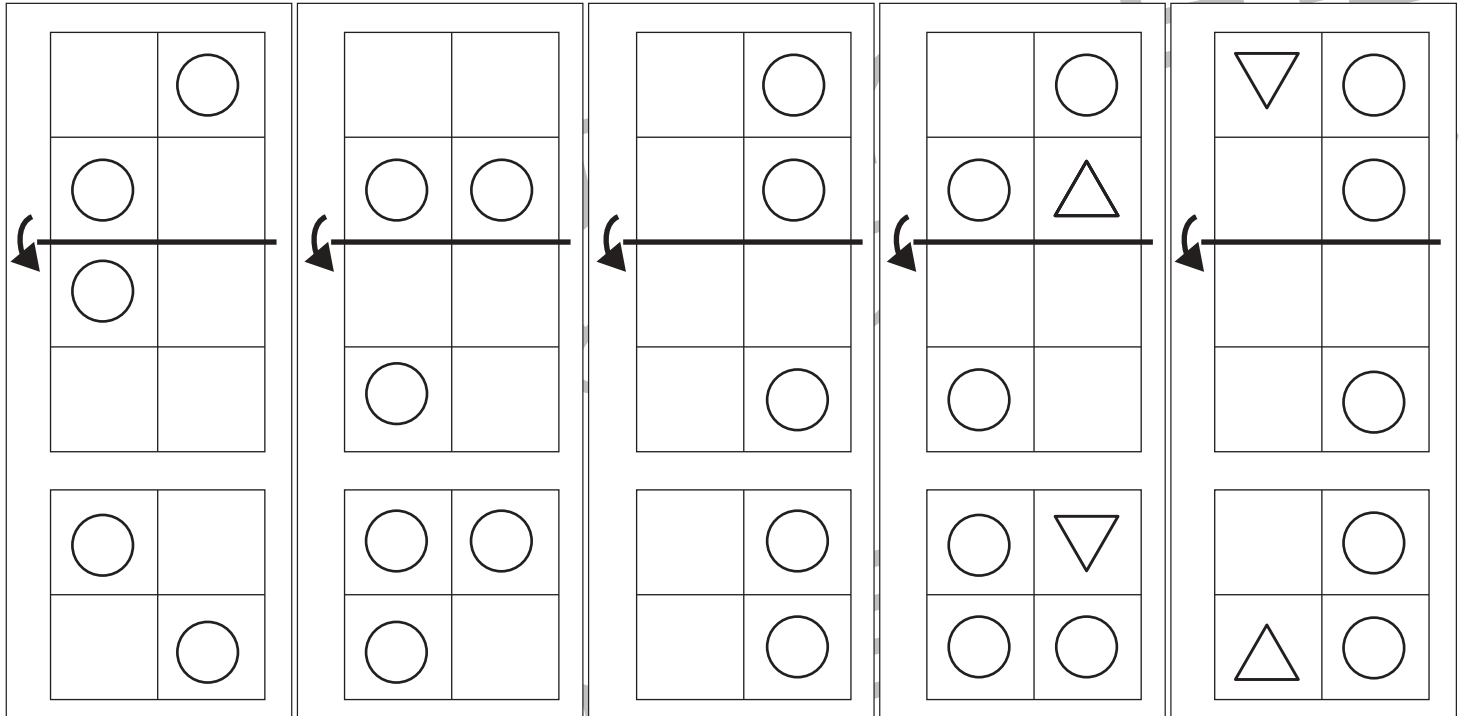


# おうちで、よろう。

Study at home. 小学校受験の家庭学習教材

## 図形：折り重ね⑨

これは透明な板に模様を描いたものです。上の四角を真ん中の太い線で矢印の方向へ折り重ねたときの見え方を考えて、一番下の四角の中にかきます。



※1. このプリントは、しながわ・目黒こどもスクールのウェブサイトでダウンロードができます。無断複写・引用はご遠慮ください。  
 ※2. このプリントを活用したオンライン授業のスケジュールは、しながわ・目黒こどもスクールのウェブサイトでご確認ください。



# おうちで、やろう。

Study at home. 小学校受験の家庭学習教材

## 図形：折り重ね⑩

これは透明な板に模様を描いたものです。上の四角を真ん中の太い線で矢印の方向へ折り重ねたときの見え方を考えて、一番下の四角の中に○をかきます。

The puzzle consists of two rows of five 3x3 grids each. Each grid has a thick horizontal line across the middle and an arrow pointing to the left. The circles are arranged as follows:

- Row 1, Column 1:** Circles at (1,1), (1,3), (2,1), (2,2), (2,3), (3,1), (3,3).
- Row 1, Column 2:** Circles at (1,3), (2,1), (2,3), (3,2), (3,3).
- Row 1, Column 3:** Circles at (1,3), (2,2), (2,3), (3,2), (3,3).
- Row 1, Column 4:** Circles at (1,2), (1,3), (2,1), (2,3), (3,2), (3,3).
- Row 1, Column 5:** Circles at (1,1), (1,3), (2,2), (3,1), (3,3).
- Row 2, Column 1:** Circles at (1,1), (1,3), (2,1), (2,3), (3,1), (3,3).
- Row 2, Column 2:** Circles at (1,1), (1,2), (1,3), (2,2), (2,3), (3,1), (3,3).
- Row 2, Column 3:** Circles at (1,1), (1,3), (2,2), (2,3), (3,1), (3,3).
- Row 2, Column 4:** Circles at (1,1), (1,2), (1,3), (2,1), (2,3), (3,2), (3,3).
- Row 2, Column 5:** Circles at (1,1), (1,2), (1,3), (2,2), (2,3), (3,1), (3,3).

※1. このプリントは、しながわ・目黒こどもスクールのウェブサイトでダウンロードができます。無断複写・引用はご遠慮ください。  
※2. このプリントを活用したオンライン授業のスケジュールは、しながわ・目黒こどもスクールのウェブサイトでご確認ください。

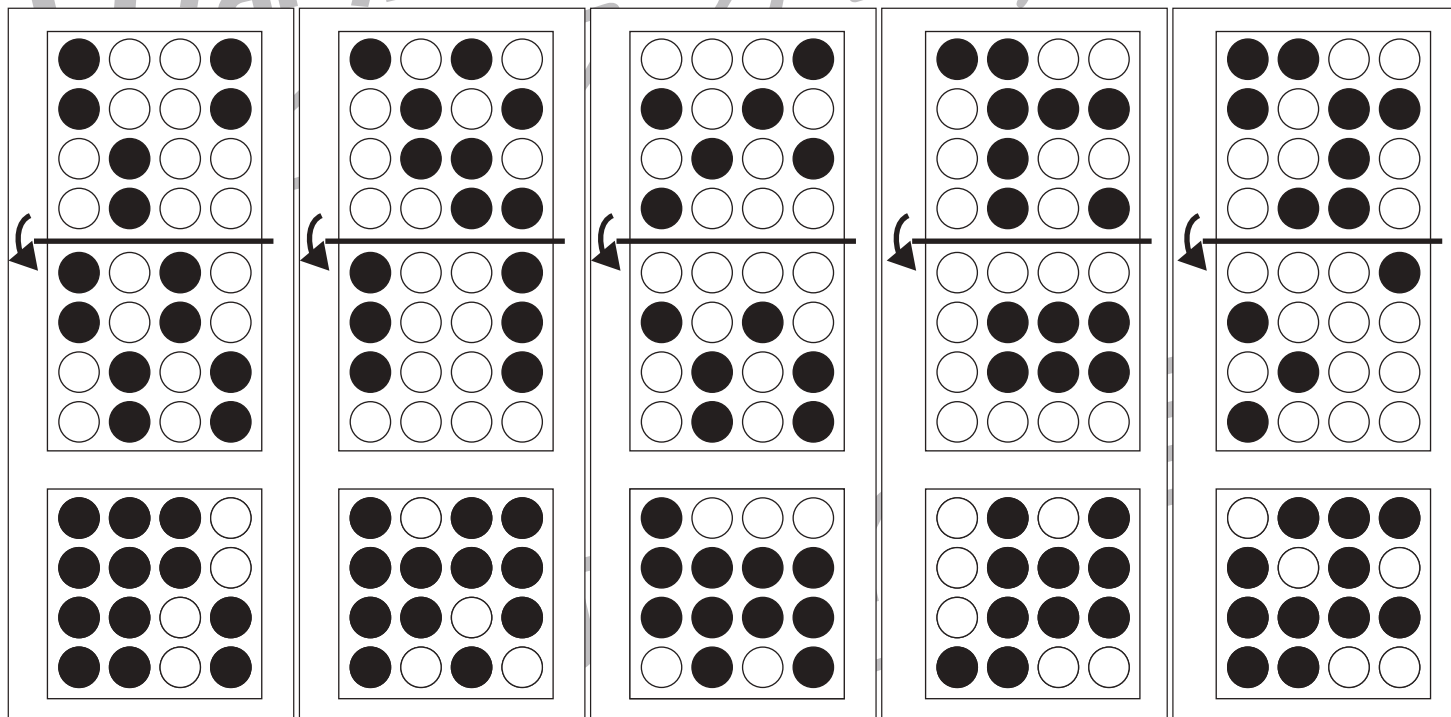
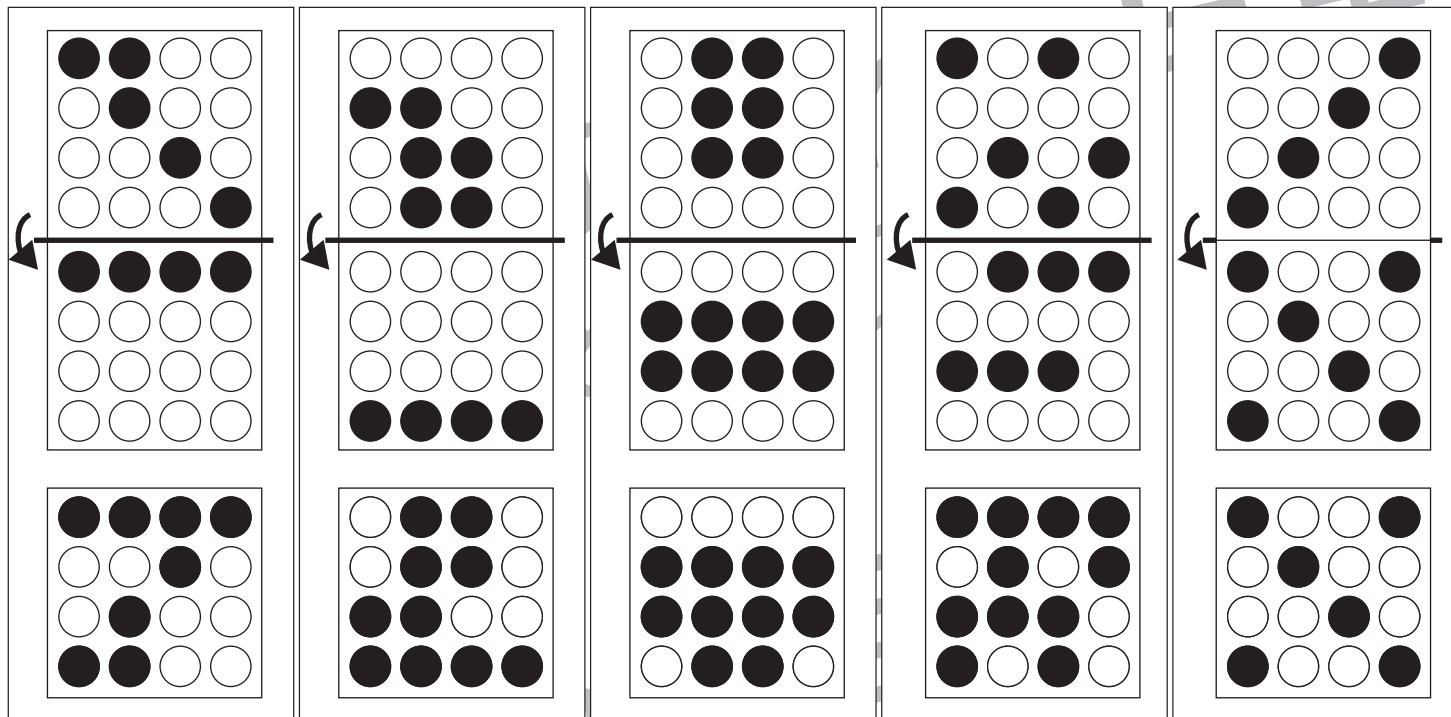


# おうちで、やろう。

Study at home. 小学校受験の家庭学習教材

## 図形：折り重ね⑪

これは透明な板に模様を描いたものです。上の四角を真ん中の太い線で矢印の方向へ折り重ねたときの見え方を考えて、一番下の四角の中で黒くなる○を塗ります。



※1. このプリントは、しながわ・目黒こどもスクールのウェブサイトでダウンロードができます。無断複写・引用はご遠慮ください。  
 ※2. このプリントを活用したオンライン授業のスケジュールは、しながわ・目黒こどもスクールのウェブサイトでご確認ください。



# おうちで、やろう。

Study at home. 小学校受験の家庭学習教材

## 図形：折り重ね⑫

これは透明な板に模様を描いたものです。上の四角を真ん中の太い線で矢印の方向へ折り重ねたときの見え方を考えて、一番下の四角の中にかきます。

Figure 12-1: A 3x3 grid with a horizontal fold line between the top and middle rows. The top row contains a circle, an empty cell, and an empty cell. The middle row contains an empty cell, a triangle, and a circle. The bottom row contains a circle, a circle, and an empty cell. An arrow points left from the fold line.

Figure 12-2: A 3x3 grid with a horizontal fold line between the top and middle rows. The top row contains an inverted triangle, an empty cell, and a circle. The middle row contains an empty cell, a circle, and an empty cell. The bottom row contains a circle, an empty cell, and a circle. An arrow points left from the fold line.

Figure 12-3: A 3x3 grid with a horizontal fold line between the top and middle rows. The top row contains an empty cell, a triangle, and an empty cell. The middle row contains a circle, a circle, and an empty cell. The bottom row contains an empty cell, an empty cell, and a triangle. An arrow points left from the fold line.

Figure 12-4: A 3x3 grid with a horizontal fold line between the top and middle rows. The top row contains a circle, an empty cell, and a circle. The middle row contains a circle, an empty cell, and a circle. The bottom row contains an empty cell, a triangle, and an empty cell. An arrow points left from the fold line.

Figure 12-5: A 3x3 grid with a horizontal fold line between the top and middle rows. The top row contains an empty cell, an empty cell, and a circle. The middle row contains a circle, an inverted triangle, and an empty cell. The bottom row contains a triangle, a circle, and a circle. An arrow points left from the fold line.

Figure 12-6: A 3x3 grid with a horizontal fold line between the top and middle rows. The top row contains an empty cell, a circle, and a circle. The middle row contains a circle, an empty cell, and a circle. The bottom row contains an empty cell, a circle, and an empty cell. An arrow points left from the fold line.

Figure 12-7: A 3x3 grid with a horizontal fold line between the top and middle rows. The top row contains an empty cell, a circle, and a circle. The middle row contains a circle, a circle, and a diagonal line from top-right to bottom-left. The bottom row contains an empty cell, a circle, and a circle. An arrow points left from the fold line.

Figure 12-8: A 3x3 grid with a horizontal fold line between the top and middle rows. The top row contains a diagonal line from top-left to bottom-right, an empty cell, and a circle. The middle row contains a circle, a circle, and a circle. The bottom row contains a circle, an empty cell, and a circle. An arrow points left from the fold line.

Figure 12-9: A 3x3 grid with a horizontal fold line between the top and middle rows. The top row contains an inverted triangle, an empty cell, and a circle. The middle row contains a circle, an empty cell, and a circle. The bottom row contains a circle, a triangle, and a circle. An arrow points left from the fold line.

Figure 12-10: A 3x3 grid with a horizontal fold line between the top and middle rows. The top row contains a diagonal line from top-left to bottom-right, an empty cell, and a circle. The middle row contains a circle, a diagonal line from top-right to bottom-left, and an inverted triangle. The bottom row contains a triangle, a circle, and an empty cell. An arrow points left from the fold line.

※1. このプリントは、しながわ・目黒こどもスクールのウェブサイトでダウンロードができます。無断複写・引用はご遠慮ください。

※2. このプリントを活用したオンライン授業のスケジュールは、しながわ・目黒こどもスクールのウェブサイトでご確認ください。



# おうちで、やろう。

Study at home. 小学校受験の家庭学習教材

## 図形：模写⑫

下のパズルには、●の数だけ欠けているところがあります。どうやらパズルピースが無くなってしまったようです。上の完成見本をよく見て、下のパズルの足りないところを鉛筆で描き足しましょう。

● ●

● ● ●

● ● ●

● ● ● ●

正解の目安：①隣接するマスとの繋がりを意識できているか、②形の大きさや角度を意識できているか、③塗りの濃さ、等を参考にしてください。

※1. このプリントは、しながわ・目黒こどもスクールのウェブサイトでダウンロードができます。無断複写・引用はご遠慮ください。

※2. このプリントを活用したオンライン授業のスケジュールは、しながわ・目黒こどもスクールのウェブサイトでご確認ください。




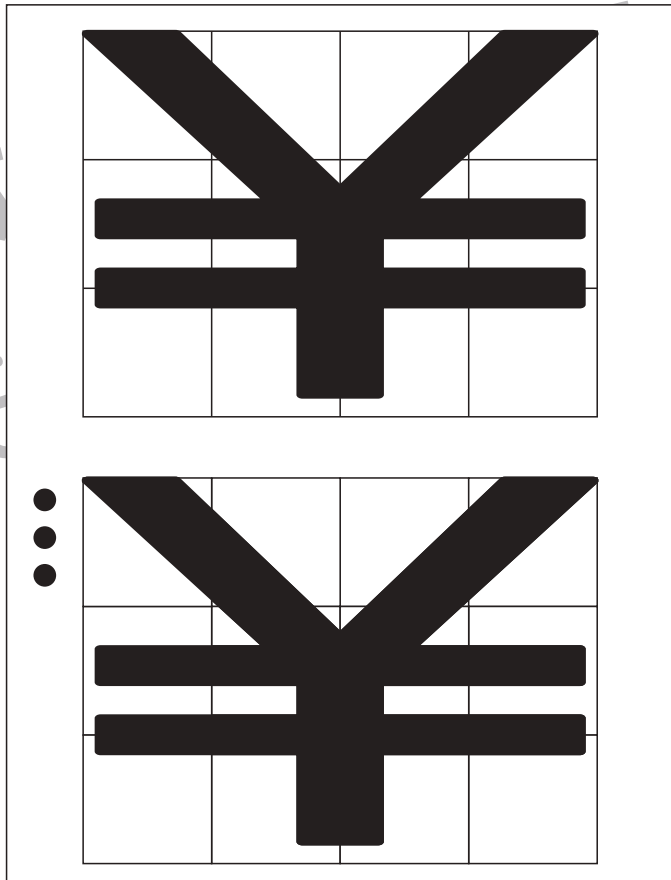
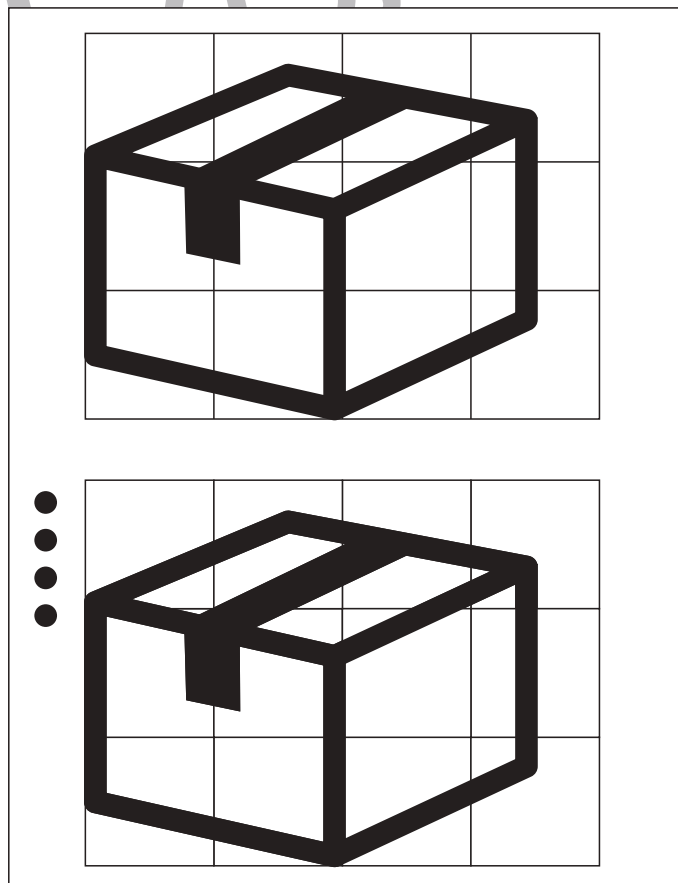
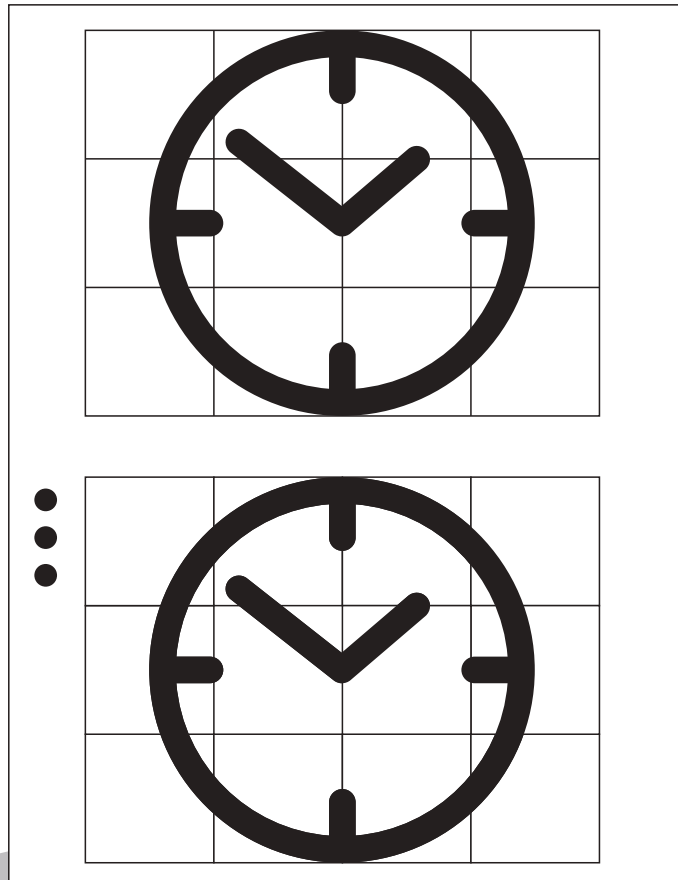


# おうちで、やろう。

Study at home. 小学校受験の家庭学習教材

図形：模写⑬

下のパズルには、●の数だけ欠けているところがあります。どうやらパズルピースが無くなってしまったようです。上の完成見本をよく見て、下のパズルの足りないところを鉛筆で描き足しましょう。



正解の目安：①隣接するマスとの繋がりを意識できているか、②形の大きさや角度を意識できているか、③塗りの濃さ、等を参考にしてください。

※1. このプリントは、しながわ・目黒こどもスクールのウェブサイトからダウンロードできます。無断複写・引用はご遠慮ください。

※2. このプリントを活用したオンライン授業のスケジュールは、しながわ・目黒こどもスクールのウェブサイトでご確認ください。



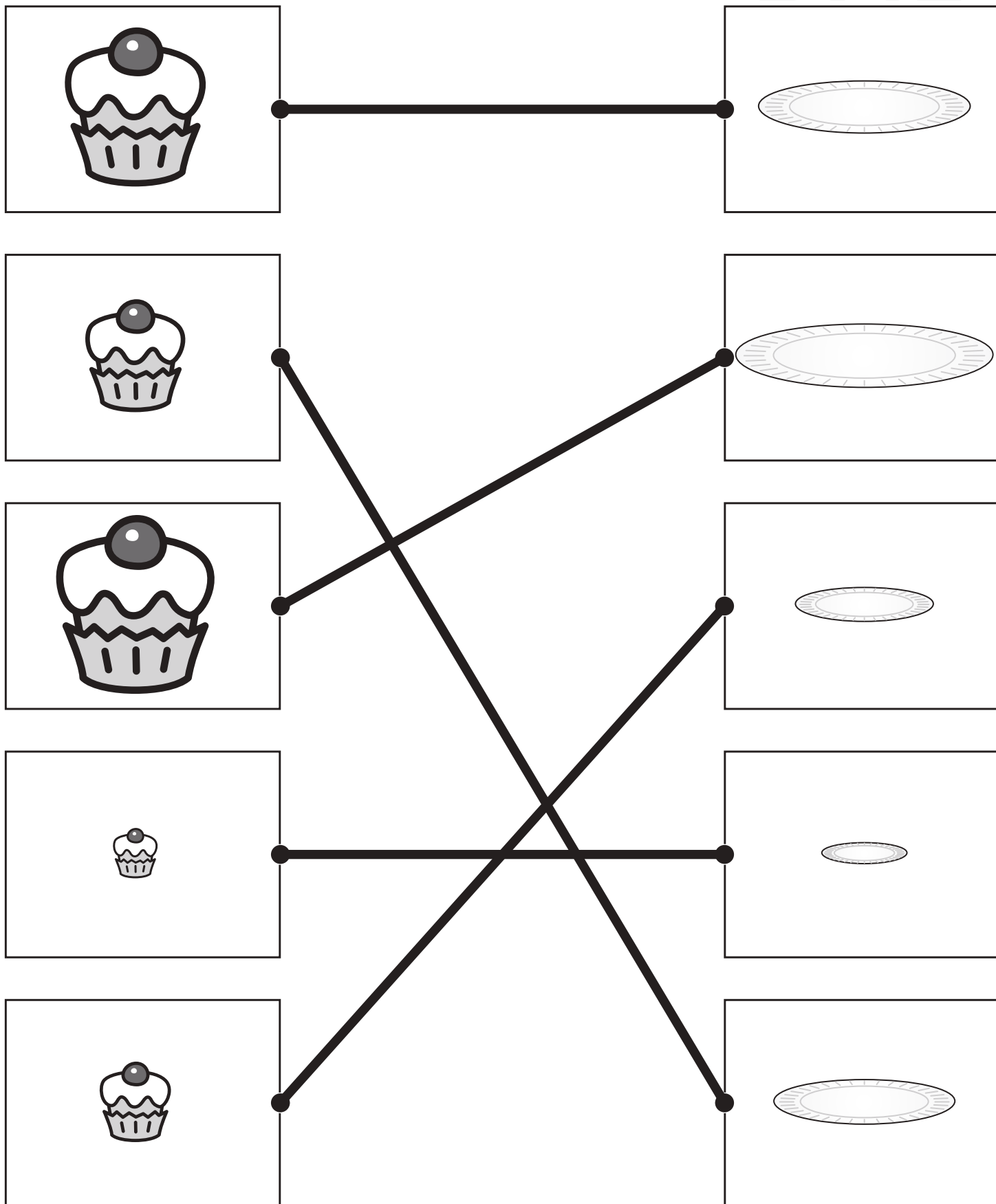


# おうちで、やろう。

Study at home. 小学校受験の家庭学習教材

## 推理：順位付け③

左のケーキを右のお皿にのせます。どのお皿にのせたらよいか考えて点と点を線で結びます。



※1. このプリントは、しながわ・目黒こどもスクールのウェブサイトでダウンロードができます。無断複写・引用はご遠慮ください。

※2. このプリントを活用したオンライン授業のスケジュールは、しながわ・目黒こどもスクールのウェブサイトでご確認ください。