

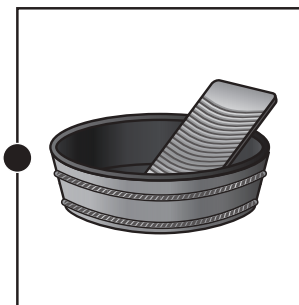

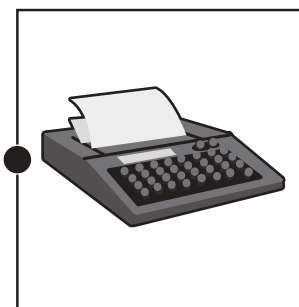

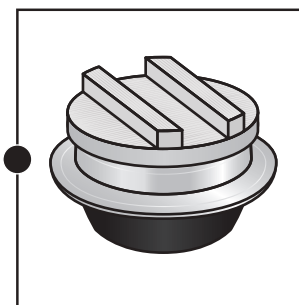

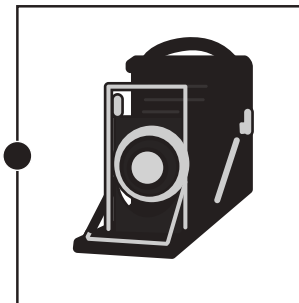



おうちで、やろう。

Study at home. 小学校受験の家庭学習教材

常識：生活⑥

左は今使っているものです。右は昔使っていたものです。(今も使っているものもあります。)
左と右で同じように使うもの同士をみつけて点と点を線で結びます。



※1. このプリントは、しながわ・目黒こどもスクールのウェブサイトでダウンロードができます。無断複写・引用はご遠慮ください。
※2. このプリントを活用したオンライン授業のスケジュールは、しながわ・目黒こどもスクールのウェブサイトでご確認ください。



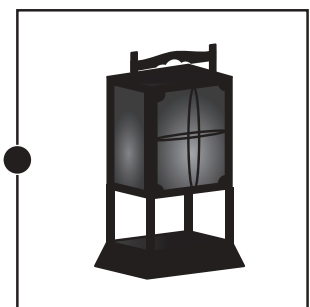
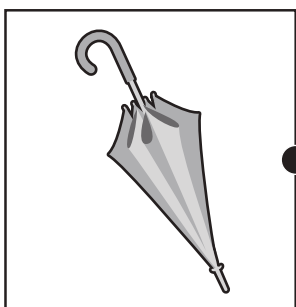

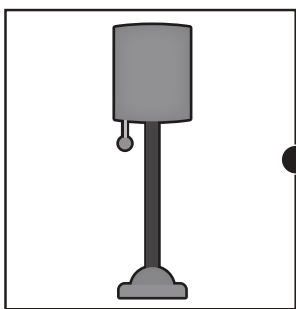
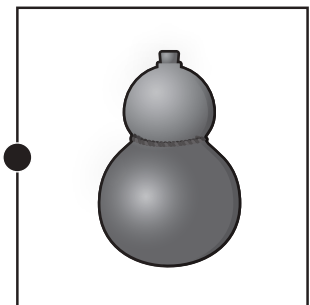



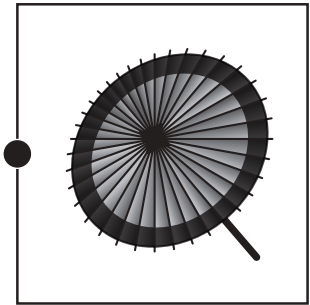



おうちで、やろう。

Study at home. 小学校受験の家庭学習教材

常識：生活⑦

左は今使っているものです。右は昔使っていたものです。(今も使っているものもあります。)
左と右で同じように使うもの同士をみつけて点と点を線で結びます。



※1. このプリントは、しながわ・目黒こどもスクールのウェブサイトでダウンロードができます。無断複写・引用はご遠慮ください。
※2. このプリントを活用したオンライン授業のスケジュールは、しながわ・目黒こどもスクールのウェブサイトでご確認ください。





おうちで、やろう。

Study at home. 小学校受験の家庭学習教材

図形：切り抜き③

左のお手本のように折り紙を折り、黒い部分を切り抜いて広げたときの見え方を考えて右の4つの中から正しいものを選んで○をつけます。

| | | | | |
|--|--|--|--|--|
| | | | | |
| | | | | |
| | | | | |
| | | | | |
| | | | | |
| | | | | |

※1. このプリントは、しながわ・目黒こどもスクールのウェブサイトでダウンロードができます。無断複写・引用はご遠慮ください。

※2. このプリントを活用したオンライン授業のスケジュールは、しながわ・目黒こどもスクールのウェブサイトでご確認ください。



おうちで、やろう。

Study at home. 小学校受験の家庭学習教材

図形：切り抜き④

左のお手本のように折り紙を折り、黒い部分を切り抜いて広げたときの見え方を考えて右の4つの中から正しいものを選んで○をつけます。

| | | | | |
|--|--|--|--|--|
| | | | | |
| | | | | |
| | | | | |
| | | | | |
| | | | | |
| | | | | |

※1. このプリントは、しながわ・目黒こどもスクールのウェブサイトでダウンロードができます。無断複写・引用はご遠慮ください。

※2. このプリントを活用したオンライン授業のスケジュールは、しながわ・目黒こどもスクールのウェブサイトでご確認ください。



おうちで、やろう。

Study at home. 小学校受験の家庭学習教材

図形：切り抜き⑤

左のお手本のように折り紙を折り、黒い部分を切り抜いて広げたときの見え方を考えて右の4つの中から正しいものを選んで○をつけます。

| | | | | |
|--|--|--|--|--|
| | | | | |
| | | | | |
| | | | | |
| | | | | |
| | | | | |
| | | | | |

※1. このプリントは、しながわ・目黒こどもスクールのウェブサイトでダウンロードができます。無断複写・引用はご遠慮ください。

※2. このプリントを活用したオンライン授業のスケジュールは、しながわ・目黒こどもスクールのウェブサイトでご確認ください。

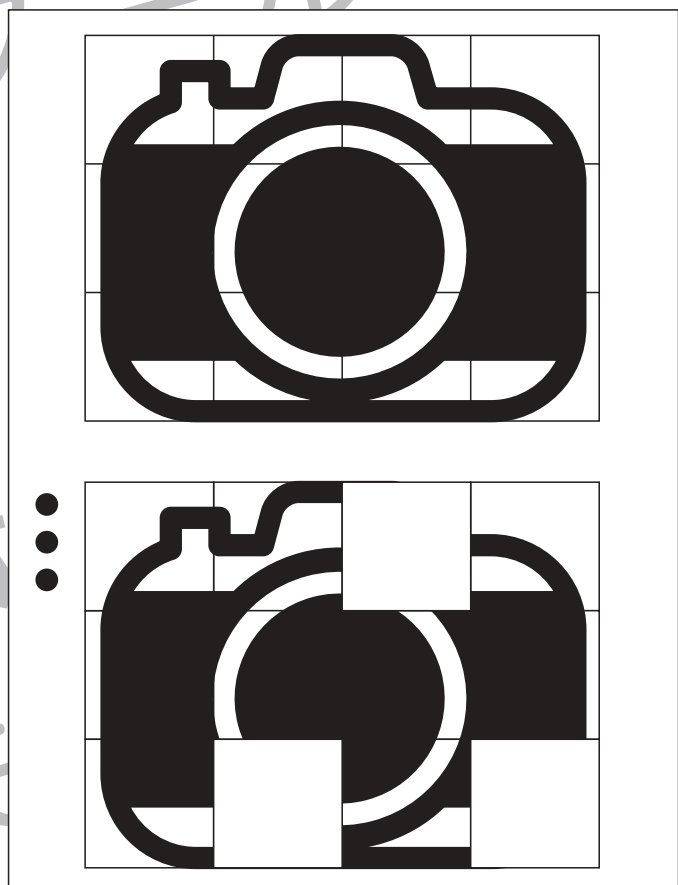
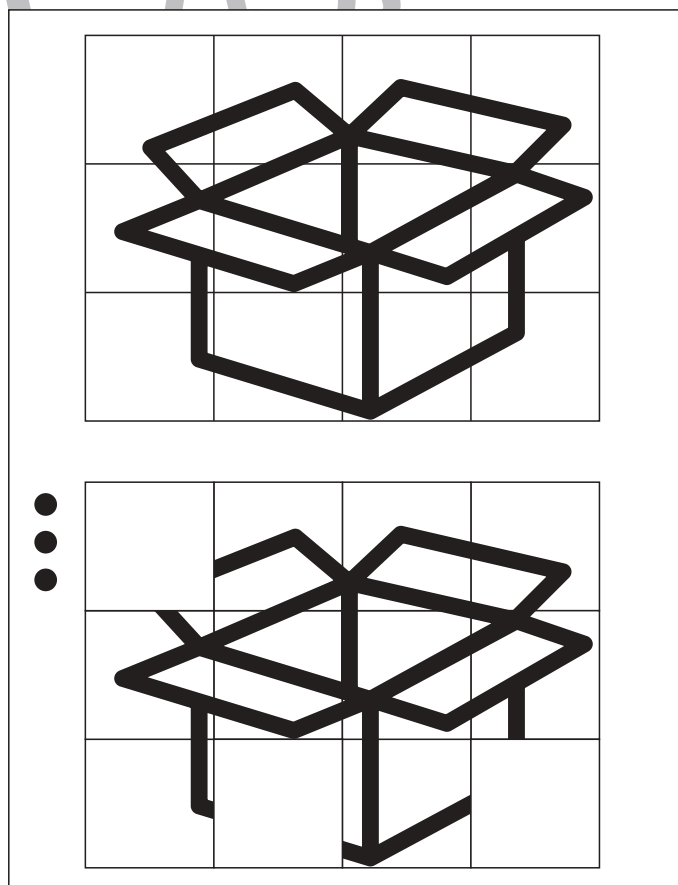

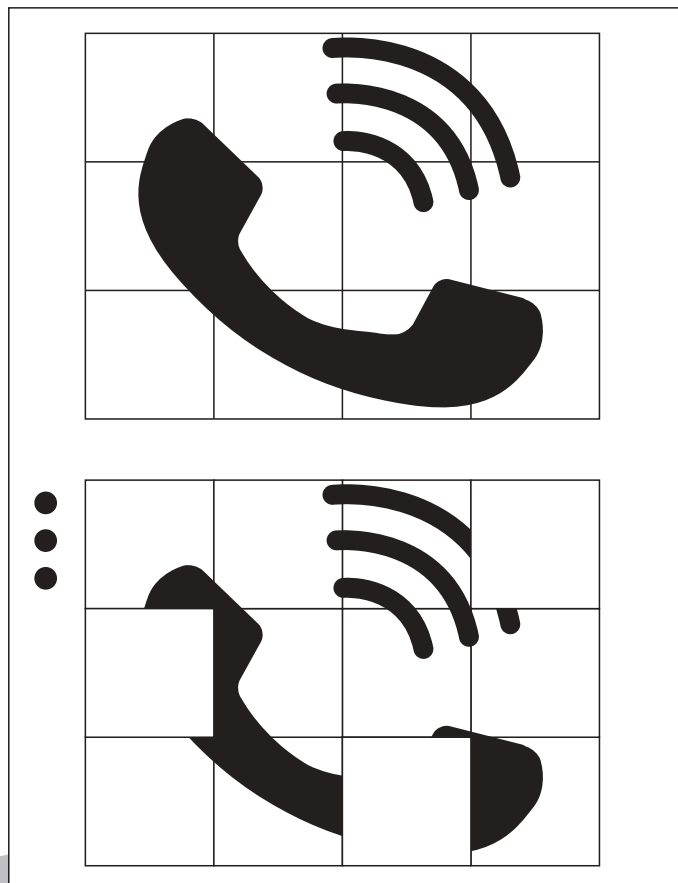


おうちで、やろう。

Study at home. 小学校受験の家庭学習教材

図形：模写⑭

下のパズルには、●の数だけ欠けているところがあります。どうやらパズルピースが無くなってしまったようです。上の完成見本をよく見て、下のパズルの足りないところを鉛筆で描き足しましょう。



※1. このプリントは、しながわ・目黒こどもスクールのウェブサイトでダウンロードができます。無断複写・引用はご遠慮ください。

※2. このプリントを活用したオンライン授業のスケジュールは、しながわ・目黒こどもスクールのウェブサイトでご確認ください。

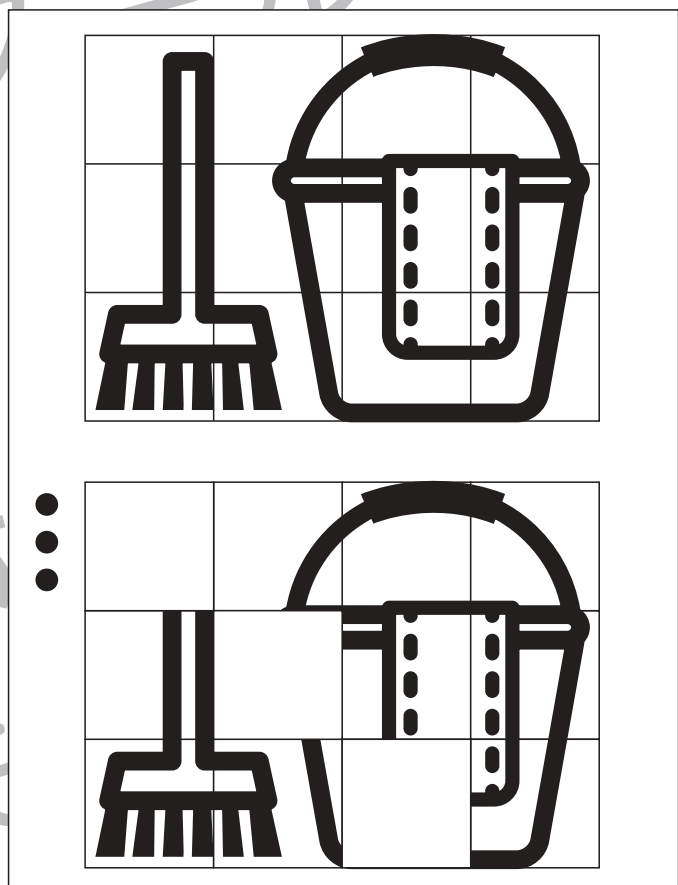

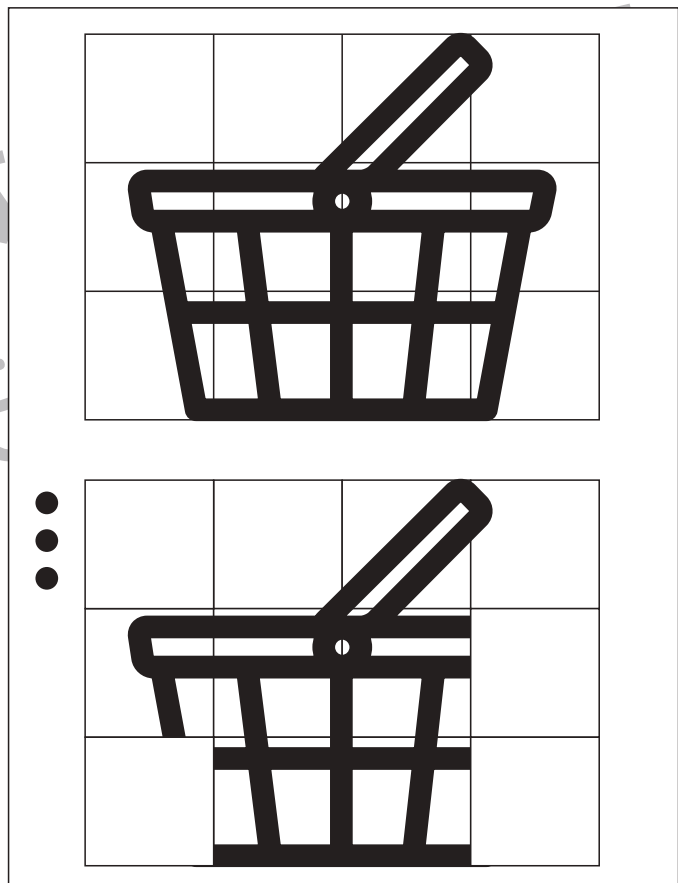
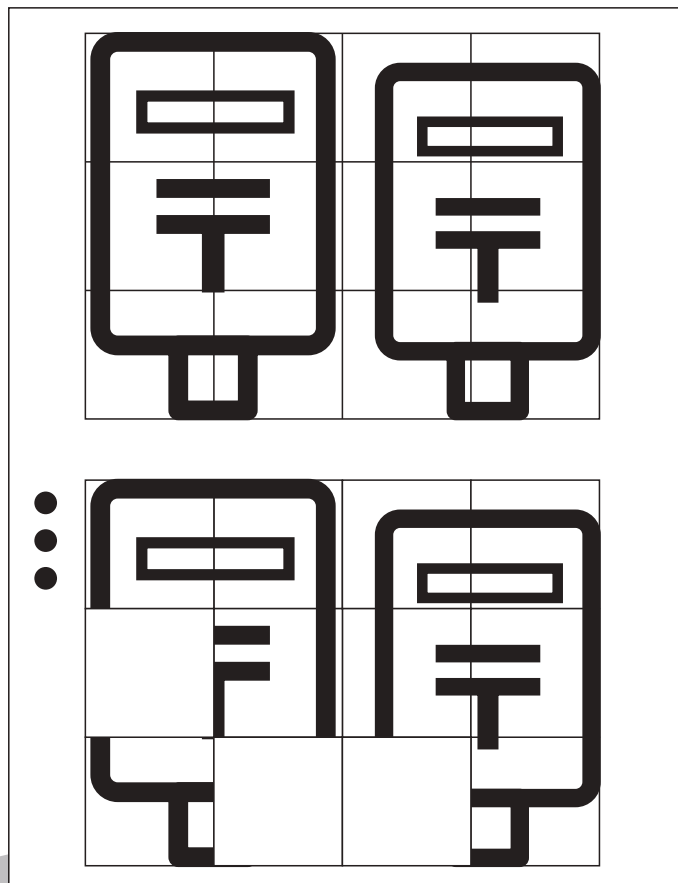


おうちで、やろう。

Study at home. 小学校受験の家庭学習教材

図形：模写⑮

下のパズルには、●の数だけ欠けているところがあります。どうやらパズルピースが無くなってしまったようです。上の完成見本をよく見て、下のパズルの足りないところを鉛筆で描き足しましょう。



※1. このプリントは、しながわ・目黒こどもスクールのウェブサイトでダウンロードができます。無断複写・引用はご遠慮ください。

※2. このプリントを活用したオンライン授業のスケジュールは、しながわ・目黒こどもスクールのウェブサイトでご確認ください。



おうちで、やろう。

Study at home. 小学校受験の家庭学習教材

数量：複合②

上の大きな四角の中の絵は家族でブドウ狩りに来た時の様子です。このとき①～④の問題に答えましょう。

- ①大人はブドウを2房採ることができ、子どもはブドウを1房採ることができます。全員で採ることのできたブドウの数だけ〇をかきます。
- ②かごには採ったブドウを2房入れることができます。8房のブドウを入れるために必要なかごの数だけ〇をかきます。
- ③お家に帰ってからみんなで採ったブドウを3房食べました。残ったブドウの数だけ〇をかきます。
- ④帰りにブドウ園の人からお土産に栗をもらいました。大人はひとり2つ、子どもはひとり3つもらいました。大人全員がもらった数と子ども全員がもらった数はどちらが多いですか。多かった方の絵に〇をつけます。また、多かった方はいくつ多いですか。その数だけ右の四角の中に〇をかきます。



①

②

③

④



※1. このプリントは、しながわ・目黒こどもスクールのウェブサイトでダウンロードができます。無断複写・引用はご遠慮ください。

※2. このプリントを活用したオンライン授業のスケジュールは、しながわ・目黒こどもスクールのウェブサイトでご確認ください。



おうちで、やろう。

Study at home. 小学校受験の家庭学習教材

数量：複合③

上の大きな四角の中の絵はみんなでキャンプに来ている様子です。そして夜はみんなでテントに泊まります。

- ①車のタイヤの数だけ、○をかきます。
- ②三角のテントには5人、少し丸いテントには4人入ることができます。あと何人テントに入ることができますか。その数だけ○をかきます。
- ③バーベキューではソーセージを大人が2本、子どもは3本食べました。大人全員で食べたソーセージの数は子ども全員で食べた数よりいくつ多いですか。その数だけ○をかきます。
- ④木にはカブトムシが3匹、セミが2匹いました。夕方にはカブトムシが1匹、セミが1匹になっていました。いなくなってしまった虫は全部で何匹ですか。その数だけ○をかきます。



①

②

③

④

