



# おうちで、やろう。

Study at home. 小学校受験の家庭学習教材

## 指示の聞き取り⑥

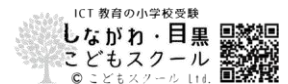
※別紙問題プリント「指示の聞き取り⑥」を用意し、問題に取り組みましょう。

それぞれのお話通りになるようにクーピーの色を変えて記号をかきます。

問題は1度しか読みませんのでしっかり聞きましょう。

- ①-1 ともさんはお友だちのマンションに遊びに来ました。  
さつきさんは2階の右から2番目の部屋に住んでいます。  
その部屋に青のクーピーで○をかきます。
- ①-2 つばさくんは3階の左から3番目のお部屋に住んでいます。  
その部屋に緑のクーピーで△をかきます。
- ②-1 たろうくんの学校のロッカーは下から3段目の右から4番目です。  
その場所に青のクーピーで○をかきます。
- ②-2 かなこさんの学校のロッカーは上から2段目の左から3番目です。  
その場所に緑のクーピーで×をかきます。
- ②-3 たかこさんの学校のロッカーは上から4段目の右から3番目です。  
その場所に紫のクーピーで△をかきます。

※1. このプリントは、しながわ・目黒こどもスクールのウェブサイトからダウンロードできます。無断複写・引用はご遠慮ください。  
※2. このプリントを活用したオンライン授業のスケジュールは、しながわ・目黒こどもスクールのウェブサイトでご確認ください。






# おうちで、やろう。

Study at home. 小学校受験の家庭学習教材


## 指示の聞き取り⑥

別紙【指示の聞き取り⑥(問題文)】を使用します。

①



②



※1. このプリントは、しながわ・目黒こどもスクールのウェブサイトからダウンロードできます。無断複写・引用はご遠慮ください。

※2. このプリントを活用したオンライン授業のスケジュールは、しながわ・目黒こどもスクールのウェブサイトでご確認ください。










# おうちで、やろう。






Study at home. 小学校受験の家庭学習教材

## 言語：しりとり⑤






左上のシマウマから右下のネコまで、はじめのから2番目の音をしりとりでつなげていきます。太い四角の中に入る絵を下の四角の中から選んで、それぞれの四角の中の記号をつけます。

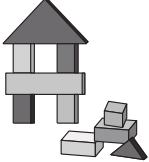


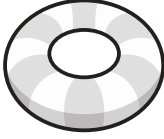





				
---	---	---	---	---

				
--	--	--	--	---

				
--	--	--	--	--

				
---	--	--	--	--

				
---	---	---	---	---

※1. このプリントは、しながわ・目黒こどもスクールのウェブサイトからダウンロードできます。無断複写・引用はご遠慮ください。  
 ※2. このプリントを活用したオンライン授業のスケジュールは、しながわ・目黒こどもスクールのウェブサイトでご確認ください。



# おうちで、やろう。

Study at home. 小学校受験の家庭学習教材

## 言語：しりとり⑥

白い星がある太い四角から黒い星のある太い四角まではじめから2番目の音でしりとりをしてつなげていき線をかきます。縦と横には進めますが、斜めには進めません。



※1. このプリントは、しながわ・目黒こどもスクールのウェブサイトでダウンロードができます。無断複写・引用はご遠慮ください。  
 ※2. このプリントを活用したオンライン授業のスケジュールは、しながわ・目黒こどもスクールのウェブサイトでご確認ください。



# おうちで、やろう。

Study at home. 小学校受験の家庭学習教材

## 図形：点図形⑬

左の四角の中がお手本です。このお手本は○からはじめて☆まで鉛筆を離さないで一筆で線をかきました。右の四角にお手本と同じように○からはじめて☆まで一筆で同じ形をかきます。 ※この問題の答えはありません。


※1. このプリントは、しながわ・目黒こどもスクールのウェブサイトでダウンロードができます。無断複写・引用はご遠慮ください。

※2. このプリントを活用したオンライン授業のスケジュールは、しながわ・目黒こどもスクールのウェブサイトでご確認ください。



# おうちで、やろう。

Study at home. 小学校受験の家庭学習教材

## 図形：点図形⑭

左の四角の中がお手本です。このお手本は○からはじめて☆まで鉛筆を離さないで一筆で線をかきました。右の四角にお手本と同じように○からはじめて☆まで一筆で同じ形をかきます。 ※この問題の答えはありません。


※1. このプリントは、しながわ・目黒こどもスクールのウェブサイトでダウンロードができます。無断複写・引用はご遠慮ください。  
※2. このプリントを活用したオンライン授業のスケジュールは、しながわ・目黒こどもスクールのウェブサイトでご確認ください。



# おうちで、やろう。

Study at home. 小学校受験の家庭学習教材

数量：加減⑦

ウサギは上の四角の中の数だけクッキーを持っていました。このクッキー全部をサルとパンダにあげます。パンダには下の四角の中の数だけクッキーをあげました。そのとき、サルにあげるクッキーは何枚ですか、その数だけサルの四角の中に〇をかきます。

ウサギ: 5

サル: 0

パンダ: 3

ウサギ: 5

サル: 0

パンダ: 1

ウサギ: 7

サル: 0

パンダ: 4

ウサギ: 7

サル: 0

パンダ: 2

ウサギ: 11

サル: 0

パンダ: 6

ウサギ: 11

サル: 0

パンダ: 3

※1. このプリントは、しながわ・目黒こどもスクールのウェブサイトからダウンロードできます。無断複写・引用はご遠慮ください。

※2. このプリントを活用したオンライン授業のスケジュールは、しながわ・目黒こどもスクールのウェブサイトでご確認ください。




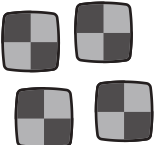







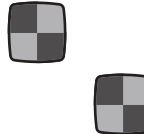
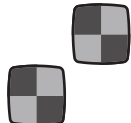



# おうちで、やろう。



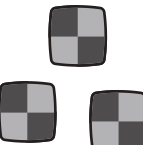
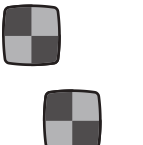



Study at home. 小学校受験の家庭学習教材



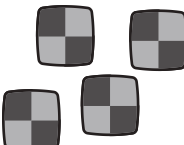
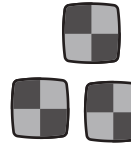



数量：加減⑧




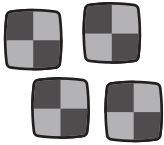



ウサギは上の四角の中の数だけクッキーを持っていました。このクッキー全部をライオンとサルとパンダにあげます。サルとパンダには下の四角の中の数だけクッキーをあげました。そのとき、ライオンにあげるクッキーは何枚ですか、その数だけライオンの四角の中に○をかきます。




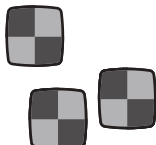



		
		
		
		

※1. このプリントは、しながわ・目黒こどもスクールのウェブサイトダウンロードができます。無断複写・引用はご遠慮ください。

※2. このプリントを活用したオンライン授業のスケジュールは、しながわ・目黒こどもスクールのウェブサイトでご確認ください。

















# おうちで、やろう。







Study at home. 小学校受験の家庭学習教材







数量：加減⑨







ブタとネズミはそれぞれ四角の中の数だけリンゴを持っています。2匹はそれぞれ下の四角の中の数だけソウにリンゴをあげました。ソウにリンゴをあげた後、残ったリンゴが3個になったのはどちらですか。その動物に○をつけます。







	
	
	
	

※1. このプリントは、しながわ・目黒こどもスクールのウェブサイトでダウンロードができます。無断複写・引用はご遠慮ください。

※2. このプリントを活用したオンライン授業のスケジュールは、しながわ・目黒こどもスクールのウェブサイトでご確認ください。



















# おうちで、やろう。









Study at home. 小学校受験の家庭学習教材









数量：加減⑩









ブタとネズミとネコはそれぞれ四角の中の数だけリンゴを持っています。3匹はそれぞれ下の四角の中の数だけソウにリンゴをあげました。ソウにリンゴをあげた後、残ったリンゴが2個になったのは誰ですか。その動物に○をつけます。









		
		
		
		

※1. このプリントは、しながわ・目黒こどもスクールのウェブサイトでダウンロードができます。無断複写・引用はご遠慮ください。

※2. このプリントを活用したオンライン授業のスケジュールは、しながわ・目黒こどもスクールのウェブサイトでご確認ください。