



おうちで、やろう。

Study at home. 小学校受験の家庭学習教材


指示の聞き取り⑥

別紙【指示の聞き取り⑥(問題文)】を使用します。

①



②



※1. このプリントは、しながわ・目黒こどもスクールのウェブサイトからダウンロードできます。無断複写・引用はご遠慮ください。

※2. このプリントを活用したオンライン授業のスケジュールは、しながわ・目黒こどもスクールのウェブサイトでご確認ください。

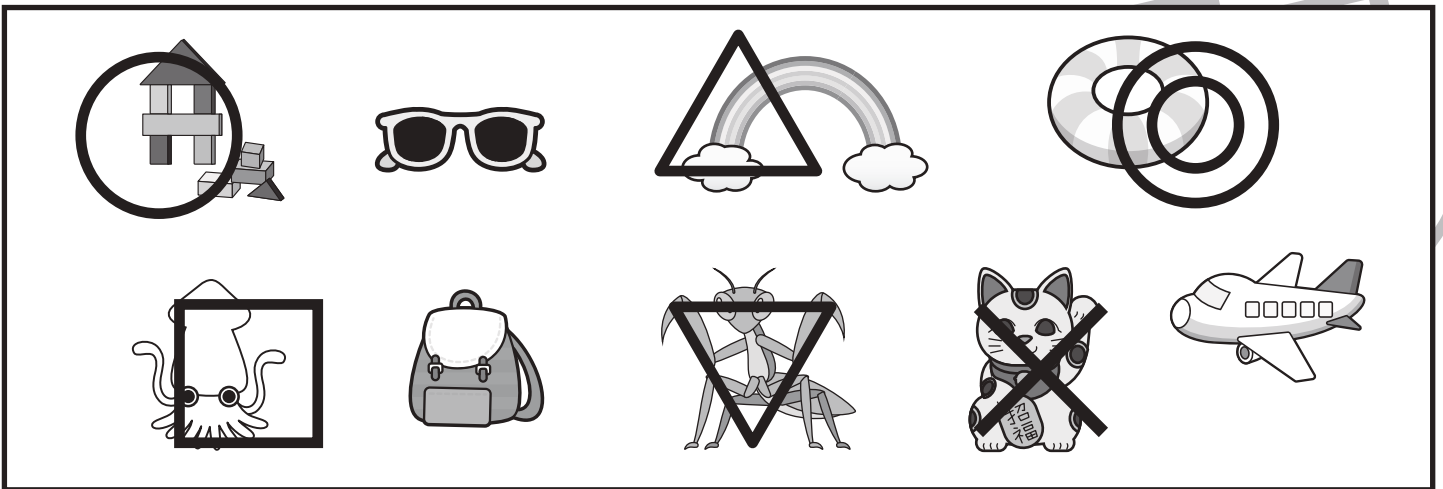





おうちで、やろう。

Study at home. 小学校受験の家庭学習教材

言語：しりとり⑤

左上のシマウマから右下のネコまで、はじめのから2番目の音をしりとりでつなげていきます。太い四角の中に入る絵を下の四角の中から選んで、それぞれの四角の中の記号をつけます。



※1. このプリントは、しながわ・目黒こどもスクールのウェブサイトからダウンロードできます。無断複写・引用はご遠慮ください。
 ※2. このプリントを活用したオンライン授業のスケジュールは、しながわ・目黒こどもスクールのウェブサイトでご確認ください。


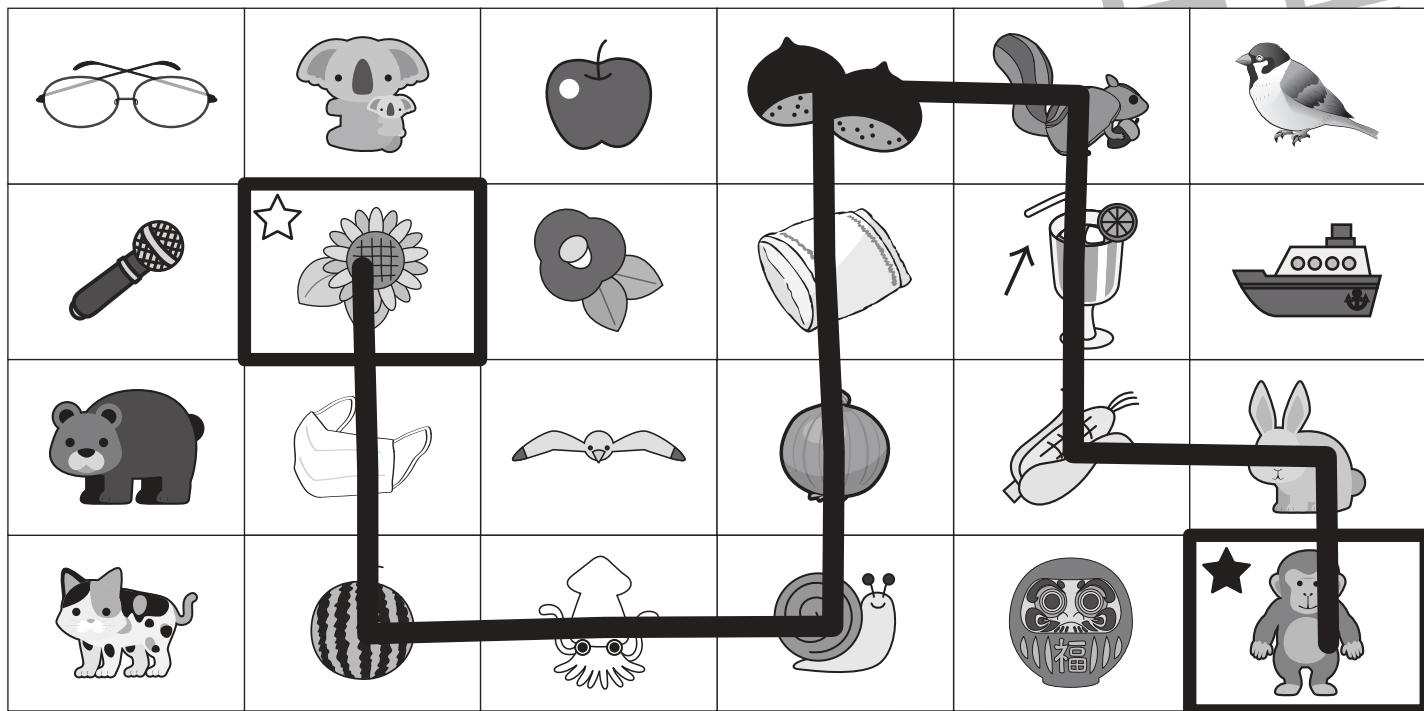


おうちで、やろう。

Study at home. 小学校受験の家庭学習教材

言語：しりとり⑥

白い星がある太い四角から黒い星のある太い四角まではじめから2番目の音でしりとりをしてつなげていき線をかきます。縦と横には進めますが、斜めには進めません。



※1. このプリントは、しながわ・目黒こどもスクールのウェブサイトからダウンロードできます。無断複写・引用はご遠慮ください。
 ※2. このプリントを活用したオンライン授業のスケジュールは、しながわ・目黒こどもスクールのウェブサイトでご確認ください。



おうちで、やろう。

Study at home. 小学校受験の家庭学習教材

数量：加減⑦

ウサギは上の四角の中の数だけクッキーを持っていました。このクッキー全部をサルとパンダにあげます。パンダには下の四角の中の数だけクッキーをあげました。そのとき、サルにあげるクッキーは何枚ですか、その数だけサルの四角の中に○をかきます。

ウサギ (Rabbit)

5 cookies

サル (Monkey) | パンダ (Panda)

2 circles | 3 cookies

ウサギ (Rabbit)

5 cookies

サル (Monkey) | パンダ (Panda)

4 circles | 1 cookie

ウサギ (Rabbit)

8 cookies

サル (Monkey) | パンダ (Panda)

3 circles | 5 cookies

ウサギ (Rabbit)

8 cookies

サル (Monkey) | パンダ (Panda)

5 circles | 2 cookies

ウサギ (Rabbit)

11 cookies

サル (Monkey) | パンダ (Panda)

6 circles | 5 cookies

ウサギ (Rabbit)

11 cookies

サル (Monkey) | パンダ (Panda)

8 circles | 3 cookies

※1. このプリントは、しながわ・目黒こどもスクールのウェブサイトからダウンロードできます。無断複写・引用はご遠慮ください。

※2. このプリントを活用したオンライン授業のスケジュールは、しながわ・目黒こどもスクールのウェブサイトでご確認ください。













おうちで、やろう。






Study at home. 小学校受験の家庭学習教材






数量：加減⑧






ウサギは上の四角の中の数だけクッキーを持っていました。このクッキー全部をライオンとサルとパンダにあげます。サルとパンダには下の四角の中の数だけクッキーをあげました。そのとき、ライオンにあげるクッキーは何枚ですか、その数だけライオンの四角の中に○をかきます。






		
		
		

※1. このプリントは、しながわ・目黒こどもスクールのウェブサイトからダウンロードできます。無断複写・引用はご遠慮ください。

※2. このプリントを活用したオンライン授業のスケジュールは、しながわ・目黒こどもスクールのウェブサイトでご確認ください。















おうちで、やろう。







Study at home. 小学校受験の家庭学習教材







数量：加減⑨







ブタとネズミはそれぞれ四角の中の数だけリンゴを持っています。2匹はそれぞれ下の四角の中の数だけソウにリンゴをあげました。ソウにリンゴをあげた後、残ったリンゴが3個になったのはどちらですか。その動物に○をつけます。







	
	
	
	

※1. このプリントは、しながわ・目黒こどもスクールのウェブサイトダウンロードができます。無断複写・引用はご遠慮ください。
※2. このプリントを活用したオンライン授業のスケジュールは、しながわ・目黒こどもスクールのウェブサイトでご確認ください。



















おうちで、やろう。



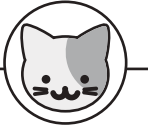





Study at home. 小学校受験の家庭学習教材









数量：加減⑩









ブタとネズミとネコはそれぞれ四角の中の数だけリンゴを持っています。3匹はそれぞれ下の四角の中の数だけソウにリンゴをあげました。ソウにリンゴをあげた後、残ったリンゴが2個になったのは誰ですか。その動物に○をつけます。









		
		
		
		

※1. このプリントは、しながわ・目黒こどもスクールのウェブサイトダウンロードができます。無断複写・引用はご遠慮ください。

※2. このプリントを活用したオンライン授業のスケジュールは、しながわ・目黒こどもスクールのウェブサイトでご確認ください。