




おうちで、やろう。

Study at home. 小学校受験の家庭学習教材

常識：生活⑨

下の絵でいけないことをしている人や物に青のクーピーで×をつけます。

①



②



※1. このプリントは、しながわ・目黒こどもスクールのウェブサイトからダウンロードできます。無断複写・引用はご遠慮ください。

※2. このプリントを活用したオンライン授業のスケジュールは、しながわ・目黒こどもスクールのウェブサイトでご確認ください。






おうちで、やろう。

Study at home. 小学校受験の家庭学習教材

常識：生活⑩

下の絵でいけないことをしている人や物に青のクーピーで×をつけます。

①



②



※1. このプリントは、しながわ・目黒こどもスクールのウェブサイトでダウンロードができます。無断複写・引用はご遠慮ください。

※2. このプリントを活用したオンライン授業のスケジュールは、しながわ・目黒こどもスクールのウェブサイトでご確認ください。



おうちで、やろう。

Study at home. 小学校受験の家庭学習教材

図形：鏡⑦

左の四角の中の絵が描いてある紙の真ん中の灰色の部分に鏡を立てて手前から鏡を見たときの見え方を考えます。
正しいものを右の四角の中から選んで○をつけます。

--	--	--	--	--

--	--	--	--	--

--	--	--	--	--

--	--	--	--	--

--	--	--	--	--

※1. このプリントは、しながわ・目黒こどもスクールのウェブサイトからダウンロードできます。無断複写・引用はご遠慮ください。
 ※2. このプリントを活用したオンライン授業のスケジュールは、しながわ・目黒こどもスクールのウェブサイトでご確認ください。



おうちで、やろう。

Study at home. 小学校受験の家庭学習教材

図形：鏡⑧

左の四角の中の形が描いてある紙の真ん中の灰色の部分に鏡を立てて手前から鏡を見たときの見え方を考えます。
正しいものを右の四角の中から選んで○をつけます。

※1. このプリントは、しながわ・目黒こどもスクールのウェブサイトでダウンロードができます。無断複写・引用はご遠慮ください。

※2. このプリントを活用したオンライン授業のスケジュールは、しながわ・目黒こどもスクールのウェブサイトでご確認ください。

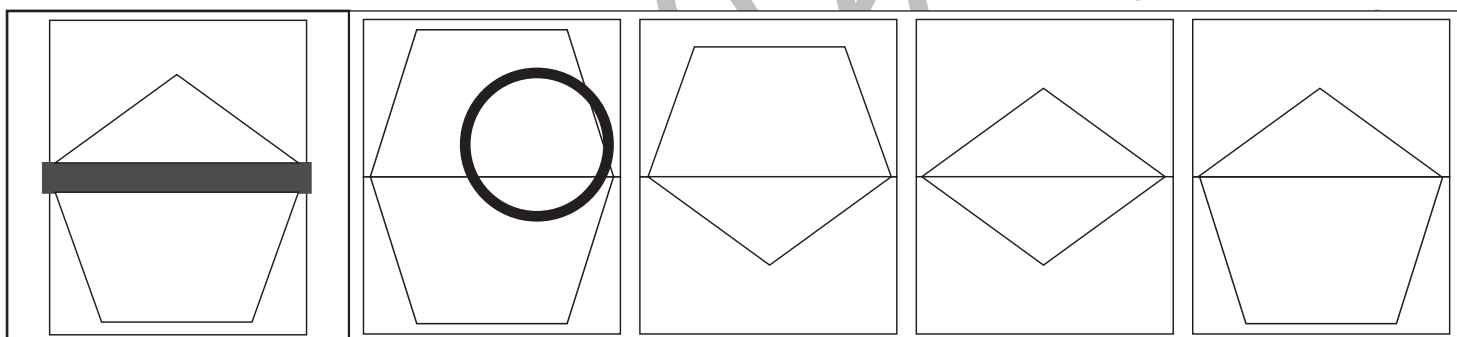
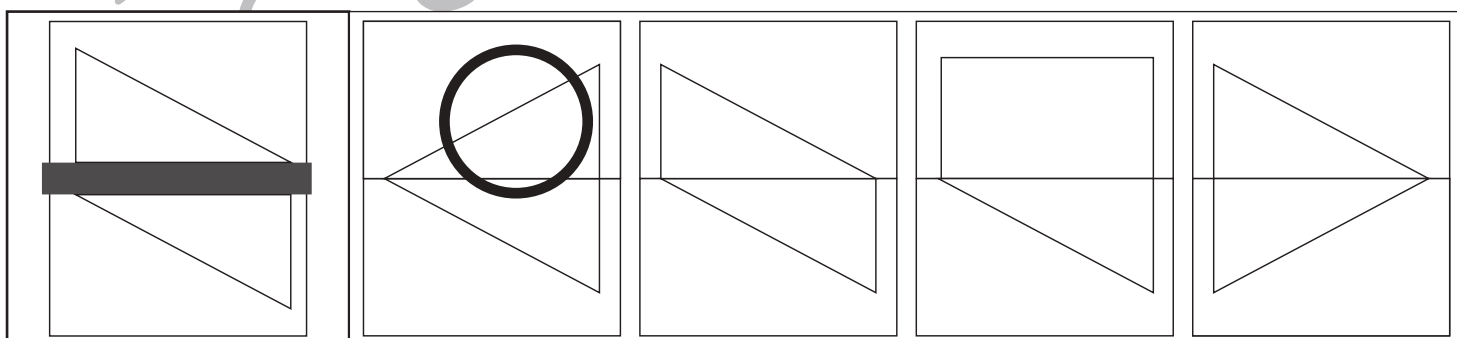

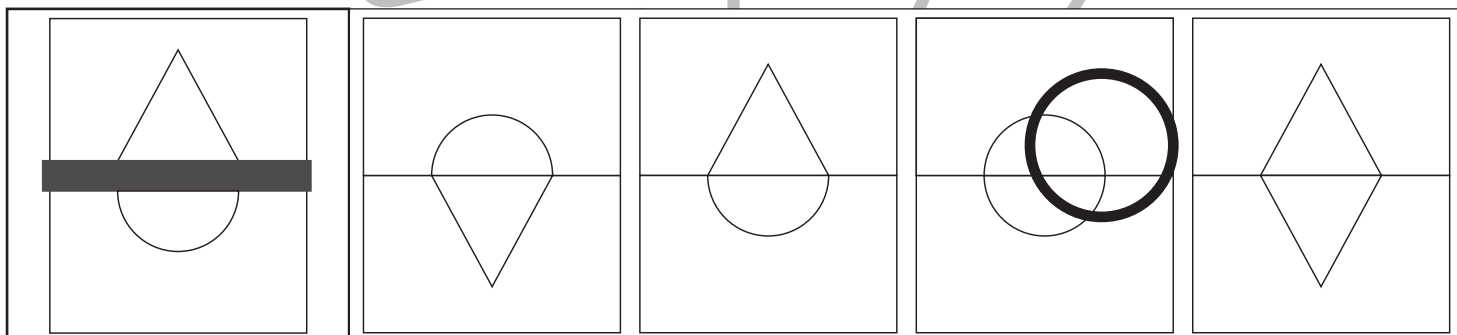
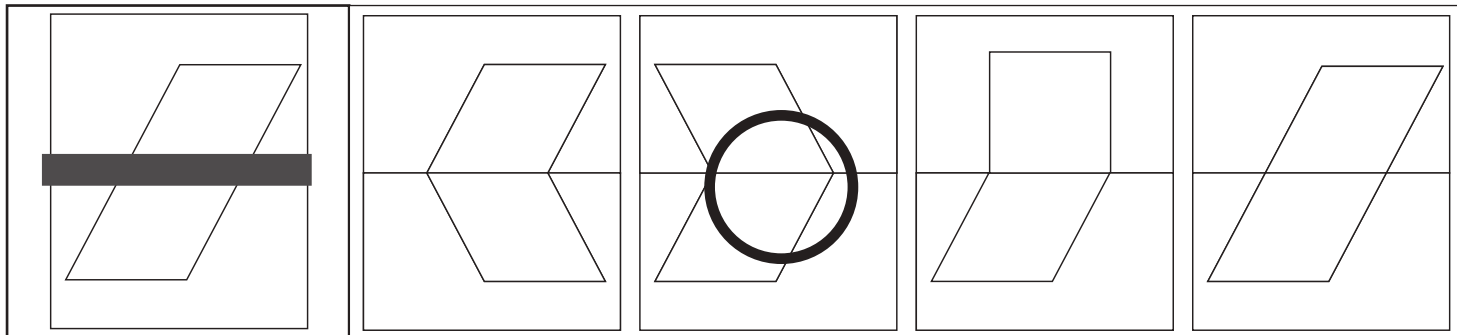


おうちで、やろう。

Study at home. 小学校受験の家庭学習教材

図形：鏡⑨

左の四角の中の形が描いてある紙の真ん中の灰色の部分に鏡を立てて手前から鏡を見たときの見え方を考えます。
正しいものを右の四角の中から選んで○をつけます。



※1. このプリントは、しながわ・目黒こどもスクールのウェブサイトからダウンロードできます。無断複写・引用はご遠慮ください。

※2. このプリントを活用したオンライン授業のスケジュールは、しながわ・目黒こどもスクールのウェブサイトでご確認ください。
















おうちで、やろう。








Study at home. 小学校受験の家庭学習教材









推理：条件推理⑨










旗が先頭で動物たちが順番に並んでいます。そこへ、後から右の太い四角の中の動物がやってきて先頭に並びました。そのとき、前から4番目の動物は誰ですか。その動物に○をつけます。

					
---	---	---	---	---	---

						
--	--	--	--	--	--	---

						
---	---	---	---	---	---	---

							
---	---	---	---	---	--	---	---

								
---	---	---	---	---	---	--	---	---

※1. このプリントは、しながわ・目黒こどもスクールのウェブサイトでダウンロードができます。無断複写・引用はご遠慮ください。
 ※2. このプリントを活用したオンライン授業のスケジュールは、しながわ・目黒こどもスクールのウェブサイトでご確認ください。


















おうちで、やろう。









Study at home. 小学校受験の家庭学習教材










推理：条件推理⑩





旗が先頭で動物たちが順番に並んでいますが、これから先頭を変えます。並んでいる動物の中で右の四角の中の動物が列から抜けて先頭に並びます。ただし、その他の動物の順番は変わりません。このとき、前から5番目の動物は誰ですか。その動物に○をつけます。

						
---	---	---	---	---	---	---

							
--	--	--	--	--	---	--	---

							
---	---	---	---	---	--	---	---

								
---	---	---	---	---	---	--	---	---

									
---	---	---	---	---	---	---	--	---	---

※1. このプリントは、しながわ・目黒こどもスクールのウェブサイトからダウンロードできます。無断複写・引用はご遠慮ください。
 ※2. このプリントを活用したオンライン授業のスケジュールは、しながわ・目黒こどもスクールのウェブサイトでご確認ください。

















おうちで、やろう。










Study at home. 小学校受験の家庭学習教材









推理：条件推理⑪











旗が先頭で動物たちが順番に並んでいますが、これから先頭を変えます。並んでいる動物の中で右の四角の中の動物が列から抜けて先頭に並びます。ただし、その他の動物の順番は変わりません。また、右の四角に2匹いる場合はどちらが先頭になってもよいです。このとき、ちょうど真ん中にある動物は誰ですか。その動物に○をつけます。

						
---	---	---	---	---	---	---

						
---	---	---	---	---	---	---

								
---	---	---	---	---	---	--	---	---

							
---	---	---	---	---	--	---	---

									
---	---	---	---	---	---	--	---	---	---

※1. このプリントは、しながわ・目黒こどもスクールのウェブサイトでダウンロードができます。無断複写・引用はご遠慮ください。

※2. このプリントを活用したオンライン授業のスケジュールは、しながわ・目黒こどもスクールのウェブサイトでご確認ください。