



おうちで、やろう。

Study at home. 小学校受験の家庭学習教材

図形：重ね⑭

透明な板に模様がかいてあります。矢印の左の3つの四角をぴったり重ねたときの見え方を考えます。黒丸になる場所を考えて矢印の右の四角の丸を黒く塗ります。

			→	
			→	
			→	
			→	
			→	

※1. このプリントは、しながわ・目黒こどもスクールのウェブサイトでダウンロードができます。無断複写・引用はご遠慮ください。

※2. このプリントを活用したオンライン授業のスケジュールは、しながわ・目黒こどもスクールのウェブサイトでご確認ください。



おうちで、よろう。

Study at home. 小学校受験の家庭学習教材

図形：重ね⑮

透明な板に模様がかいてあります。矢印の左の3つの四角をぴったり重ねたときの見え方を考えます。黒丸になる場所を考えて矢印の右の四角の丸を黒く塗ります。

			→	
			→	
			→	
			→	
			→	

※1. このプリントは、しながわ・目黒こどもスクールのウェブサイトダウンロードができます。無断複写・引用はご遠慮ください。

※2. このプリントを活用したオンライン授業のスケジュールは、しながわ・目黒こどもスクールのウェブサイトでご確認ください。



おうちで、やろう。

Study at home. 小学校受験の家庭学習教材

図形：重ね⑬

透明な板に模様がかいてあります。矢印の左の3つの四角をぴったり重ねたときの見え方を考えます。重ねたときの形を矢印の右の四角にかきます。

			→	
--	--	--	---	--

			→	
--	--	--	---	--

			→	
--	--	--	---	--

			→	
--	--	--	---	--

			→	
--	--	--	---	--

※1. このプリントは、しながわ・目黒こどもスクールのウェブサイトダウンロードができます。無断複写・引用はご遠慮ください。

※2. このプリントを活用したオンライン授業のスケジュールは、しながわ・目黒こどもスクールのウェブサイトでご確認ください。







おうちで、やろう。

Study at home. 小学校受験の家庭学習教材

図形：模写⑩

下のパズルには、●の数だけ欠けているところがあります。どうやらパズルピースが無くなってしまったようです。上の完成見本をよく見て、下のパズルの足りないところを鉛筆で描き足しましょう。



※1. このプリントは、しながわ・目黒こどもスクールのウェブサイトでダウンロードができます。無断複写・引用はご遠慮ください。

※2. このプリントを活用したオンライン授業のスケジュールは、しながわ・目黒こどもスクールのウェブサイトでご確認ください。



おうちで、やろう。

Study at home. 小学校受験の家庭学習教材

推理：重さ⑥

天秤とバネを使って重さ比べをしました。3つのボールの中で一番重いボールはどれですか。右の四角の中のボールに○をつけます。

※1. このプリントは、しながわ・目黒こどもスクールのウェブサイトでダウンロードができます。無断複写・引用はご遠慮ください。

※2. このプリントを活用したオンライン授業のスケジュールは、しながわ・目黒こどもスクールのウェブサイトでご確認ください。



おうちで、やろう。

Study at home. 小学校受験の家庭学習教材

推理：重さ⑦

天秤とバネを使って重さ比べをしました。4つのボールの中で一番重いボールはどれですか。右の四角の中のボールに○をつけます。

※1. このプリントは、しながわ・目黒こどもスクールのウェブサイトでダウンロードができます。無断複写・引用はご遠慮ください。

※2. このプリントを活用したオンライン授業のスケジュールは、しながわ・目黒こどもスクールのウェブサイトでご確認ください。



おうちで、やろう。

Study at home. 小学校受験の家庭学習教材

推理：重さ⑧

天秤とバネを使って重さ比べをしました。5つのボールの中で一番重いボールに○、一番軽いボールに△をつけます。右の四角の中のボールに○をつけます。

※1. このプリントは、しながわ・目黒こどもスクールのウェブサイトでダウンロードができます。無断複写・引用はご遠慮ください。

※2. このプリントを活用したオンライン授業のスケジュールは、しながわ・目黒こどもスクールのウェブサイトでご確認ください。



















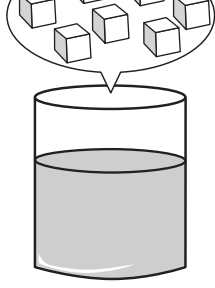
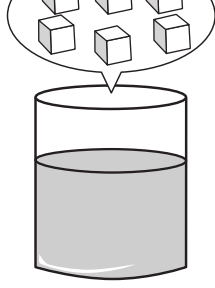


おうちで、やろう。

Study at home. 小学校受験の家庭学習教材

推理：濃度①

それぞれの四角の中のコップには同じ量の水が入っています。このコップに上の吹き出しの中の角砂糖を入れます。一番甘くなるコップに○、一番甘くないコップに△をつけます。

※1. このプリントは、しながわ・目黒こどもスクールのウェブサイトからダウンロードできます。無断複写・引用はご遠慮ください。

※2. このプリントを活用したオンライン授業のスケジュールは、しながわ・目黒こどもスクールのウェブサイトでご確認ください。



おうちで、やろう。

Study at home. 小学校受験の家庭学習教材

推理：濃度②

それぞれの四角の中のコップにそれぞれ違う量の水が入っています。このコップに上の吹き出しの中の水角砂糖を入れます。一番甘くなるコップに○、一番甘くないコップに△をつけます。

※1. このプリントは、しながわ・目黒こどもスクールのウェブサイトでダウンロードができます。無断複写・引用はご遠慮ください。

※2. このプリントを活用したオンライン授業のスケジュールは、しながわ・目黒こどもスクールのウェブサイトでご確認ください。