





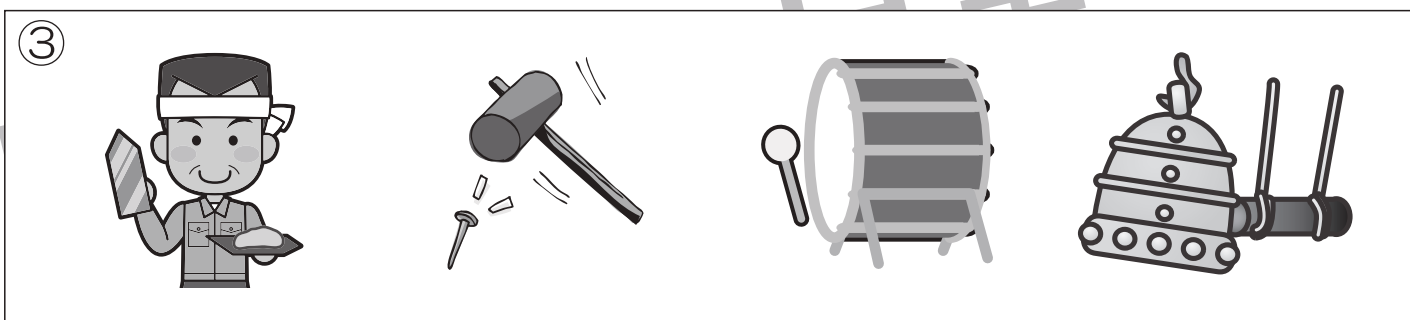

おうちで、やろう。

Study at home. 小学校受験の家庭学習教材

言語：言葉⑤

それぞれの問題の言葉に合う絵を選んで○をつけます。

①「チクチク」とう言葉に合う絵に○をつけます。 ②「サラサラ」とう言葉に合う絵に○をつけます。 ③「トントン」とう言葉に合う絵に○をつけます。 ④「ひらひら」とう言葉に合う絵に○をつけます。 ⑤「しとしと」とう言葉に合う絵に○をつけます。



※1. このプリントは、しながわ・目黒こどもスクールのウェブサイトからダウンロードできます。無断複写・引用はご遠慮ください。

※2. このプリントを活用したオンライン授業のスケジュールは、しながわ・目黒こどもスクールのウェブサイトでご確認ください。



おうちで、やろう。



Study at home. 小学校受験の家庭学習教材

言語：言葉⑥

①どんな様子で歩いているかお話してみましょ。 (例)ゾウがのしのし歩いています。

②それぞれの絵の人たちがどんなお話をしているか考えてみましょ。

(例)太郎君がさつきさんの絵をみて、「とてもきれいなお花だね。さつきさんはこんな素敵な絵が描けるなんてすごいね。」とほめました。さつきさんは「ありがとう。お家の前にきれいなお花が咲いていたからそのお花を描いたのよ。太郎君のチューリップの色もとても素敵よ。」と太郎君に言いました。 ※この問題には解答はありません。保護者の方といろいろなお話を考えてください。



※1. このプリントは、しながわ・目黒こどもスクールのウェブサイトダウンロードができます。無断複写・引用はご遠慮ください。

※2. このプリントを活用したオンライン授業のスケジュールは、しながわ・目黒こどもスクールのウェブサイトでご確認ください。

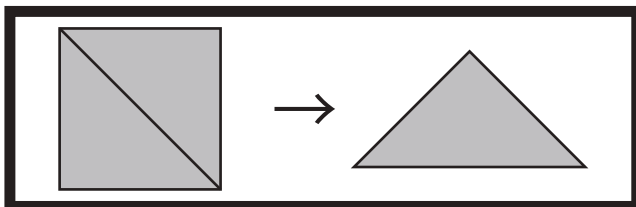


おうちで、やろう。




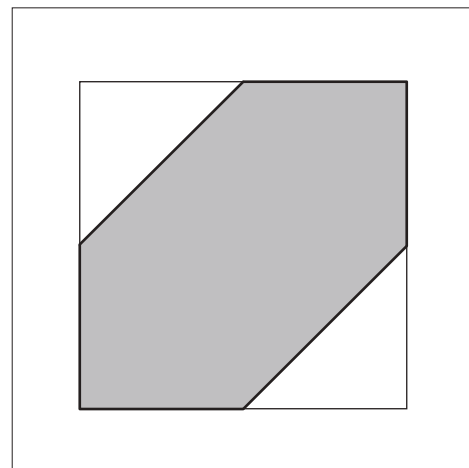
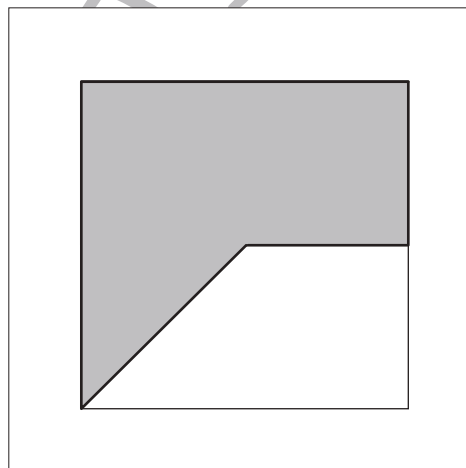
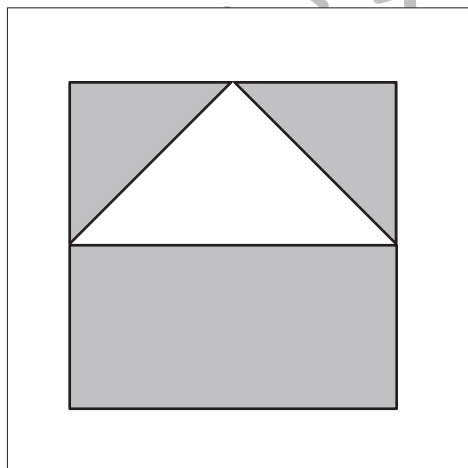


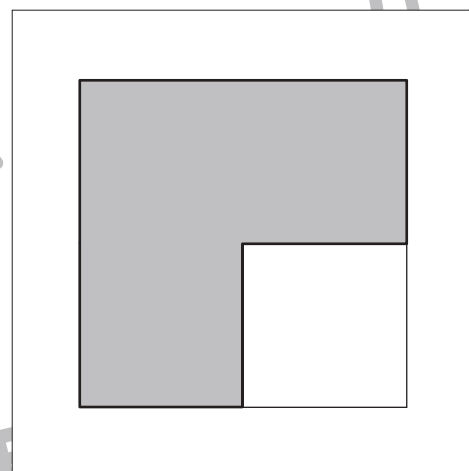
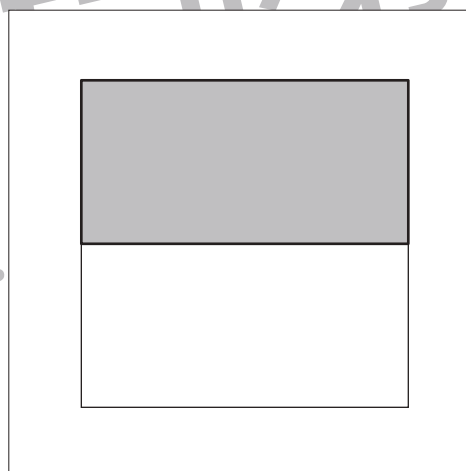
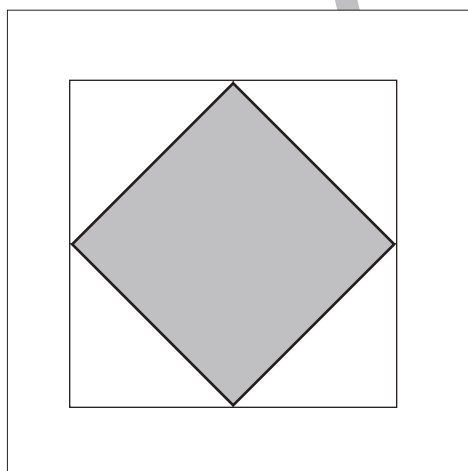
Study at home. 小学校受験の家庭学習教材

図形：三角パズル①

上の太い四角の中の四角を半分にして三角パズルを作りました。この三角パズルを使ってそれぞれの形を作ります。それぞれ形は三角パズルを何枚使えばできるのかを考えて、下の四角の中にその数だけ〇をかきます。



目黒



※1. このプリントは、しながわ・目黒こどもスクールのウェブサイトでダウンロードができます。無断複写・引用はご遠慮ください。
※2. このプリントを活用したオンライン授業のスケジュールは、しながわ・目黒こどもスクールのウェブサイトでご確認ください。



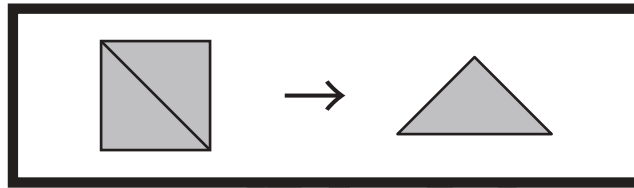


おうちで、やろう。

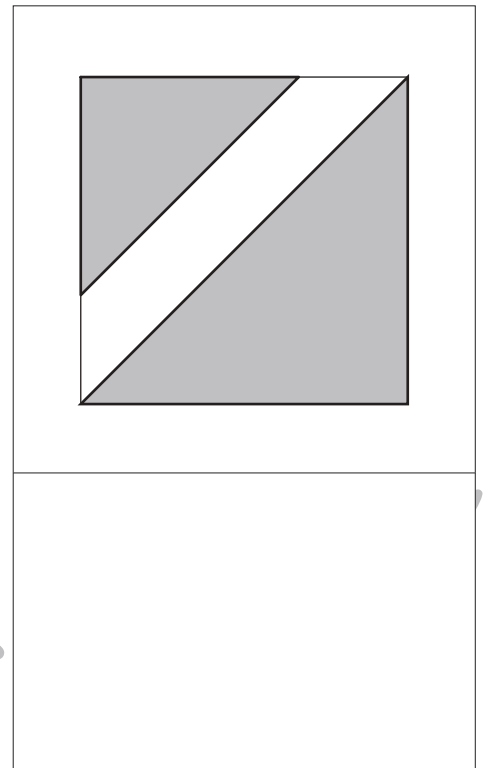
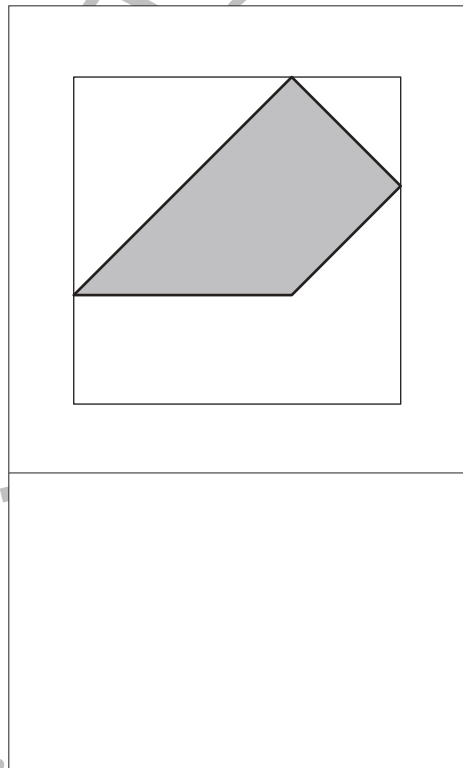
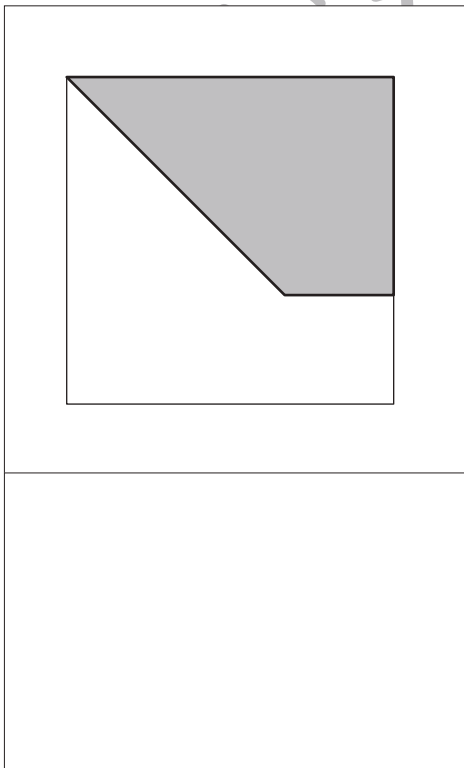
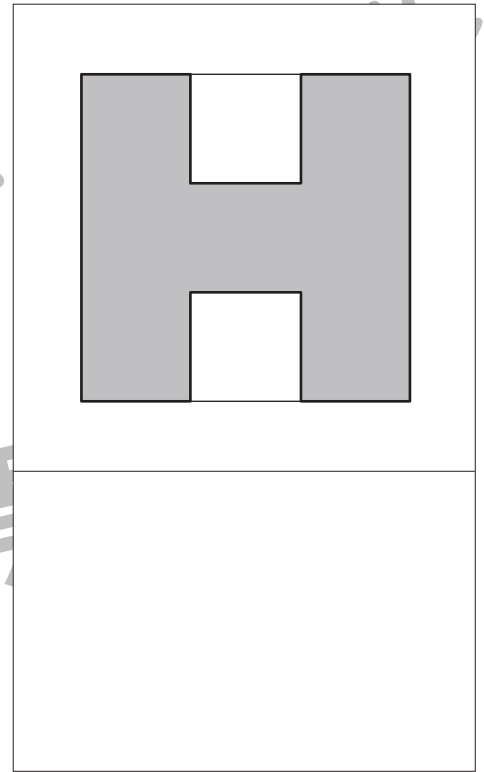
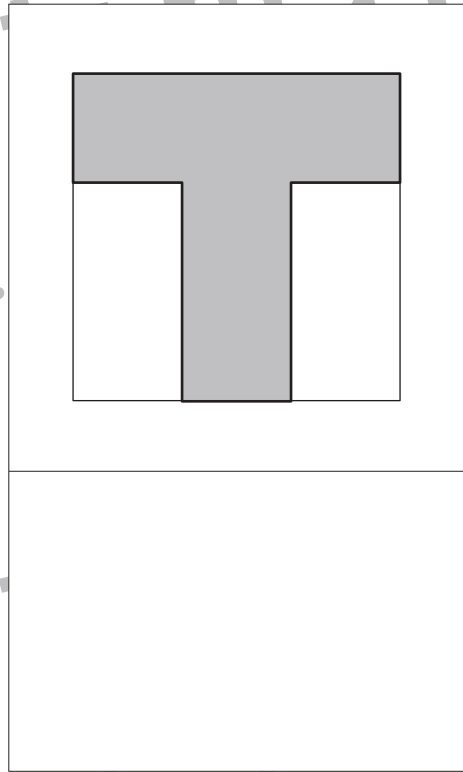
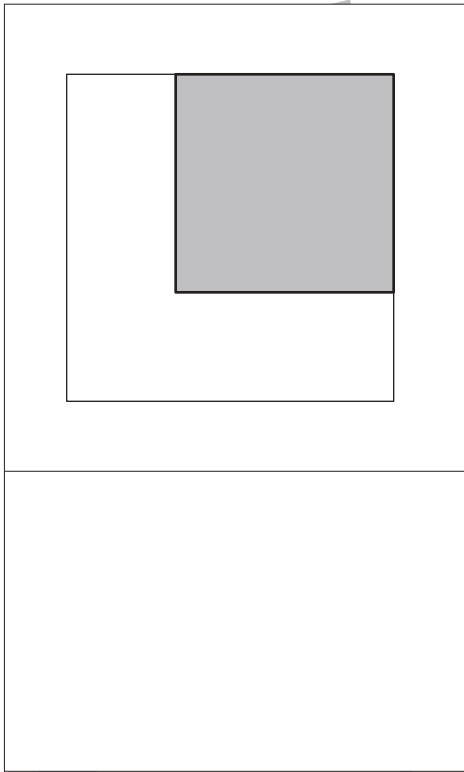
Study at home. 小学校受験の家庭学習教材

図形：三角パズル②

上の太い四角の中の四角を半分にして三角パズルを作りました。この三角パズルを使ってそれぞれの形を作ります。それぞれ形は三角パズルを何枚使えばできるのかを考えて、下の四角の中にその数だけ〇をかきます。



目黒



※1. このプリントは、しながわ・目黒こどもスクールのウェブサイトでダウンロードができます。無断複写・引用はご遠慮ください。
※2. このプリントを活用したオンライン授業のスケジュールは、しながわ・目黒こどもスクールのウェブサイトでご確認ください。





おうちで、やろう。


Study at home. 小学校受験の家庭学習教材

図形：三角パズル③-1

三角パズルを作ります。

下の四角の黒い線の上をはさみで切り、三角パズルを作ります。

別紙「図形：三角パズル③-2」の形を切ったパズルを使って作りましょう。



※1. このプリントは、しながわ・目黒こどもスクールのウェブサイトでダウンロードができます。無断複写・引用はご遠慮ください。

※2. このプリントを活用したオンライン授業のスケジュールは、しながわ・目黒こどもスクールのウェブサイトでご確認ください。

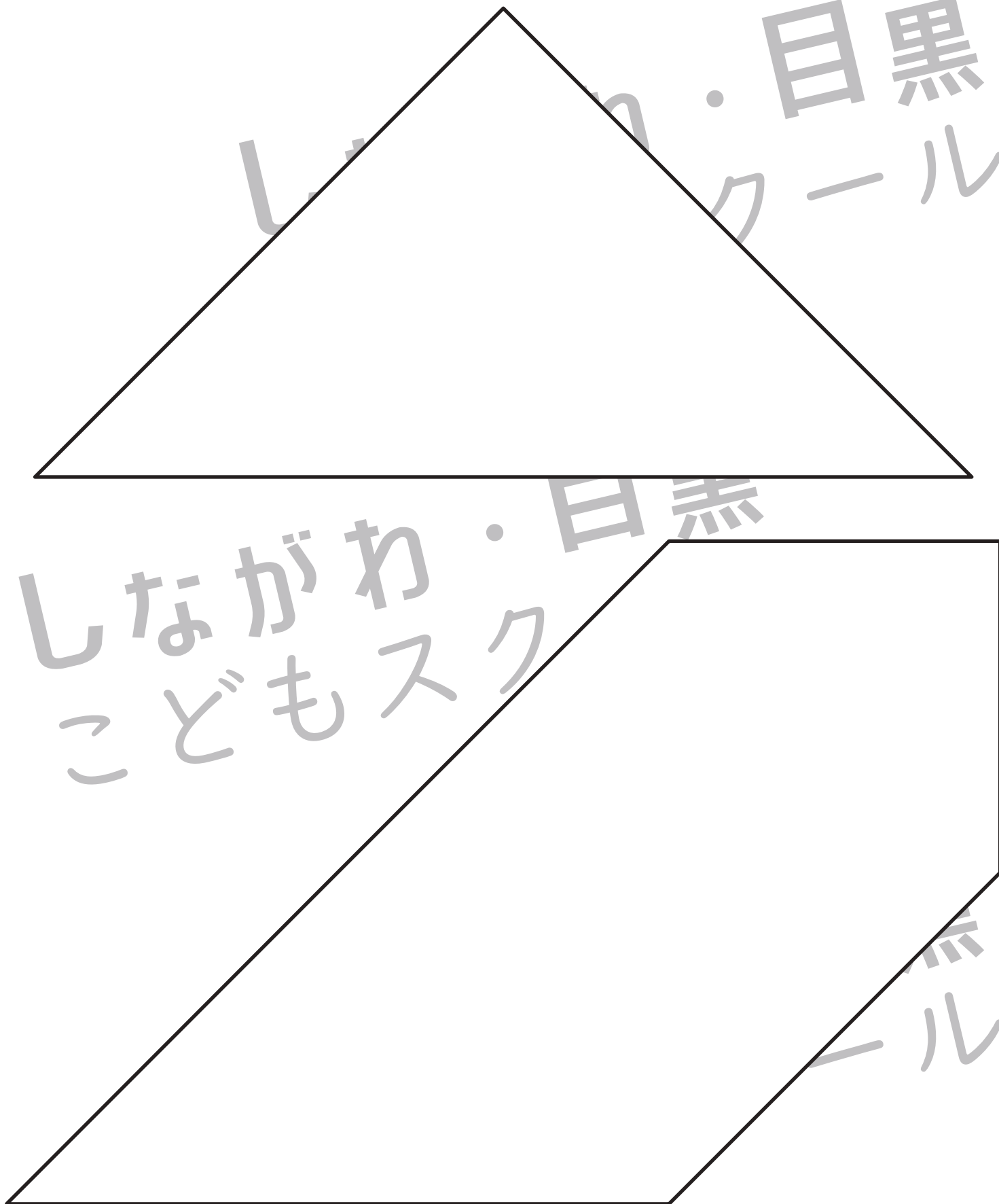


おうちで、やろう。

Study at home. 小学校受験の家庭学習教材

図形：三角パズル③-2

※別紙「図形：三角パズル③-1」の三角パズルを用意してください。
下の形を自分で作った三角パズルで作ります。形ができたらのりで貼り付けましょう。



※1. このプリントは、しながわ・目黒こどもスクールのウェブサイトでダウンロードができます。無断複写・引用はご遠慮ください。
※2. このプリントを活用したオンライン授業のスケジュールは、しながわ・目黒こどもスクールのウェブサイトでご確認ください。



おうちで、やろう。

Study at home. 小学校受験の家庭学習教材

推理：濃度③

それぞれの四角の中のコップにそれぞれ違う量の水が入っています。このコップに上の吹き出しの中の角砂糖を入れます。一番甘くなるコップに○、一番甘くないコップに△をつけます。

※1. このプリントは、しながわ・目黒こどもスクールのウェブサイトでダウンロードができます。無断複写・引用はご遠慮ください。

※2. このプリントを活用したオンライン授業のスケジュールは、しながわ・目黒こどもスクールのウェブサイトでご確認ください。



おうちで、やろう。

Study at home. 小学校受験の家庭学習教材

数量：加減⑪

箱の中には箱の外にある飴より、2つ少ない数が入っています。
箱の中に飴はいくつありますか。その数だけ下の四角の中に○をかきます。

A box is shown on the left. To its right are 5 candies. Below the box and candies is a large empty square for marking.

A box is shown on the left. To its right are 8 candies. Below the box and candies is a large empty square for marking.

A box is shown on the left. To its right are 7 candies. Below the box and candies is a large empty square for marking.

A box is shown on the left. To its right are 6 candies. Below the box and candies is a large empty square for marking.

箱の中には箱の外にあるクッキーより、4つ少ない数が入っています。
箱の中にはクッキーは何枚ありますか。その数だけ四角の中に○をかきます。

A box is shown on the left. To its right are 5 cookies. Below the box and cookies is a large empty square for marking.

A box is shown on the left. To its right are 9 cookies. Below the box and cookies is a large empty square for marking.

A box is shown on the left. To its right are 8 cookies. Below the box and cookies is a large empty square for marking.

A box is shown on the left. To its right are 12 cookies. Below the box and cookies is a large empty square for marking.

※1. このプリントは、しながわ・目黒こどもスクールのウェブサイトでダウンロードができます。無断複写・引用はご遠慮ください。
※2. このプリントを活用したオンライン授業のスケジュールは、しながわ・目黒こどもスクールのウェブサイトでご確認ください。






おうちで、やろう。

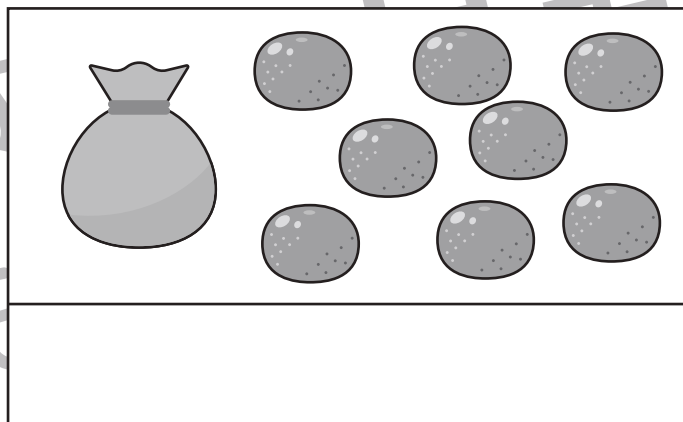
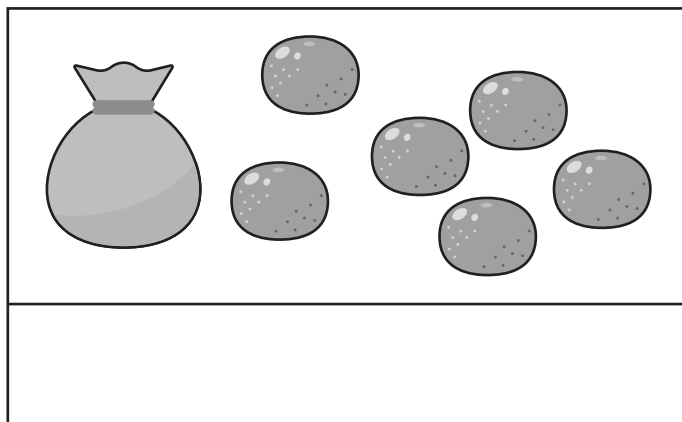
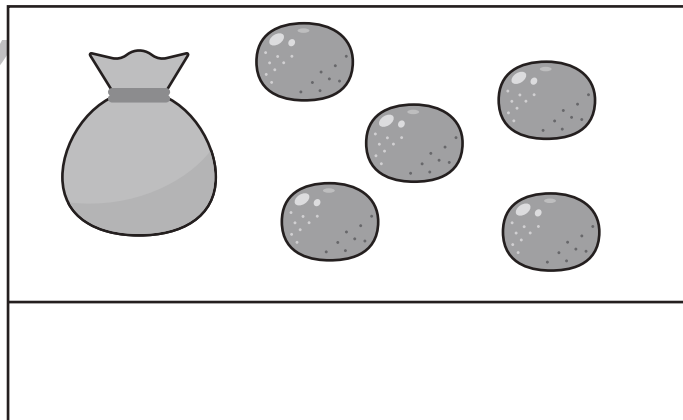
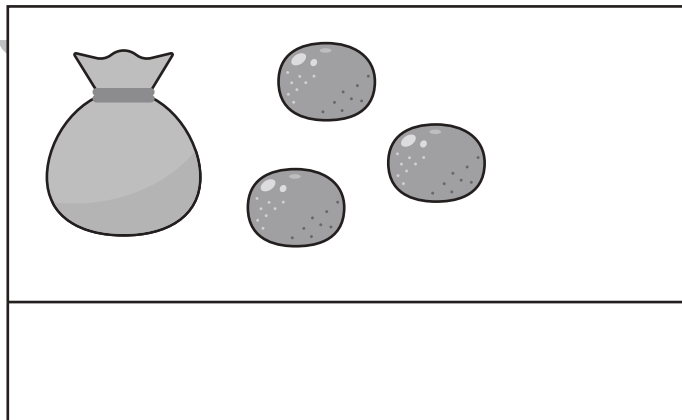
Study at home. 小学校受験の家庭学習教材

数量：加減⑫

バスの中には外で待っている人より、3人少ない人が乗っています。バスの中の人と外で並んで待っている人は合わせて何人でしょうか。その人数だけ下の四角の中に○をかきます。



袋の中には外に出ているみかんより、2つ少ない数が入っています。袋の中と袋の外に出ているみかんは合わせていくつでしょうか。その数だけ下の四角の中に○をかきます。



※1. このプリントは、しながわ・目黒こどもスクールのウェブサイトからダウンロードできます。無断複写・引用はご遠慮ください。
※2. このプリントを活用したオンライン授業のスケジュールは、しながわ・目黒こどもスクールのウェブサイトでご確認ください。








おうちで、やろう。

Study at home. 小学校受験の家庭学習教材



数量：加減⑬



男の子と女の子はおはじきを手中に持っています。男の子も、女の子もそれぞれの外においてあるおはじきよりも3つ多く持っています。手の中のおはじきはそれぞれいくつですか。それぞれの絵の下の四角にその数だけ〇をかきます。そして男の子が持っていたおはじきと女の子が持っていたおはじきの数はいくつ違いますか。違う数だけ右の四角に〇をかきます。

男の子と女の子はおはじきを手中に持っています。男の子は外においてあるおはじきよりも4つ、女の子は外においてあるおはじきよりも2つ多く持っています。手の中のおはじきはそれぞれいくつですか。それぞれの絵の下の四角にその数だけ〇をかきます。そして男の子が持っていたおはじきと女の子が持っていたおはじきの数はいくつ違いますか。違う数だけ右の四角に〇をかきます。

※1. このプリントは、しながわ・目黒こどもスクールのウェブサイトでダウンロードができます。無断複写・引用はご遠慮ください。

※2. このプリントを活用したオンライン授業のスケジュールは、しながわ・目黒こどもスクールのウェブサイトでご確認ください。



おうちで、よろう。

Study at home. 小学校受験の家庭学習教材

数量：加減⑭

袋の中にはクッキーが入っています。△の袋は外においてあるクッキーより3つ多く、☆の袋には外においてあるクッキーよりも2つ多く入っています。△の袋と、☆の袋の中のクッキーはの数はいくつ違いますか。その数だけ右の四角に○をかきます。

--	--	--

--	--	--

袋の中にはクッキーが入っています。△の袋は外においてあるクッキーより4つ多く、☆の袋は外においてあるクッキーよりも1つ少なく入っています。△の袋と、☆の袋の中のクッキーを合わせると全部でいくつですか。その数だけ右の四角に○をかきます。

--	--	--

--	--	--

--	--	--

※1. このプリントは、しながわ・目黒こどもスクールのウェブサイトでダウンロードができます。無断複写・引用はご遠慮ください。

※2. このプリントを活用したオンライン授業のスケジュールは、しながわ・目黒こどもスクールのウェブサイトでご確認ください。