




# おうちで、やろう。

Study at home. 小学校受験の家庭学習教材


常識：生活①①

お話を聞いて、正しいと思うものをすべて選んで○をつけましょう。


お湯を沸かす道具をすべて選んで○をつけましょう。



何かを混ぜたりするのに使う道具をすべて選んで○をつけましょう。




何かを「すくったり・よそったり」するのに使う道具をすべて選んで○をつけましょう。



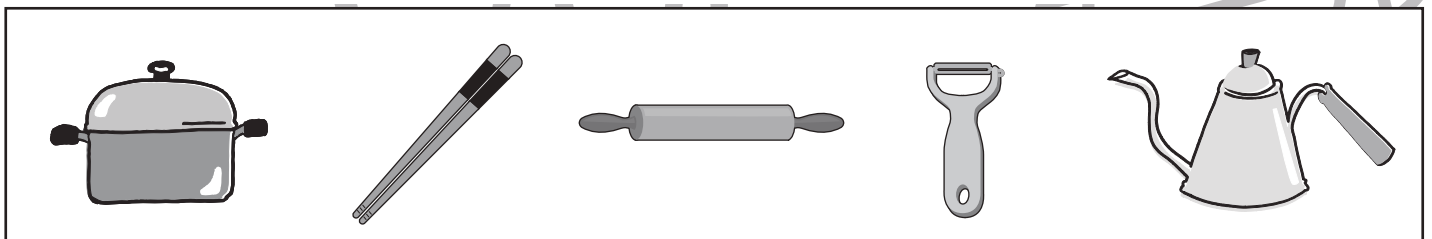
何かを「はかる」のに道具をすべて選んで○をつけましょう。



飲み物や水、スープを入れるために使うものではない道具をすべて選んで○をつけましょう。



片方の手で扱うことのできる道具をすべて選んで○をつけましょう。



※1. このプリントは、しながわ・目黒こどもスクールのウェブサイトダウンロードができます。無断複写・引用はご遠慮ください。  
※2. このプリントを活用したオンライン授業のスケジュールは、しながわ・目黒こどもスクールのウェブサイトでご確認ください。























# おうちで、やろう。

Study at home. 小学校受験の家庭学習教材

## 言語：音の理解①

絵の上の○はそれぞれの絵の名前の音を表します。○の数は音の数、並び方は左端がはじめの音、右端が終りの音です。このとき左の四角の中の絵の●の場所の音を考えます。右の四角の絵で左の四角の●と同じ音の場所を探して○を塗ります。

○●○ 	○○○ 	●○○ 	○○○○○ 
○○●○ 	○○○ 	○●○ 	○○○○○ 
○○○● 	○○○○○ 	○○○○○● 	○○○○○ 
○●○○○ 	○○○ 	○●○○○ 	○○○○○ 
○○○● 	○○○○○ 	○○○●○○○ 	○○○ 

※1. このプリントは、しながわ・目黒こどもスクールのウェブサイトでダウンロードができます。無断複写・引用はご遠慮ください。

※2. このプリントを活用したオンライン授業のスケジュールは、しながわ・目黒こどもスクールのウェブサイトでご確認ください。



# おうちで、やろう。

Study at home. 小学校受験の家庭学習教材

## 図形：移動⑫

左の四角がお手本です。このお手本の○を右に1マス、△を下へ1マス動かします。  
動かした後の場所を考えて、右の四角の中にそれぞれの記号をかきます。

		△
	○	


○		
△	○	△


	○	
△		


△	○	
		△
○		


	○	△


	○	
○	△	△


○	△	


	△	
	○	△
○		


○		
△		


△		
○	△	
	○	


※1. このプリントは、しながわ・目黒こどもスクールのウェブサイトでダウンロードができます。無断複写・引用はご遠慮ください。  
※2. このプリントを活用したオンライン授業のスケジュールは、しながわ・目黒こどもスクールのウェブサイトでご確認ください。

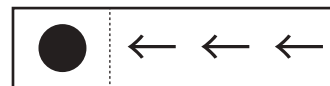
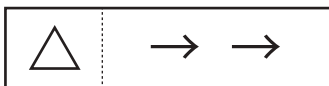
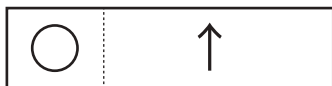


# おうちで、よろう。

Study at home. 小学校受験の家庭学習教材

## 図形：移動⑬

左の四角がお手本です。このお手本の○を上へ1マス、△を右へ2マス、●を左へ3マス動かします。動かした後の場所を考えて、下の四角の中にそれぞれの記号をかきます。



				●			
		○			△		
			●				
			△				○


							●
○				●			○
				●			○
	△		△		△		


							●
	△		●	○			
			△				○
○				△			


△				●			○
○		△	●		○		
				△		●	


					△		
○							○
		○	●				
△				△			●


	△		●				
				●			○
			△			●	○
	○			△	●	○	


※1. このプリントは、しながわ・目黒こどもスクールのウェブサイトからダウンロードできます。無断複写・引用はご遠慮ください。  
※2. このプリントを活用したオンライン授業のスケジュールは、しながわ・目黒こどもスクールのウェブサイトでご確認ください。

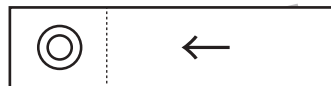
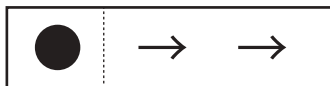
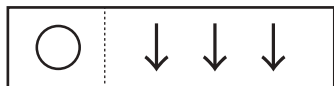


# おうちで、やろう。

Study at home. 小学校受験の家庭学習教材

## 図形：移動⑭

左の四角がお手本です。このお手本の○を下へ3マス、△を上へ1マス、●を右へ2マス、◎を左へ1マス動かします。動かした後の場所を考えて、右の四角の中にそれぞれの記号をかきます。



		●					
		○		◎			
△							
	●			○			
			◎				
	△						


	●						
○		△					
		◎	○				
		●					
●	◎						
		△					


			○				
	△						
		○		◎			
△			◎				
	●						
	△						
		◎					
●							


	◎			○			
	●						
○		◎					
			△				
	●	○					
	△		◎				
		●					
	△						


※1. このプリントは、しながわ・目黒こどもスクールのウェブサイトでダウンロードができます。無断複写・引用はご遠慮ください。  
※2. このプリントを活用したオンライン授業のスケジュールは、しながわ・目黒こどもスクールのウェブサイトでご確認ください。



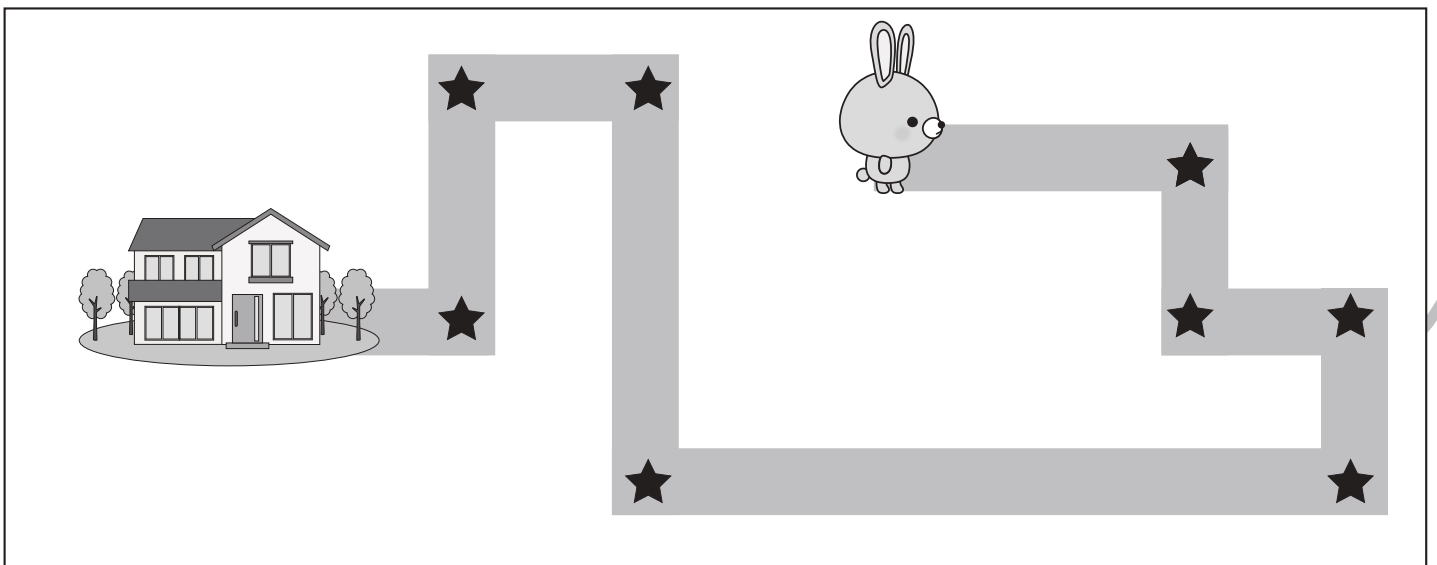
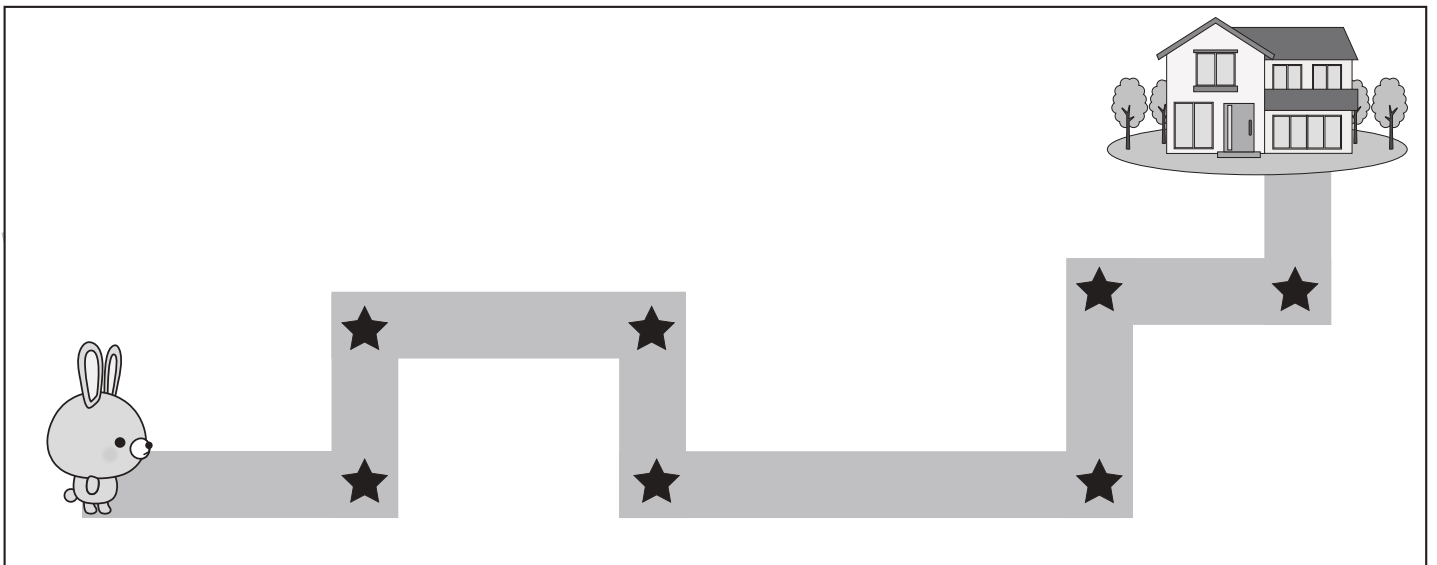
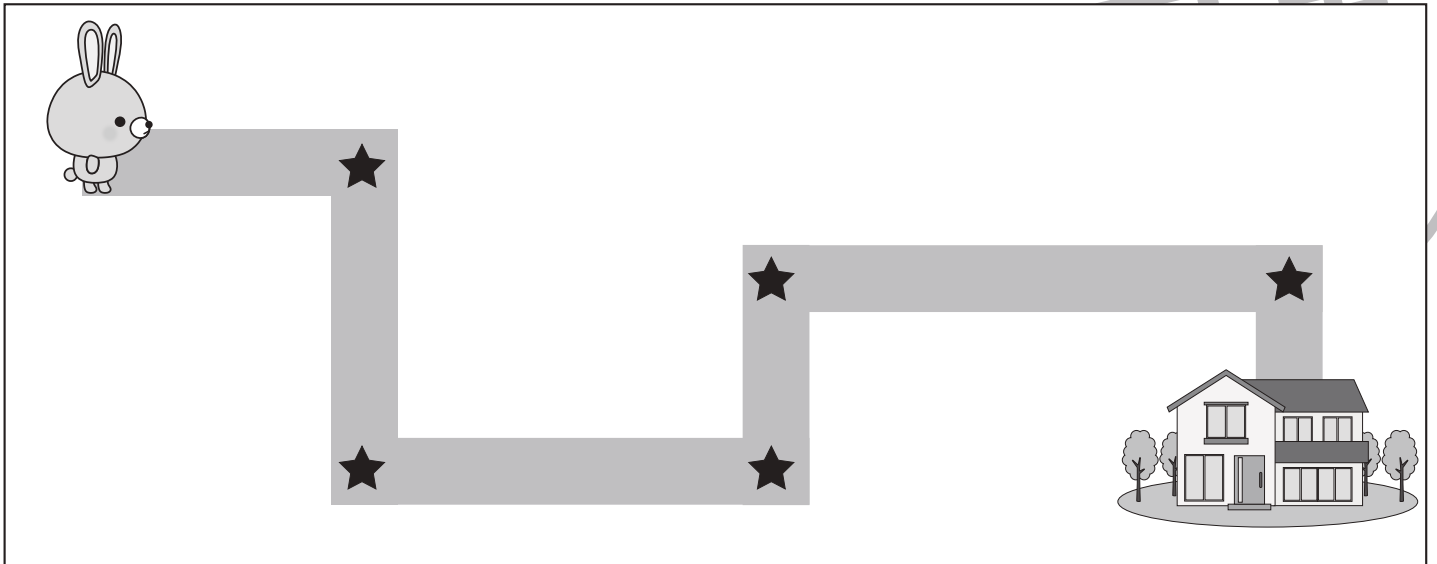


# おうちで、やろう。

Study at home. 小学校受験の家庭学習教材

## 推理：地図の移動①

ウサギが家まで歩いて帰ります。途中の★のマークのある曲がり角ではウサギは右と左のどちらに曲がりますか。右に曲がる曲がり角の★に○をつけます。



※1. このプリントは、しながわ・目黒こどもスクールのウェブサイトでダウンロードができます。無断複写・引用はご遠慮ください。  
 ※2. このプリントを活用したオンライン授業のスケジュールは、しながわ・目黒こどもスクールのウェブサイトでご確認ください。


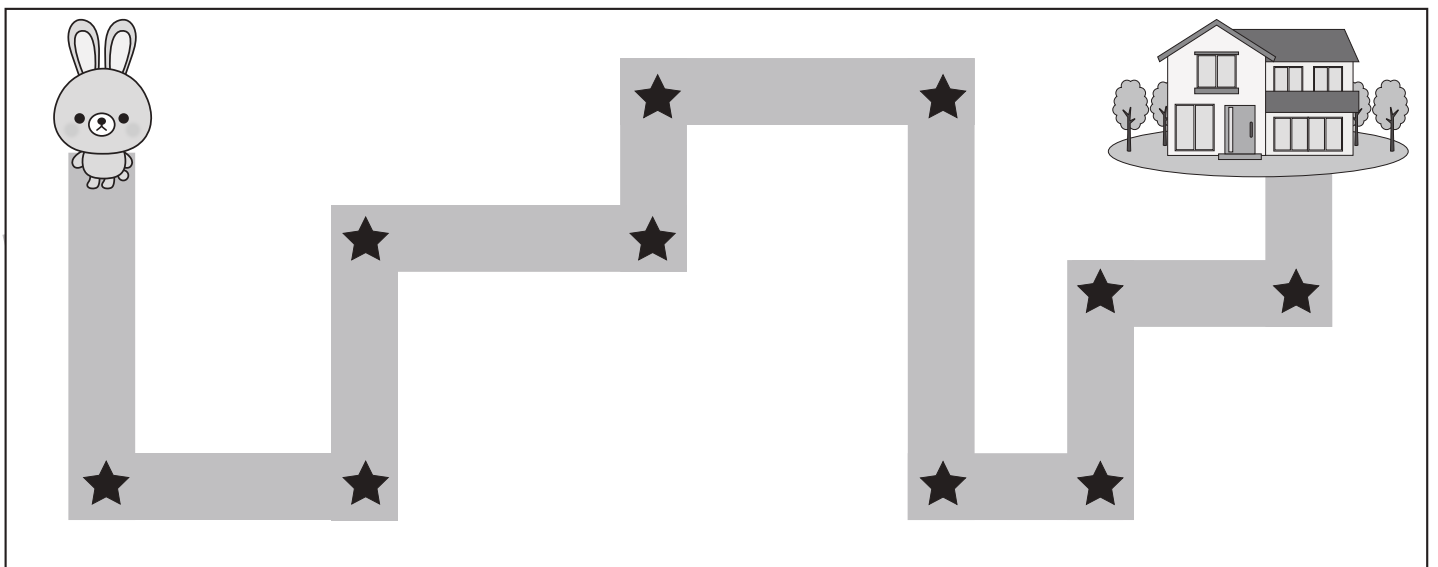
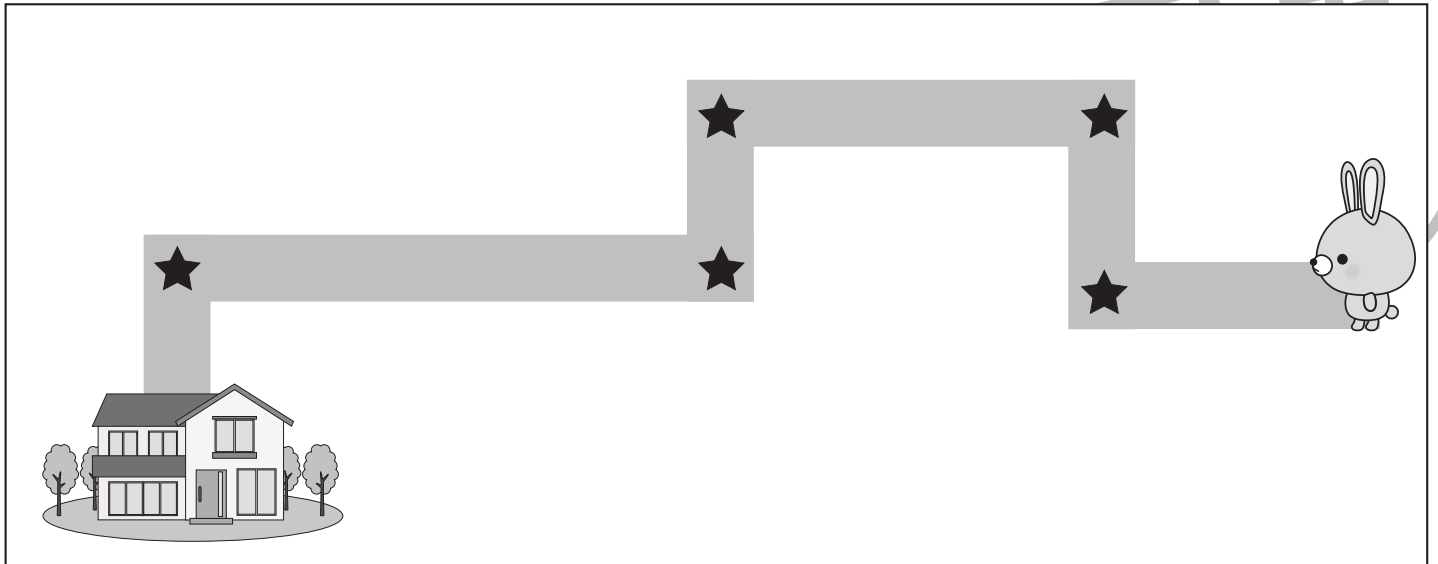


# おうちで、やろう。

Study at home. 小学校受験の家庭学習教材

## 推理：地図の移動②

ウサギが家まで歩いて帰ります。途中の★のマークのある曲がり角ではウサギは右と左のどちらに曲がりますか。左に曲がる曲がり角の★に○をつけます。



※1. このプリントは、しながわ・目黒こどもスクールのウェブサイトでダウンロードができます。無断複写・引用はご遠慮ください。  
 ※2. このプリントを活用したオンライン授業のスケジュールは、しながわ・目黒こどもスクールのウェブサイトでご確認ください。

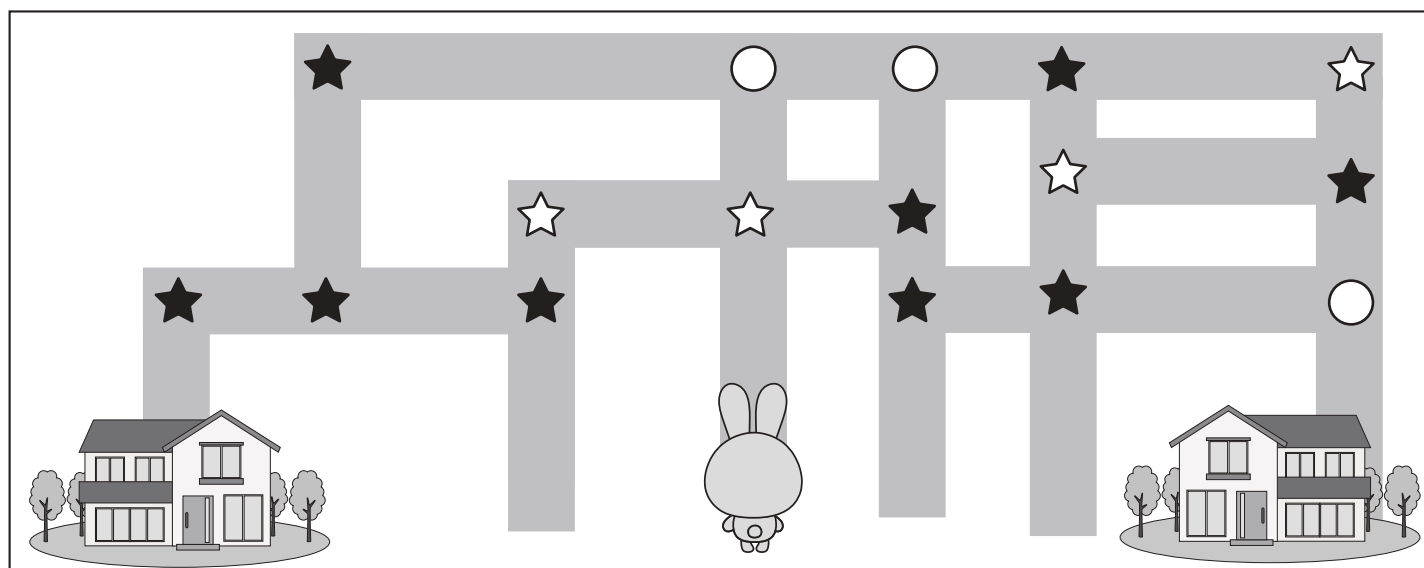
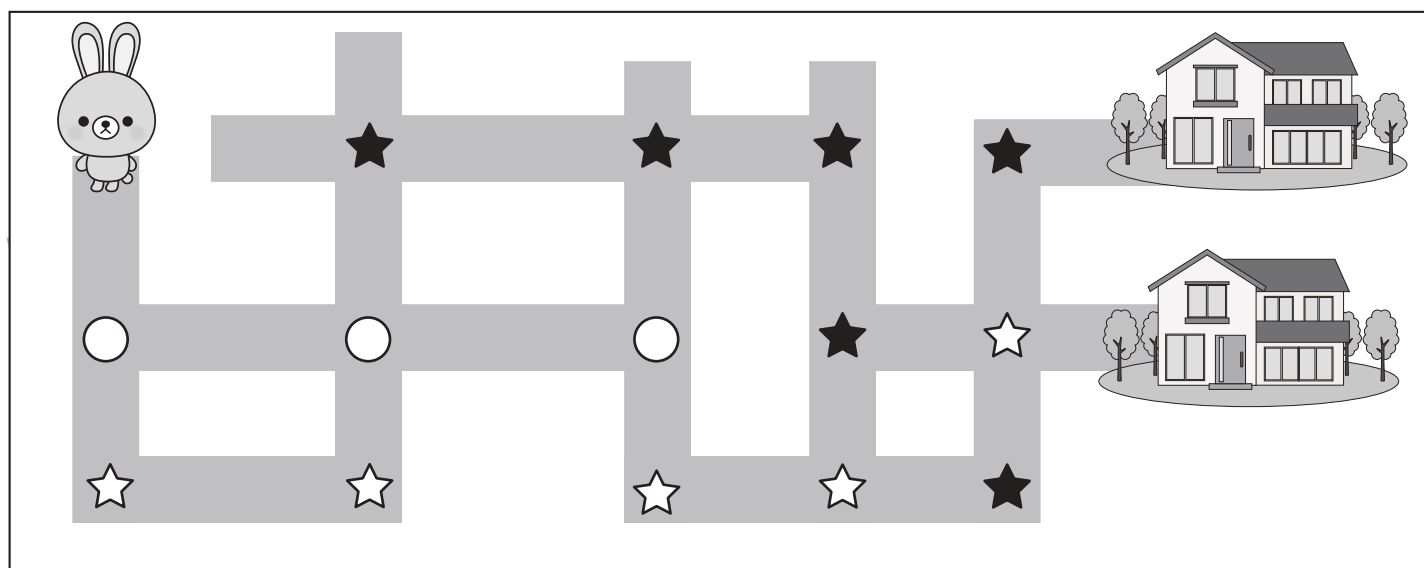
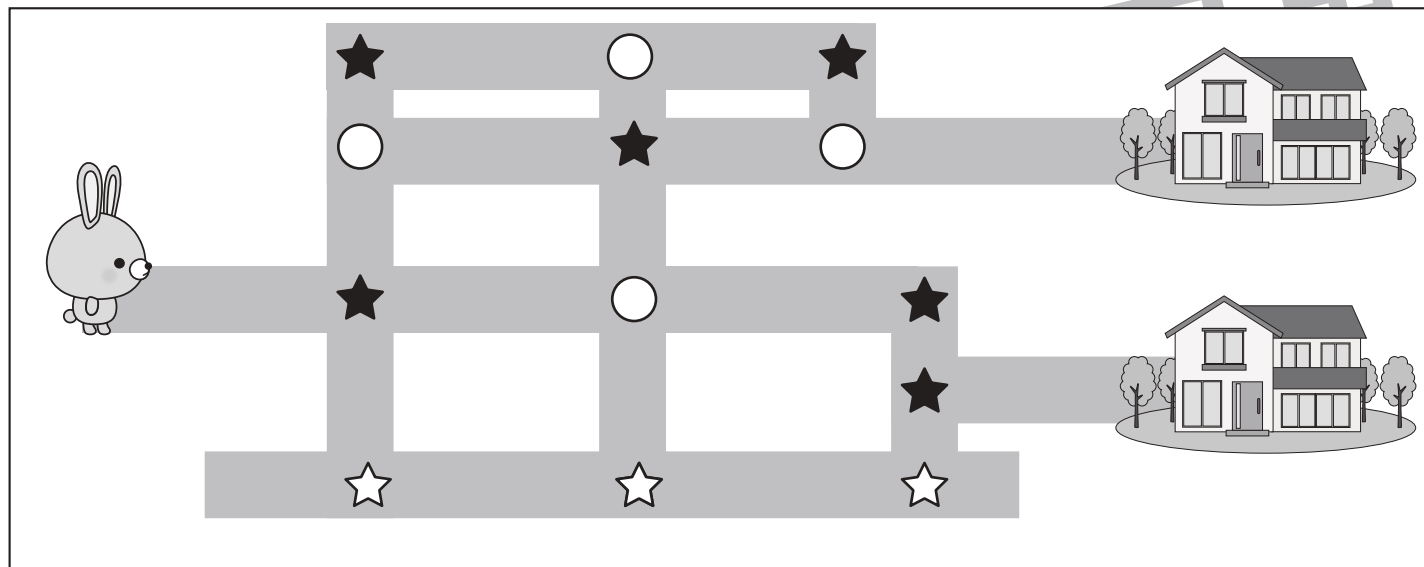


# おうちで、よろう。

Study at home. 小学校受験の家庭学習教材

## 推理：地図の移動③

ウサギが家まで歩いて帰ります。途中のマークのある曲がり角では約束があります。☆は左に曲がります。★は右に曲がります。○はそのまま真っすぐ進みます。この約束でウサギさんが進んで行ったとき、着いた家にも○をつけます。



※1. このプリントは、しながわ・目黒こどもスクールのウェブサイトからダウンロードできます。無断複写・引用はご遠慮ください。

※2. このプリントを活用したオンライン授業のスケジュールは、しながわ・目黒こどもスクールのウェブサイトでご確認ください。







# おうちで、やろう。

Study at home. 小学校受験の家庭学習教材

処理：計数①

上の四角の中の絵の数をかぞえて、下の四角の同じ絵の右にその数だけ〇をかきます。  
この問題はスピードを意識して取り組む練習をしてみましょう。(1分～1分30秒)



※1. このプリントは、しながわ・目黒こどもスクールのウェブサイトからダウンロードできます。無断複写・引用はご遠慮ください。  
※2. このプリントを活用したオンライン授業のスケジュールは、しながわ・目黒こどもスクールのウェブサイトでご確認ください。


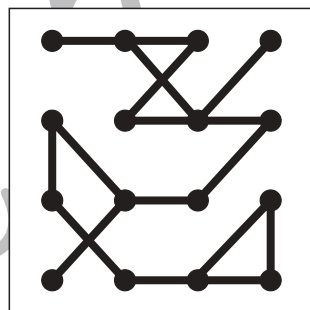

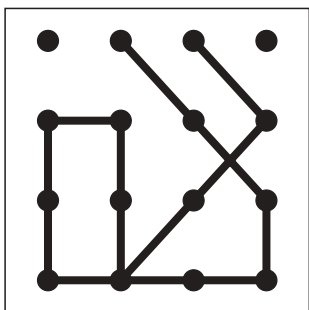

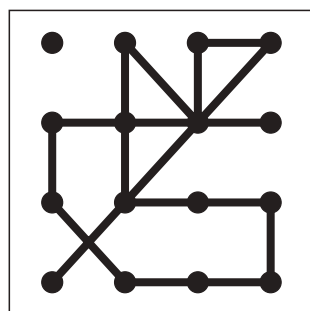

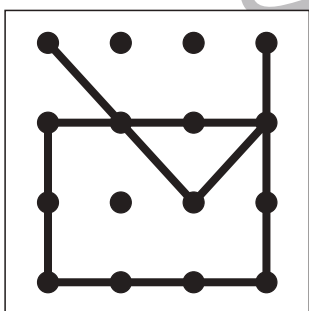

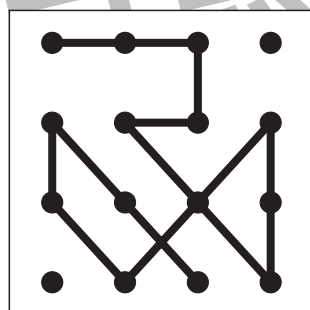

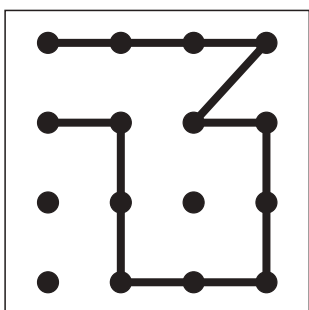

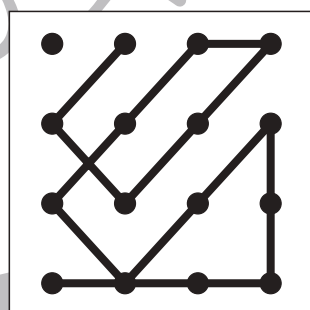

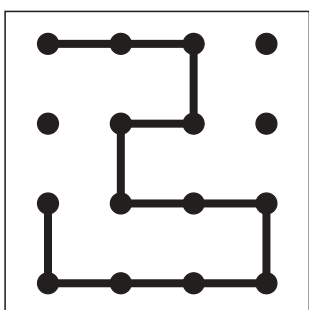

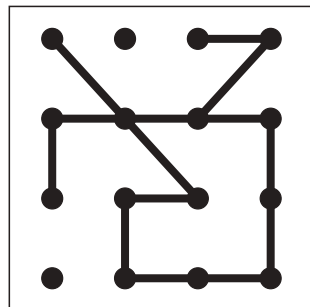

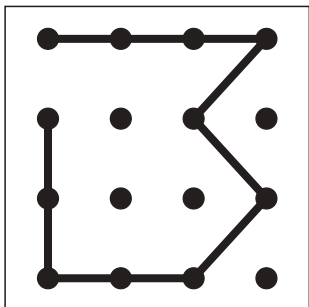


# おうちで、やろう。

Study at home. 小学校受験の家庭学習教材

処理：模写⑥

左のお手本と同じになるように右の四角に線をかきます。点と点をしっかり結びきれいな線をかきましょう。  
この問題はスピードを意識して取り組む練習をしてみましょう。(2分～2分30秒)※この問題に答えはありません。



※1. このプリントは、しながわ・目黒こどもスクールのウェブサイトでダウンロードができます。無断複写・引用はご遠慮ください。  
※2. このプリントを活用したオンライン授業のスケジュールは、しながわ・目黒こどもスクールのウェブサイトでご確認ください。