



おうちで、やろう。

Study at home. 小学校受験の家庭学習教材

記憶：お話の記憶④

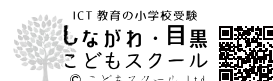
※別紙問題プリントは伏せてお話を読みます。手を膝の上に置いて、静かに聞きましょう。

※6月16日(火)のオンライン授業では、実施中にこのお話の録音音声聞いて問題に取り組みます。

今日はお父さんとお母さんとれみさんの3人で牧場にお出かけします。れみさんはお気に入りの水色のワンピースを着て赤い靴を履いて出かけます。お父さんが運転する黒色の車に乗ってみんなで歌をうたいながら向かいました。しばらくするとお花畑が見えてきました。れみさんより背の高いひまわりがたくさん咲いていました。お花畑を過ぎると、すぐに牧場に着きました。牧場に着くとれみさんはその広さにビックリしました。広い牧場には馬、牛、ヤギ、ウサギがいました。れみさんが牛の側に行くと5頭の牛が草を食べていました。近くには馬がいました。馬は牛の数より3頭多くいました。次にれみさんはウサギのところに行きました。ウサギの毛は柔らかくてふわふわです。その次は牛の乳しぼりの体験をしました。れみさんは乳しぼりをとても楽しみにしていました。飼育係のお兄さんがやってきて搾り方を教わりながらやってみました。するとお兄さんが「この乳はみんながよく飲んでいる牛乳なんだよ。しぼった乳をきれいに殺菌してスーパーやお店で売っているんだよ。そしてこの牛乳からはバター、ヨーグルト、チーズができるんだ。だかられみさんたちがたくさん飲んだり、食べたりして大きくなると牛さんも喜んでくれるね。」と話してくれました。お昼の時間になったのでれみさんはお母さんが作ってくれたお弁当を食べました。れみさんの好きな卵焼きとウィンナーが入っています。そこへ「ソフトクリームいかがですか。」と大きな声で牧場のお姉さんが歩いてきました。れみさんはお母さんとソフトクリームを買いにお姉さんの所へ行くと「このソフトクリームはこの牧場の牛さんからとれた牛乳で作ったのよ。」と教えてくれました。れみさんはとても不思議な気持ちになりましたが、一口食べるとおいしくて笑顔になりました。お昼ごはんの後は広い野原でバドミントンをしたり、セミを捕まえて遊びました。帰りの車ではれみさんは眠ってしまいました。れみさんは夢の中で牛さんありがとうと何度も言いました。

- ① れみさんがお出かけした場所に○をつけます
- ② れみさんが着たお洋服の色で□の中を塗ります。
- ③ お父さんが運転した車の色で○の中を塗ります。
- ④ 牧場にいた動物に○をつけます。
- ⑤ 牧場にいた馬の数だけ○をかきます。
- ⑥ 牛乳から出来るものを選んで○をつけます。
- ⑦ 野原で遊んだものに○をつけます。
- ⑧ 捕まえた虫に○をつけます。
- ⑨ このお話と同じ季節に○をつけます。

※1. このプリントは、しながわ・目黒こどもスクールのウェブサイトからダウンロードができます。無断複写・引用はご遠慮ください。
※2. このプリントを活用したオンライン授業のスケジュールは、しながわ・目黒こどもスクールのウェブサイトでご確認ください。





おうちで、やろう。

Study at home. 小学校受験の家庭学習教材

記憶：お話の記憶④

別紙【記憶 - お話の記憶④(本文)】を使用します。

問題用紙を裏返しにして、お家の方にお話の本文を読んでもらってから、①～⑨までの問題に取り組みましょう。

①

②

③

④

⑤

⑥

⑦

⑧

⑨

※1. このプリントは、しながわ・目黒こどもスクールのウェブサイトからダウンロードできます。無断複写・引用はご遠慮ください。

※2. このプリントを活用したオンライン授業のスケジュールは、しながわ・目黒こどもスクールのウェブサイトでご確認ください。



おうちで、やろう。

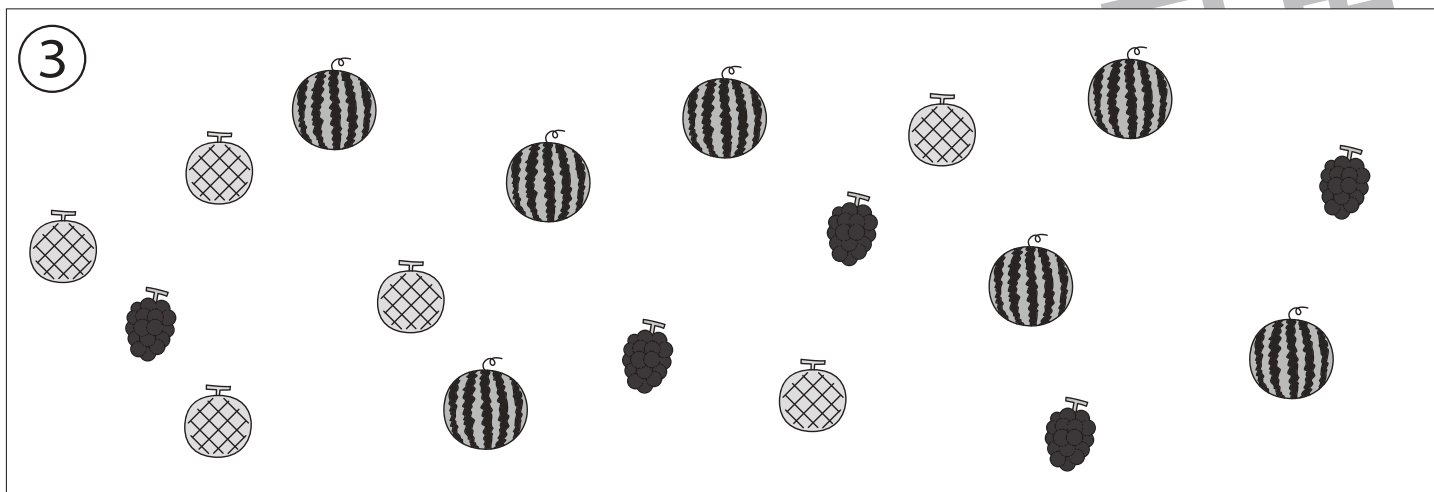


Study at home. 小学校受験の家庭学習教材

記憶：絵の記憶⑥ 記憶用紙

別紙『記憶 - 絵の記憶⑥』を行う際に使用します。記憶用紙は点線で折って(切って)、①、②、③の問題の際にそれぞれ 20 秒間ずつ記憶させてください。記憶する際は問題用紙は裏返しにします。記憶後①、②、③それぞれの問題に答えましょう。

①：みかんの数だけ〇をかきます。 ②：リンゴの数だけ〇をかきます。 ③：メロンの数だけ〇をかきます。

※6月16日(火)のオンライン授業では実施中に記憶する絵を画面で表示します。



※1. このプリントは、しながわ・目黒こどもスクールのウェブサイトでダウンロードができます。無断複写・引用はご遠慮ください。

※2. このプリントを活用したオンライン授業のスケジュールは、しながわ・目黒こどもスクールのウェブサイトでご確認ください。



おうちで、やろう。

Study at home. 小学校受験の家庭学習教材

記憶：絵の記憶⑥

別紙『記憶 - 絵の記憶⑥記憶用紙』を使用します。記憶用紙の絵を見た後に①、②、③の問題に取り組みましょう。
この問題に答えはありません。記憶用紙⑥で確認してください。

①

②

③



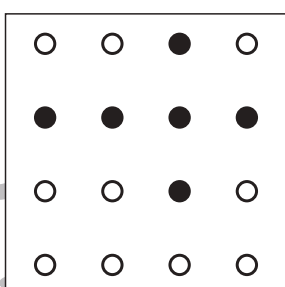





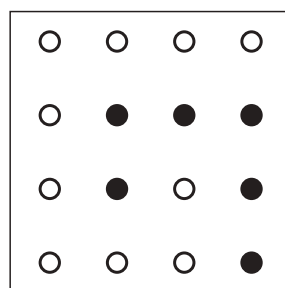


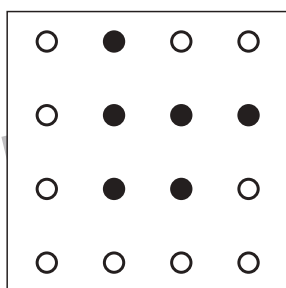






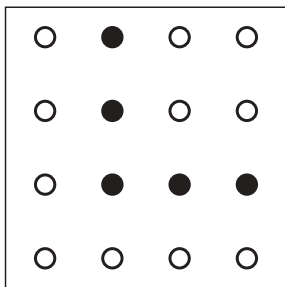
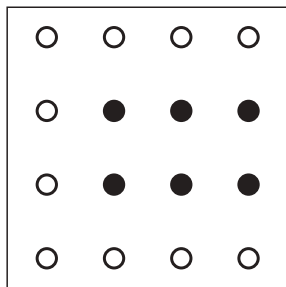


おうちで、やろう。

Study at home. 小学校受験の家庭学習教材

処理：模写⑧

それぞれの四角の中には黒丸と白丸があります。全ての黒丸を1つの四角や丸で囲みます。
この問題はスピードを意識して取り組む練習をしてみましょう。(2分～2分30秒)※この問題に答えはありません。



※1. このプリントは、しながわ・目黒こどもスクールのウェブサイトでダウンロードができます。無断複写・引用はご遠慮ください。
※2. このプリントを活用したオンライン授業のスケジュールは、しながわ・目黒こどもスクールのウェブサイトでご確認ください。

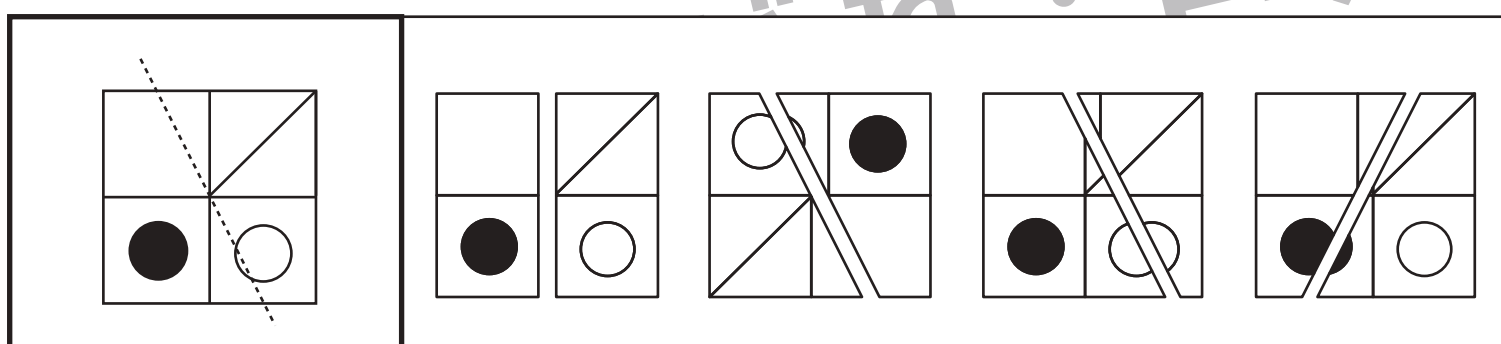
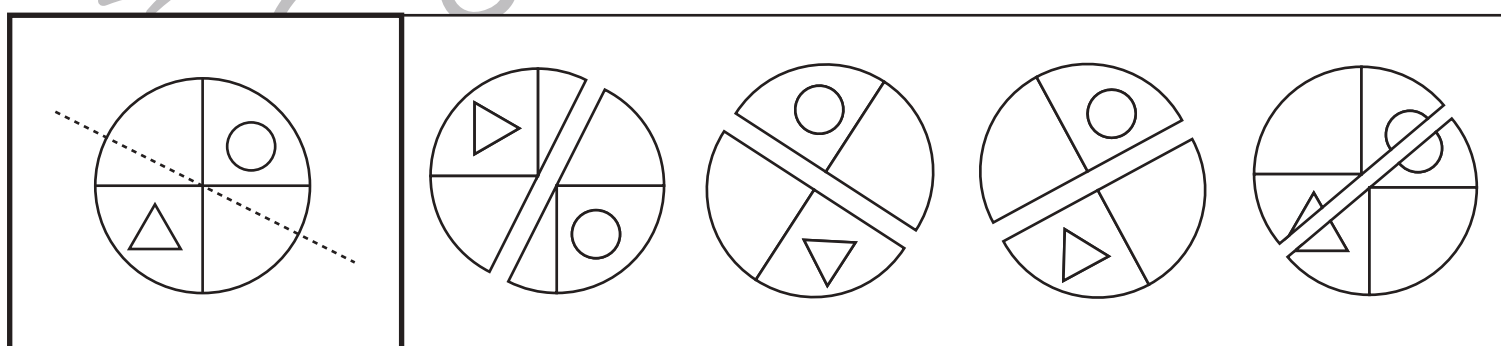
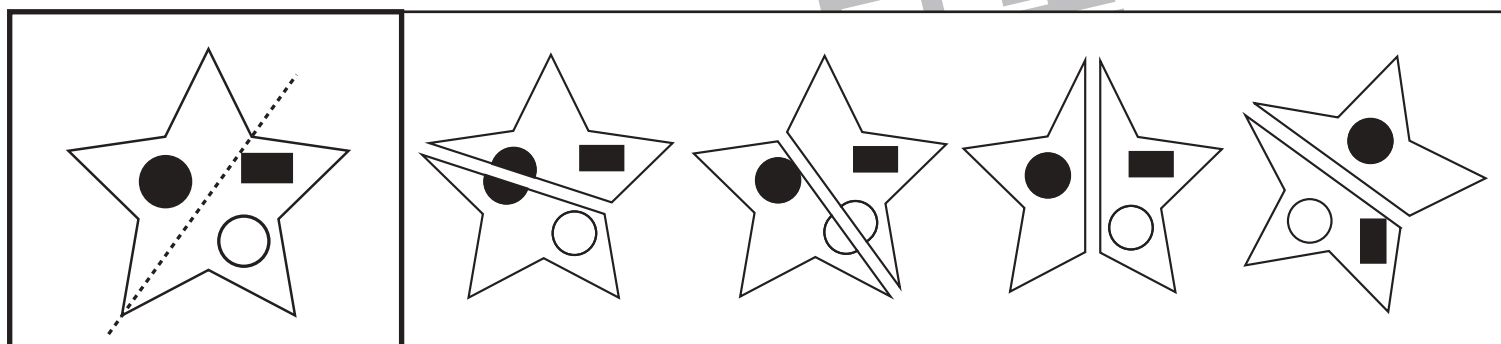
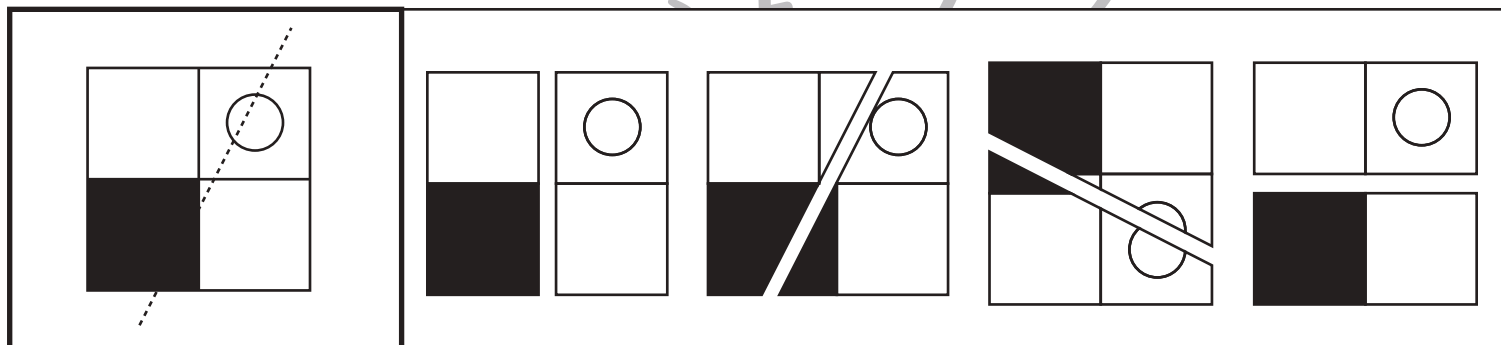
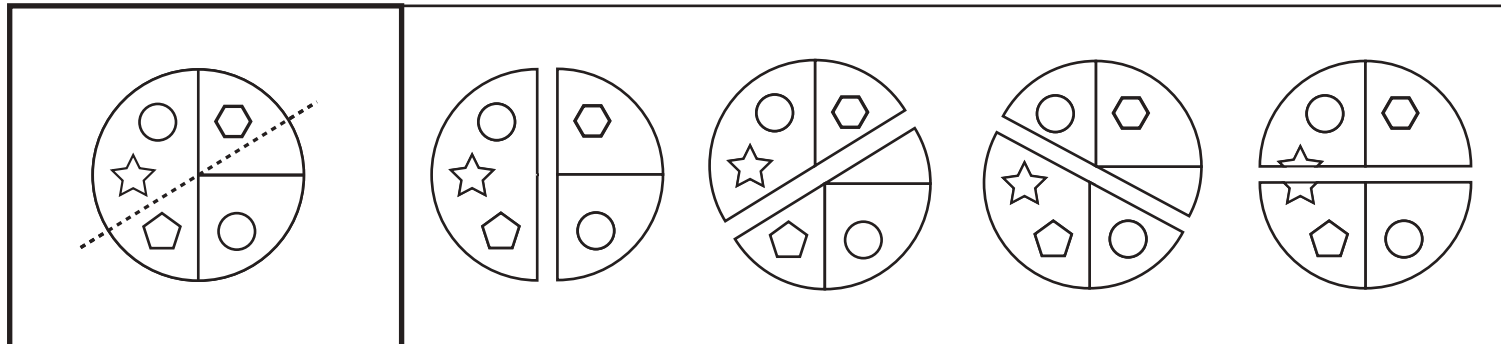


おうちで、やろう。

Study at home. 小学校受験の家庭学習教材

図形：構成⑬

左の太い四角の中の形を点線で切り分けたときの見え方を考えます。正しいものを右の中から選んで○をつけます。答えは向きが変わっているものもありますのできをつけましょう。



※1. このプリントは、しながわ・目黒こどもスクールのウェブサイトでダウンロードができます。無断複写・引用はご遠慮ください。

※2. このプリントを活用したオンライン授業のスケジュールは、しながわ・目黒こどもスクールのウェブサイトでご確認ください。

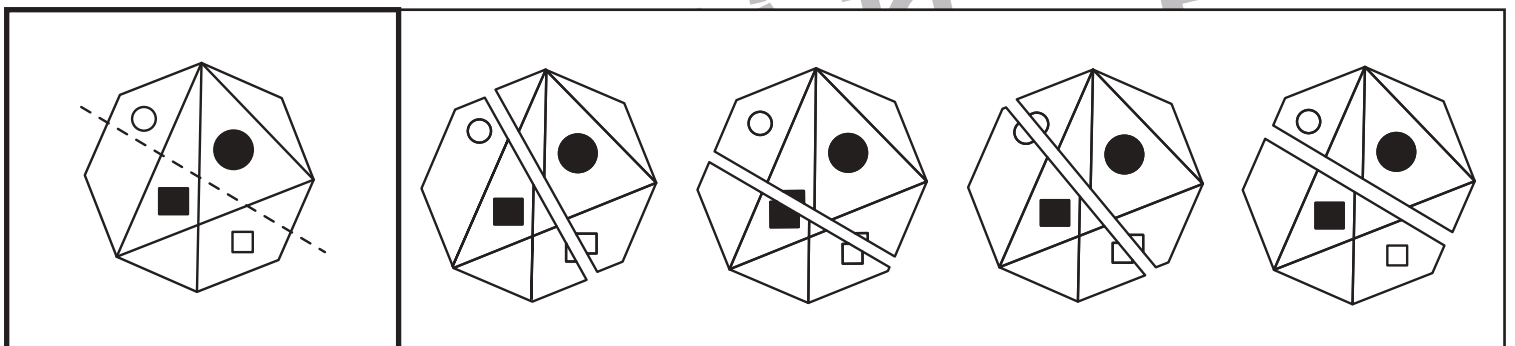
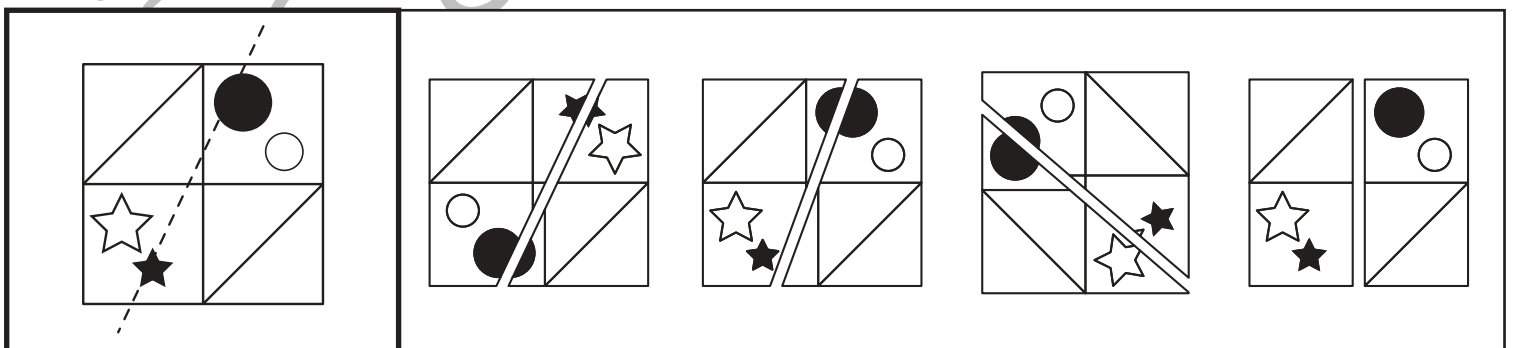
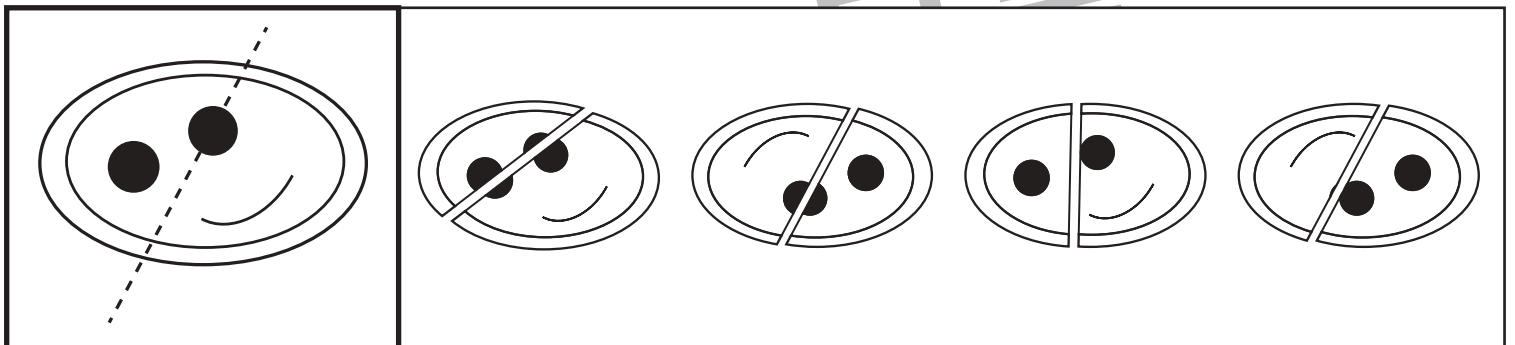
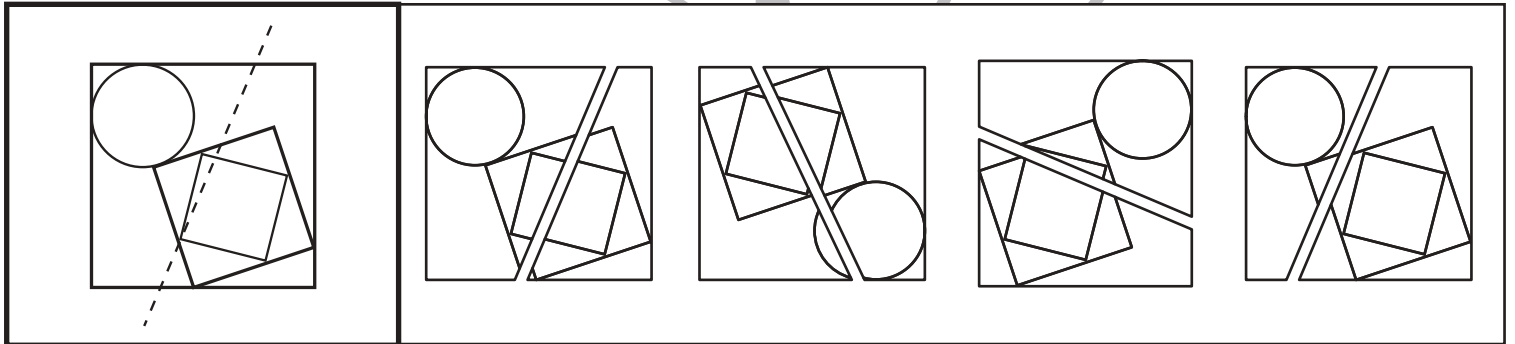
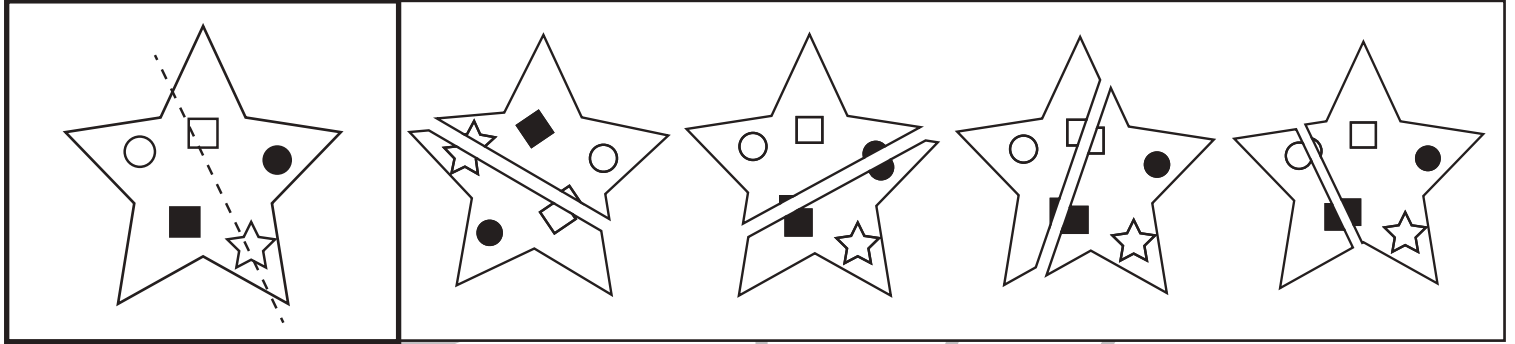


おうちで、やろう。

Study at home. 小学校受験の家庭学習教材

図形：構成⑳

左の太い四角の中の形を点線で切り分けたときの見え方を考えます。正しいものを右の中から選んで○をつけます。答えは向きが変わっているものもありますのできをつけましょう。



※1. このプリントは、しながわ・目黒こどもスクールのウェブサイトダウンロードができます。無断複写・引用はご遠慮ください。

※2. このプリントを活用したオンライン授業のスケジュールは、しながわ・目黒こどもスクールのウェブサイトでご確認ください。













おうちで、やろう。

Study at home. 小学校受験の家庭学習教材

推理：シルエット②

左の太い四角には影になった動物たちがいます。右の四角の中から左の四角の中にいない動物を見つけて×をつけます。



※1. このプリントは、しながわ・目黒こどもスクールのウェブサイトからダウンロードできます。無断複写・引用はご遠慮ください。
※2. このプリントを活用したオンライン授業のスケジュールは、しながわ・目黒こどもスクールのウェブサイトでご確認ください。



おうちで、やろう。

Study at home. 小学校受験の家庭学習教材

推理：シルエット③

左の太い四角には影になった動物たちがいます。右の四角の中から左の四角の中にいない動物を見つけて×をつけます。

※1. このプリントは、しながわ・目黒こどもスクールのウェブサイトからダウンロードできます。無断複写・引用はご遠慮ください。

※2. このプリントを活用したオンライン授業のスケジュールは、しながわ・目黒こどもスクールのウェブサイトでご確認ください。



おうちで、やろう。

Study at home. 小学校受験の家庭学習教材

推理：シルエット④

左の太い四角の中は影になった絵です。右の四角の中から左の四角の中にある影を見つけて × をつけます。

※1. このプリントは、しながわ・目黒こどもスクールのウェブサイトからダウンロードできます。無断複写・引用はご遠慮ください。

※2. このプリントを活用したオンライン授業のスケジュールは、しながわ・目黒こどもスクールのウェブサイトでご確認ください。







おうちで、やろう。

Study at home. 小学校受験の家庭学習教材

推理：シルエット⑤

左の太い四角の中は影になった絵です。右の四角の中から左の四角の中にある影を見つけて × をつけます。



※1. このプリントは、しながわ・目黒こどもスクールのウェブサイトでダウンロードができます。無断複写・引用はご遠慮ください。

※2. このプリントを活用したオンライン授業のスケジュールは、しながわ・目黒こどもスクールのウェブサイトでご確認ください。

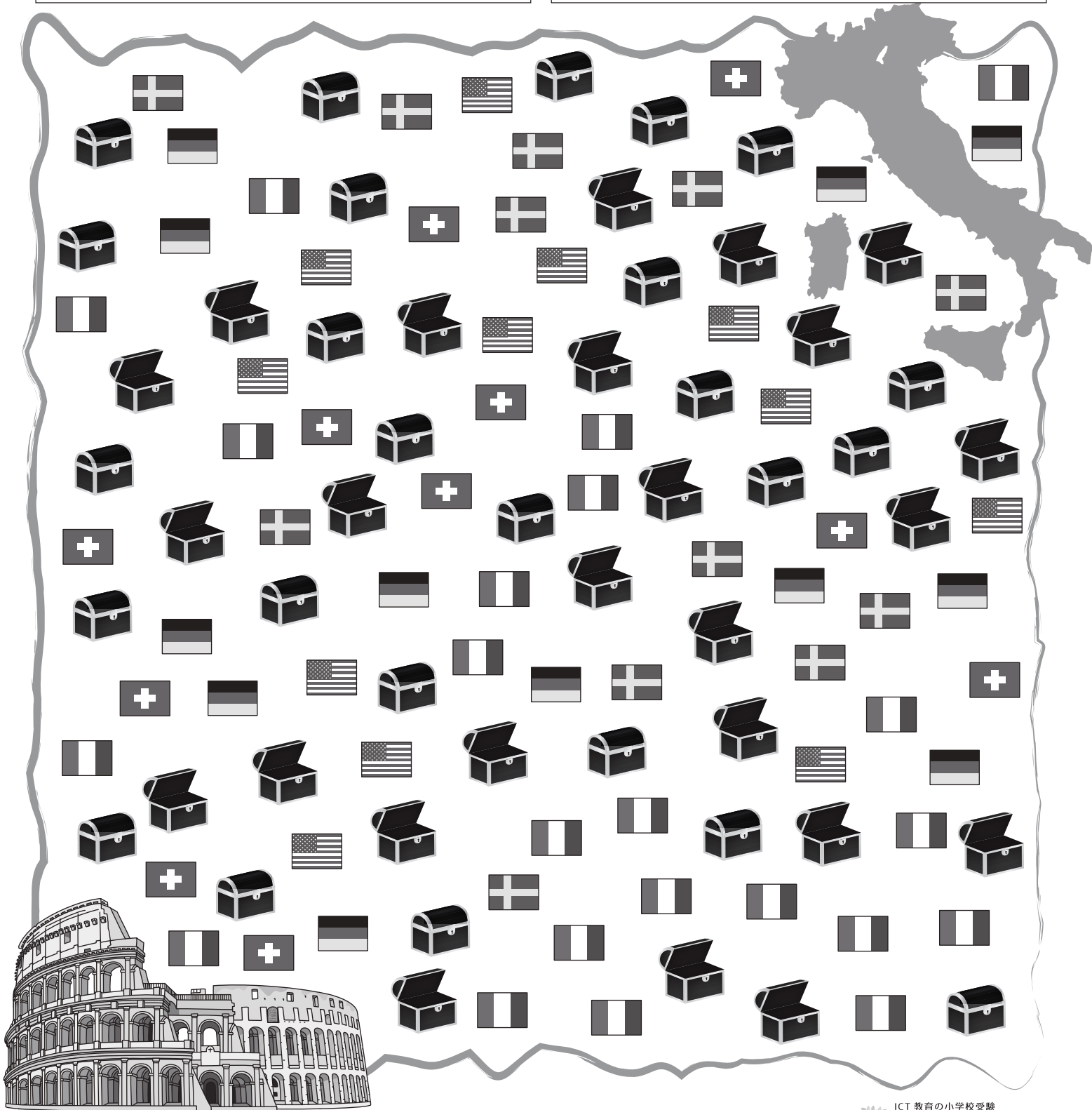



おうちで、やろう。

Study at home. 小学校受験の家庭学習教材

推理：たからさがし⑭

あなたは宝島にやってきました。宝箱と宝箱の鍵をたくさん見つけにいきます。下の地図の中からお手本にある「宝箱」「イタリアの旗」、どこかに1つだけある「石板」を見つけて○をつけましょう。「もう空いている宝箱」と「他の国の旗」はハズレですから、何も印はつけません。宝探しの時間はたったの1分です。それまでに、できるだけ多くの「宝箱」「イタリアの旗」「石板」を見つけてみましょう。



※1. このプリントは、しながわ・目黒こどもスクールのウェブサイトからダウンロードできます。無断複写・引用はご遠慮ください。
※2. このプリントを活用したオンライン授業のスケジュールは、しながわ・目黒こどもスクールのウェブサイトでご確認ください。