



おうちで、やろう。

Study at home. 小学校受験の家庭学習教材


記憶：お話の記憶④




別紙【記憶 - お話の記憶④(本文)】を使用します。

問題用紙を裏返しにして、お家の方にお話の本文を読んでもらってから、①～⑨までの問題に取り組みましょう。






①    




② 



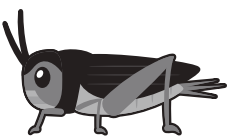


③ 

④      

⑤ 

⑥     

⑦    

⑧     

⑨    

※1. このプリントは、しながわ・目黒こどもスクールのウェブサイトからダウンロードできます。無断複写・引用はご遠慮ください。

※2. このプリントを活用したオンライン授業のスケジュールは、しながわ・目黒こどもスクールのウェブサイトでご確認ください。

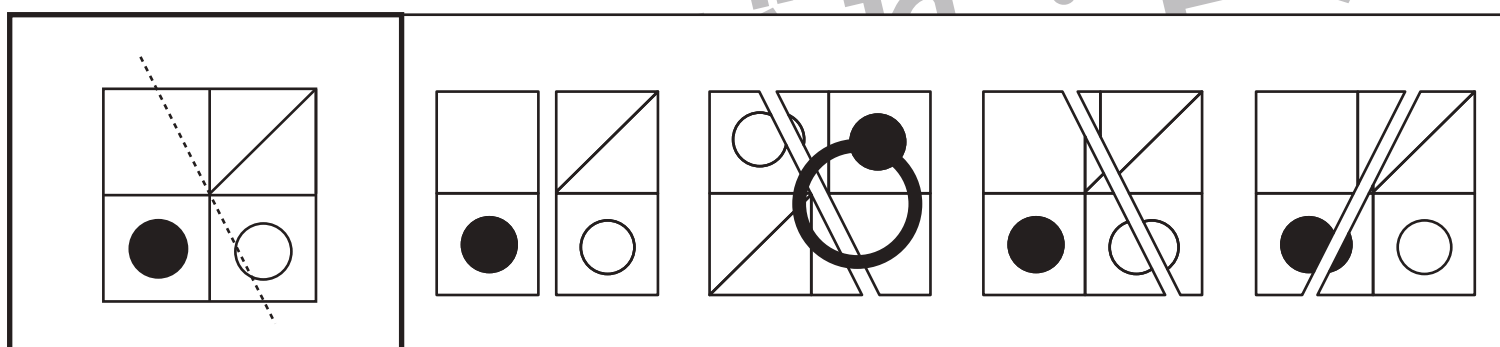

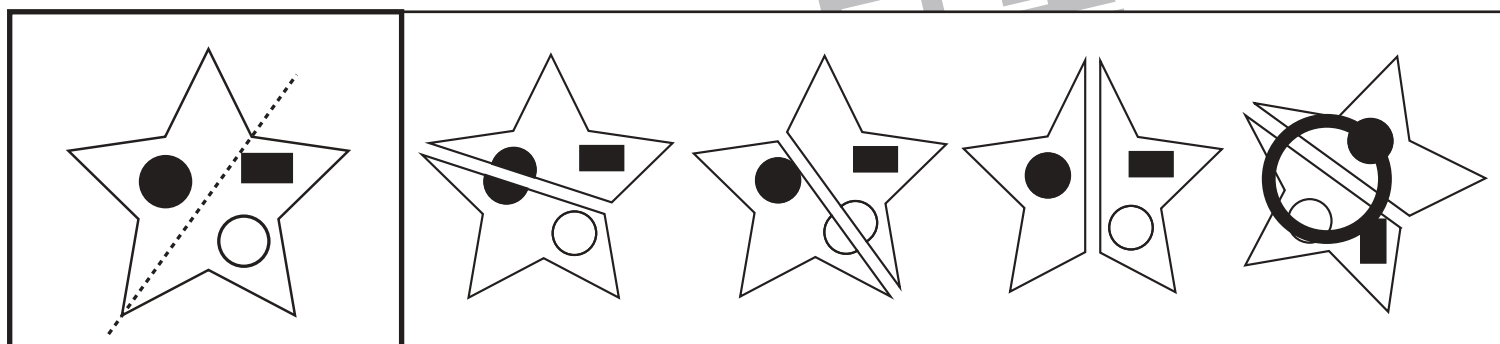
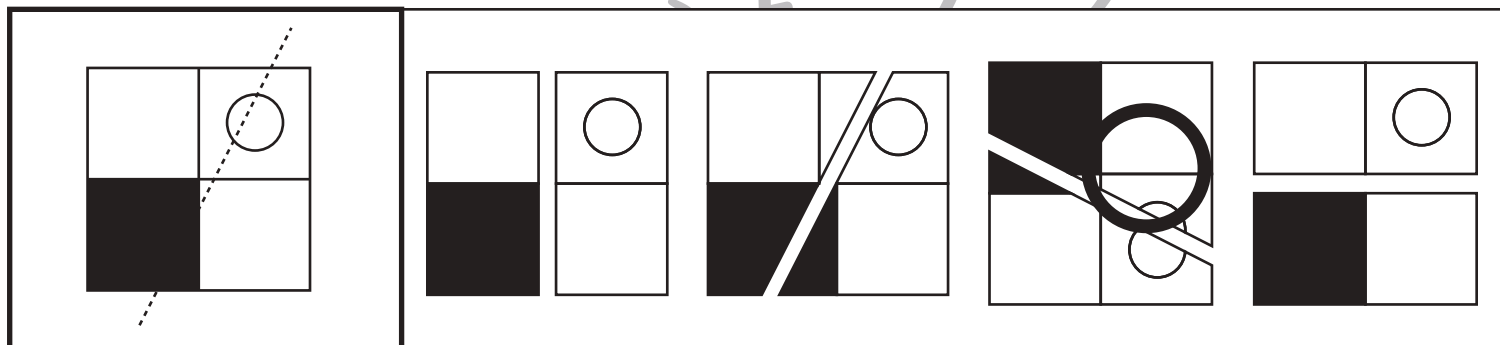
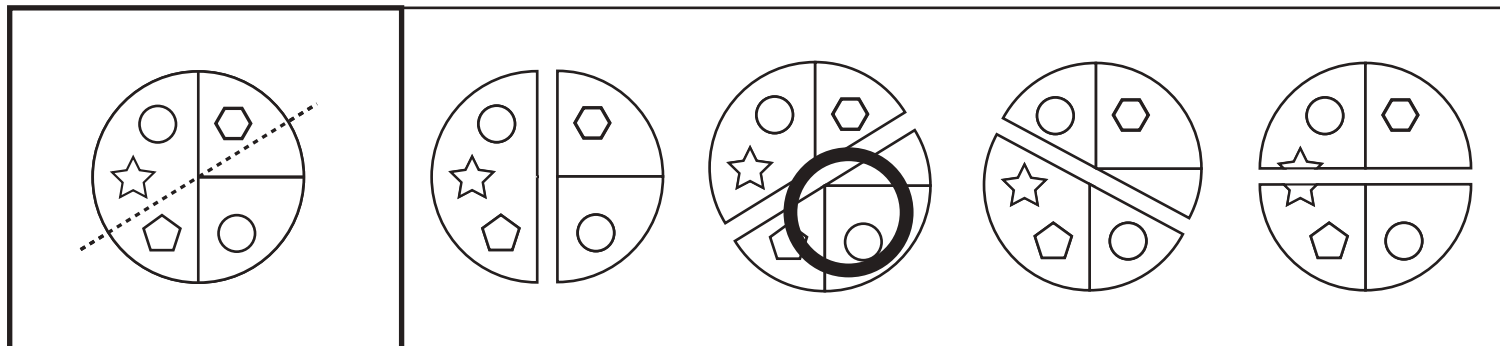


おうちで、やろう。

Study at home. 小学校受験の家庭学習教材

図形：構成⑬

左の太い四角の中の形を点線で切り分けたときの見え方を考えます。正しいものを右の中から選んで○をつけます。答えは向きが変わっているものもありますのできをつけましょう。



※1. このプリントは、しながわ・目黒こどもスクールのウェブサイトでダウンロードができます。無断複写・引用はご遠慮ください。

※2. このプリントを活用したオンライン授業のスケジュールは、しながわ・目黒こどもスクールのウェブサイトでご確認ください。

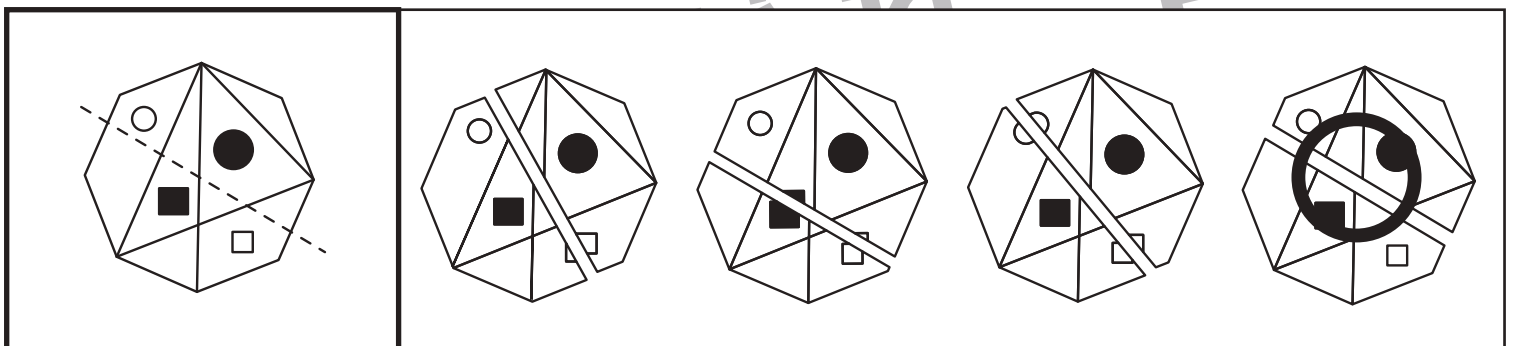

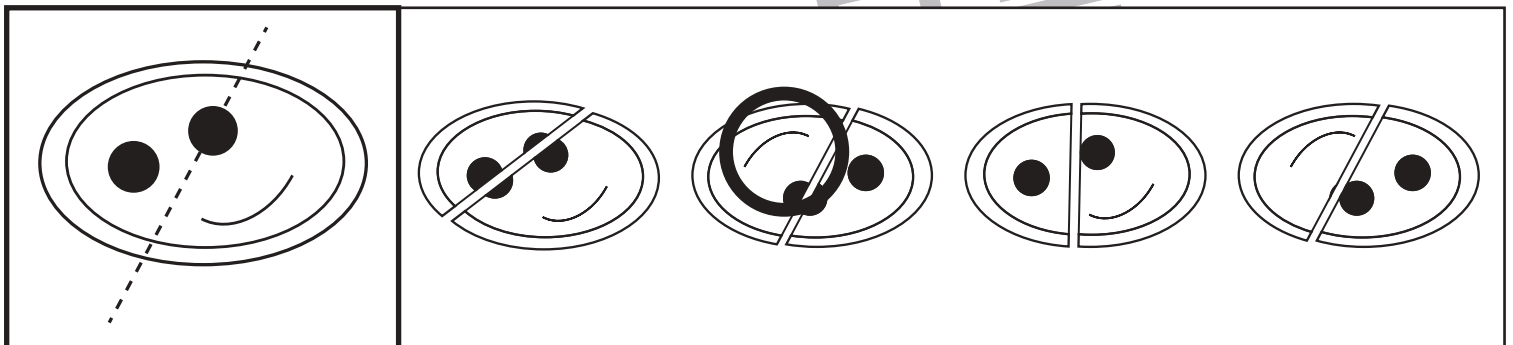
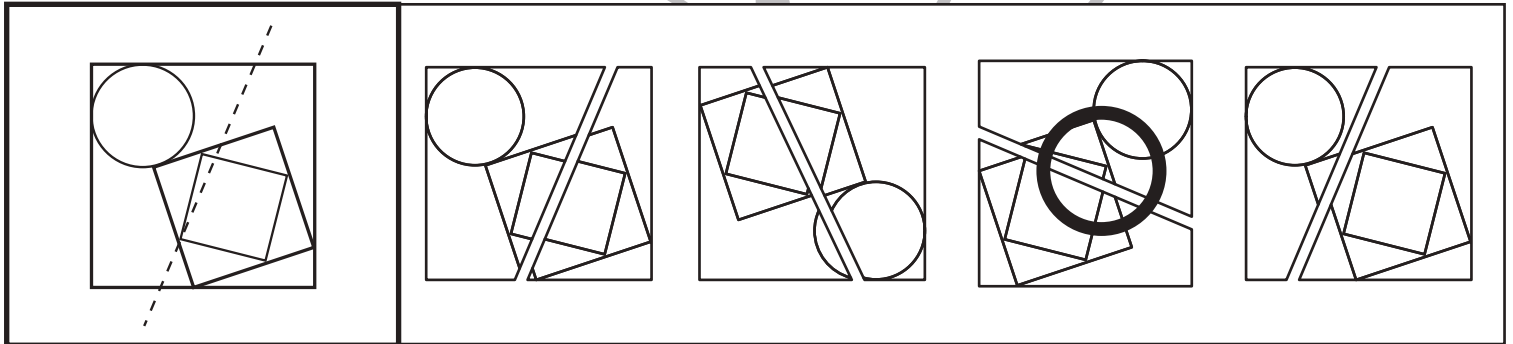
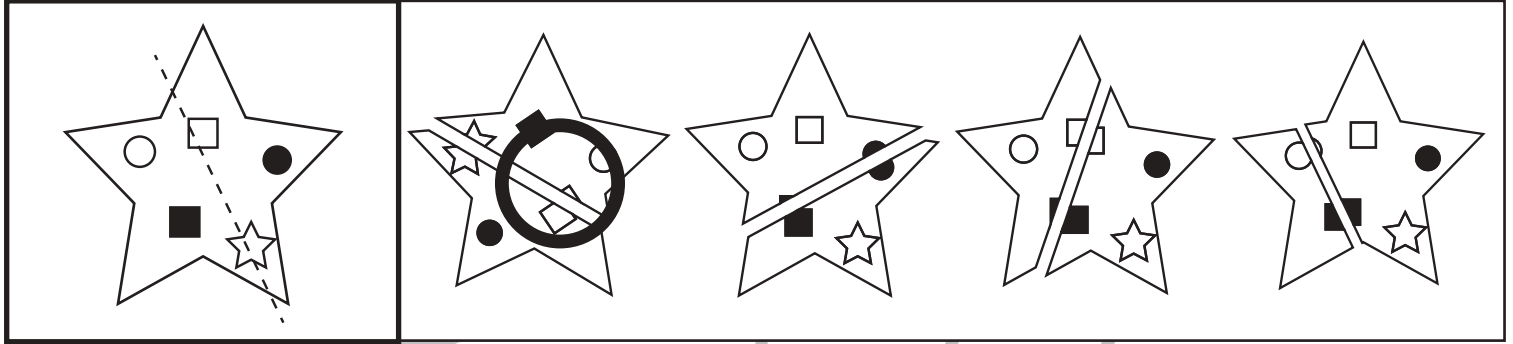


おうちで、やろう。

Study at home. 小学校受験の家庭学習教材

図形：構成⑳

左の太い四角の中の形を点線で切り分けたときの見え方を考えます。正しいものを右の中から選んで○をつけます。答えは向きが変わっているものもありますのできをつけましょう。



※1. このプリントは、しながわ・目黒こどもスクールのウェブサイトでダウンロードができます。無断複写・引用はご遠慮ください。

※2. このプリントを活用したオンライン授業のスケジュールは、しながわ・目黒こどもスクールのウェブサイトでご確認ください。



おうちで、やろう。

Study at home. 小学校受験の家庭学習教材

推理：シルエット②

左の太い四角には影になった動物たちがいます。右の四角の中から左の四角の中にいない動物を見つけて×をつけます。

※1. このプリントは、しながわ・目黒こどもスクールのウェブサイトでダウンロードができます。無断複写・引用はご遠慮ください。

※2. このプリントを活用したオンライン授業のスケジュールは、しながわ・目黒こどもスクールのウェブサイトでご確認ください。



おうちで、やろう。

Study at home. 小学校受験の家庭学習教材

推理：シルエット③

左の太い四角には影になった動物たちがいます。右の四角の中から左の四角の中にいない動物を見つけて×をつけます。

※1. このプリントは、しながわ・目黒こどもスクールのウェブサイトからダウンロードできます。無断複写・引用はご遠慮ください。

※2. このプリントを活用したオンライン授業のスケジュールは、しながわ・目黒こどもスクールのウェブサイトでご確認ください。



おうちで、やろう。

Study at home. 小学校受験の家庭学習教材

推理：シルエット④

左の太い四角の中は影になった絵です。右の四角の中から左の四角の中にある影を見つけて × をつけます。

※1. このプリントは、しながわ・目黒こどもスクールのウェブサイトでダウンロードができます。無断複写・引用はご遠慮ください。

※2. このプリントを活用したオンライン授業のスケジュールは、しながわ・目黒こどもスクールのウェブサイトでご確認ください。








おうちで、やろう。

Study at home. 小学校受験の家庭学習教材

推理：シルエット⑤

左の太い四角の中は影になった絵です。右の四角の中から左の四角の中にある影を見つけて × をつけます。



※1. このプリントは、しながわ・目黒こどもスクールのウェブサイトでダウンロードができます。無断複写・引用はご遠慮ください。
※2. このプリントを活用したオンライン授業のスケジュールは、しながわ・目黒こどもスクールのウェブサイトでご確認ください。