



# おうちで、やろう。


Study at home. 小学校受験の家庭学習教材

## 図形：三角パズル⑤-1

三角パズルを作ります。

下の四角の黒い線の上をはさみで切り、三角パズルを作ります。

別紙「図形：三角パズル⑤-2」の形を切ったパズルを使って作りましょう。



※1. このプリントは、しながわ・目黒こどもスクールのウェブサイトからダウンロードできます。無断複写・引用はご遠慮ください。

※2. このプリントを活用したオンライン授業のスケジュールは、しながわ・目黒こどもスクールのウェブサイトでご確認ください。

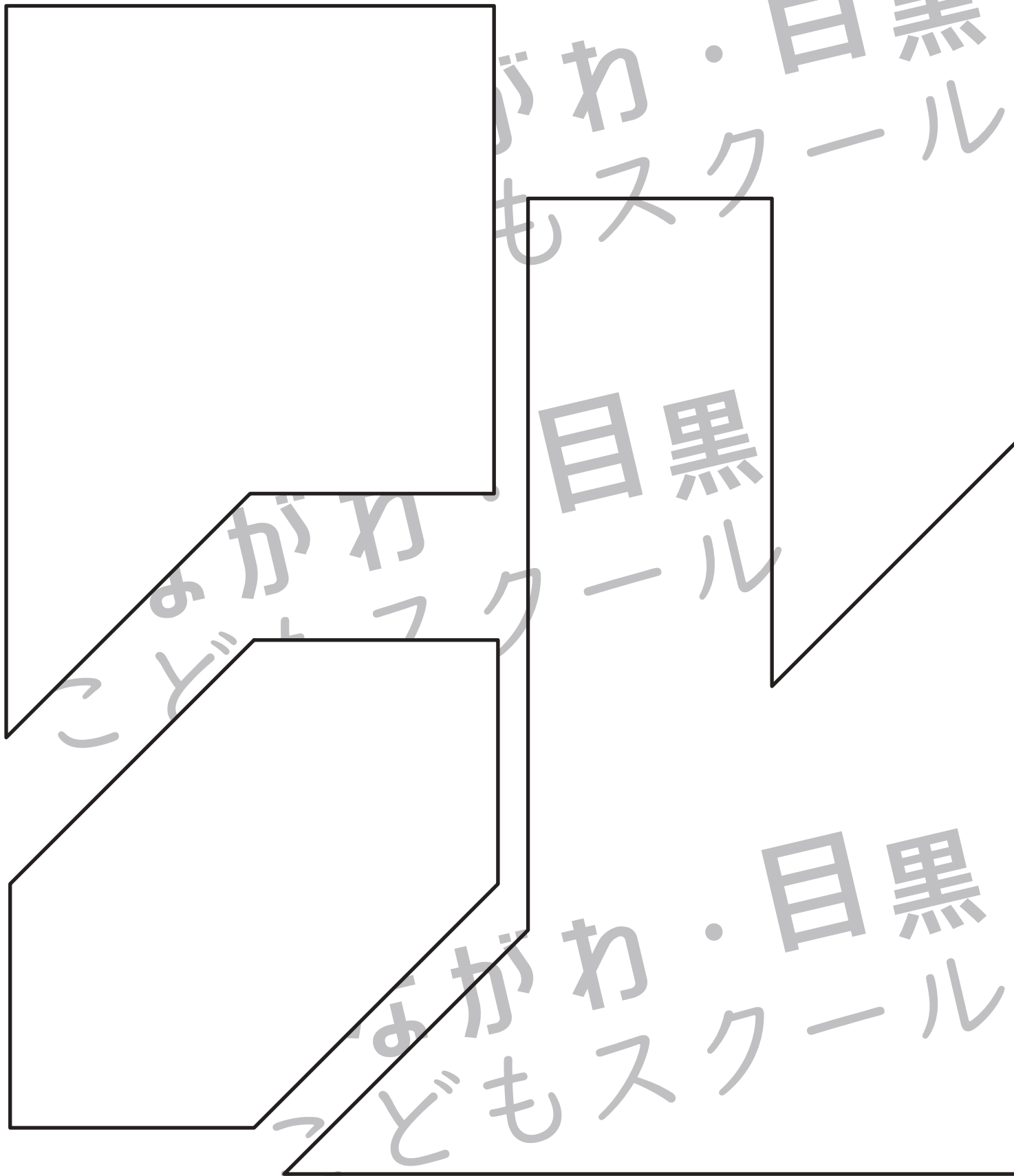


# おうちで、やろう。

Study at home. 小学校受験の家庭学習教材

図形：三角パズル⑤-2

※別紙「図形：三角パズル⑤-1」の三角パズルを用意してください。  
下の形を自分で作った三角パズルで作ります。形ができたらのりで貼り付けましょう。



※1. このプリントは、しながわ・目黒こどもスクールのウェブサイトでダウンロードができます。無断複写・引用はご遠慮ください。  
※2. このプリントを活用したオンライン授業のスケジュールは、しながわ・目黒こどもスクールのウェブサイトでご確認ください。

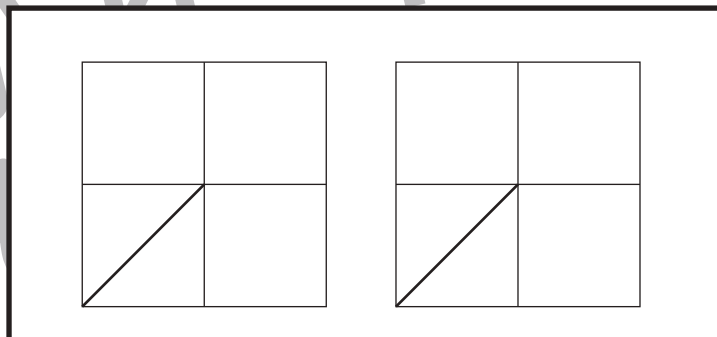
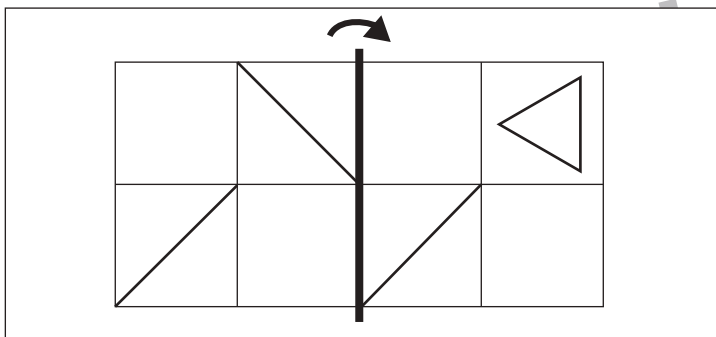
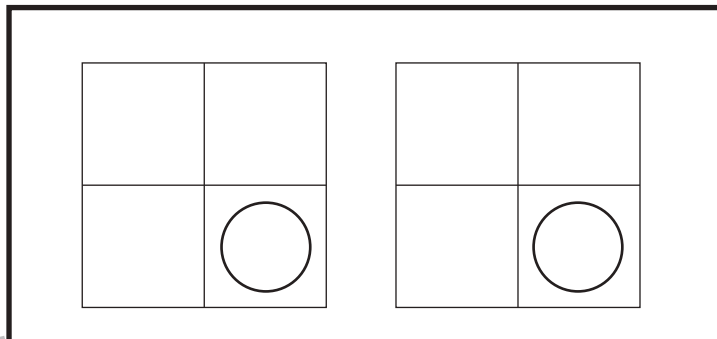
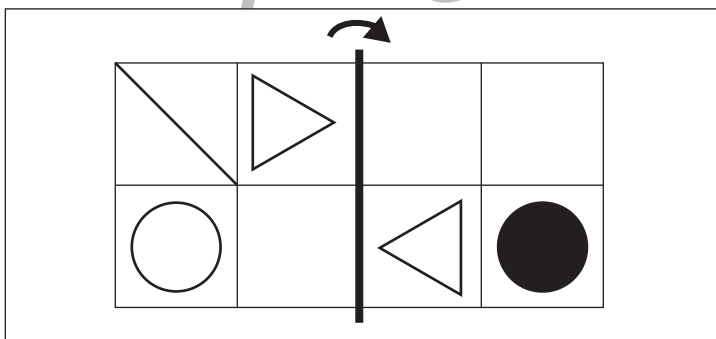
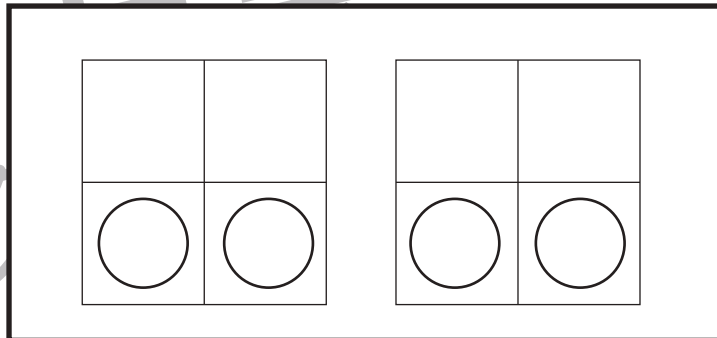
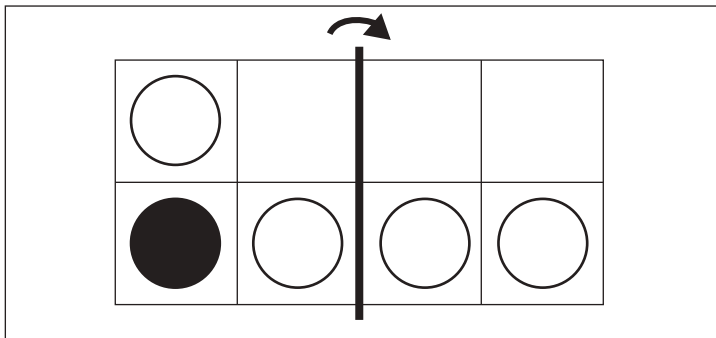
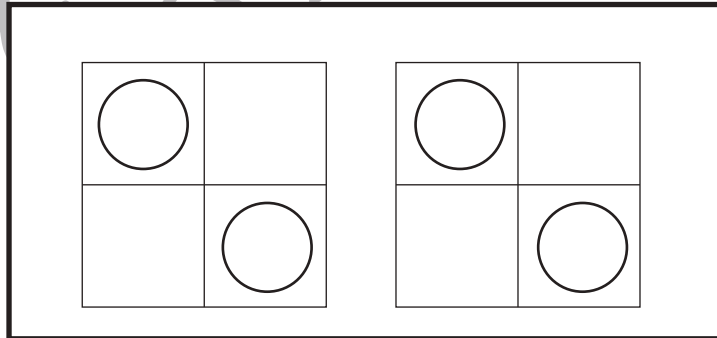
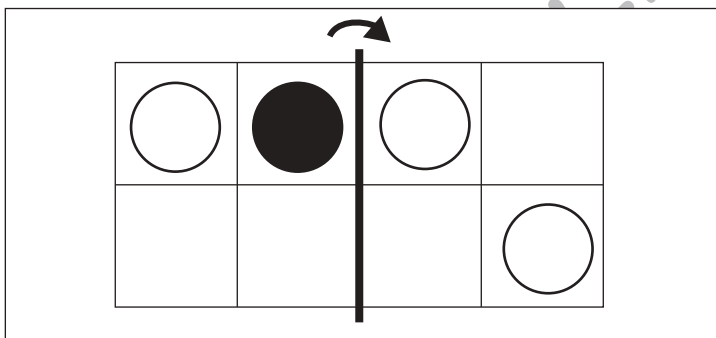
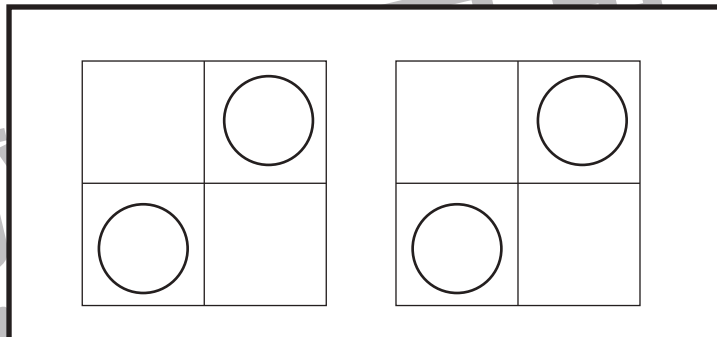
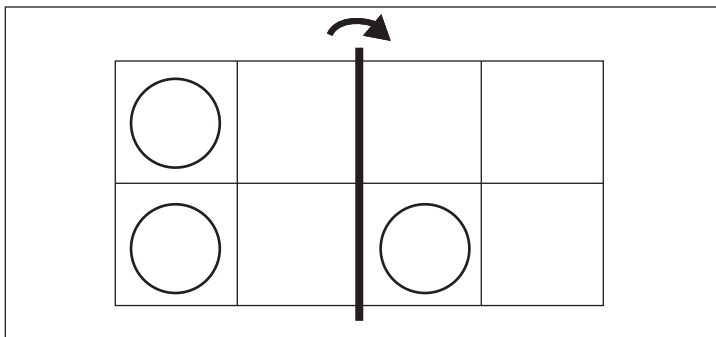


# おうちで、やろう。

Study at home. 小学校受験の家庭学習教材

## 図形：折り重ね⑬

左の四角の中の形は透明です。この形を真ん中の太い線で折り重ねたときの見え方が右の太い四角の中にあります。ただし、右の四角の中の見え方は間違っています。正しい見え方を考えて足りない記号をかきます。答えはまず、太い四角の右にかきます。もし、答えを間違えてしまった場合は、隣の四角に書き直します。2回間違えてしまうと答えをかくことができませんので気をつけましょう。



※1. このプリントは、しながわ・目黒こどもスクールのウェブサイトでダウンロードができます。無断複写・引用はご遠慮ください。

※2. このプリントを活用したオンライン授業のスケジュールは、しながわ・目黒こどもスクールのウェブサイトでご確認ください。

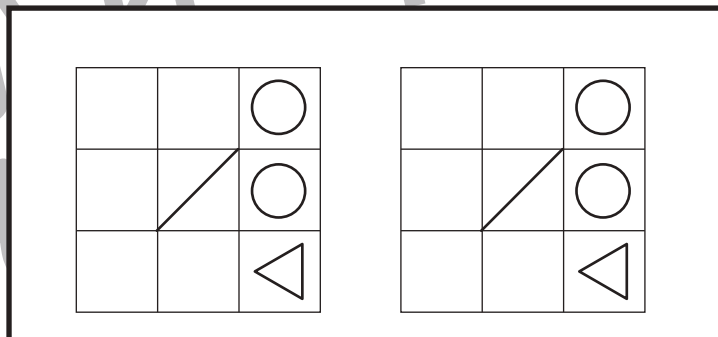
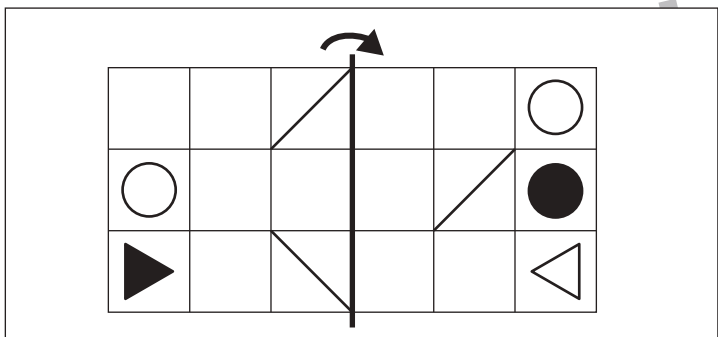
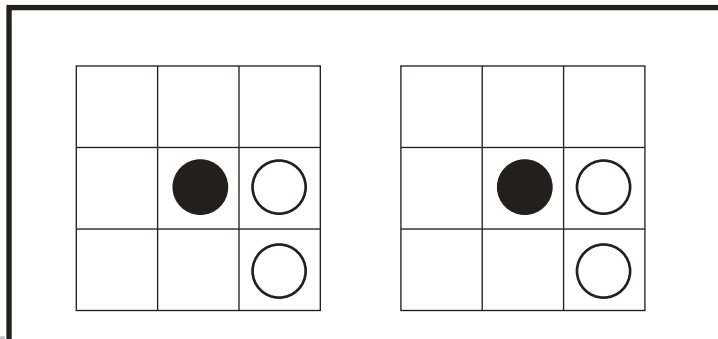
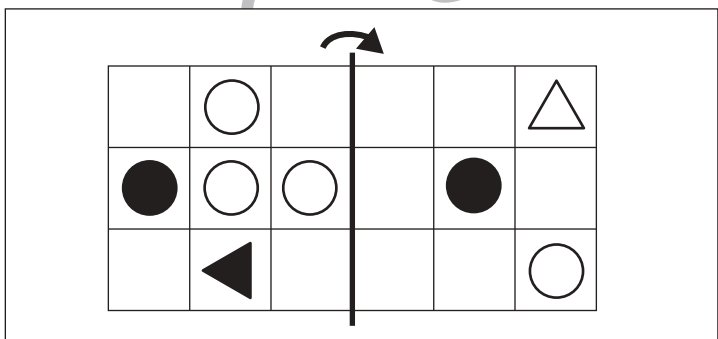
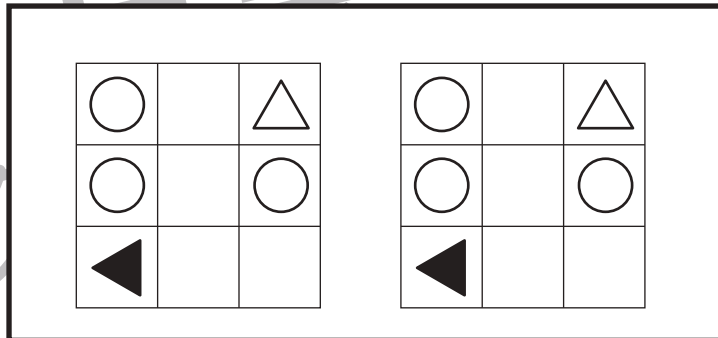
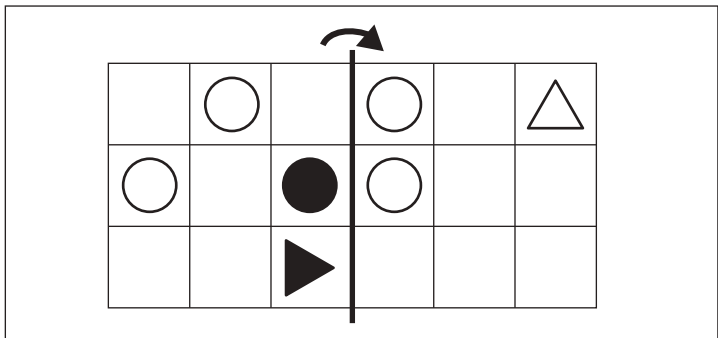
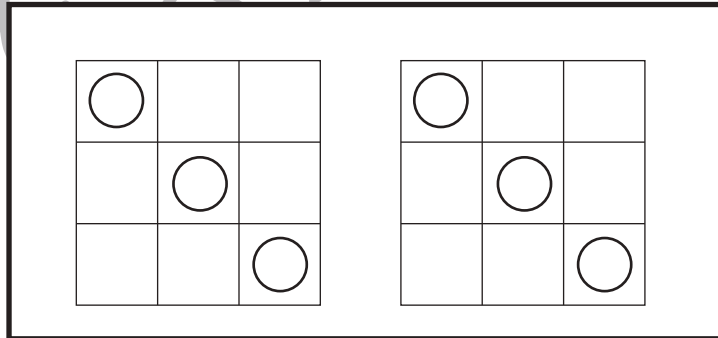
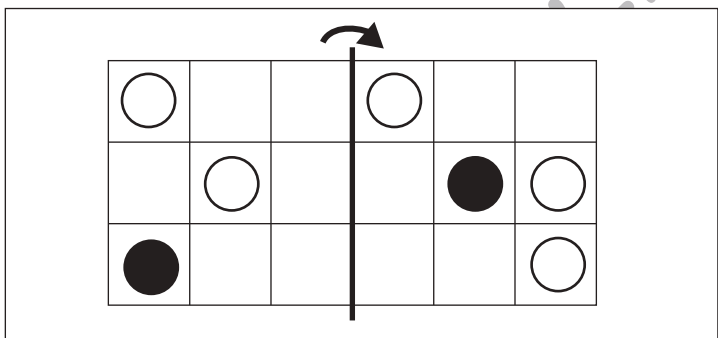
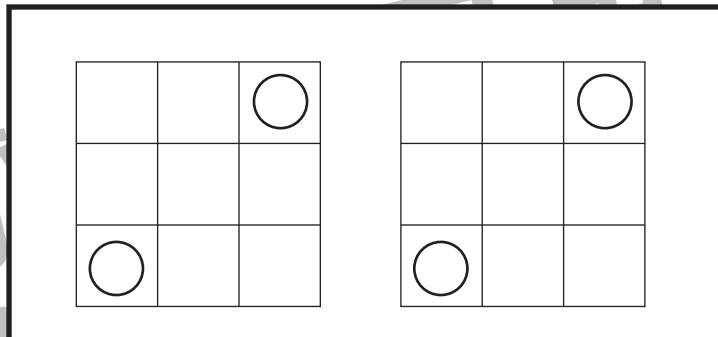
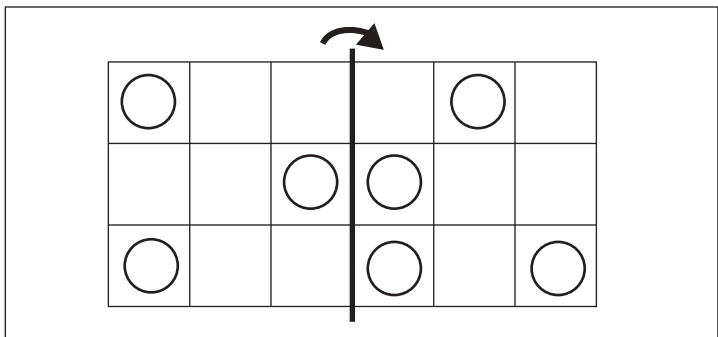


# おうちで、やろう。

Study at home. 小学校受験の家庭学習教材

## 図形：折り重ね⑭

左の四角の中の形は透明です。この形を真ん中の太い線で折り重ねたときの見え方が右の太い四角の中にあります。ただし、右の四角の中の見え方は間違っています。正しい見え方を考えて足りない記号をかきます。答えはまず、太い四角の右にかきます。もし、答えを間違えてしまった場合は、隣の四角に書き直します。2回間違えてしまうと答えをかくことができませんので気をつけましょう。



※1. このプリントは、しながわ・目黒こどもスクールのウェブサイトでダウンロードができます。無断複写・引用はご遠慮ください。

※2. このプリントを活用したオンライン授業のスケジュールは、しながわ・目黒こどもスクールのウェブサイトでご確認ください。



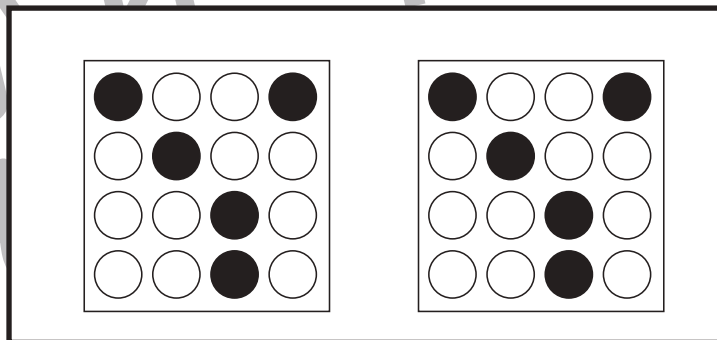
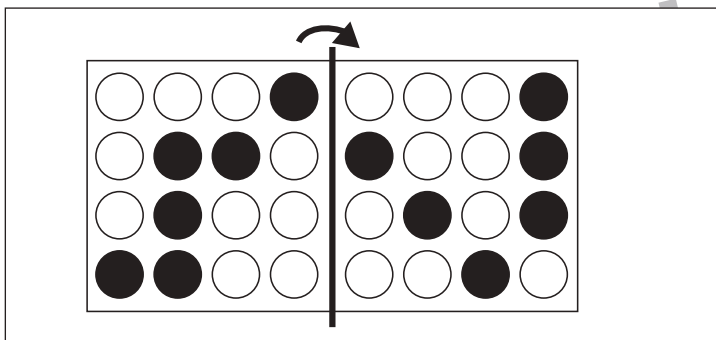
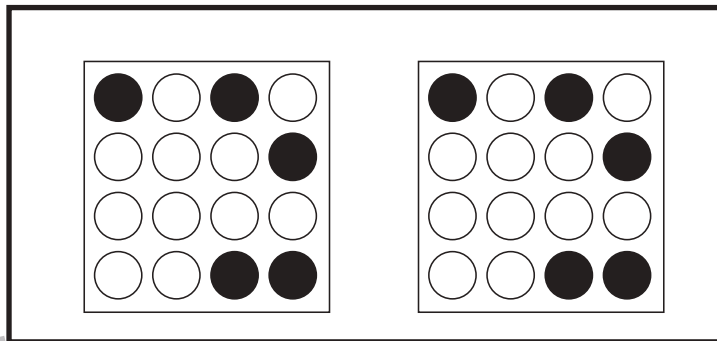
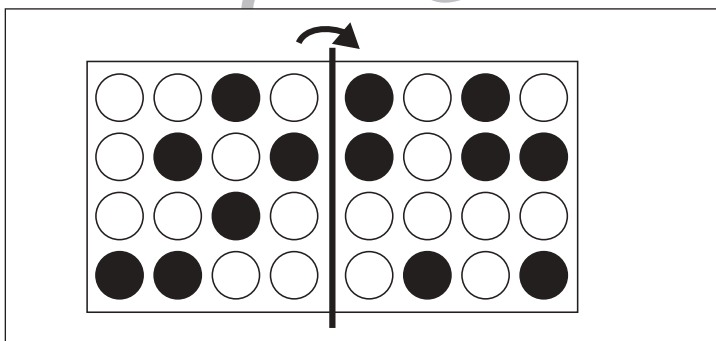
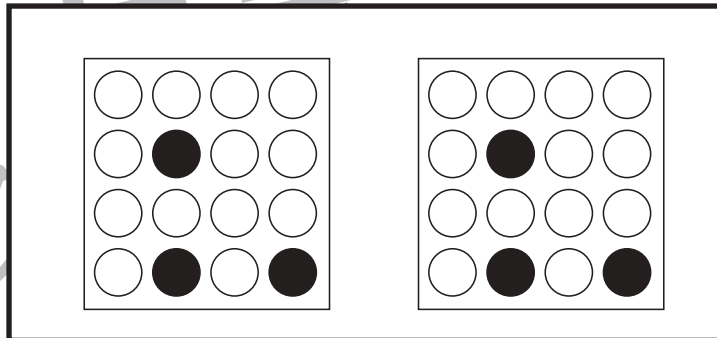
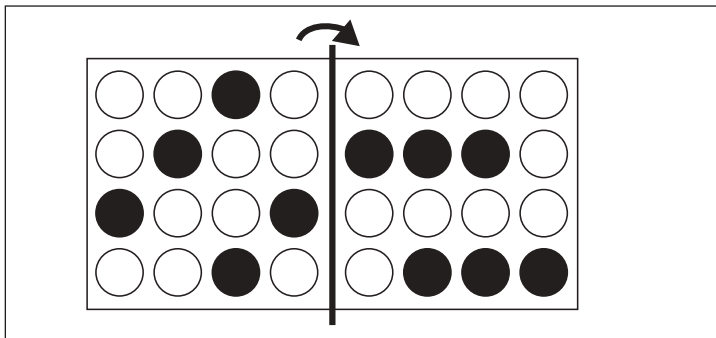
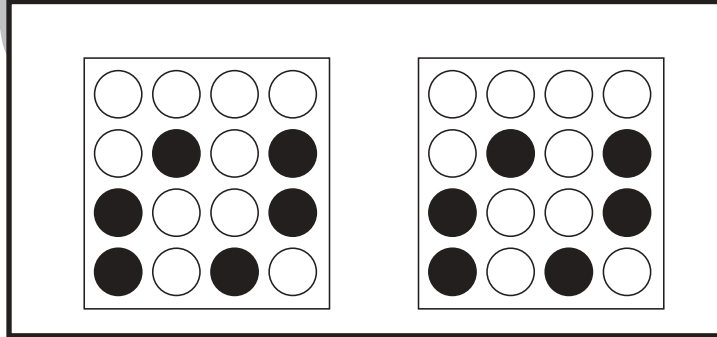
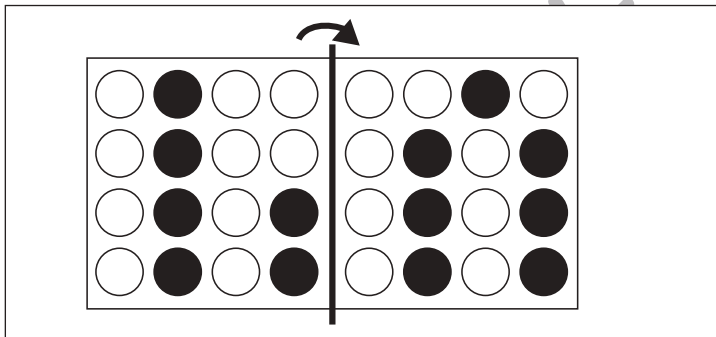

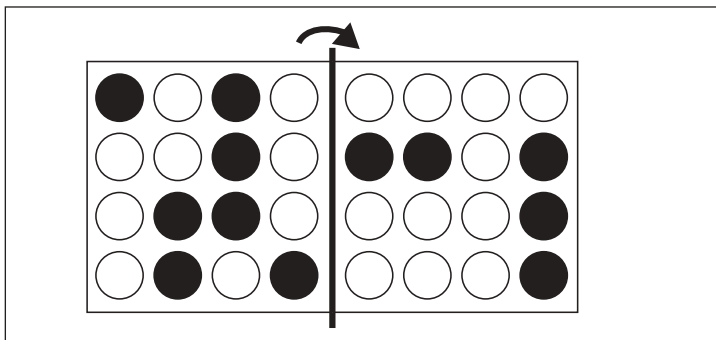


# おうちで、やろう。

Study at home. 小学校受験の家庭学習教材

## 図形：折り重ね⑭

左の四角の中の形は透明です。この形を真ん中の太い線で折り重ねたときの見え方が右の太い四角の中にあります。ただし、右の四角の中の見え方は間違っています。正しい見え方を考えて足りない黒丸を黒く塗ります。答えはまず、太い四角の右にかきます。もし、答えを間違えてしまった場合は、隣の四角に書き直します。2回間違えてしまうと答えをかくことができませんので気をつけましょう。



※1. このプリントは、しながわ・目黒こどもスクールのウェブサイトからダウンロードできます。無断複写・引用はご遠慮ください。

※2. このプリントを活用したオンライン授業のスケジュールは、しながわ・目黒こどもスクールのウェブサイトでご確認ください。

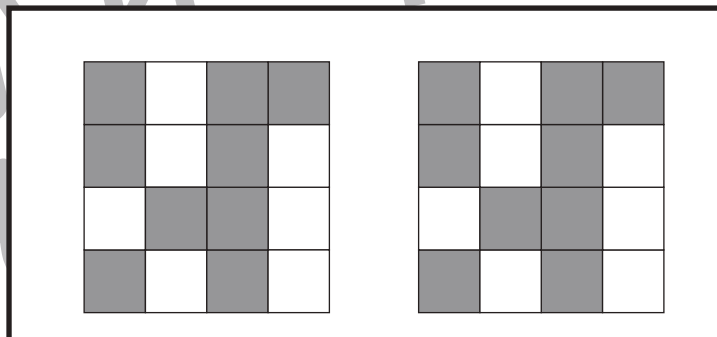
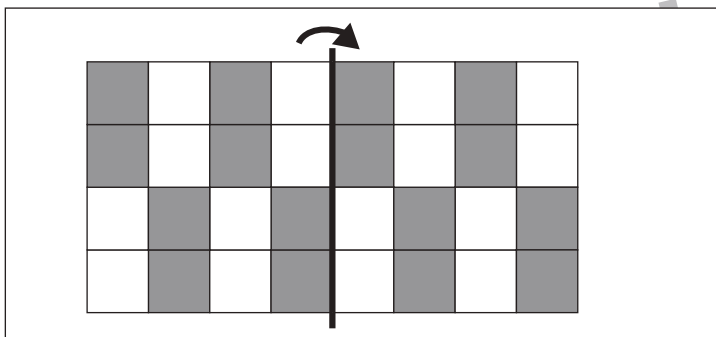
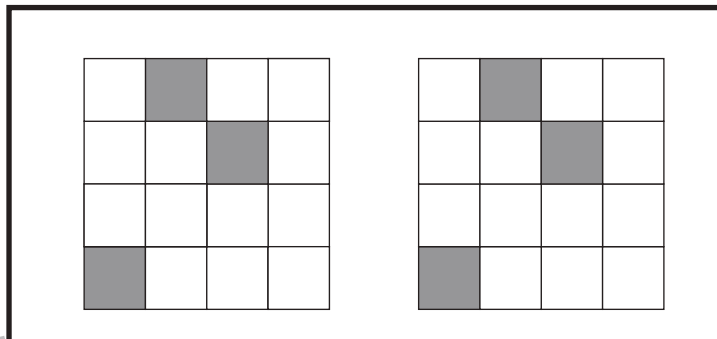
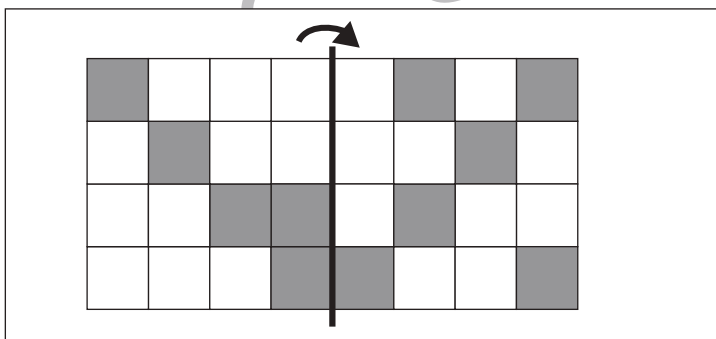
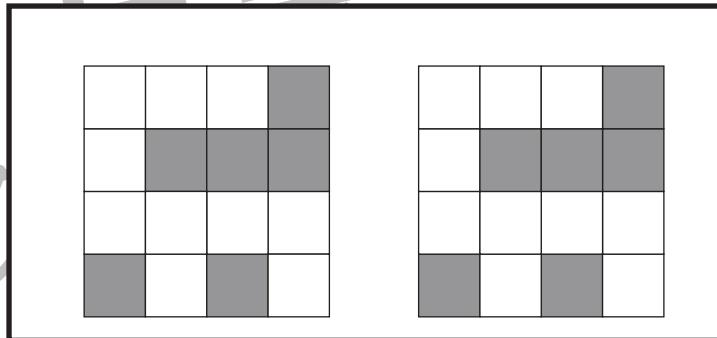
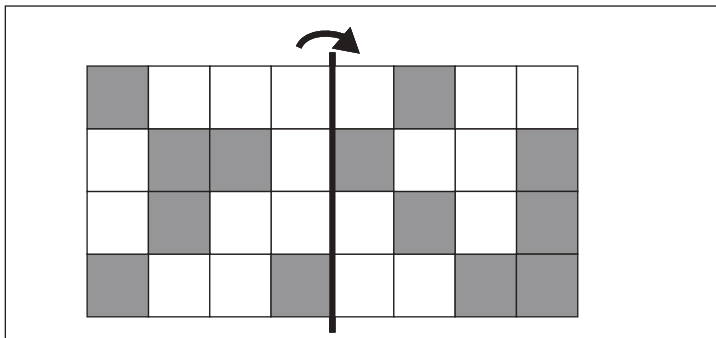
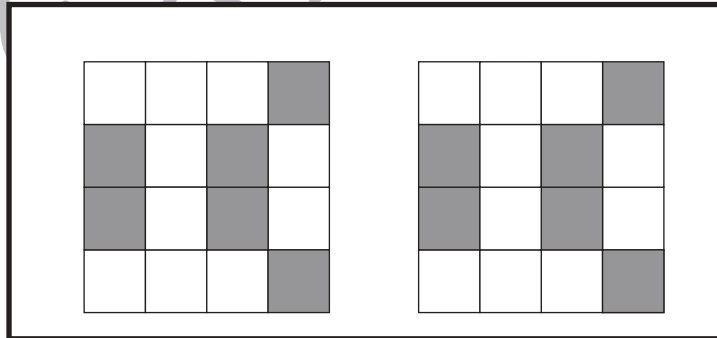
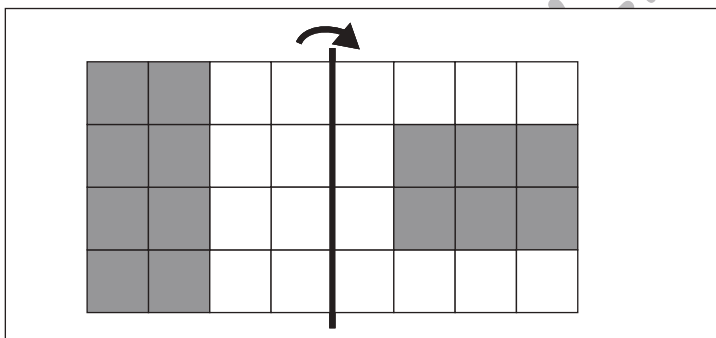
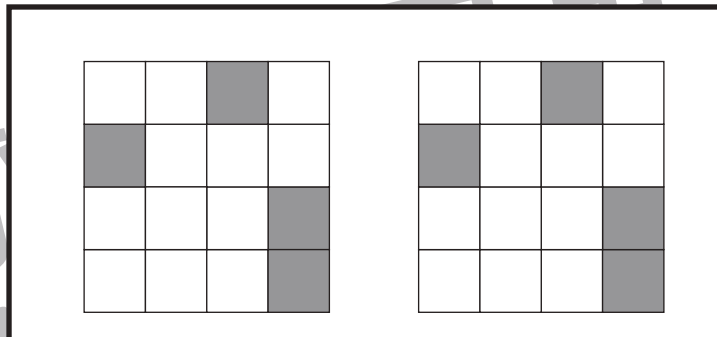
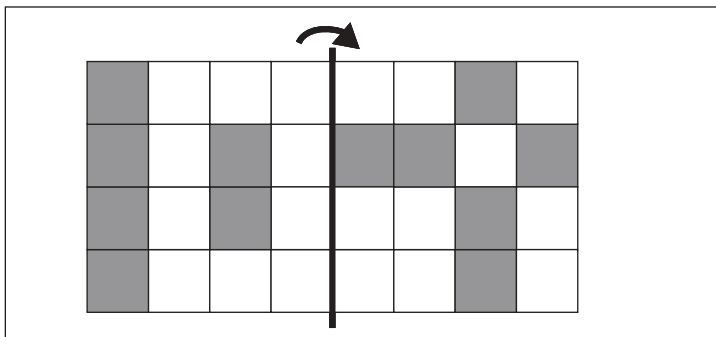


# おうちで、やろう。

Study at home. 小学校受験の家庭学習教材

## 図形：折り重ね⑬

左の四角の中の形は透明です。この形を真ん中の太い線で折り重ねたときの見え方が右の太い四角の中にあります。ただし、右の四角の中の見え方は間違っています。正しい見え方を考えて足りないマス黒く塗ります。答えはまず、太い四角の右にかきます。もし、答えを間違えてしまった場合は、隣の四角に書き直します。2回間違えてしまうと答えをかくことができませんので気をつけましょう。



※1. このプリントは、しながわ・目黒こどもスクールのウェブサイトでダウンロードができます。無断複写・引用はご遠慮ください。

※2. このプリントを活用したオンライン授業のスケジュールは、しながわ・目黒こどもスクールのウェブサイトでご確認ください。





# おうちで、よろう。

Study at home. 小学校受験の家庭学習教材

## 図形：配列④

上の太い線の四角がお手本です。お手本と同じように並んでいるところを見つけてお手本と同じ形で囲みます。  
答えは①と②は3つ、③は7つ見つけます。

①

②

③

※1. このプリントは、しながわ・目黒こどもスクールのウェブサイトでダウンロードができます。無断複写・引用はご遠慮ください。

※2. このプリントを活用したオンライン授業のスケジュールは、しながわ・目黒こどもスクールのウェブサイトでご確認ください。

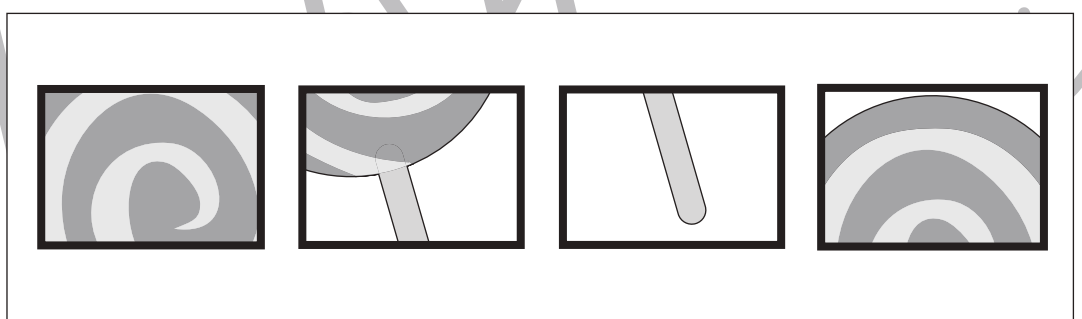
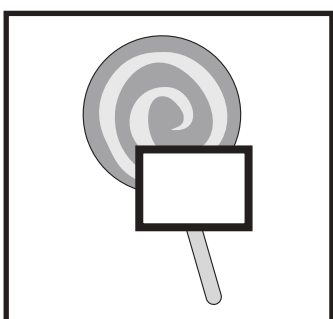
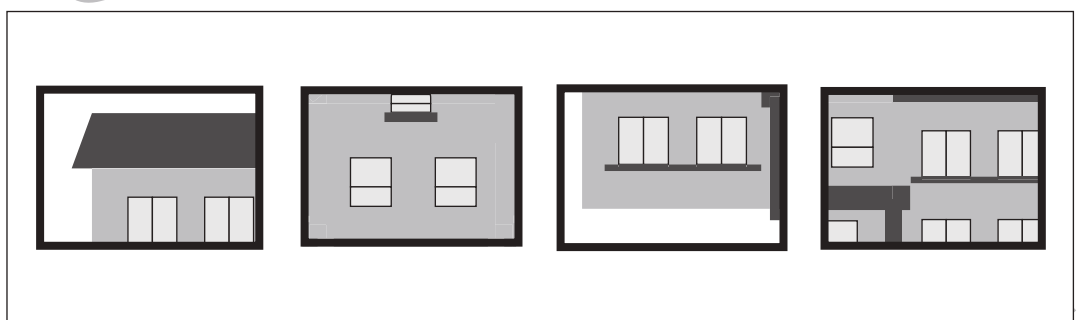



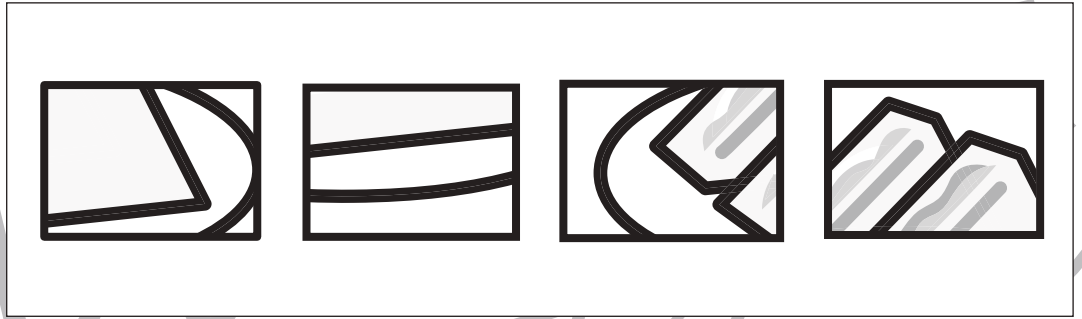



# おうちで、やろう。

Study at home. 小学校受験の家庭学習教材

推理：パズル①

左の四角の絵は 1 枚パズルが足りません。空いている四角にはいるパズルを右の四角の中から選び○をつけます。  
右の四角の中のパズルは大きくなっています。



※ 1. このプリントは、しながわ・目黒こどもスクールのウェブサイトからダウンロードできます。無断複写・引用はご遠慮ください。  
※ 2. このプリントを活用したオンライン授業のスケジュールは、しながわ・目黒こどもスクールのウェブサイトでご確認ください。





# おうちで、やろう。

Study at home. 小学校受験の家庭学習教材

## 推理：ブラックボックス⑩

それぞれ左の四角が星の箱の中に入ると色や形が変わります。星の色によってマークの変わり方が違うので約束を考えて、右の四角にかきます。

	→		→			→		→			→		→	
	→		→			→		→			→		→	

	→		→	
--	---	--	---	--

	→		→	
--	---	--	---	--

	→		→	
--	---	--	---	--

	→		→	
--	---	--	---	--

		→		→	
--	--	---	--	---	--

		→		→	
--	--	---	--	---	--

		→		→	
--	--	---	--	---	--

		→		→	
--	--	---	--	---	--

		→		→	
--	--	---	--	---	--

		→		→	
--	--	---	--	---	--

※1. このプリントは、しながわ・目黒こどもスクールのウェブサイトでダウンロードができます。無断複写・引用はご遠慮ください。

※2. このプリントを活用したオンライン授業のスケジュールは、しながわ・目黒こどもスクールのウェブサイトでご確認ください。


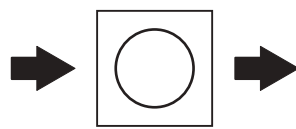
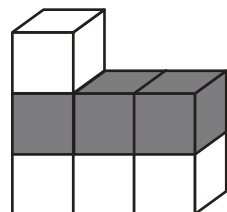
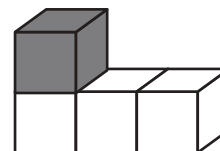
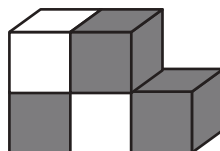
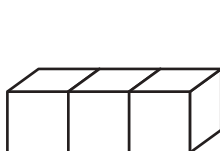
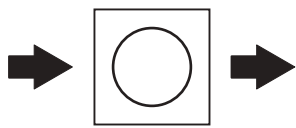
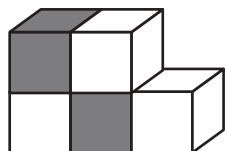
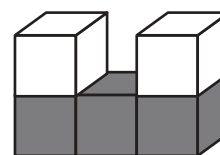
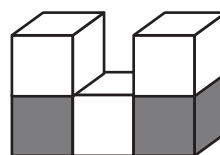
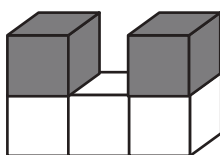

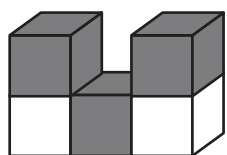
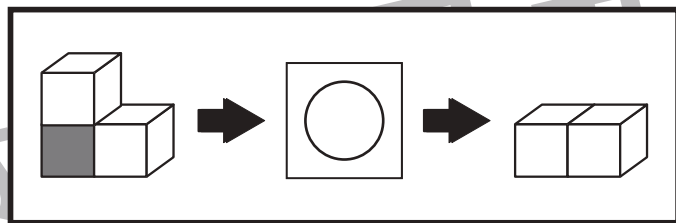
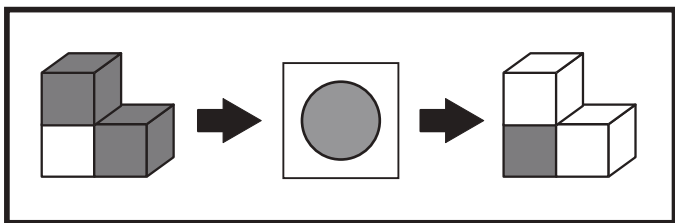


# おうちで、やろう。

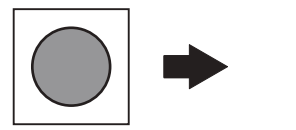
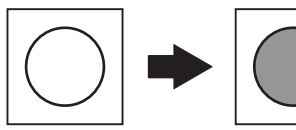

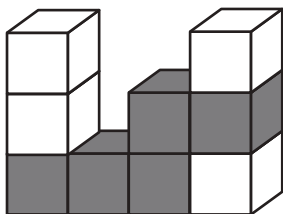
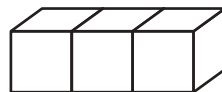
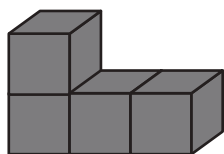
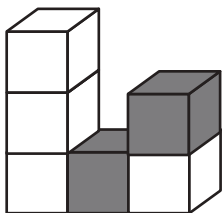
Study at home. 小学校受験の家庭学習教材

## 推理：ブラックボックス⑪

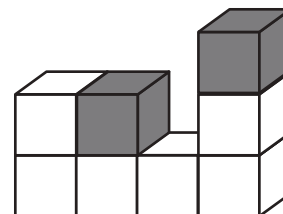
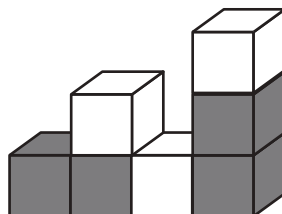
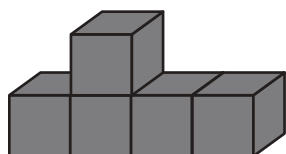
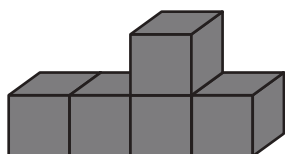
上の太い四角の中が約束です。灰色の丸の四角の中に入ると、色が反対に変わります。白色の丸の四角の中に入ると、灰色の積み木がなくなり上にある積み木が下に降りてきます。この約束の時、左の積み木が箱に入って出てきた時の形を考えて正しいものを選んで○をつけます。



?



?



※1. このプリントは、しながわ・目黒こどもスクールのウェブサイトでダウンロードができます。無断複写・引用はご遠慮ください。  
※2. このプリントを活用したオンライン授業のスケジュールは、しながわ・目黒こどもスクールのウェブサイトでご確認ください。

