






# おうちで、やろう。

Study at home. 小学校受験の家庭学習教材

数量：セットの数①

お店ではお客さんから注文を受けたハンバーガーのセットを用意しています。

- (1) セットの中身は「ハンバーガー」「ポテト」「コーラ」をそれぞれ1つずつです。下の四角にある材料でセットはいくつ作れるかを考えて下の四角の中に○をかきましょう。
- (2) セットを作った時、数が余るものがあります。その材料の絵が描いてある四角に、余った数の分だけ○をかきましょう。



- (3) 2人の配達屋さんが来て、セットを2つずつ運んでいきました。お店にはあといくつのセットが残っていますか。その数分だけ下の四角に○をかきましょう。



※1. このプリントは、しながわ・目黒こどもスクールのウェブサイトでダウンロードができます。無断複写・引用はご遠慮ください。  
 ※2. このプリントを活用したオンライン授業のスケジュールは、しながわ・目黒こどもスクールのウェブサイトでご確認ください。

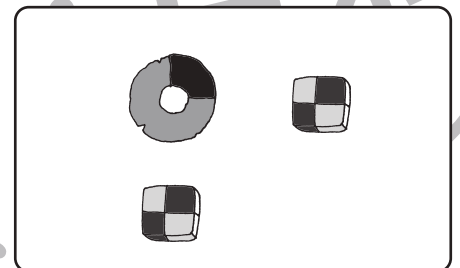

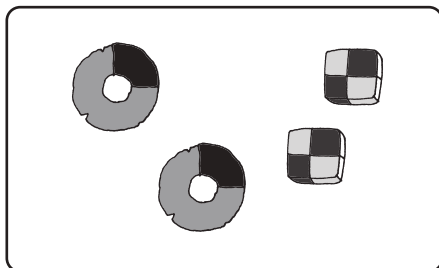

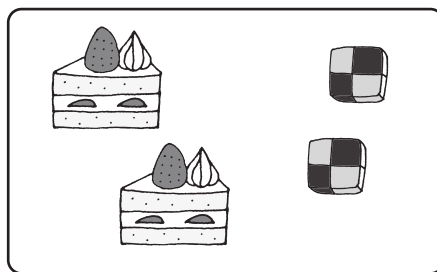

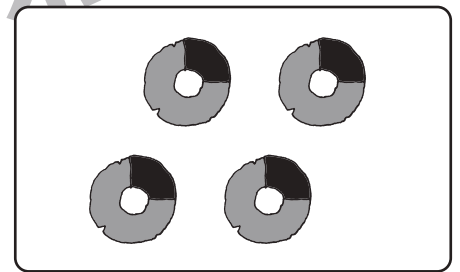



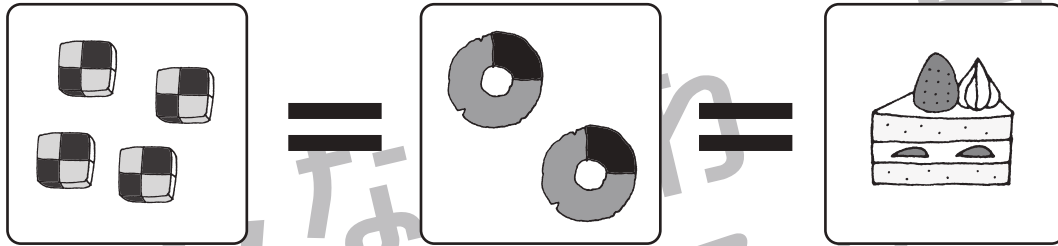


# おうちで、やろう。

Study at home. 小学校受験の家庭学習教材

## 数量：セットの数②

ケーキ2個と、ドーナツ2個、クッキー4個は、同じ値段です。女の子はケーキを2個買いました。ケーキ2個と同じ値段で買えるものが入っている四角を、下から探して○をつけましょう。



※1. このプリントは、しながわ・目黒こどもスクールのウェブサイトからダウンロードできます。無断複写・引用はご遠慮ください。  
 ※2. このプリントを活用したオンライン授業のスケジュールは、しながわ・目黒こどもスクールのウェブサイトでご確認ください。



# おうちで、やろう。

Study at home. 小学校受験の家庭学習教材

## 推理：四方観察⑩

左の四角の中の積み木を女の子の方（ひだりがわ）と、男の子の方（ひだりがわ）から見ると、どのように見えますか。見える四角の形を鉛筆で囲み、灰色の積み木は鉛筆で塗りましょう。また、見えない部分の積み木は灰色の積み木とします。

Activity grid for spatial reasoning. Each row contains a 3D block structure, a 3x3 grid, and a 3x3 grid. The 3D structures are viewed from the girl's side (left) and the boy's side (right). The 3x3 grids are for drawing the 2D projections.

Row 1: Girl's view of a 2x2x2 block with top-left and top-right cubes shaded. Boy's view of a 2x2x2 block with top-left and top-right cubes shaded. Grids for drawing these views.

Row 2: Girl's view of a 2x2x2 block with top-left and bottom-left cubes shaded. Boy's view of a 2x2x2 block with top-left and bottom-left cubes shaded. Grids for drawing these views.

Row 3: Girl's view of a 2x2x2 block with top-left, top-right, and bottom-left cubes shaded. Boy's view of a 2x2x2 block with top-left, top-right, and bottom-left cubes shaded. Grids for drawing these views.

Row 4: Girl's view of a 2x2x2 block with top-left, top-right, and bottom-right cubes shaded. Boy's view of a 2x2x2 block with top-left, top-right, and bottom-right cubes shaded. Grids for drawing these views.

Row 5: Girl's view of a 2x2x2 block with top-left, top-right, and bottom-left cubes shaded. Boy's view of a 2x2x2 block with top-left, top-right, and bottom-left cubes shaded. Grids for drawing these views.

※1. このプリントは、しながわ・目黒こどもスクールのウェブサイトでダウンロードができます。無断複写・引用はご遠慮ください。  
※2. このプリントを活用したオンライン授業のスケジュールは、しながわ・目黒こどもスクールのウェブサイトでご確認ください。



# おうちで、やろう。

Study at home. 小学校受験の家庭学習教材

## 推理：四方観察⑪

左の四角の中の積み木を女の子の方(うしろ)と、男の子の方(した)から見ると、どのように見えますか。見える四角の形を鉛筆で囲み、灰色の積み木は鉛筆で塗りましょう。


※1. このプリントは、しながわ・目黒こどもスクールのウェブサイトでダウンロードができます。無断複写・引用はご遠慮ください。  
※2. このプリントを活用したオンライン授業のスケジュールは、しながわ・目黒こどもスクールのウェブサイトでご確認ください。







# おうちで、やろう。

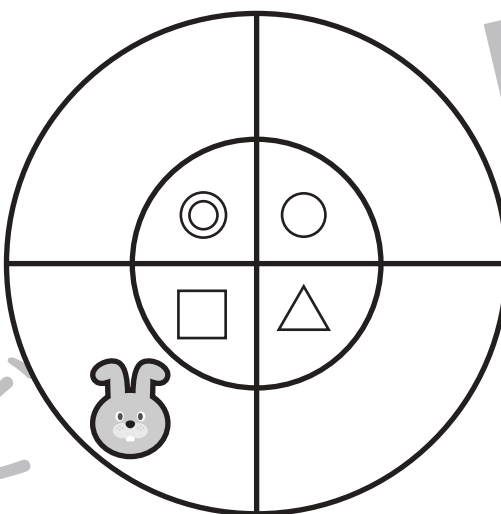

Study at home. 小学校受験の家庭学習教材

## 推理：観覧車①

大きな丸の中には動物が、その中の小さな丸の中にはマークが描かれています。1ひきの動物が矢印の方向に進んだとき、ほかの動物はどのマークの場所に止まるかを考えて、右の四角の中にマークをかきましょう。




※1. このプリントは、しながわ・目黒こどもスクールのウェブサイトからダウンロードできます。無断複写・引用はご遠慮ください。

※2. このプリントを活用したオンライン授業のスケジュールは、しながわ・目黒こどもスクールのウェブサイトでご確認ください。



# おうちで、やろう。



Study at home. 小学校受験の家庭学習教材

推理：観覧車②

■動物たちが観覧車に乗っており、矢印の方向に回っています。

(1) ライオンが一番下に来ると、いちばん上にはどの動物が来ますか？ その動物のいる四角に○をかきましょう。

(2) きつねが猫のところに来ると、いま牛のいるところにはどの動物が来ますか？ その動物のいる四角に△をかきましょう。



※1. このプリントは、しながわ・目黒こどもスクールのウェブサイトからダウンロードできます。無断複写・引用はご遠慮ください。

※2. このプリントを活用したオンライン授業のスケジュールは、しながわ・目黒こどもスクールのウェブサイトでご確認ください。






# おうちで、やろう。

Study at home. 小学校受験の家庭学習教材

推理：観覧車③

■動物たちが観覧車に乗っており、矢印の方向に回っています。

- (1) クマが一番下に来ると、いちばん上には誰が来ますか？ その動物のいる四角に○をかきましょう。
- (2) ソウがライオンのところに来ると、いまウサギのいるところには誰が来ますか？ その動物のいる四角に△をかきましょう。
- (3) 牛が3つ進むと、羊はどこに来ますか？いま、その動物がいる四角に◎をかきましょう。




※1. このプリントは、しながわ・目黒こどもスクールのウェブサイトでダウンロードができます。無断複写・引用はご遠慮ください。  
 ※2. このプリントを活用したオンライン授業のスケジュールは、しながわ・目黒こどもスクールのウェブサイトでご確認ください。




# おうちで、やろう。

Study at home. 小学校受験の家庭学習教材

推理：左右④

渦巻きの模様があるものだけを集めました。左上の太い枠の中にあるペロペロキャンディーは、外側の渦巻きの切れ目から、「時計回り」にグルグルと渦巻きが描かれています。これと同じように外側の渦巻きの切れ目から時計回りに渦巻きができているものをすべて見つけて○をつけましょう。 ※時計回りがわからないときは【右回り】と説明してください。



※1. このプリントは、しながわ・目黒こどもスクールのウェブサイトからダウンロードできます。無断複写・引用はご遠慮ください。

※2. このプリントを活用したオンライン授業のスケジュールは、しながわ・目黒こどもスクールのウェブサイトでご確認ください。






# おうちで、やろう。

Study at home. 小学校受験の家庭学習教材

推理：左右⑤

この渦巻きは真ん中から描き始めてつくりました。左上の太い枠の中の渦巻きのように、真ん中から時計回りに描いてつくられた渦巻きを10こ見つけて○をつけましょう。 ※時計回りがわからないときは【右回り】と説明してください。



※1. このプリントは、しながわ・目黒こどもスクールのウェブサイトからダウンロードできます。無断複写・引用はご遠慮ください。  
※2. このプリントを活用したオンライン授業のスケジュールは、しながわ・目黒こどもスクールのウェブサイトでご確認ください。


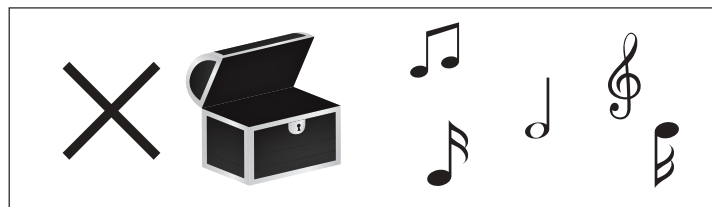


# おうちで、やろう。

Study at home. 小学校受験の家庭学習教材

## 推理：たからさがし⑬

あなたは宝島にやってきました。宝箱と宝箱の鍵をたくさん見つけにいけます。下の地図の中からお手本にある「宝箱」「音符」、どこかに1つだけある「石板」を見つけて○をつけましょう。「もう空いている宝箱」と「お手本と違う形の音符」はハズレですから、何も印はつけません。宝探しの時間はたったの1分です。それまでに、できるだけ多くの「宝箱」「音符」「石板」を見つけてみましょう。



※1. このプリントは、しながわ・目黒こどもスクールのウェブサイトでダウンロードができます。無断複写・引用はご遠慮ください。  
※2. このプリントを活用したオンライン授業のスケジュールは、しながわ・目黒こどもスクールのウェブサイトでご確認ください。

