


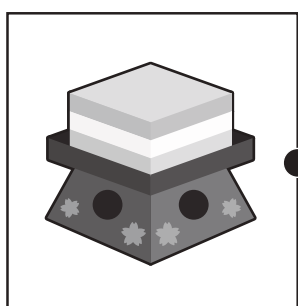









おうちで、やろう。

Study at home. 小学校受験の家庭学習教材

常識：季節⑦

左の絵の行事の時に使う植物を右の絵から探し、点と点をむすびます。



※1. このプリントは、しながわ・目黒こどもスクールのウェブサイトでダウンロードができます。無断複写・引用はご遠慮ください。

※2. このプリントを活用したオンライン授業のスケジュールは、しながわ・目黒こどもスクールのウェブサイトでご確認ください。



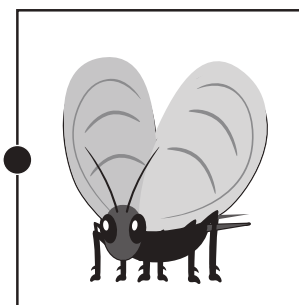




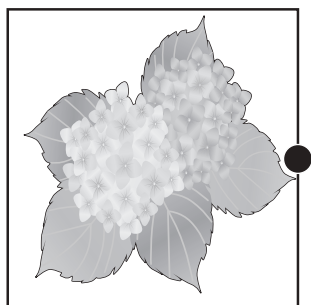




おうちで、やろう。

Study at home. 小学校受験の家庭学習教材

常識：季節⑧

左の四角の中の絵と同じ季節の虫を右の四角の中から探して点と点を線で結びます。



※1. このプリントは、しながわ・目黒こどもスクールのウェブサイトでダウンロードができます。無断複写・引用はご遠慮ください。

※2. このプリントを活用したオンライン授業のスケジュールは、しながわ・目黒こどもスクールのウェブサイトでご確認ください。




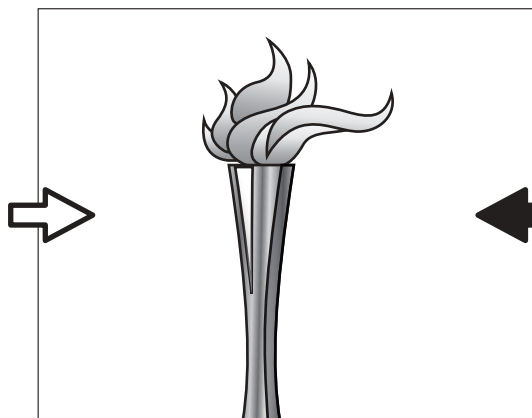

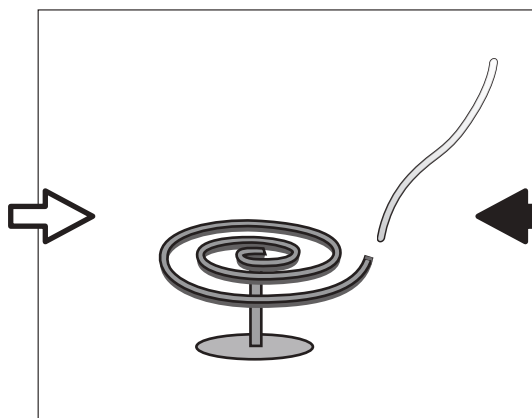
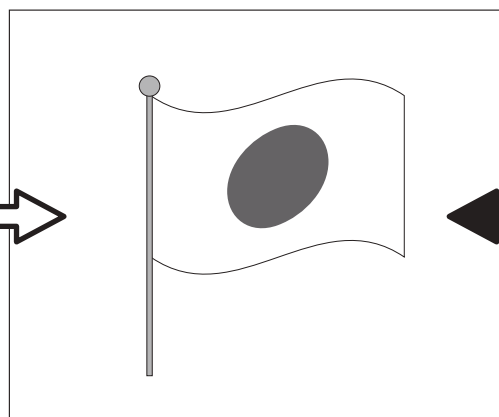
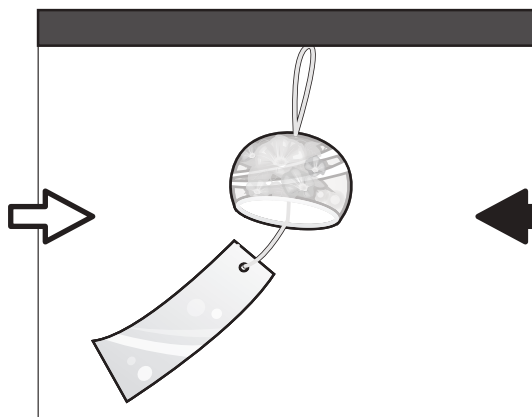


おうちで、やろう。

Study at home. 小学校受験の家庭学習教材

常識：風向き①

それぞれの絵は風に吹かれている様子の絵です。どちらからどちらへ風が吹いていますか。
左から右へ風が吹いているときは白い矢印に、右から左へ風が吹いているときは黒い矢印に○をつけます。



※1. このプリントは、しながわ・目黒こどもスクールのウェブサイトでダウンロードができます。無断複写・引用はご遠慮ください。

※2. このプリントを活用したオンライン授業のスケジュールは、しながわ・目黒こどもスクールのウェブサイトでご確認ください。





おうちで、やろう。


Study at home. 小学校受験の家庭学習教材

図形：三角パズル④-1

三角パズルを作ります。

下の四角の黒い線の上をはさみで切り、三角パズルを作ります。

別紙「図形：三角パズル④-2」の形を切ったパズルを使って作しましょう。



※1. このプリントは、しながわ・目黒こどもスクールのウェブサイトでダウンロードができます。無断複写・引用はご遠慮ください。

※2. このプリントを活用したオンライン授業のスケジュールは、しながわ・目黒こどもスクールのウェブサイトでご確認ください。



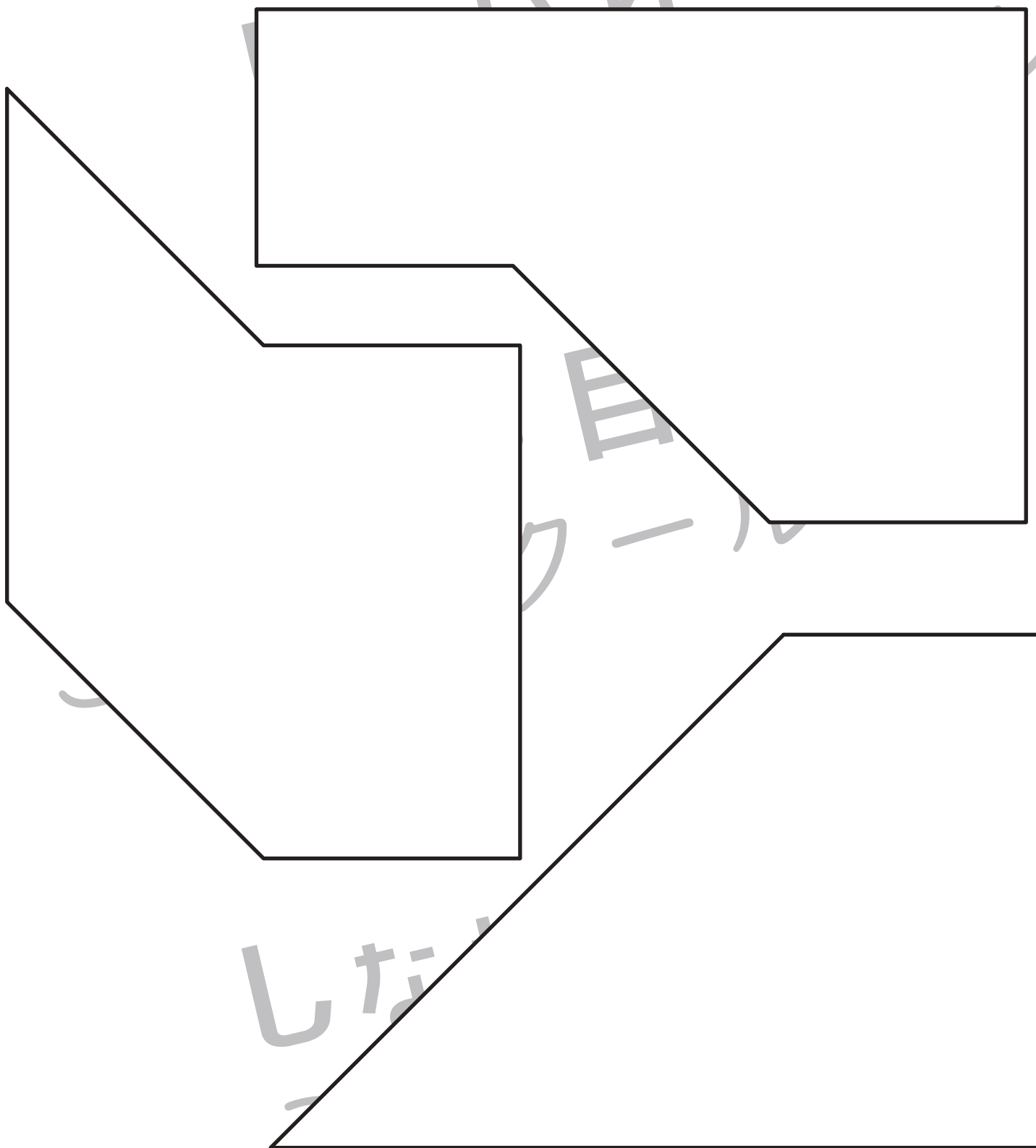


おうちで、やろう。

Study at home. 小学校受験の家庭学習教材

図形：三角パズル④-2

※別紙「図形：三角パズル④-1」の三角パズルを用意してください。
下の形を自分で作った三角パズルで作ります。形ができたらのりで貼り付けましょう。



※1. このプリントは、しながわ・目黒こどもスクールのウェブサイトでダウンロードができます。無断複写・引用はご遠慮ください。
※2. このプリントを活用したオンライン授業のスケジュールは、しながわ・目黒こどもスクールのウェブサイトでご確認ください。




おうちで、やろう。


Study at home. 小学校受験の家庭学習教材

推理：シルエット①

サッカー選手がたくさんいます。右足でボールを扱っている人を5人えらんで○をつけましょう。



ラケットを持った人がたくさんいます。左手にラケットを持っている人を3人えらんで○をつけましょう。



※1. このプリントは、しながわ・目黒こどもスクールのウェブサイトダウンロードができます。無断複写・引用はご遠慮ください。

※2. このプリントを活用したオンライン授業のスケジュールは、しながわ・目黒こどもスクールのウェブサイトでご確認ください。





























おうちで、やろう。

Study at home. 小学校受験の家庭学習教材

推理：条件推理⑪

3匹の動物が誰の車が一番速いのかを決めるために2匹ずつ3回競争をしました。下の絵はゴールの様子です。左のゴールの線に一番早く着いた動物が1番です。3回の競争の様子を見て、上に並んでいる3匹を早かった順に下の1、2、3の旗と線で結びましょう。

 	 ●	 ●	 ●
 	●	●	●
 			

 	 ●	 ●	 ●
 	●	●	●
 			

※1. このプリントは、しながわ・目黒こどもスクールのウェブサイトダウンロードができます。無断複写・引用はご遠慮ください。

※2. このプリントを活用したオンライン授業のスケジュールは、しながわ・目黒こどもスクールのウェブサイトでご確認ください。







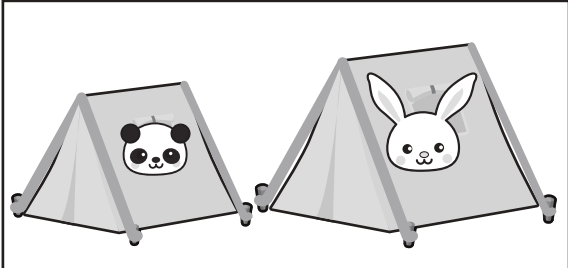










おうちで、やろう。

Study at home. 小学校受験の家庭学習教材

推理：条件推理⑫

左に2枚の写真があります。それぞれ同じ絵のものは違う大きさで写っていますが、これは写真を撮った位置が違うので違う大きさに見えるだけで、同じ大きさです。この2枚の写真を見て大きい順に並べたとき一番大きいものから順番に、○→△→×を左の絵の下に四角にかきます。

 	 <div data-bbox="738 700 901 815"></div>	 <div data-bbox="1031 700 1193 815"></div>	 <div data-bbox="1323 700 1485 815"></div>
 	 <div data-bbox="738 1308 901 1435"></div>	 <div data-bbox="1031 1308 1193 1435"></div>	 <div data-bbox="1323 1308 1485 1435"></div>
 	 <div data-bbox="738 1917 901 2043"></div>	 <div data-bbox="1031 1917 1193 2043"></div>	 <div data-bbox="1323 1917 1485 2043"></div>

※1. このプリントは、しながわ・目黒こどもスクールのウェブサイトダウンロードができます。無断複写・引用はご遠慮ください。

※2. このプリントを活用したオンライン授業のスケジュールは、しながわ・目黒こどもスクールのウェブサイトでご確認ください。





おうちで、やろう。

Study at home. 小学校受験の家庭学習教材

推理：条件推理⑬

問題をよく聞いてそれぞれの問いに答えましょう。

①ウサギさんとブタさんとパンダさんは2匹ずつかけっこをしました。パンダさんはブタさんとウサギさんに勝ちました。


ブタさんはウサギさんに勝ちました。早かった順に動物と旗を結びましょう。

②クマさんとトラさんとイヌさんは二匹ずつ綱引きをしました。イヌさんはトラさんに勝ちました。クマさんはトラさんに勝ちました。イヌさんはクマさんにも勝ちました。強かった順に動物と旗を結びましょう。

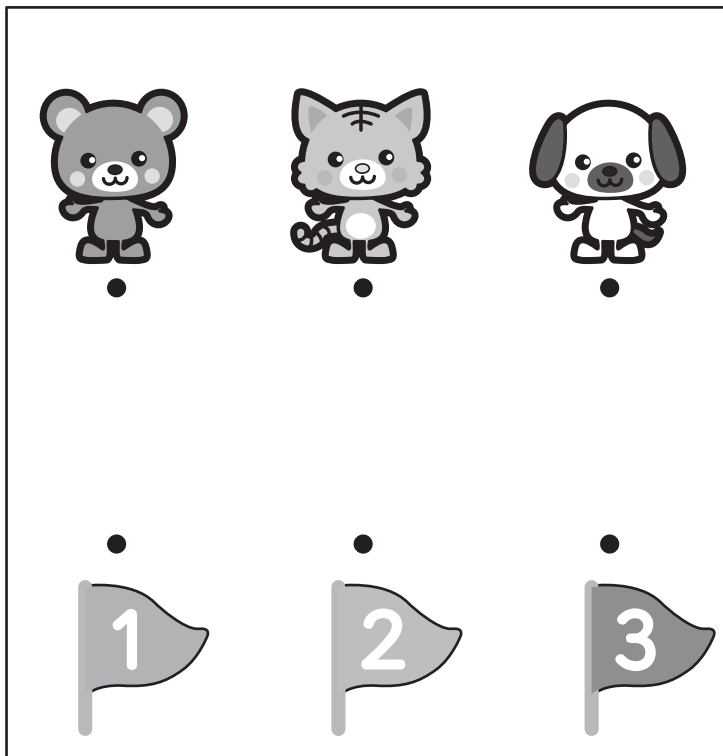
③3つの印がついたお鍋があります。3つのお鍋を比べた時に、☆がついているお鍋は○のお鍋より小さいです。○がついているお鍋は□のお鍋より小さいです。3つのお鍋を大きい順に並べたとき大きい順に○→△→×と絵の下に四角にかきましょう。

④動物の絵が書かれているテントが3つあります。3つのテントを比べた時に、クマのテントよりウサギのテントは小さいです。パンダのテントよりウサギのテントは小さいです。パンダのテントはクマのテントより大きいです。3つのテントを大きい順に並べたとき大きい順に○→△→×と絵の下に四角にかきましょう。

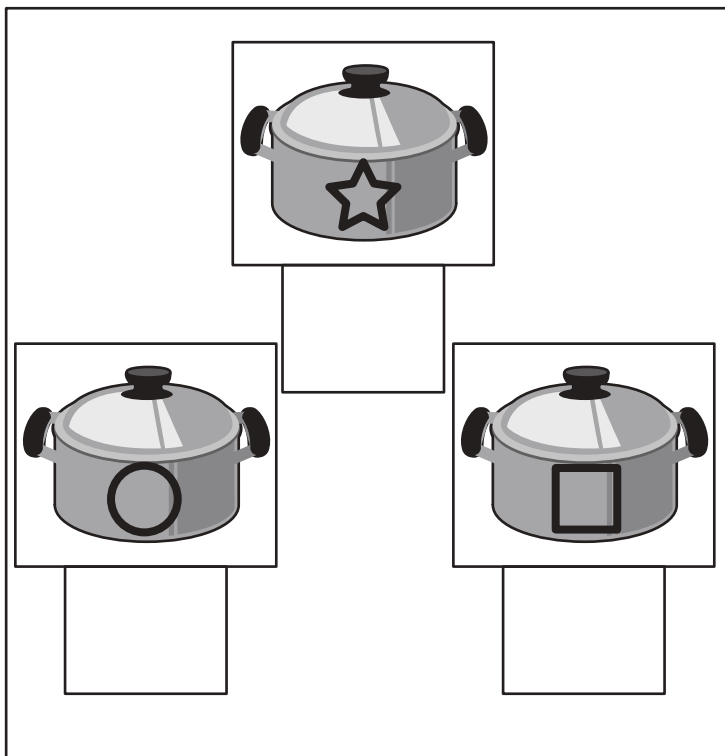
①



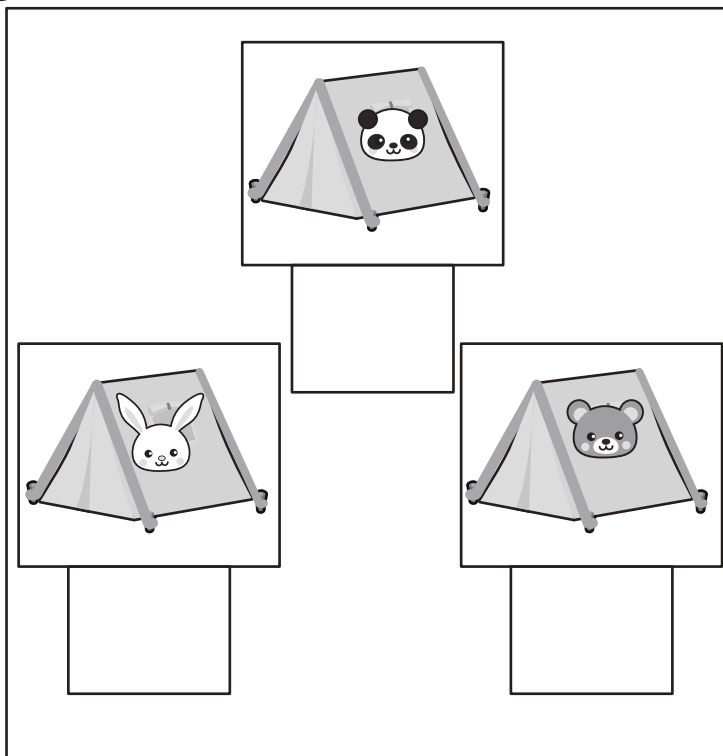
②



③



④



※ 1. このプリントは、しながわ・目黒こどもスクールのウェブサイトでダウンロードができます。無断複写・引用はご遠慮ください。

※ 2. このプリントを活用したオンライン授業のスケジュールは、しながわ・目黒こどもスクールのウェブサイトでご確認ください。



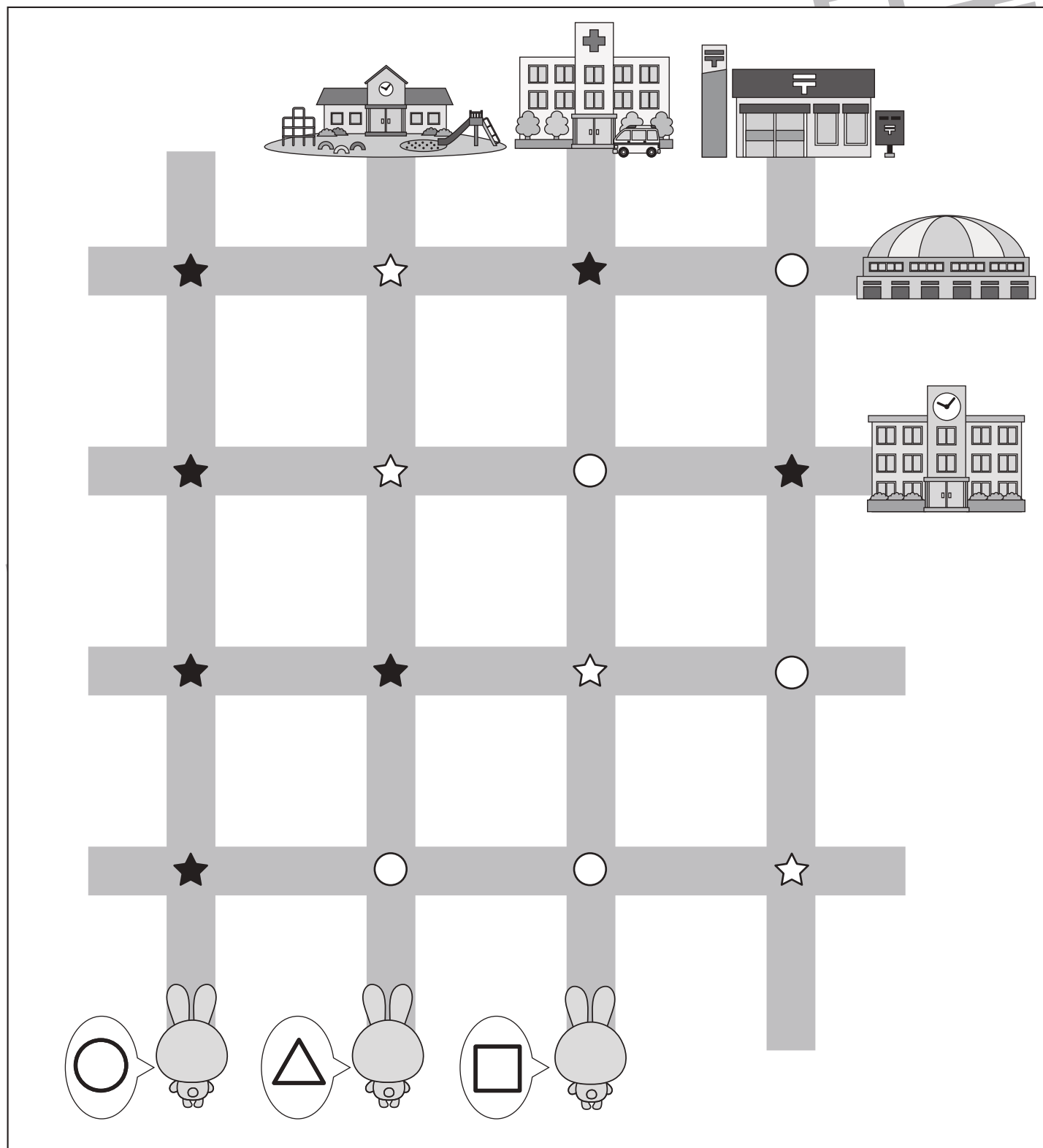


おうちで、やろう。

Study at home. 小学校受験の家庭学習教材

推理：地図の移動④

3匹のウサギがある場所まで歩いて行きます。途中のマークのある曲がり角では約束があります。☆は左に曲がります。★は右に曲がります。○はそのまま真っすぐ進みます。この約束でウサギさんが進んで行ったとき、着いた場所に印をつけます。つける印はそれぞれのウサギの吹き出しに印をつけます。



※1. このプリントは、しながわ・目黒こどもスクールのウェブサイトでダウンロードができます。無断複写・引用はご遠慮ください。

※2. このプリントを活用したオンライン授業のスケジュールは、しながわ・目黒こどもスクールのウェブサイトでご確認ください。




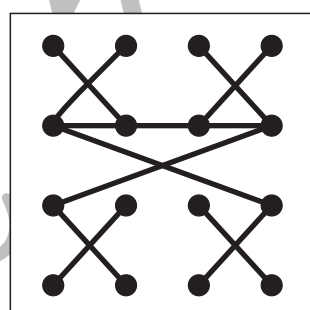

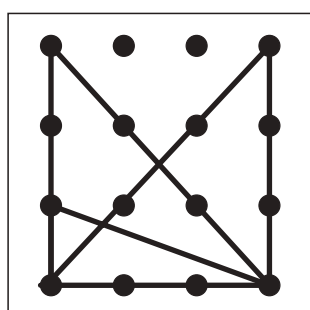

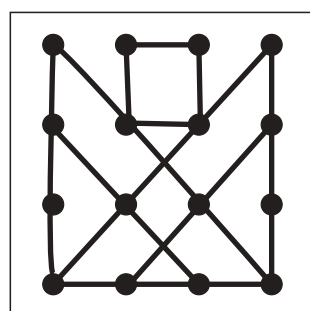

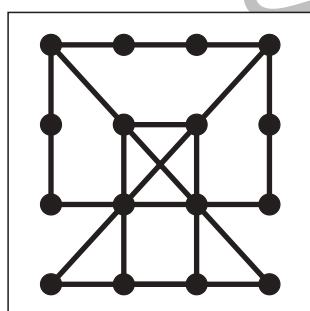

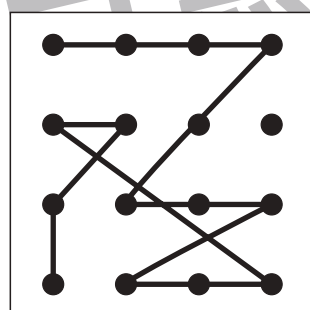

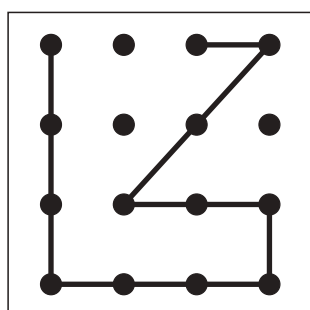

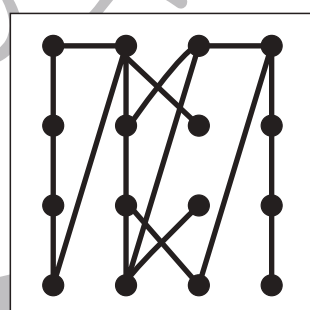

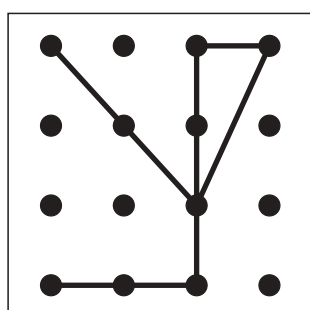

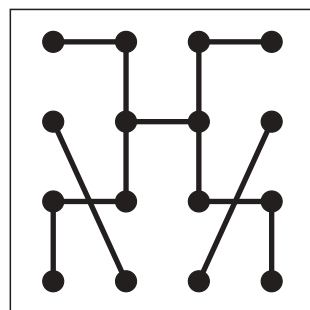

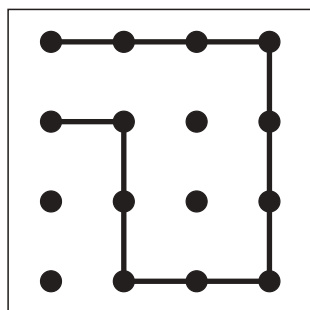


おうちで、やろう。

Study at home. 小学校受験の家庭学習教材

処理：模写⑦

左のお手本と同じになるように右の四角に線をかきます。点と点をしっかり結びきれいな線をかきましょう。
この問題はスピードを意識して取り組む練習をしてみましょう。(2分～2分30秒)※この問題に答えはありません。



※1. このプリントは、しながわ・目黒こどもスクールのウェブサイトでダウンロードができます。無断複写・引用はご遠慮ください。

※2. このプリントを活用したオンライン授業のスケジュールは、しながわ・目黒こどもスクールのウェブサイトでご確認ください。

