

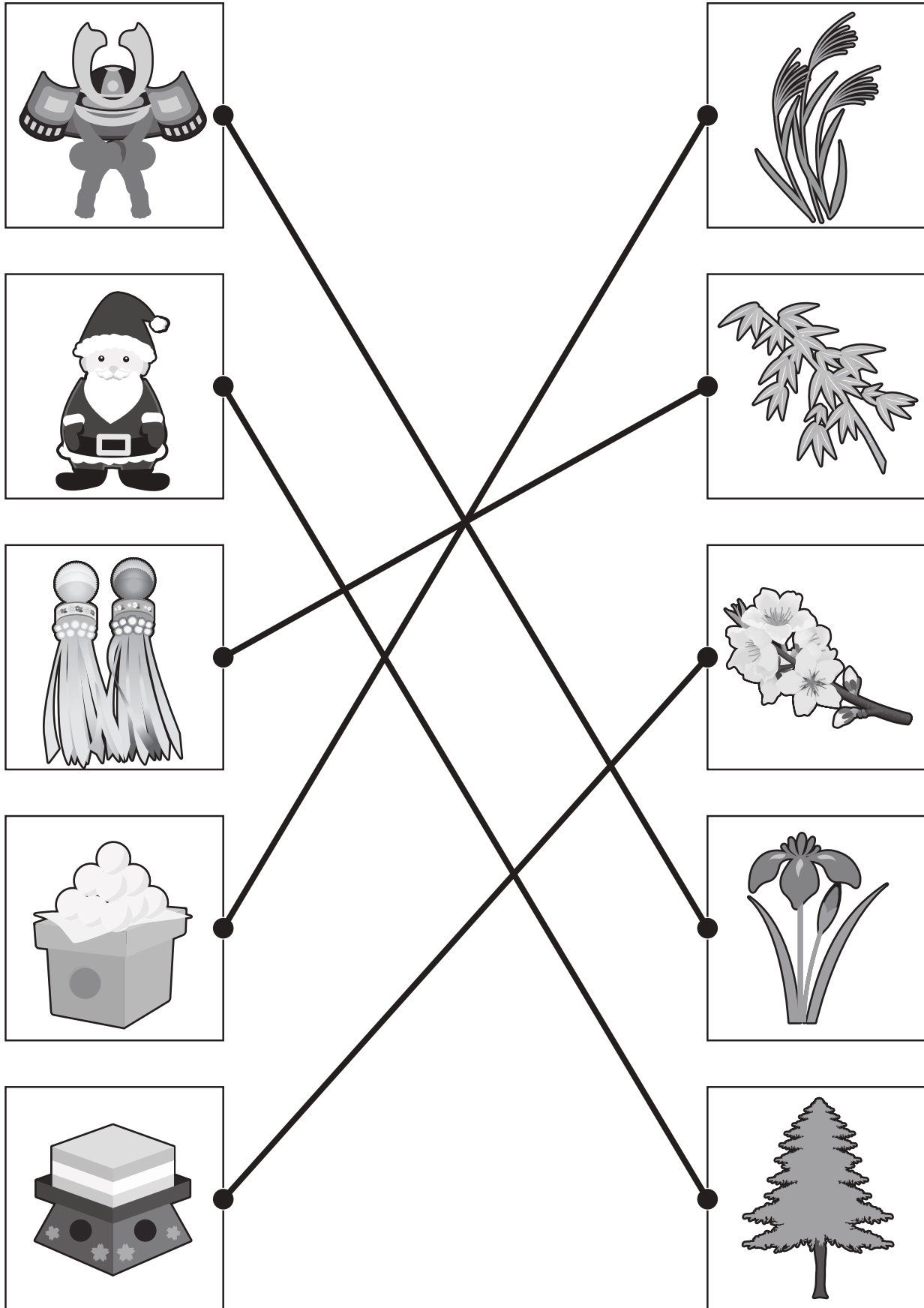


おうちで、やろう。

Study at home. 小学校受験の家庭学習教材

常識：季節⑦

左の絵の行事の時に使う植物を右の絵から探し、点と点をむすびます。



※1. このプリントは、しながわ・目黒こどもスクールのウェブサイトからダウンロードできます。無断複写・引用はご遠慮ください。

※2. このプリントを活用したオンライン授業のスケジュールは、しながわ・目黒こどもスクールのウェブサイトでご確認ください。




おうちで、やろう。

Study at home. 小学校受験の家庭学習教材

常識：季節⑧

左の四角の中の絵と同じ季節の虫を右の四角の中から探して点と点を線で結びます。



※1. このプリントは、しながわ・目黒こどもスクールのウェブサイトでダウンロードができます。無断複写・引用はご遠慮ください。

※2. このプリントを活用したオンライン授業のスケジュールは、しながわ・目黒こどもスクールのウェブサイトでご確認ください。




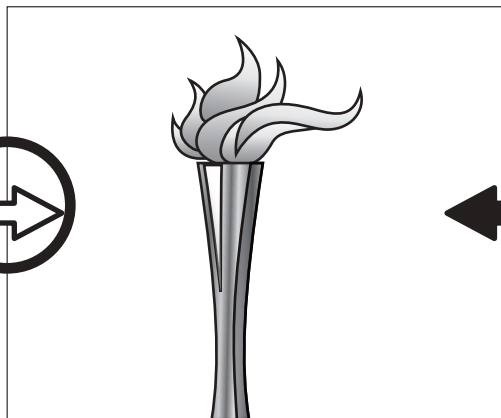


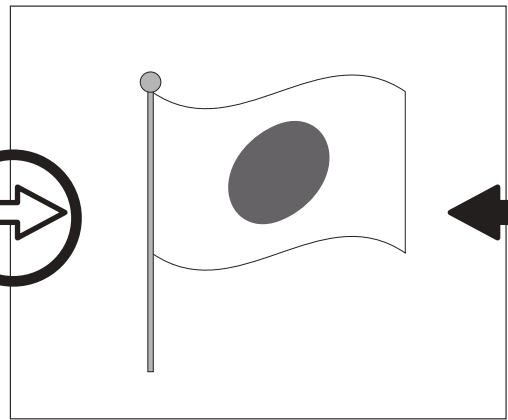
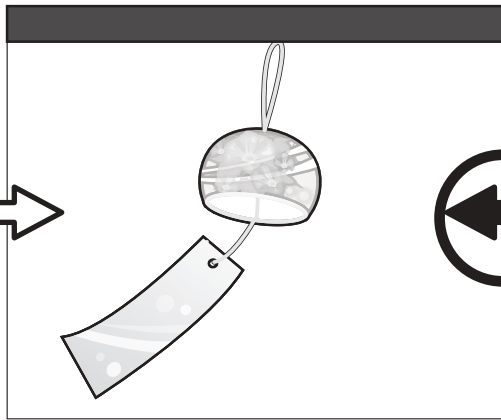


おうちで、やろう。

Study at home. 小学校受験の家庭学習教材

常識：風向き①

それぞれの絵は風に吹かれている様子の絵です。どちらからどちらへ風が吹いていますか。
左から右へ風が吹いているときは白い矢印に、右から左へ風が吹いているときは黒い矢印に○をつけます。



※1. このプリントは、しながわ・目黒こどもスクールのウェブサイトでダウンロードができます。無断複写・引用はご遠慮ください。
※2. このプリントを活用したオンライン授業のスケジュールは、しながわ・目黒こどもスクールのウェブサイトでご確認ください。





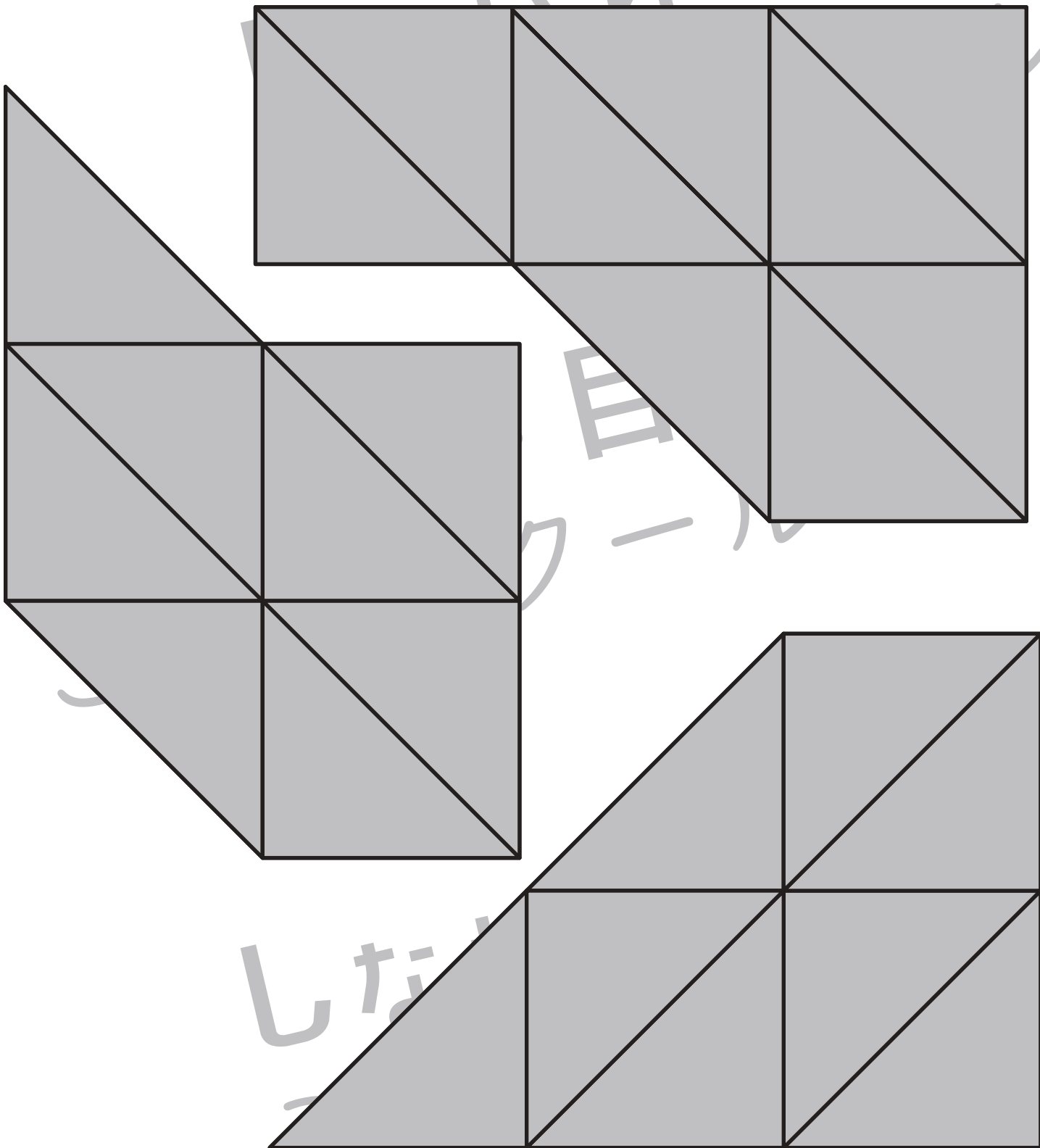
おうちで、やろう。

Study at home. 小学校受験の家庭学習教材

図形：三角パズル④-2

※別紙「図形：三角パズル④-1」の三角パズルを用意してください。
下の形を自分で作った三角パズルで作ります。形ができたらのりで貼り付けましょう。

解答は一例です。
他の置き方でも正解となります。



※1. このプリントは、しながわ・目黒こどもスクールのウェブサイトでダウンロードができます。無断複写・引用はご遠慮ください。
※2. このプリントを活用したオンライン授業のスケジュールは、しながわ・目黒こどもスクールのウェブサイトでご確認ください。




おうちで、やろう。


Study at home. 小学校受験の家庭学習教材

推理：シルエット①

サッカー選手がたくさんいます。右足でボールを扱っている人を5人えらんで○をつけましょう。



ラケットを持った人がたくさんいます。左手にラケットを持っている人を3人えらんで○をつけましょう。



※1. このプリントは、しながわ・目黒こどもスクールのウェブサイトダウンロードができます。無断複写・引用はご遠慮ください。
※2. このプリントを活用したオンライン授業のスケジュールは、しながわ・目黒こどもスクールのウェブサイトでご確認ください。



おうちで、やろう。

Study at home. 小学校受験の家庭学習教材

推理：条件推理⑪

3匹の動物が誰の車が一番速いのかを決めるために2匹ずつ3回競争をしました。下の絵はゴールの様子です。左のゴールの線に一番早く着いた動物が1番です。3回の競争の様子を見て、上に並んでいる3匹を早かった順に下の1、2、3の旗と線で結びましょう。

※1. このプリントは、しながわ・目黒こどもスクールのウェブサイトでダウンロードができます。無断複写・引用はご遠慮ください。

※2. このプリントを活用したオンライン授業のスケジュールは、しながわ・目黒こどもスクールのウェブサイトでご確認ください。



おうちで、やろう。

Study at home. 小学校受験の家庭学習教材

推理：条件推理⑫

左に2枚の写真があります。それぞれ同じ絵のものは違う大きさで写っていますが、これは写真を撮った位置が違うので違う大きさに見えるだけで、同じ大きさです。この2枚の写真を見て大きい順に並べたとき一番大きいものから順番に、○→△→× を左の絵の下の四角にかきます。

※1. このプリントは、しながわ・目黒こどもスクールのウェブサイトでダウンロードができます。無断複写・引用はご遠慮ください。
※2. このプリントを活用したオンライン授業のスケジュールは、しながわ・目黒こどもスクールのウェブサイトでご確認ください。



おうちで、やろう。

Study at home. 小学校受験の家庭学習教材

推理：条件推理⑬

問題をよく聞いてそれぞれの問いに答えましょう。

①ウサギさんとブタさんとパンダさんは2匹ずつかけっこをしました。パンダさんはブタさんとウサギさんに勝ちました。


ブタさんはウサギさんに勝ちました。早かった順に動物と旗を結びましょう。

②クマさんとトラさんとイヌさんは二匹ずつ綱引きをしました。イヌさんはトラさんに勝ちました。クマさんはトラさんに勝ちました。イヌさんはクマさんにも勝ちました。強かった順に動物と旗を結びましょう。

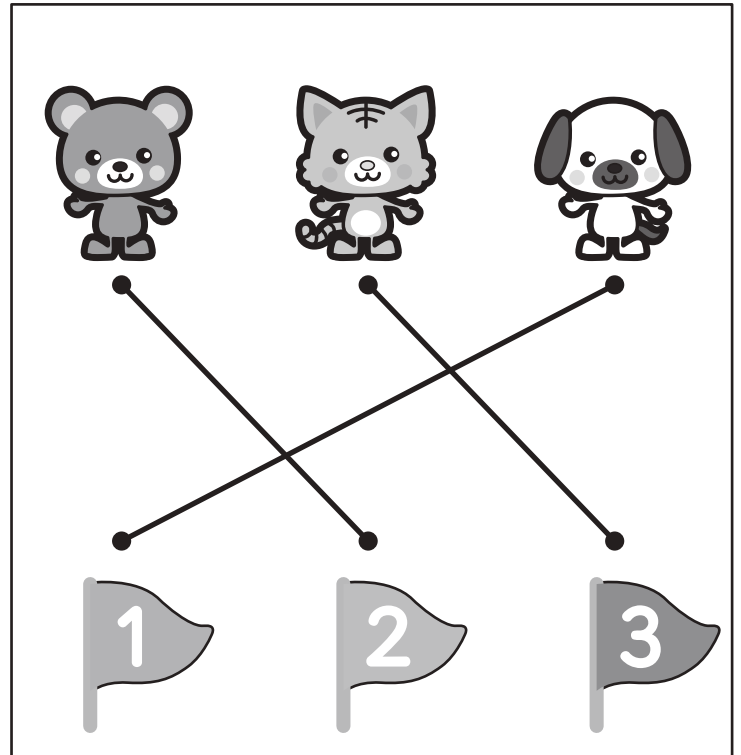
③3つの印がついたお鍋があります。3つのお鍋を比べた時に、☆がついているお鍋は○のお鍋より小さいです。○がついているお鍋は口がついているお鍋よりも小さいです。3つのお鍋を大きい順に並べたとき大きい順に○→△→× と絵の下の四角にかきましょう。

④動物の絵が書かれているテントが3つあります。3つのテントを比べた時に、クマのテントよりウサギのテントは小さいです。パンダのテントよりウサギさんのテントは小さいです。パンダのテントはクマのテントより大きいです。3つのテントを大きい順に並べたとき大きい順に○→△→× と絵の下の四角にかきましょう。

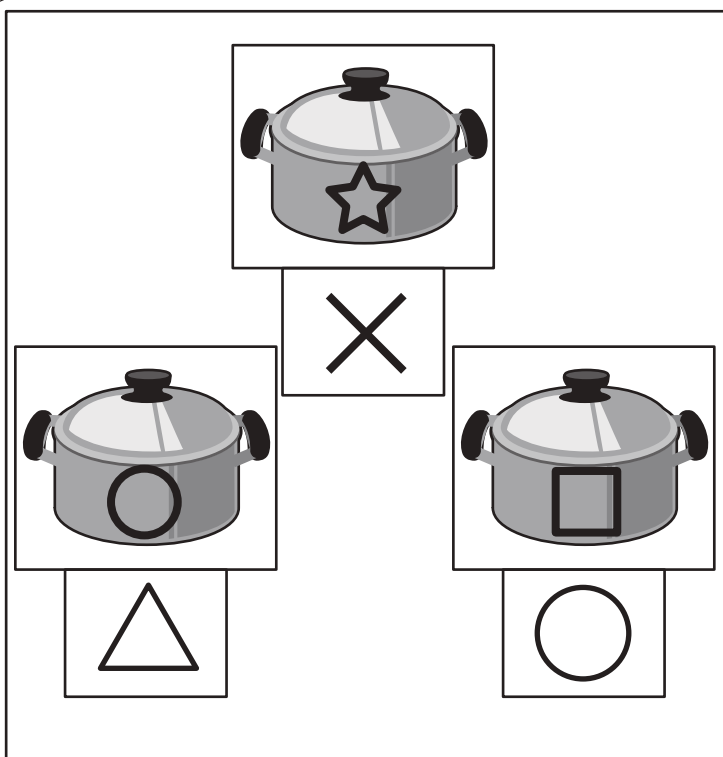
①



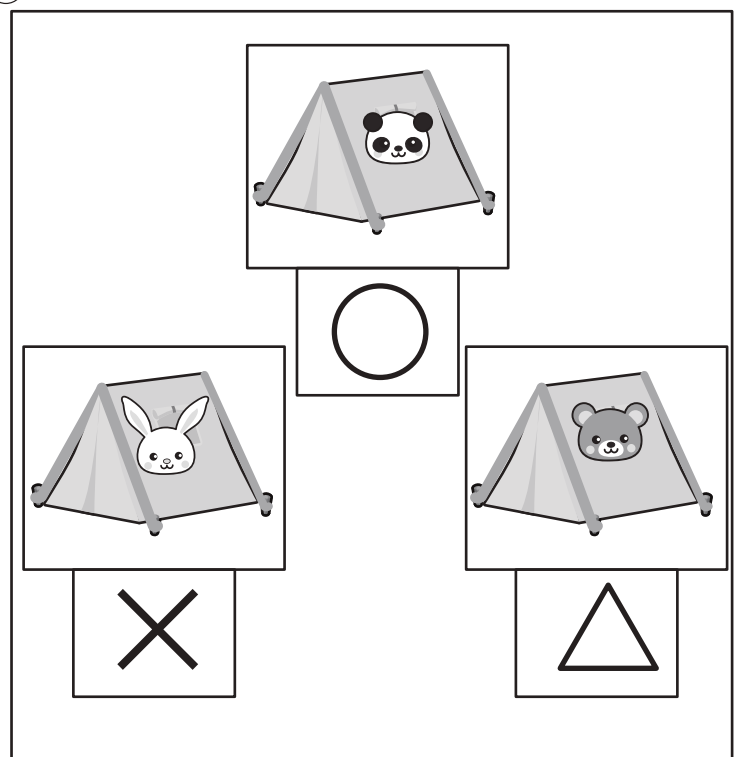
②



③



④



※1. このプリントは、しながわ・目黒こどもスクールのウェブサイトでダウンロードができます。無断複写・引用はご遠慮ください。

※2. このプリントを活用したオンライン授業のスケジュールは、しながわ・目黒こどもスクールのウェブサイトでご確認ください。

