







# おうちで、やろう。

Study at home. 小学校受験の家庭学習教材





## 常識：動物⑤

別紙『常識：動物⑤(問題文)』を使用します。3つのヒントを聞き、どの動物の事をお話しているのか考えて○をつけます。





①





②





③

④

⑤

※1. このプリントは、しながわ・目黒こどもスクールのウェブサイトでダウンロードができます。無断複写・引用はご遠慮ください。

※2. このプリントを活用したオンライン授業のスケジュールは、しながわ・目黒こどもスクールのウェブサイトでご確認ください。















# おうちで、やろう。




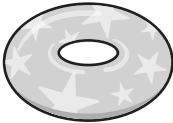



Study at home. 小学校受験の家庭学習教材







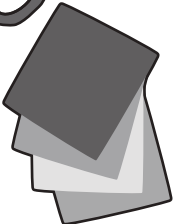
## 言語：音の理解⑫








矢印の左の絵の終わりの音をつなげてできる言葉は何ですか。矢印の右の四角から選んで○をつけます。  
絵の終わりの音は左から順番につなげます。

		→	   
---	---	---	--

		→	   
---	---	---	--

			→	   
---	---	---	---	---

			→	   
---	---	---	---	--

			→	   
---	---	---	---	---

※1. このプリントは、しながわ・目黒こどもスクールのウェブサイトからダウンロードできます。無断複写・引用はご遠慮ください。  
 ※2. このプリントを活用したオンライン授業のスケジュールは、しながわ・目黒こどもスクールのウェブサイトでご確認ください。



# おうちで、やろう。

Study at home. 小学校受験の家庭学習教材

## 言語：音の理解⑬

矢印の左の絵の終わりの音をつなげてできる言葉は何ですか。矢印の右の四角から選んで○をつけます。

	→	
--	---	--

	→	
--	---	--

	→	
--	---	--

	→	
--	---	--

	→	
--	---	--

※1. このプリントは、しながわ・目黒こどもスクールのウェブサイトからダウンロードできます。無断複写・引用はご遠慮ください。  
 ※2. このプリントを活用したオンライン授業のスケジュールは、しながわ・目黒こどもスクールのウェブサイトでご確認ください。



# おうちで、よろう。

Study at home. 小学校受験の家庭学習教材

## 図形：置き換え⑥

左がお手本です。お手本の○は×に、×は○に置き換えて右のマスにかきます。

<table border="1" style="width: 100%; border-collapse: collapse;"> <tr><td>○</td><td>×</td><td></td></tr> <tr><td></td><td>○</td><td>×</td></tr> <tr><td>○</td><td></td><td></td></tr> </table>	○	×			○	×	○			<table border="1" style="width: 100%; border-collapse: collapse;"> <tr><td>×</td><td>○</td><td></td></tr> <tr><td></td><td>×</td><td>○</td></tr> <tr><td>×</td><td></td><td></td></tr> </table>	×	○			×	○	×		
○	×																		
	○	×																	
○																			
×	○																		
	×	○																	
×																			
<table border="1" style="width: 100%; border-collapse: collapse;"> <tr><td></td><td>×</td><td>○</td></tr> <tr><td></td><td>×</td><td>○</td></tr> <tr><td></td><td></td><td>○</td></tr> </table>		×	○		×	○			○	<table border="1" style="width: 100%; border-collapse: collapse;"> <tr><td></td><td>○</td><td>×</td></tr> <tr><td></td><td>○</td><td>×</td></tr> <tr><td></td><td></td><td>×</td></tr> </table>		○	×		○	×			×
	×	○																	
	×	○																	
		○																	
	○	×																	
	○	×																	
		×																	
<table border="1" style="width: 100%; border-collapse: collapse;"> <tr><td>×</td><td>×</td><td></td></tr> <tr><td>○</td><td>○</td><td>○</td></tr> <tr><td></td><td></td><td>×</td></tr> </table>	×	×		○	○	○			×	<table border="1" style="width: 100%; border-collapse: collapse;"> <tr><td>○</td><td>○</td><td></td></tr> <tr><td>×</td><td>×</td><td>×</td></tr> <tr><td></td><td></td><td>○</td></tr> </table>	○	○		×	×	×			○
×	×																		
○	○	○																	
		×																	
○	○																		
×	×	×																	
		○																	
<table border="1" style="width: 100%; border-collapse: collapse;"> <tr><td></td><td>○</td><td>×</td></tr> <tr><td>×</td><td></td><td>×</td></tr> <tr><td>○</td><td>×</td><td>○</td></tr> </table>		○	×	×		×	○	×	○	<table border="1" style="width: 100%; border-collapse: collapse;"> <tr><td></td><td>×</td><td>○</td></tr> <tr><td>○</td><td></td><td>○</td></tr> <tr><td>×</td><td>○</td><td>×</td></tr> </table>		×	○	○		○	×	○	×
	○	×																	
×		×																	
○	×	○																	
	×	○																	
○		○																	
×	○	×																	
<table border="1" style="width: 100%; border-collapse: collapse;"> <tr><td>○</td><td>×</td><td>○</td></tr> <tr><td>×</td><td>○</td><td></td></tr> <tr><td></td><td>×</td><td>×</td></tr> </table>	○	×	○	×	○			×	×	<table border="1" style="width: 100%; border-collapse: collapse;"> <tr><td>×</td><td>○</td><td>×</td></tr> <tr><td>○</td><td>×</td><td></td></tr> <tr><td></td><td>○</td><td>○</td></tr> </table>	×	○	×	○	×			○	○
○	×	○																	
×	○																		
	×	×																	
×	○	×																	
○	×																		
	○	○																	

※1. このプリントは、しながわ・目黒こどもスクールのウェブサイトでダウンロードができます。無断複写・引用はご遠慮ください。  
 ※2. このプリントを活用したオンライン授業のスケジュールは、しながわ・目黒こどもスクールのウェブサイトでご確認ください。

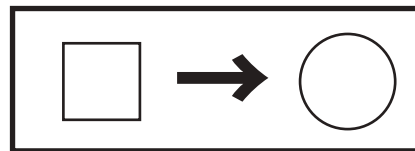

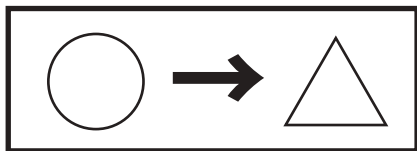


# おうちで、やろう。

Study at home. 小学校受験の家庭学習教材

## 図形：置き換え⑦

上の太いの四角が約束です。左のお手本を約束のように記号を変えて右の同じマスに記号をかきます。



○			
	△		□
		○	
□			△

△			
	□		○
		△	
○			□

○			
□		△	□
△	○		
□		○	△

△			
○		□	○
□	△		
○		△	□

		△	○
	□		
○		△	
			□

		□	△
	○		
△		□	
			○

△	△		△
○		○	
	□		□
□		○	

□	□		□
△		△	
	○		○
○		△	

△			○
		□	
	○		△
	□		

□			△
		○	
	△		□
	○		

	□	△	
○			○
□		△	□
	△	○	

	○	□	
△			△
○		□	○
	□	△	

			○
		□	
□	△		
	○		△

			△
		○	
○	□		
	△		□

	○	△	
△			□
	○	□	
□	△		○

	△	□	
□			○
	△	○	
○	□		△

※1. このプリントは、しながわ・目黒こどもスクールのウェブサイトでダウンロードができます。無断複写・引用はご遠慮ください。  
※2. このプリントを活用したオンライン授業のスケジュールは、しながわ・目黒こどもスクールのウェブサイトでご確認ください。



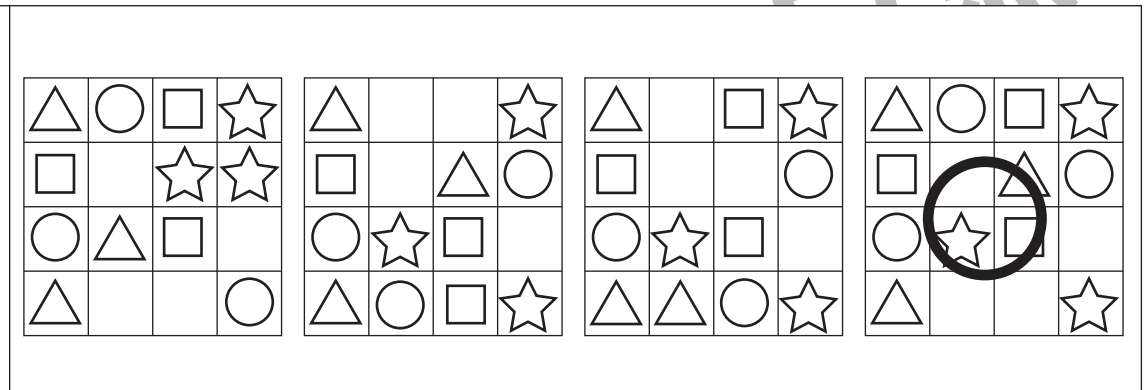

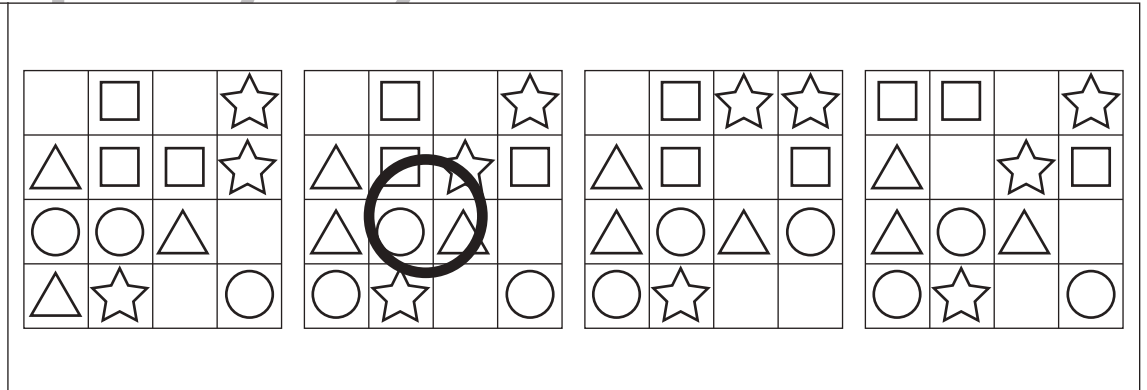

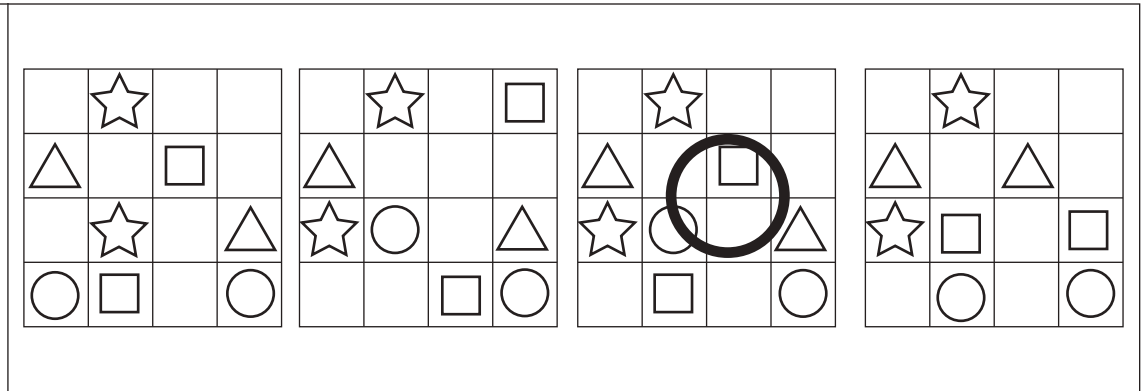
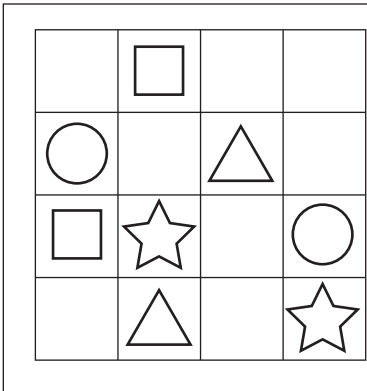
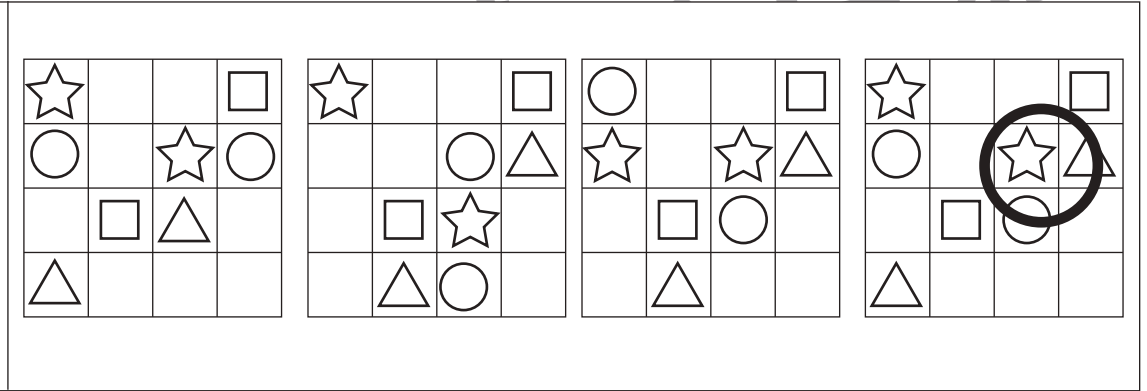
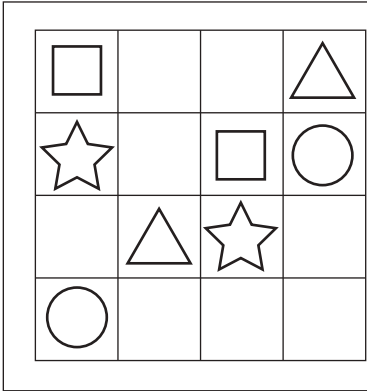

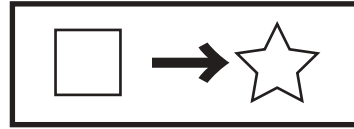

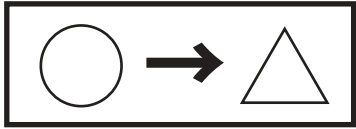


# おうちで、やろう。

Study at home. 小学校受験の家庭学習教材

## 図形：置き換え⑧

上の太い四角が約束です。左のお手本を約束のように記号を変えた時、正しいものを右の4つの中から選んで○をつけます。



※1. このプリントは、しながわ・目黒こどもスクールのウェブサイトでダウンロードができます。無断複写・引用はご遠慮ください。  
※2. このプリントを活用したオンライン授業のスケジュールは、しながわ・目黒こどもスクールのウェブサイトでご確認ください。



# おうちで、やろう。

Study at home. 小学校受験の家庭学習教材

## 推理：積み木①

左の四角の中の積み木はお手本で黒と白の積み木でできています。黒い積み木は見えているものだけで隠れている場所にはありません。お手本の積み木のうち黒い積み木だけをとります。黒い積み木をとったあと、上にあった白い積み木はそのまま下へ落ちます。この時、残った白い積み木の形を右の四角の中から選んで○をつけます。


※1. このプリントは、しながわ・目黒こどもスクールのウェブサイトでダウンロードができます。無断複写・引用はご遠慮ください。

※2. このプリントを活用したオンライン授業のスケジュールは、しながわ・目黒こどもスクールのウェブサイトでご確認ください。



# おうちで、やろう。

Study at home. 小学校受験の家庭学習教材

## 推理：積み木②

左の四角の中の積み木はお手本で黒と白の積み木でできています。黒い積み木は見えているものだけで隠れている場所にはありません。お手本の積み木のうち黒い積み木だけをとります。黒い積み木をとったあと、上にあった白い積み木はそのまま下へ落ちます。この時、残った白い積み木の形を右の四角の中から選んで○をつけます。


※1. このプリントは、しながわ・目黒こどもスクールのウェブサイトでダウンロードができます。無断複写・引用はご遠慮ください。

※2. このプリントを活用したオンライン授業のスケジュールは、しながわ・目黒こどもスクールのウェブサイトでご確認ください。



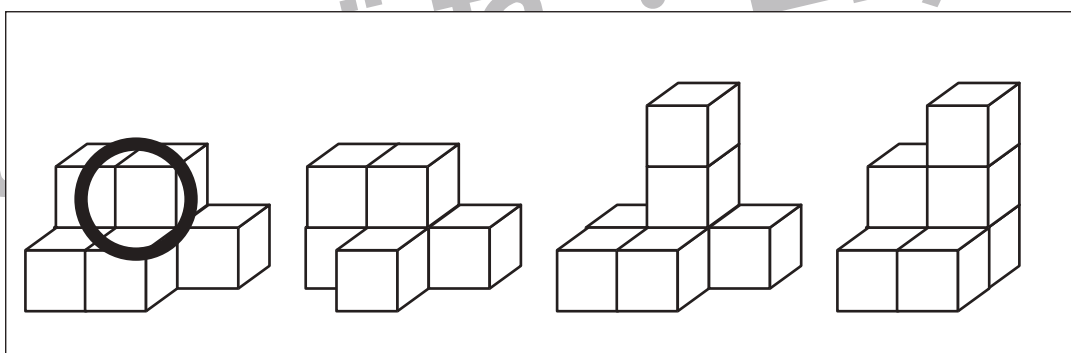
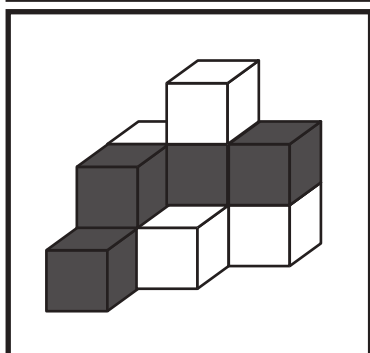
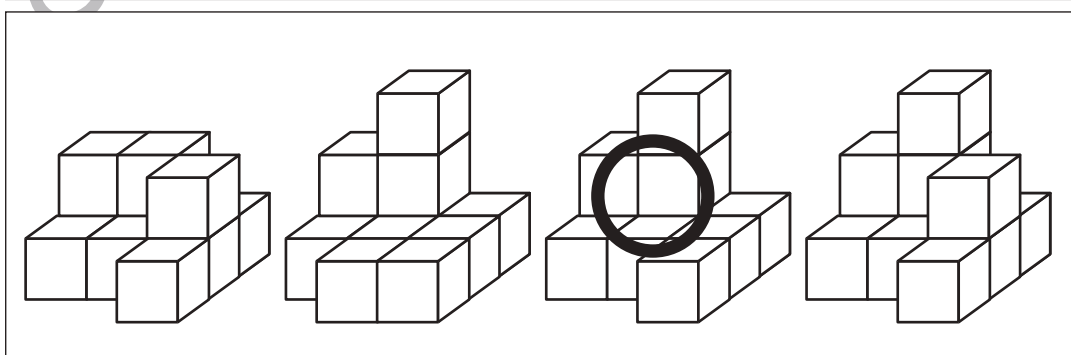
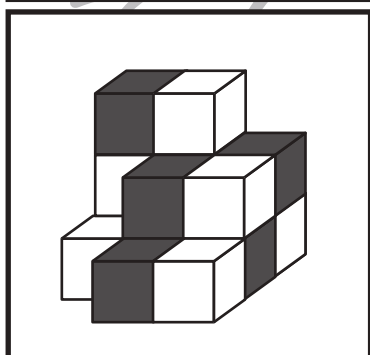
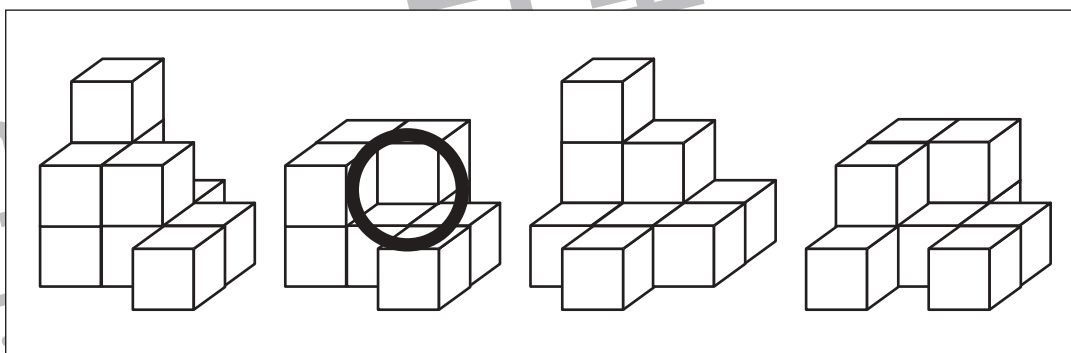
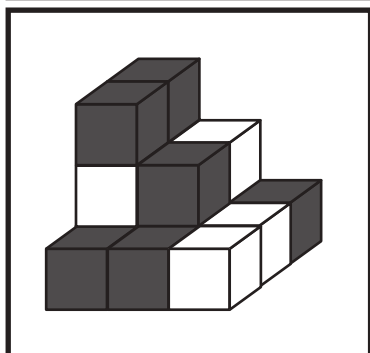
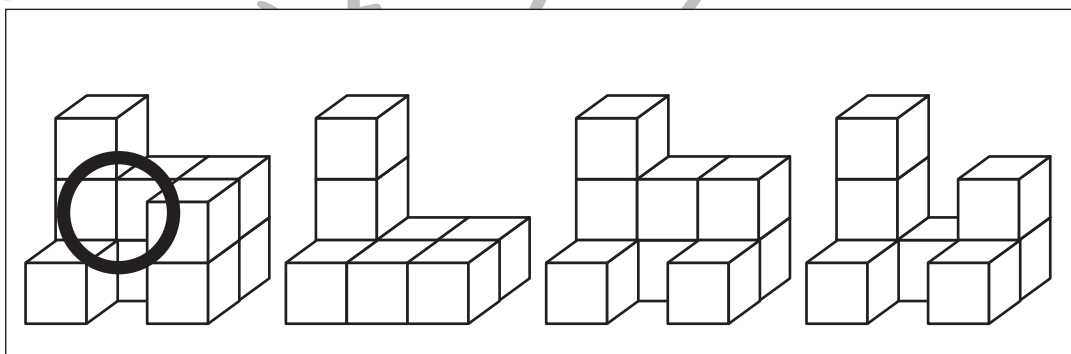
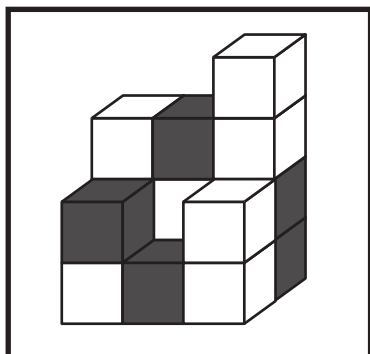
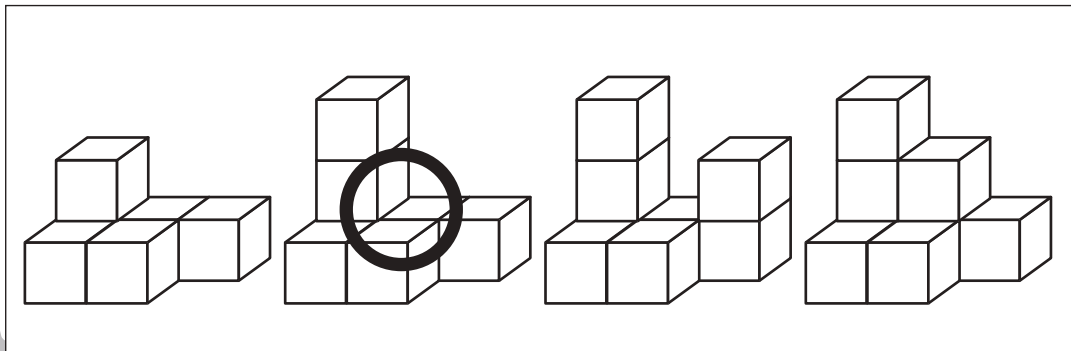
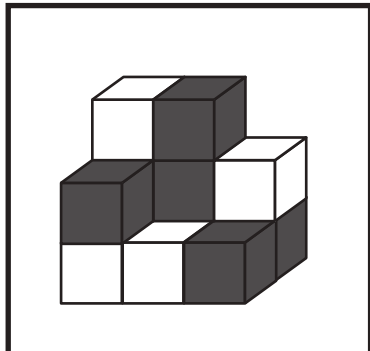


# おうちで、やろう。

Study at home. 小学校受験の家庭学習教材

## 推理：積み木③

左の四角の中の積み木はお手本で黒と白の積み木でできています。黒い積み木は見えているものだけで隠れている場所にはありません。お手本の積み木のうち黒い積み木だけをとります。黒い積み木をとったあと、上にあった白い積み木はそのまま下へ落ちます。この時、残った白い積み木の形を右の四角の中から選んで○をつけます。



※1. このプリントは、しながわ・目黒こどもスクールのウェブサイトでダウンロードができます。無断複写・引用はご遠慮ください。

※2. このプリントを活用したオンライン授業のスケジュールは、しながわ・目黒こどもスクールのウェブサイトでご確認ください。

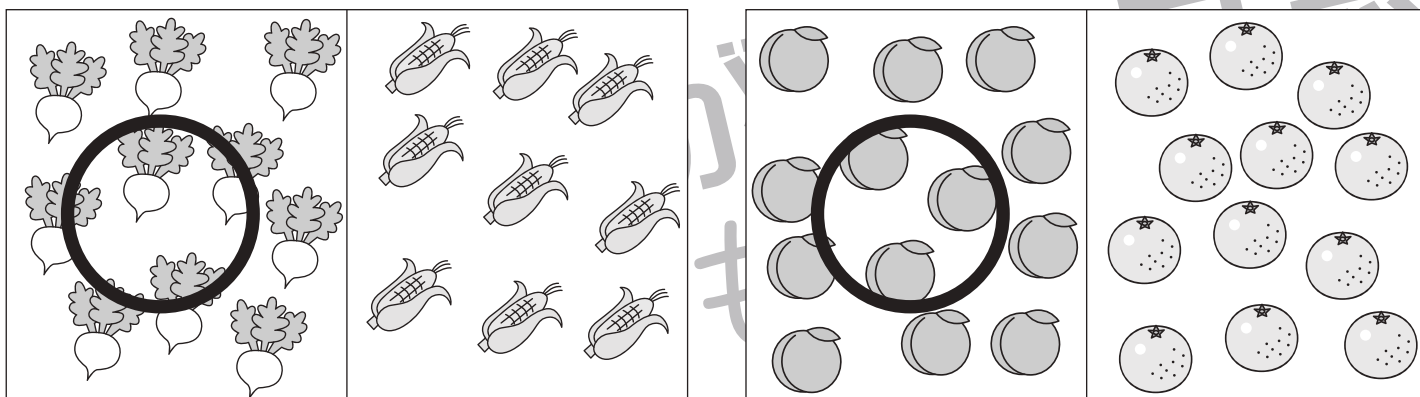
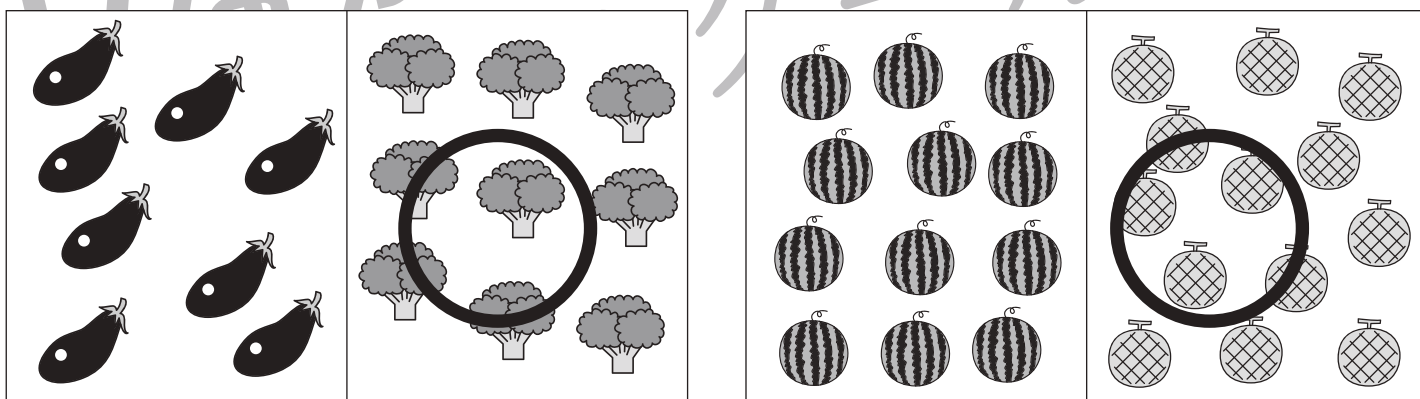
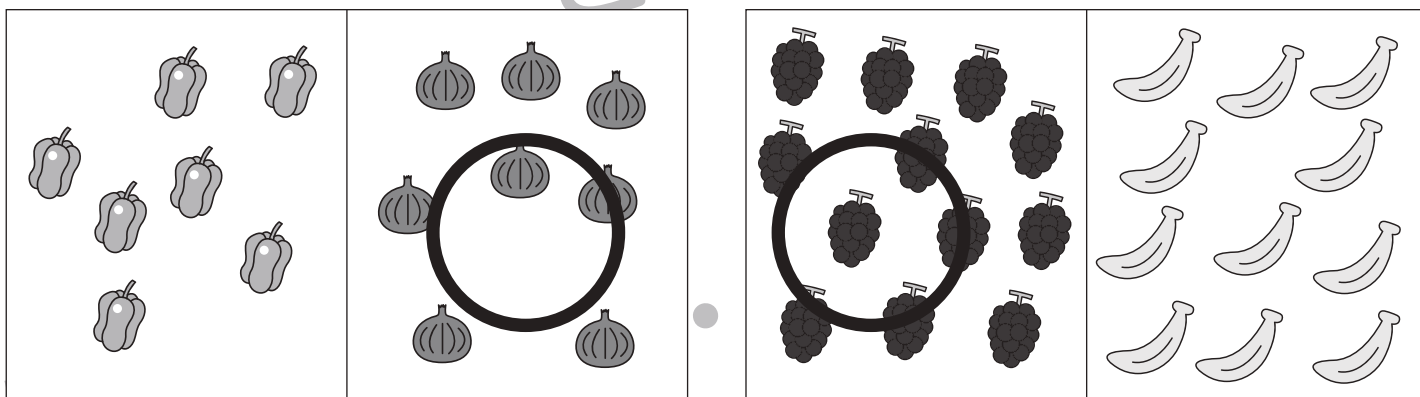
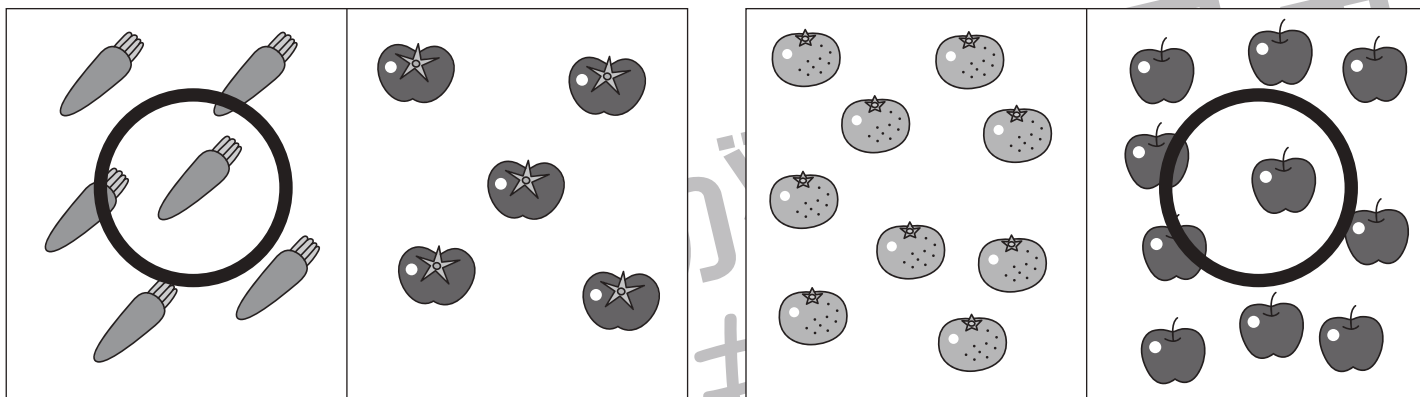


# おうちで、やろう。

Study at home. 小学校受験の家庭学習教材

処理：多少①

それぞれの四角で数が多いのはどちらですか。多い方に○をつけます。  
この問題はスピードを意識して取り組む練習をしてみましょう。(1分30秒～2分)



※1. このプリントは、しながわ・目黒こどもスクールのウェブサイトでダウンロードができます。無断複写・引用はご遠慮ください。  
 ※2. このプリントを活用したオンライン授業のスケジュールは、しながわ・目黒こどもスクールのウェブサイトでご確認ください。