







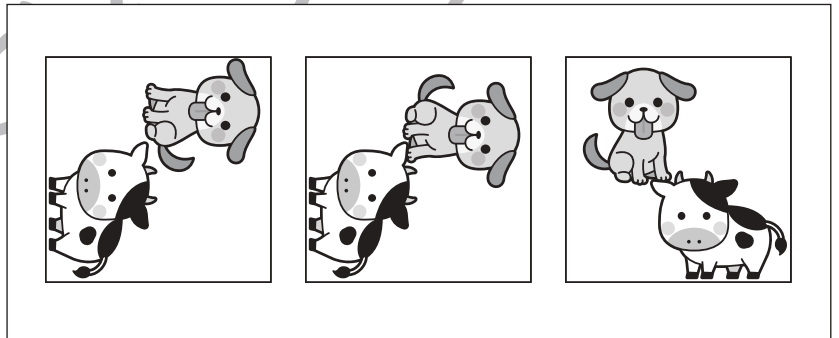


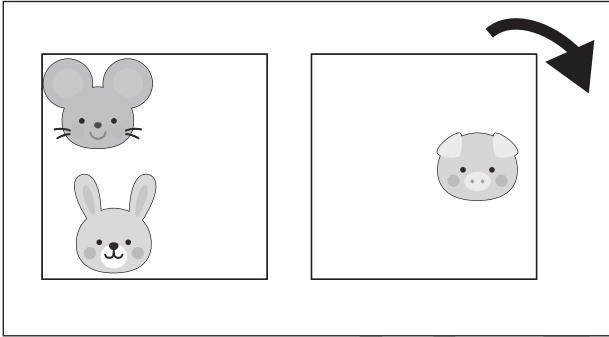


おうちで、やろう。

Study at home. 小学校受験の家庭学習教材

図形：重ね回転⑦

左の2枚の四角は透明な板です。この2枚の四角をぴったり重ねた後、矢印の方向へ1回倒したときの見え方を考えます。正しいものを右の四角の中から選んで○をつけます。



※1. このプリントは、しながわ・目黒こどもスクールのウェブサイトからダウンロードできます。無断複写・引用はご遠慮ください。
※2. このプリントを活用したオンライン授業のスケジュールは、しながわ・目黒こどもスクールのウェブサイトでご確認ください。



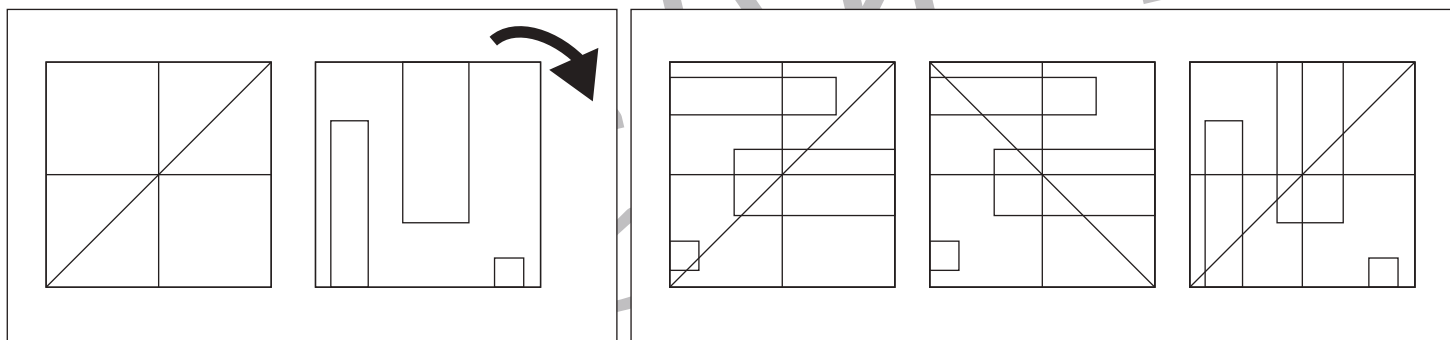
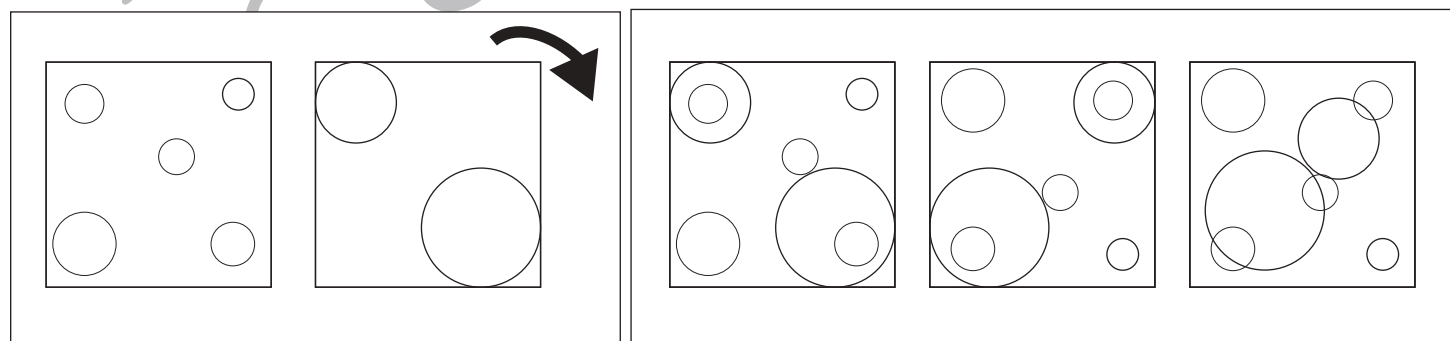
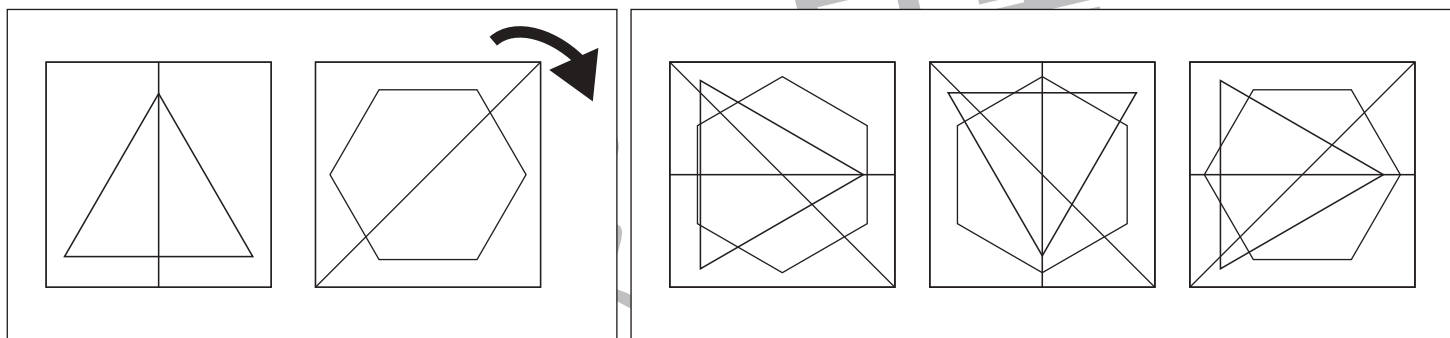
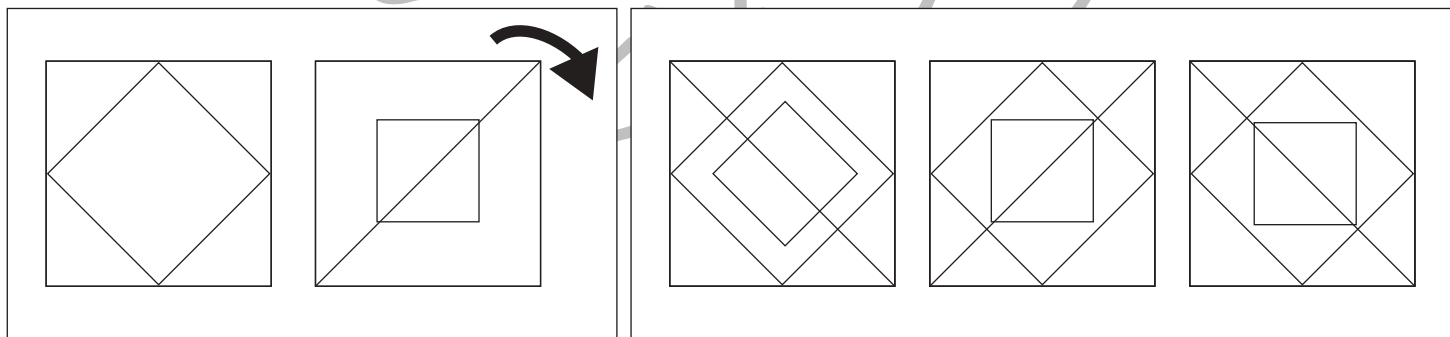



おうちで、やろう。

Study at home. 小学校受験の家庭学習教材

図形：重ね回転⑧

左の2枚の四角は透明な板です。この2枚の四角をぴったり重ねた後、矢印の方向へ1回倒したときの見え方を考えます。正しいものを右の四角の中から選んで○をつけます。



※1. このプリントは、しながわ・目黒こどもスクールのウェブサイトでダウンロードができます。無断複写・引用はご遠慮ください。
 ※2. このプリントを活用したオンライン授業のスケジュールは、しながわ・目黒こどもスクールのウェブサイトでご確認ください。



おうちで、やろう。

Study at home. 小学校受験の家庭学習教材

図形：点図形⑮

左のお手本と同じになるように右の四角に線をかきます。 ※この問題に答えはありません。

※1. このプリントは、しながわ・目黒こどもスクールのウェブサイトでダウンロードができます。無断複写・引用はご遠慮ください。
 ※2. このプリントを活用したオンライン授業のスケジュールは、しながわ・目黒こどもスクールのウェブサイトでご確認ください。



おうちで、やろう。

Study at home. 小学校受験の家庭学習教材

図形：模写⑱

左のお手本と同じになるように右の四角の点を囲みます。 ※この問題に答えはありません。

※1. このプリントは、しながわ・目黒こどもスクールのウェブサイトでダウンロードができます。無断複写・引用はご遠慮ください。
 ※2. このプリントを活用したオンライン授業のスケジュールは、しながわ・目黒こどもスクールのウェブサイトでご確認ください。























おうちで、やろう。

Study at home. 小学校受験の家庭学習教材

推理：条件推理⑭

左の四角の中も動物たちが並んでいます。それぞれ動物たちが場所を入れ替わったときの並び方を考えて、正しいものを右の3つの中から選び○をつけます。 ①ライオンとウサギを入れ替えます。 ②ネコをサルを入れ替えます。



※1. このプリントは、しながわ・目黒こどもスクールのウェブサイトからダウンロードできます。無断複写・引用はご遠慮ください。
※2. このプリントを活用したオンライン授業のスケジュールは、しながわ・目黒こどもスクールのウェブサイトでご確認ください。



おうちで、やろう。

Study at home. 小学校受験の家庭学習教材

推理：条件推理⑮

左の四角の中も動物たちが並んでいます。それぞれ動物たちが場所を入れ替わったときの並び方を考えて、正しいものを右の3つの中から選び○をつけます。 ①サルとクマ、ネコとトラを入れ替えます。 ②リスとクマ、ウサギとトラを入れ替えます。

①

--	--	--	--	--

①

--	--	--	--	--

②

--	--	--	--	--

②

--	--	--	--	--

※1. このプリントは、しながわ・目黒こどもスクールのウェブサイトからダウンロードできます。無断複写・引用はご遠慮ください。
※2. このプリントを活用したオンライン授業のスケジュールは、しながわ・目黒こどもスクールのウェブサイトでご確認ください。




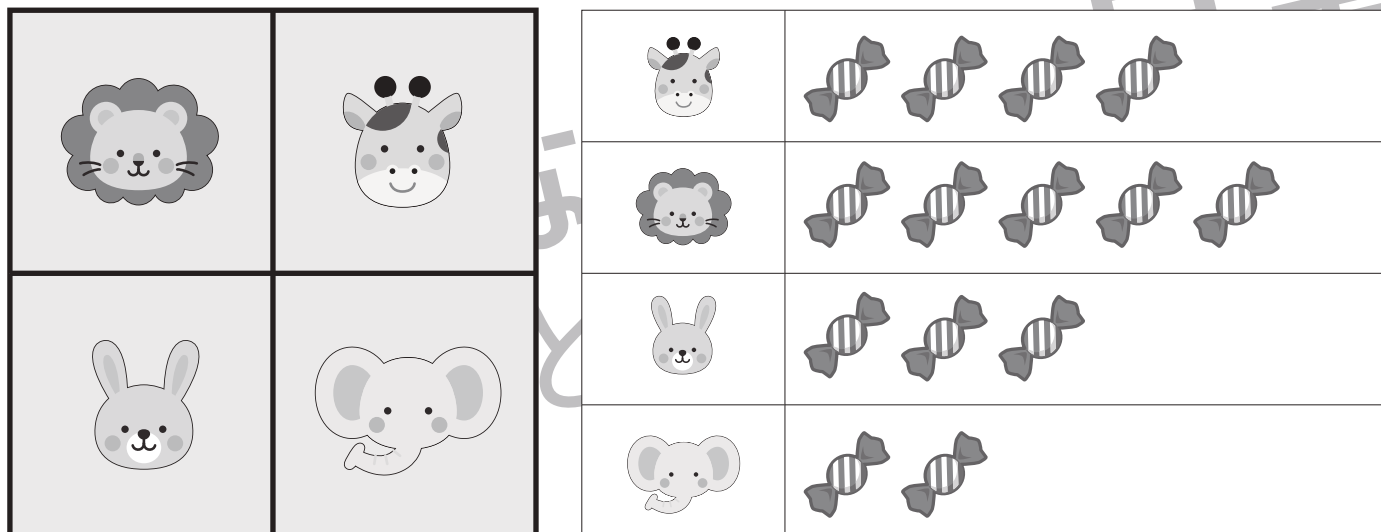


おうちで、やろう。

Study at home. 小学校受験の家庭学習教材

数量：的当てゲーム①

4人のお友だちでの的当てゲームをしました。的は左上の灰色の四角で動物の顔が描いてあるものです。この的にボールを投げて当たった場所に描いてある動物によって飴がもらえます。もらえる飴は的の右の四角の中の数です。この約束で1人3回ボールを投げました。あたった的はそれぞれのお友だちの右にある太い3つの四角の中の絵です。×印の場所はボールが的から外れてどこにもあたりませんでした。この時、それぞれがもらった飴の数だけ一番右の四角の中に○をかきます。



※1. このプリントは、しながわ・目黒こどもスクールのウェブサイトでダウンロードができます。無断複写・引用はご遠慮ください。
 ※2. このプリントを活用したオンライン授業のスケジュールは、しながわ・目黒こどもスクールのウェブサイトでご確認ください。



おうちで、やろう。

Study at home. 小学校受験の家庭学習教材

数量：的当てゲーム②

4人のお友だちでの的当てゲームをしました。的は左上の灰色の四角で動物の顔が描いてあるものです。この的にボールを投げて当たった場所に描いてある動物によって飴がもらえます。もらえる飴は的の右の四角の中の数です。この約束で1人4回ボールを投げました。あたった的はそれぞれのお友だちの右にある太い3つの四角の中の絵です。×印の場所は飴を3つ返さなくてはなりません。○印の場所はボールが的から外れてどこにもあたりませんでした。この時、それぞれがもらった飴の数だけ一番右の四角の中に○をかきます。

×								
		×	3 candies	5 candies	1 candy	5 candies	3 candies	5 candies
	×		5 candies	5 candies	5 candies	5 candies	5 candies	5 candies

			×		
--	--	--	---	--	--

		○			
--	--	---	--	--	--

			×		
--	--	--	---	--	--

	○			×	
--	---	--	--	---	--

※1. このプリントは、しながわ・目黒こどもスクールのウェブサイトでダウンロードができます。無断複写・引用はご遠慮ください。
※2. このプリントを活用したオンライン授業のスケジュールは、しながわ・目黒こどもスクールのウェブサイトでご確認ください。



おうちで、やろう。

Study at home. 小学校受験の家庭学習教材

数量：的当てゲーム③

2人のお友だちでそれぞれの的当てゲームをしました。的は左上の灰色の四角で乗り物の絵が描いてあるものです。この的にボールを投げて当たった場所に描いてある乗り物によってクッキーがもらえます。もらえるクッキーは的の右の四角の中の数です。この約束で1人5回ボールを投げました。あたった的はそれぞれのお友だちの右の四角に順番に並んでいます。×印の場所はクッキーを2つ返さなくてはなりません。○印の場所はクッキーを3つ返さなくてはなりません。この時、もらったクッキーの枚数が多いのはどちらですか。多いほうのお友だちの一番右の太い四角に○をつけます。引き分けの場合は両方とも○をつけます。

×								
			3 flowers	4 flowers	1 flower	5 flowers	2 flowers	6 flowers
	○	×						

			×	×		
				○	×	
				×	○	
		○				
			○	○		

※1. このプリントは、しながわ・目黒こどもスクールのウェブサイトダウンロードができます。無断複写・引用はご遠慮ください。

※2. このプリントを活用したオンライン授業のスケジュールは、しながわ・目黒こどもスクールのウェブサイトでご確認ください。