



おうちで、やろう。

Study at home. 小学校受験の家庭学習教材

指示の聞き取り⑦

※別紙問題プリント「指示の聞き取り⑦」を用意し、問題に取り組みましょう。

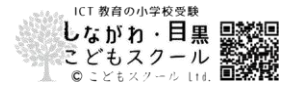
それぞれのお話通りの場所に記号をかきます。

問題は1度しか読みませんのでしっかり聞きましょう。

- ①-1 左の○から横に進んで、上のコアラから下に進んでぶつかるマスに青クーピーで○をつけます。
- ①-2 左の□から横に進んで、上のクマから下に進んでぶつかるマスに青のクーピーで△をつけます。
- ①-3 上のネコから下に進んで、左の△から横に進んでぶつかるマスに青のクーピーで◎をつけます。

- ②-1 ×から右に進んで、ブタから上に進んでぶつかるマスに緑のクーピーで○をつけます。
- ②-2 ○から左に進んで、ネコから下に進んでぶつかるマスに緑のクーピーで△をつけます。
- ②-3 パンダから上に進んで、△から左に進んでぶつかるマスに緑のクーピーで◎をつけます。
- ②-4 イヌから下に進んで□から右に進んでぶつかるマスに緑のクーピーで□をつけます。

※1. このプリントは、しながわ・目黒こどもスクールのウェブサイトからダウンロードができます。無断複写・引用はご遠慮ください。
※2. このプリントを活用したオンライン授業のスケジュールは、しながわ・目黒こどもスクールのウェブサイトでご確認ください。





おうちで、やろう。

Study at home. 小学校受験の家庭学習教材

指示の聞き取り⑦

別紙【指示の聞き取り⑦(問題文)】を使用します。

①

②

※1. このプリントは、しながわ・目黒こどもスクールのウェブサイトでダウンロードができます。無断複写・引用はご遠慮ください。
 ※2. このプリントを活用したオンライン授業のスケジュールは、しながわ・目黒こどもスクールのウェブサイトでご確認ください。



おうちで、やろう。

Study at home. 小学校受験の家庭学習教材

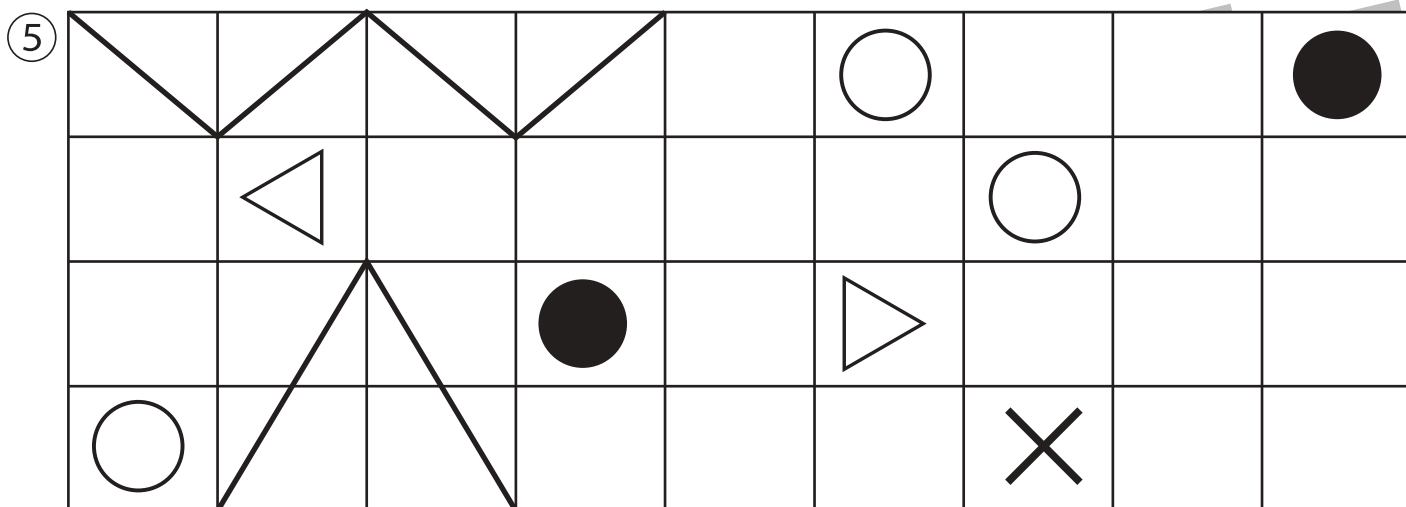
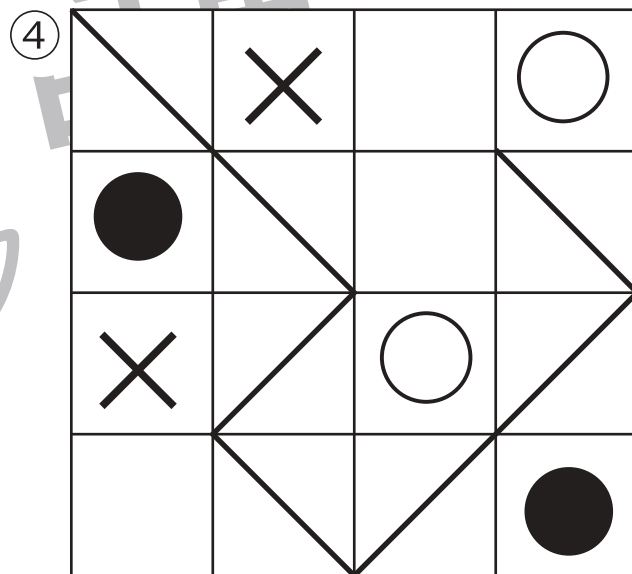
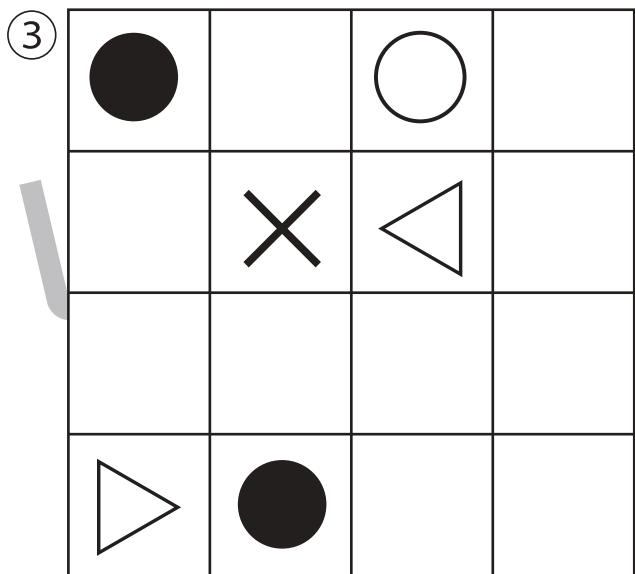
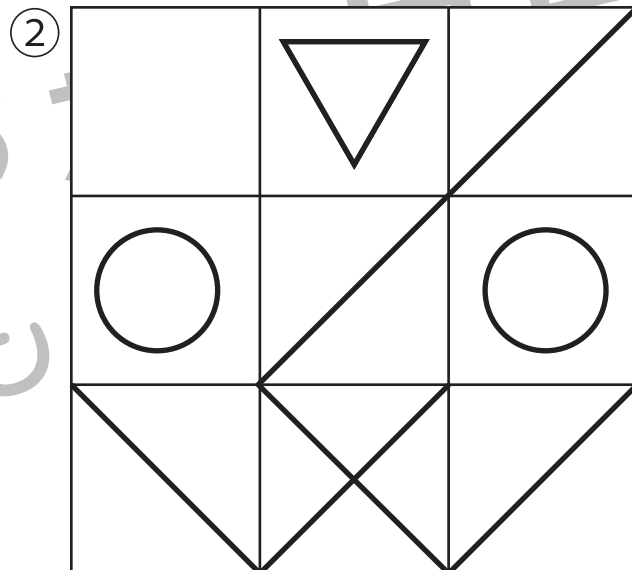
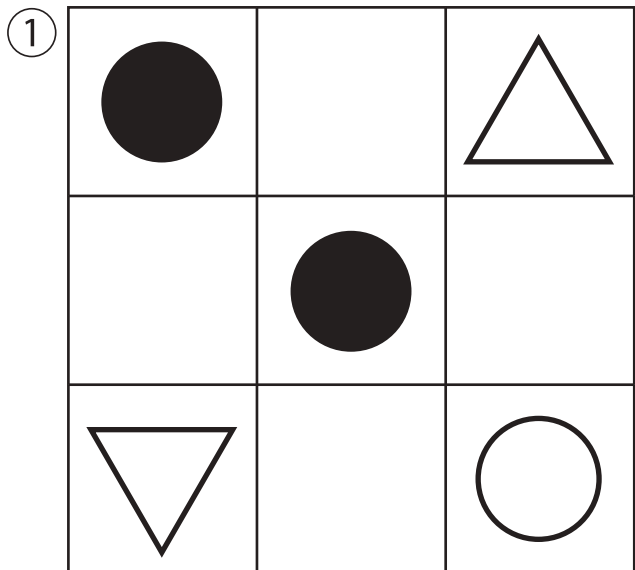
図形：模写⑱(お手本)

お手本(このプリント)を見て別紙問題『図形：模写⑱』にお手本と同じ場所に同じ記号をかきます。

※別紙問題『図形：模写⑱』を使用します。また、解答はこのプリントで確認してください。

※6月7日(月)のオンライン授業では1問ずつお手本を画面で見ながら取り組みます。

ご家庭で取り組む場合は、このプリントを前に掲示、またはお家の方がお子さまの前で持って取り組んでください。



※1. このプリントは、しながわ・目黒こどもスクールのウェブサイトでダウンロードができます。無断複写・引用はご遠慮ください。

※2. このプリントを活用したオンライン授業のスケジュールは、しながわ・目黒こどもスクールのウェブサイトでご確認ください。



おうちで、やろう。

Study at home. 小学校受験の家庭学習教材

図形：模写⑱

別紙『図形：模写⑱(お手本)』を見て、お手本と同じ場所に同じ記号をかきます。

※別紙『図形：模写⑱(お手本)』を使用します。

このプリントに解答はありません。別紙『図形：模写⑱(お手本)』を見て確認してください。

①

②

③

④

⑤

※1. このプリントは、しながわ・目黒こどもスクールのウェブサイトでダウンロードができます。無断複写・引用はご遠慮ください。

※2. このプリントを活用したオンライン授業のスケジュールは、しながわ・目黒こどもスクールのウェブサイトでご確認ください。

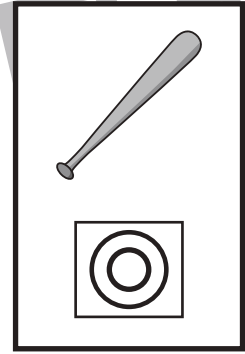
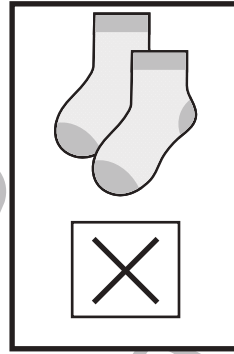




おうちで、やろう。

Study at home. 小学校受験の家庭学習教材

言語：数え方③

上の太い四角の中の絵と同じ数え方をするものを、下の四角の中から見つけて同じ四角の中にあるそれぞれの記号をつけます。



※1. このプリントは、しながわ・目黒こどもスクールのウェブサイトでダウンロードができます。無断複写・引用はご遠慮ください。
※2. このプリントを活用したオンライン授業のスケジュールは、しながわ・目黒こどもスクールのウェブサイトでご確認ください。

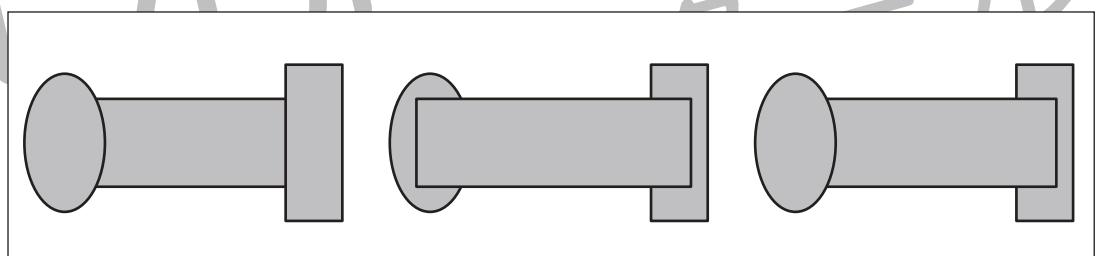
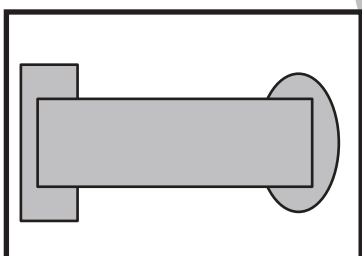
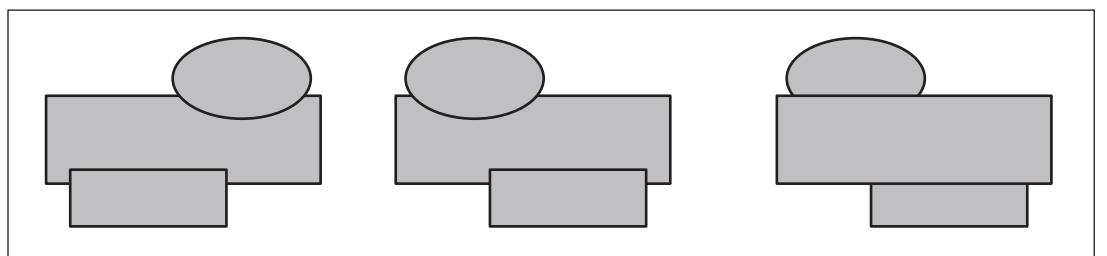
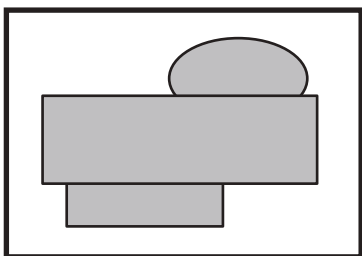
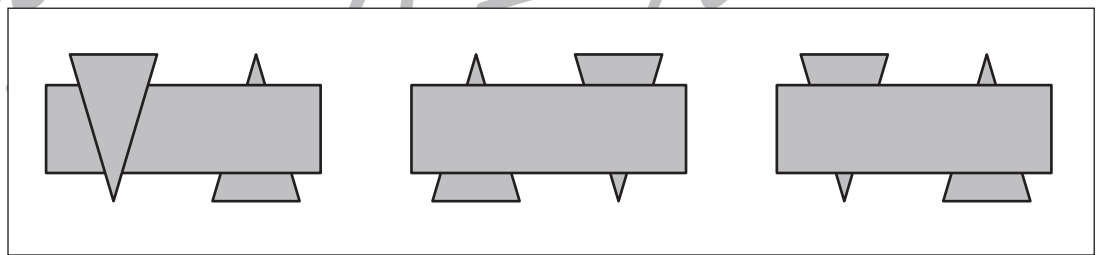
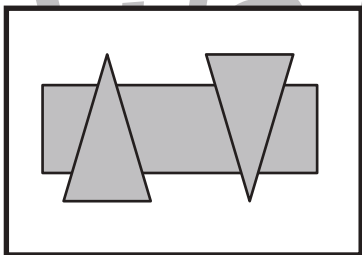
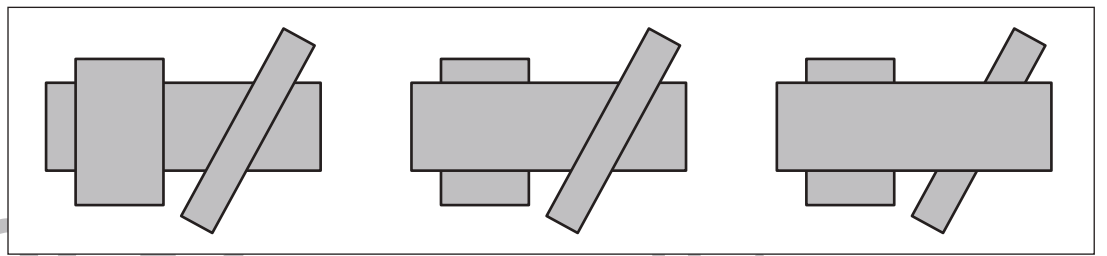
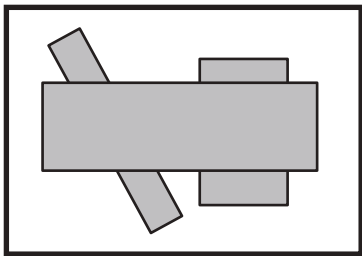
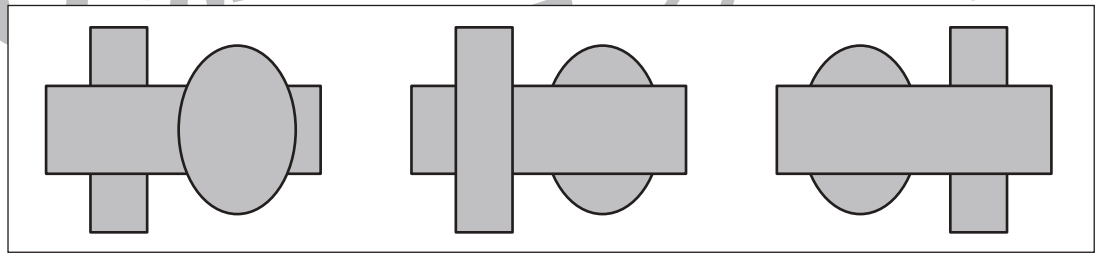
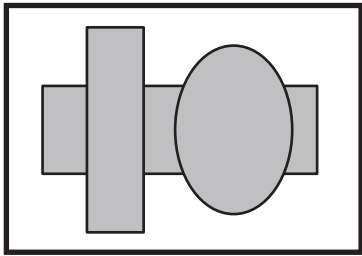
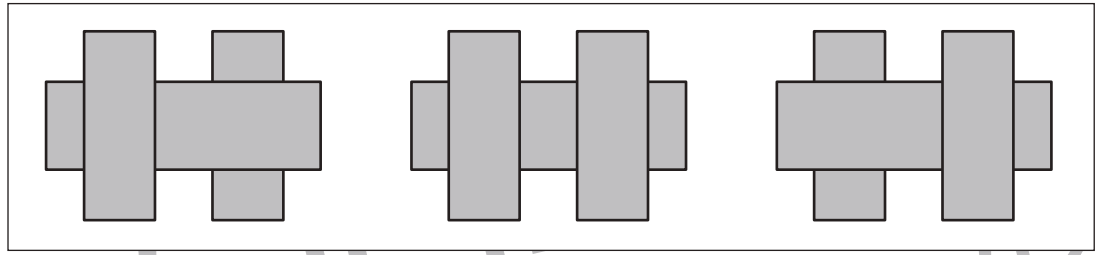
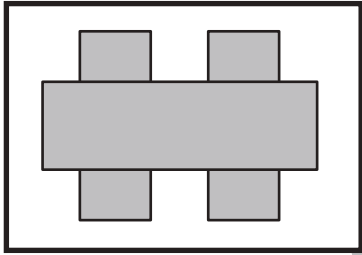


おうちで、やろう。

Study at home. 小学校受験の家庭学習教材

図形：重なり⑨

左の太い四角の中は3つ形が重なったものです。これを裏返して見たときの見え方を右の4つの中から選んで○をつけます。



※1. このプリントは、しながわ・目黒こどもスクールのウェブサイトからダウンロードできます。無断複写・引用はご遠慮ください。
※2. このプリントを活用したオンライン授業のスケジュールは、しながわ・目黒こどもスクールのウェブサイトでご確認ください。

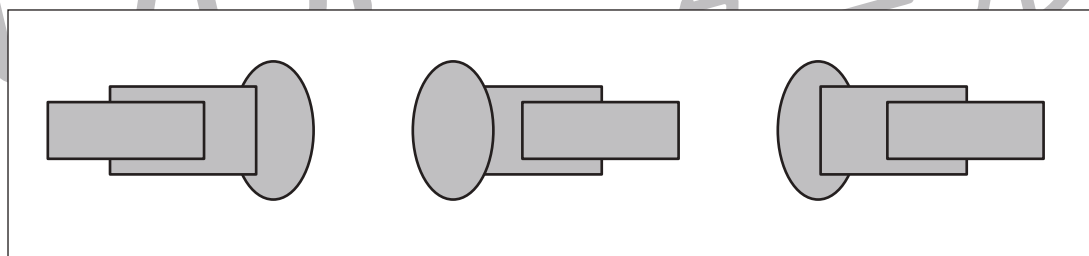
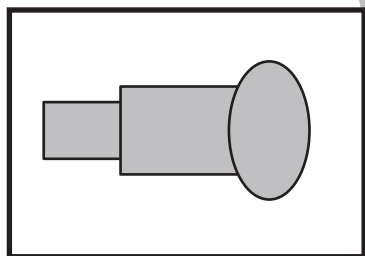
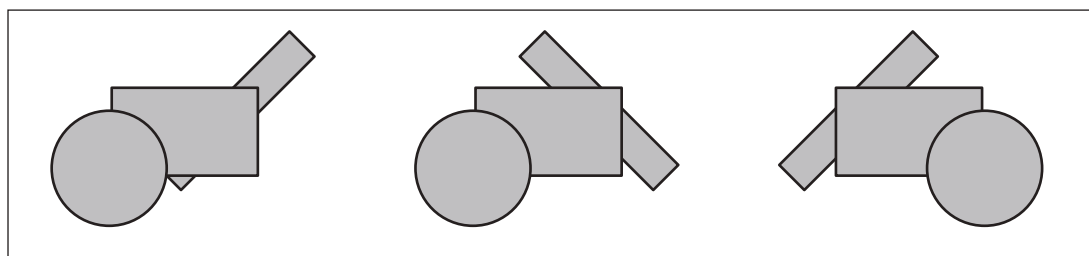
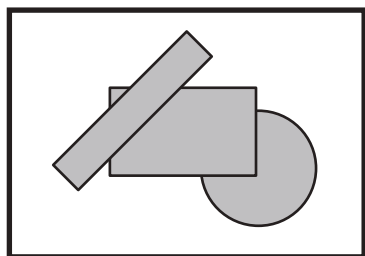
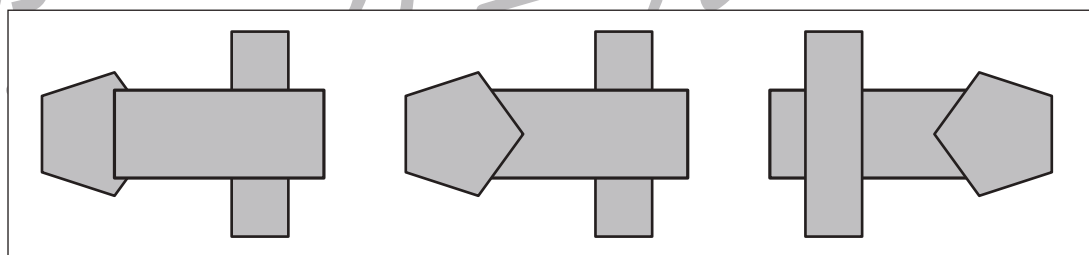
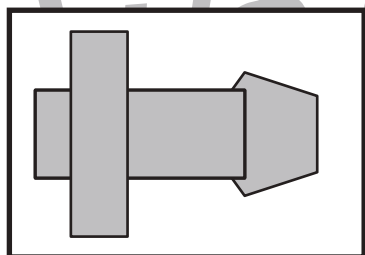
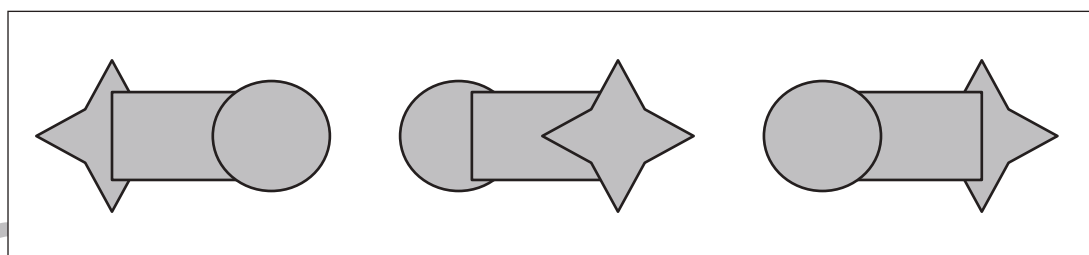
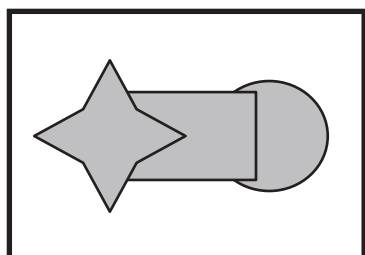
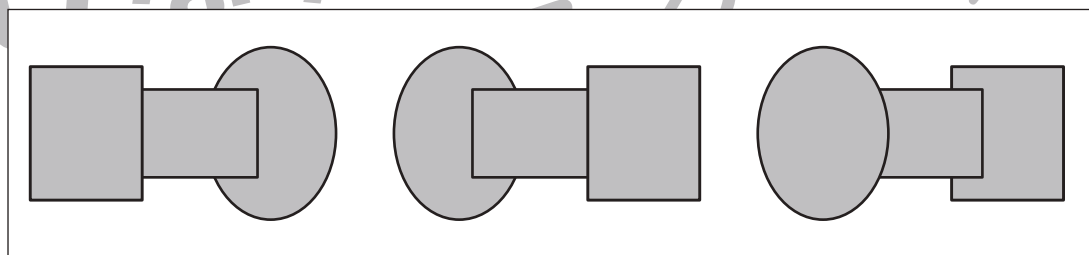
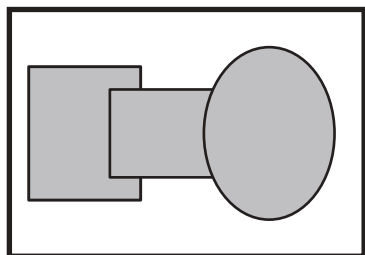
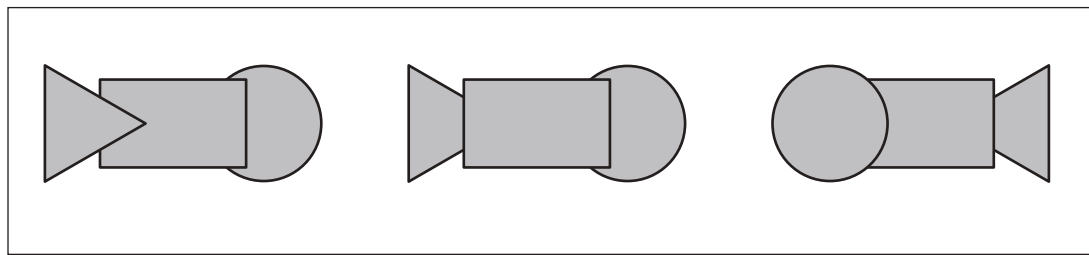
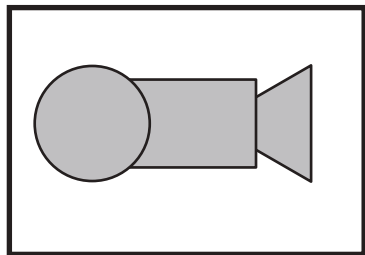


おうちで、やろう。

Study at home. 小学校受験の家庭学習教材

図形：重なり⑩

左の太い四角の中は3つ形が重なったものです。これを裏返して見たときの見え方を右の4つの中から選んで○をつけます。



※1. このプリントは、しながわ・目黒こどもスクールのウェブサイトでダウンロードができます。無断複写・引用はご遠慮ください。
※2. このプリントを活用したオンライン授業のスケジュールは、しながわ・目黒こどもスクールのウェブサイトでご確認ください。



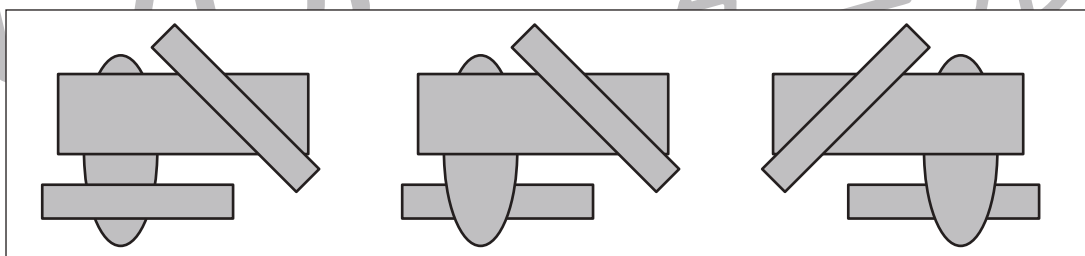
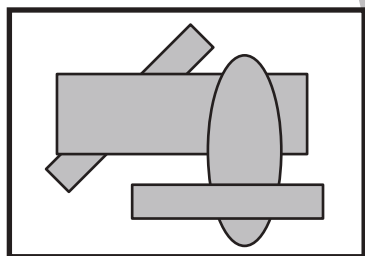
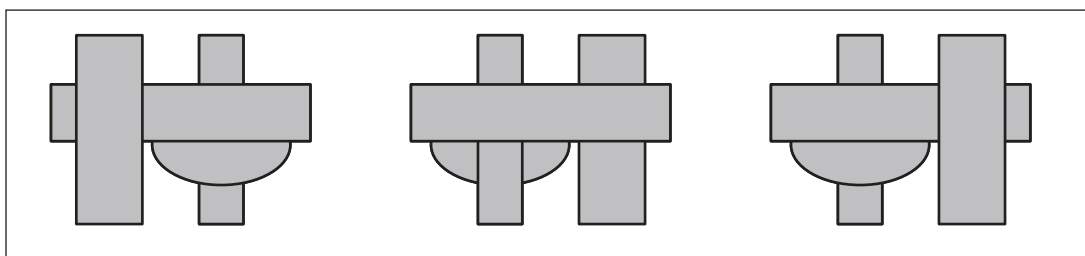
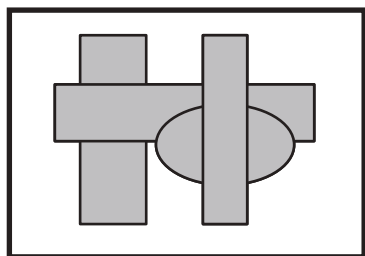
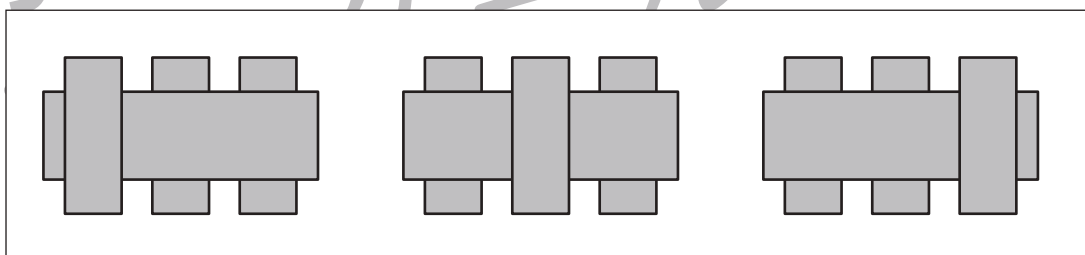
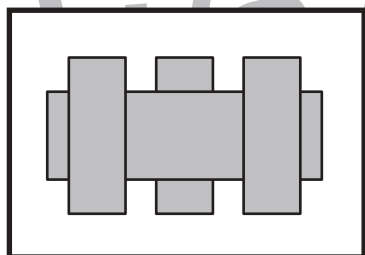
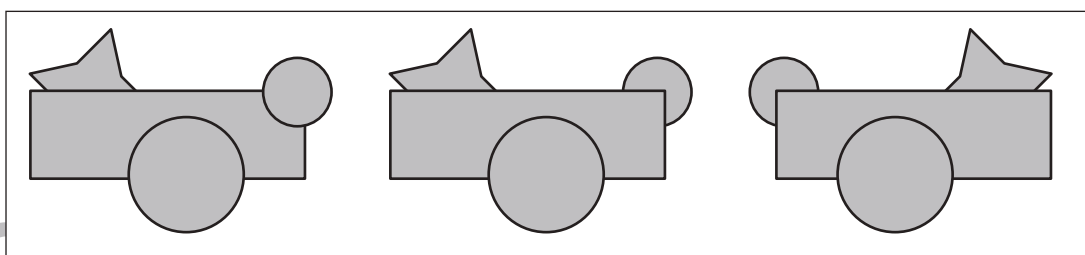
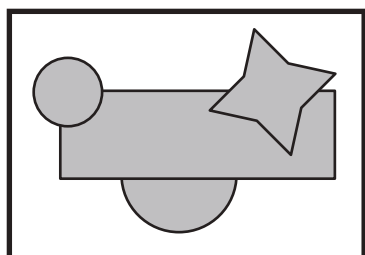
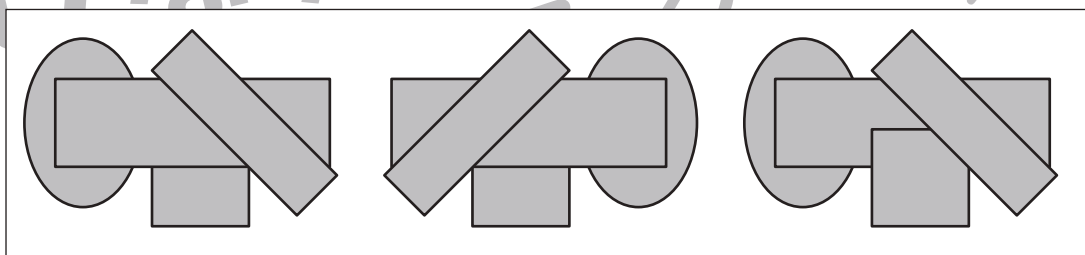
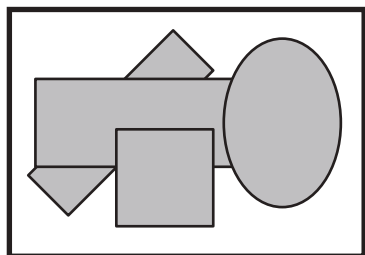
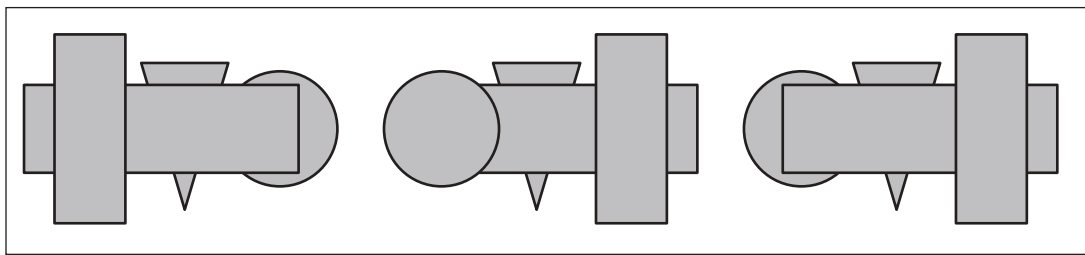
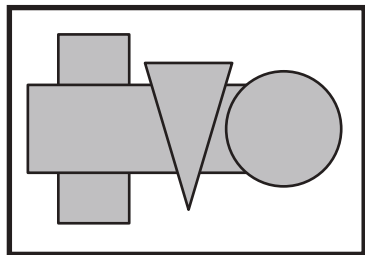


おうちで、やろう。

Study at home. 小学校受験の家庭学習教材

図形：重なり⑪

左の太い四角の中は3つ形が重なったものです。これを裏返して見たときの見え方を右の4つの中から選んで○をつけます。



※1. このプリントは、しながわ・目黒こどもスクールのウェブサイトからダウンロードできます。無断複写・引用はご遠慮ください。
※2. このプリントを活用したオンライン授業のスケジュールは、しながわ・目黒こどもスクールのウェブサイトでご確認ください。













おうちで、やろう。

Study at home. 小学校受験の家庭学習教材

数量：足の数③

それぞれの四角の中の足の数を合わせるといくつになりますか。合わせた足の数が10よりも多い四角に○をつけます。また、合わせた足の数が一番少ない四角には×をつけます。



※1. このプリントは、しながわ・目黒こどもスクールのウェブサイトでダウンロードができます。無断複写・引用はご遠慮ください。
※2. このプリントを活用したオンライン授業のスケジュールは、しながわ・目黒こどもスクールのウェブサイトでご確認ください。





おうちで、やろう。

Study at home. 小学校受験の家庭学習教材

数量：足の数④

上の太い四角の中が約束です。それぞれのサイコロの目が出たとき矢印の下の生き物の足の数だけマスを進めます。
☆からスタートして矢印の方向へ進んだ時、最後に着いたのマスのに○をかきます。


▼	▼	▼	▼	▼	▼



				☆					
				→					



					←				
					☆				



								☆	
								→	

※1. このプリントは、しながわ・目黒こどもスクールのウェブサイトでダウンロードができます。無断複写・引用はご遠慮ください。
※2. このプリントを活用したオンライン授業のスケジュールは、しながわ・目黒こどもスクールのウェブサイトでご確認ください。

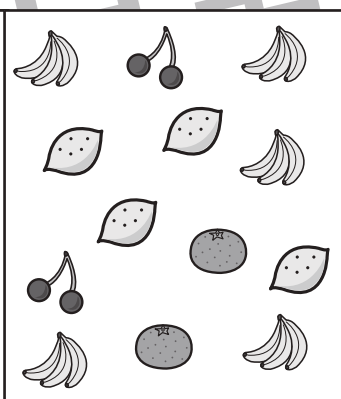

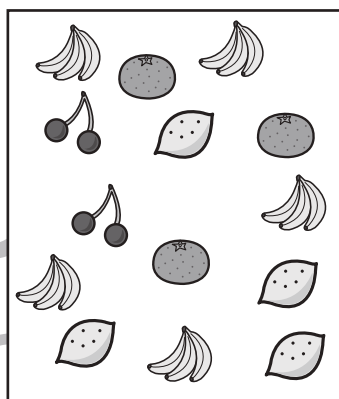













おうちで、やろう。

Study at home. 小学校受験の家庭学習教材

処理：同数①

左の太い四角にある果物の数と同じ数の果物が入っている四角を右の3つの中から選び○をつけます。
この問題はスピードを意識して取り組む練習をしてみましょう。(1分30秒～2分)



※1. このプリントは、しながわ・目黒こどもスクールのウェブサイトからダウンロードできます。無断複写・引用はご遠慮ください。
※2. このプリントを活用したオンライン授業のスケジュールは、しながわ・目黒こどもスクールのウェブサイトでご確認ください。

