



おうちで、やろう。

Study at home. 小学校受験の家庭学習教材

指示の聞き取り⑦

別紙【指示の聞き取り⑦(問題文)】を使用します。

①

②

※1. このプリントは、しながわ・目黒こどもスクールのウェブサイトでダウンロードができます。無断複写・引用はご遠慮ください。

※2. このプリントを活用したオンライン授業のスケジュールは、しながわ・目黒こどもスクールのウェブサイトでご確認ください。


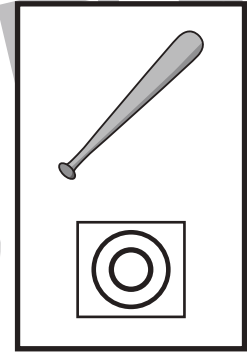
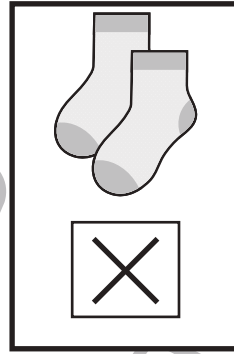




おうちで、やろう。

Study at home. 小学校受験の家庭学習教材

言語：数え方③

上の太い四角の中の絵と同じ数え方をするものを、下の四角の中から見つけて同じ四角の中にあるそれぞれの記号をつけます。



※1. このプリントは、しながわ・目黒こどもスクールのウェブサイトでダウンロードができます。無断複写・引用はご遠慮ください。

※2. このプリントを活用したオンライン授業のスケジュールは、しながわ・目黒こどもスクールのウェブサイトでご確認ください。



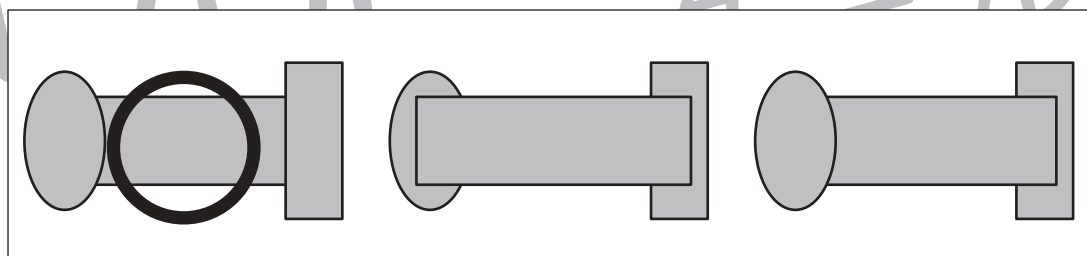
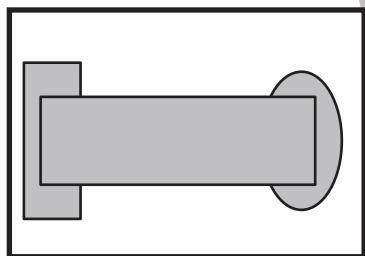
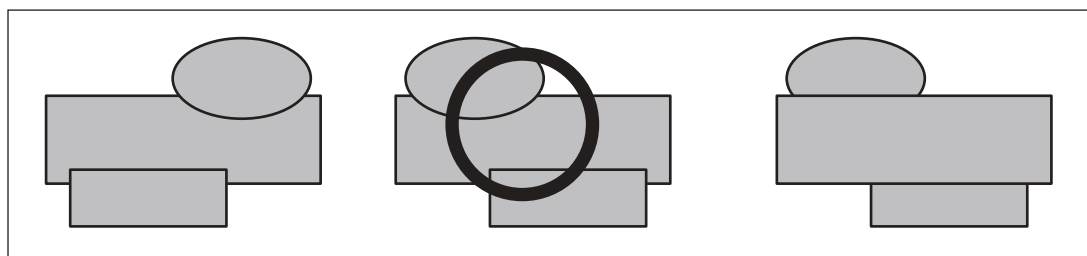
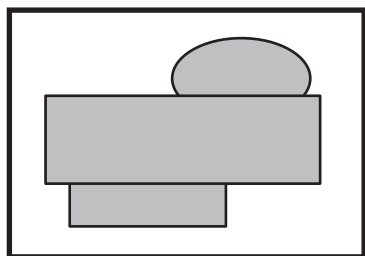
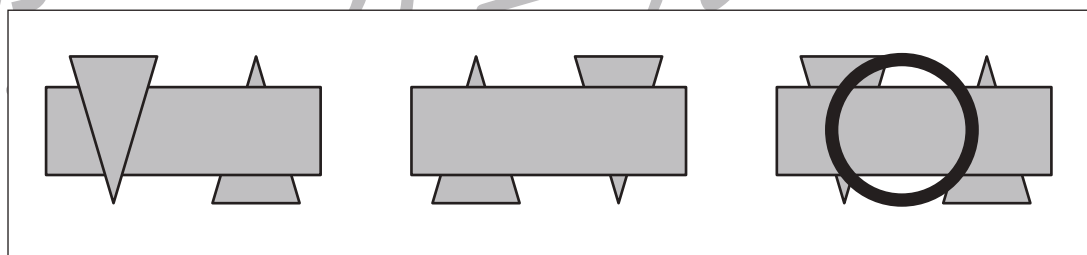
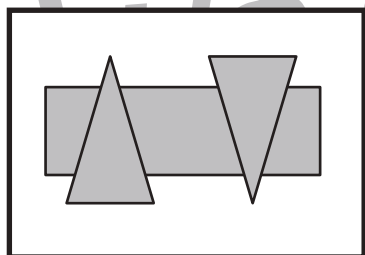
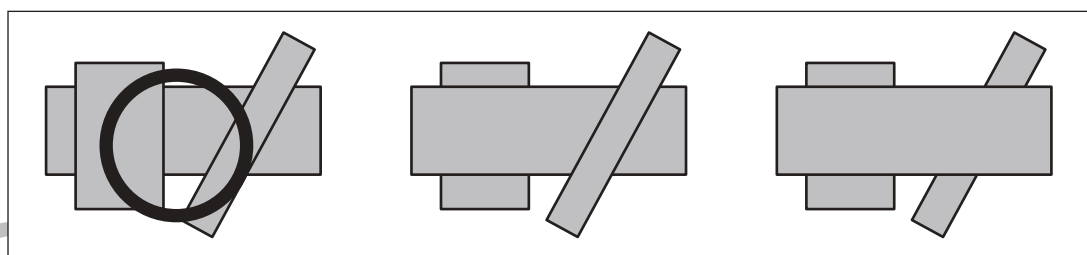
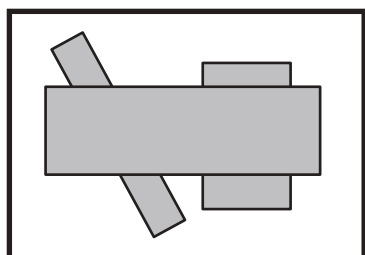
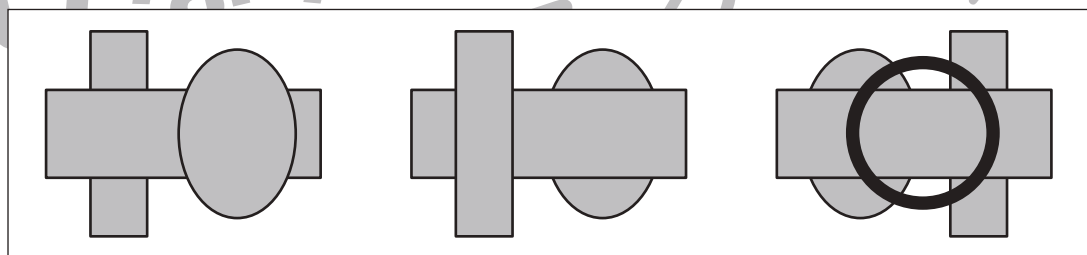
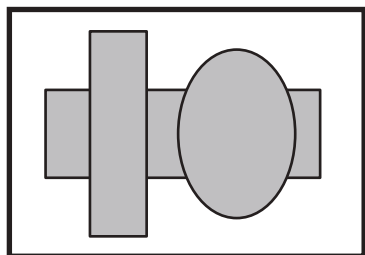
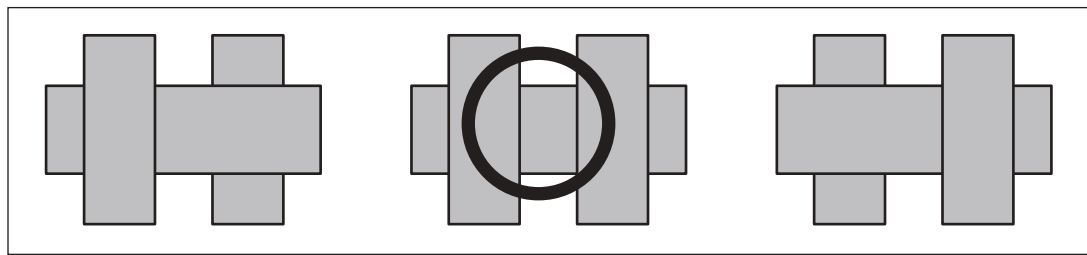
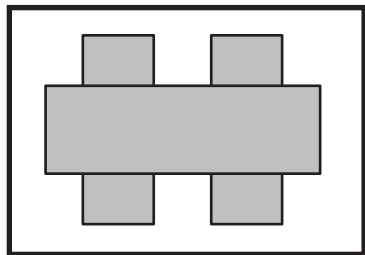


おうちで、やろう。

Study at home. 小学校受験の家庭学習教材

図形：重なり⑨

左の太い四角の中は3つ形が重なったものです。これを裏返して見たときの見え方を右の4つの中から選んで○をつけます。



※1. このプリントは、しながわ・目黒こどもスクールのウェブサイトからダウンロードができます。無断複写・引用はご遠慮ください。
※2. このプリントを活用したオンライン授業のスケジュールは、しながわ・目黒こどもスクールのウェブサイトでご確認ください。

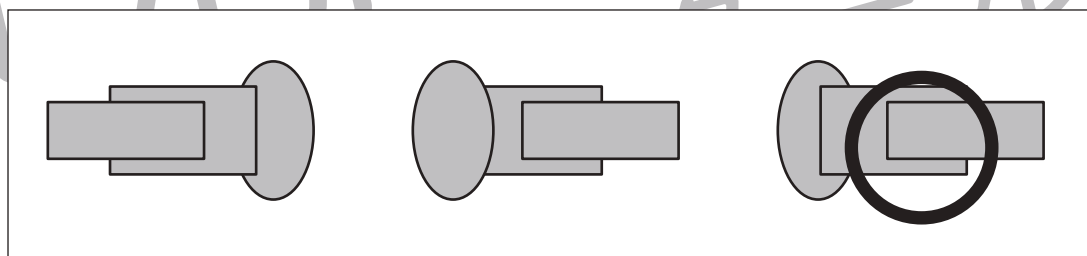
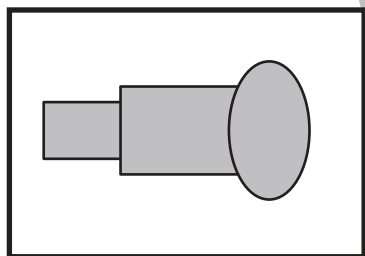
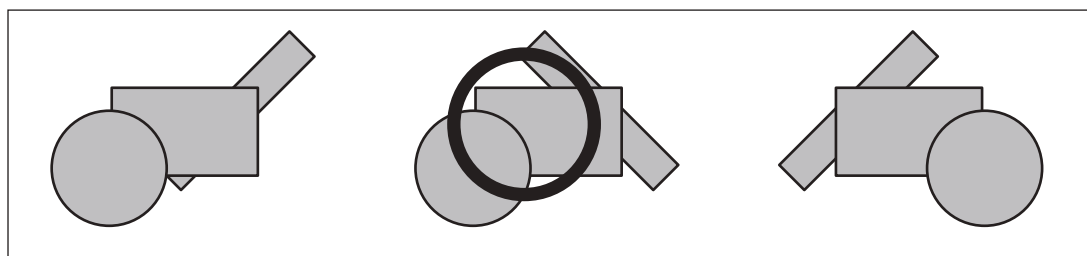
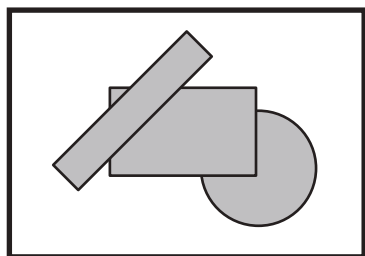
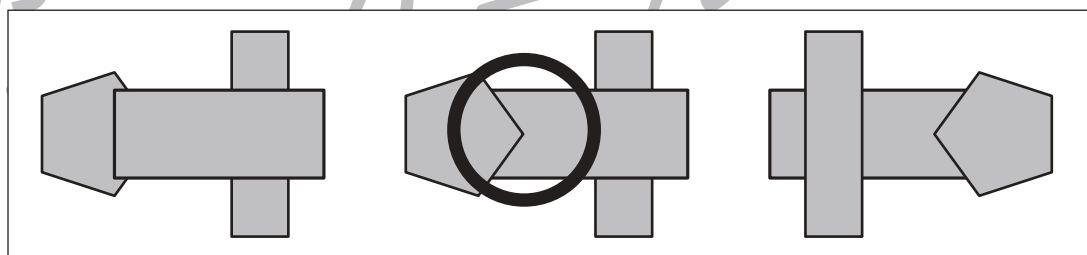
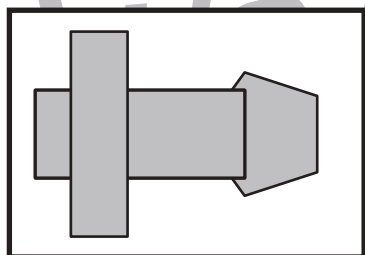
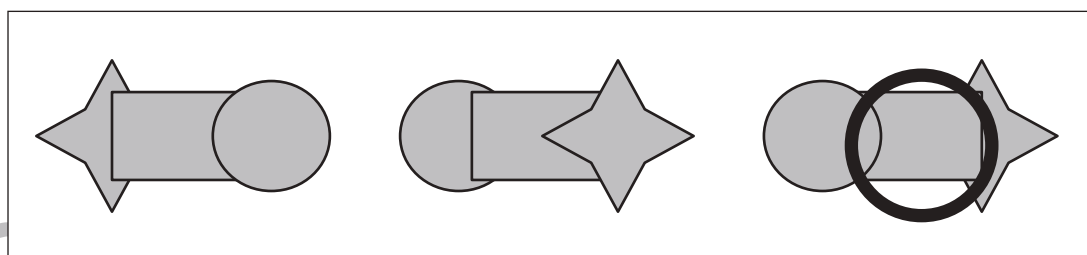
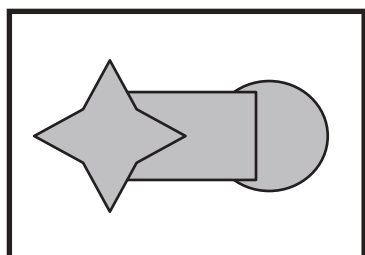
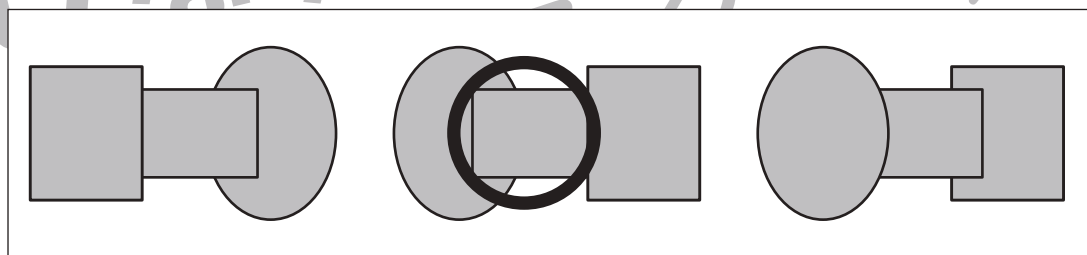
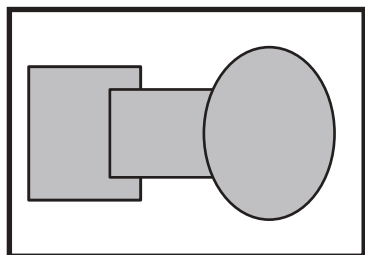
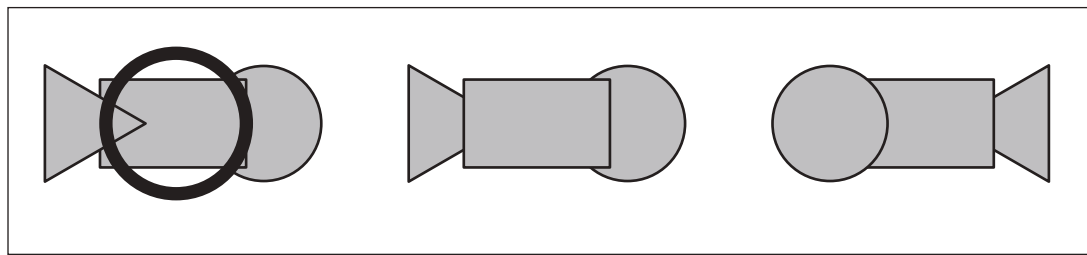
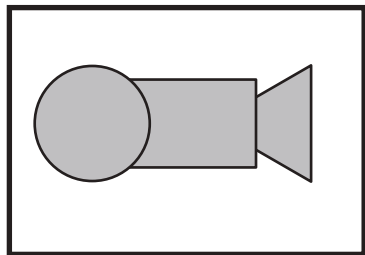


おうちで、やろう。

Study at home. 小学校受験の家庭学習教材

図形：重なり⑩

左の太い四角の中は3つ形が重なったものです。これを裏返して見たときの見え方を右の4つの中から選んで○をつけます。



※1. このプリントは、しながわ・目黒こどもスクールのウェブサイトでダウンロードができます。無断複写・引用はご遠慮ください。
※2. このプリントを活用したオンライン授業のスケジュールは、しながわ・目黒こどもスクールのウェブサイトでご確認ください。

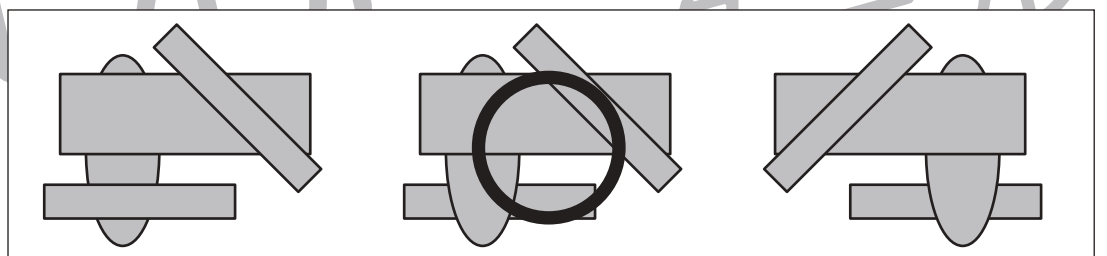
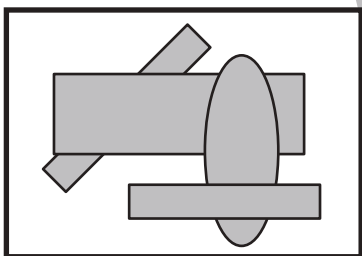
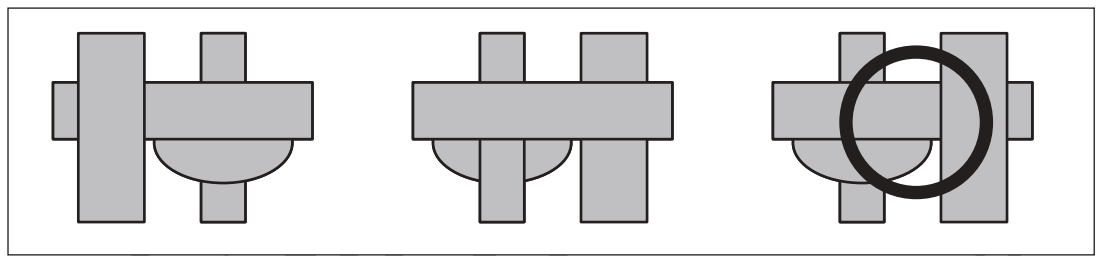
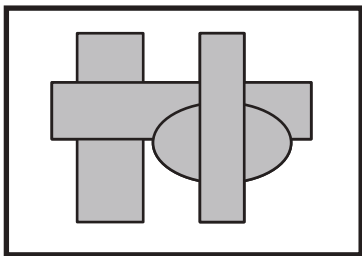
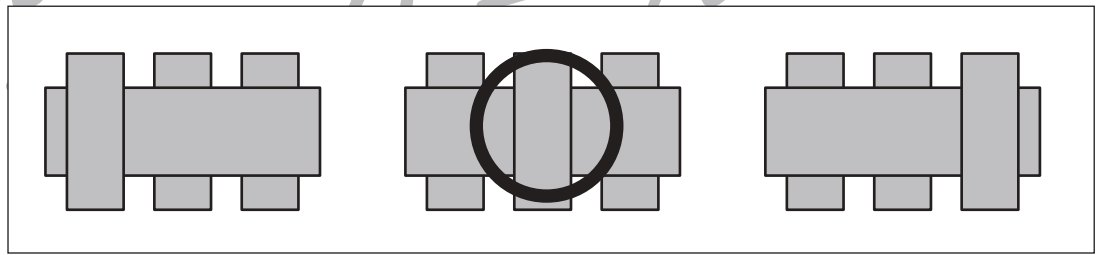
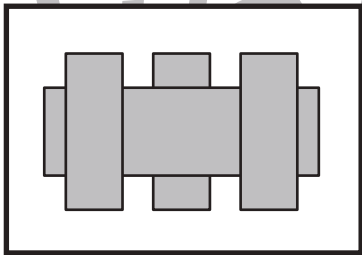
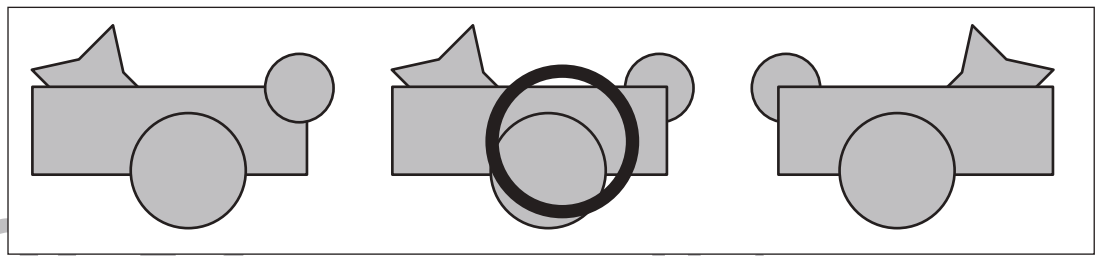
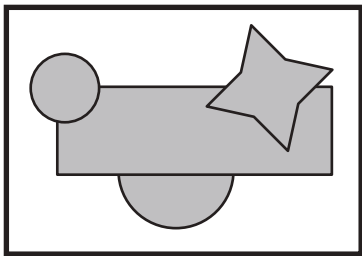
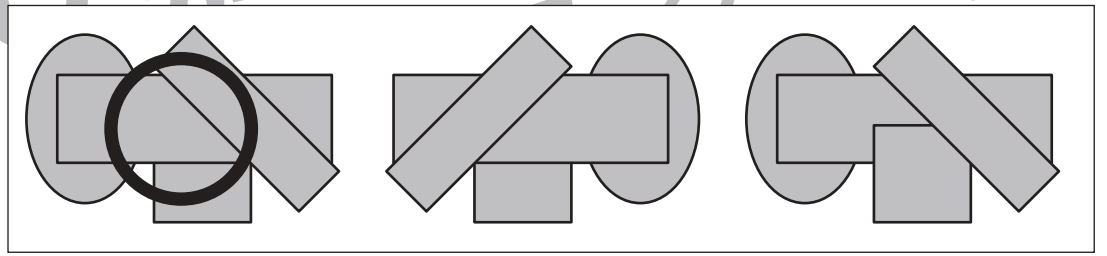
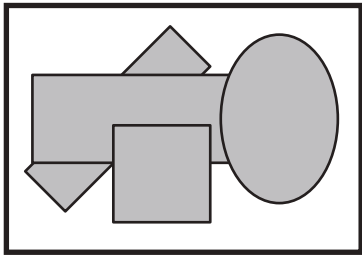
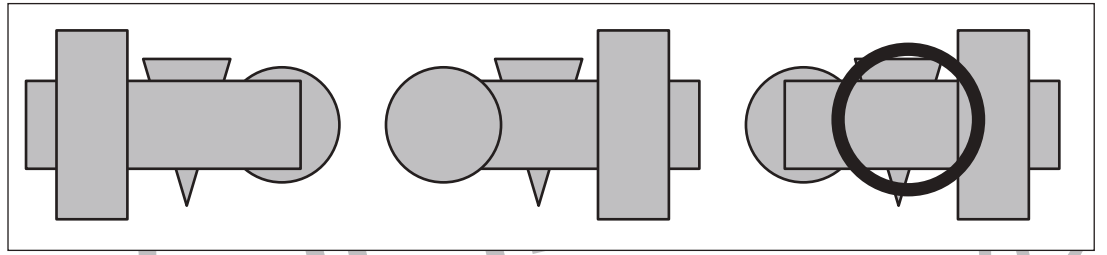
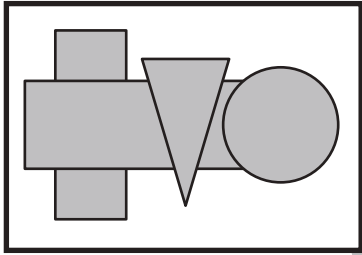


おうちで、やろう。

Study at home. 小学校受験の家庭学習教材

図形：重なり⑪

左の太い四角の中は3つ形が重なったものです。これを裏返して見たときの見え方を右の4つの中から選んで○をつけます。



※1. このプリントは、しながわ・目黒こどもスクールのウェブサイトからダウンロードできます。無断複写・引用はご遠慮ください。
※2. このプリントを活用したオンライン授業のスケジュールは、しながわ・目黒こどもスクールのウェブサイトでご確認ください。



おうちで、やろう。

Study at home. 小学校受験の家庭学習教材

数量：足の数③

それぞれの四角の中の足の数を合わせるといくつになりますか。合わせた足の数が10よりも多い四角に○をつけます。また、合わせた足の数が一番少ない四角には×をつけます。

6

8

8

18

12

12

4

6

16

14

※1. このプリントは、しながわ・目黒こどもスクールのウェブサイトでダウンロードができます。無断複写・引用はご遠慮ください。
 ※2. このプリントを活用したオンライン授業のスケジュールは、しながわ・目黒こどもスクールのウェブサイトでご確認ください。



おうちで、やろう。

Study at home. 小学校受験の家庭学習教材

数量：足の数④

上の太い四角の中が約束です。それぞれのサイコロの目が出たとき矢印の下の生き物の足の数だけマスを進めます。
☆からスタートして矢印の方向へ進んだ時、最後に着いたのマスのに○をかきます。


▼	▼	▼	▼	▼	▼



				☆					
				→					
		○							



					←				
				☆		○			



								☆	
								→	
								○	

※1. このプリントは、しながわ・目黒こどもスクールのウェブサイトでダウンロードができます。無断複写・引用はご遠慮ください。

※2. このプリントを活用したオンライン授業のスケジュールは、しながわ・目黒こどもスクールのウェブサイトでご確認ください。



おうちで、やろう。

Study at home. 小学校受験の家庭学習教材

処理：同数①

左の太い四角にある果物の数と同じ数の果物が入っている四角を右の3つの中から選び○をつけます。
この問題はスピードを意識して取り組む練習をしてみましょう。(1分30秒～2分)

--	--	--	--

--	--	--	--

--	--	--	--

--	--	--	--

※1. このプリントは、しながわ・目黒こどもスクールのウェブサイトからダウンロードできます。無断複写・引用はご遠慮ください。
 ※2. このプリントを活用したオンライン授業のスケジュールは、しながわ・目黒こどもスクールのウェブサイトでご確認ください。