




# おうちで、やろう。

Study at home. 小学校受験の家庭学習教材

## 言語：音の理解⑭

- ①絵の名前をはじめてから読んでも、終わってからよんでも同じ名前の絵に○をつけます。
- ②絵の名前を終わってから読んだとき、違う名前になる絵に△をつけます。



※1. このプリントは、しながわ・目黒こどもスクールのウェブサイトでダウンロードができます。無断複写・引用はご遠慮ください。  
 ※2. このプリントを活用したオンライン授業のスケジュールは、しながわ・目黒こどもスクールのウェブサイトでご確認ください。

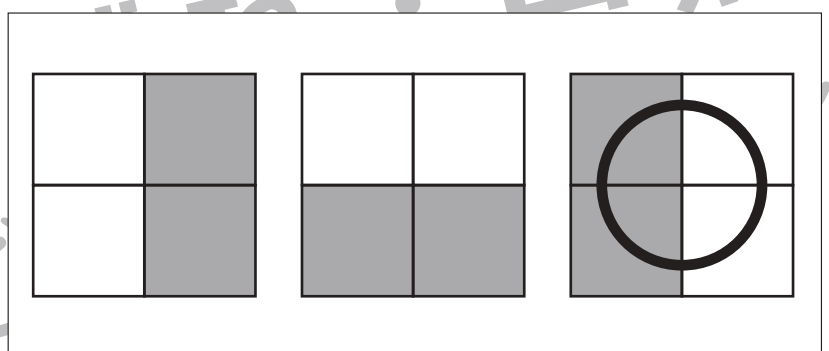
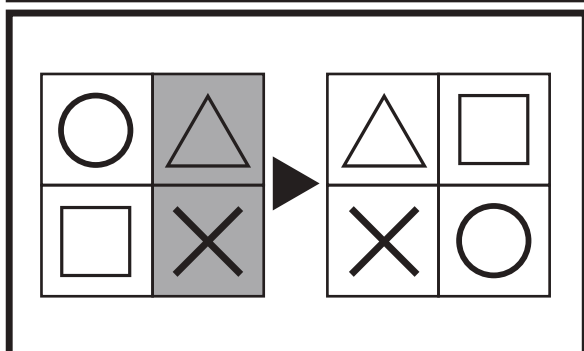
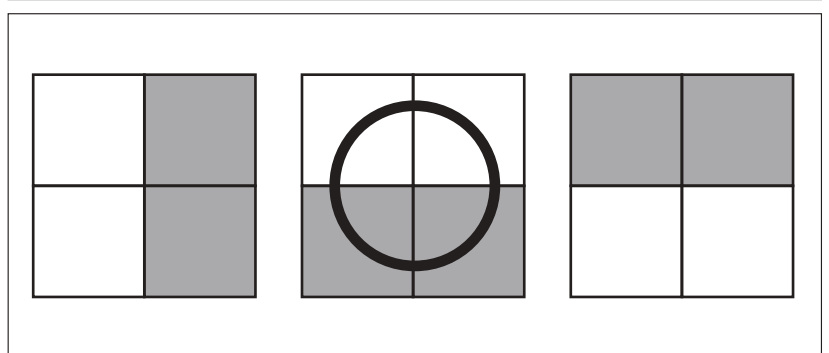
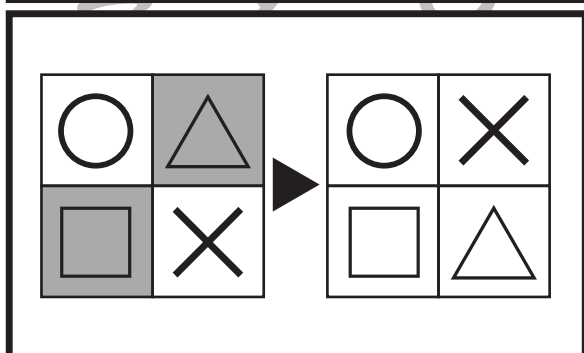
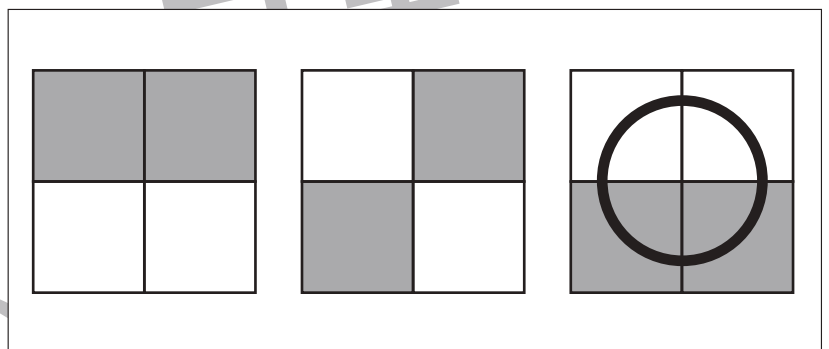
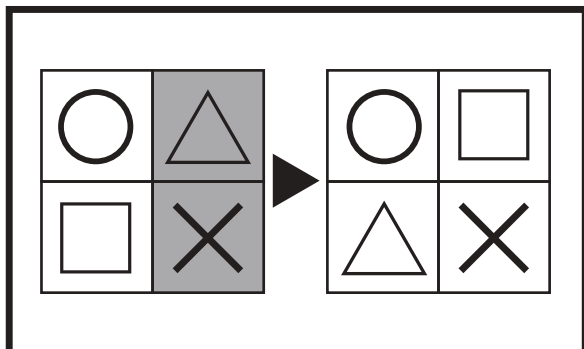
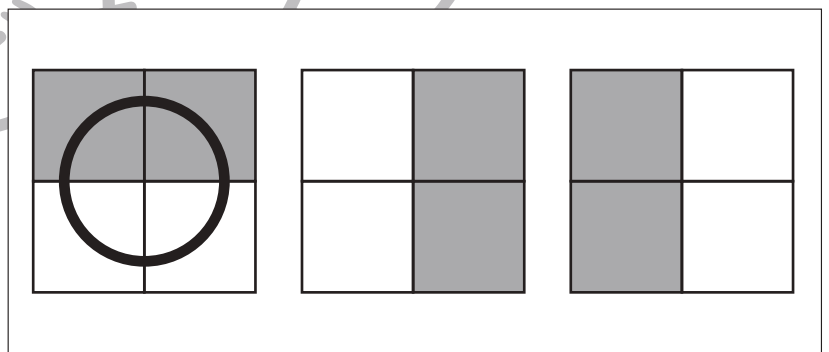
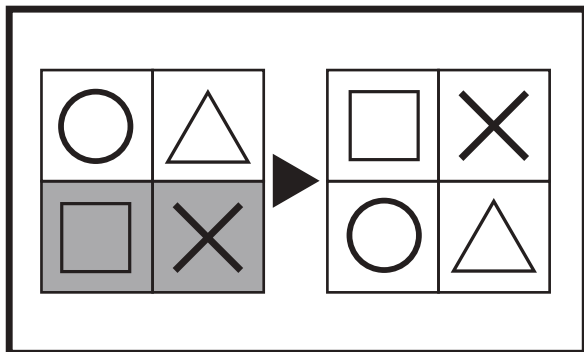
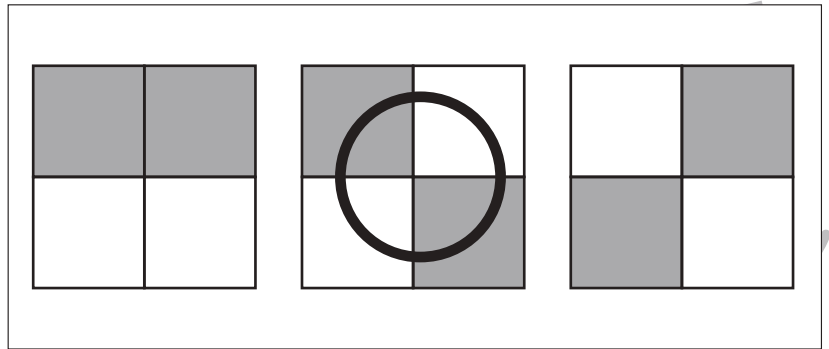
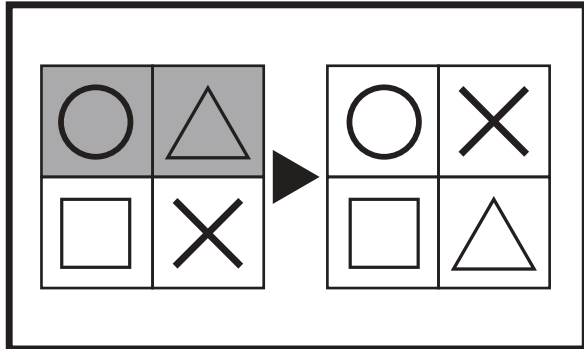


# おうちで、やろう。

Study at home. 小学校受験の家庭学習教材

## 図形：構成⑮

太い四角の中の左の四角がお手本です。これは4つのマスを集めて四角を作りました。右の四角は4つのマスを並びかえた四角です。この時、模様がどのようになるのか考えて、正しいもの右の3つの中から選んで○をつけます。



※1. このプリントは、しながわ・目黒こどもスクールのウェブサイトでダウンロードができます。無断複写・引用はご遠慮ください。

※2. このプリントを活用したオンライン授業のスケジュールは、しながわ・目黒こどもスクールのウェブサイトでご確認ください。

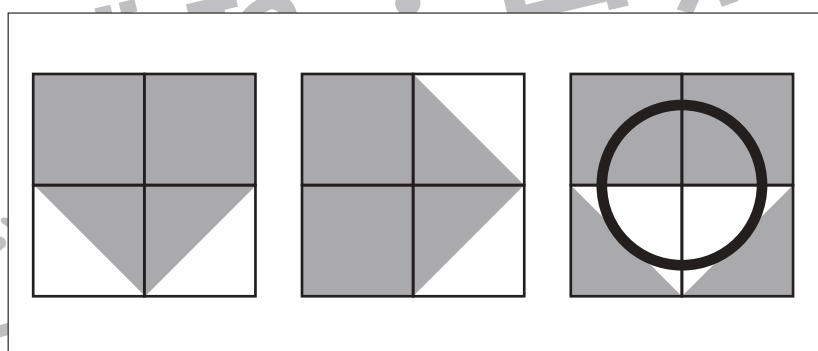
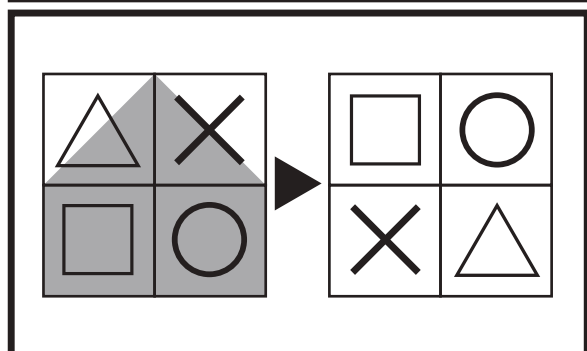
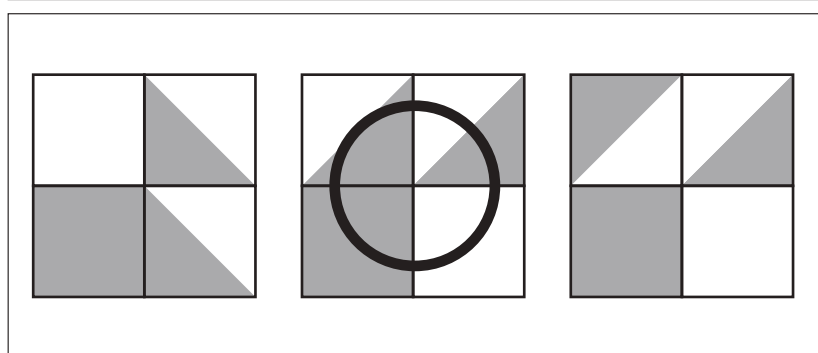
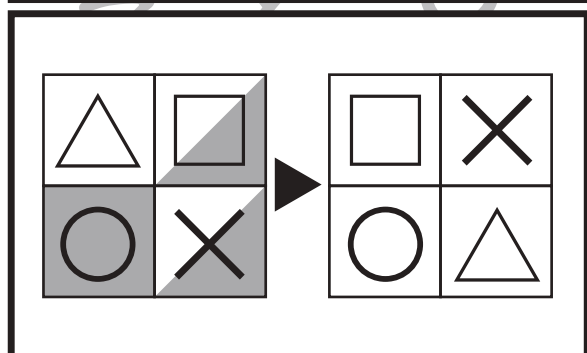
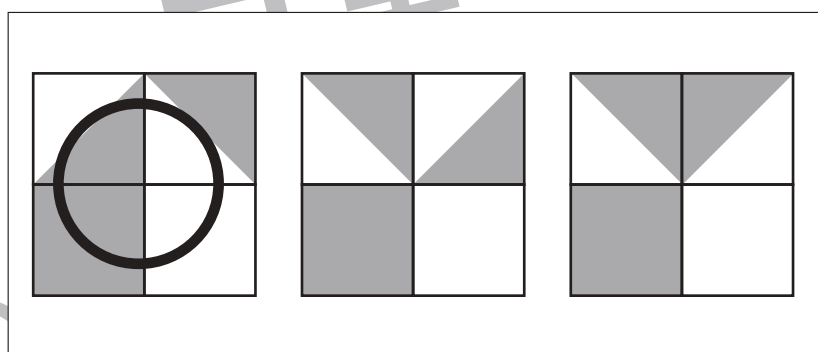
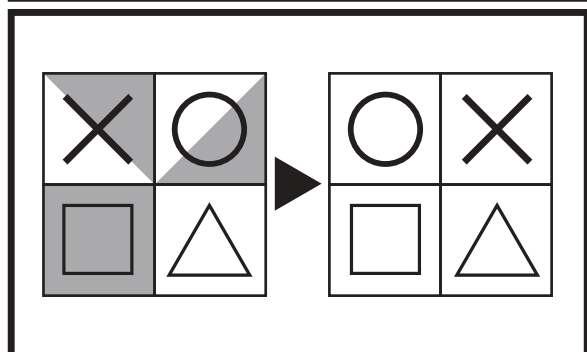
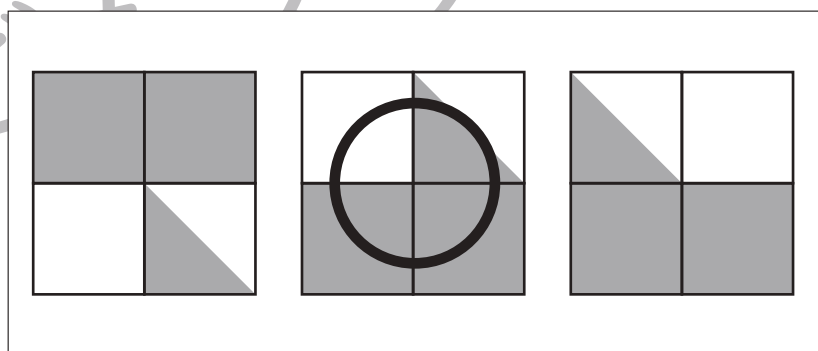
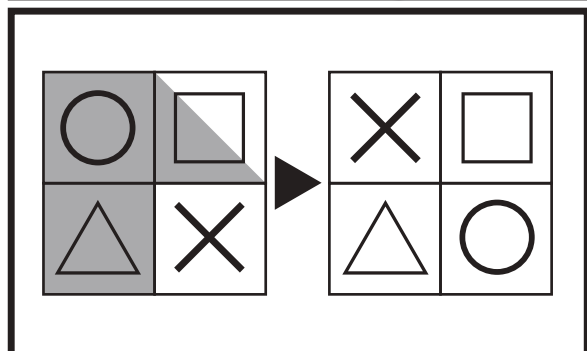
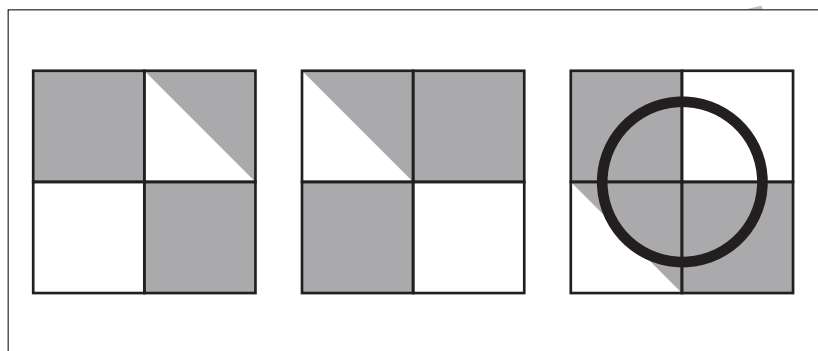
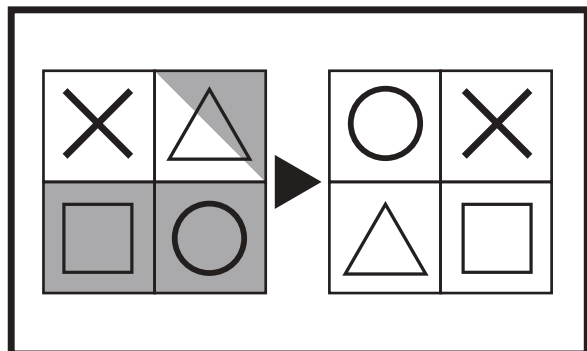


# おうちで、やろう。

Study at home. 小学校受験の家庭学習教材

## 図形：構成⑬

太い四角の中の左の四角がお手本です。これは4つのマスを集めて四角を作りました。右の四角は4つのマスを並びかえた四角です。この時、模様がどのようになるのか考えて、正しいもの右の3つの中から選んで○をつけます。マスは並びかえたとき、回転させたり、裏返したりしません。



※1. このプリントは、しながわ・目黒こどもスクールのウェブサイトでダウンロードができます。無断複写・引用はご遠慮ください。

※2. このプリントを活用したオンライン授業のスケジュールは、しながわ・目黒こどもスクールのウェブサイトでご確認ください。



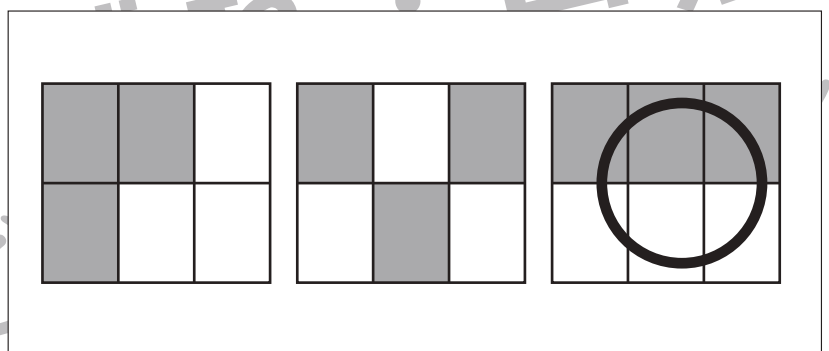
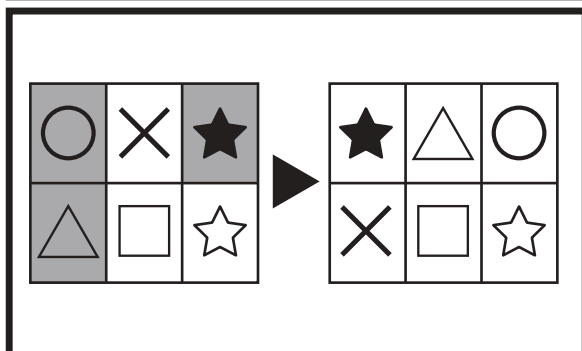
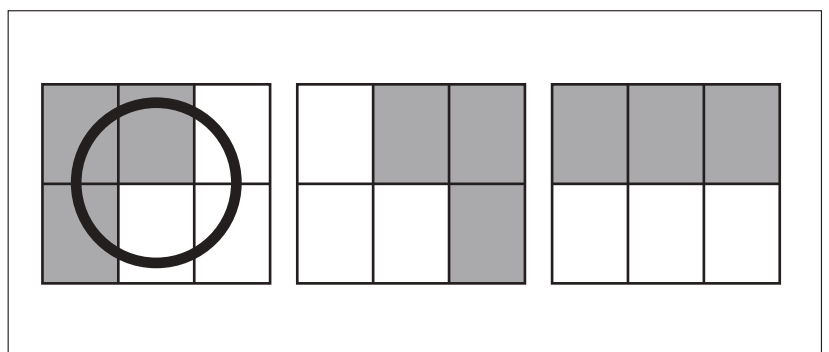
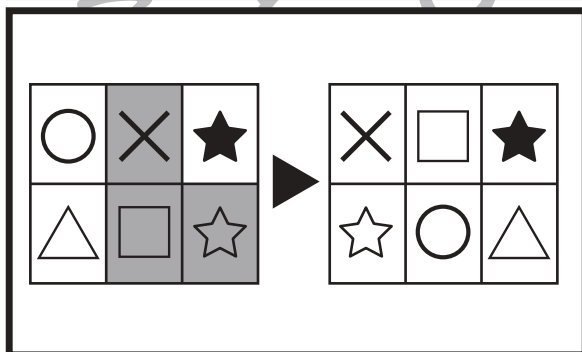
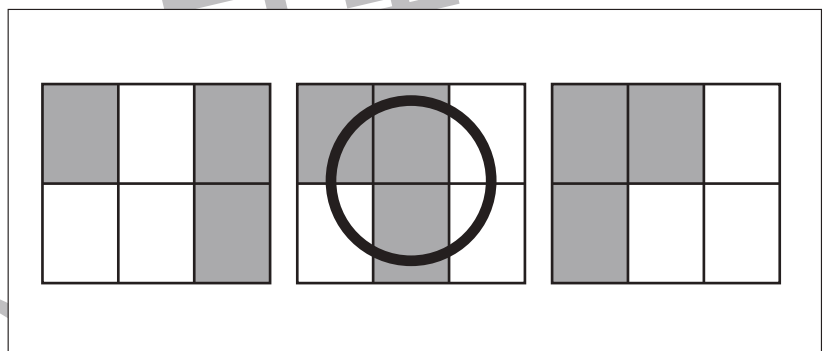
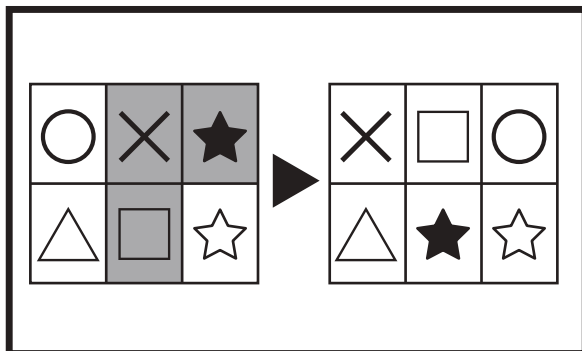
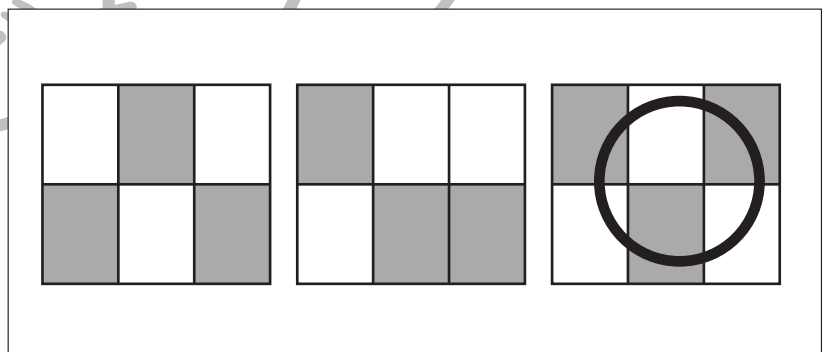
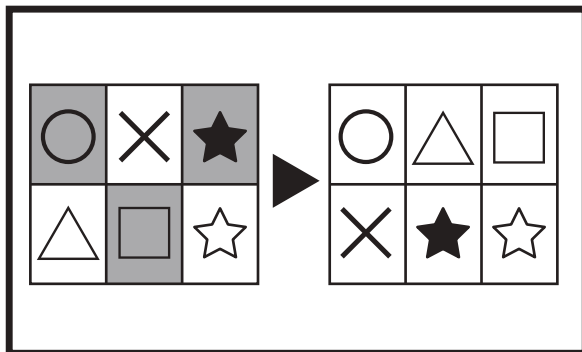
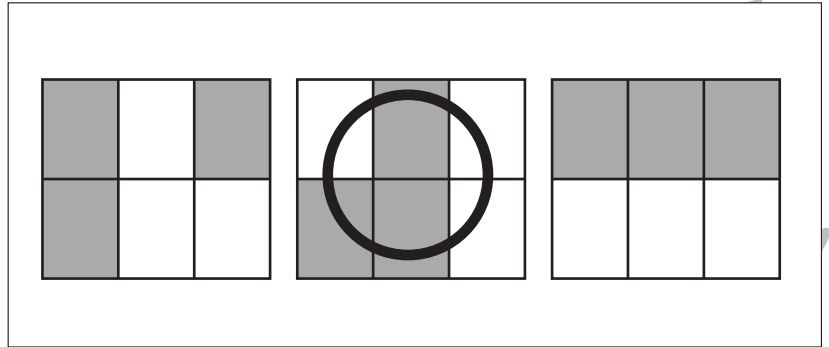
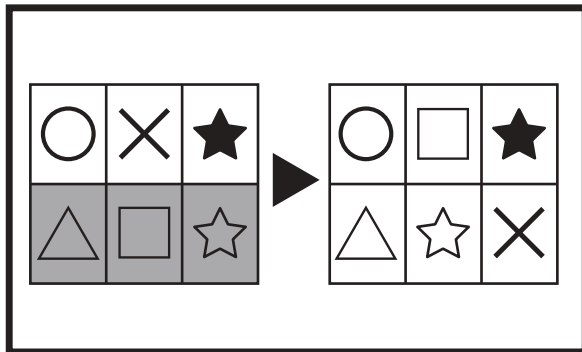


# おうちで、やろう。

Study at home. 小学校受験の家庭学習教材

## 図形：構成⑰

太い四角の中の左の四角がお手本です。これは6つのマスを集めて四角を作りました。右の四角は6つのマスを並びかえた四角です。この時、模様がどのようになるのか考えて、正しいもの右の3つの中から選んで○をつけます。



※1. このプリントは、しながわ・目黒こどもスクールのウェブサイトでダウンロードができます。無断複写・引用はご遠慮ください。  
 ※2. このプリントを活用したオンライン授業のスケジュールは、しながわ・目黒こどもスクールのウェブサイトでご確認ください。

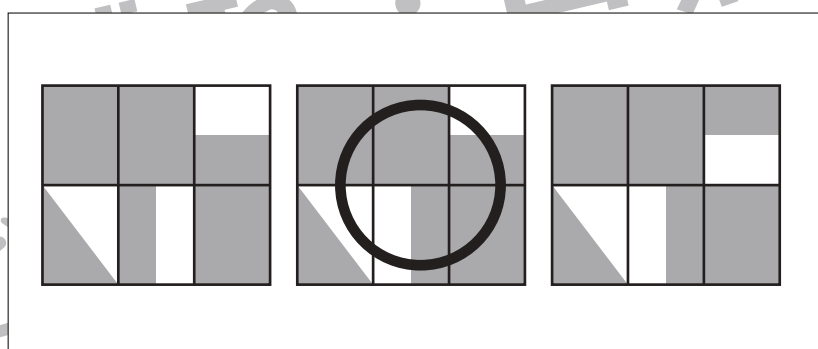
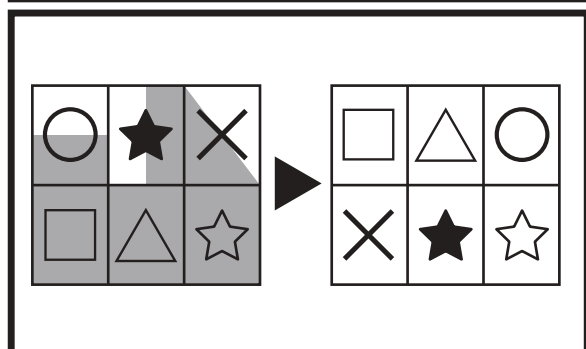
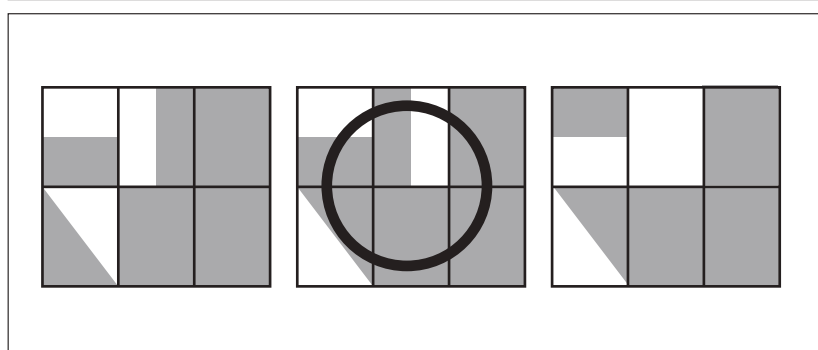
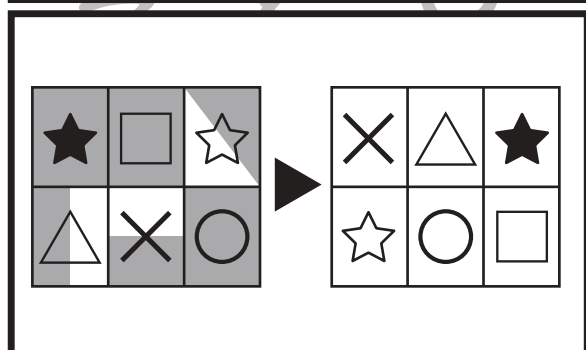
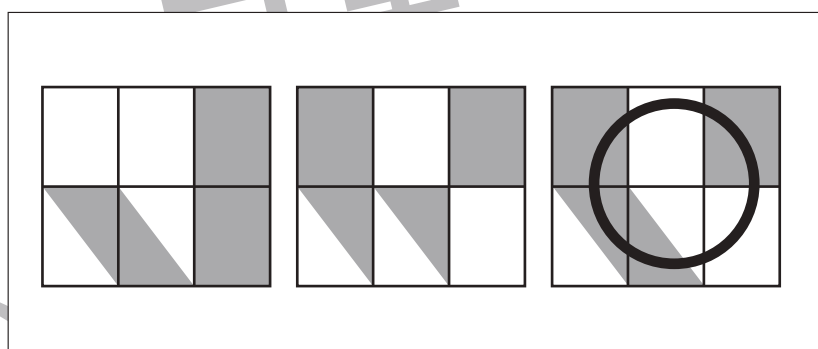
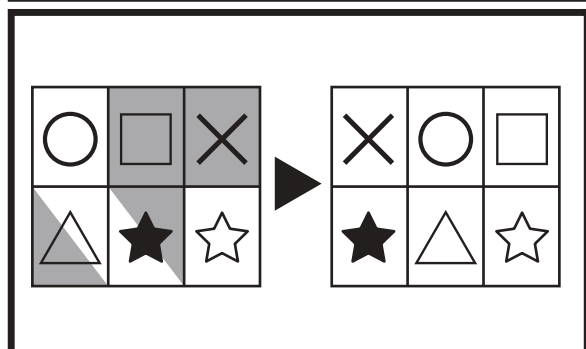
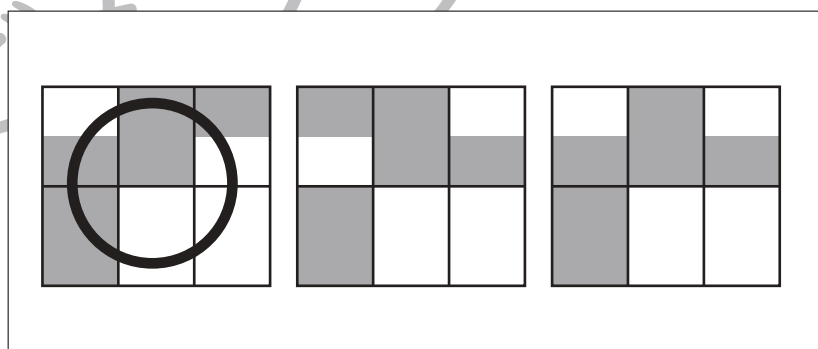
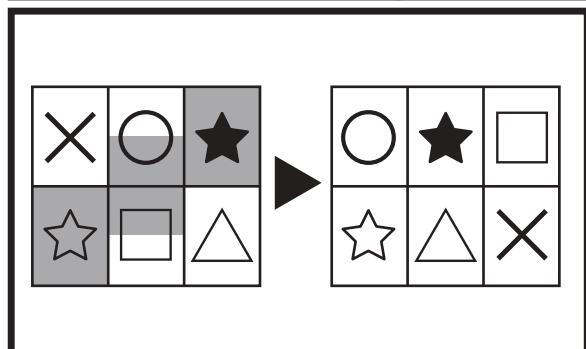
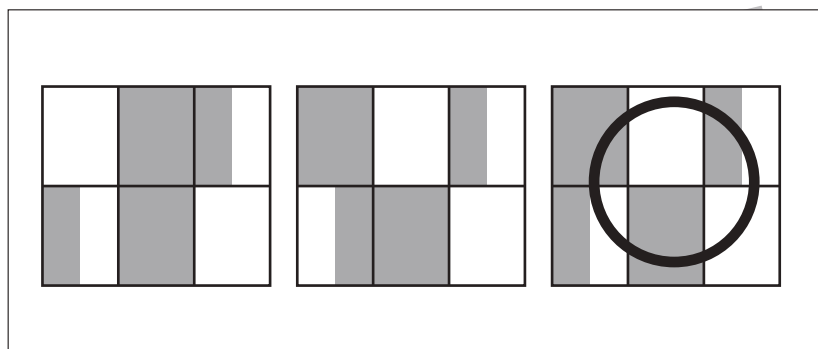
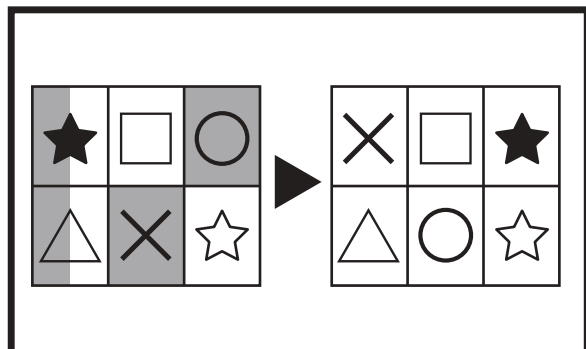


# おうちで、やろう。

Study at home. 小学校受験の家庭学習教材

図形：構成⑱

太い四角の中の左の四角がお手本です。これは6つのマスを集めて四角を作りました。右の四角は6つのマスを並びかえた四角です。この時、模様がどのようになるのか考えて、正しいもの右の3つの中から選んで○をつけます。マスは並びかえたとき、回転させたり、裏返したりしません。



※1. このプリントは、しながわ・目黒こどもスクールのウェブサイトでダウンロードができます。無断複写・引用はご遠慮ください。  
※2. このプリントを活用したオンライン授業のスケジュールは、しながわ・目黒こどもスクールのウェブサイトでご確認ください。



# おうちで、やろう。

Study at home. 小学校受験の家庭学習教材

## 推理：断面図①

左の四角の中の形を縦と横で切ったときの切り口の見え方を考えます。正しいものを右の四角の中から選んで○をつけます。


※1. このプリントは、しながわ・目黒こどもスクールのウェブサイトでダウンロードができます。無断複写・引用はご遠慮ください。

※2. このプリントを活用したオンライン授業のスケジュールは、しながわ・目黒こどもスクールのウェブサイトでご確認ください。



# おうちで、やろう。

Study at home. 小学校受験の家庭学習教材

## 推理：断面図②

左の四角の中の形を縦と横で切ったときの切り口の見え方を考えます。正しいものを右の四角の中から選んで○をつけます。


※1. このプリントは、しながわ・目黒こどもスクールのウェブサイトからダウンロードできます。無断複写・引用はご遠慮ください。

※2. このプリントを活用したオンライン授業のスケジュールは、しながわ・目黒こどもスクールのウェブサイトでご確認ください。



# おうちで、やろう。

Study at home. 小学校受験の家庭学習教材

数量：計数⑥

お話し通りの数がある四角を探して○をつけます。

①みかんが3個、りんごが4個ある四角に○をつけます。②ももが5個、ぶどうが6個ある四角に○をつけます。③ピーマンが2個、にんじんが4本、なすが5本ある四角に○をつけます。④かぶが3個、すいかが6個、バナナが3本ある四角に○をつけます。

①				
②				
③				
④				

※1. このプリントは、しながわ・目黒こどもスクールのウェブサイトからダウンロードできます。無断複写・引用はご遠慮ください。

※2. このプリントを活用したオンライン授業のスケジュールは、しながわ・目黒こどもスクールのウェブサイトでご確認ください。





# おうちで、やろう。

Study at home. 小学校受験の家庭学習教材

数量：計数⑦

お話し通りの数がある四角を探して○をつけます。

①白丸が4個、黒丸が5個の四角に○をつけます。②白丸が6個、黒丸が4個の四角に○をつけます。③白丸と黒丸の数が同じ四角に○をつけます。④白丸と黒丸が半分ずつになっている四角に○をつけます。

①				
②				
③				
④				

※1. このプリントは、しながわ・目黒こどもスクールのウェブサイトでダウンロードができます。無断複写・引用はご遠慮ください。

※2. このプリントを活用したオンライン授業のスケジュールは、しながわ・目黒こどもスクールのウェブサイトでご確認ください。