

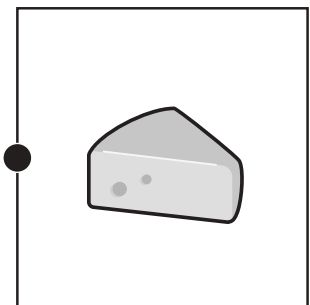
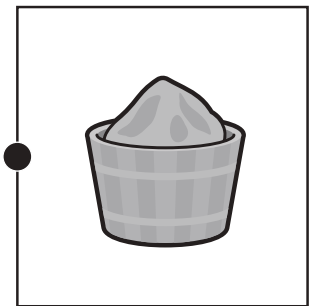
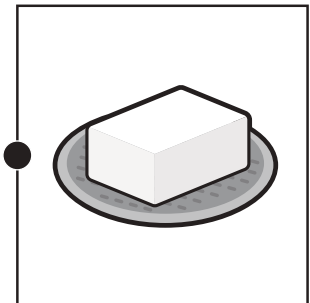
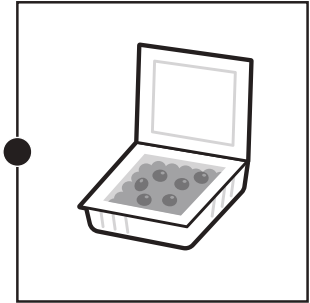

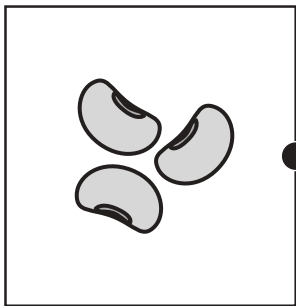


# おうちで、やろう。

Study at home. 小学校受験の家庭学習教材

## 常識：生活⑫

左の大豆と牛乳からできるものを右の中から選んで点と点を線で結びます。



※1. このプリントは、しながわ・目黒こどもスクールのウェブサイトでダウンロードができます。無断複写・引用はご遠慮ください。

※2. このプリントを活用したオンライン授業のスケジュールは、しながわ・目黒こどもスクールのウェブサイトでご確認ください。



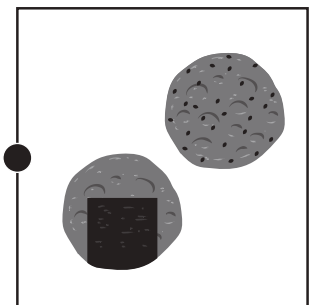
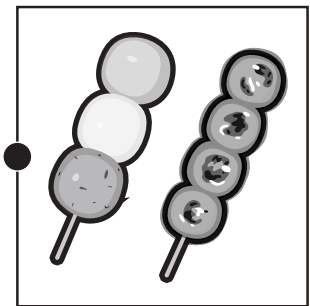

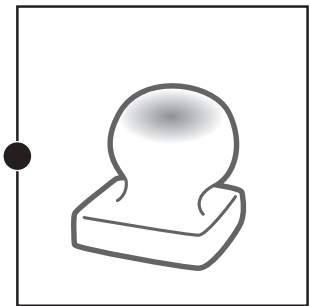




# おうちで、やろう。

Study at home. 小学校受験の家庭学習教材

## 常識：生活⑬

左の米と小麦からできるものを右の中から選んで点と点を線で結びます。



※1. このプリントは、しながわ・目黒こどもスクールのウェブサイトでダウンロードができます。無断複写・引用はご遠慮ください。  
※2. このプリントを活用したオンライン授業のスケジュールは、しながわ・目黒こどもスクールのウェブサイトでご確認ください。

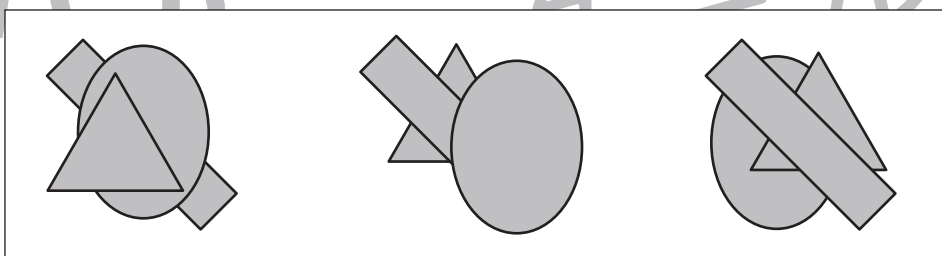
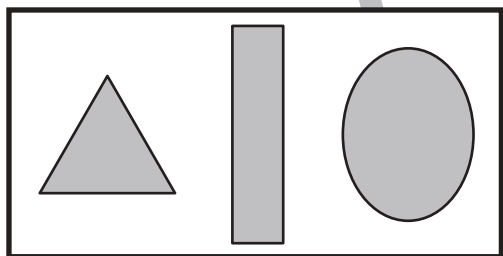
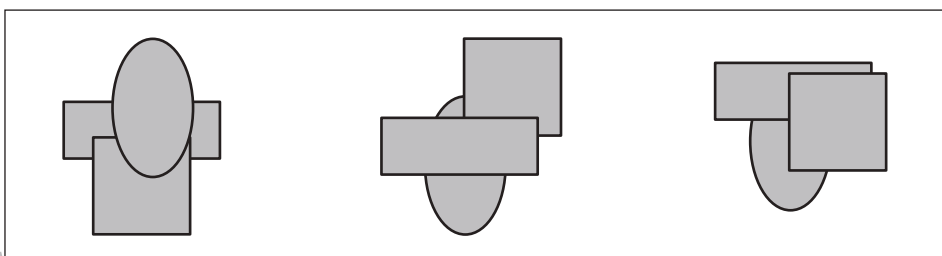
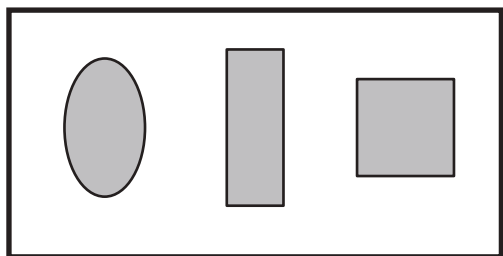
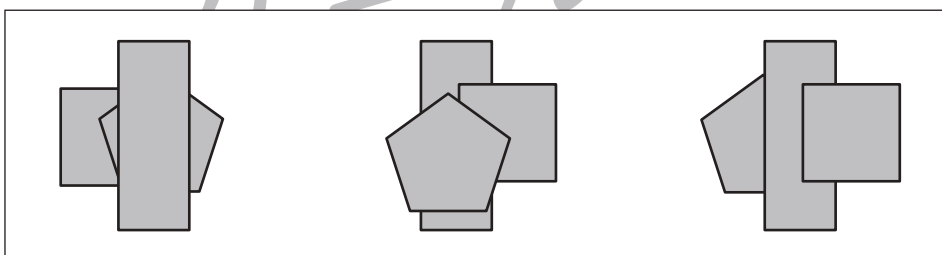
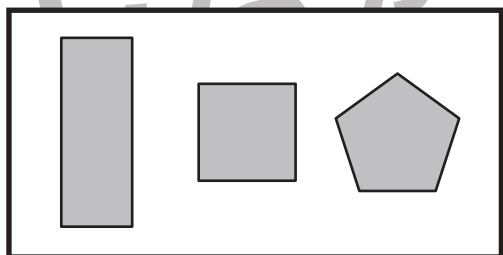
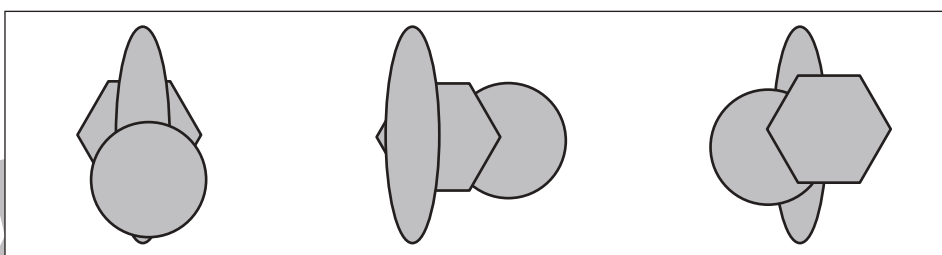
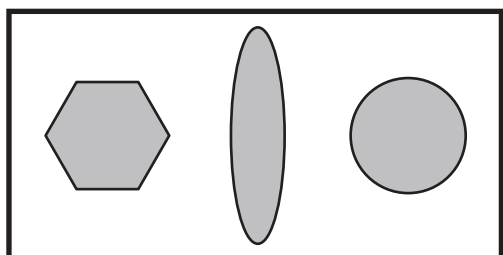
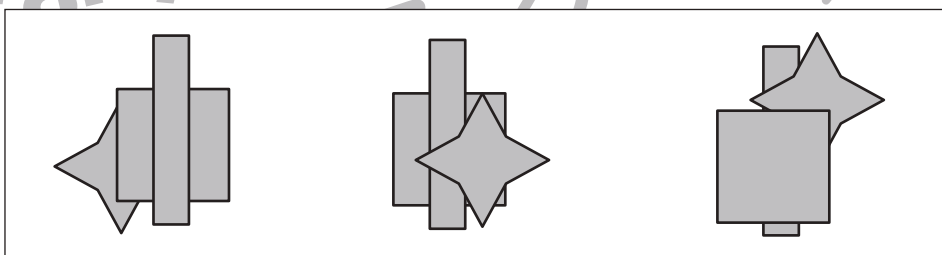
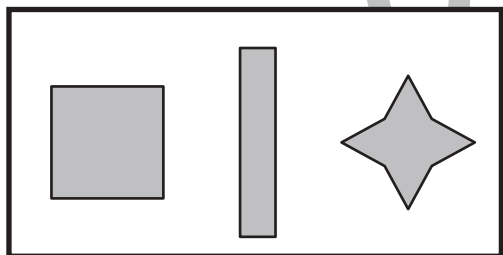
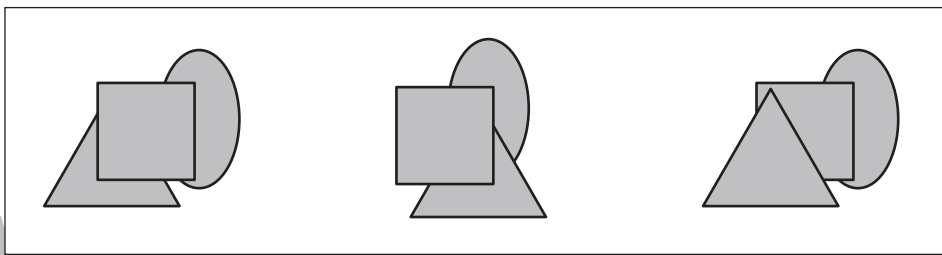
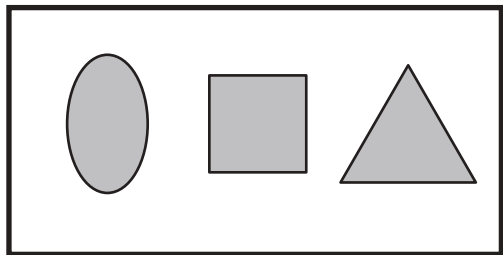


# おうちで、やろう。

Study at home. 小学校受験の家庭学習教材

## 図形：重なり⑫

左の太い四角の中の3つの形を重ねていきます。重ねる順番は左から順番に重ねて、一番左の形が一番下、一番右の形が一番上になるように重ねます。この時、正しいものを右の四角の中から選んで○をつけます。



※1. このプリントは、しながわ・目黒こどもスクールのウェブサイトでダウンロードができます。無断複写・引用はご遠慮ください。

※2. このプリントを活用したオンライン授業のスケジュールは、しながわ・目黒こどもスクールのウェブサイトでご確認ください。



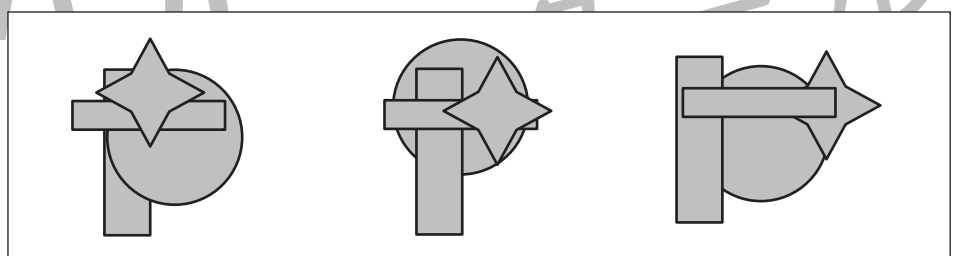
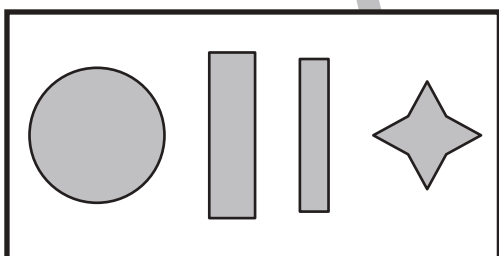
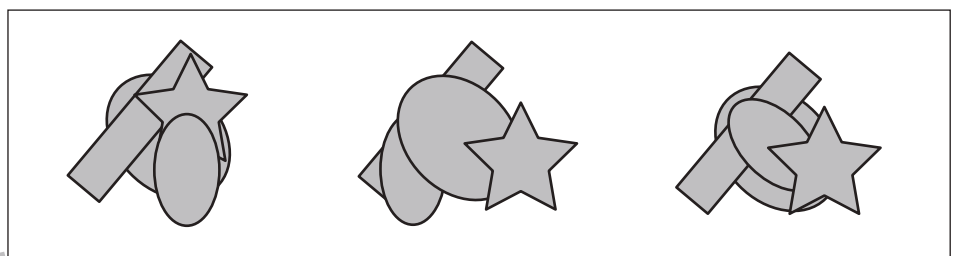

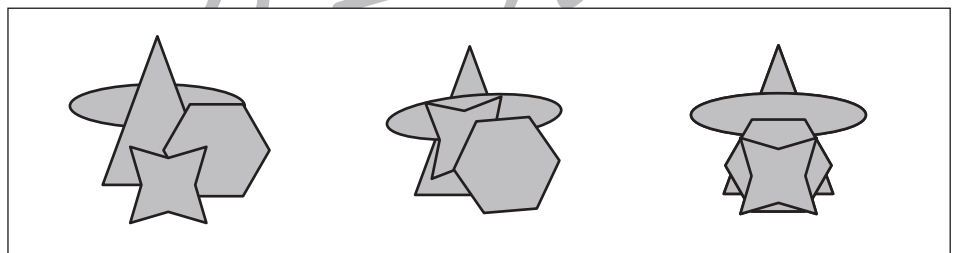
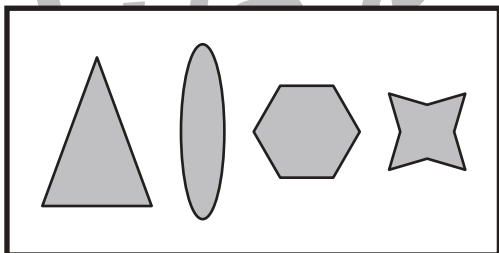

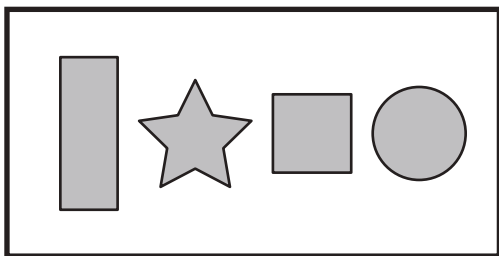
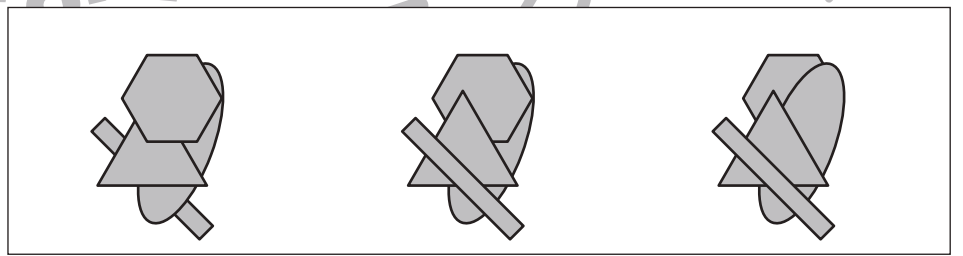
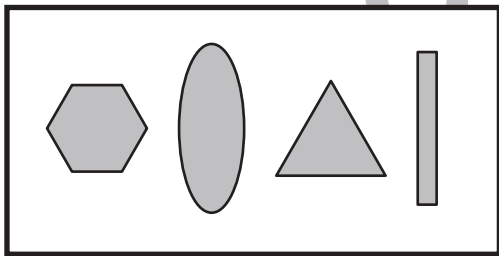
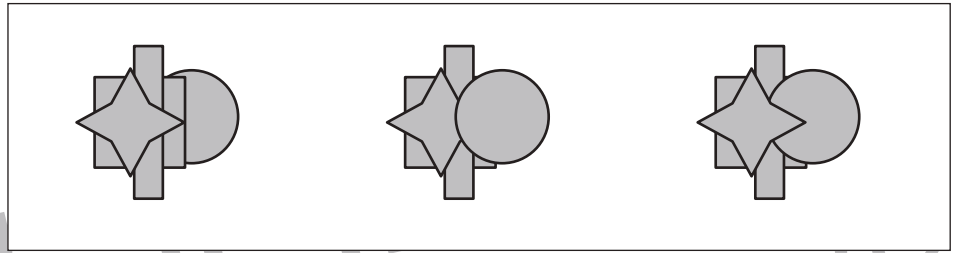
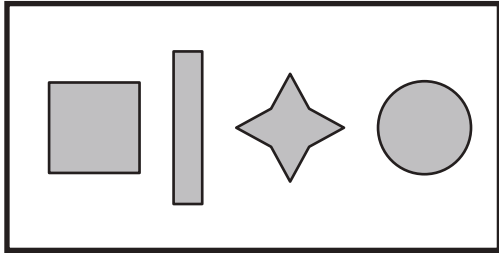


# おうちで、やろう。

Study at home. 小学校受験の家庭学習教材

## 図形：重なり⑬

左の太い四角の中の4つの形を重ねていきます。重ねる順番は左から順番に重ねて、一番左の形が一番下、一番右の形が一番上になるように重ねます。この時、正しいものを右の四角の中から選んで○をつけます。



※1. このプリントは、しながわ・目黒こどもスクールのウェブサイトでダウンロードができます。無断複写・引用はご遠慮ください。  
※2. このプリントを活用したオンライン授業のスケジュールは、しながわ・目黒こどもスクールのウェブサイトでご確認ください。



# おうちで、やろう。

Study at home. 小学校受験の家庭学習教材

図形：重ね⑳

矢印の左の四角は2枚の板は透明です。

この2枚の板を矢印の右のようにずらして重ねたときの見え方を考えて右の四角に○をかきます。

		→	
--	--	---	--

		→	
--	--	---	--

		→	
--	--	---	--

		→	
--	--	---	--

		→	
--	--	---	--

※1. このプリントは、しながわ・目黒こどもスクールのウェブサイトからダウンロードできます。無断複写・引用はご遠慮ください。

※2. このプリントを活用したオンライン授業のスケジュールは、しながわ・目黒こどもスクールのウェブサイトでご確認ください。



# おうちで、やろう。

Study at home. 小学校受験の家庭学習教材

## 図形：重ね①⑨

矢印の左の四角は2枚の板は透明です。

この2枚の板を矢印の右のようにずらして重ねたときの見え方を考えて右の四角に○をかきます。

		→	
--	--	---	--

		→	
--	--	---	--

		→	
--	--	---	--

		→	
--	--	---	--

		→	
--	--	---	--

※1. このプリントは、しながわ・目黒こどもスクールのウェブサイトでダウンロードができます。無断複写・引用はご遠慮ください。

※2. このプリントを活用したオンライン授業のスケジュールは、しながわ・目黒こどもスクールのウェブサイトでご確認ください。



# おうちで、やろう。

Study at home. 小学校受験の家庭学習教材

## 数量：合わせた数①

左の太い四角の中の果物の数を10個にします。右の4つの四角のうち左の四角の中の果物と合わせて10個になるものを選んで○をつけます。

--	--	--	--	--

--	--	--	--	--

--	--	--	--	--

--	--	--	--	--

※1. このプリントは、しながわ・目黒こどもスクールのウェブサイトでダウンロードができます。無断複写・引用はご遠慮ください。  
 ※2. このプリントを活用したオンライン授業のスケジュールは、しながわ・目黒こどもスクールのウェブサイトでご確認ください。



# おうちで、やろう。

Study at home. 小学校受験の家庭学習教材

## 数量：合わせた数②

左の太い四角の中の果物の数を 12 個にします。右の4つの四角のうち左の四角の中の果物と合わせて12個になるものを選んで○をつけます。

--	--	--	--	--

--	--	--	--	--

--	--	--	--	--

--	--	--	--	--

※1. このプリントは、しながわ・目黒こどもスクールのウェブサイトダウンロードができます。無断複写・引用はご遠慮ください。

※2. このプリントを活用したオンライン授業のスケジュールは、しながわ・目黒こどもスクールのウェブサイトでご確認ください。





# おうちで、やろう。

Study at home. 小学校受験の家庭学習教材

## 数量：合わせた数③

左の太い四角の中の果物の数を15個にします。右の4つの四角のうち左の四角の中の果物と合わせて15個になるものを選んで○をつけます。

--	--	--	--	--

--	--	--	--	--

--	--	--	--	--

--	--	--	--	--

※1. このプリントは、しながわ・目黒こどもスクールのウェブサイトでダウンロードができます。無断複写・引用はご遠慮ください。

※2. このプリントを活用したオンライン授業のスケジュールは、しながわ・目黒こどもスクールのウェブサイトでご確認ください。