











おうちで、やろう。

Study at home. 小学校受験の家庭学習教材

常識：動物⑥

下の動物のうち、草を食べる動物には○、肉を食べる動物には×をつけます。



※1. このプリントは、しながわ・目黒こどもスクールのウェブサイトからダウンロードできます。無断複写・引用はご遠慮ください。
※2. このプリントを活用したオンライン授業のスケジュールは、しながわ・目黒こどもスクールのウェブサイトでご確認ください。

















おうちで、やろう。

Study at home. 小学校受験の家庭学習教材

常識：動物⑦

下の動物のうち、土の上で生活しているものには○、空を飛ぶことができるものには△、水の中で暮らしているものには×をつけます。



※1. このプリントは、しながわ・目黒こどもスクールのウェブサイトでダウンロードができます。無断複写・引用はご遠慮ください。
※2. このプリントを活用したオンライン授業のスケジュールは、しながわ・目黒こどもスクールのウェブサイトでご確認ください。



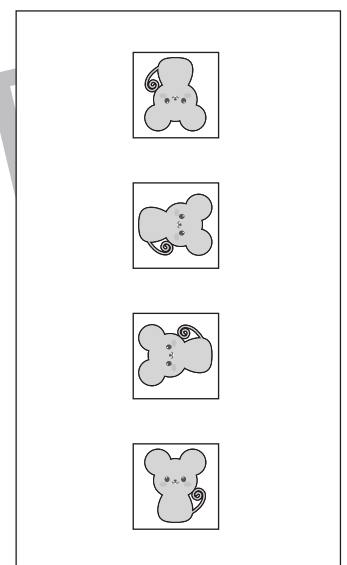
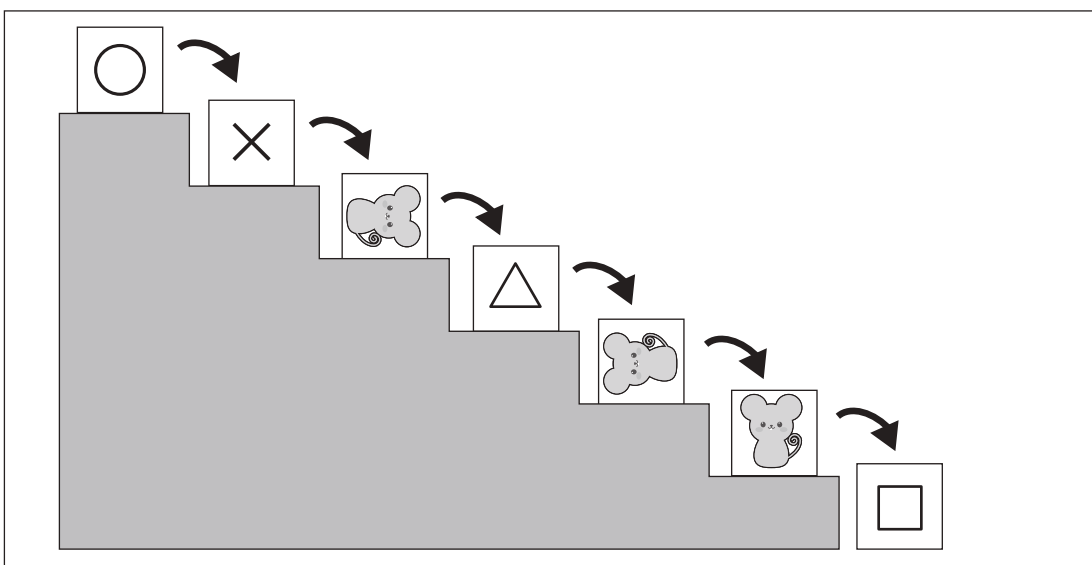
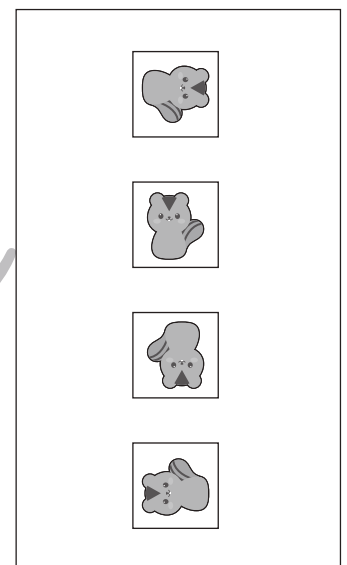
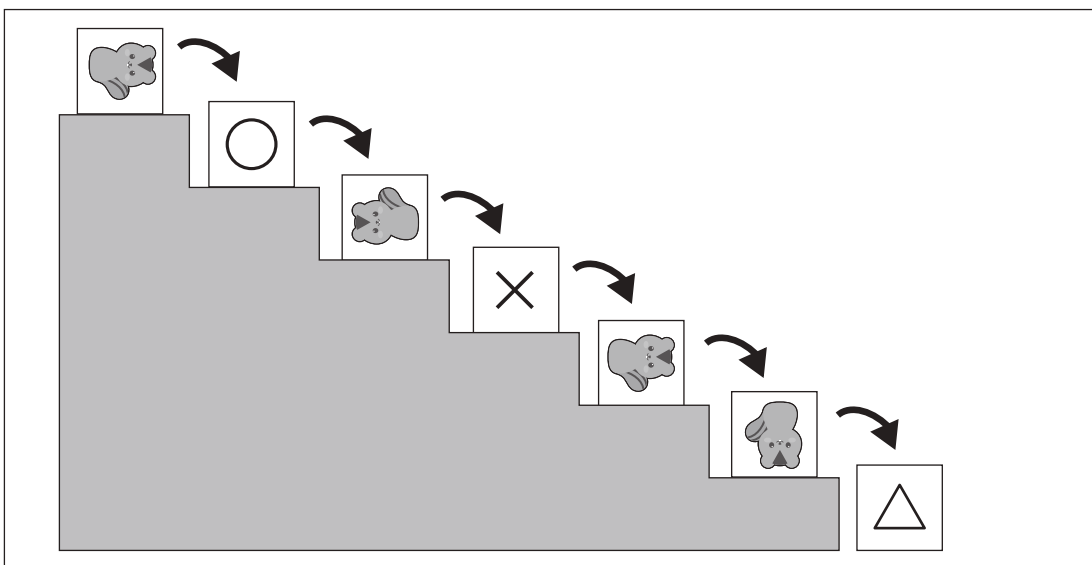
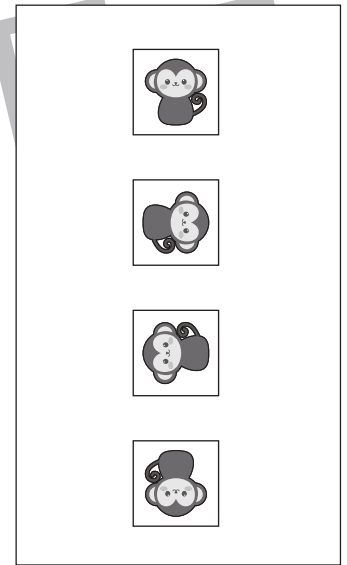
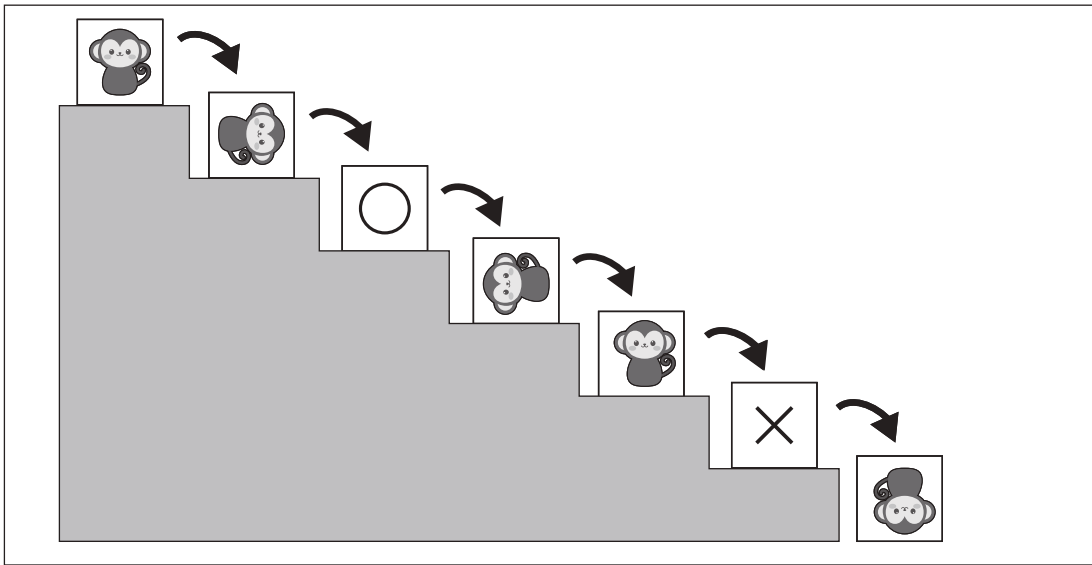


おうちで、やろう。

Study at home. 小学校受験の家庭学習教材

推理：回転⑨

階段の上にある箱を一段ずつ落とした時の箱に描いてある模様の見え方を考えます。
それぞれの記号の場所の見え方を右の四角の中から見つけてそれぞれの記号をつけます。



※1. このプリントは、しながわ・目黒こどもスクールのウェブサイトでダウンロードができます。無断複写・引用はご遠慮ください。
 ※2. このプリントを活用したオンライン授業のスケジュールは、しながわ・目黒こどもスクールのウェブサイトでご確認ください。

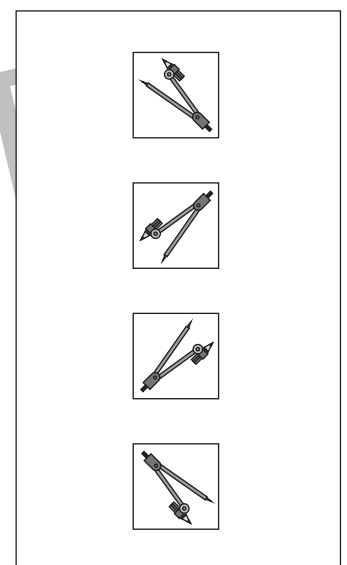
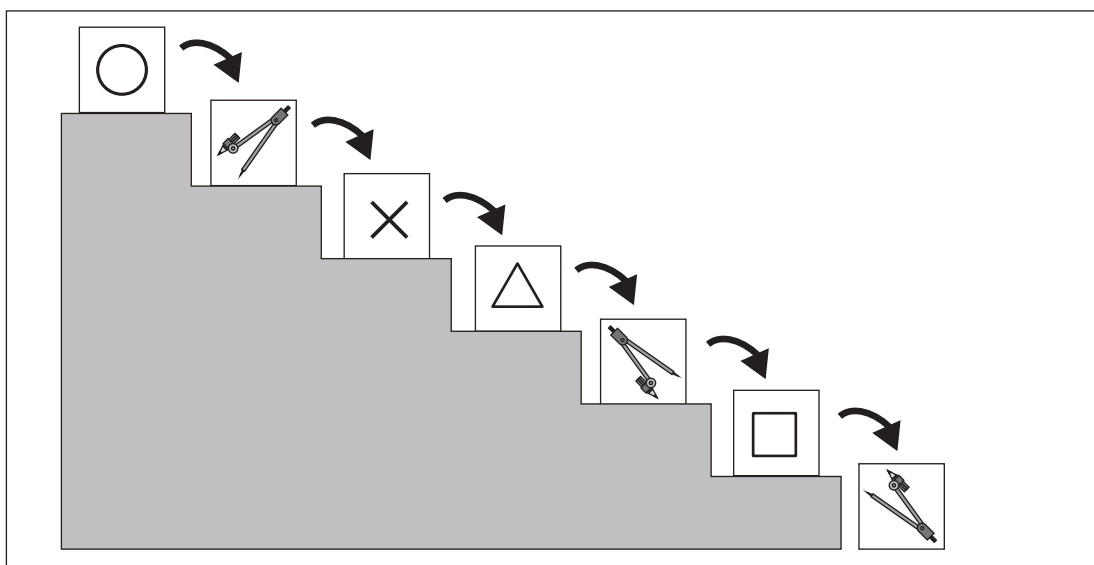

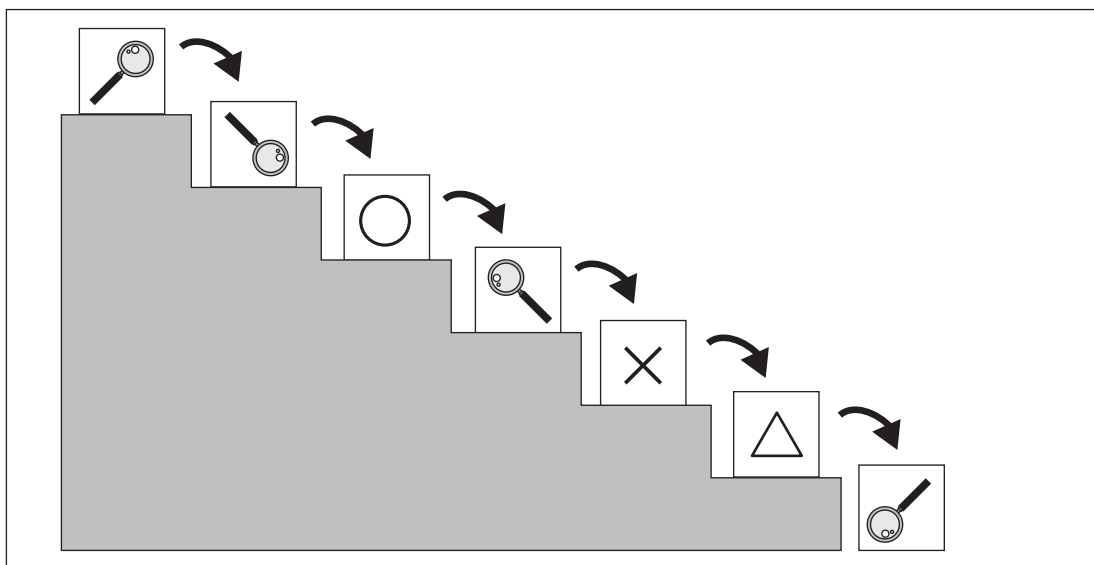
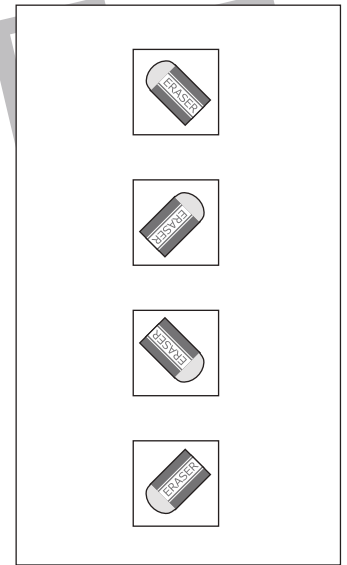
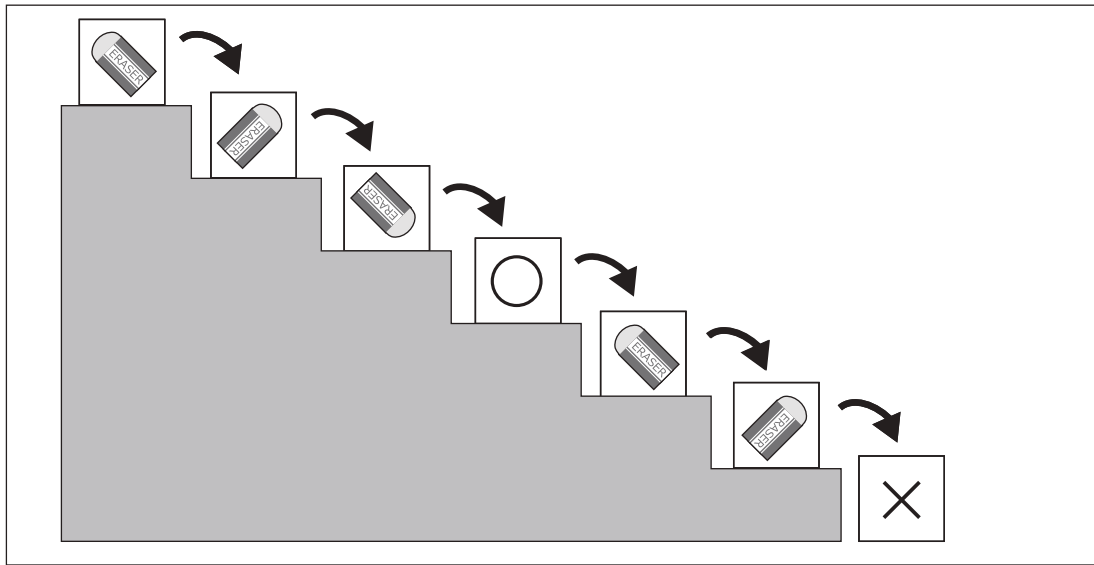


おうちで、やろう。

Study at home. 小学校受験の家庭学習教材

推理：回転⑩

階段の上にある箱を一段ずつ落とした時の箱に描いてある模様の見え方を考えます。
それぞれの記号の場所の見え方を右の四角の中から見つけてそれぞれの記号をつけます。



※1. このプリントは、しながわ・目黒こどもスクールのウェブサイトでダウンロードができます。無断複写・引用はご遠慮ください。
 ※2. このプリントを活用したオンライン授業のスケジュールは、しながわ・目黒こどもスクールのウェブサイトでご確認ください。


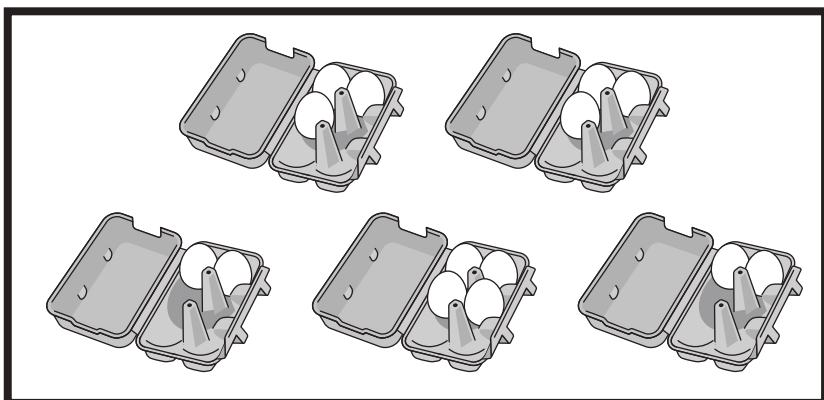
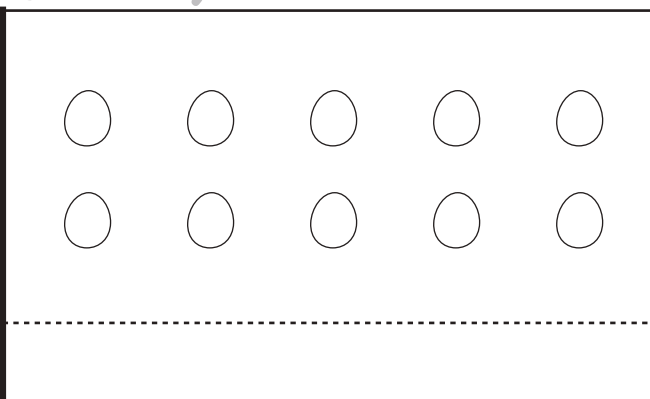
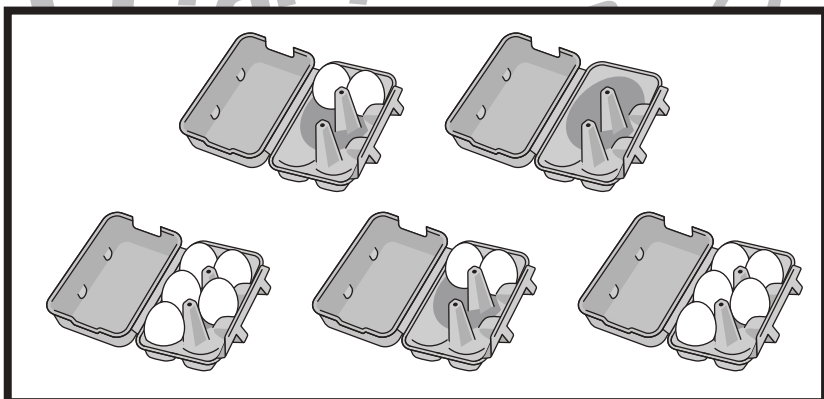
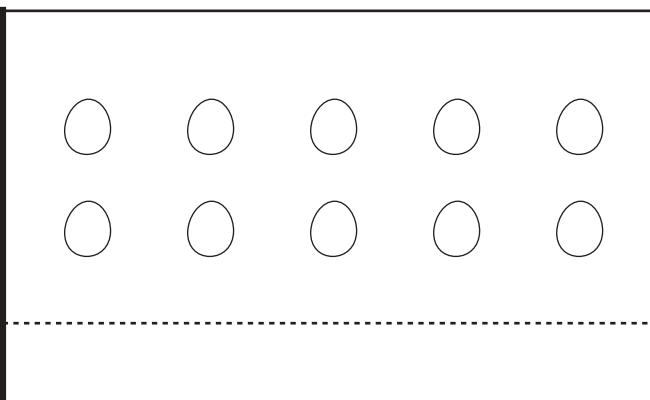
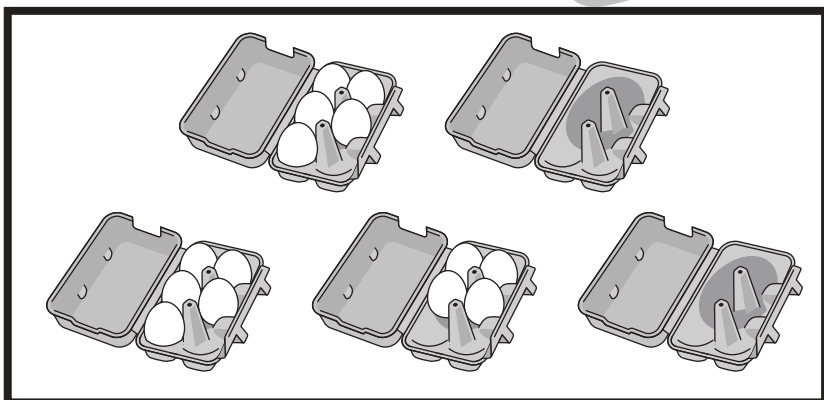
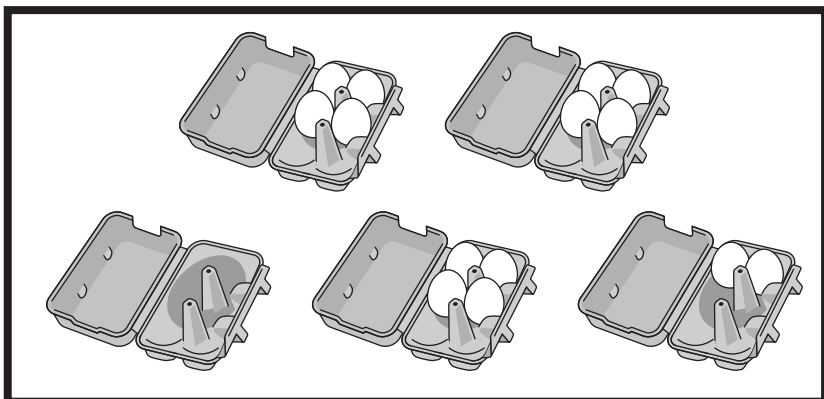


おうちで、やろう。

Study at home. 小学校受験の家庭学習教材

数量：対応⑥

左の太枠にある卵のパックのあいているところに、右の卵を詰めていきます。パックには6個の卵が詰められます。もう卵が詰めてあるパックもあります。できるだけ多くの卵のパックを作ると、全部で何パックできるかを考えて、その数だけ点線下に○をかきましょう。



※1. このプリントは、しながわ・目黒こどもスクールのウェブサイトでダウンロードができます。無断複写・引用はご遠慮ください。

※2. このプリントを活用したオンライン授業のスケジュールは、しながわ・目黒こどもスクールのウェブサイトでご確認ください。

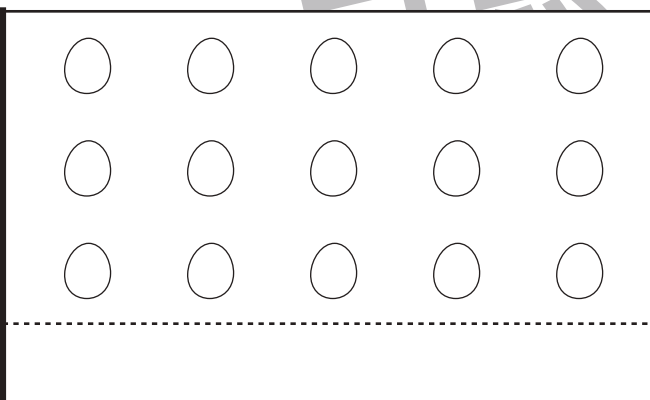
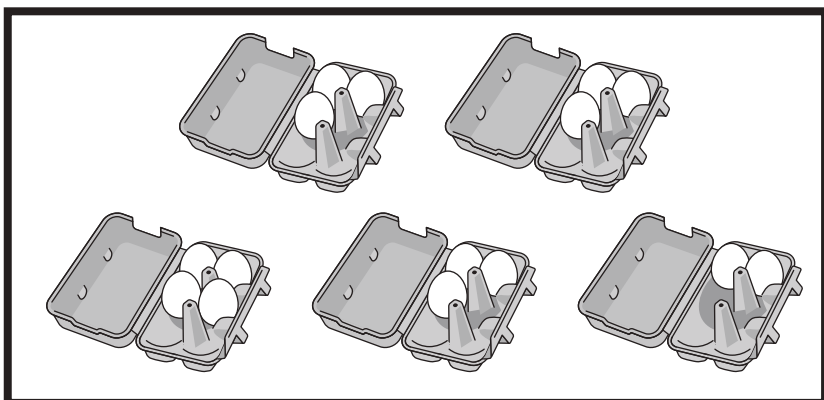
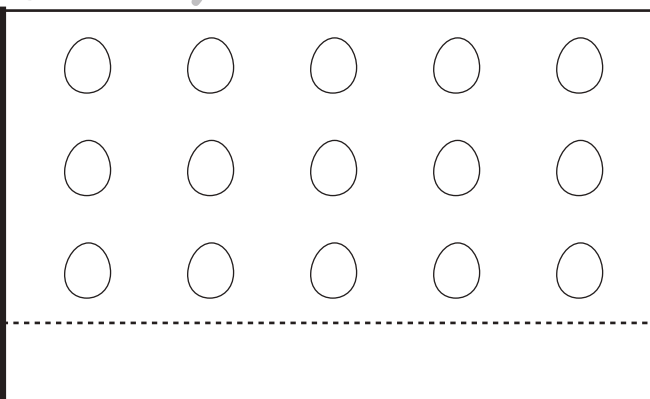
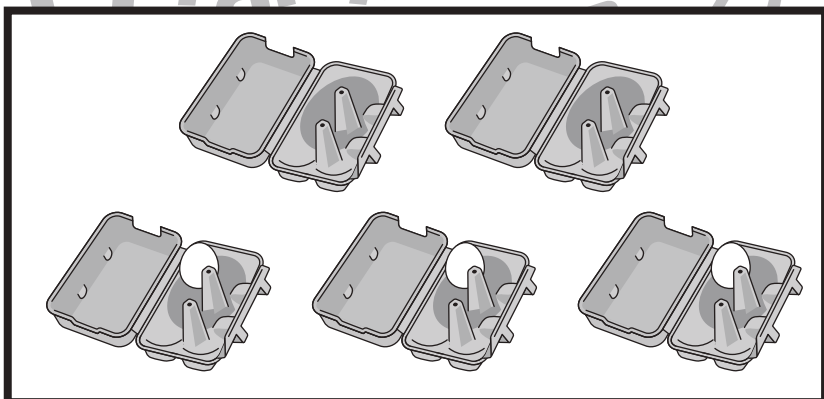
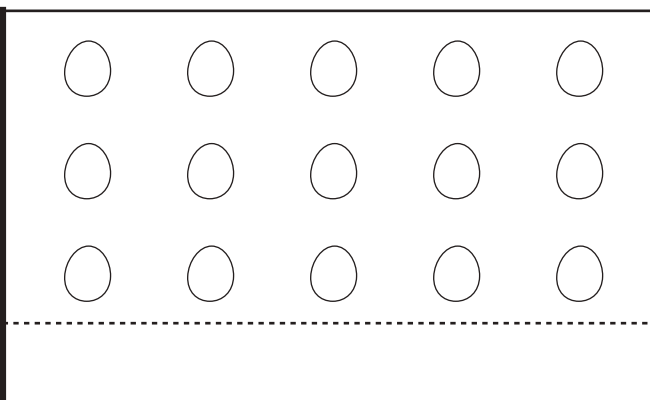
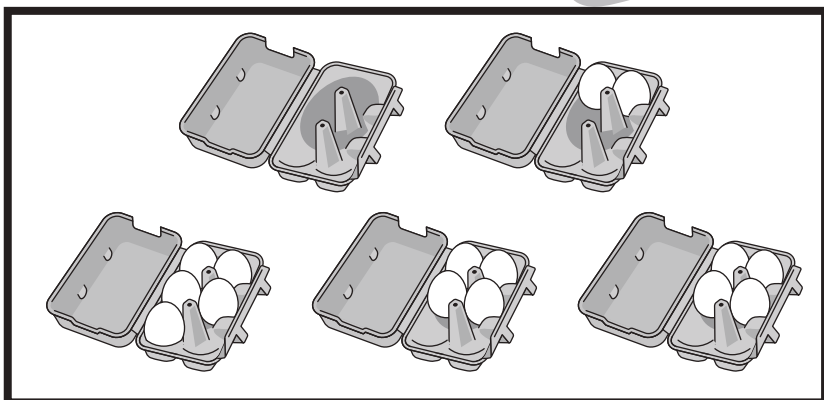
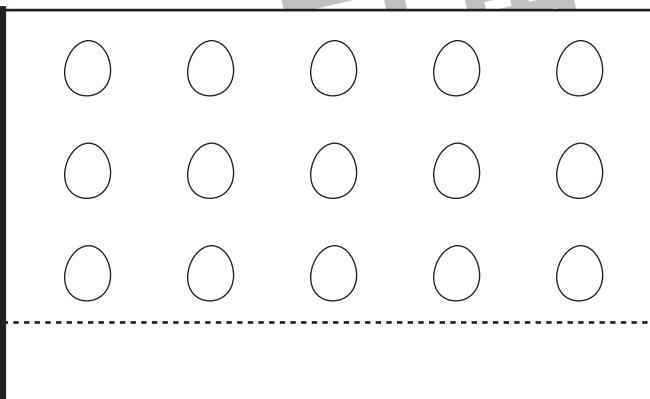
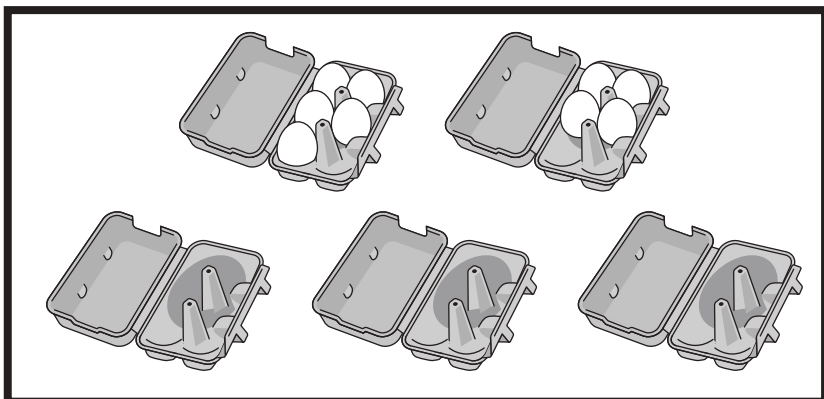


おうちで、やろう。

Study at home. 小学校受験の家庭学習教材

数量：対応⑦

左の太枠にある卵のパックのあいているところに、右の卵を詰めていきます。パックには6個の卵が詰められます。もう卵が詰めてあるパックもあります。できるだけ多くの卵のパックを作ると、全部で何パックできるかを考えて、その数だけ点線下に○をかきましょう。



※1. このプリントは、しながわ・目黒こどもスクールのウェブサイトでダウンロードができます。無断複写・引用はご遠慮ください。

※2. このプリントを活用したオンライン授業のスケジュールは、しながわ・目黒こどもスクールのウェブサイトでご確認ください。

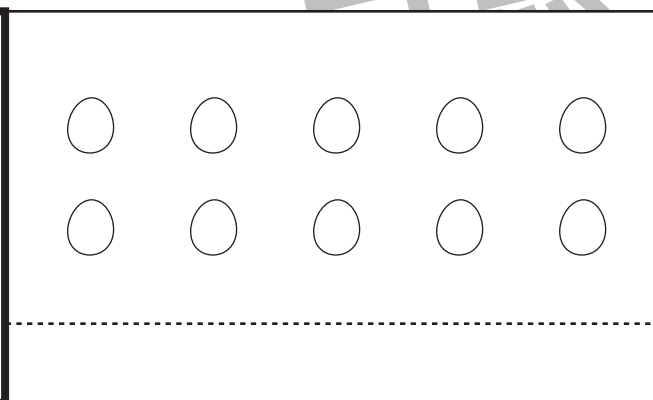
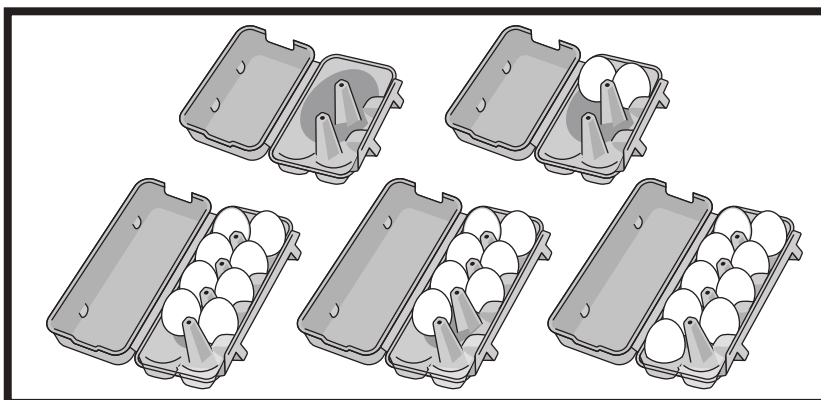
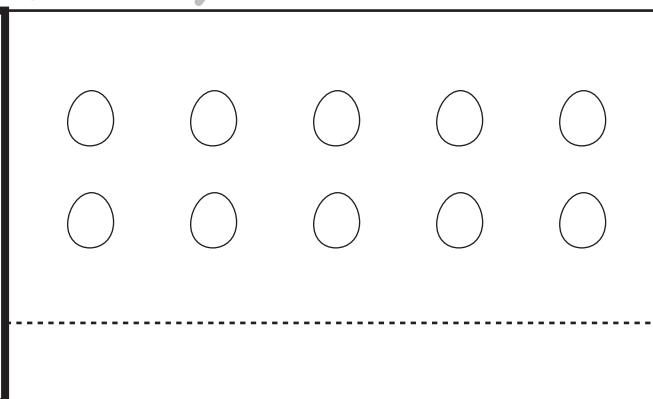
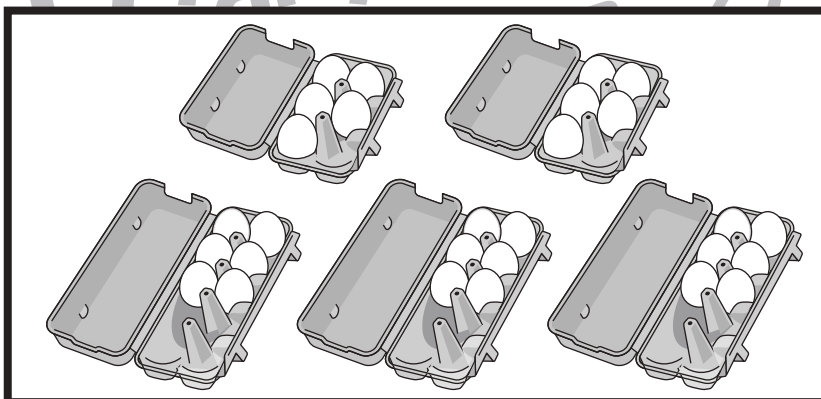
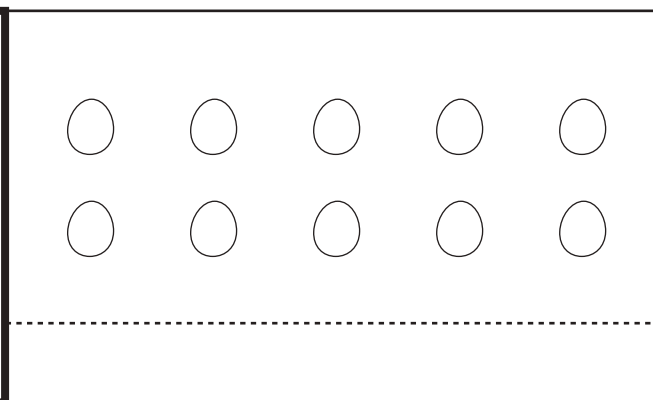

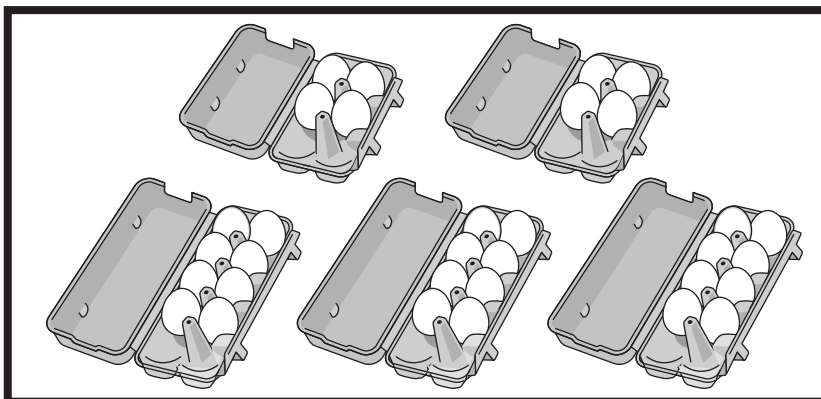


おうちで、やろう。

Study at home. 小学校受験の家庭学習教材

数量：対応⑧

左の太枠にある卵のパックのあいているところに、右の卵を詰めていきます。小さいパックには6個、大きいパックには10個の卵が詰められます。もう卵が詰めてあるパックもあります。できるだけ多くの卵のパックを作ると、全部で何パックできるかを考えて、その数だけ点線下に○をかきましょう。



※1. このプリントは、しながわ・目黒こどもスクールのウェブサイトダウンロードができます。無断複写・引用はご遠慮ください。

※2. このプリントを活用したオンライン授業のスケジュールは、しながわ・目黒こどもスクールのウェブサイトでご確認ください。

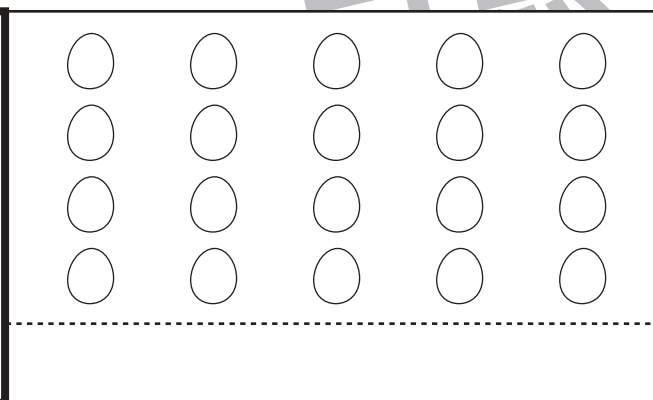
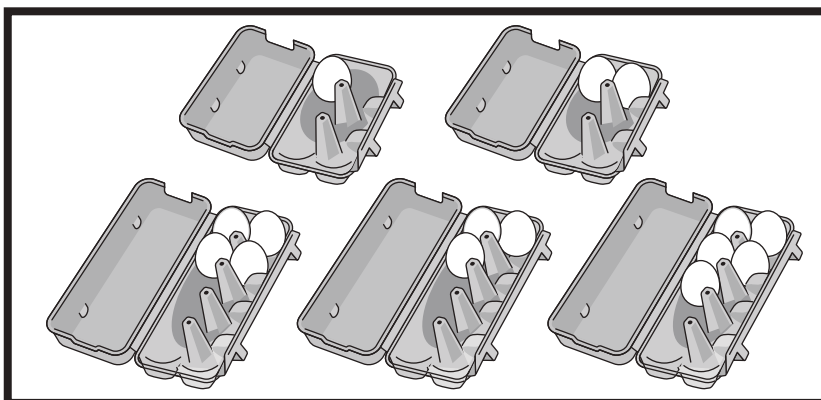
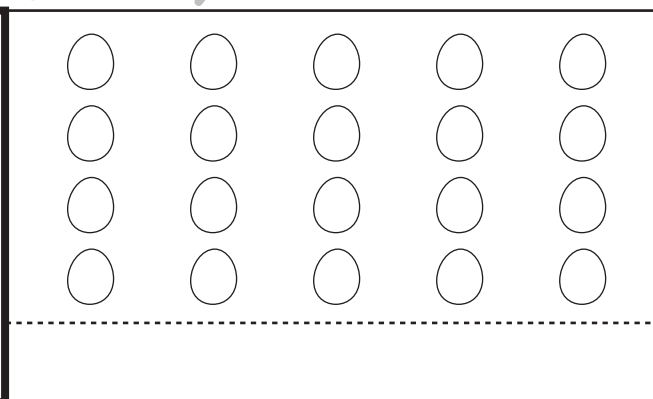
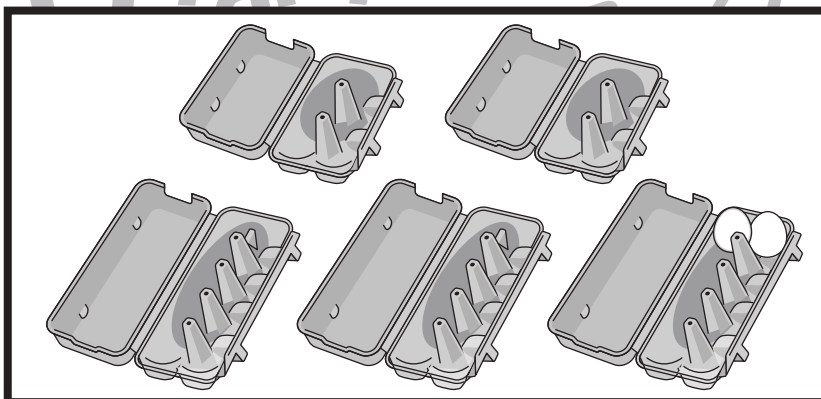
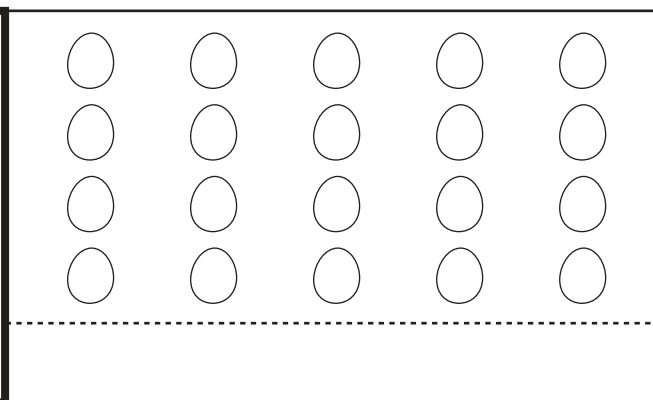
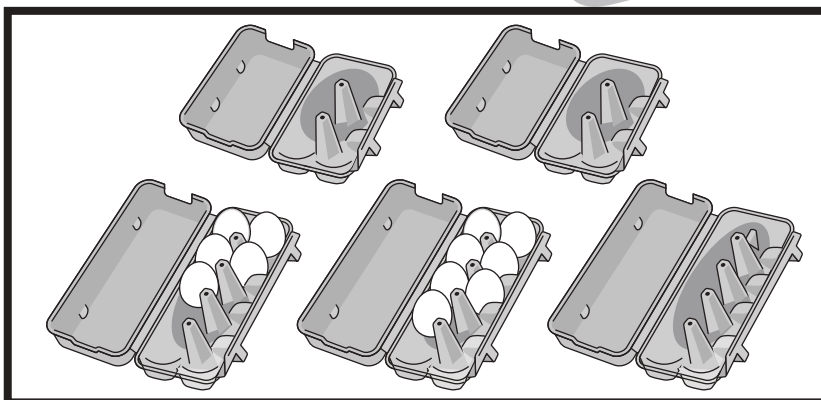
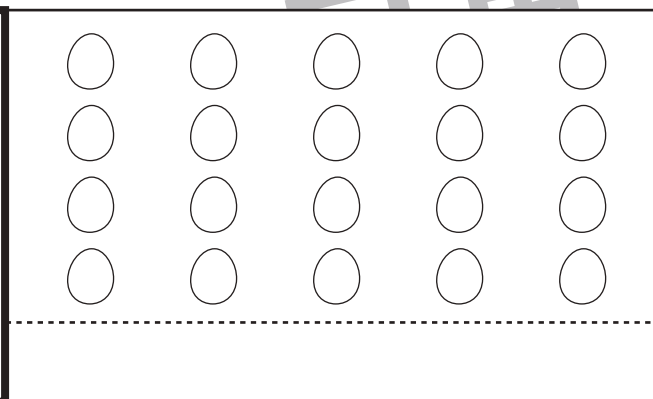
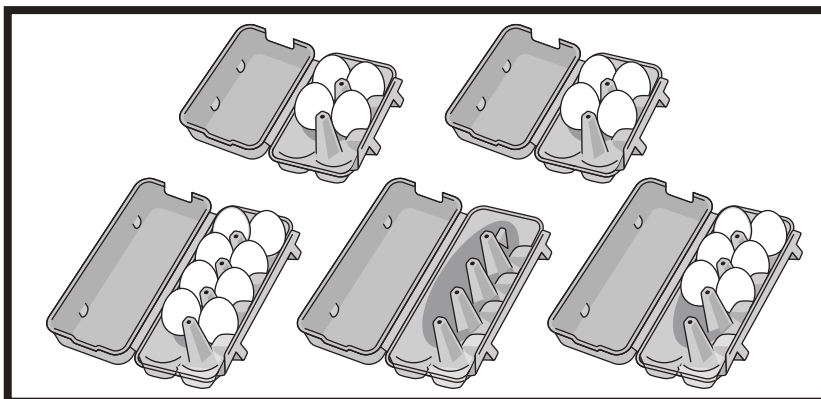


おうちで、やろう。

Study at home. 小学校受験の家庭学習教材

数量：対応⑨

左の太枠にある卵のパックのあいているところに、右の卵を詰めていきます。小さいパックには6個、大きいパックには10個の卵が詰められます。もう卵が詰めてあるパックもあります。できるだけ多くの卵のパックを作ると、全部で何パックできるかを考えて、その数だけ点線下に○をかきましょう。



※1. このプリントは、しながわ・目黒こどもスクールのウェブサイトからダウンロードできます。無断複写・引用はご遠慮ください。

※2. このプリントを活用したオンライン授業のスケジュールは、しながわ・目黒こどもスクールのウェブサイトでご確認ください。








おうちで、やろう。

Study at home. 小学校受験の家庭学習教材

処理：置き換え④














































上の太い四角の中が約束です。この約束通りに下のマスに記号をかきます。
この問題はスピードを意識して取り組む練習をしてみましょう。(それぞれ1分30秒～2分)

 → ○	 → ○	 → △	 → △	 → ▲
---	---	---	--	---



 → ○	 → ●	 → ▽	 → ▲	 → ▼
---	---	---	--	---



※1. このプリントは、しながわ・目黒こどもスクールのウェブサイトでダウンロードができます。無断複写・引用はご遠慮ください。
※2. このプリントを活用したオンライン授業のスケジュールは、しながわ・目黒こどもスクールのウェブサイトでご確認ください。

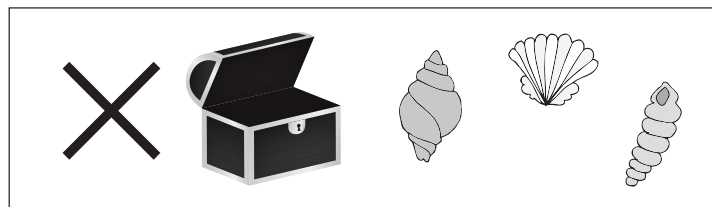


おうちで、やろう。

Study at home. 小学校受験の家庭学習教材

推理：たからさがし⑪

あなたは宝島にやってきました。宝箱と宝箱の鍵をたくさん見つけにいきます。下の地図の中からお手本にある「宝箱」「サンゴ」、どこかに1つだけある「石板」を見つけて○をつけましょう。「もう空いている宝箱」と「貝」はハズレですから、何も印はつけません。宝探しの時間はたったの1分です。それまでに、できるだけ多くの「宝箱」「サンゴ」「石板」を見つけてみましょう。



※1. このプリントは、しながわ・目黒こどもスクールのウェブサイトからダウンロードできます。無断複写・引用はご遠慮ください。

※2. このプリントを活用したオンライン授業のスケジュールは、しながわ・目黒こどもスクールのウェブサイトでご確認ください。

