





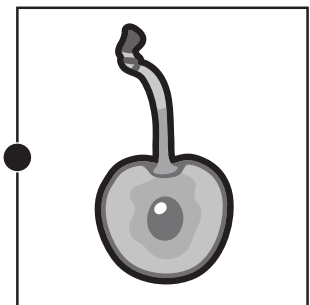

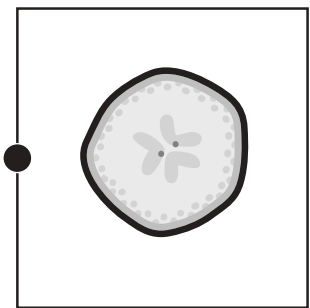

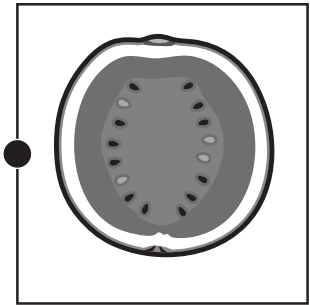
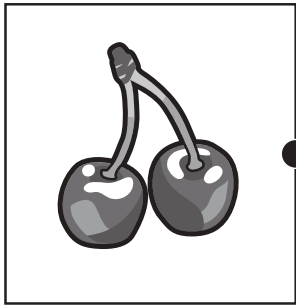


おうちで、やろう。

Study at home. 小学校受験の家庭学習教材

常識：断面図③

左は果物、右は果物を半分に切ったときの絵のです。同じもの同士の点と点を線で結びます。



※1. このプリントは、しながわ・目黒こどもスクールのウェブサイトからダウンロードができます。無断複写・引用はご遠慮ください。
※2. このプリントを活用したオンライン授業のスケジュールは、しながわ・目黒こどもスクールのウェブサイトでご確認ください。



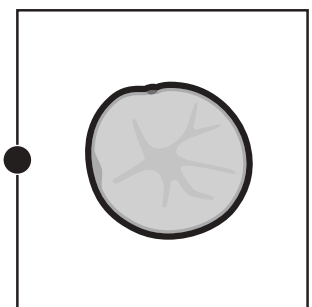
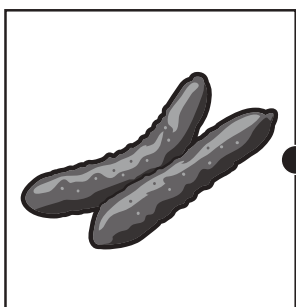



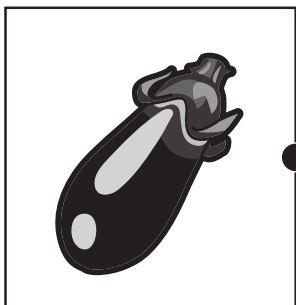
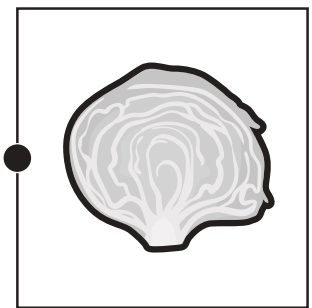

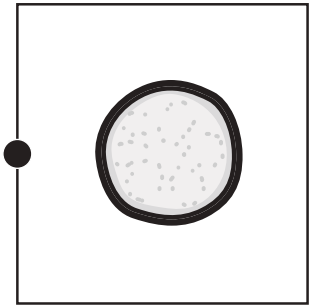
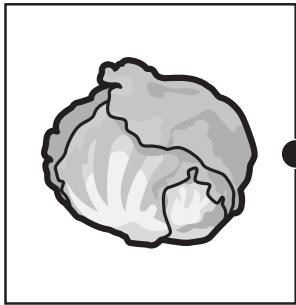


おうちで、やろう。

Study at home. 小学校受験の家庭学習教材

常識：断面図④

左は野菜、右は野菜を半分に切ったときの絵のです。同じもの同士の点と点を線で結びます。



※1. このプリントは、しながわ・目黒こどもスクールのウェブサイトからダウンロードできます。無断複写・引用はご遠慮ください。

※2. このプリントを活用したオンライン授業のスケジュールは、しながわ・目黒こどもスクールのウェブサイトでご確認ください。




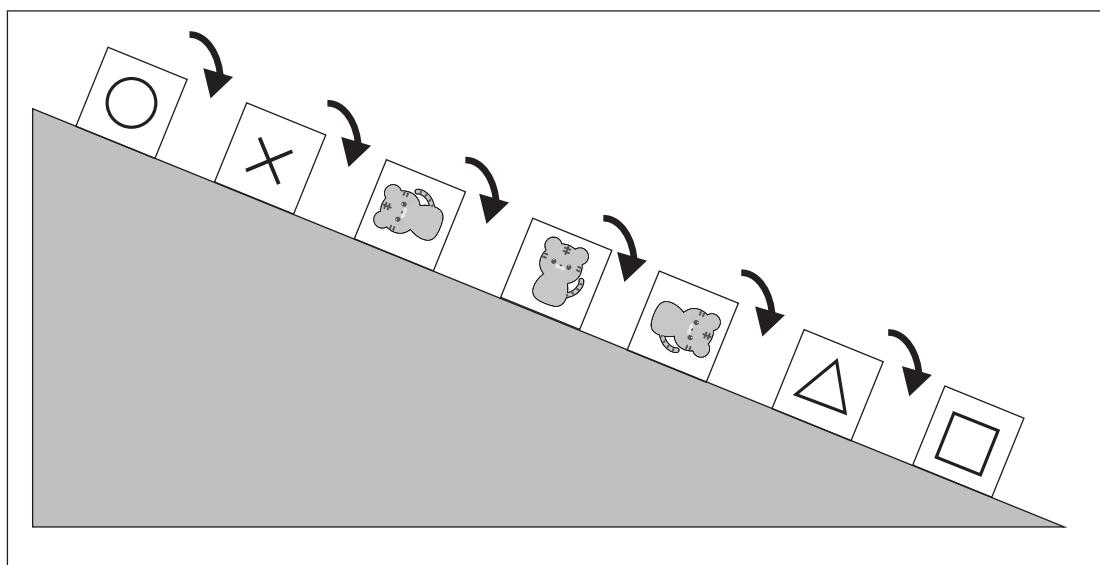

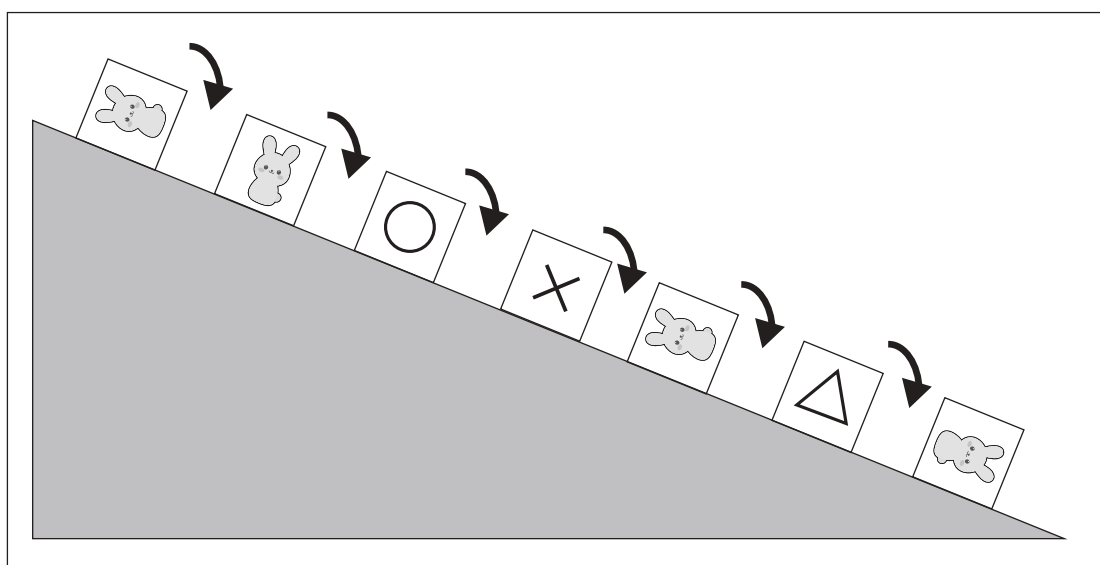
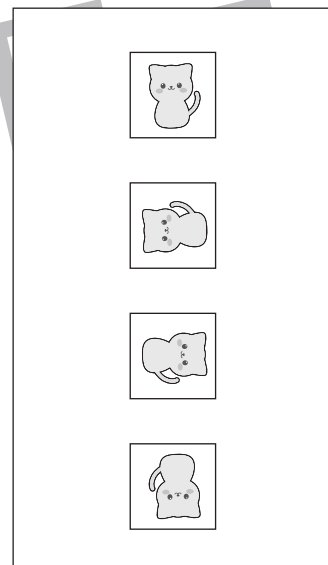
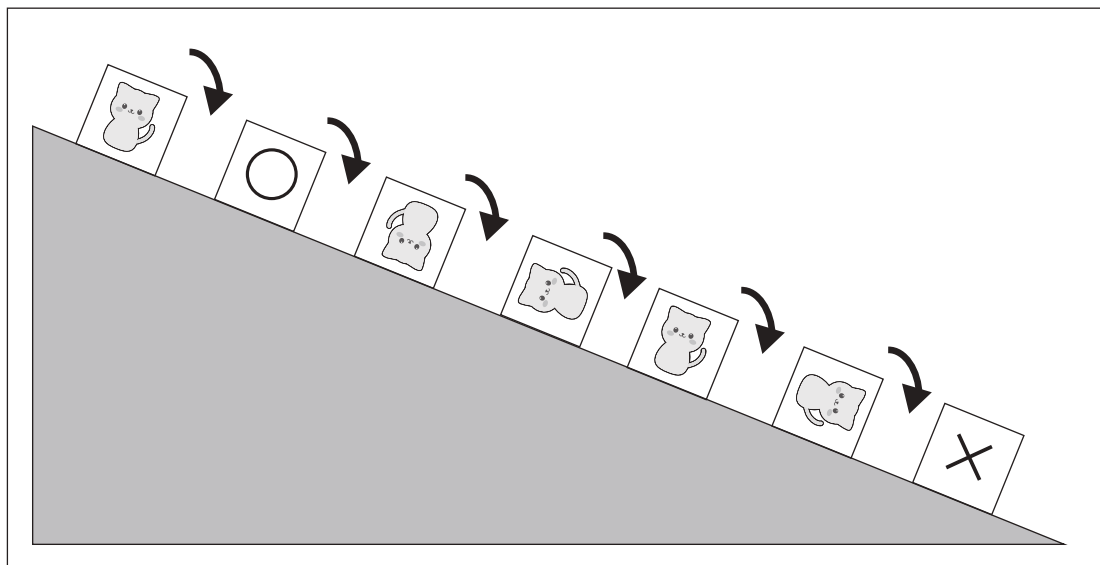


おうちで、やろう。

Study at home. 小学校受験の家庭学習教材

推理：回転⑪

坂道を箱が転がっていきます。それぞれの記号に入る箱の見え方を右の中から選んで○をつけます。



※1. このプリントは、しながわ・目黒こどもスクールのウェブサイトでダウンロードができます。無断複写・引用はご遠慮ください。
※2. このプリントを活用したオンライン授業のスケジュールは、しながわ・目黒こどもスクールのウェブサイトでご確認ください。

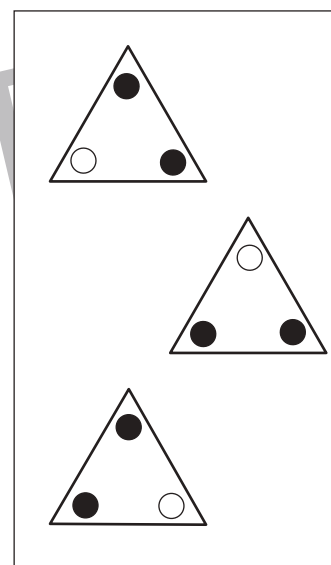
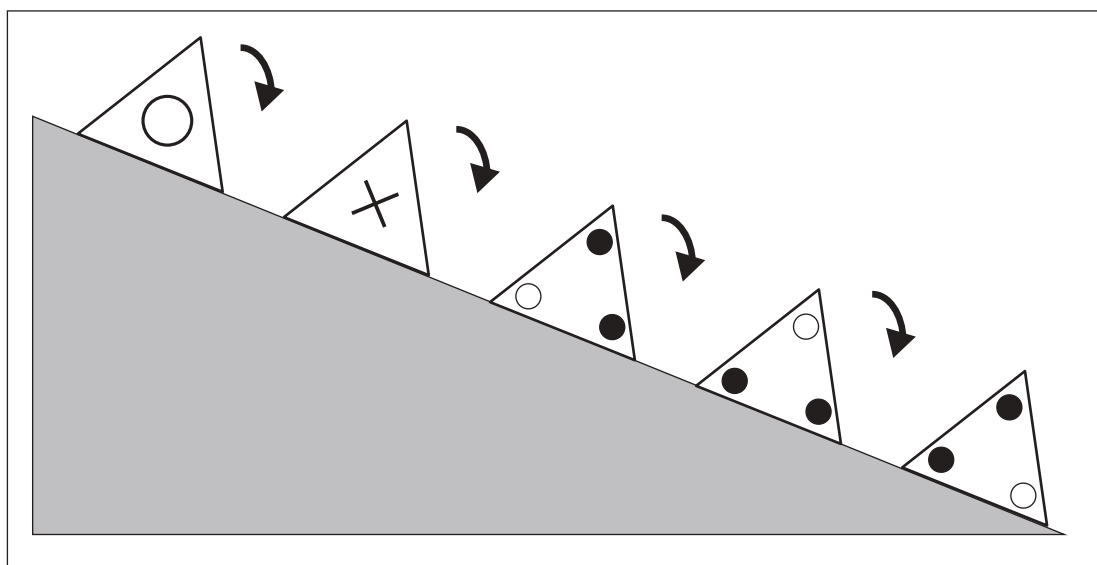
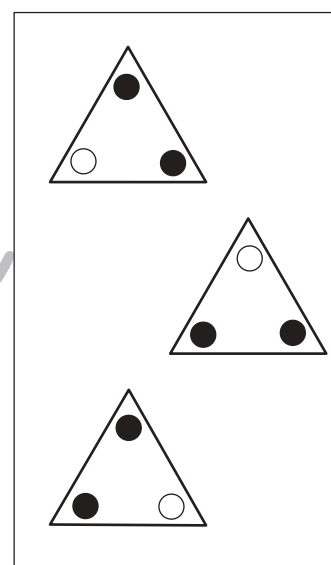
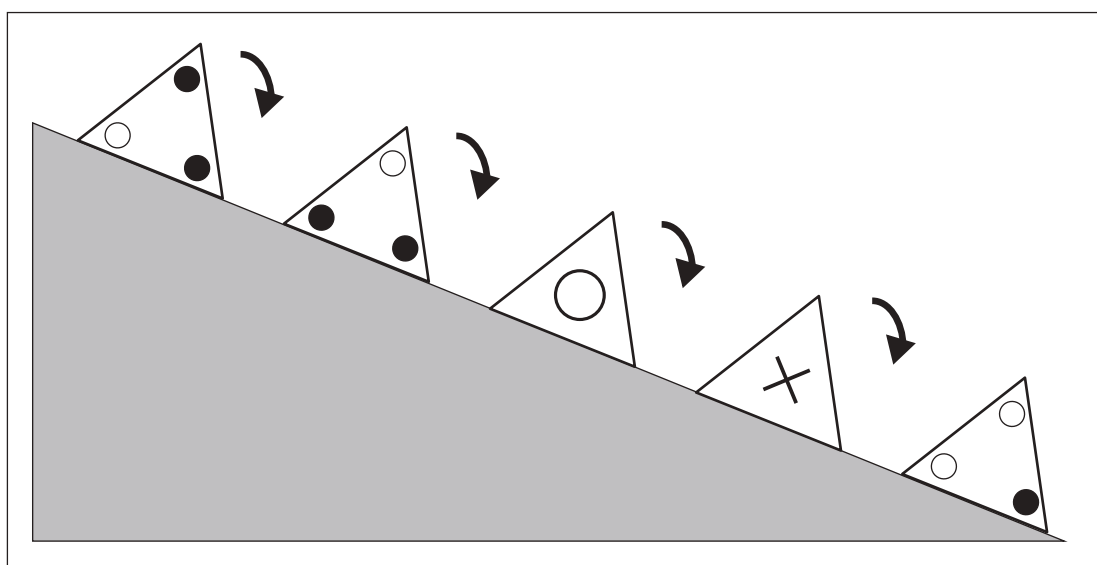
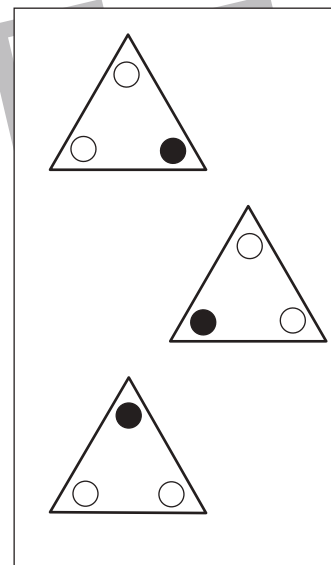
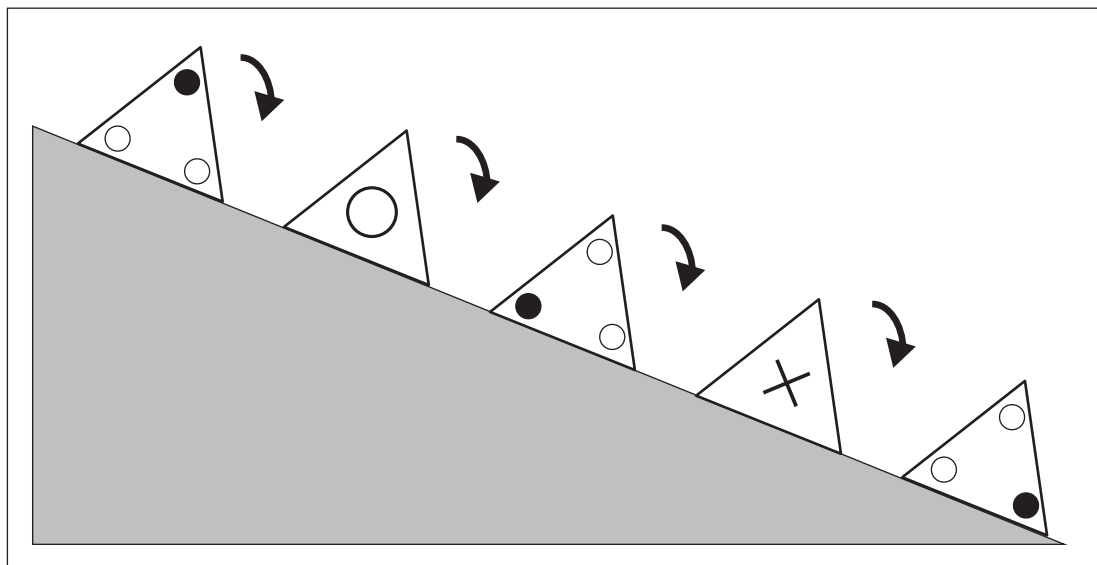


おうちで、やろう。

Study at home. 小学校受験の家庭学習教材

推理：回転⑫

坂道を三角の箱が転がっていきます。それぞれの記号に入る箱の見え方を右の中から選んで○をつけます。



※1. このプリントは、しながわ・目黒こどもスクールのウェブサイトからダウンロードできます。無断複写・引用はご遠慮ください。
※2. このプリントを活用したオンライン授業のスケジュールは、しながわ・目黒こどもスクールのウェブサイトでご確認ください。



おうちで、やろう。

Study at home. 小学校受験の家庭学習教材

推理：系列完成⑦

➡の方からマスの中の記号がある決まりに従って並んでいます。空いている四角に入る記号をかきます。

➡	○	△	□	○ ○	△ △		○ ○ ○		□ □ □		△ △ △ △	
---	---	---	---	--------	--------	--	-------------	--	-------------	--	------------------	--

➡	○	△ △ △ △ △	□		△ △ △ △	□ □	○ ○ ○		□ □ □	○ ○ ○ ○	△ △	
---	---	-----------------------	---	--	------------------	--------	-------------	--	-------------	------------------	--------	--

➡	○	△ △	□ □ □ □ □	○ ○	△ △ △	□ □ □ □	○ ○ ○		□ □ □	○ ○ ○ ○	△ △ △ △ △	
---	---	--------	-----------------------	--------	-------------	------------------	-------------	--	-------------	------------------	-----------------------	--

➡		△ △	□ □	○ ○	△ △ △ △	□ □ □	○ ○ ○		□ □ □ □	○ ○ ○ ○	△ △ △ △ △ △ △ △	
---	--	--------	--------	--------	------------------	-------------	-------------	--	------------------	------------------	--------------------------------------	--

※1. このプリントは、しながわ・目黒こどもスクールのウェブサイトでダウンロードができます。無断複写・引用はご遠慮ください。
 ※2. このプリントを活用したオンライン授業のスケジュールは、しながわ・目黒こどもスクールのウェブサイトでご確認ください。



おうちで、やろう。

Study at home. 小学校受験の家庭学習教材

推理：系列完成⑧

➡の方からマスの中の記号がある決まりに従って並んでいます。空いている四角に入る記号をかきます。

➡	○ ○	△	□ □ □	○ ○ ○	△ △	□ □ □ □		△ △ △	□ □ □ □ □	○ ○ ○ ○ ○		
---	--------	---	-------------	-------------	--------	------------------	--	-------------	-----------------------	-----------------------	--	--

➡	□ □ □ □ □ □	○ ○ ○ ○ ○ ○	△ △ △ △ △	□ □ □ □ □			□ □ □ □	○ ○ ○ ○ ○	△ △ △		○ ○ ○ ○	△ △
---	----------------------------	----------------------------	-----------------------	-----------------------	--	--	------------------	-----------------------	-------------	--	------------------	--------

➡		□ □ □ □ □	○	△ △ △		○ ○	△ △ △ △	□ □ □		△ △ △ △ △	□ □	○ ○ ○ ○
---	--	-----------------------	---	-------------	--	--------	------------------	-------------	--	-----------------------	--------	------------------

➡			○ ○ ○	△ △ △ △	□ □ □ □ □ □	○ ○ ○ ○ ○	△ △ △ △ △ △	□ □ □ □	○ ○ ○ ○ ○ ○	△ △ △ △ △ △ △	□ □
---	--	--	-------------	------------------	----------------------------	-----------------------	----------------------------	------------------	----------------------------	---------------------------------	--------

※1. このプリントは、しながわ・目黒こどもスクールのウェブサイトでダウンロードができます。無断複写・引用はご遠慮ください。
 ※2. このプリントを活用したオンライン授業のスケジュールは、しながわ・目黒こどもスクールのウェブサイトでご確認ください。



おうちで、やろう。

Study at home. 小学校受験の家庭学習教材

数量：加減⑮

左の○の四角の中のものから、△の四角の中のものの数だけ取ると○の四角の中の数はいくつになりますか。
正しいものを右から選んで○をつけます。

○	△				

○	△				

○	△				

○	△				

○	△				

※1. このプリントは、しながわ・目黒こどもスクールのウェブサイトからダウンロードできます。無断複写・引用はご遠慮ください。
 ※2. このプリントを活用したオンライン授業のスケジュールは、しながわ・目黒こどもスクールのウェブサイトでご確認ください。



おうちで、やろう。

Study at home. 小学校受験の家庭学習教材

数量：加減⑬

左の○の四角の中のものから、△の四角の中のものだけ取ると○の四角の中の数はいくつになりますか。
正しいものを右から選んで○をつけます。

○	△					

○	△					

○	△					

○	△					

○	△					

※1. このプリントは、しながわ・目黒こどもスクールのウェブサイトでダウンロードができます。無断複写・引用はご遠慮ください。

※2. このプリントを活用したオンライン授業のスケジュールは、しながわ・目黒こどもスクールのウェブサイトでご確認ください。



おうちで、やろう。

Study at home. 小学校受験の家庭学習教材

数量：加減⑰

左の○の四角の中のものから、△の四角の中のものの数だけ取ると○の四角の中の数はいくつになりますか。
正しいものを右から選んで○をつけます。

○	△				

○	△				

○	△				

○	△				

○	△				

※1. このプリントは、しながわ・目黒こどもスクールのウェブサイトからダウンロードできます。無断複写・引用はご遠慮ください。

※2. このプリントを活用したオンライン授業のスケジュールは、しながわ・目黒こどもスクールのウェブサイトでご確認ください。

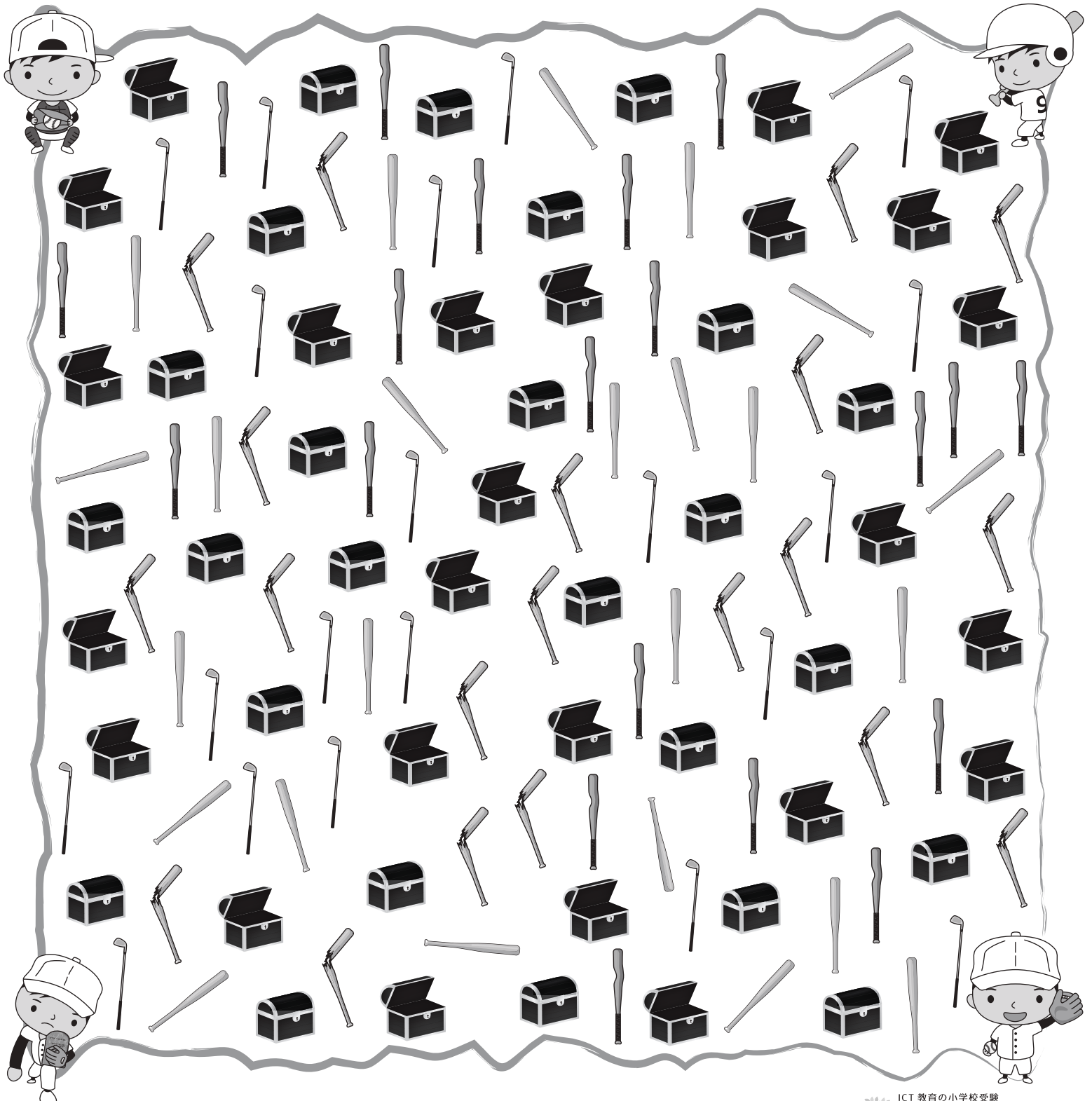
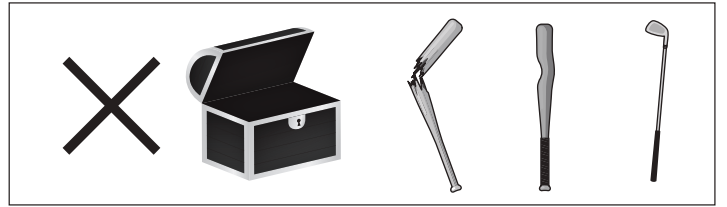



おうちで、やろう。

Study at home. 小学校受験の家庭学習教材

推理：たからさがし⑫

あなたは宝島にやってきました。宝箱と宝箱の鍵をたくさん見つけにいきます。下の地図の中からお手本にある「宝箱」「バット」、どこかに1つだけある「石板」を見つけて○をつけましょう。「もう空いている宝箱」と「折れたバット」、「へこんだバット」、「ゴルフクラブ」はハズレですから、何も印はつけません。宝探しの時間はたったの1分です。それまでに、できるだけ多くの「宝箱」「バット」「石板」を見つけてみましょう。



※1. このプリントは、しながわ・目黒こどもスクールのウェブサイトからダウンロードできます。無断複写・引用はご遠慮ください。
※2. このプリントを活用したオンライン授業のスケジュールは、しながわ・目黒こどもスクールのウェブサイトでご確認ください。

