




おうちで、やろう。

Study at home. 小学校受験の家庭学習教材


- ①-1. 交番や派出所でよく見かけるお仕事の人だと思う絵に○をつけます。
- ①-2. ホテルや宿泊姿勢でお客様の案内をしてくれるお仕事の人だと思う絵に△をつけます。
- ①-3. 病気を治してくれたり身体の調子を良くしてくれるお仕事の人だと思う絵に□をつけます。

①



- ②-1. みんなが大好きな幼稚園の先生のお仕事の人だと思う絵に○をつけます。
- ②-2. 人の髪の毛を切ったり整えたりしてくれる美容師のお仕事の人だと思う絵に△をつけます。
- ②-3. 飛行機の中で乗客の案内をしてくれる客室乗務員のお仕事の人だと思う絵に□をつけます。

②



※1. このプリントは、しながわ・目黒こどもスクールのウェブサイトからダウンロードできます。無断複写・引用はご遠慮ください。
 ※2. このプリントを活用したオンライン授業のスケジュールは、しながわ・目黒こどもスクールのウェブサイトでご確認ください。

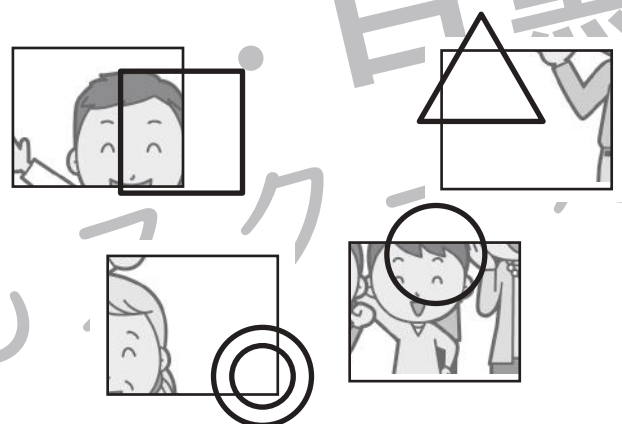









おうちで、やろう。

Study at home. 小学校受験の家庭学習教材

推理：パズル①

記号の付いた部分に当てはまるパズルピースを選んで、その場所に書いてある記号をつきましょう。



※1. このプリントは、しながわ・目黒こどもスクールのウェブサイトでダウンロードができます。無断複写・引用はご遠慮ください。
※2. このプリントを活用したオンライン授業のスケジュールは、しながわ・目黒こどもスクールのウェブサイトでご確認ください。








おうちで、やろう。

Study at home. 小学校受験の家庭学習教材

図形：歯車①

歯車がいくつか並んでいます。その中の1つが矢印の方向に進んだ時、四角の近くにある歯車は右回り、左回りどちらに動きますか。動くと思う向きに矢印をかきます。



※1. このプリントは、しながわ・目黒こどもスクールのウェブサイトでダウンロードができます。無断複写・引用はご遠慮ください。

※2. このプリントを活用したオンライン授業のスケジュールは、しながわ・目黒こどもスクールのウェブサイトでご確認ください。










おうちで、やろう。

Study at home. 小学校受験の家庭学習教材

図形：歯車②

歯車がいくつか並んでいます。その中の1つが矢印の方向に進んだ時、四角の近くにある歯車は右回り、左回りどちらに動きますか。動くと思う向きに矢印をかきます。



※1. このプリントは、しながわ・目黒こどもスクールのウェブサイトでダウンロードができます。無断複写・引用はご遠慮ください。

※2. このプリントを活用したオンライン授業のスケジュールは、しながわ・目黒こどもスクールのウェブサイトでご確認ください。







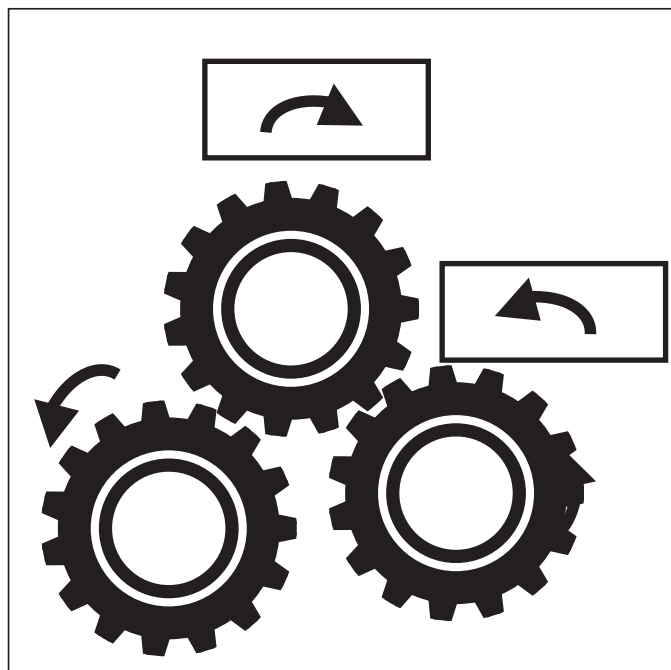


おうちで、やろう。

Study at home. 小学校受験の家庭学習教材

図形：歯車③

歯車がいくつか並んでいます。その中の1つが矢印の方向に進んだ時、四角の近くにある歯車は右回り、左回りどちらに動きますか。動くと思う向きに矢印をかきます。



※1. このプリントは、しながわ・目黒こどもスクールのウェブサイトでダウンロードができます。無断複写・引用はご遠慮ください。
※2. このプリントを活用したオンライン授業のスケジュールは、しながわ・目黒こどもスクールのウェブサイトでご確認ください。





おうちで、よろう。

Study at home. 小学校受験の家庭学習教材

数量：加減⑱

左の○の四角の中のものから、△の四角の中のものの数だけ取ると○の四角の中の数はいくつになりますか。
正しいものを右から選んで○をつけます。

○	△				

○	△				

○	△				

○	△				

○	△				

※1. このプリントは、しながわ・目黒こどもスクールのウェブサイトからダウンロードできます。無断複写・引用はご遠慮ください。
 ※2. このプリントを活用したオンライン授業のスケジュールは、しながわ・目黒こどもスクールのウェブサイトでご確認ください。

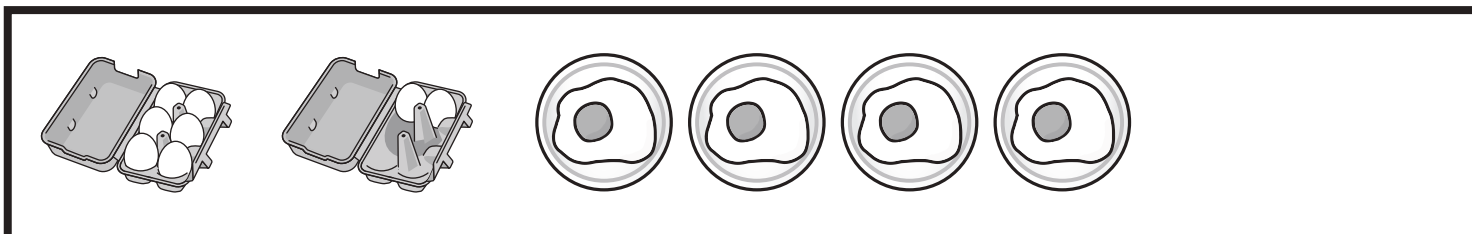


おうちで、やろう。

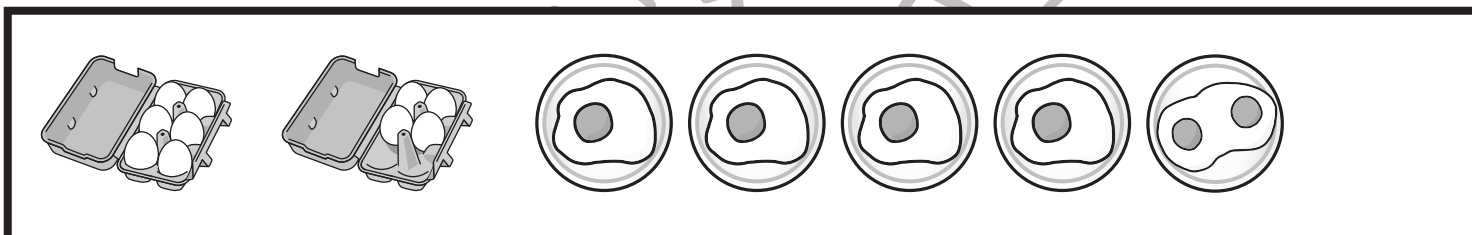
Study at home. 小学校受験の家庭学習教材

数量：余る数・足りない数⑤

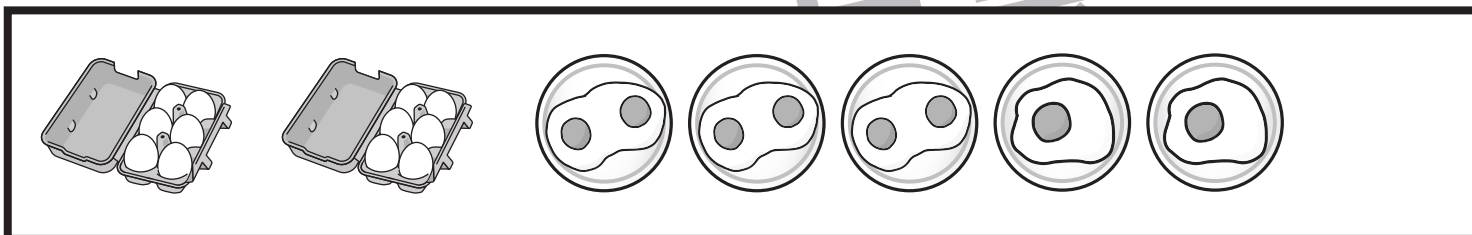
左の卵パックの中からいくつかの卵をつかって、目玉焼きを作りました。目玉焼きの目玉の数だけ卵をつけています。卵パックの中に残っている卵は全部でいくつ余っていますか。その数だけ下の四角に○をかきましょう。



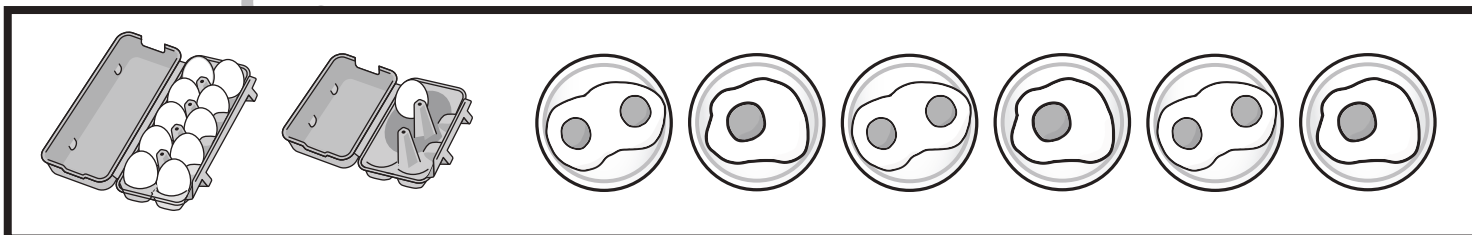
○ ○ ○ ○



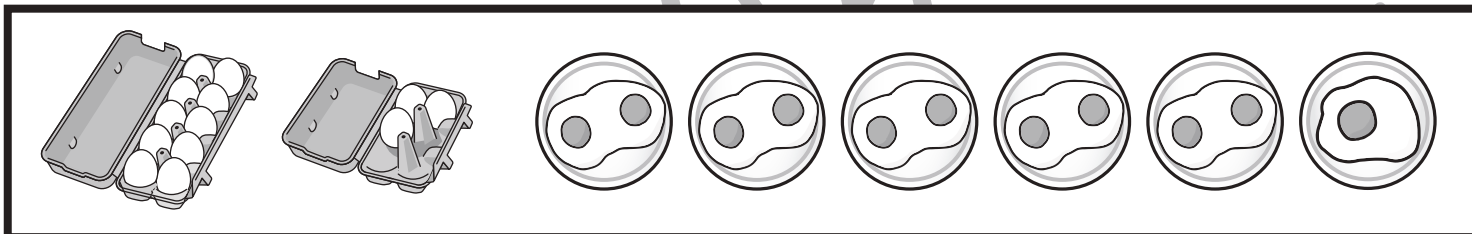
○ ○ ○ ○ ○



○ ○ ○ ○ ○



○ ○



○ ○

※1. このプリントは、しながわ・目黒こどもスクールのウェブサイトでダウンロードができます。無断複写・引用はご遠慮ください。
※2. このプリントを活用したオンライン授業のスケジュールは、しながわ・目黒こどもスクールのウェブサイトでご確認ください。

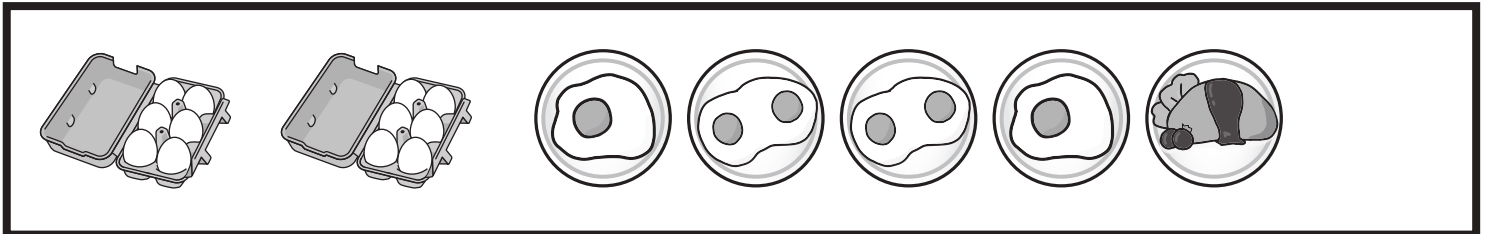


おうちで、やろう。

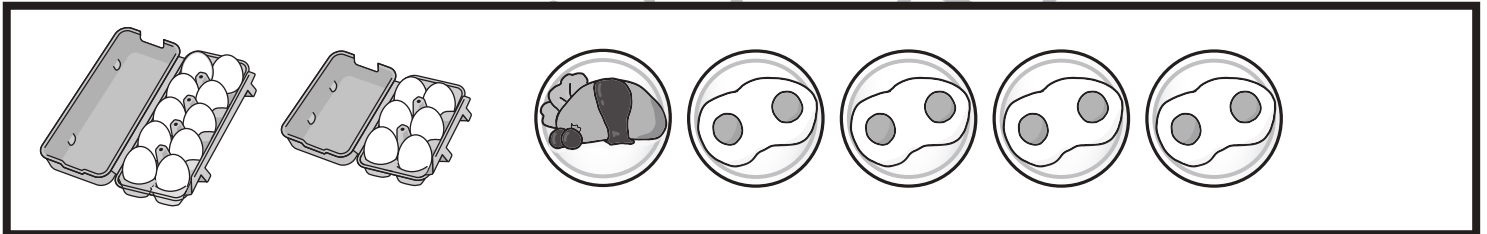
Study at home. 小学校受験の家庭学習教材

数量：余る数・足りない数⑥

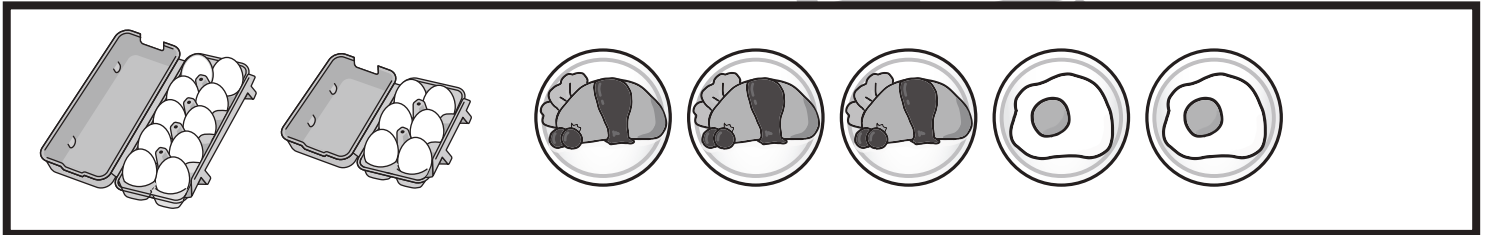
左の卵パックの中からいくつかの卵をつかって、目玉焼きとオムライスを作りました。目玉焼きは目玉の数だけ卵をつかっています。オムライスは卵を4個つかいました。卵パックの中に残っている卵は全部でいくつ余っていますか。その数だけ下の四角に〇をかきましょう。



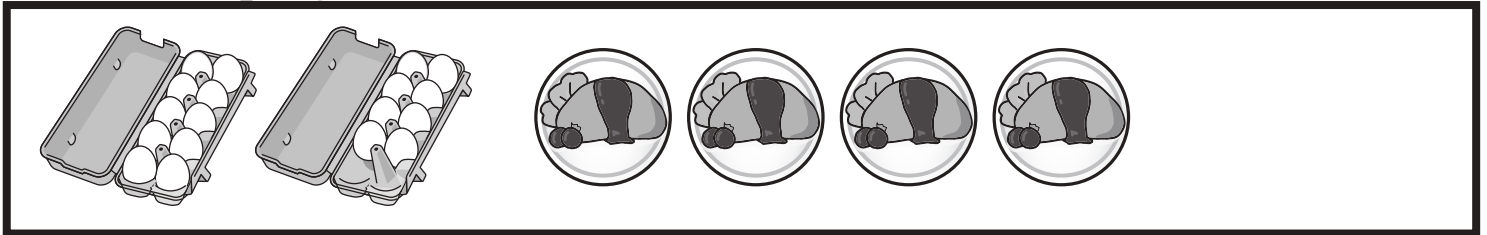
〇〇



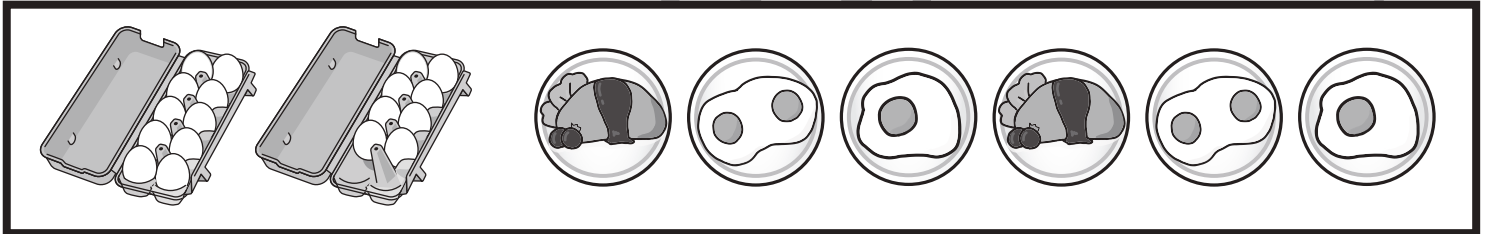
〇〇〇〇



〇〇



〇〇



〇〇〇〇

※1. このプリントは、しながわ・目黒こどもスクールのウェブサイトでダウンロードができます。無断複写・引用はご遠慮ください。
※2. このプリントを活用したオンライン授業のスケジュールは、しながわ・目黒こどもスクールのウェブサイトでご確認ください。

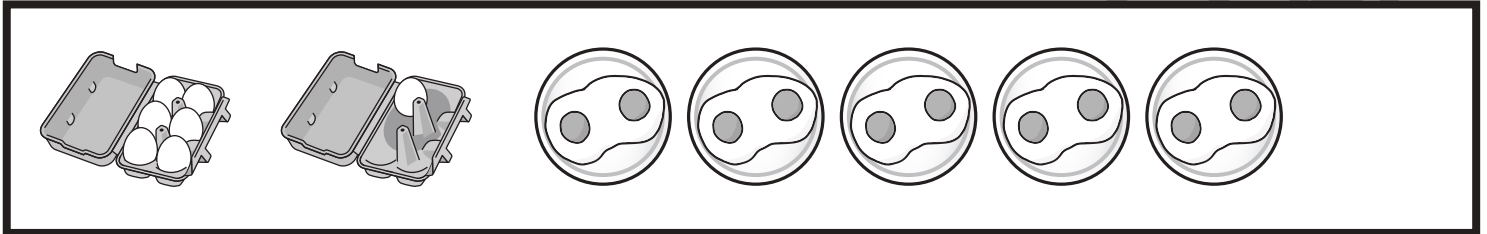


おうちで、やろう。

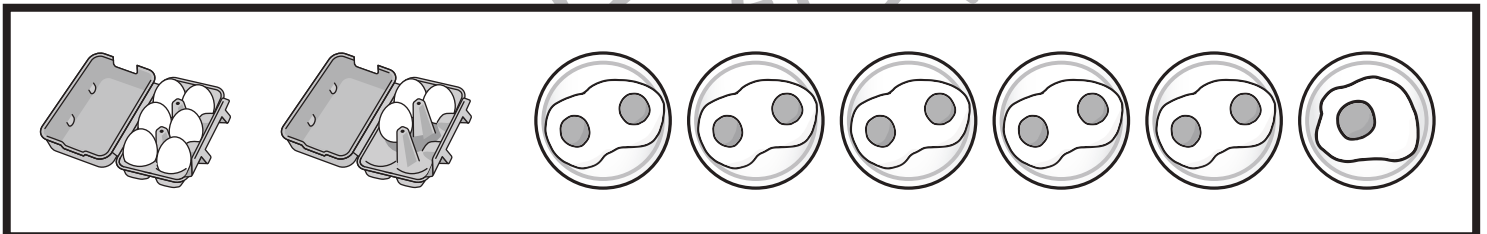
Study at home. 小学校受験の家庭学習教材

数量：余る数・足りない数⑦

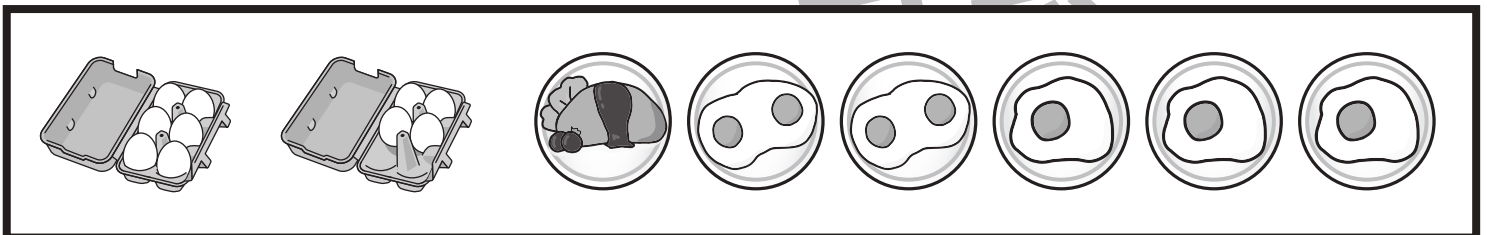
右のお皿の数だけ目玉焼きとオムライスを作ろうと思います。目玉焼きは目玉の数だけ卵をつかっています。オムライスは卵を4個つかいます。ところが、卵パックの中に入っている卵だけでは、どうやら卵の数が足りないようです。右のお皿の数だけ料理を作ると、あといくつの卵が必要ですか。足りない卵の数だけ下の四角に○をかきましょう。



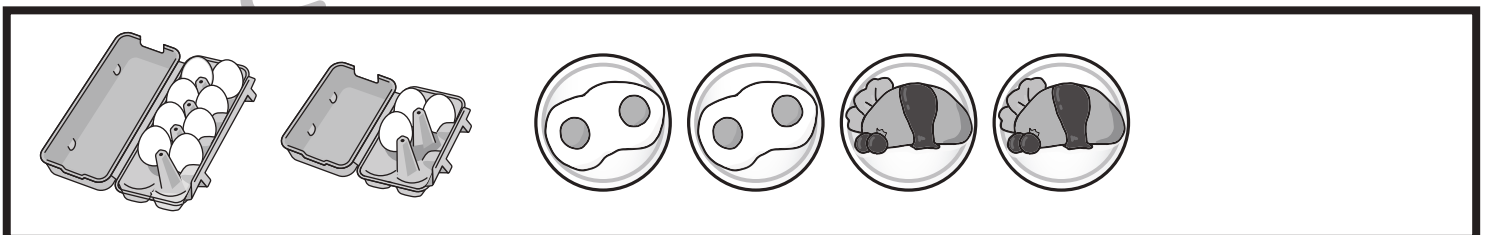
○ ○ ○



○ ○



○



○



○

※1. このプリントは、しながわ・目黒こどもスクールのウェブサイトでダウンロードができます。無断複写・引用はご遠慮ください。
※2. このプリントを活用したオンライン授業のスケジュールは、しながわ・目黒こどもスクールのウェブサイトでご確認ください。