

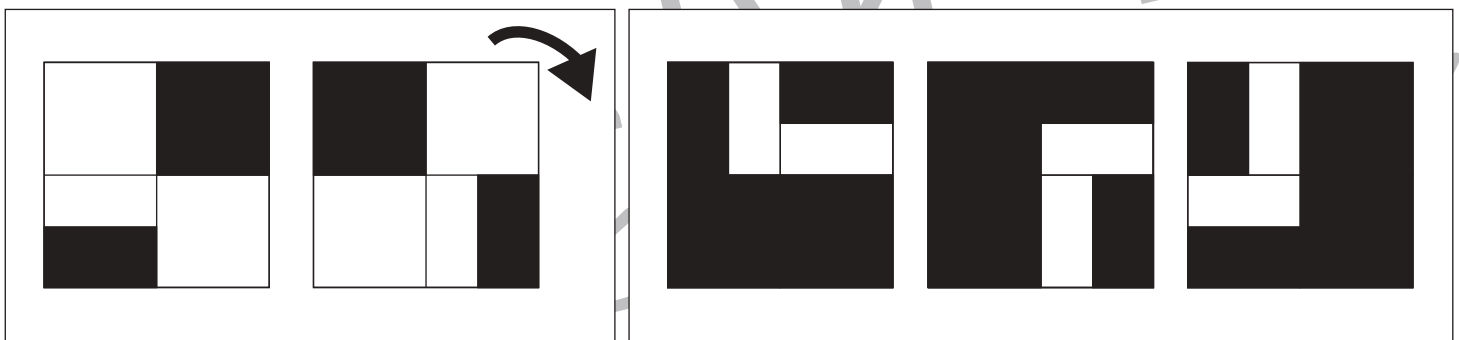
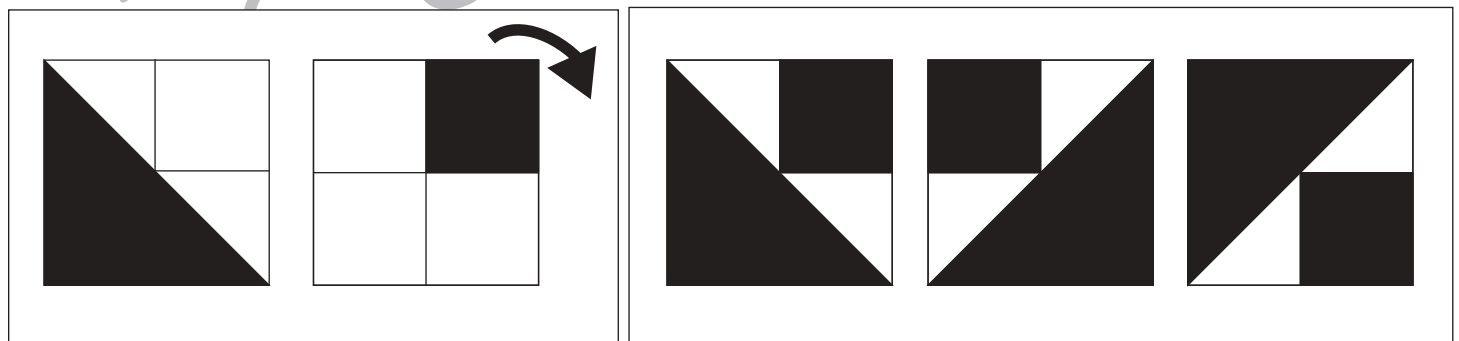
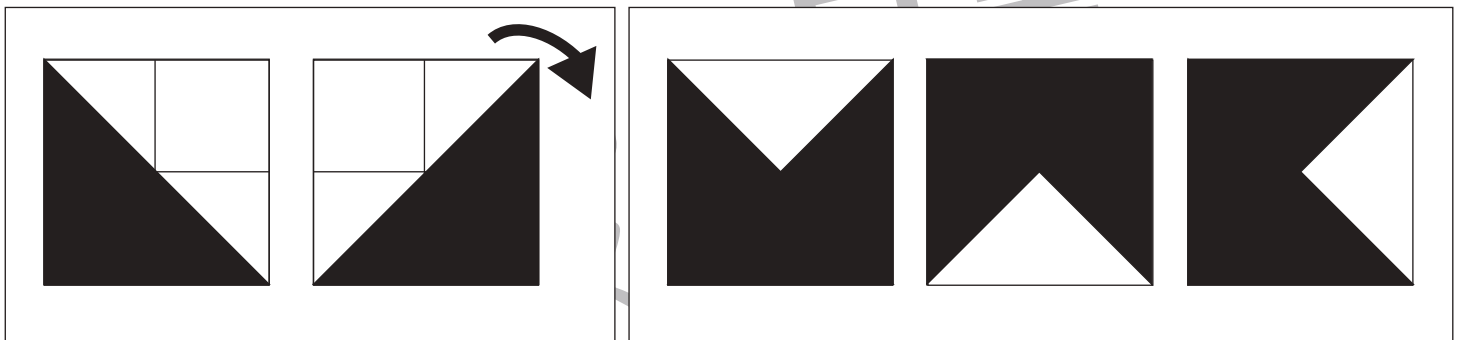
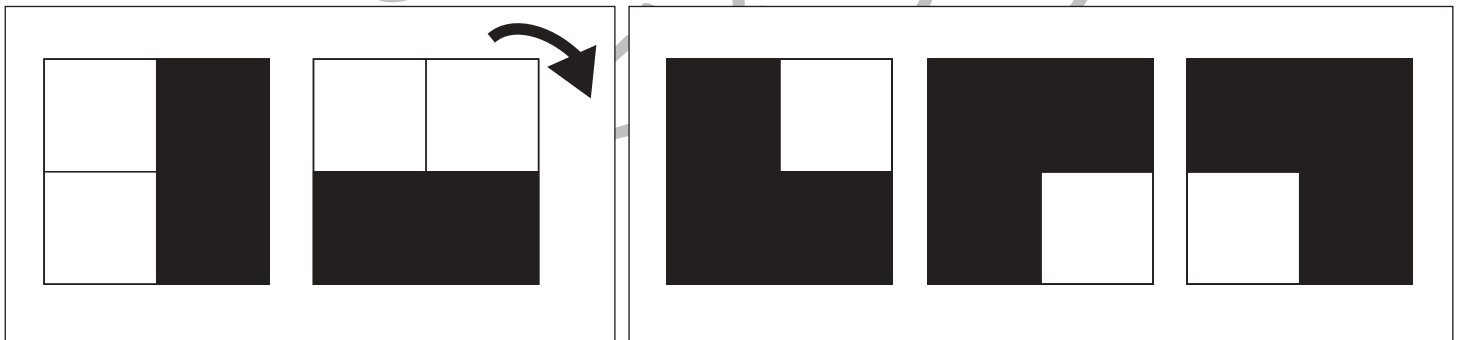
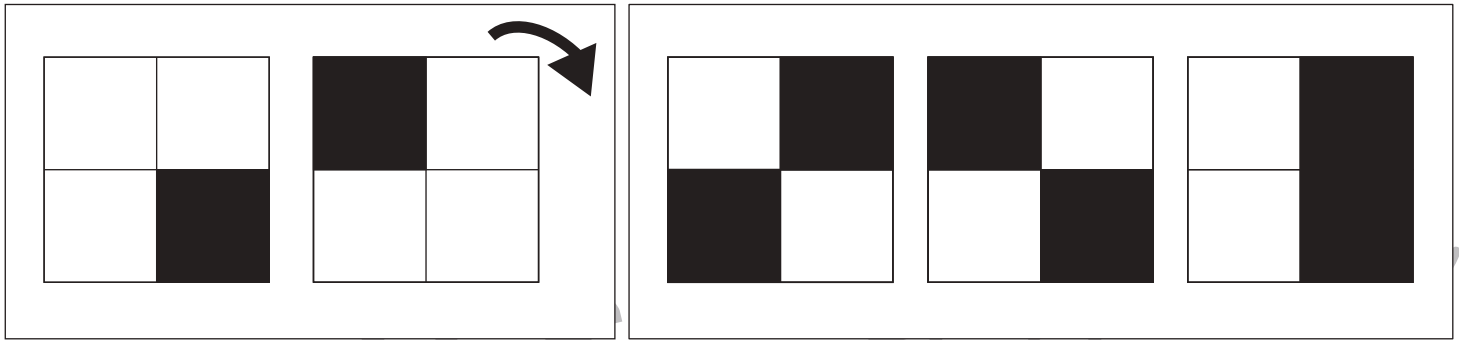


おうちで、やろう。

Study at home. 小学校受験の家庭学習教材

図形：重ね回転⑨

左の2枚の四角は透明な板です。この2枚の四角をぴったり重ねた後、矢印の方向へ1回倒したときの見え方を考えます。正しいものを右の四角の中から選んで○をつけます。



※1. このプリントは、しながわ・目黒こどもスクールのウェブサイトでダウンロードができます。無断複写・引用はご遠慮ください。
 ※2. このプリントを活用したオンライン授業のスケジュールは、しながわ・目黒こどもスクールのウェブサイトでご確認ください。



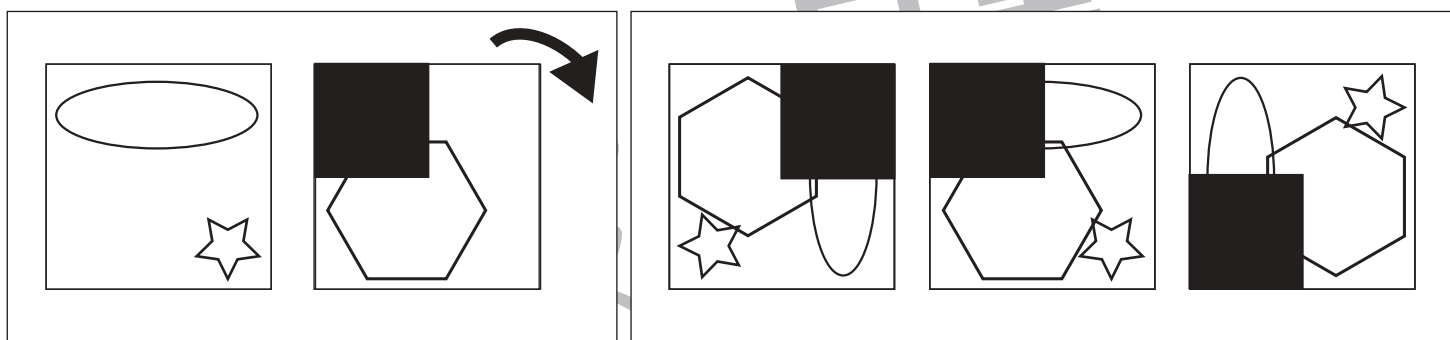

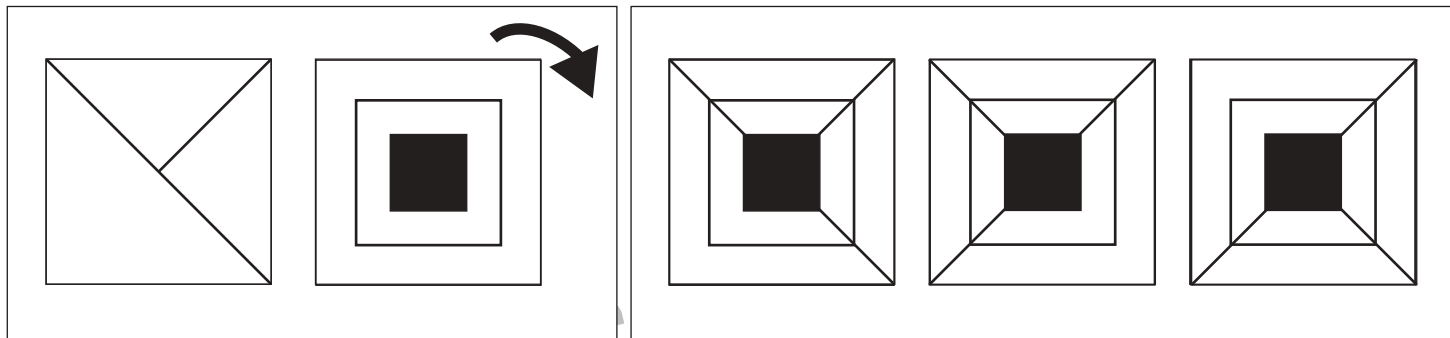


おうちで、やろう。

Study at home. 小学校受験の家庭学習教材

図形：重ね回転⑩

左の2枚の四角は透明な板です。この2枚の四角をぴったり重ねた後、矢印の方向へ1回倒したときの見え方を考えます。正しいものを右の四角の中から選んで○をつけます。



※1. このプリントは、しながわ・目黒こどもスクールのウェブサイトでダウンロードができます。無断複写・引用はご遠慮ください。
 ※2. このプリントを活用したオンライン授業のスケジュールは、しながわ・目黒こどもスクールのウェブサイトでご確認ください。



おうちで、やろう。

Study at home. 小学校受験の家庭学習教材

図形：同図形⑥

左の太い四角の中がお手本です。このお手本と同じ形を右の中から見つけて○をつけます。

※1. このプリントは、しながわ・目黒こどもスクールのウェブサイトでダウンロードができます。無断複写・引用はご遠慮ください。
 ※2. このプリントを活用したオンライン授業のスケジュールは、しながわ・目黒こどもスクールのウェブサイトでご確認ください。



おうちで、やろう。

Study at home. 小学校受験の家庭学習教材

図形：同図形⑦

左の太い四角の中がお手本です。このお手本と同じ形を右の中から見つけて○をつけます。

※1. このプリントは、しながわ・目黒こどもスクールのウェブサイトからダウンロードできます。無断複写・引用はご遠慮ください。

※2. このプリントを活用したオンライン授業のスケジュールは、しながわ・目黒こどもスクールのウェブサイトでご確認ください。

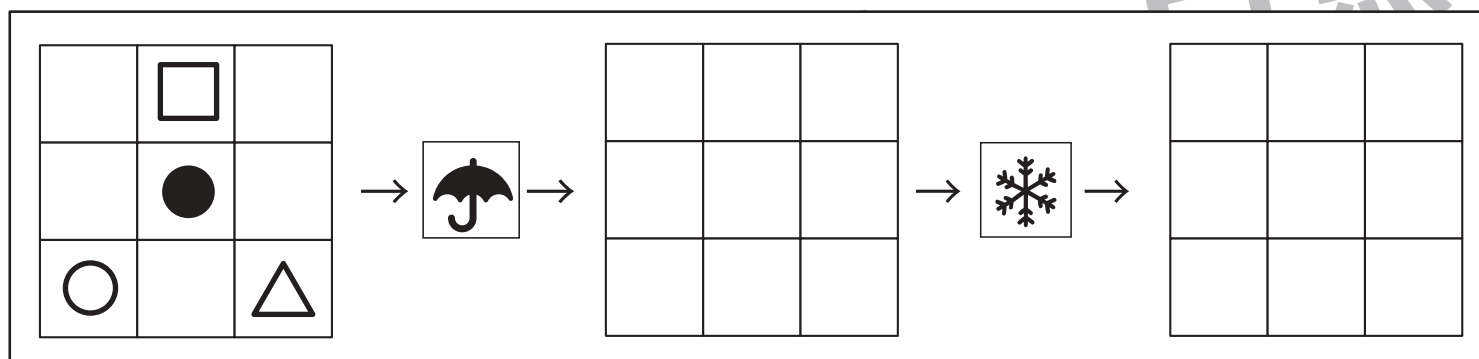
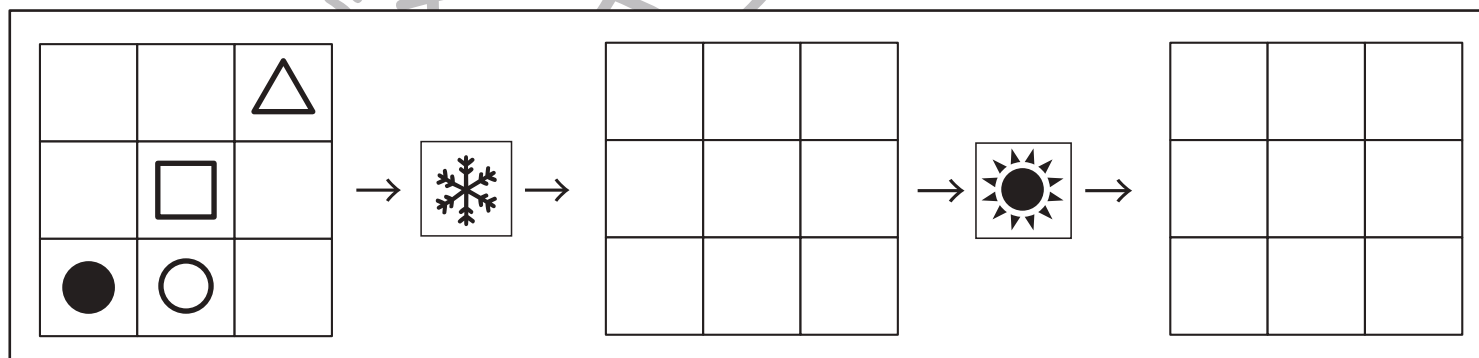
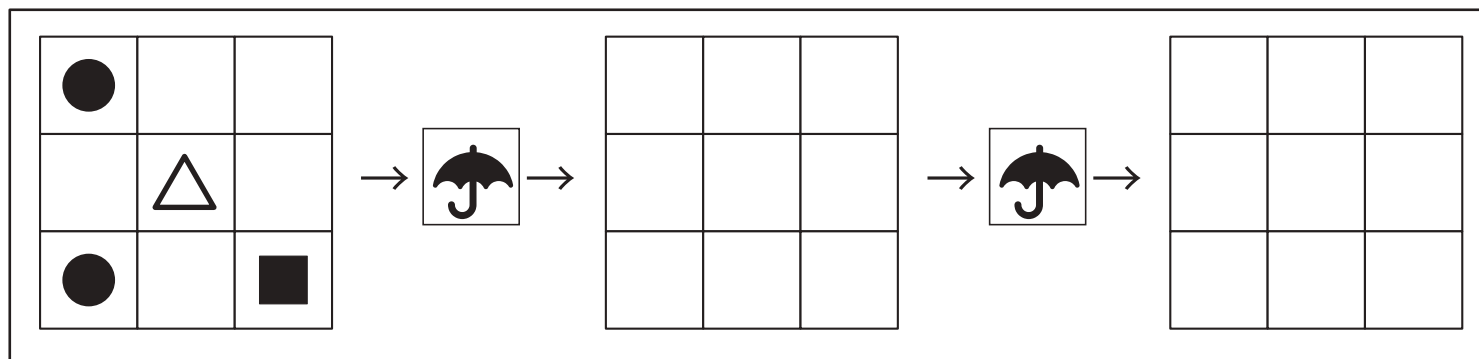
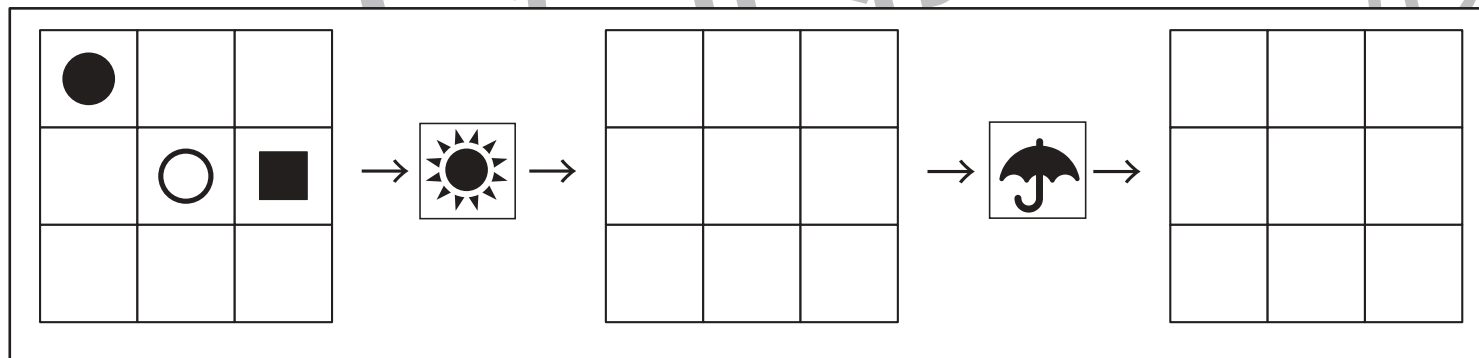
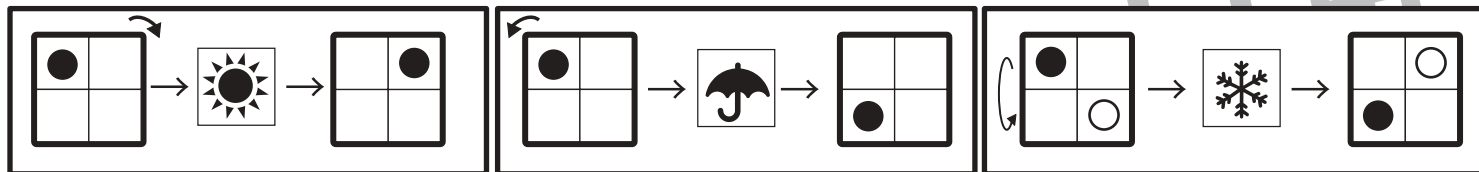


おうちで、やろう。

Study at home. 小学校受験の家庭学習教材

推理：ブラックボックス⑫

左の四角のマスが「太陽のマーク」を通ると右に1回倒れます。「雨のマーク」を通ると左の1回倒れます。そして、「雪のマーク」を通ると裏返しになります。それぞれ一番左のマスが通ったときの見え方を考えてかきます。



※1. このプリントは、しながわ・目黒こどもスクールのウェブサイトでダウンロードができます。無断複写・引用はご遠慮ください。
 ※2. このプリントを活用したオンライン授業のスケジュールは、しながわ・目黒こどもスクールのウェブサイトでご確認ください。

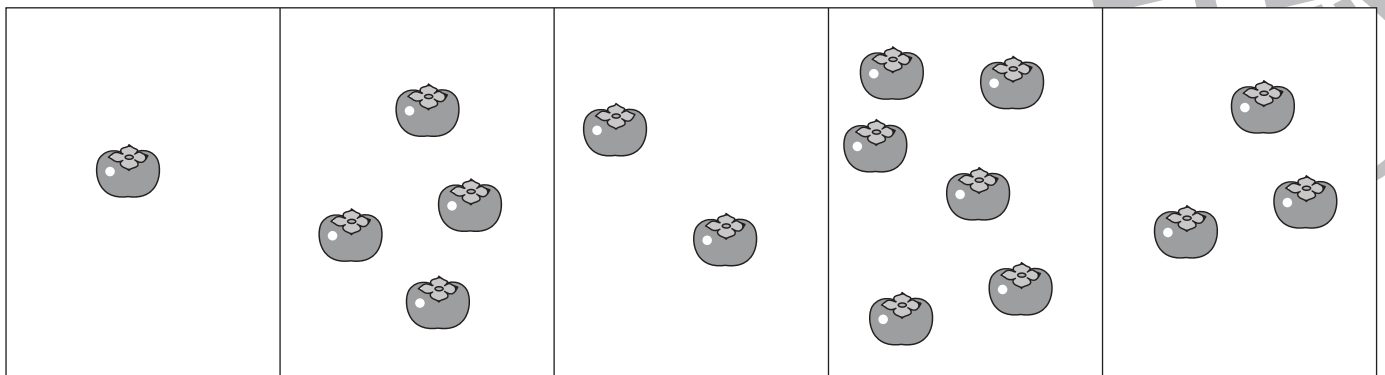
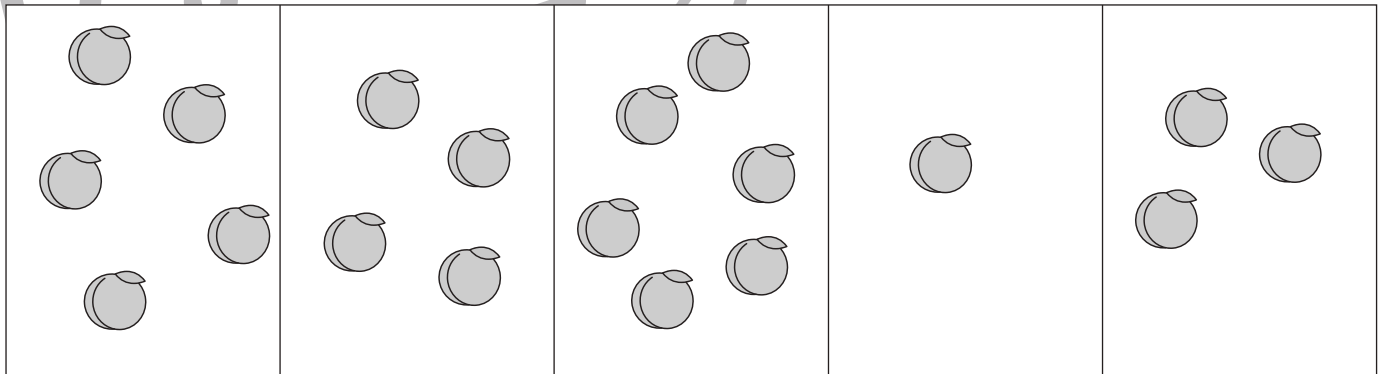
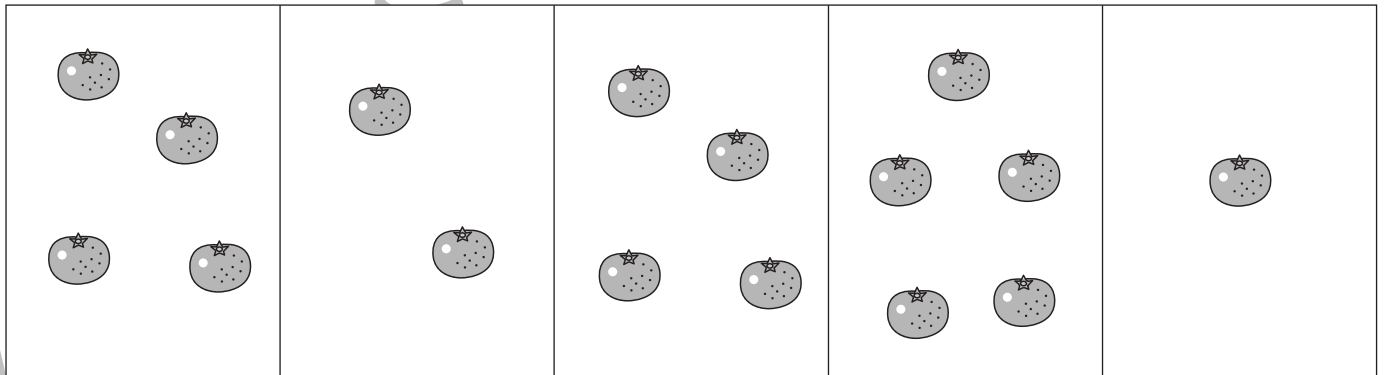



おうちで、やろう。

Study at home. 小学校受験の家庭学習教材

数量：合わせた数④

5つの四角のうち、2つの四角の中の果物を合わせて8個にします。どれとどれを合わせればよいですか。2つ選んで○をつけます。



※1. このプリントは、しながわ・目黒こどもスクールのウェブサイトでダウンロードができます。無断複写・引用はご遠慮ください。
 ※2. このプリントを活用したオンライン授業のスケジュールは、しながわ・目黒こどもスクールのウェブサイトでご確認ください。

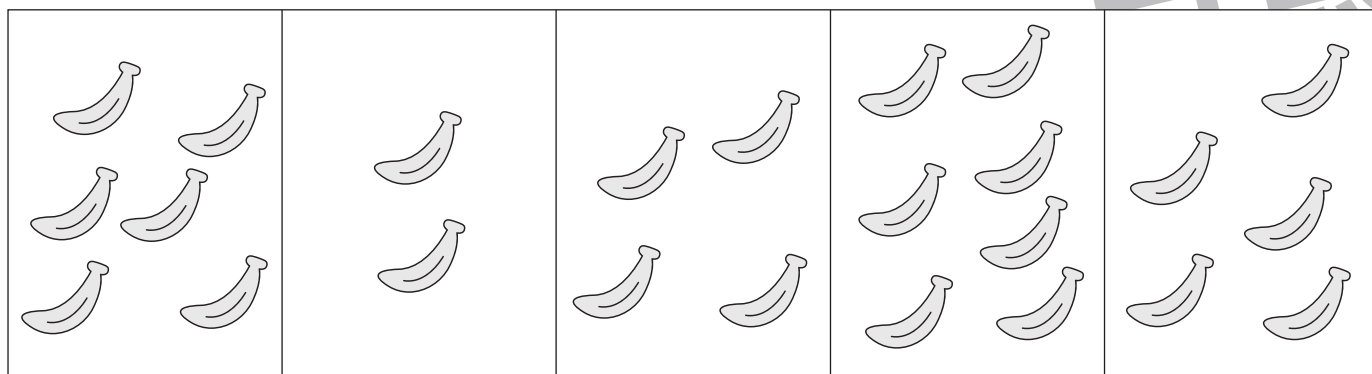
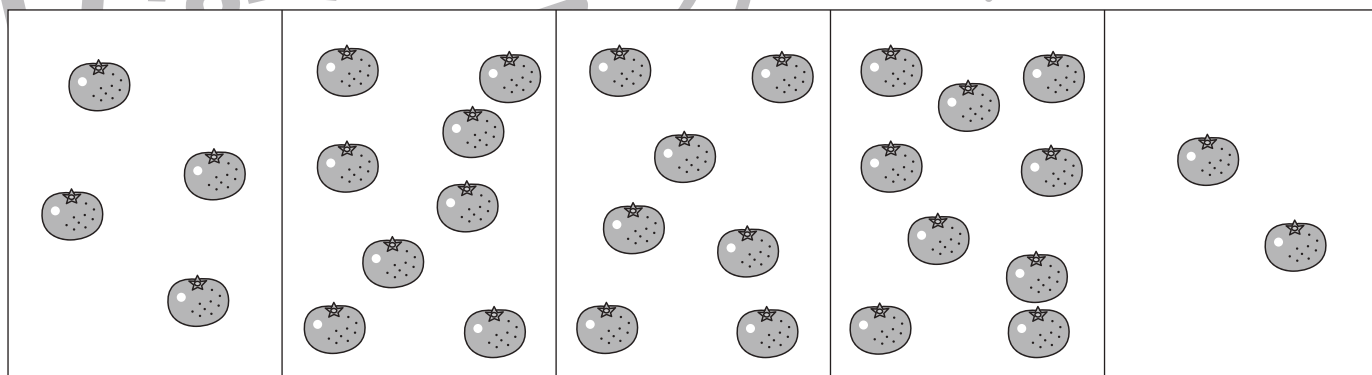
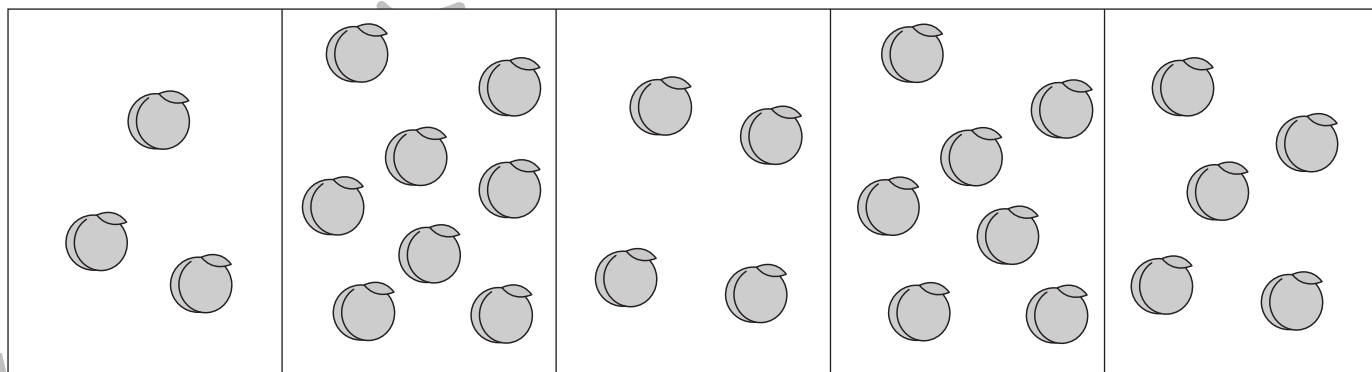



おうちで、やろう。

Study at home. 小学校受験の家庭学習教材

数量：合わせた数⑤

5つの四角のうち、2つの四角の中の果物を合わせて10個にします。どれとどれを合わせればよいですか。2つ選んで○をつけます。



※1. このプリントは、しながわ・目黒こどもスクールのウェブサイトからダウンロードできます。無断複写・引用はご遠慮ください。

※2. このプリントを活用したオンライン授業のスケジュールは、しながわ・目黒こどもスクールのウェブサイトでご確認ください。





おうちで、やろう。

Study at home. 小学校受験の家庭学習教材

数量：合わせた数⑥

5つの四角のうち、3つの四角の中の星を合わせて10個にします。3つ選んで○をつけます。



※1. このプリントは、しながわ・目黒こどもスクールのウェブサイトでダウンロードができます。無断複写・引用はご遠慮ください。
※2. このプリントを活用したオンライン授業のスケジュールは、しながわ・目黒こどもスクールのウェブサイトでご確認ください。






おうちで、やろう。

Study at home. 小学校受験の家庭学習教材

数量：合わせた数⑦

5つの四角のうち、3つの四角の中の星を合わせて12個にします。3つ選んで○をつけます。



※1. このプリントは、しながわ・目黒こどもスクールのウェブサイトでダウンロードができます。無断複写・引用はご遠慮ください。
 ※2. このプリントを活用したオンライン授業のスケジュールは、しながわ・目黒こどもスクールのウェブサイトでご確認ください。


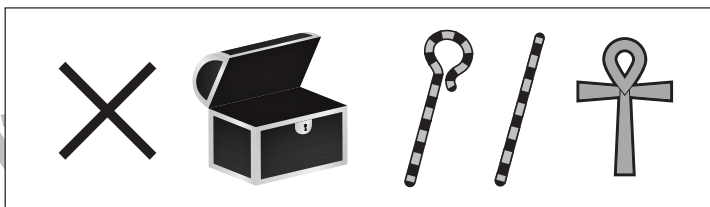



おうちで、やろう。

Study at home. 小学校受験の家庭学習教材

推理：たからさがし⑬

あなたは宝島にやってきました。宝箱と宝箱の鍵をたくさん見つけにいきます。下の地図の中からお手本にある「宝箱」「宝箱の鍵」、どこかに1つだけある「石板」を見つけて○をつけましょう。「もう空いている宝箱」と「古代のアイテム」はハズレですから、何も印はつけません。宝探しの時間はたったの1分です。それまでに、できるだけ多くの「宝箱」「宝箱の鍵」「石板」を見つけてみましょう。



※1. このプリントは、しながわ・目黒こどもスクールのウェブサイトからダウンロードできます。無断複写・引用はご遠慮ください。

※2. このプリントを活用したオンライン授業のスケジュールは、しながわ・目黒こどもスクールのウェブサイトでご確認ください。

