



おうちで、やろう。

Study at home. 小学校受験の家庭学習教材

図形：同図形⑧

左の太い四角の中がお手本です。このお手本と同じ形を右の中から見つけて○をつけます。

※1. このプリントは、しながわ・目黒こどもスクールのウェブサイトからダウンロードできます。無断複写・引用はご遠慮ください。

※2. このプリントを活用したオンライン授業のスケジュールは、しながわ・目黒こどもスクールのウェブサイトでご確認ください。

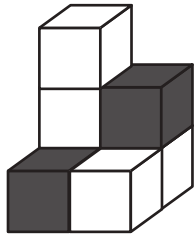


おうちで、やろう。

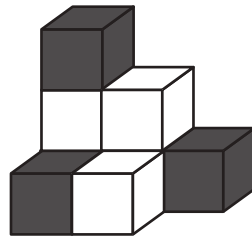
Study at home. 小学校受験の家庭学習教材

推理：積み木④

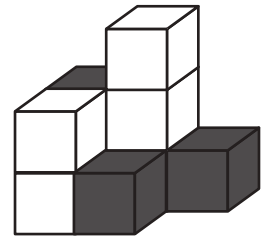
上の四角の中の積み木は白い積み木と黒い積み木で作った形です。隠れて見えない積み木はすべて黒い積み木です。この時、黒い積み木の数だけ数えて下の四角にその数だけ〇をかきます。



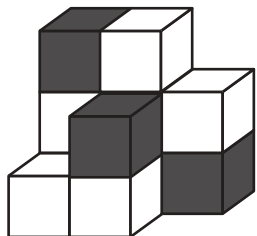
〇 × 3



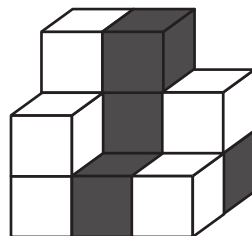
〇 × 5



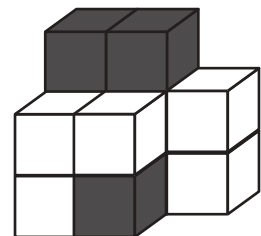
〇 × 5



〇 × 6



〇 × 7



〇 × 7

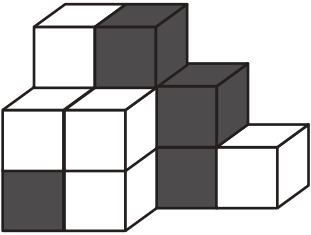


おうちで、やろう。

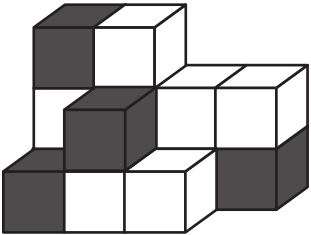
Study at home. 小学校受験の家庭学習教材

推理：積み木⑤

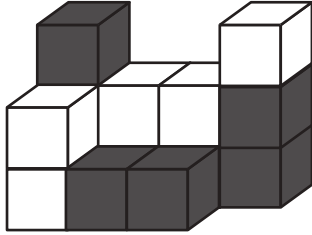
上の四角の中の積み木は白い積み木と黒い積み木で作った形です。隠れて見えない積み木はすべて黒い積み木です。この時、黒い積み木の数だけ数えて下の四角にその数だけ〇をかきます。



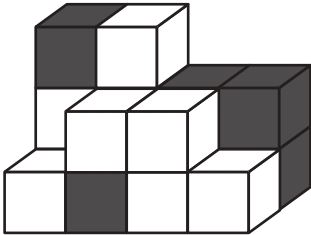
〇 × 8




〇 × 8



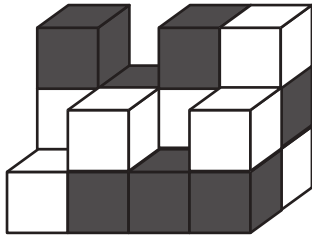
〇 × 9



〇 × 9



〇 × 10



〇 × 10

※1. このプリントは、しながわ・目黒こどもスクールのウェブサイトでダウンロードができます。無断複写・引用はご遠慮ください。
 ※2. このプリントを活用したオンライン授業のスケジュールは、しながわ・目黒こどもスクールのウェブサイトでご確認ください。



おうちで、やろう。

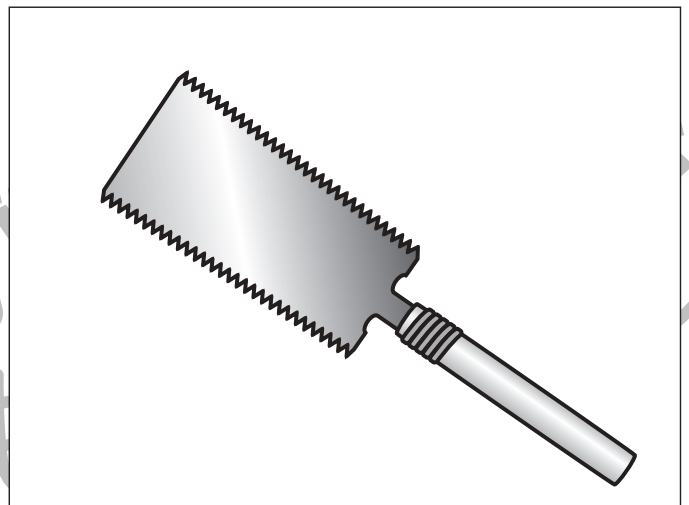
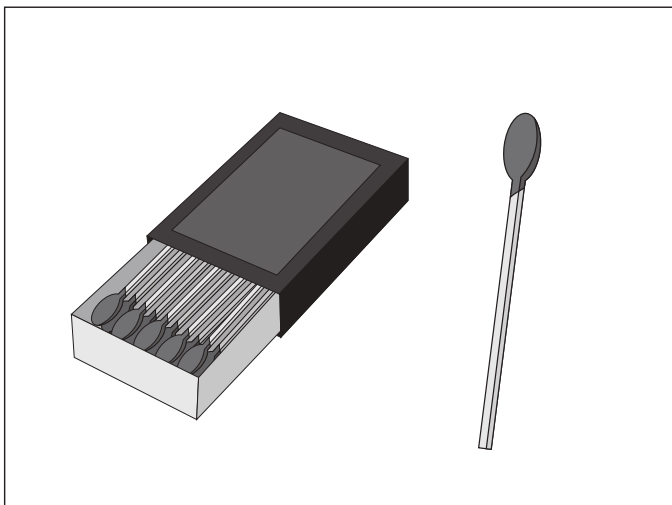

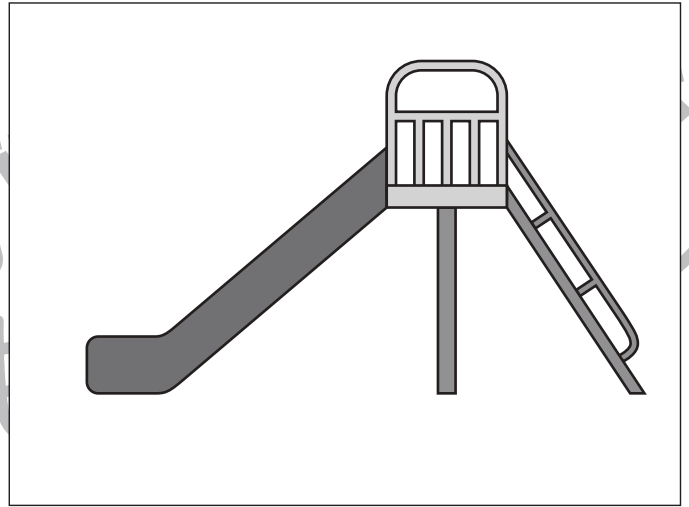
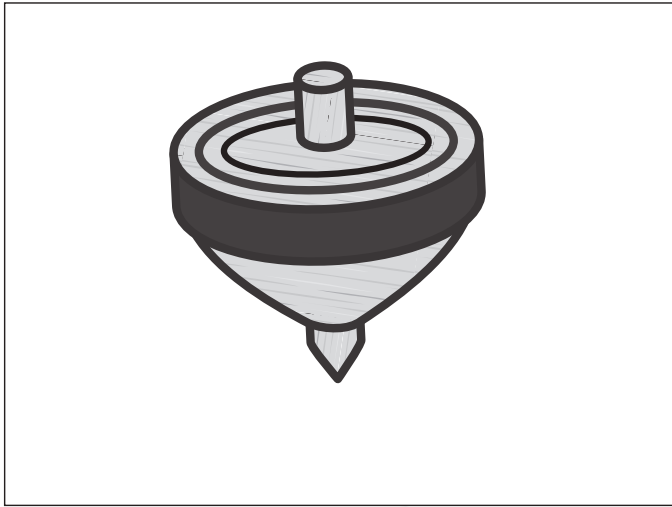
Study at home. 小学校受験の家庭学習教材

推理：いろいろな形③

それぞれの四角にはいろいろな絵があります。

太い四角の中はどんな絵や形になると思いますか。自分で考えて四角の中に絵や形をかきます。

※解答は一例です。いろいろな形や絵が考えられるので、お子さまと一緒に考えてみてください。



※1. このプリントは、しながわ・目黒こどもスクールのウェブサイトからダウンロードできます。無断複写・引用はご遠慮ください。

※2. このプリントを活用したオンライン授業のスケジュールは、しながわ・目黒こどもスクールのウェブサイトでご確認ください。



おうちで、やろう。





Study at home. 小学校受験の家庭学習教材

推理：いろいろな形④

それぞれの四角にはいろいろな絵があります。

太い四角の中はどんな絵や形になると思いますか。自分で考えて四角の中に絵や形をかきます。

※解答は一例です。いろいろな形や絵が考えられるので、お子さまと一緒に考えてみてください。



※1. このプリントは、しながわ・目黒こどもスクールのウェブサイトからダウンロードできます。無断複写・引用はご遠慮ください。

※2. このプリントを活用したオンライン授業のスケジュールは、しながわ・目黒こどもスクールのウェブサイトでご確認ください。



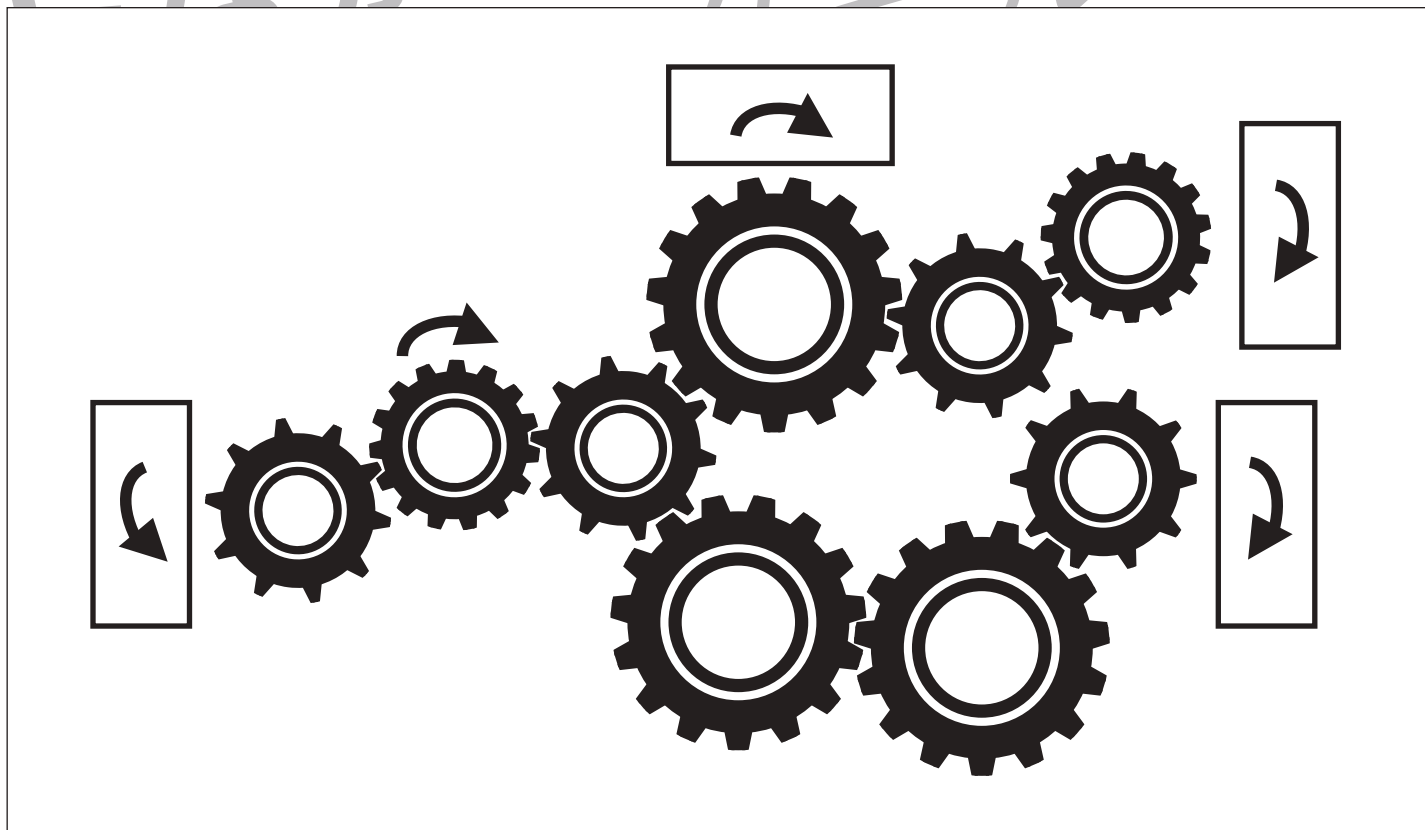
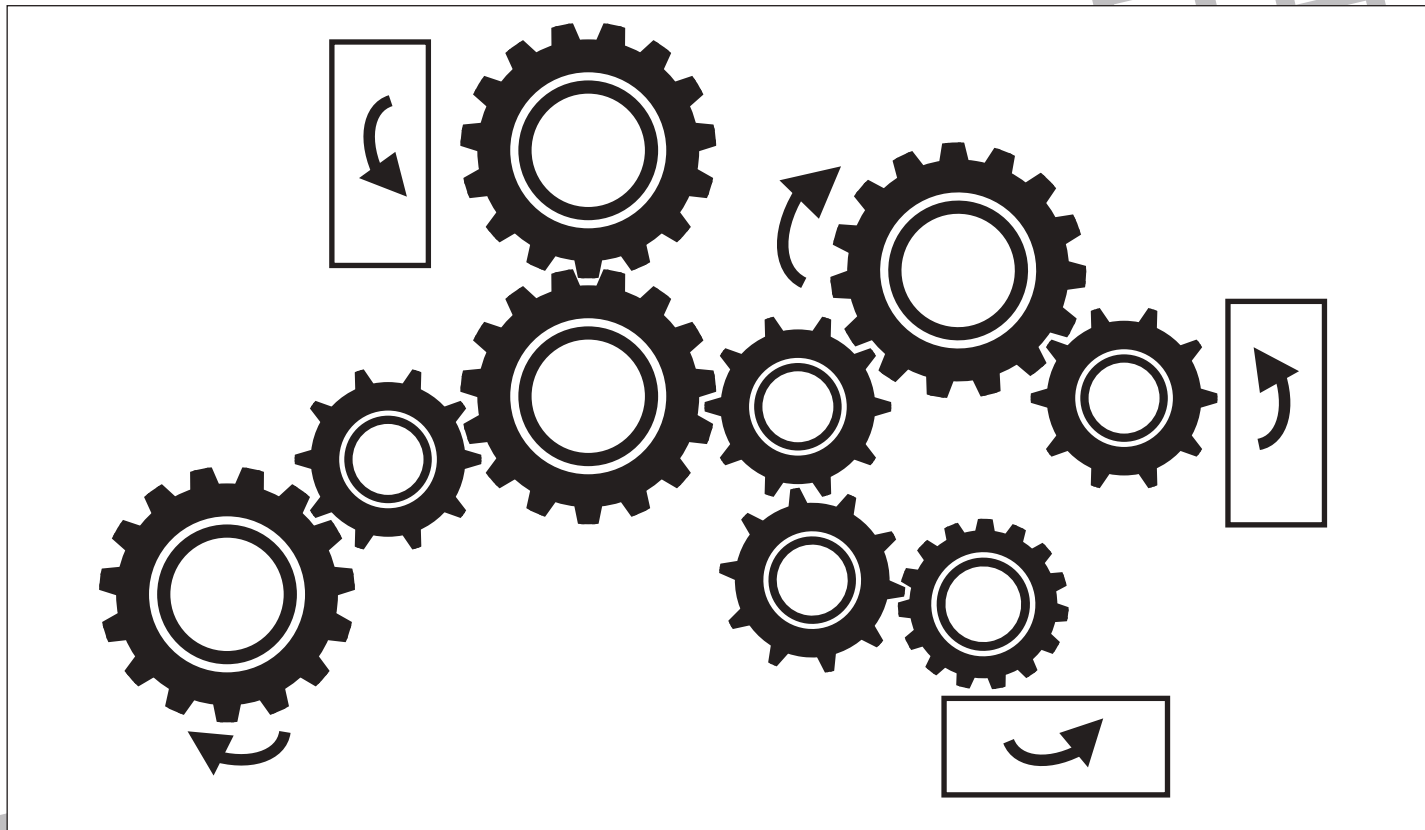


おうちで、やろう。

Study at home. 小学校受験の家庭学習教材

推理：歯車④

歯車がいくつか並んでいます。その中の1つが矢印の方向に進んだ時、四角の近くにある歯車は右回り、左回りどちらに動きますか。動くと思う向きに矢印をかきます。



※1. このプリントは、しながわ・目黒こどもスクールのウェブサイトでダウンロードができます。無断複写・引用はご遠慮ください。
※2. このプリントを活用したオンライン授業のスケジュールは、しながわ・目黒こどもスクールのウェブサイトでご確認ください。

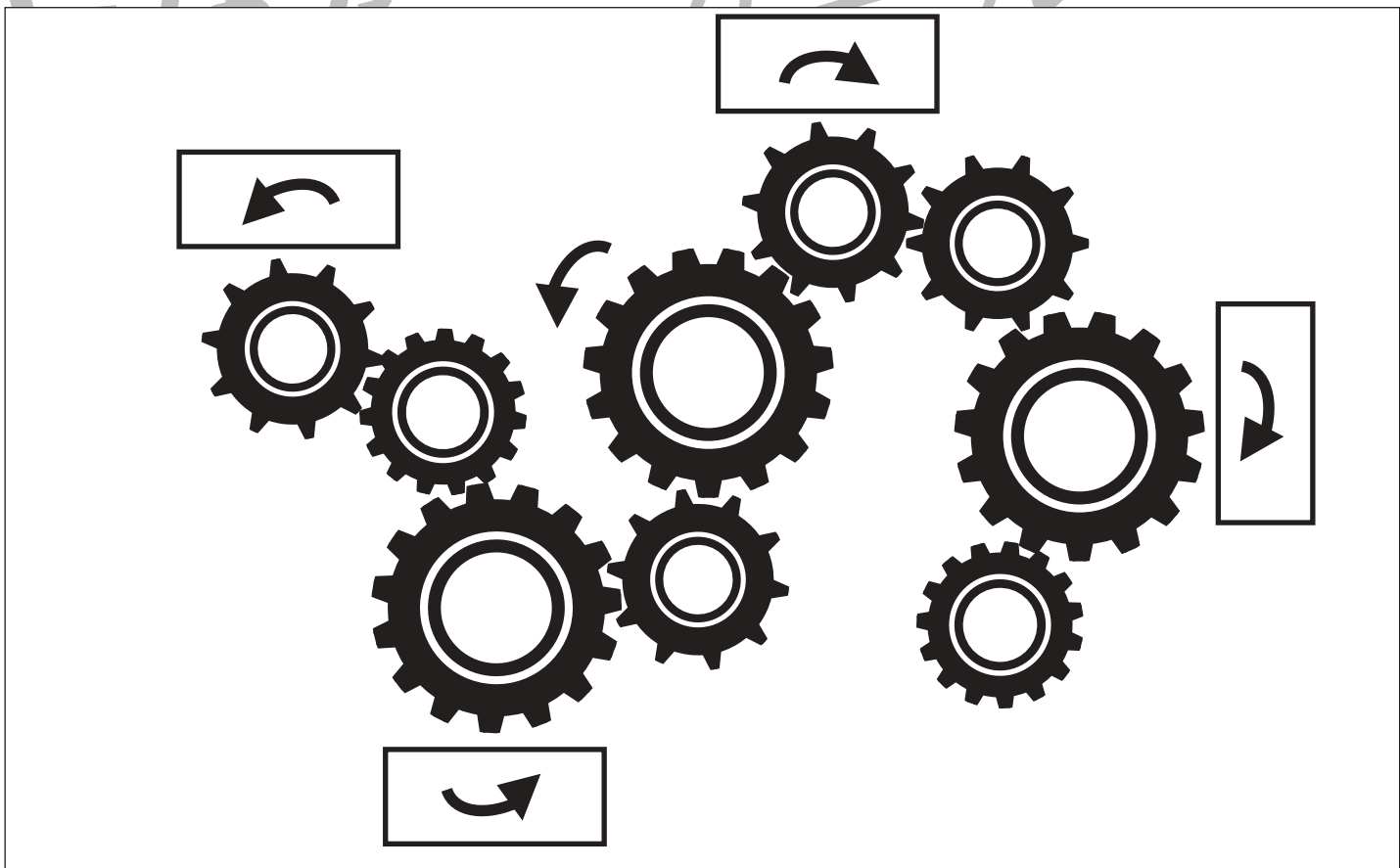



おうちで、やろう。

Study at home. 小学校受験の家庭学習教材

推理：歯車⑤

歯車がいくつか並んでいます。その中の1つが矢印の方向に進んだ時、四角の近くにある歯車は右回り、左回りどちらに動きますか。動くと思う向きに矢印をかきます。



※1. このプリントは、しながわ・目黒こどもスクールのウェブサイトでダウンロードができます。無断複写・引用はご遠慮ください。

※2. このプリントを活用したオンライン授業のスケジュールは、しながわ・目黒こどもスクールのウェブサイトでご確認ください。








おうちで、やろう。

Study at home. 小学校受験の家庭学習教材

推理：水量④

それぞれの四角の中のコップには水が入っています。4つのコップには黒いボールが入っています。ボールをコップの中から取り出した後、水の量が一番多いコップに○を、二番目に少ないコップに×をつけます。



※1. このプリントは、しながわ・目黒こどもスクールのウェブサイトでダウンロードができます。無断複写・引用はご遠慮ください。
 ※2. このプリントを活用したオンライン授業のスケジュールは、しながわ・目黒こどもスクールのウェブサイトでご確認ください。








おうちで、やろう。

Study at home. 小学校受験の家庭学習教材

推理：水量⑤

それぞれの四角の中のコップには水が入っています。4つのコップには黒いボールが入っています。ボールをコップの中から取り出した後、水の量が一番多いコップに○を、一番少ないコップに×をつけます。



※1. このプリントは、しながわ・目黒こどもスクールのウェブサイトでダウンロードができます。無断複写・引用はご遠慮ください。

※2. このプリントを活用したオンライン授業のスケジュールは、しながわ・目黒こどもスクールのウェブサイトでご確認ください。