



おうちで、やろう。


Study at home. 小学校受験の家庭学習教材

言語：音の理解⑮

下の四角の中の絵の名前を考えます。①、②の問題に答えます。

①名前の中に「く」があるものに○をつけます。

②名前の中に「ん」がつくものに△をつけます。



※1. このプリントは、しながわ・目黒こどもスクールのウェブサイトダウンロードができます。無断複写・引用はご遠慮ください。

※2. このプリントを活用したオンライン授業のスケジュールは、しながわ・目黒こどもスクールのウェブサイトでご確認ください。





おうちで、やろう。

Study at home. 小学校受験の家庭学習教材

言語：音の理解①⑥

下の四角の中の絵の名前を考えます。①、②の問題に答えます。

①音の数が3つの名前の絵に○をつけます。

②音の数が5つの名前の絵に△をつけます。



※1. このプリントは、しながわ・目黒こどもスクールのウェブサイトでダウンロードができます。無断複写・引用はご遠慮ください。

※2. このプリントを活用したオンライン授業のスケジュールは、しながわ・目黒こどもスクールのウェブサイトでご確認ください。









おうちで、やろう。

Study at home. 小学校受験の家庭学習教材

図形：鏡⑩

左の四角を真ん中の鏡にうつしてみます。右の四角は鏡にうつった見え方です。鏡の見え方が正しいとき○を、間違っているときは間違えている場所に×をかきます。



※1. このプリントは、しながわ・目黒こどもスクールのウェブサイトでダウンロードができます。無断複写・引用はご遠慮ください。
※2. このプリントを活用したオンライン授業のスケジュールは、しながわ・目黒こどもスクールのウェブサイトでご確認ください。



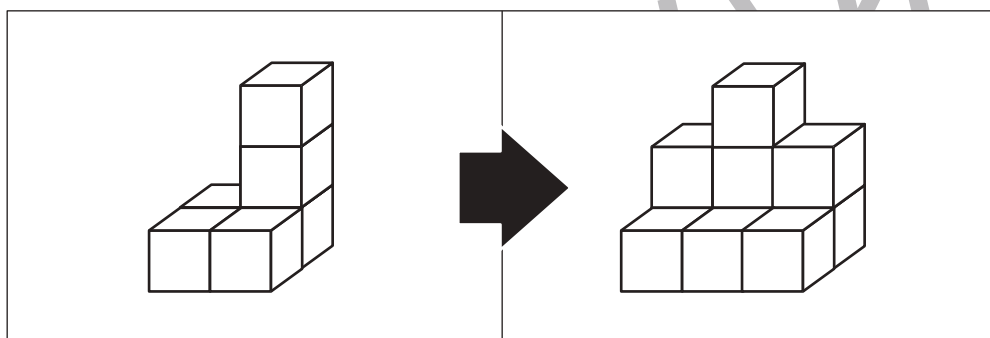
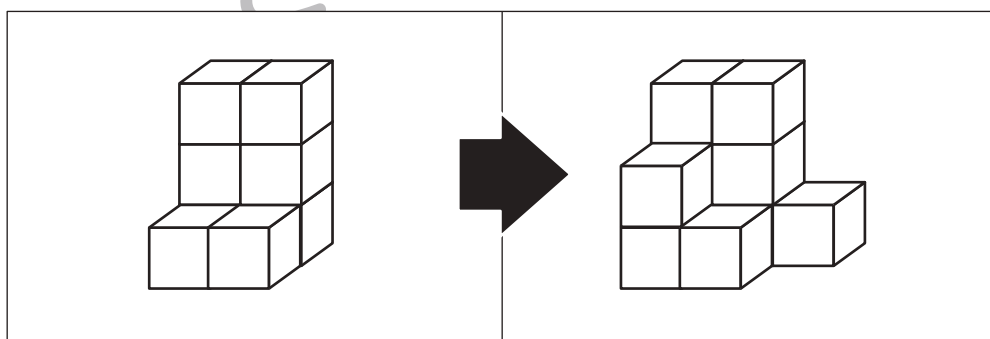

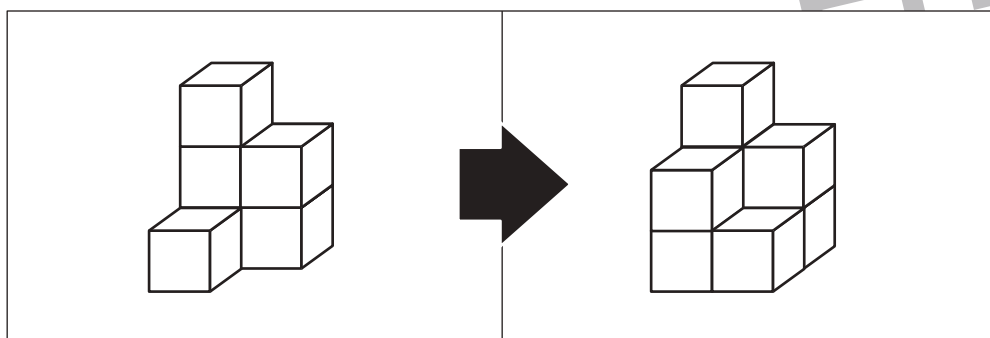
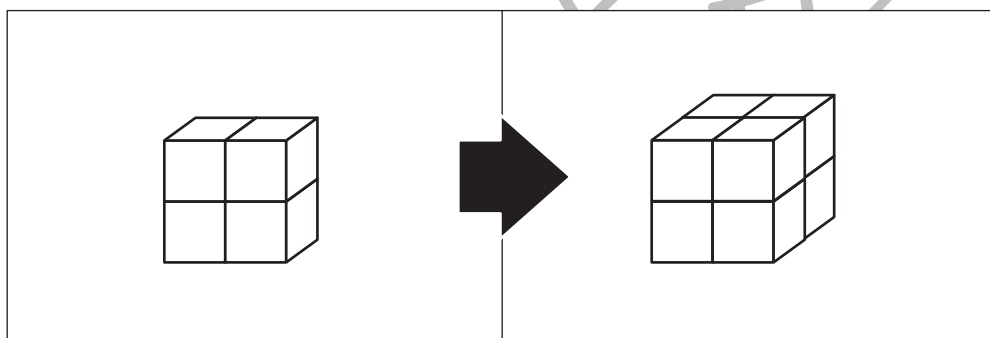
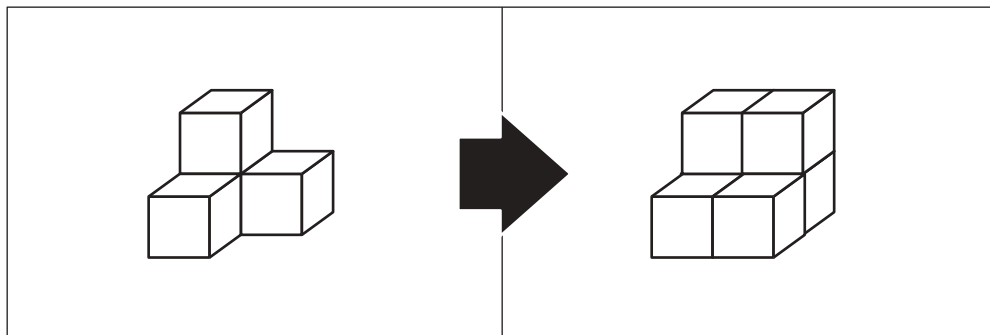


おうちで、やろう。

Study at home. 小学校受験の家庭学習教材

推理：積み木⑥

左の四角の中の積み木を使って右の積み木に作り変えます。足りない積み木はいくつですか。その数だけ一番右の太い四角の中に○をかきます。



※1. このプリントは、しながわ・目黒こどもスクールのウェブサイトでダウンロードができます。無断複写・引用はご遠慮ください。

※2. このプリントを活用したオンライン授業のスケジュールは、しながわ・目黒こどもスクールのウェブサイトでご確認ください。

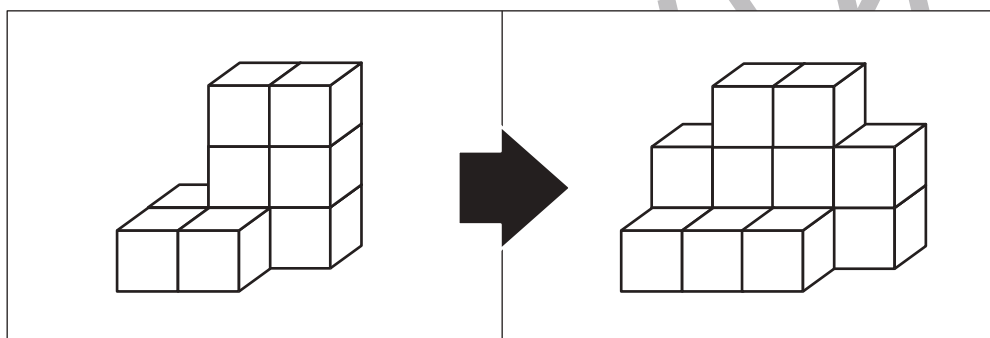
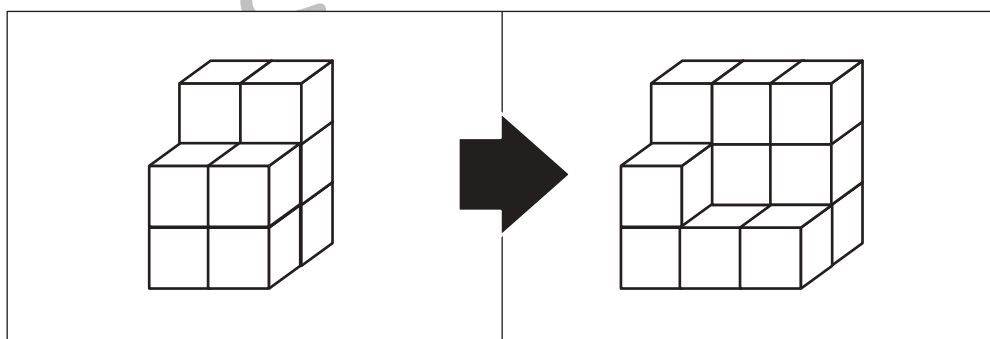

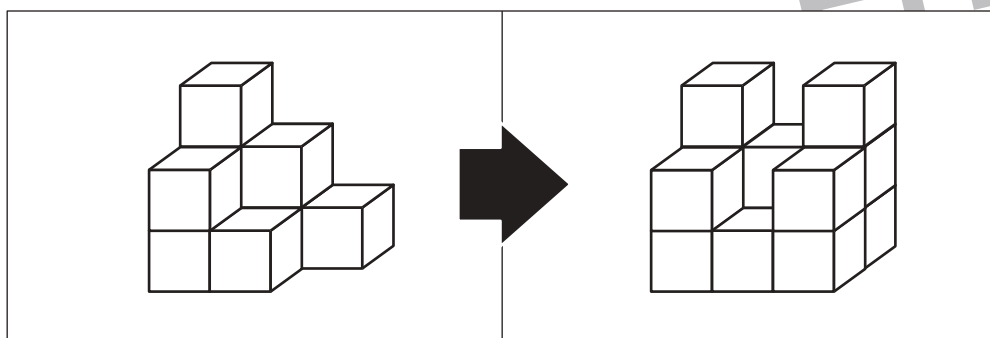
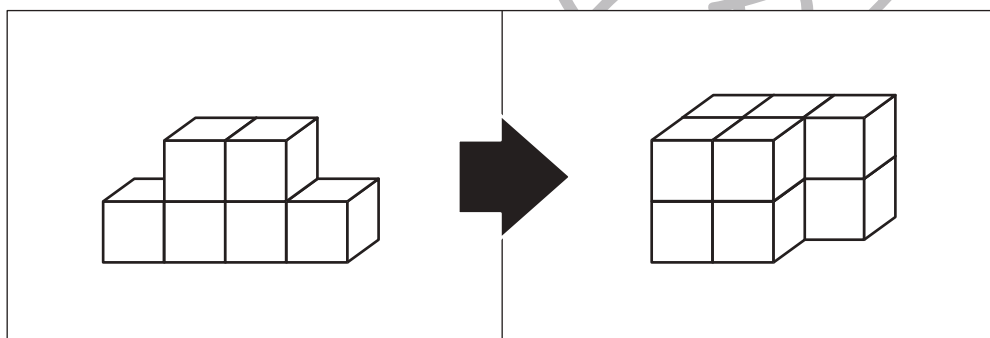

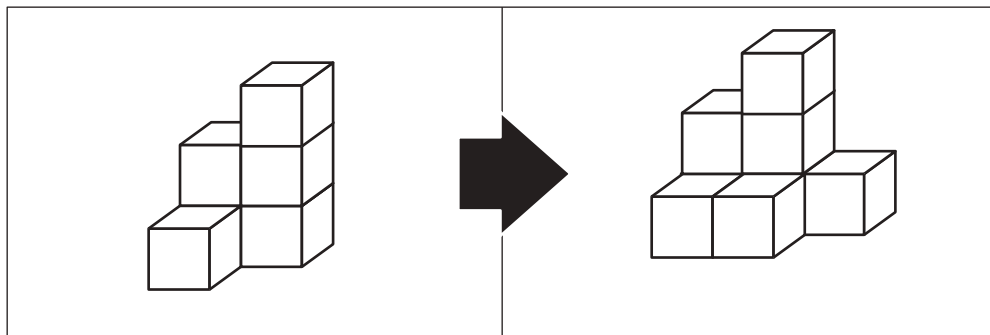


おうちで、やろう。

Study at home. 小学校受験の家庭学習教材

推理：積み木⑦

左の四角の中の積み木を使って右の積み木に作り変えます。足りない積み木はいくつですか。その数だけ一番右の太い四角の中に○をかきます。



※1. このプリントは、しながわ・目黒こどもスクールのウェブサイトでダウンロードができます。無断複写・引用はご遠慮ください。

※2. このプリントを活用したオンライン授業のスケジュールは、しながわ・目黒こどもスクールのウェブサイトでご確認ください。

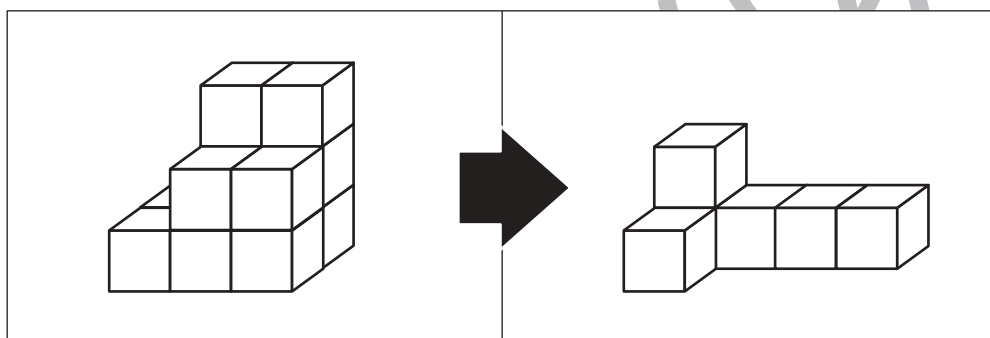
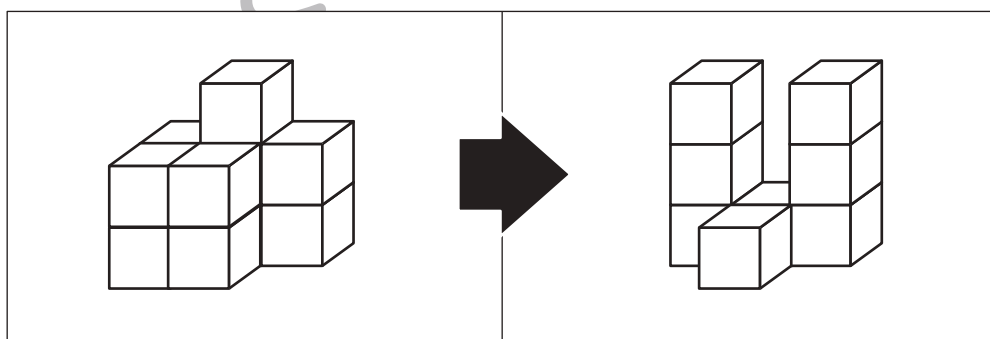

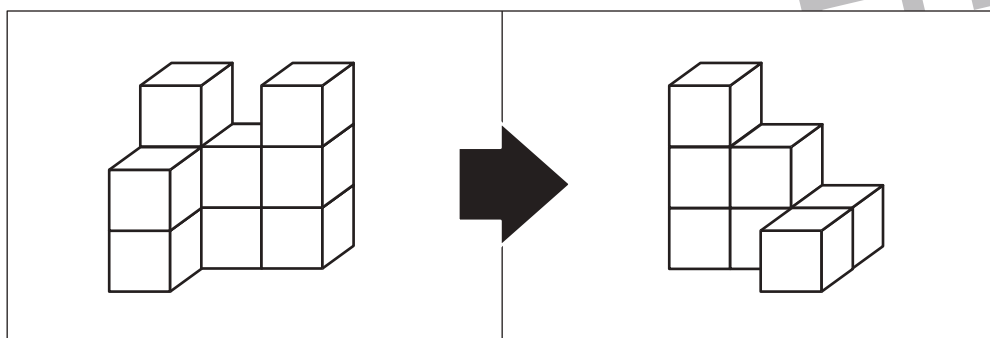
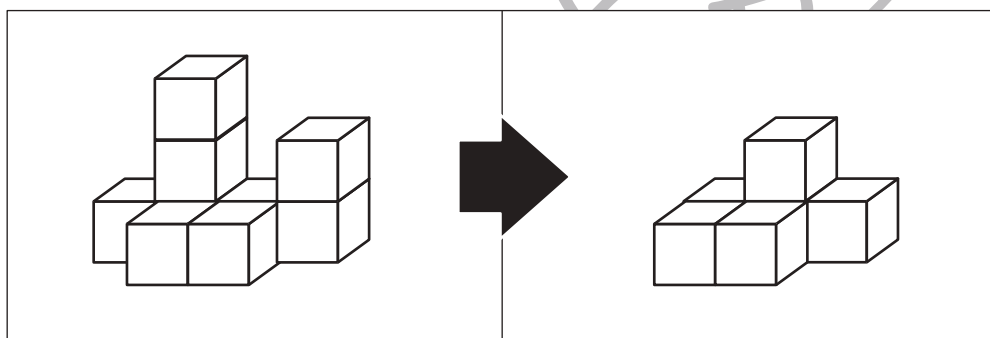
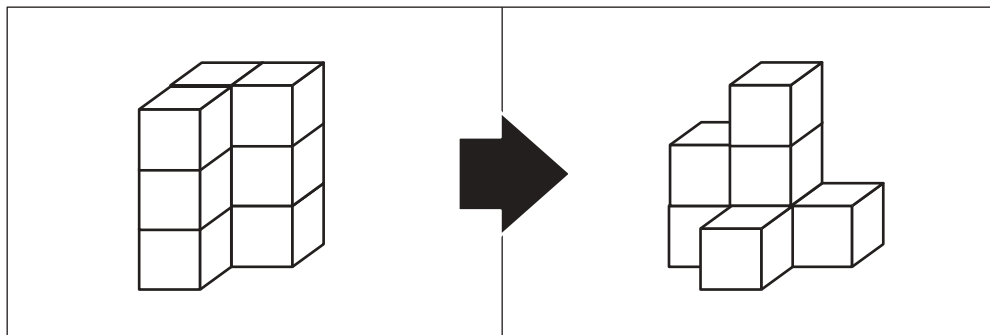


おうちで、よろう。

Study at home. 小学校受験の家庭学習教材

推理：積み木⑧

左の四角の中の積み木を使って右の積み木に作り変えます。余る積み木はいくつですか。その数だけ一番右の太い四角の中に○をかきます。



※1. このプリントは、しながわ・目黒こどもスクールのウェブサイトでダウンロードができます。無断複写・引用はご遠慮ください。

※2. このプリントを活用したオンライン授業のスケジュールは、しながわ・目黒こどもスクールのウェブサイトでご確認ください。


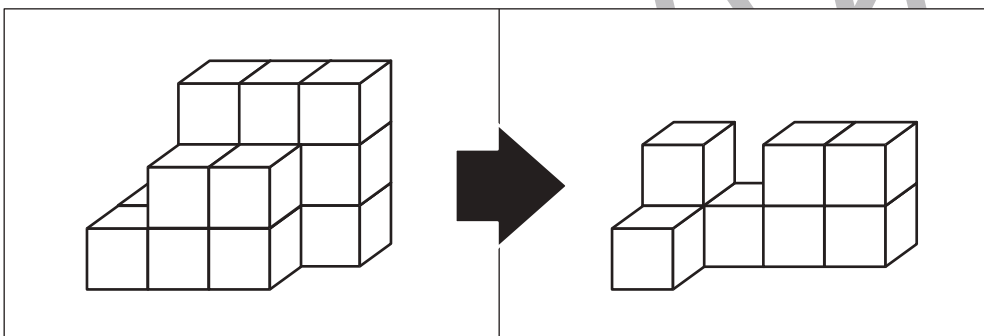
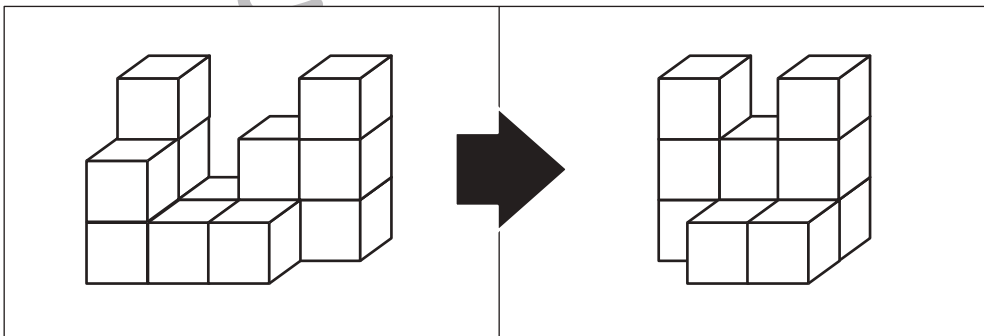
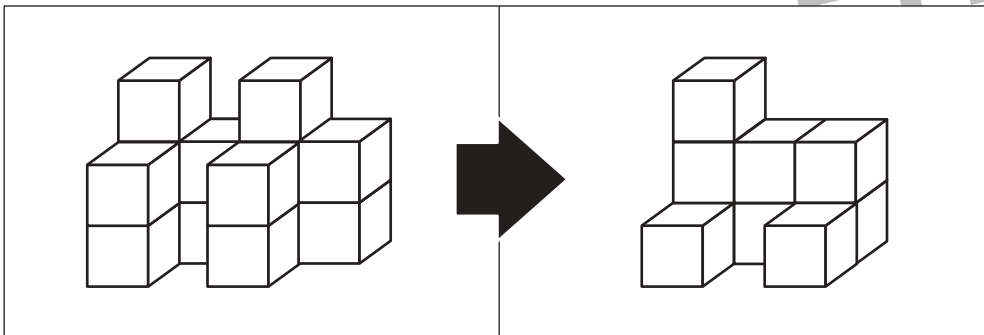
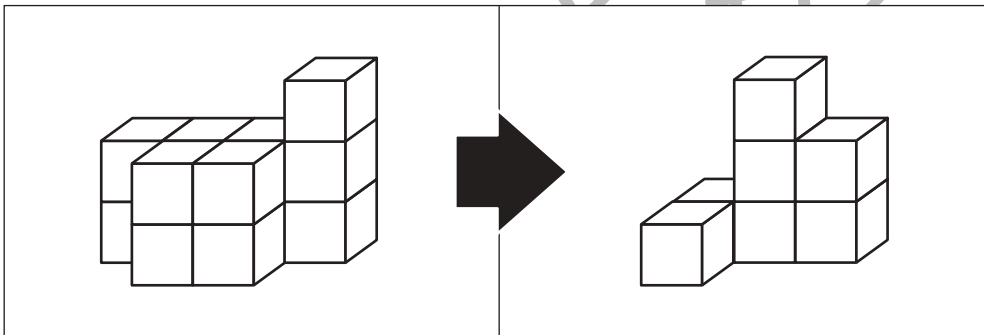
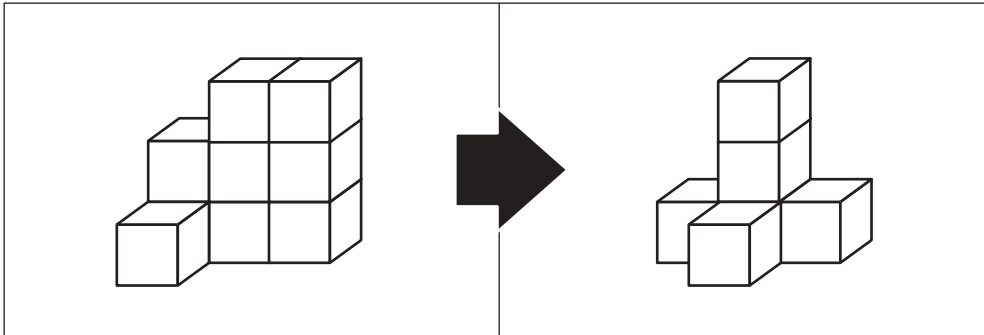


おうちで、やろう。

Study at home. 小学校受験の家庭学習教材

推理：積み木⑨

左の四角の中の積み木を使って右の積み木に作り変えます。余る積み木はいくつですか。その数だけ一番右の太い四角の中に○をかきます。



※1. このプリントは、しながわ・目黒こどもスクールのウェブサイトでダウンロードができます。無断複写・引用はご遠慮ください。
※2. このプリントを活用したオンライン授業のスケジュールは、しながわ・目黒こどもスクールのウェブサイトでご確認ください。


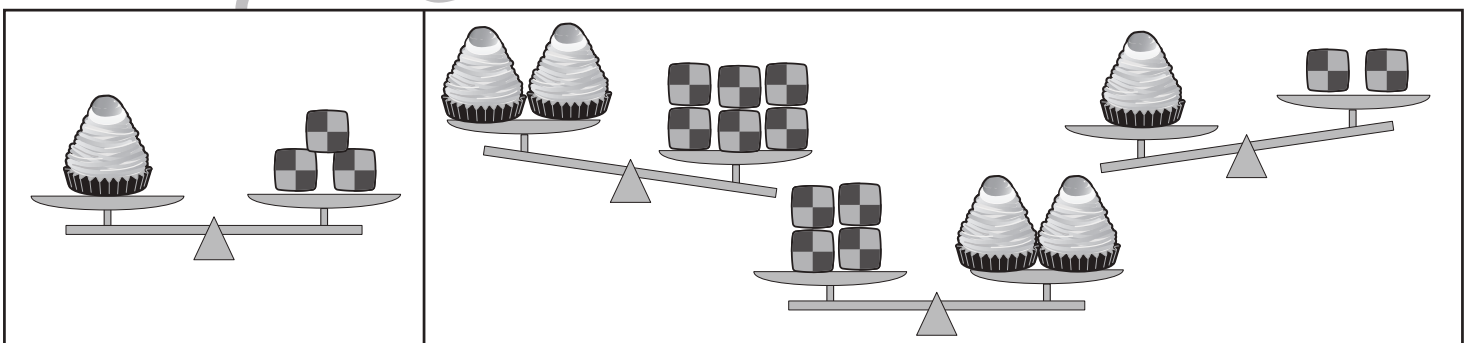
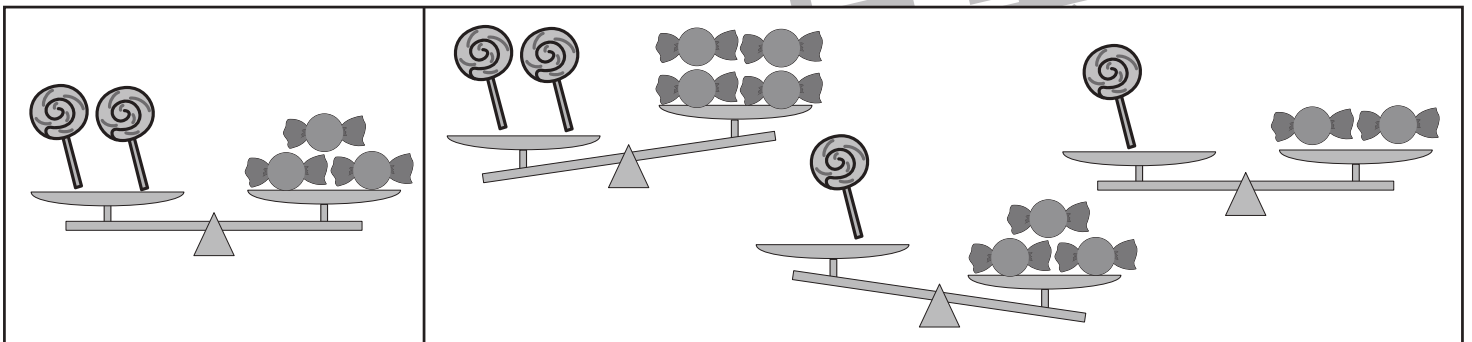
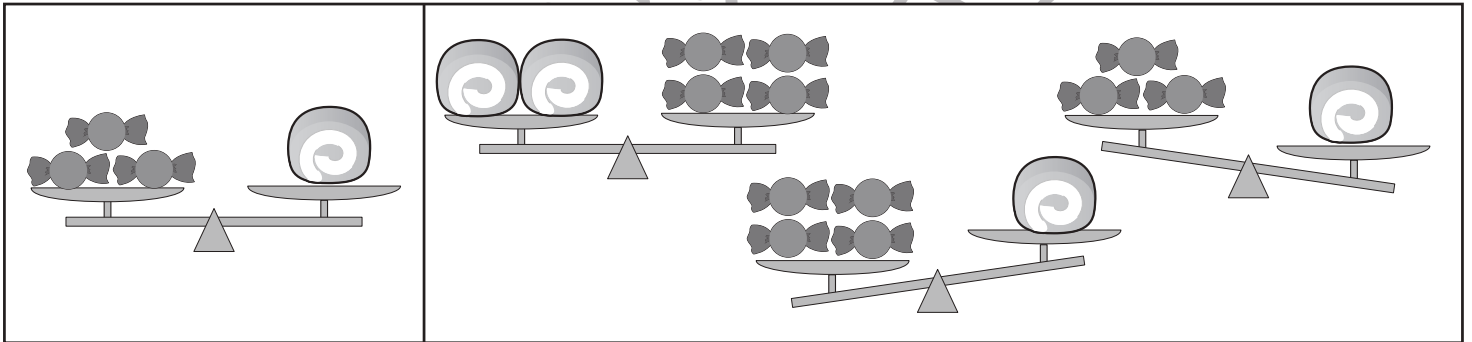
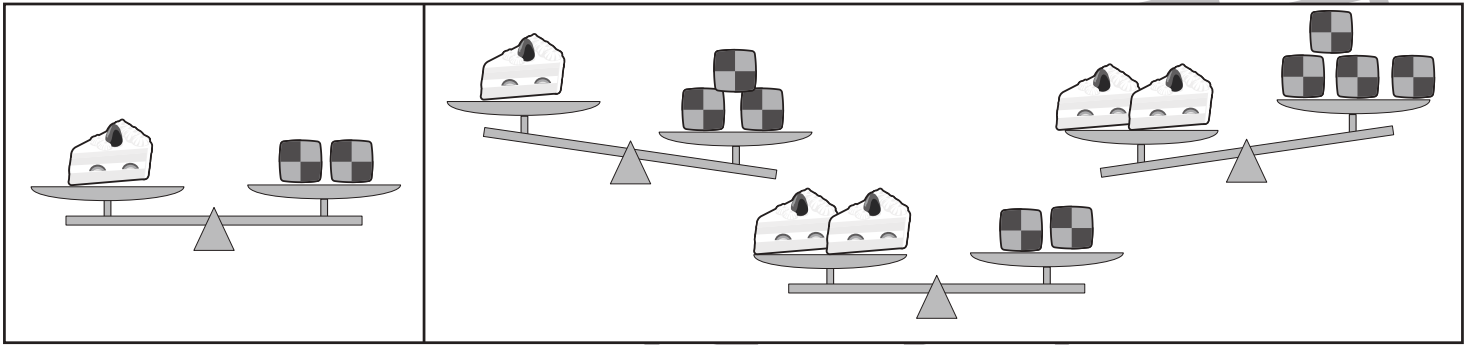


おうちで、やろう。

Study at home. 小学校受験の家庭学習教材

推理：重さ⑩

左の四角の中は2つのものをシーソーで重さ比べをした様子で、これが約束です。右の四角の中のシーソーは2つのものの数を変えて重さ比べをした様子です。左のシーソーの約束通りになっているものを見つけて○をつけます。



※1. このプリントは、しながわ・目黒こどもスクールのウェブサイトからダウンロードできます。無断複写・引用はご遠慮ください。

※2. このプリントを活用したオンライン授業のスケジュールは、しながわ・目黒こどもスクールのウェブサイトでご確認ください。



おうちで、やろう。

Study at home. 小学校受験の家庭学習教材

推理：重さ⑪

左の四角の中は2つのものをシーソーで重さ比べをした様子で、これが約束です。右の四角の中のシーソーは2つのものの数を変えて重さ比べをした様子です。左のシーソーの約束通りになっているものを見つけて○をつけます。

※1. このプリントは、しながわ・目黒こどもスクールのウェブサイトからダウンロードできます。無断複写・引用はご遠慮ください。

※2. このプリントを活用したオンライン授業のスケジュールは、しながわ・目黒こどもスクールのウェブサイトでご確認ください。


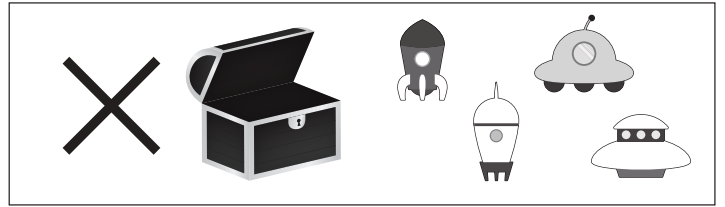


おうちで、やろう。

Study at home. 小学校受験の家庭学習教材

推理：たからさがし⑮

あなたは宝島にやってきました。宝箱と宝箱の鍵をたくさん見つけにいきます。下の地図の中からお手本にある「宝箱」「スペースシャトル」、どこかに1つだけある「石板」を見つけてOをつけましょう。「もう空いている宝箱」と「宇宙船」はハズレですから、何も印はつけません。宝探しの時間はたったの1分です。それまでに、できるだけ多くの「宝箱」「スペースシャトル」「石板」を見つけてみましょう。



※1. このプリントは、しながわ・目黒こどもスクールのウェブサイトからダウンロードできます。無断複写・引用はご遠慮ください。
※2. このプリントを活用したオンライン授業のスケジュールは、しながわ・目黒こどもスクールのウェブサイトでご確認ください。