



# おうちで、やろう。

Study at home. 小学校受験の家庭学習教材

## 図形：重ね鏡①

左の四角のマスの中にはいろいろなマークがかいてあります。このマスが矢印の方向へ1回倒れたときにどのように見えるかを真ん中の四角のマスかき、そのマスが鏡にうつったときの見え方を一番右のマスにかきます。

--	--	--	--	--

--	--	--	--	--

--	--	--	--	--

--	--	--	--	--

--	--	--	--	--

※1. このプリントは、しながわ・目黒こどもスクールのウェブサイトダウンロードができます。無断複写・引用はご遠慮ください。

※2. このプリントを活用したオンライン授業のスケジュールは、しながわ・目黒こどもスクールのウェブサイトでご確認ください。



# おうちで、やろう。

Study at home. 小学校受験の家庭学習教材

## 図形：重ね鏡②

左の四角のマスの中にはいろいろなマークがかいてあります。このマスが矢印の方向へ1回倒れたときにどのように見えるかを真ん中の四角のマスかき、そのマスが鏡にうつったときの見え方を一番右のマスにかきます。

Row 1: A 2x2 grid with the bottom-left cell shaded black. An arrow indicates a 90-degree counter-clockwise rotation. The middle grid is empty. A vertical line separates it from the right grid, which is also empty.

Row 2: A 2x2 grid with a black circle in the bottom-left cell and a white circle in the top-right cell. An arrow indicates a 90-degree counter-clockwise rotation. The middle grid is empty. A vertical line separates it from the right grid, which is also empty.

Row 3: A 2x2 grid with a black square in the top-left cell and a black triangle pointing right in the bottom-right cell. An arrow indicates a 90-degree counter-clockwise rotation. The middle grid is empty. A vertical line separates it from the right grid, which is also empty.

Row 4: A 2x2 grid with a diagonal line from the top-left to the bottom-right. An arrow indicates a 90-degree counter-clockwise rotation. The middle grid is empty. A vertical line separates it from the right grid, which is also empty.

Row 5: A 2x2 grid with a diagonal line from the top-left to the bottom-right, a black circle in the bottom-left cell, and a black triangle pointing down in the bottom-right cell. An arrow indicates a 90-degree counter-clockwise rotation. The middle grid is empty. A vertical line separates it from the right grid, which is also empty.

※1. このプリントは、しながわ・目黒こどもスクールのウェブサイトでダウンロードができます。無断複写・引用はご遠慮ください。

※2. このプリントを活用したオンライン授業のスケジュールは、しながわ・目黒こどもスクールのウェブサイトでご確認ください。



# おうちで、やろう。

Study at home. 小学校受験の家庭学習教材

## 図形：重ね鏡③

左の四角のマスの中にはいろいろなマークがかいてあります。このマスが矢印の方向へ1回倒れたときにどのように見えるかを真ん中の四角のマスかき、そのマスが鏡にうつったときの見え方を一番右のマスにかきます。

Row 1: A 2x2 grid with a black circle in the bottom-left cell and a diagonal line from top-right to bottom-left in the top-right cell. An arrow indicates a 90-degree clockwise rotation. This is followed by a blank 2x2 grid, a vertical mirror line, and another blank 2x2 grid.

Row 2: A 2x2 grid with a white circle in the top-right cell, a black triangle pointing right in the bottom-left cell, and a diagonal line from top-right to bottom-left in the bottom-right cell. An arrow indicates a 90-degree clockwise rotation. This is followed by a blank 2x2 grid, a vertical mirror line, and another blank 2x2 grid.

Row 3: A 2x2 grid with a black triangle pointing down in the top-left cell, a black square in the top-right cell, and a white triangle pointing up in the bottom-left cell. An arrow indicates a 90-degree clockwise rotation. This is followed by a blank 2x2 grid, a vertical mirror line, and another blank 2x2 grid.

Row 4: A 2x2 grid with a diagonal line from top-left to bottom-right in the top-left cell, a white triangle pointing right in the top-right cell, a black square in the bottom-left cell, and a black circle in the bottom-right cell. An arrow indicates a 90-degree clockwise rotation. This is followed by a blank 2x2 grid, a vertical mirror line, and another blank 2x2 grid.

Row 5: A 2x2 grid with a white triangle pointing left in the top-left cell, a black circle in the top-right cell, a diagonal line from top-left to bottom-right in the bottom-left cell, and a diagonal line from top-right to bottom-left in the bottom-right cell. An arrow indicates a 90-degree clockwise rotation. This is followed by a blank 2x2 grid, a vertical mirror line, and another blank 2x2 grid.

※1. このプリントは、しながわ・目黒こどもスクールのウェブサイトからダウンロードができます。無断複写・引用はご遠慮ください。

※2. このプリントを活用したオンライン授業のスケジュールは、しながわ・目黒こどもスクールのウェブサイトでご確認ください。


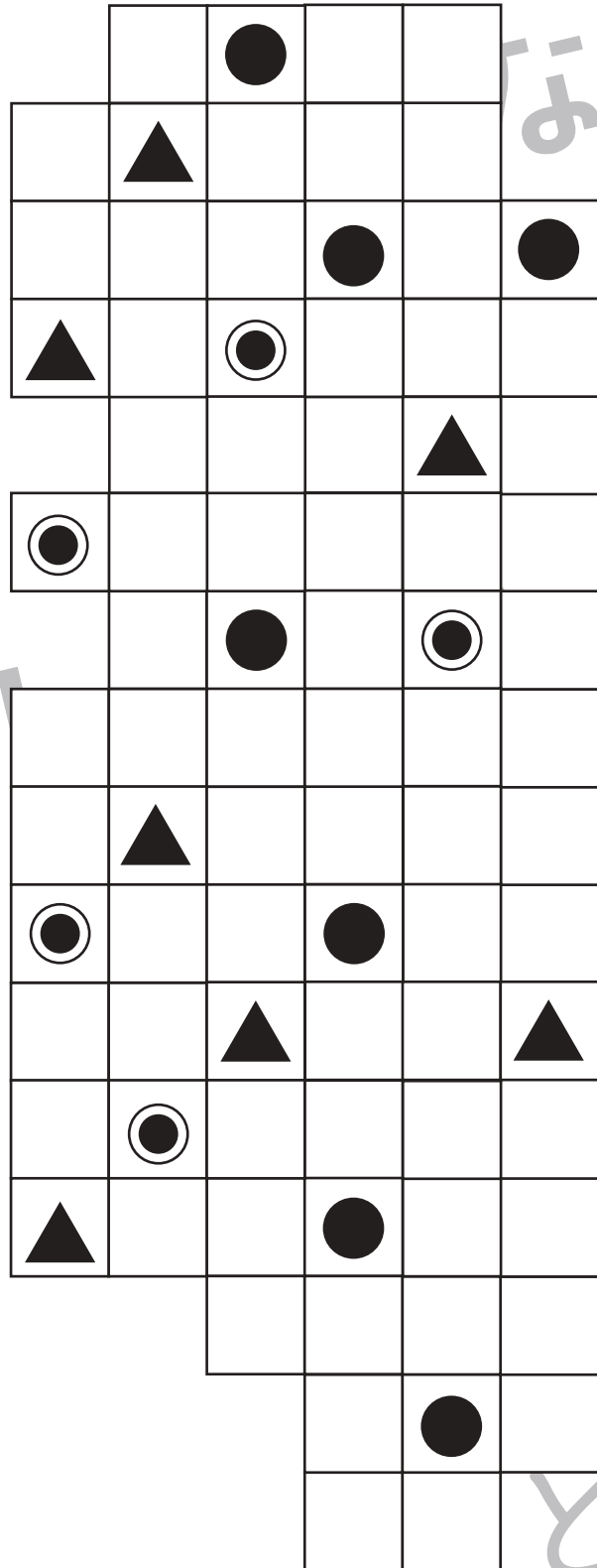

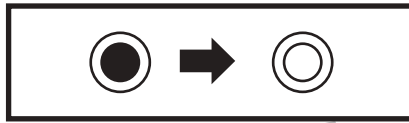



# おうちで、やろう。

Study at home. 小学校受験の家庭学習教材

## 図形：置き換え⑪

上の太い四角が約束です。この約束通りに左のマスにある記号を変えて右のマスにかきます。



※1. このプリントは、しながわ・目黒こどもスクールのウェブサイトでダウンロードができます。無断複写・引用はご遠慮ください。  
※2. このプリントを活用したオンライン授業のスケジュールは、しながわ・目黒こどもスクールのウェブサイトでご確認ください。



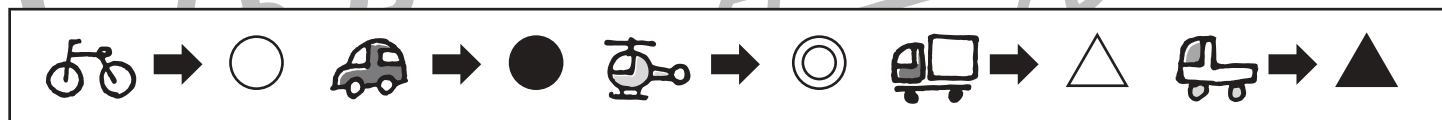


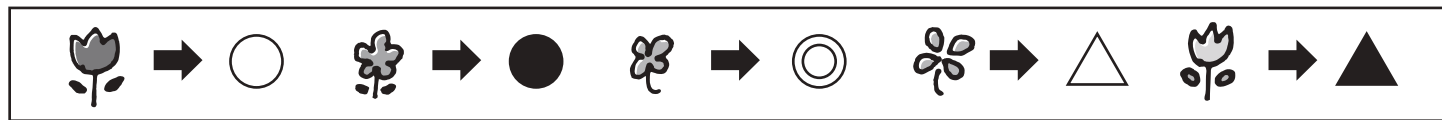


# おうちで、やろう。

Study at home. 小学校受験の家庭学習教材

## 図形：置き換え⑫

上の太い四角が約束です。この約束通りに上のマスの絵を記号に置き換えて下のマスにかきます。



※1. このプリントは、しながわ・目黒こどもスクールのウェブサイトでダウンロードができます。無断複写・引用はご遠慮ください。  
 ※2. このプリントを活用したオンライン授業のスケジュールは、しながわ・目黒こどもスクールのウェブサイトでご確認ください。


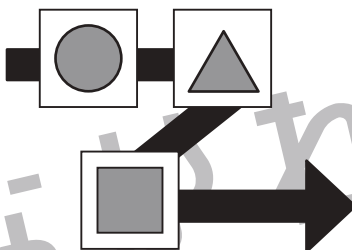





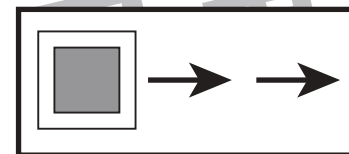
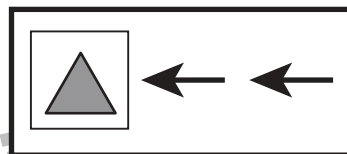
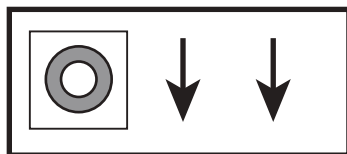
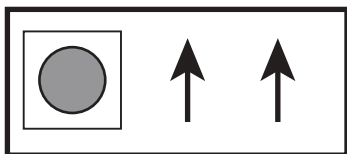


# おうちで、やろう。

Study at home. 小学校受験の家庭学習教材

## 推理：ブラックボックス⑬

上の太い四角の中にはマークと矢印がかいてあり、その箱を通ると矢印の数の分だけ、矢印の方向へ進むお約束です。  
左のマスがマークを通った時、星が移動する場所を考えて右にマスの☆の場所に○をかきます。



※1. このプリントは、しながわ・目黒こどもスクールのウェブサイトでダウンロードができます。無断複写・引用はご遠慮ください。  
※2. このプリントを活用したオンライン授業のスケジュールは、しながわ・目黒こどもスクールのウェブサイトでご確認ください。




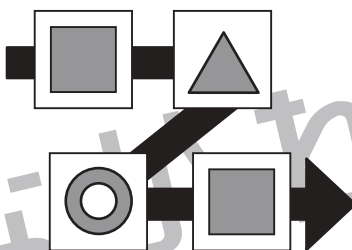


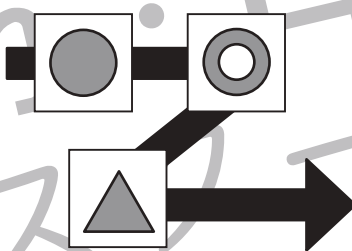


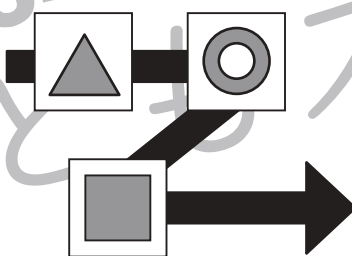

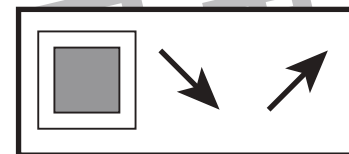
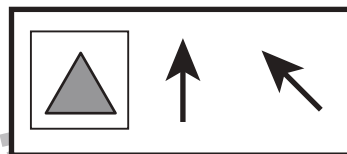
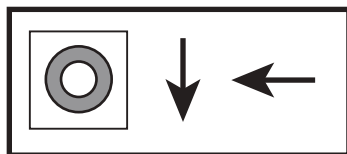
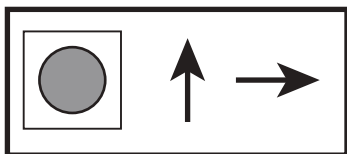


# おうちで、やろう。

Study at home. 小学校受験の家庭学習教材

## 推理：ブラックボックス⑭

上の太い四角の中にはマークと矢印がかいてあり、その箱を通ると矢印の数の分だけ、矢印の方向へ進むお約束です。  
左のマスがマークを通った時、星が移動する場所を考えて右にマスの☆の場所に○をかきます。



※1. このプリントは、しながわ・目黒こどもスクールのウェブサイトでダウンロードができます。無断複写・引用はご遠慮ください。

※2. このプリントを活用したオンライン授業のスケジュールは、しながわ・目黒こどもスクールのウェブサイトでご確認ください。





# おうちで、やろう。

Study at home. 小学校受験の家庭学習教材

## 推理：四方観察⑨

左の四角の中の積み木を女の子の方（左側）から見ると、どのように見えますか。見える形を四角で囲み、灰色の積み木の場所は塗ります。また、隠れて見えない積み木は白い積み木です。







※1. このプリントは、しながわ・目黒こどもスクールのウェブサイトでダウンロードができます。無断複写・引用はご遠慮ください。  
 ※2. このプリントを活用したオンライン授業のスケジュールは、しながわ・目黒こどもスクールのウェブサイトでご確認ください。





# おうちで、やろう。

Study at home. 小学校受験の家庭学習教材

## 推理：四方観察⑩

左の四角の中の積み木を男の子の方（右側）から見ると、どのように見えますか。見える形を四角で囲み、灰色の積み木の場所は塗ります。また、隠れて見えない積み木は白い積み木です。







※1. このプリントは、しながわ・目黒こどもスクールのウェブサイトでダウンロードができます。無断複写・引用はご遠慮ください。

※2. このプリントを活用したオンライン授業のスケジュールは、しながわ・目黒こどもスクールのウェブサイトでご確認ください。