



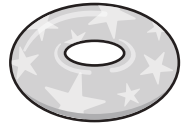














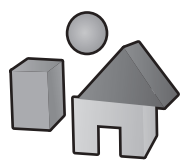












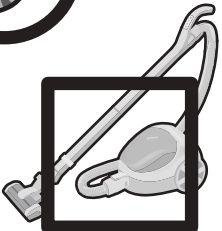






おうちで、やろう。

Study at home. 小学校受験の家庭学習教材

言語：音の理解⑰

下の絵は1段目の左から順番にはじめの音が「あ・い・う・え・お」「か・き・く・け・こ」「さ・し・す・せ・そ」「た・ち・つ・て・と」「な・に・ぬ・ね・の」順番で並んでいます。記号が書いてあって隠れているところに入る絵を下から選びそれぞれの記号をつけましょう。

※1. このプリントは、しながわ・目黒こどもスクールのウェブサイトからダウンロードできます。無断複写・引用はご遠慮ください。

※2. このプリントを活用したオンライン授業のスケジュールは、しながわ・目黒こどもスクールのウェブサイトでご確認ください。

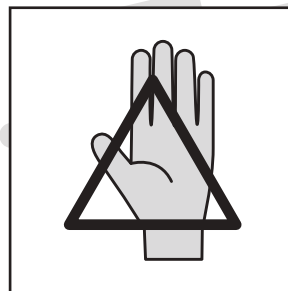
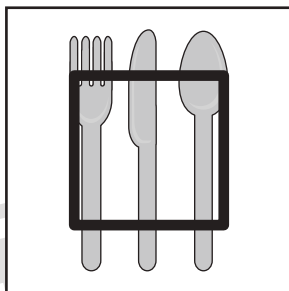



おうちで、やろう。

Study at home. 小学校受験の家庭学習教材

常識：生活⑫

下の四角の中の食べ物を食べる時に使う道具を考えます。箸で食べるものには○、スプーン・フォーク・ナイフで食べるものには□、手で食べるものには△をつけます。



※1. このプリントは、しながわ・目黒こどもスクールのウェブサイトでダウンロードができます。無断複写・引用はご遠慮ください。

※2. このプリントを活用したオンライン授業のスケジュールは、しながわ・目黒こどもスクールのウェブサイトでご確認ください。



おうちで、やろう。

Study at home. 小学校受験の家庭学習教材

図形：折り重ね回転①

左の四角は太い線のところで矢印の方向へ折り重ねます。折り重ねたときに見える模様を真ん中の四角の中にかきましょう。そして折り重ねた模様を矢印の方向に1回倒したときに見える模様をいちばん右にかきましょう。

※1. このプリントは、しながわ・目黒こどもスクールのウェブサイトでダウンロードができます。無断複写・引用はご遠慮ください。
※2. このプリントを活用したオンライン授業のスケジュールは、しながわ・目黒こどもスクールのウェブサイトでご確認ください。



おうちで、やろう。

Study at home. 小学校受験の家庭学習教材

図形：折り重ね回転②

左の四角は太い線のところで矢印の方向へ折り重ねます。折り重ねたときに見える模様を真ん中の四角の中にかきましょう。そして折り重ねた模様を矢印の方向に1回倒したときに見える模様をいちばん右にかきましょう。

※1. このプリントは、しながわ・目黒こどもスクールのウェブサイトでダウンロードができます。無断複写・引用はご遠慮ください。
※2. このプリントを活用したオンライン授業のスケジュールは、しながわ・目黒こどもスクールのウェブサイトでご確認ください。

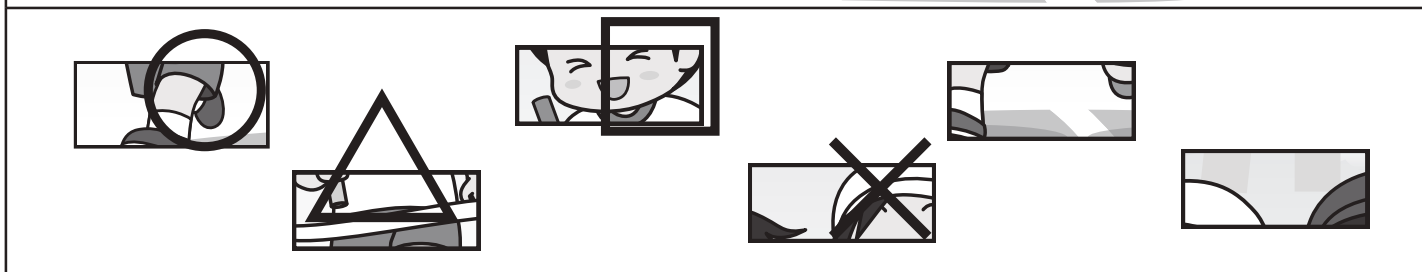

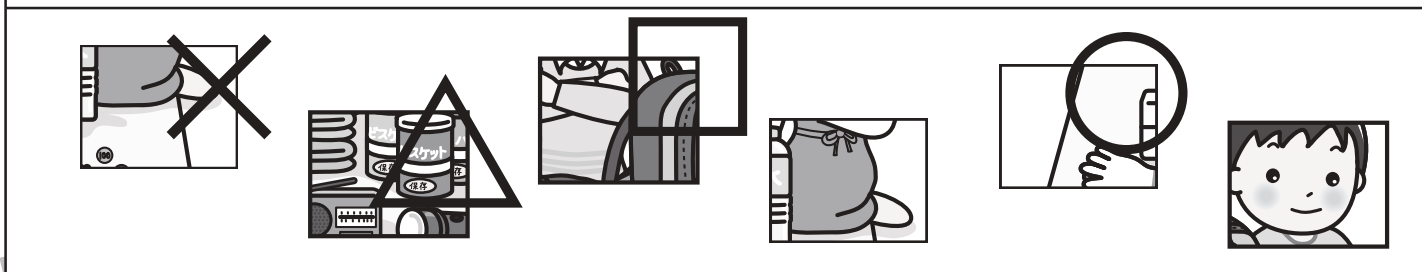



おうちで、やろう。

Study at home. 小学校受験の家庭学習教材

推理：パズル③

上の四角の中の絵の記号のついている白い四角に入る絵を下から選びそれぞれの記号をつけます。



※1. このプリントは、しながわ
※2. このプリントを活用した

「サイトでダウンロードができます。無断複写・引用はご遠慮ください。
しながわ・目黒こどもスクールのウェブサイトでご確認ください。





おうちで、やろう。

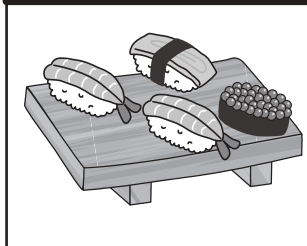
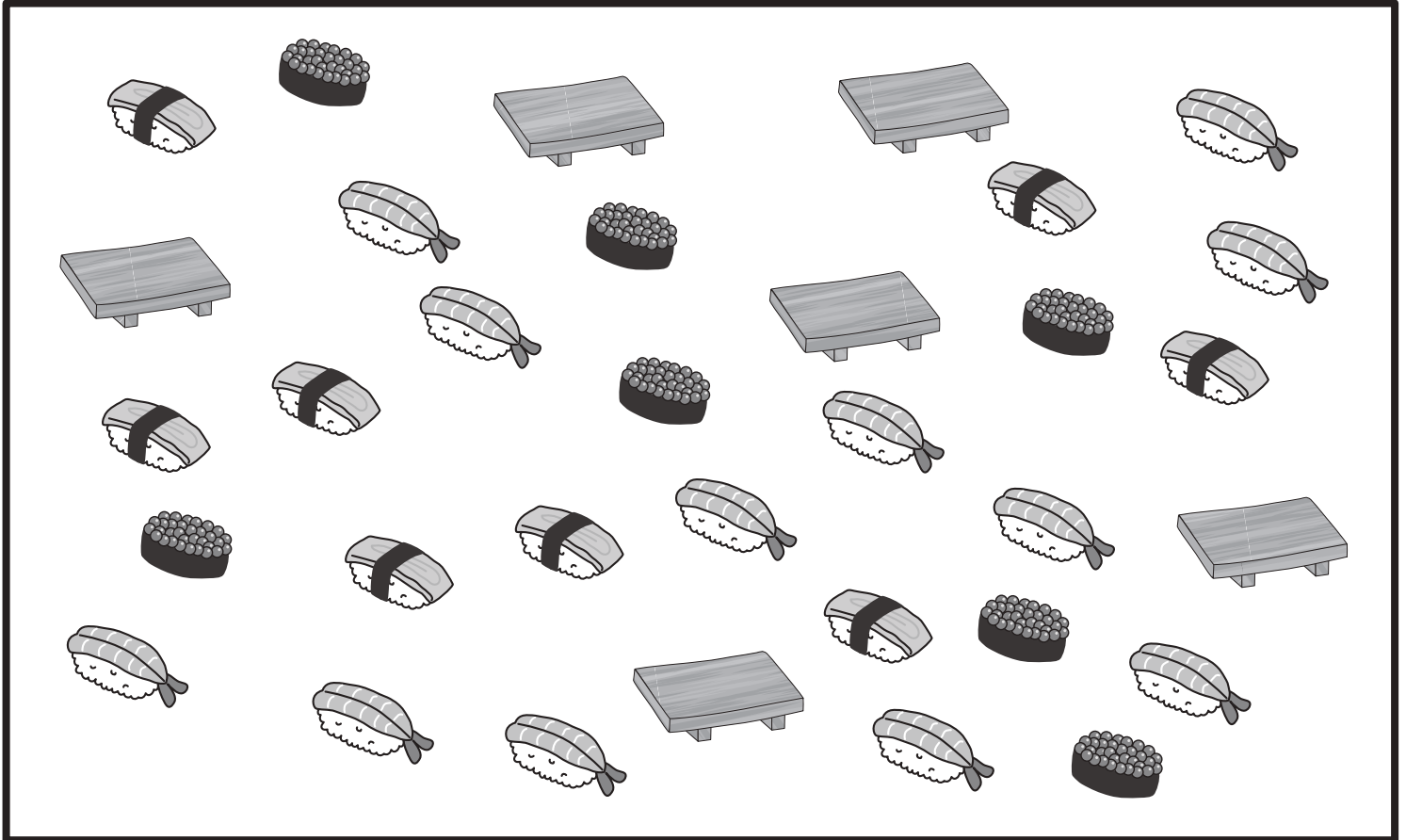
Study at home. 小学校受験の家庭学習教材

数量：セットの数③

お店ではお客さんから注文を受けた寿司セットを用意しています。

①寿司セットの中身は「玉子一貫」「イクラ一貫」「海老二貫」をそれぞれ寿司下駄という木のお皿にのせます。下の四角の中の絵で何セットを作ることができますか。その数だけ〇をかきます。

②お客さんからの注文は8セットです。足りない数だけそれぞれの絵の四角に〇をかきます。



〇 × 6



〇 × 2



〇 × 4



〇 × 1

③お客さんが8セット買った後、別の女のひとと男の人は寿司セットを買いにきました。女の人は2セット、男の人は1セット買いました。お寿司屋さんは全部で何セット作ったことになりますか。その数だけ〇をかきます。



〇 × 11

※1. このプリントは、しながわ・目黒こどもスクールのウェブサイトでダウンロードができます。無断複写・引用はご遠慮ください。

※2. このプリントを活用したオンライン授業のスケジュールは、しながわ・目黒こどもスクールのウェブサイトでご確認ください。